

DIRECTORATE OF EDUCATION
Govt. of NCT, Delhi

SUPPORT MATERIAL
(2020-2021)

SOCIAL SCIENCE
Class : X
(Urdu Medium)

Under the Guidance of

Ms. Manisha Saxena
Secretary (Education)

Mr. Binay Bhushan
Director (Education)

Dr. Saroj Bala Sain
Addl. DE (School & Exam.)

Coordinators

Ms. Mukta Soni
DDE (Exam)

Mr. Raj Kumar
OSD (Exam)

Mr. Krishan Kumar
OSD (Exam)

Production Team

Anil Kumar Sharma

Published at Delhi Bureau of Text Books, 25/2 Institutional Area, Pankha Road, New Delhi-110058 by Prabhjot Singh, Secretary, Delhi Bureau of Text Books and Printed by Supreme Offset Press, New Delhi-110017

**MANISHA SAXENA
IAS**



सचिव (शिक्षा)
राष्ट्रीय राजधानी क्षेत्र
दिल्ली सरकार
पुराना सचिवालय, दिल्ली-110054
दूरभाष : 23890187 टेलीफैक्स : 23890119

Secretary (Education)
Government of National Capital Territory of Delhi
Old Secretariat, Delhi-110054
Phone : 23890187 Telefax : 23890119
e-mail : secyedu@nic.in

MESSAGE

The importance of adequate practice during examinations can never be overemphasized. I am happy that support material for classes IX to XII has been developed by the Examination Branch of Directorate of Education. This material is the result of immense hard work, co-ordination and cooperation of teachers and group leaders of various schools. The purpose of the support material is to impart ample practice to the students for preparation of examinations. It will enable the students to think analytically & rationally, and test their own capabilities and level of preparation.

The material is based on latest syllabus prepared by the NCERT and adopted by the CBSE for the academic session 2020-21 and covers different levels of difficulty. I expect that Heads of Schools and Teachers will enable and motivate students to utilize this material during zero periods, extra classes and regular classes best to their advantage.

I would like to compliment the team of Examination Branch for their diligent efforts of which made it possible to accomplish this work in time. I also take this opportunity to convey my best wishes to all the students for success in their endeavours.

(Manisha Saxena)

BINAY BHUSHAN, IAS



Director
Education & Sports
Govt. of NCT of Delhi
Old Secretariat, Delhi- 110054
Tel.: 23890172, Fax : 23890355
E-mail : diredu@nic.in
Website : www.edudel.nic.in

D.O. No.

Date :

Dear Students,

Directorate of Education is committed to providing qualitative and best education to all its students. The Directorate is continuously engaged in the endeavor to make available the best study material for uplifting the standard of its students and schools.

Every year, the expert faculty of Directorate reviews and updates Support Material. The expert faculty of different subjects incorporates the changes in the material as per the latest amendments made by CBSE to make its students familiar with new approaches and methods so that students do well in the examination.

The book in your hand is the outcome of continuous and consistent efforts of senior teachers of the Directorate. They have prepared and developed this material especially for you. A huge amount of money and time has been spent on it in order to make you updated for annual examination.

Last, but not the least, this is the perfect time for you to build the foundation of your future. I have full faith in you and the capabilities of your teachers. Please make the fullest and best use of this Support Material.


BINAY BHUSHAN
DIRECTOR (EDUCATION)

Dr. (Mrs.) Saroj Bala Sain

Addl. Director of Education
(School / Exam / EVGB/IEB/ VOC.)



सत्यमेव जयते

Govt. of NCT of Delhi
Directorate of Education
Old Secretariat, Delhi-110054
Tel.: 23890023, 23890093

D.O. No. PA/Addl.DE(sun)/86

Date : 03-10-2019

I am very much pleased to forward the Support Material for classes IX to XII. Every year, the Support Material of most of the subjects is updated/revised as per the most recent changes made by CBSE. The team of subject experts, officers of Exam Branch, members of Core Academic Unit and teachers from various schools of Directorate has made it possible to make available unsurpassed material to students.

Consistence use of Support Material by the students and teachers will make the year long journey seamless and enjoyable. The main purpose to provide the Support Material for the students of government schools of Directorate is not only to help them to avoid purchasing of expensive material available in the market but also to keep them updated and well prepared for exam. The Support Material has always been a ready to use material, which is matchless and most appropriate.

I would like to congratulate all the Team Members for their tireless, unremitting and valuable contributions and wish all the best to teachers and students.

(Dr. Saroj Bala Sain)
Addl.DE (School/Exam)

DIRECTORATE OF EDUCATION
Govt. of NCT, Delhi

SUPPORT MATERIAL
(2020-2021)

SOCIAL SCIENCE
Class : X
(Urdu Medium)

NOT FOR SALE

PUBLISHED BY : DELHI BUREAU OF TEXTBOOKS

Support Material (2020-2021)

دسویں جماعت کے لیے سوشل سائنس کے معاون
درسی مواد کو تیار کرنے والی کمیٹی کے ارکان

ٹیم لیڈر :- محترمہ سریتا بھرا

پرنسپل

R.P.V.V. شالیمار باغ

ماہرین مضمون :- محترمہ مندرکشور

(ٹی جی ٹی سوشل سائنس (کورا کیڈمک یونٹ)

محترمہ ترون مشرا

(ٹی جی ٹی سوشل سائنس (کورا کیڈمک یونٹ)

محترمہ بھوپندر کمار تیواری

(ٹی جی ٹی سوشل سائنس)

R.P.V.V. سیکٹر 21، روہتی۔ دہلی

محترمہ بیتا جھامشرا

(ٹی جی ٹی سوشل سائنس)

R.P.V.V. سیکٹر II، روہتی۔ دہلی

محترمہ آبھا کرن ملک

(ٹی جی ٹی سوشل سائنس)

R.P.V.V. شالیمار باغ۔

محترمہ نور الدین

مترجم :-

ٹی جی ٹی سوشل سائنس

اینگلو عربک سینٹر سکینڈری اسکول، اجمیری گیٹ، دہلی-6

भारत का संविधान

भाग 4क

नागरिकों के मूल कर्तव्य

अनुच्छेद 51क

मूल कर्तव्य – भारत के प्रत्येक नागरिक का यह कर्तव्य होगा कि वह –

1. संविधान का पालन करे और उसके आदर्शों, संस्थाओं, राष्ट्र ध्वज और राष्ट्रगान का आदर करें।
2. स्वतंत्रता के लिए हमारे राष्ट्रीय आंदोलन को प्रेरित करने वाले उच्च आदर्शों को हृदय में संजोए रखे और उनका पालन करे।
3. भारत की प्रभुता, एकता और अखंडता की रक्षा करे और उसे अक्षुण्ण रखे।
4. देश की रक्षा करे।
5. भारत के सभी लोगों में समरसता और समान भ्रातृत्व की भावना का निर्माण करे।
6. हमारी सामाजिक संस्कृति की गौरवशाली परंपरा का महत्त्व समझे और उसका निर्माण करे।
7. प्राकृतिक पर्यावरण की रक्षा और उसका संवर्धन करे।
8. वैज्ञानिक दृष्टिकोण और ज्ञानार्जन की भावना का विकास करे।
9. सार्वजनिक संपत्ति को सुरक्षित रखे।
10. व्यक्तिगत एवं सामूहिक गतिविधियों के सभी क्षेत्रों में उत्कर्ष की ओर बढ़ने का सतत प्रयास करे।
11. माता-पिता या संरक्षक द्वारा 6 से 14 वर्ष के बच्चों हेतु प्राथमिक शिक्षा प्रदान करना (86वां संशोधन)।

CONSTITUTION OF INDIA

Part IV A (Article 51 A)

Fundamental Duties

Fundamental Duties : It shall be the duty of every citizen of India —

1. to abide by the Constitution and respect its ideals and institutions, the National Flag and the National Anthem;
2. to cherish and follow the noble ideals which inspired our national struggle for freedom;
3. to uphold and protect the sovereignty, unity and integrity of India;
4. to defend the country and render national service when called upon to do so;
5. to promote harmony and the spirit of common brotherhood amongst all the people of India transcending religious, linguistic and regional or sectional diversities; to renounce practices derogatory to the dignity of women;
6. to value and preserve the rich heritage of our composite culture;
7. to protect and improve the natural environment including forests, lakes, rivers and wild life, and to have compassion for living creatures.
8. to develop the scientific temper, humanism and the spirit of inquiry and reform;
9. to safeguard public property and to adjure violence;
10. to strive towards excellence in all spheres of individual and collective activity so that the nation constantly rises to higher levels of endeavour and achievement.
11. who is a parent or guardian to provide opportunities for education to his child or, as the case may be, ward between the age of six and fourteen years.

भारत का संविधान

उद्देशिका

हम, भारत के लोग, भारत को एक (सम्पूर्ण प्रभुत्व—सम्पन्न समाजवादी पंथनिरपेक्ष लोकतंत्रात्मक गणराज्य) बनाने के लिए, तथा उसके समस्त नागरिकों को :

सामाजिक, आर्थिक और राजनैतिक न्याय,

विचार, अभिव्यक्ति, विश्वास, धर्म

और उपासना की स्वतंत्रता,

प्रतिष्ठा और अवसर की समता

प्राप्त करने के लिए,

तथा उन सब में,

व्यक्ति की गरिमा और (राष्ट्र की एकता

और अखंडता) सुनिश्चित करने वाली बंधुता

बढ़ाने के लिए

हम दृढ़संकल्प होकर इस संविधान को आत्मार्पित करते हैं।

THE CONSTITUTION OF INDIA

PREAMBLE

WE, THE PEOPLE OF INDIA, having solemnly resolved to constitute India into a **(SOVEREIGN SOCIALIST SECULAR DEMOCRATIC REPUBLIC)** and to secure to all its citizens :

JUSTICE, social, economic and political,

LIBERTY of thought, expression, belief, faith and worship,

EQUALITY of status and of opportunity; and to promote among them all

FRATERNITY assuring the dignity of the individual and the **(unity an integrity of the Nation)**;

WE DO HEREBY GIVE TO OURSELVES THIS CONSTITUTION.

فہرست مضامین

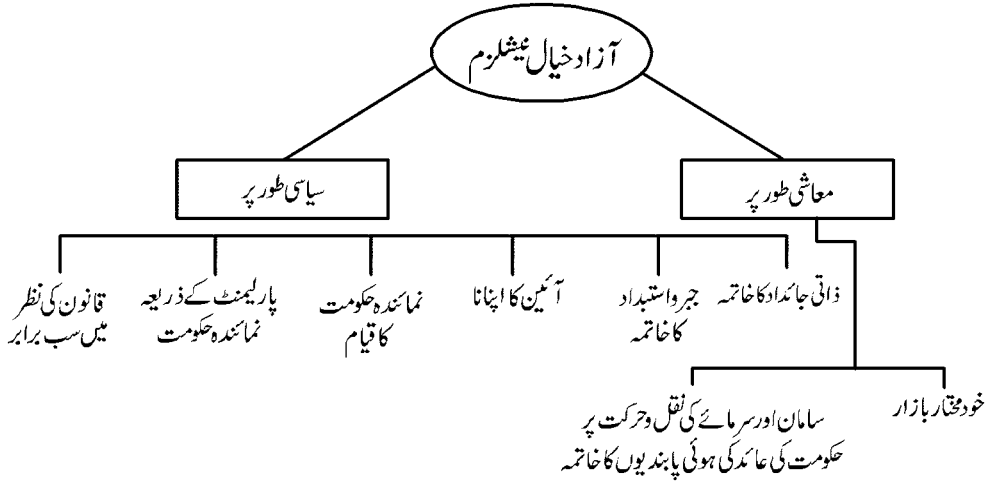
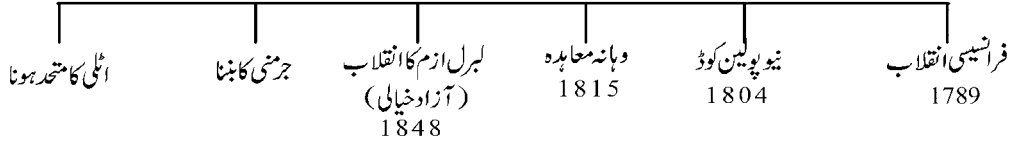
	نمبر شمار	باب	تاریخ
4	-1	یورپ میں نیشنلزم کا عروج	
16	-2	نیشنلزم ہندوستان میں	
		انڈوچائنا میں نیشنلسٹ تحریک	
29	-3	ایک عالمگیر دنیا کا بننا	
37	-4	صنعتیت کا عہد	
47	-5	پرنٹ کلچر اور جدید (ماڈرن) دنیا	
جمہوری سیاست			
55	-6	طاقت کی حصہ داری	
63	-7	وفاقت	
71	-8	جمہوریت اور تنوع (صرف Periodic Test کے لیے)	
77	-9	جنس، مذہب اور ذات برادری	
85	-10	عوامی جدوجہد اور تحریکیں (صرف Periodic Test کے لیے)	
90	-11	سیاسی جماعتیں	
97	-12	جمہوریت کے نتائج	
103	-13	جمہوریت کو درپیش چیلنج (صرف Periodic Test کے لیے)	
جغرافیہ			
107	-14	وسائل اور ترقی	
114	-15	جنگل اور جنگلاتی زندگی کے وسائل (صرف Periodic Test کے لیے)	

123	آبی وسائل (صرف Periodic Test کے لیے)	-16
131	زراعت	-17
142	معدنیات اور توانائی کے وسائل	-18
153	سامان تیار کرے والی صنعتیں	-19
167	قومی معیشت کی شرکیں	-20
	معاشی ترقی کی سمجھ	
179	ترقی	-21
187	ہندوستانی معیشت کے شعبے	-22
195	زراور قرض	-23
203	عالم کاری اور ہندوستانی معیشت	-24
214	سپیل پیر	

باب۔ ایک

یورپ میں نیشنلزم کا عروج

ایک ایسی قوم کا تصور کے خیالات کی ترقی جس کے شہریوں کو
برابری پہچان اور برابری تاریخ ہو



یاد رکھنے لائق نکات:

- 1- 18 ویں صدی میں کئی ممالک جیسے جرمنی، اطلی اور سویٹزر لینڈ وغیرہ اس شکل میں نہیں تھے جیسا کہ آج ہم انہیں دیکھتے ہیں۔ یہ چھوٹی چھوٹی وفاقی ریاستوں میں منقسم تھے اور ان کے حکمران اپنے اپنے خود مختار علاقوں کے مالک تھے۔
- 2- 1789 عیسوی میں فرانسیسی انقلاب قومیت کے بارے میں اولین واضح تصور کے ساتھ آیا۔ اس نے فرانس کے مطلق

- العنان بادشاہ کے تحت مکمل طور سے واضح سرحدوں کے ساتھ ایک ریاست تھی۔ انقلاب فرانس کے ساتھ جو سیاسی اور دستوری تبدیلیاں عمل میں آئیں انھوں نے بادشاہت کو فرانسیسی شہریوں کی ایک حکمران ٹولی سے بدل دیا۔
- 3- نیپولین کوڈ:— اسے 1804 عیسوی میں نافذ کیا گیا۔ اس کوڈ نے نسب کی بنیاد پر دی گئی تمام مراعات کا خاتمہ کر دیا۔ اس نے نہ صرف قانون کے سامنے سب کو برابری کا درجہ دیا بلکہ ملکیت کے حقوق بھی تفویض کیے۔
- 4- انقلابی فرانس میں جو کہ لبرل (آزاد) جمہوریت کا پہلا سیاسی تجربہ تھا ووٹ دینے اور منتخب ہونے کا اختیار صرف صاحب جائیداد مردوں کو تھا۔ غیر صاحب جائیداد مرد اور تمام عورتیں سیاسی حقوق سے محروم تھیں۔ انتہا پسند انقلابیوں کے تحت صرف ایک مختصر مدت کے لیے تمام بالغ مردوں نے حق رائے دہندگی کا استعمال کیا۔ نیپولین کوڈ پھر محدود حق رائے دہندگی کی طرف لے گیا اور اس نے عورت کی حیثیت کو کمتر کرتے ہوئے اسے اپنے باپ یا شوہر کے ماتحت کر دیا۔
- 5- ویانا کانگریس— 1815 میں یورپ کی چار نمائندہ طاقتیں— برطانیہ، روس، پرتگال اور آسٹریا— جنھوں نے مل کر نیپولین کو شکست دی تھی، یورپ کا تصفیہ کرنے کے لیے ویانا میں جمع ہوئیں۔ اس اجتماع کی میزبانی کا شرف آسٹرین چانسلر ڈیوک میٹرنخ کو حاصل تھا۔
- 6- جنوری 1871 میں پرتگال کے بادشاہ ولیم اول کی ورسلیز میں منعقدہ ایک تقریب میں جرمنی کے شہنشاہ کی حیثیت سے تاج پوشی ہوئی۔
- 7- 1861 میں وکٹر ایمنوئل دوم متحدہ اٹلی کے بادشاہ قرار پائے۔
- 8- نیشنلزم کی جدوجہد میں عورتوں کا کردار:— نیشنلزم کی تحریکوں میں سبھی یورپی ممالک جیسے فرانس، جرمنی، اٹلی کی عورتوں نے سرگرم رہ کر تعاون دیا۔ عورتوں نے اپنے اخبارات جاری کیے، کئی آزاد سیاسی تنظیمیں قائم کیں اور مظاہروں میں حصہ لیا۔ ان سب کے باوجود اسمبلی کے الیکشن کے وقت ان کو حق رائے دہندگی نہیں دیا گیا۔
- 9- امراتہ:— یہ زمین کے مالک تھے اور یورپی براعظم میں سب سے متقدم گروہ تھا۔
- 10- مطلق العنان:— ایسی حکومت یا بادشاہی نظام جس پر کسی کا کنٹرول نہ ہو۔ تاریخی طور پر یہ اصطلاح ایسی بادشاہت کی طرف اشارہ کرتی ہے جو مرکزی، فوجی اور ظالمانہ ہو۔
- 11- لبرل ازم (آزاد خیالی):— آزاد خیالی یا Liberalism کی اصطلاح اطالوی لفظ Liber سے ماخوذ ہے جس کا مطلب ہے 'آزاد'۔ نئے متوسط کے لیے لبرل ازم کے معنی انفرادی آزادی اور قانون کے سامنے سب کی برابری تھا۔ سیاسی طور پر یہ نظریہ ایک منتخب نمائندہ حکومت پر زور دیتا ہے۔

- 12- رائے شماری:— ایک راست رائے دہندگی جس کے ذریعہ ایک حلقہ کے عوام سے کسی مسودہ کو تسلیم کرنے یا نہ کرنے کے متعلق پوچھا جاتا ہے۔
- 13- قدامت پسندی:— ایک ایسا سیاسی فلسفہ جو روایت، قائم شدہ ادارے اور رسم و رواج کی اہمیت پر زور دیتا ہے اور اچانک اور جلد آنے والی تبدیلیوں کی جگہ آہستہ آہستہ آنے والی تبدیلیوں کو ترجیح دیتا ہے۔
- 14- یوٹوپیا:— ایک ایسے سماج کا تصور جو اتنا مثالی ہے کہ اس کا پورا ہونا تقریباً ناممکن ہوتا ہے۔
- 15- رومانویت (رومان پسندی):— ایک ایسی تحریک تھی جس کا مقصد ایک مخصوص نیشنلسٹ جذبے کو پیدا کرنا تھا۔
- 16- ناری وادفینسٹ (Faminist):— عورتوں کے حقوق، آزادی اور ان کے مفادات برائے خواتین کی معلومات اور اس کے حصول کے لیے کوششیں جو اس عقیدے پر مبنی ہوں کہ دونوں سماجی، اقتصادی اور سیاسی اعتبار سے مساوی ہیں۔
- 17- جنکرس:— پریشیا کی ایک سماجی طبقے کا نام جس میں بڑے بڑے زمین دار شامل تھے۔
- 18- کسٹم یونین (Zollverein):— یہ ایک جرمن ٹیکس معاہدہ تھا جس میں زیادہ تر جرمن ریاستیں شامل تھیں۔ یہ 1834 میں پریشیا کی ایپل سے بنی تھی۔ اس یونین نے محصول (ٹیکس) کی بندشوں کو ختم کر دیا اور کرنسیوں کی تعداد میں سے گھٹا کر دو کر دی جس نے معاشی مفادات کی پرداخت کے ساتھ قومی وحدت کے لیے راستہ ہموار کر دیا۔

اہم شخصیات:

- 1- گسپی مازنی:— وہ اٹلی کا مشہور انقلابی تھا۔ اس کی پیدائش 1807 میں جینیوا میں ہوئی۔ اس نے ”ینگ اٹلی“ اور ”ینگ یورپ“ نام کی دو خفیہ انجمنیں قائم کیں۔ وہ بادشاہت کا سخت مخالف تھا اور اس کی ہی بدولت سے اٹلی اتحاد قائم ہونے میں ملی
- 2- گسپی گیری بالڈی:— اٹلی کی جدوجہد آزادی کی تاریخ سب سے نامور شخصیت، اس نے ہزاروں رضا کار تیار کیے جو لال قمیص والے تھے جن کی مدد سے اس نے آسٹریا کو ہرایا تھا اور اٹلی کی جدوجہد آزادی کے لیے بہت سی تحریکیں چلائیں۔
- 3- کیورو (Cavour):— کیورو کو اٹلی کا سیمارک مانا جاتا ہے۔ وہ اٹلی کے ساڈرین ریاست کا وزیر اعظم تھا۔ اس نے سب سے پہلے اپنی ریاست کو اٹلی میں ملانے کا کام کیا۔
- 4- اوٹووان بسمارک:— جرمنی کی تاریخ میں معمار کی حیثیت سے جانا جاتا ہے۔ اس نے جرمنی کو ایک کرنے میں خون اور لوہے کی پالیسی اپنائی اور اس کی کوششوں سے جرمن ایک ہوا۔

5 علامتوں کے معنی:

علامت	اہمیت
1 شکستہ زنجیر	آزاد ہونا
2 چار آئینہ۔ عقاب شکرہ کے ساتھ	جرمن ایمپائر کی علامت، قوت
3 شاہ بلوط کی پتیوں کا تاج	جرأت و بہادری
4 تلوار	جنگ کے لیے مستعدی
5 تلوار کے گرد زیتون کی شاخ	صلح کے لیے خواہش مند
6 سیاہ، سرخ اور سنہرا ترنگا	1848 میں آزاد قوم پرستوں کا جھنڈا
7 ابھرتے سورج کی کرنیں	جس کو جرمن ریاستوں کے حکمرانوں نے ممنوع قرار دیا ایک نئے دور کی ابتدا

زائد سوالات

- (1) خالی جگہوں کو بھریئے
- نے جرمنی کو متحد کرنے کے لئے خون اور لوہے کی پالیسی اپنائی۔
- (2) درج ذیل کو صحیح ملائیے۔
- | | |
|----------------------------------|---------------------------------|
| نشانات | اہمیت |
| (1) ٹوٹی ہوئی بیڑیاں | (i) ایک نئے دوا کی ابتدا |
| (2) شاہ بلوط کی پتیوں کا تاج | (ii) جرمن ایمپائر کی علامت، قوت |
| (3) چار آئینہ، عقاب شکرہ کے ساتھ | (iii) آزاد ہونا |
| (4) ابھرتے سورج کی کرنیں | (iv) جرأت و بہادری |
- (3) جملوں کو تاریخی اعتبار سے صحیح کر کے لکھئے۔
- کیورو (Cavour) کو جرمنی کا بسمارک مانا جاتا ہے۔
- (4) صحیح جواب چنئے
- آنکھوں پر پٹی باندھے ہوئے اور ہاتھ میں ترازو لئے ہوئے عورت کی شبیہ
- (a) برابری

(b) آزادی

(c) سیکولرازم

(d) انصاف

(5) جملے کے A کے صحیح () اور غلط کا نشان بتائیے۔

(1) فریڈرک سورپونے طاقت کا اصول دیا ()

(2) گیری بالڈی نے لال کرتی نام کی فوج تیار کی ()

(3) انقلاب فرانس (1815) میں رونما ہوا ()

(4) ڈیوک میٹرنخ نے کہا ”اگر فرانس کو چھینک بھی آتی ہے تو پورا یورپ زکام میں مبتلا ہو جاتا ہے۔“

(5) کسٹم یونین (Zolluerien) ایک جرمن ٹیکس معاہدہ تھا ()

جوابات:-

ج (1) آٹومن بسمارک

ج (2) (i) ٹوٹی ہوئی بیڑیاں (iii) آزادی کی علامت () آزاد ہونا

(ii) شاہ بلوط کی پتیوں کا تاج (iv) جرأت اور بہادری

(iii) چار آئینہ عقاب شکرہ کے ساتھ (ii) جرمن ایمپائر کی علامت

(iv) ابھرتے سورج کی کرنیں (i) ایک نئے دوا کی ابتدا

ج (3) کاورکواٹلی کا بسمارک مانا جاتا ہے۔

ج (4) انصاف

ج (5) (i) (غلط)

(ii) (صحیح)

(iv) (غلط)

(iv) (صحیح)

(v) (صحیح)

ایک نمبر والے سوالات

- 1- فیڈرک سور یوکون تھا؟
- 2- آسٹن اسٹین کون تھا؟
- 3- جرمن قوم کی شبیہ کیا تھی اور وہ کس بات کی علامت تھی؟
- 4- مائٹسکیو نے کس اصول کی شروعات کی؟
- 5- کون سا حادثہ قومیت کی اولین مثال کہلاتا ہے؟
- 6- کسٹم یونین کیا تھا وہ کس طرح جرمن کی معاشی حالت کا نشان تھا؟
- 7- گیسپی مازنی نے جو دو خفیہ انجمنیں بنائی ان کے نام لکھیے۔
- 8- 19 ویں صدی میں ایسی کون سی طاقت ابھری جس کی وجہ سے یورپ کی سیاسی اور مادی دنیا میں زبردست تبدیلیاں رونما ہوئیں؟
- 9- بلقان علاقوں کے باشندوں کو کیا کہا جاتا تھا؟
- 10- ویانا کانگریس کس سال منعقد ہوئی؟
- 11- 1851 کے ویانا معاہدے کے مقصد بیان کیجیے اور اس کی خاص خاص باتیں کیا تھیں؟
- 12- کس معاہدہ کا مقصد نیپولین جنگوں کے دوران رونما ہونے والی تبدیلیوں کو ختم کرنا تھا؟
- 13- کس نے کہا تھا کہ ”اگر فرانس کو چھینک آتی ہے تو پورا یورپ زکام میں مبتلا ہو جاتا ہے“؟
- 14- کس معاہدے نے یونان کو ایک خود مختار ریاست تسلیم کیا؟
- 15- آئر لینڈ میں پروٹیسٹنٹ کے خلاف تحریک کی رہنمائی کس نے کی؟
- 16- آنکھوں پر پٹی بندھی ہوئی اور ہاتھ میں ترازولے ہوئے عورت کس بات کی علامت ہے؟

مختصر / طویل جواب والے سوالات (3/5 نمبر)

- 1- فرانسیسی انقلابیوں نے فرانسیسی لوگوں میں اجتماعی شناخت کا جذبہ کس طرح پیدا کیا؟

- 2- نیپولین کے ذریعے نافذ کی گئی انتظامی اصلاحات کے بارے میں بتائیے۔
- 3- یورپ میں نیشنلزم کے خیالات کو بنانے میں تہذیب اور ثقافت نے کس طرح اہم کردار ادا کیا؟
- 4- جرمنی متحد کیسے ہوا؟ بتائیے۔
- 5- اٹلی متحد کیسے ہوا اور اس کے متحد ہونے کے عمل میں کتنی دشواریاں آئیں؟
- 6- برطانیہ میں نیشن اسٹیٹ کی تشکیل ایک طول طویل عمل تھا۔ کیسے؟
- 7- یورپ میں نیشنلزم کے ابھرنے کے لیے کون سے جو ابده عمل تھے؟
- 8- یورپ میں نیشنلزم کا صرف فرانس پر ہی نہیں بلکہ پوری دنیا پر اس کا اثر پڑا۔ تجزیہ کیجیے۔
- 9- 1804 کے سول کوڈ میں کیا کیا بندوبست کیے گئے تھے؟
- 10- یورپ کے امرا (اشراف) طبقہ کی خصوصیات بتائیے۔
- 11- 1815 کے ویانا معاہدہ کے مقاصد بتائیے؟
- 12- یورپ میں آزاد خیالوں کے سیاسی، سماجی اور معاشی اصول کیا تھے؟
- 13- صنعت کاری میں اضافہ کی وجہ سے یورپ کے سماجی اور سیاسی حالات میں کس طرح تبدیلیاں آئیں؟
- 14- یورپ کی نیشنلسٹ جدوجہد میں عورتوں کے کردار کو بیان کیجیے۔
- 15- 19 ویں صدی میں یورپ میں نیشنلزم کی لہر کی وجوہات بیان کیجیے۔
- 16- 1815-1914 کے دوران بین الاقوامی معاشی مبادلہ مراکز کے ساتھ تین قسم کے بہاؤ بیان کیجیے۔
- 17- یورپ میں 1871 کے بعد بلقان علاقے میں ہوئے دھماکہ خیز حالات کا ذکر کیجیے۔

ایک نمبر والے سوالوں کے جوابات

- 1- فرانسیسی فن کار (آرٹ)
- 2- فرانسیسی فلسفہ
- 3- جرمنیا، جرمن بلوت، بہادری کا نشان

- 4- حقوق کا ہٹوار
- 5- فرانسیسی انقلاب
- 6- ایک جرمن کسٹم یونین — اس میں زیادہ تر جرمنی ریاستیں شامل تھیں۔ 1834 میں اسے بنایا۔ اس یونین نے محصول کی بندشوں کو کالعدم قرار دیا اور کرنسیوں کی تعداد میں سے گھٹا کر دو کر دی۔
- 7- بنگ اٹلی اور بنگ یورپ
- 8- نیشنلزم کا عروج
- 9- پان سلاٹرک
- 10- 1815
- 11- ڈپوک میٹرنخ
- 12- ویانا معاہدہ
- 13- میٹرنخ
- 14- قسطنطنیہ معاہدہ
- 15- والف ٹون (Wolfe Tone)
- 16- انصاف

3/5 نمبر والے سوالوں کے جوابات

- 1- — مادروطن اور شہری کی اصطلاحات نے ایک ایسی کمیونٹی کے تصور پر زور دیا جس میں دستور کے تحت ہر کس و ناکس مساوی حقوق سے بہرہ یاب ہوگا
- نئے عوامی ترنگے کا انتخاب
- فعال شہریوں کی ایک جماعت نے اسٹیٹ جنرل کا انتخاب کیا جس کا نام نیشنل اسمبلی رکھا گیا۔
- نئے گیت لکھے گئے، حلف اٹھائے گئے، شہریوں کو یاد کیا گیا
- فرانسیسی زبان کو قومی زبان کا درجہ دیا گیا

- پورے فرانس میں ناپ تول کا ایک سا نظام قائم ہوا
- نیو پو لین کوڈ — 2-
- دیہی انتظامیہ میں اصلاحات
- شہری علاقوں میں اصلاحات
- تجارت میں اصلاحات
- 3- قومیت کا تصور بیدار کرنے میں تہذیب و ثقافت بے بھی اہم کردار ادا کیا ہے۔ شاعری، آرٹ، افسانہ نگاری اور موسیقی نے بھی قوم پرستانہ جذبات اور احساسات کو بڑھانے میں مدد کی
- موسیقی اور زبان کے ذریعے قومی احساسات کو زندہ رکھا گیا
- کیری کریٹسکی نے اپنے اوپیراؤ اور گیتوں کے ذریعے قومی کے جدوجہد کے گن گائے۔ پولونز مزور کا جیسے عوامی ناچوں کو نیشنلسٹ علاقوں میں بنا دیا
- 4- 1871 جنوری میں پریشیا کے بادشاہ ولیم اول جرمنی کے بادشاہ بنے
- آٹومن بسمارک کے ذریعے جرمن کو متحد کرنے کا عمل شروع ہوا
- ویانا میں ایک کانفرنس ہوئی
- فرٹک فرٹ پارلیمنٹ
- متحد ہونے میں رکاوٹ
- بسمارک کے ذریعے آسٹریا، فرانس کو ہرا کر کمان اپنے ہاتھ میں لے لی اور اٹلی کو ایک متحدہ اٹلی میں تبدیل کر دیا
- 5- 1832 میں اٹلی کو متحد کرنے کی ذمہ داری اطالوی حکمران وکٹر ایہونول II کے سر پر آگئی
- 1859 میں آسٹرین فوجوں کو شکست دینے میں کامیابی حاصل کی
- 1860 میں گیری بالڈی نے جنوبی اٹلی کی طرف مشہور پرچم Expansion of the thousand کی
- قیادت کی
- روم پر قبضہ
- 1871 میں پوپ سے سمجھوتہ اور اٹلی متحد ہوا
- سیاسی منقسم ہونے کی ایک طویل تاریخ

- اطالوی عوام کئی شاہی خاندانی ریاستوں میں بکھرے ہوئے تھے
- پوپ کی حکمرانی اور ان کا تسلط
- بورلون کا بادشاہ کا تسلط
- 6- برطانیہ میں نیشن اسٹیٹ کی تشکیل کسی اچانک یا انقلاب کا نتیجہ نہیں تھی بلکہ ایک طول طویل عمل کا نتیجہ تھی
- اٹھارویں صدی سے قبل کوئی برطانوی قوم موجود نہیں تھی
- جو برطانوی مراکز میں بستے تھے ان کی شناخت نسل کے اعتبار سے تھی جیسے انگلش، ویلش، اسکاٹ یا آئرش
- جیسے جیسے انگلش قوم طاقت اور اہمیت میں بڑھتی گئی اپنا اثر و رسوخ بڑھانے لگی
- 1688 میں انگلش پارلیمنٹ نے ایک طول کٹنگش کے بعد شہنشاہیت سے اختیار چھین لیے
- 1707 میں انگلینڈ اور اسکاٹ لینڈ کے درمیان The Act of Union United Kingdom of Great Britain وجود میں آیا
- اس کے بعد برطانوی پارلیمنٹ میں انگلش ممبران کی ہی بالادستی رہی
- 7- عوام پر ظلم و تشدد
- مطلق العنان نظام حکومت
- آزادی خیالی کی تشہیر
- آزادی، مساوات اور اخوت کا نعرہ
- تعلیم یافتہ، متوسط طبقہ کا کردار
- 8- قومی ریاستوں کا عروج
- جمہوری اصولوں کو بڑھاوا ملا
- سماجی، سیاسی اور معاشی برابری پر زور
- مطلق العنان بادشاہ ہونے کے خلاف بغاوتیں شروع ہوئیں
- پوپ اور پادری اور جاگیر دانہ طبقے کے خلاف بھی بغاوتیں شروع ہوئیں
- 9- نسب کی بنیاد پر حاصل مراعات کا خاتمہ

- قانون کے سامنے سب کو برابری کا درجہ دیا
- ملکیت کے حقوق تفویض کیے
- زمینداری اور جاگیردارانہ نظام کا خاتمہ
- کسانوں کو بندھو مزدوری اور قرضوں سے نجات دلائی
- نقل و حمل اور مواصلاتی نظام میں اصلاحات
- معیاری وزن اور پیمانے اور ایک مشترک قومی سکہ، سامان تجارت اور سرمایہ کو ایک علاقے سے دوسرے علاقے میں منتقل کرے
- ایک قومی سکہ چلایا گیا
- 10- یکساں طرز زندگی
- زمین کا مالکانہ حق
- سفارتی زبان
- آپس میں ازدواجی تعلقات
- اعلیٰ طبقہ کے درمیان فرانسیسی زبان کا استعمال کرتے تھے
- 11- شمال میں نیدرلینڈ حکومت کا قیام
- جنوب میں جینیوا کا پیڈمونٹ میں الحاق
- پریشیا کو مغرب میں نئے علاقے دیے گئے
- مشرق میں روس کو پولینڈ کا ایک حصہ دے دیا گیا
- 12- قانون کے سامنے برابری
- بالغ رائے دہندگی کے حق میں نہیں
- وہ بازار کی آزادی اور ریاست کے ذریعے ایشیا اور پونجی کے بہاؤ پر لگی پابندیوں کو ختم کرنے کے حامی
- 13- مغربی اور وسطی یورپ کے حصوں میں صنعتی پیداوار اور تجارت میں اضافہ کی وجہ سے شہری ترقی اور کاروباری طبقوں کا ظہور ہوا۔
- مزدور اور ٹڈل (متوسط) طبقہ کا ظہور

- امرائے حقوق کے خاتمہ کے نظریہ کو مقبولیت
- اپنی سیاسی تنظیمیں بنائیں
- اخبارات جاری کیے
- حق رائے دہندگی کا حصول نہیں
- سیاسی اجلاس اور مظاہروں میں شرکت
- عوام پر ظلم و تشدد
- مطلق العنان نظام حکومت
- آزادی خیالی کی تشہیر
- آزادی، مساوات اور اخوت کا نعرہ
- تعلیم یافتہ متوسط طبقہ کا کردار
- اشیا کا بہاؤ
- سرمایہ (پونجی) کا بہاؤ
- لوگوں کا بہاؤ
- (1) — 17 بلقان جغرافیائی اور نسلی اعتبار سے کئی الگ الگ صفات کا مجموعہ تھا جسے رومانیہ، بلغاریہ، یونان، مغربی، کروشیا، ہرزگووینا، سلوونیا، سربیا اور مونٹینیگرو شامل تھے۔
- (2) — بلقان کا ایک بڑا حصہ سلطنت عثمانیہ کے زیر اثر تھا، رومانوی نسلوں کے نظریات کی ترویج اور سلطنت عثمانیہ کے بکھرنے نے اس علاقہ کو بہت ہی دھماکہ خیز بنا دیا۔
- (3) — جب جب مختلف سلوی قومیں اپنی اپنی آزادی اور شناخت کے تعین کی جہد و جہد میں مصروف تھیں۔ بلقان کا علاقہ ایک شدید اختلافات اور جھگڑے کی آماجگاہ بن گیا۔
- (4) — بلقان قومیں ایک دوسرے سے شدید حسد کرتی تھیں اور ایک دوسرے کی زیادہ زمین ہڑپ کرنے کی فکر میں رہتی تھیں۔
- (5) — بعد میں یہ حالات اور پیچیدہ ہو گئے۔ بلقان بڑی طاقتوں کی باہمی رقابتوں کا میدان بن گیا۔

باب۔ دو

نیشنلزم ہندوستان میں

یاد رکھنے لائق نکات

- (1) 1857 میں پہلی جنگ آزادی 1870 تکم چندر کے ذریعے وندے ماترم گیت لکھنا کے 1885 میں انڈین نیشنل کانگریس کا مہمئی میں قیام اور ہمیش چندر بنرجی کانگریس کے پہلے صدر۔
- (2) 1906 میں آغا خاں اور نواب سمیع اللہ نے مسلم لیگ کا قیام کیا
1905 میں رویندر ناتھ ٹیگور نے بھارت ماتا کی تصویر بنائی
لارڈ کرزن نے 1905 میں بنگال کے بٹوارے کی تجویز پیش کی
- (3) 1907 میں کانگریس کا بٹوارہ نرم دل اور گرم دل میں
1911 میں دلی دربار کا قیام دلی دربار میں بنگال کے بٹوارے کو رد کیا گیا
- (4) 1915 میں مہاتما گاندھی کی ہندوستان میں آمد 1914 میں پہلی عالمی جنگ کی شروعات دلی دربار میں راجدھانی کلکتہ سے دلی ٹرانسفر کی گئی
- (5) 1916 میں مہاتما گاندھی نے نیل کی کھیتی کی مخالفت میں چمپارن میں ستیہ گرہ کی شروعات کی 1917 میں مہاتما گاندھی نے گجرات کے کھیڑاضلع کے کسانوں کے لئے ستیہ گرہ کی 1918 میں مہاتما گاندھی نے گجرات کے احمد آباد میں سوتی کپڑا مل کے کاریگروں کے لئے ستیہ گرہ کی،
- (6) 1918 میں پہلی عالمی جنگ کا خاتمہ انگریزی حکومت نے ہندوستانیوں کی اپنی حکومت کی مانگ کو ٹھکرایا انگریزی حکومت نے ہندوستانیوں پر رولٹ ایکٹ جیسا کالاقانون دیا۔
- (7) مہاتما گاندھی نے عدم تعاون کی تحریک کی شروعات 1916 میں خلافت تحریک کی شروعات محمد علی شوکت علی نے کی 13 اپریل 1917 میں جلیان والا باغ کا قتل عام ہوا۔
- (8) 1922 میں چوری چورا میں ہوئے تشدد کے بعد مہاتما گاندھی نے عدم تعاون کی تحریک واپس لی 9 اگست 1925 کو کاکوری میں انقلابیوں نے انگریزی خزانہ لے جا رہی ٹرین کو لوٹ لیا 1928 میں سائمن کمیشن بھارت آیا جس کی مخالفت کرتے ہوئے لالہ لاجپت رائے کی موت ہوئی 18 اپریل 1929 بھگت سنگھ اور بیٹو کیشودت نے اسمبلی حال پر بم پھینکے 12 مارچ 1930 کو مہاتما گاندھی نے ساہیو آشرم سے ڈانڈی مارچ شروع کیا 23 مارچ 1931 کو بھگت سنگھ،

سکھدیو، اور راج گرو کو پھانسی دے دی گئی۔ 1931 گاندھی اردن سمجھوتہ اور سول نافرمانی کی تحریک کی واپسی 1931 میں
مہاتما گاندھی کی دوسری گول میز کانفرنس میں حصہ لیا لیکن وہ وہاں سے خالی ہاتھ لوٹ 1932 میں مہاتما گاندھی اور ڈاکٹر
بھیم راؤ امبیڈکر کے بیچ پونا سمجھوتہ ہوا

1933 میں چودھری رحمت علی نے سب سے پہلے پاکستان کا خیال سامنے رکھا 1935 میں ہندوستانی حکومت کا قانون
پاس ہوا اور ریاستی حکومتوں کا بننا شروع ہوا۔

1939 میں دوسری عالمی جنگ کی شروع 1940 میں مسلم لیگ کے لاہور کے اجلاس میں پاکستان کی مانگ پاس کی گئی
1942 میں بھارت چھوڑو تحریک کی شروعات اور گاندھی جی نے کرو یا مرو کا نعرہ دیا 1945 میں امریکہ نے جاپان پر اٹم بم
گرایا اور دوسری عالمی جنگ کا خاتمہ 1946 میں کینٹ مشن آئین ساز اسمبلی کے ساتھ ہندوستان آیا۔

(15 اگست 1947 کو ہندوستان کو آزادی)

کچھ دلچسپ حقیقت:-

- (1) جب ہندوستان آزاد ہوا تب انگلینڈ کے وزیر اعظم کلانی منٹ اٹلی تھے۔
- (2) سبھاش چندر بوس نے دلی چلو اور تم مجھے خون دو میں تمہیں آزادی دوں گا، کا نعرہ دیا۔
- (3) بال گنگا دھر تلک نے ”سورج میرا پیداشی حق ہے اور میں اسے لیکر رہوں گا“ کا نعرہ دیا۔
- (4) چندر شیکھر آزاد نے اب بھی جس کا خون نہ کھولے خون نہیں وہ پانی ہے، کا نعرہ دیا۔
- (5) رام پرساد بھل نے ”سرفروشی کی تمنا اب ہمارے دل میں ہے۔ دیکھنا ہے زور کتنا بازوئے قاتل میں ہے کا نعرہ دیا۔

یا

- (6) بھگت سنگھ نے ”انقلاب زندہ باد“ کا نعرہ دیا۔
- (7) پنڈت مدن موہن مالویہ نے ستیہ مئے جیئے، کا نعرہ دیا۔

ایک نمبر والے سوالات

- س 1:- رولٹ ایکٹ کب پاس ہوا۔
(1) 1912 (2) 1914 (3) 1919 (4) 1920
- س 2:- پہلی عالمی جنگ کب شروع ہوئی۔
(1) 1910 (2) 1914 (3) 1917 (4) 1919
- س 3:- ہندوستان میں مہاتما گاندھی نے پہلا ستیہ گرہ کہاں چلایا۔
(1) چمپارن (2) کھیڑا (3) دلی (4) کلکتہ

س4:- ”ہندسوراج“ کتاب کے مصنف کون ہیں۔

- (1) پنڈت جواہر لعل نہرو (2) سردار ولہ بھائی پٹیل
(3) مہاتما گاندھی (4) بابا رام چندر

س5:- دلت طبقہ Association کا قیام کس نے کیا؟

- (1) بابا رام چندر (2) ڈاکٹر بھیم راؤ امبیڈکر
(3) جواہر لعل نہرو (4) شوکت علی

س6:- کس حادثے کے بعد گاندھی جی نے عدم تعاون کی تحریک واپس لی۔

- (1) جلیان والا قتل عام (2) رولٹ ایکٹ
(3) چوری چورہ (4) ڈانڈی مارچ

س7:- آلوری سیتارام چاچو کے بارے میں کونسی بات درست نہیں ہے۔

- (1) انہوں نے آندھرا پردیش میں گریم پہاڑیوں میں قبائلیوں کی رہنمائی کی۔
(2) انہوں نے لوگوں کو کھادی پہننے اور شراب چھوڑنے کے لئے محرک کیا۔
(3) وہ سوراج حاصل کرنے کے لئے گوریلا جنگ کرتے تھے۔
(4) سبھی باتیں درست ہیں۔

س8:- مسلم لیگ کا قیام کس نے کیا؟

- (1) شوکت علی (2) محمد علی
(3) دونوں (4) دونوں میں سے کوئی نہیں

س9:- Discovery of India نام کتاب کے مصنف کون ہیں۔

- (1) پنڈت جواہر لعل نہرو (2) بھیم راؤ امبیڈکر
(3) مہاتما گاندھی (4) بابا رام چندر

س10:- خالی جگہ پر کرو

کانگریس نے..... اجلاس میں مکمل آزادی کی مانگ کی۔

س11:- خالی جگہ پر کرو

1885 میں کانگریس کے قیام کے پہلے صدر..... تھے۔

س12:- خالی جگہ پر کرو

مسلم لیگ کا قیام..... میں ہوا۔

- س 13:- خالی جگہ پر کرو
1919 میں شوکت علی اور محمد علی نے..... تحریک کی شروعات کی۔
- س 14:- خالی جگہ پر کرو
سول نافرمانی کی تحریک..... میں واپس لی گئی۔
- س 15:- درج ذیل بات کو صحیح کر کے لکھئے۔
13 اپریل 1920 کو جلیان والا باغ کا قتل عام ہوا۔
- س 16:- بھارت ماتا کی پہلی تصویر کس نے بنائی۔
- س 17:- وندے ماترم گیت کس نے لکھا۔
- س 18:- انڈین نیشنل کانگریس کا قیام کب عمل میں آیا۔
- س 19:- کس کی رہنمائی میں اودھ کسان سبھا کا قیام عمل میں آیا؟
- س 20:- سٹیپ گرہ لفظ سے آپ کیا سمجھتے ہیں۔ 8
- س 21:- اپنا دلش لفظ سے آپ کیا سمجھتے ہیں۔
- س 22:- انگریزی حکومت نے 1857 کے بعد پریس کی آزادی پر پابندی کیوں لگا دی۔
- س 23:- مدراس کے نیتا ساساستری (Sastri Natesa) شامل کے کس ضخیم ادب کو چار جلدوں میں شائع کیا۔
- س 24:- دوسری گول میز کانفرنس کا قیام کب عمل میں آیا۔
- س 25:- رولٹ ایکٹ کو کالاقانون کیوں کہا گیا۔

ایک نمبر والے سوالوں کے جوابات:-

- (1) 1919
- (2) 1914
- (3) چمپارن
- (4) مہاتما گاندھی
- (5) بھیم راؤ امبیڈکر
- (6) چوری پورا
- (7) سبھی بیان درست ہیں
- (8) اوپر دیئے دونوں

- (9) پنڈت جواہر لعل نہرو
- (10) 1929 لاہور کا اجلاس
- (11) ہمیش چندر بنرجی
- (12) 1906
- (13) خلافت تحریک
- (14) 1931
- (15) 13 اپریل 1919
- (16) رویندر ناتھ ٹیلور
- (17) نکم چندر
- (18) ممبئی
- (19) بابا رام چندر
- (20) سچائی کے لئے آگے بڑھنا (عدم تشدد کے ذریعے اپنی جہد و جہد کو کامیاب کرنا)
- (21) اپنے ملک کی بنی ہوئی چیزوں کا استعمال کرنا۔
- (22) ہندوستانی اخباروں کے ذریعے قومیت کو بڑھاوا دینے کے لئے۔
- (23) دی فوک لورس آف سدرن انڈیا
- (24) 1931
- (25) اس قانون کے ذریعے سیاسی قیدیوں کو بغیر مقدمہ چلائے جیل میں بند کر دیا جاتا تھا اور دو سال تک نہ کوئی وکیل اور نہ کوئی اپیل ہو سکتی تھی۔

مختصر / طویل جواب والے سوالات (3/5 نمبر)

- 1- عدم تعاون کی تحریک شروع کیے جانے کی کیا وجوہات تھیں؟ اس تحریک میں سماج کے مختلف طبقوں کی حصہ داری پر روشنی ڈالیے۔
- 2- خلافت تحریک کو شروع کرنے کی اہم وجوہات کیا تھیں؟ ہندوستانی قوم پرستی تحریک میں اس کا کیا رول تھا؟
- 3- سول نافرمانی کی تحریک کے تین لوگوں اور نوآبادیاتی حکومت نے کس طرح اقدام کیے اور کن حالات میں گاندھی جی سوال نافرمانی کی تحریک واپس لینے کا فیصلہ کیا؟

- 4- سرگرم سیاست میں حصہ لینے سے پہلے گاندھی جی نے کن کن جگہوں پر ستیہ گرہ تحریکیں شروع کی اور ان کے شروع ہونے کی کیا وجوہات تھیں؟
- 5- پہلی عالمی جنگ نے ایک نئی معاشی اور سیاسی حالات پیدا کر دیے۔ تجزیہ کیجیے۔
- 6- گاندھی جی کی نمک مارچ کئی وجوہات سے اہمیت کی حامل تھی۔ تجزیہ کیجیے۔
- 7- ہندوستان میں قومیت کے تصور کو ابھرنے میں کن باتوں کا رول تھا؟ قومیت کے تصور کا دنیا پر کیا اثر پڑا؟
- 8- آسام میں باغان مزدوروں کے لیے آزادی کا تصور کیا تھا؟
- 9- ہندوستانیوں نے سائمن کمیشن کی مخالفت کیوں کی؟
- 10- ہندوستانیوں نے رولٹ ایکٹ کی مخالفت کیوں کی؟
- 11- گاندھی۔ ارون معاہدہ کی خصوصیات بتائیے۔
- 12- ہندوستان کے لوگ رولٹ ایکٹ کے خلاف کیوں تھے؟
- 13- 1916 کے لکھنؤ سمجھوتے کی کیا اہمیت تھی؟
- 14- ستیہ گرہ کے نظریہ کا کیا مطلب تھا؟
- 15- اٹوری سینٹارام راجوکون تھے؟ عدم تعاون کی تحریک میں ان کا کردار بیان کیجیے۔
- 16- سول نافرمانی کی تحریک میں عورتوں کی شمولیت کا ذکر کیجیے۔
- 17- مہاتما گاندھی نے قومیت کو لیکر باغان مزدوروں کے اپنے الگ خیالات تھے۔
- 18- انہوں نے اس میں کس طرح کا رول ادا کیا۔ ہندوستان میں قومیت کے تصور کو ابھرنے میں مختلف تہذیبی تحریکوں نے کس طرح اثر ڈالا۔
- 19- سوراج حاصل کرنے کے لئے سماج کے سبھی طبقے کے لوگ اثر انداز نہیں تھے سول نافرمانی کی تحریک کے نظر میں اس قوم کی وضاحت کیجئے۔

3/5 نمبر والے سوالوں کے جوابات

- 1- پہلی عالمی جنگ کے خاتمے پر انگریزوں کے ذریعے ہندوستانی عوام کا استحصال —
- انگریزوں کے ذریعے سوراج دینے سے مکر جانا

- رولٹ ایکٹ کا پاس کر دینا
- جلیاں والا باغ کا قتل عام
- کلکتہ کے کانگریس کے اجلاس میں 1920ء عدم تعاون کی تحریک کو چلانے کے لیے اکثریت کی حمایت

عدم تعاون میں مختلف گروہوں کی حصہ داری

- شہروں میں تحریکیں
- گاؤں میں بغاوتیں شروع ہوئیں
- آدی واسیوں میں انگریزوں کے خلاف بغاوتیں شروع ہوئیں
- باغانوں میں سوراخ

عدم تعاون کی تحریک کو کئی دور میں بانٹا گیا:

- پہلے دور میں سرکاری عہدے، نوکریوں، فوجوں اور پولس، اسکولوں اور طالب علموں کا انگریزوں سے بائیکاٹ، اپنے عہدوں اور اسکول کا بائیکاٹ اور دیسی مال کا بائیکاٹ
- دوسرے دور میں بڑے پیمانے پر سول نافرمانی کی تحریک شروع ہوئی اور اس عدم تعاون کی تحریک کا خاتمہ گاندھی جی کے ذریعے چوری چوراً ہوئی تشدد کے حادثہ کی وجہ سے

2- — ترکی سلطنت (خلیفہ) کی انگریزوں کے ذریعے تحقیر

— لکھنؤ معاہدہ (1916ء) کے بعد کانگریس کے ساتھ مسلم لیگ کا معاہدہ

— کانگریس کے ذریعے عدم تعاون کی تحریک اور مسلمانوں کے ذریعے خلافت تحریک چلانا

— اس سے ہندوؤں اور مسلمانوں میں قومی ایکتا ہوئی اور قومی تحریک کو اور قوت ملی

3- — لوگوں نے سرکاری قانون کو ماننے سے انکار کرنا شروع کر دیا

— تحریک کو دبانے کے لیے حکومت نے سختی کی اور ہزاروں لوگوں کو جیل میں ڈال دیا

- گاندھی جی کو قید کر لیا گیا اور عوام اس میں بڑھ چڑھ کر حصہ لینے لگے
- 4- 1916 میں چمپارن سٹیہ گره۔ نیل کی کھیتی کرنے والوں کی حمایت میں
- کھیڑہ سٹیہ گره 1917 کسانوں کو لگان میں چھوٹ دلوانے کے لیے
- احمد آباد میں مل مزدوروں کی ہڑتال 1918 میں
- 5- پہلی عالمی جنگ کے بعد مکمل آزادی کی مانگ دینے کی بات کو منع کر دیا
- معاشی حالت ابتر ہوئی اور گاؤں میں مزدور، ہاتھ کے کاریگر سبھی بے روزگار ہو گئے
- پہلی عالمی جنگ کے بعد قومیت کے جذبات ابھرنے لگے، لوگ انگریزوں کے ظالمانہ رویے کے خلاف اٹھ کھڑے ہوئے۔
- 6- انگریزی حکومت نے نمک جیسی معمولی چیز پر نمک ٹیکس لگا دیا جو سب سے بڑی بات تھی
- گاندھی جی کے ذریعے اپنے آشرم سا برمتی سے 78 ڈالینٹر کے ساتھ نمک مارچ کی شروعات اور عام آدمی کا اس تحریک سے جوڑنا
- نمک بنا کر نمک قانون کا توڑنا۔ مظاہرے اور دھرنے، بدلیسی کپڑے کا بائیکاٹ، شراب کی دکانوں کی پکٹنگ
- کسانوں کا لگان دینے سے انکار اور چوکیداری ٹیکس دینے سے انکار
- انگریزوں کے ذریعے ظالمانہ رویہ اختیار کرنا، بڑے بڑے لیڈروں کو جیل میں ڈالنا، اس سے حکومت کی گرفت ڈھیلی پڑی
- 7- تاریخ اور ادب، عوامی حکایتوں اور لوک گیتوں، مقبول عام تصویروں اور عوامی علامتوں نے بھی قوم پرستی کی تشکیل و تعمیر میں حصہ لیا۔
- بھارت ماتا خاموش اور پرسکون شکل میں
- قوم پرستی کا خیال ہندوستانی لوک کتھاؤں کی تجدید کی تحریک سے بھی پیدا ہوا

- ماں کی اس شبیہ سے عقیدت آدمی کو قوم پرستی کی گواہی بن گئی
- 1870 میں بنکم چندر چٹوپادھیائے نے بندے ماترم گیت لکھا اور یہ بنگال میں سودیشی تحریک میں بہت گایا گیا
- 8- جب انھوں نے عدم تعاون کی بات سنی تو ہزاروں مزدوروں نے باغوں میں کام کرنے سے انکار کر دیا
- چائے کے باغات چھوڑ کر وہ اپنے گھروں کو جانے لگے
- ان کا خیال تھا کہ گاندھی جی کا راج آ گیا ہے اور اب ہر شخص کو گاؤں میں زمین ملے گی
- 9- برطانیہ کی ٹوڈی حکومت نے سر جان سائمن کی سربراہی میں ایک اسٹیجوری کمیشن بنایا اور اس کا کام ہندوستان کے آئینی نظام کی کارکردگی کو دیکھنا تھا اور مناسب تبدیلیاں تجویز کرنا تھیں۔ ہندوستانیوں نے اس کا بائیکاٹ اس لیے کیا کیونکہ اس میں ایک بھی ہندوستانی ممبر نہیں تھا اور تمام اراکین برطانوی تھے۔ اس لیے جہاں بھی یہ کمیشن گیا اس کی مخالفت کا لے جھنڈوں سے اور سائمن واپس جاؤ کے نعروں سے اس کا استقبال ہوا۔
- 10- رالٹ ایکٹ (1919) ایک کالا قانون تھا۔ یہ بل ہندوستانی اراکین کی مخالفت کے باوجود امپیریل لیجسلیٹیو کونسل میں تیزی سے پاس کر دیا گیا۔
- اس بل نے سیاسی سرگرمیوں کو روکنے کے لیے حکومت کو بے انتہا اختیارات دیے تھے
- سیاسی قیدیوں کو بغیر مقدمہ چلائے دو سال تک حراست میں رکھنے کی دے دی تھی
- گاندھی جی نے اس غیر منصفانہ قوانین کے خلاف غیر متشدد سول نافرمانی کرنا چاہی
- اس بل کو لے کر مختلف شہروں میں عوامی ریلیاں ہوئیں اور بڑے پیمانے پر اس کی مخالفت ہوئی
- 11- 5 مئی 1931 میں گاندھی ارون معاہدہ
- سول نافرمانی کی تحریک کو منسوخ کر دیا جائے
- پولس کے ذریعے کیے گئے مظالم کی غیر جانبدارانہ جانچ کی جائے
- نمک پر لگائے گئے تمام ٹیکس ہٹائے جائیں
- 12- اس بار عوام نے صرف انگریزوں کی مدد کرنے کے بجائے ان کے قانون ماننے سے انکار دیا

- ملک کے مختلف حصوں میں ہزاروں لاکھوں لوگوں نے نمک بنا کر نمک قانون توڑا اور سرکاری نمک بنانے کے کارخانوں کے سامنے مظاہرے کیے
- ودیشی مال کا بائیکاٹ کیا جانے لگا
- کسانوں نے لگان اور چوکیداری ٹیکس ادا کرنے سے انکار کر دیا
- جنگلوں میں رہنے والے آدی واسیوں نے جنگلوں کے قانون کو توڑنا شروع کر دیا
- 13- کانگریس کے اعتدال پسند اور انتہا پسند گروہوں کا ایک پلیٹ فارم پر آنا
- کانگریس اور مسلم لیگ کے درمیان معاہدہ
- دونوں نے متحد ہو کر اپنے مطالبات کو لے کر انگریزوں کا سامنا کیا
- بال گنگا دھر تلک کا اس میں اہم تعاون رہا
- 14- ستیہ گرہ کا خیال سچ کی قوت اور سچ کی تلاش پر زور دیتا ہے
- اگر جدوجہد نا انصافی کے خلاف ہے تو جابر سے لڑنے کے لیے جسمانی طاقت ضروری نہیں ہوتی
- ایک ستیہ گرہ ہی عدم تشدد کے ذریعے جنگ جیت سکتا ہے
- تشدد کو استعمال کر کے سچ منوانے پر مجبور کرنے کے بجائے انھیں سچائی دیکھنے پر مائل کرنا ہوگا
- 15- اٹوری سینتارام راجو نے آندھرا پردیش کی گڈیم پہاڑیوں کے قبائلی کسانوں کی رہنمائی کی
- یہ ایک دلچسپ شخصیت تھے۔ انھیں فلکیات کا علم حاصل تھا
- لوگوں کا ماننا تھا کہ ان کے پاس ایک ایسی روحانی طاقت ہے جس سے وہ لوگوں کو صحت یاب کر سکتے ہیں
- وہ گاندھی جی کے مداح تھے
- انھوں نے لوگوں سے کھادی پہننے اور شراب چھوڑنے کی اپیل کی
- انھوں نے تشدد کے ذریعے اپنے مطالبات کو منوانے پر زور دیا

- 1924 کو آوری سینتارام راجو کو پھانسی پر لٹکا دیا
- (1) -16 سول نافرمانی تحریک کا ایک اہم پہلو اس میں بڑی تعداد میں عورتوں کی شمولیت تھی۔ نمک سستیہ گرہ کے دوران ہزاروں عورتیں گاندھی جی کو سننے کے لیے گھروں سے باہر نکلیں۔
- (2) انھوں نے احتجاجی جلوسوں میں شرکت کی۔ نمک بنایا اور بدیسی کپڑے کی دوکانوں اور شراب کی دوکانوں پر دھرنے دیئے بہت سی عورتیں جیل گئیں۔
- (3) شہری علاقوں میں یہ عورتیں اونچی ذات کے خاندانوں کی تھیں۔ دیہی علاقوں میں یہ امیر کسانوں کے گھروں سے آئی تھیں۔
- (4) گاندھی جی کی اپیل سے متاثر ہو کر انھوں نے قوم کی خدمت کو عورتوں کے ایک مقدس فریضے کی طرح دیکھا۔
- -17 سوراج کولیکر باغان مزدوروں کے اپنے الگ الگ نظریات تھے۔
- (1) باغانوں میں آزادانہ طور پر گھومنا
- (2) اپنے گھر جانے کی آزادی
- (3) انہوں نے باغان مالکوں کے حکم کو ماننے سے انکار کیا۔
- (4) سب کو زمین پر مالکانہ حق ملے گا۔
- -18 تاریخ اور ادب، عوامی حکایتوں، اور لوک گیتوں، قبول عام۔
- (1) تصویروں اور عوامی علامتوں نے بھی قوم پرستی کی تشکیل و تعمیر میں حصہ لیا۔
- (2) بھارت ماتا کی خاموش اور پرسکون شکل میں
- (3) قوم پرستی کا خیال ہندوستانی لوک کتھاؤں کی تجدید کی تحریک سے بھی پیدا ہوا۔
- (1) -19 مختلف فہرست ذات اور درج فہرست قبائلیوں لوگ دلت طبقے کی ایسوسی ایشن سے جڑے رہے۔
- (2) مختلف سیاسی لیڈروں نے ان لوگوں کے لئے ریزرویشن کی مانگ کر رہے تھے۔
- (3) مختلف مسلم قائدین پہلے ہی اپنی پریشانی ظاہر کر چکے تھے۔

(4) ان کے دل و دماغ میں اپنے خیالات کے کچلے جانے کا خوف تھا۔

منفی سوالات:-

- 1- مختلف ذات۔ مذہب اور زبان کے لوگ کس طرح قومی پہچان بنانے میں کامیاب ہوئے۔
- 2- معاشی طور پر عدم تعاون کی تحریک کے کیا اثرات مرتب ہوئے؟
- 3- شہروں میں عدم تعاون کی تحریک کیوں سست ہوتی چلی گئی۔
- 4- ہندوستان کے مختلف تحریکوں میں عورتوں کے کردار پر روشنی ڈالئے۔
- 5- پونا پیکٹ پر مختصر نوٹ لکھئے؟

نقشہ

انڈین کانگریس کے اجلاس اور آزادی کی تحریک کے دوران حادثات والے علاقے

جلیاں والا باغ کا قتل عام امرتسر

لاہور اجلاس 1929

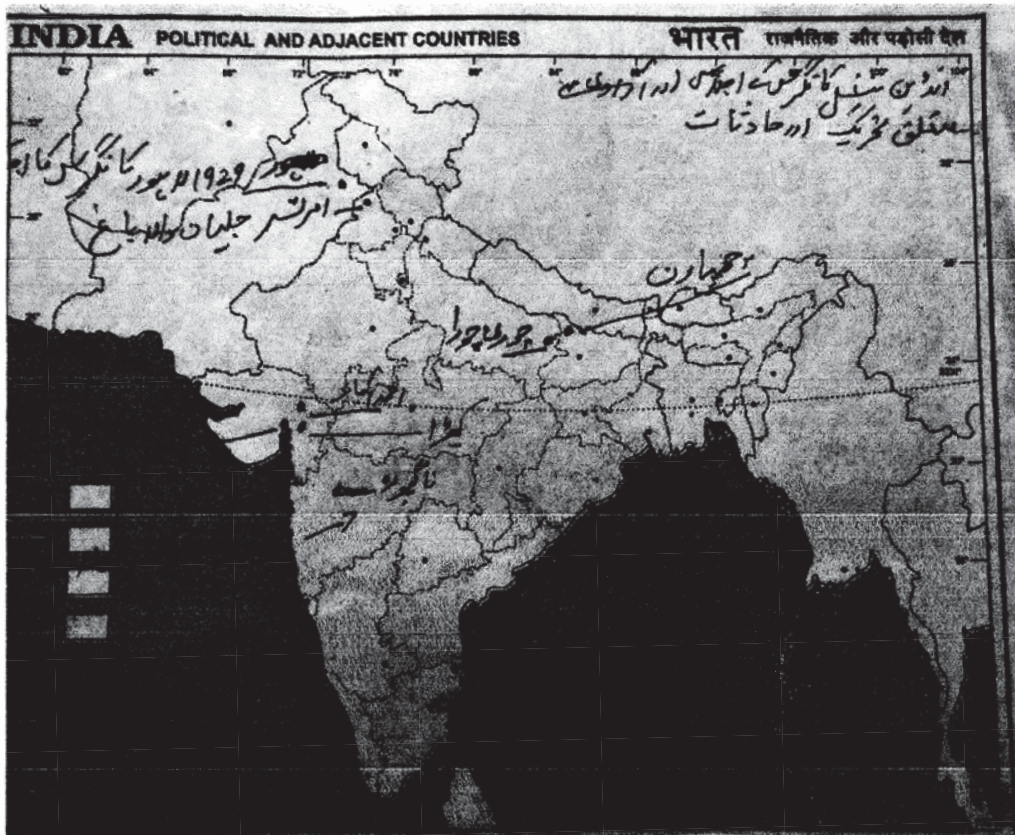
چھاپارن

کھیڑستیہ گرہ ستمبر 1920 کلکتہ کا اجلاس

1920 ناگ پورا اجلاس ڈانڈی احمد آباد

گاندھی جی نے سوتلی مل مزدوروں کی حمایت میں سستیہ گرہ کیا۔

1927 مدراس کا اجلاس



باب۔ تین

ایک عالمگیر دنیا کا بننا

جدید دور سے پہلے:-

- عالمگیر دنیا کا بننا ایک طویل تاریخ ہے۔
- پرانے زمانے سے سیاح، تاجر، مذہبی رہنما اور زائرین نے بڑے بڑے فاصلے طے کئے ہیں۔
- یہ لوگ اپنے ساتھ سامان بھی لیکر چلے۔ روپیہ اقدار مہارتیں، نظریات و خیالات، ایجادات حتیٰ کہ جراثیم اور بیماریوں نے بھی ان کے ساتھ سفر کیا۔
- غذائیں طویل فاصلوں کے تہذیبی لین دین کی بہت سی مثالیں پیش کرتی ہیں۔ تاجر اور سیاح نے نئی فصلوں کو متعارف کرایا۔
- اسیکیٹی اور نوڈلس چین سے مغرب میں پہنچے اور اسیکیٹی کا نام پایا۔
- عرب سیاح پاستا Pastal کو پانچویں صدی کے سلی (ایک جزیرہ جو اب اٹلی میں ہے) میں لے گئے۔
- یورپی ملاحوں نے ایشیا کے لئے ایک بحری راستہ دریافت کیا اور امریکہ کی کھوج کی۔
- فتوحات کے ساتھ چچک جیسے امراض ساتھ لائے۔

انیسویں صدی 1815 سے 1914 تک

- انیسویں صدی میں دنیا بے پناہ بدل گئی، اقتصادی، سیاسی، سماجی و ثقافتی اور ٹکنالوجی عوامل نے سماج کو تبدیل کیا۔
- روس اور امریکہ نے کھانے کی چیزوں کو بڑھا دیا۔
- برطانیہ میں کارن لاکولا کو کرنے اور اس کے بعد ہٹانا
- نئی ٹکنالوجی کا آنا، ریلوے بھاپ سے چلنے والے جہاز ٹیلی گراف اور اچھے قسم کی ہندوستانی کپاس کی درآمدگی۔
- جنگوں کے درمیانی مدت میں اقتصادی حالت دونوں عالمی جنگ کے درمیان
- پہلی عالمی جنگ نے امریکہ کو قرضدار کے بجائے قرض دینے والا بنا دیا۔
- برطانیہ کو قرض کے بوجھ نے دبا دیا گئے کی پیداوار یورپ میں گھٹی پر کنڈا امریکہ۔ آسٹریلیا میں بڑے پیمانے پر پیداوار ہوئی۔

- 1929 میں امریکہ میں عظیم کسادبازاری کا دور شروع ہوا
- ہندوستان سونے کا برآمد بن گیا
- ہندوستانی شہروں میں صنعتیں بڑھیں۔
- دوسری عالمی جنگ کے بعد کی دنیا
- امریکہ اور سوویت روس کا عالمی طاقت کے طور پر ابھرنا
- بزنس و ووڈس ادارے کا قیام
- I.M.F اور عالمی بینک کا قیام
- نوآبادیوں کا خاتمہ اور افریقی اور ایشیائی ممالک کا آزاد ہونا
- 1960 کی دہائی تک ڈالر کی قیمت کمزور پڑنا
- G77 منظم کرنا جس نے کئی بین الاقوامی معاشی پالیسی کا قیام عمل میں آیا۔
- برٹن ووڈس کا اختتام اور گلوبلائزیشن کا آغاز

یاد رکھنے لائق نکات:

- 1- ریشمی راستے (Silk Routes) (پہلی صدی عیسوی سے پندرہویں صدی عیسوی تک): یہ راستے ایشیا کو یورپ اور شمالی افریقہ کے ساتھ ساتھ دنیا کو زمین اور سمندری راستوں سے جوڑتے ہیں۔
- 2- ”کارن لا“ وہ قانون ہے جس کے سہارے حکومت نے مگ (مکئی) درآمدات پر پابندی لگادی تھی۔ یہ انگلینڈ ملک نے لگائی تھی۔
- 3- مویشیوں کا پلگ (Rinder Pest): پلگ کی طرح پھیلنے والی مویشیوں کی بیماری تھی۔ یہ بیماری 1890 کی دہائی میں افریقہ میں بہت تیزی سے پھیلی۔
- 4- ”برٹن ووڈس“ ریاست ہائے متحدہ امریکہ میں واقع ایک ہوٹل کا نام ہے۔ دوسری عالمی جنگ کے بعد اس ہوٹل میں بین الاقوامی اقتصادی نظام سے متعلق ایک کانفرنس کا انعقاد کیا گیا اس کانفرنس کو ہی برٹن ووڈس معاہدہ کے نام سے جانا جاتا ہے۔
- 5- ایشیا کا بہاؤ: انگریزی دور حکومت کے دوران گیہوں، سوتی، اونی اور ریشمی کپڑوں کا بہاؤ ہندوستان سے انگلینڈ میں ہوتا تھا۔
- 6- مزدوروں کا بہاؤ: ہندوستان کے مزدور انگلینڈ کے مزدوروں سے کم اجرت پر دستیاب تھے۔ اس لئے انگریز انھیں چائے،

- کافی، نیل اور تمباکو کے باغات میں کام کرنے کے لئے انگلینڈ لے جاتے تھے۔
- 7- حوسے: جنوبی امریکہ کے ایک ملک ترینیداد میں محرم کے سالانہ جلوس کو عوامی تفریح کا ایک موقع بنا دیا۔ (حوسے امام حسین کی رعایت کا نام)
- 8- G-77 ترقی پذیر ممالک کا گروپ جنہوں نے اقتصادی ترقی کے لئے آواز بلند کی۔
- 9- ویٹو: اس حق کے سہارے ایک ہی ممبر کی ناراضگی کسی بھی مسودے کو خارج کرنے کی بنیاد بن جاتا ہے۔
- 10- درآمداتی محصول (Tariff): کسی دوسرے ملک سے آنے والی اشیاء پر وصول کیا جانے والا ٹیکس۔
- 11- شرح مبادلہ: بین الاقوامی تجارتی سہولیات کے لئے مختلف ممالک کی کرنسیوں کو ایک دوسرے سے جوڑا جاتا ہے۔

ایک نمبر والے سوالات

- 1- دوست ممالک کے نام بتائیے۔
- 2- جنوبی امریکہ میں ایل ڈوراڈو کیا ہے؟
- 3- کس ملک کے پاس بین الاقوامی مالیاتی فنڈ اور عالمی بینک میں ویٹو کا بااثر حق ہے؟
- 4- تقریباً 500 سال پہلے ذیل میں سے کس فصل کے بارے میں ہمارے آباؤ اجداد کو علم نہیں تھا؟
- 5- کس صدی سے چین نے دوسرے ملکوں کے ساتھ تعلقات کم کرنا شروع کر دیا اور الگ تھلگ پڑنے لگا۔
- 6- 1928 سے 1934 کے درمیان ہندوستان میں گیہوں کی قیمتیں 50 فیصد تک کیوں گر گئیں
- 7- کس نے امریکی براعظم کی کھوج کی؟
- 8- کون سا پہلا یورپین ملک تھا جس نے امریکہ کو فتح کیا؟
- 9- ایک عالمگیر دنیا کے بننے کی دو وجوہات بتائیں۔

مختصر/ طویل جواب والے سوالات (3/5 نمبر والے)

- 1- ”امریکہ جانے والے نئے سمندری راستوں کی کھوج کے بعد دنیا میں تبدیلیاں رونما ہوئیں“ کوئی تین مثالیں دے کر واضح کیجیے۔
- 2- 19 ویں صدی میں ہزاروں لوگوں کی یورپ سے بھاگ کر امریکہ جانے کی کیا وجوہات تھیں؟
- 3- سوتی کپڑے کی صنعت کاری کے برطانیہ میں کیا اثرات مرتب ہوئے؟
- 4- یورپین لوگوں کا افریقہ کی طرف مائل ہونے کی اہم وجوہات کیا تھیں؟
- 5- اضافی تجارت سے کیا مراد ہے؟ ہندوستان کے ساتھ برطانیہ اضافی تجارت کی حالت میں کیوں رہا؟
- 6- برطانوی معیشت پر پہلی عالمی جنگ کے کیا اثرات پڑے؟
- 7- معاشی بحران کی وجوہات کو بیان کیجیے۔
- 8- ہندوستانی معیشت پر معاشی بحران کے اثرات کو واضح کیجیے۔
- 9- 19 ویں صدی کے معاہدے نظام کو غلاموں کے نئے نظام کی شکل میں پیش کیا ہے، مناسب مثالیں دیجیے۔
- 10- عالم کاری سے کیا مراد ہے؟ بین الاقوامی معاشی مبادلہ میں تین قسم کے بہاؤ کا تذکرہ کیجیے۔
- 11- ’برٹن ووڈس جھوٹے کا کیا مطلب ہے؟
- 12- افیم جنگ کا کیا مطلب ہے؟ چین پر افیم جنگ کے اثرات کا ذکر کیجیے۔

5/3 نمبر والے سوالات

- 13- یورپین لوگوں کو افریقہ کے تین دلچسپی کی کیا وجوہات تھیں۔
- 14- تجارت میں اضافے اور بازار میں پھیلاؤ ہونے کے ساتھ ساتھ 19 ویں صدی کی اس کڑی کا حصہ اندھرا پردیس بھی تھا؟

ایک نمبر والے سوالات کے جوابات

- 1- برطانیہ، فرانس، روس
- 2- افواہوں کی بدولت سونے کا شہر

3- ریاست ہائے متحدہ امریکہ

4- آلو

5- بھاپ کا انجن اور ریلوے

6- معاشی بحران کی وجہ

7- کرسٹوفر کولمبس

8- اسپین

3/5 نمبر والے سوالوں کے جوابات

1- (i) آلو کا استعمال شروع کرنے پر یورپ کے غریبوں کی زندگی میں تبدیلیاں آئیں۔ ان کی غذا بہتر ہو گئی اور اوسط عمر میں بھی اضافہ ہونے لگا۔

(ii) غلاموں کی تجارت شروع ہو گئی۔

(iii) یورپ میں مذہبی ٹکراؤ ہوتے رہتے تھے اس لئے ہزاروں لوگ یورپ سے بھاگ کر امریکہ چلے گئے۔

2- (i) ”کارن لا“ کے خاتمہ کے بعد کم قیمتوں پر ایشیا کی درآمد

(ii) مہلک بیماریوں کا پھیلنا

(iii) مذہبی ٹکراؤ

3- (i) درآمدی ٹیکس کی وجہ سے برطانیہ میں ہندوستانی کپاس کی درآمد میں بہت تیزی سے کمی آئی۔

(ii) ہندوستانی کپڑوں کا عالمی بازاروں میں مقابلہ آرائی کا سامنا کرنا پڑا۔

(iii) تیار کپڑوں کی درآمد میں کمی آنے کے بعد برطانوی صنعت کاروں نے بہت ہی کم قیمتوں پر ہندوستان سے کپاس کی درآمد شروع کر دی۔

4- (i) افریقہ میں معدنیاتی ذخائر کا بہت زیادہ ہونا

(ii) یورپین لوگ افریقہ میں باغاتی کھیتی اور کان کنی کرنا چاہتے تھے تاکہ انھیں یورپ بھیجا جاسکے۔

(iii) افریقہ میں صنعتی انقلاب نہیں آیا تھا۔

- (iv) افریقہ فوجی طاقت میں بھی کچھڑا ہوا تھا۔
- 5- (i) جب برآمداتی قیمت درآمداتی قیمت سے زیادہ ہوتی ہے تو اسے اضافی تجارت کہا جاتا ہے۔
- (ii) 19 ویں صدی میں ہندوستانی بازاروں میں برطانیہ کے تیار مال کی بھرمار ہو گئی تھی۔ ہندوستان سے برطانیہ اور باقی دنیا کو بھیجے جانے والی غذائی ایشیا اور کچے مال کی درآمد میں اضافہ ہوا۔
- (iii) لیکن جو مال ہندوستان بھیجا جاتا تھا اس کی قیمت زیادہ ہوتی تھی اور جو ہندوستان سے انگلینڈ بھیجا جاتا تھا اس کی قیمت بہت کم ہوتی تھی۔ اس لئے برطانیہ ہمیشہ اضافی تجارت کی حالت میں رہتا تھا۔
- 6- (i) جنگ کے بعد ہندوستانی بازاروں میں اپنے وقار کو قائم رکھنا برطانیہ کے لئے دشوار ہو گیا۔
- (ii) برطانیہ کو اب عالمی سطح پر جاپان سے بھی مقابلہ کرنا تھا۔
- (iii) امریکہ سے لئے گئے قرض کی وجہ سے برطانیہ جنگ کے بعد بہت زیادہ غیر ملکی قرض میں ڈوب گیا۔
- (iv) جنگ کی وجہ سے آیا اقتصادی اچھال جب گرنے لگا تو پیداوار میں کمی آئی اور بے روزگاری بڑھنے لگی۔
- (v) اس وجہ سے حکومت نے جنگی خرچ میں کمی شروع کر دی تاکہ اس کے دوران ٹیکسوں کے سہارے اس کا ازالہ ہو سکے۔ ان کوششوں سے روزگار میں بہت زیادہ کمی آئی۔
- 7- (i) معاشی بحران کی ابتدا 1929 میں ہوئی اور یہ بحران تقریباً تین دہائیوں تک رہا۔ اس دوران دنیا کے زیادہ تر حصوں میں پیداوار، روزگار، آمدنی اور تجارت میں بہت زیادہ گراؤ درج کی گئی۔
- (ii) جنگ کے بعد عالمی معیشت بہت کمزور ہو گئی تھی۔ قیمتیں گریں تو کسانوں کی آمدنی میں کمی آئی اور آمدنی بڑھانے کے لئے کسان زیادہ مقدار میں پیداوار کرنے لگے۔
- (iii) بہت سے ممالک نے اپنی سرمایہ کاری سے متعلق ضرورتوں کو پورا کرنے کے لئے امریکہ سے قرض لیا۔
- (iv) امریکی سرمایہ داروں نے بحران کو دیکھتے ہوئے یورپین ممالک کو قرض دینا بند کر دیا۔
- (v) ہزاروں کی تعداد میں بینک دیوالیہ ہو گئے۔
- 8- (i) 1928 سے 1934 کے درمیان ملک کی درآمدات اور برآمدات گھٹ کر تقریباً آدھی رہ گئی۔
- (ii) عالمی بازار میں قیمتیں گرنے سے ہندوستان میں گیہوں کی قیمتوں میں 50 فی صدی کمی آ گئی۔

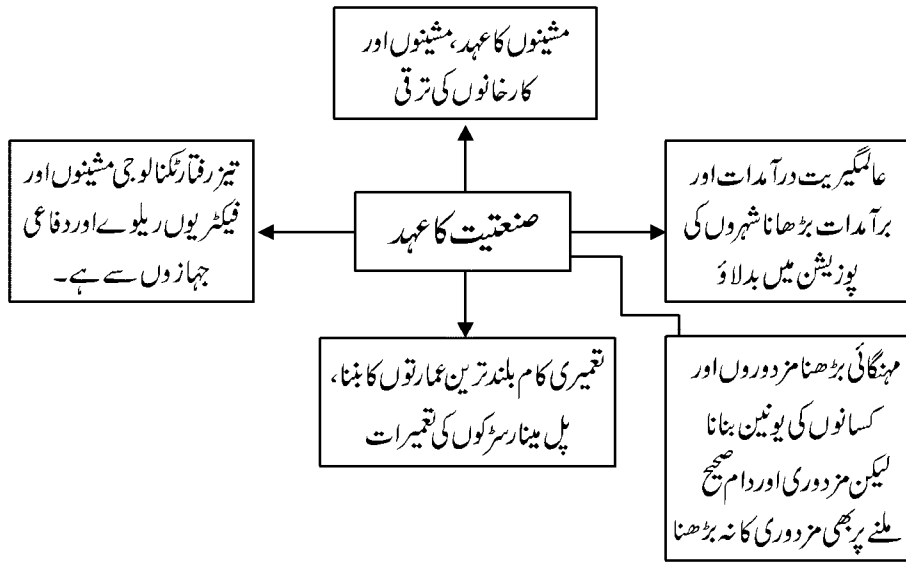
- (iii) شہری باشندوں کے مقابلے کا شکاروں کو زیادہ نقصان ہوا۔
- (iv) بحر ان ہندوستانی شہری باشندوں اور معیشت کے لئے بھی نقصان دہ رہا۔
- (v) 1931 میں بحر ان اپنی بلندیوں پر تھا جس کی وجہ سے دہلی ہندوستان بے اطمینانی اور اٹھل پھل کے دور سے گزر رہا تھا۔
- 9- (i) ایجنٹ مزدوروں کو ورغلانے کے لئے جھوٹی معلومات دیتے تھے۔
- (ii) ایجنٹوں کے ذریعے مزدوروں کو پریشانی بھی بنا لیا جاتا تھا۔
- (iii) نئی جگہ کی زندگی اور کام کے حالات بہت زیادہ تکلیف دہ تھے۔
- (iv) تنخواہ بہت کم تھی، کام صحیح نہ ہونے کی بنا پر تنخواہ کاٹ لی جاتی تھی۔
- (v) مزدوروں کے پاس قانونی حقوق نہ کے برابر تھے۔
- 10- کسی ملک کا معاشی نظام دنیا کے دیگر معاشی نظام سے جڑا ہوتا ہے۔ بہاؤ تین طرح کے ہوتے ہیں۔
- (i) پہلا بہاؤ تجارت کا ہوتا ہے جو خصوصاً کپڑوں اور گیہوں کی تجارت تک محدود تھا۔
- (ii) دوسرا بہاؤ محنت کا ہے جس میں لوگ روزگار کی تلاش میں ایک جگہ سے دوسری جگہ جاتے ہیں۔
- (iii) تیسرا بہاؤ سرمایہ کا ہے جسے کم یا زیادہ مدت کے لئے دور دراز کے علاقوں میں خرچ کر دیا جاتا ہے۔
- 11- (i) 1944 امریکہ میں موجود نیو ہیپیشائر کے برٹین ووڈس میں ہونے والی یونائیٹڈ اسٹیٹس (USA) مانٹری اینڈ فائننشل کانفرنس ہوئی تھی۔
- (ii) بین الاقوامی مالیاتی فنڈ (IMF) کا قیام عمل میں آیا۔
- (iii) برٹین ووڈس نظام کی بنیاد تبادلہ زر کے مقررہ نرخوں پر ہوئی تھی۔
- 12- افیم جنگ کا مطلب :- جب انگلینڈ نے چینوں پر افیم برآمد کرنے کا دباؤ ڈالا تو دونوں ملکوں کے درمیان جدوجہد شروع ہو گئی جس کو افیم جنگ کے نام سے جانا جاتا ہے۔
- افیم جنگ کے اثرات :-**

- (i) چینپیوں کا جسمانی اور اخلاقی زوال ہونے لگا۔
- (ii) چین کو ہر جانے کی شکل میں پانچ بندرگا ہیں انگلینڈ کے تاجروں کے لیے کھولنی پڑیں۔
- (iii) بغیر کسی رکاوٹ ہانگ کانگ کو انگلینڈ کو سونپ دیا گیا۔
- 13 یوروپین لوگوں کے افریقہ کی طرف مائل ہونے درج ذیل وجوہات تھیں۔
- (1) قیمتی معدنیات جیسے سونا، کونڈہ اور چاند کی کھوج میں۔
- (2) افریقہ کے وسیع زمینی علاقے کو دیکھ کر
- (3) افریقہ میں باغانوں کی کھیتی اور کھادوں پر قبضہ کر کے۔
- 14 (1) دنیا کے بہت سارے حصوں آزادی اور ان کی گزر بسر کرنے کے ذرائع چھیننے لگے۔
- (2) یورپین کے فتوحات سے نوآبادکاریوں کو بہت ساری تکلیفیں اٹھانی پڑیں۔ اس سے ان کی معاشی، سماجی زندگی خطرے میں پڑ گئی۔
- (3) 1890 کی دہائی میں مویشیوں کی پلگ PestRender کی تباہ کن بیماری نے افریقہ کے عوام ذریعہ معاش کو تباہ کر کے رکھ دیا۔
- (4) بندھوا مزدوری کی پالیسی لوگوں کے لئے غریبی اور پریشانیاں لیکر آئی۔

باب۔ چار

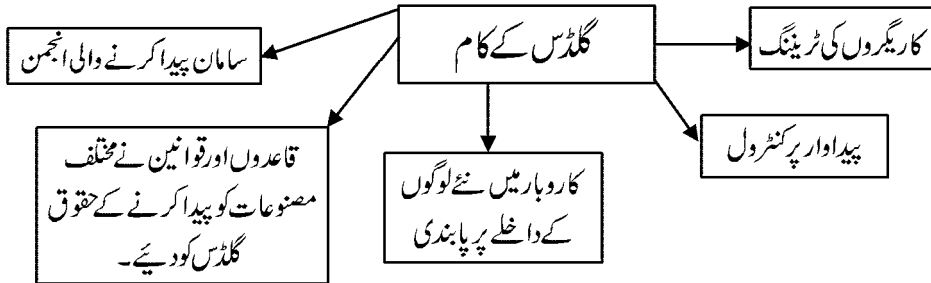
صنعتیت کا عہد

یاد رکھنے لائق نکات:



شہری تاجروں اور شہری دستکار

گلڈس:- پیداواری تنظیم



کچھ اہم تاریخیں :-

- 1600 میں ایسٹ انڈیا کمپنی کا ہندوستان میں آنا
- 1730 انگلینڈ میں فیکٹریوں کی شروعات
- 1760 انگلینڈ نے اپنی سوتی کپڑے کے مل کے لئے کپاس کی در؟ مدگی شروع کی۔
- 1764 اسپینگ جینی کی ایجاد مشین نے کاٹنے کے کام کی رفتار بڑھائی (جیمس ہارگر پوز نے)
- 1767 ریچرڈ آکراؤڈ کے ذریعے سوتی مل کپڑے بنانے کا خاکہ تیار کیا۔
- 1781 جیمس واٹ کے ذریعے بھاپ کے انجن کی ایجاد
- 1785 کاٹ رائٹ نے بجلی سے چلنے والے لکڑے کی ایجاد کی جو بھاپ کا استعمال سوتے اور بننے کے لئے کرتے ہیں۔
- 1830 سے 1840 دو اراکانا تھ ٹیگور کے ذریعے بنگال میں چھ جوائنٹ اسٹاک کمپنیاں قائم کیں۔
- 1840 صنعت کے پچھلے دور میں انگلینڈ نے دو گنا اضافہ کیا۔
- 1850 لندن میں ریلوے لائن کا آنا
- 1854 ممبئی میں پہلی کپاس مل (کپڑا مل) کا قیام
- 1855 بنگال میں پہلی جوٹ مل کا قیام
- 1860 امریکی خانہ جنگی سے کپاس کی آمد بند اور کانپور میں ایلکین مل کا قیام
- 1861 احمد آباد میں کھلی پٹی سوتی کپڑا مل
- 1863 لندن میں زمین دوز ریلوے کی شروعات
- 1873 برطانیہ میں لوہے اور اسپات کی درآمدگی
- 1874 مدراس میں پہلی کرگھا مشین کے ذریعے کام کی شروعات
- 1900 ای۔ ٹی، پامیوزنک کمپنی نے کتاب شائع کی تھی جس کی جلد پر تصویر میں 'نئی صدی کی شروعات' کا اعلان تھا۔

- 1912 پہلی لوہا سپات کمپنی کی شروعات جے این کے ذریعے جمشید پور میں ہوئی۔
- 1917 کلکتہ میں پہلی جوٹ مل لگانے والے مارواڑی سیہ حکم چند نے چین سے تجارت شروع کی۔
- 1941 35% سے زیادہ ہینڈ لوم میں فلائی شٹل کا استعمال۔

یاد رکھنے کے لائق باتیں :-

- 1- مشرق (Orient) یہ لفظ ان ممالک کے لئے استعمال کیا جاتا ہے جو کہ یورپ کے مشرق میں واقع ہیں۔
- 2- سرمایہ :- یہ زر کی بڑی مقدار ہے جس کی سرمایہ کاری کی جاتی ہے یا تجارت یا صنعت میں استعمال کیا جاتا ہے۔
- 3- سماج واد :- جس کے تحت ملک کے ہر باشندے کا یکساں حق ہوتا ہے اور محض صنعتوں کو ملکیت اور کنٹرول حکومت کا ہوتا ہے۔
- 4- اسپننگ جینی (Jenny Spinning) سوت کاٹنے کی مشق جسے 1764 میں جیمس ہارگروو نے بنایا تھا۔
- 5- اسٹپلر (Stapeler) ایک شخص جو تھی کرنے یا پرونے کا کام کرتا ہے یا ریشوں کے مطابق اور کو الگ الگ کرتا ہے۔
- 6- Fuller ایک شخص جو تھیں بنا کر کپڑے کو جمع کرتا ہے۔
- 7- Candling تو ضا ایک عمل جس میں اون یا کپاس کے ریشوں کو کاٹنے سے پہلے تیار کیا جاتا ہے۔
- 8- فلائی شٹل - بنائی کے لئے ایک میکینکی مشین جیسا آلہ۔
- 9- ہندوستان میں سب سے پہلے آنے والے سیاح پرتگال تھے۔

کثیر اختیاراتی سوالات

- 1- سوتی کپڑا مل کا خاکہ کس نے تیار کیا۔
(a) ریچرڈ آکراٹڈ (b) جیمس واٹ (c) نیوکامین (d) ویلیم
- ج۔ (A)
- 2- انگلینڈ کے بڑی صنعت کوئی تھیں۔
(a) سوتی کپڑا اور چینی (b) سوتی کپڑا اور دھات
(c) دھات اور زرعات (d) پانی کے اوزر اور سوتی کپڑا
- ج۔ (B)

3- دوار کا تھڑیگوا یک تھے۔

- (a) مصور (b) صنعت کار
(c) فلاسفر (d) سماج سدھارک

4- درج ذیل میں سے کس کا تعلق گماشتے سے ہے۔

- (a) تاجر (b) کاروباری
(c) کمپنی کے ذریعے تقرر کئے گئے سپروائزر (d) بغیر تنخواہ والے مزدور

ج۔(C)

5- جابر کون تھے؟

- (a) وہ آدمی جیسے نئے مزدوری کی بھرتی کے لئے صنعت کار کام پر رکھتے تھے۔
(b) کسانوں کے ذریعے پیداوار بیچنے کے لئے کہا جانے والا آدمی
(c) فیکٹری میں ضروری کام دینے والا آدمی۔
(d) کمپنی کے ذریعے تنخواہ حاصل کرنے والا آدمی۔

جواب (a)

6- کوسٹس (Koshtis) کون تھے؟

- (a) بنکروں کی ایک کمیونٹی
(b) کمیونٹی
(c) بے زمین مزدور
(d) ان میں سے کوئی نہیں۔

جواب (a)

7- برطانیہ کے کپڑوں کی صنعت برآمدگی میں ڈرامائی تبدیلی کب ہوئی؟

- (a) 17 صدی کی شروعات میں (b) 18 ویں صدی کی شروعات میں
(c) 19 صدی کی شروعات میں (d) 21 صدی کی شروعات میں

8- ہندوستان میں 1911 میں 67% بڑے صنعت کار درج ذیل میں سے کن جگہوں میں موجود تھے۔

- (a) بنگال اور ممبئی (b) سورت اور احمد آباد
(c) دہلی اور ممبئی (d) پٹنہ اور لکھنؤ

جواب: (a)

9- درج ذیل میں سے کون سے ہندوستان کے مشرقی نوآبادیاتی بندرگاہ تھے۔

- (a) سورت اور مچھلی پٹیم (b) مدراس اور ہنگلی

(c) مدراس اور بمبئی (d) ممبئی اور بنگلی

ج: (a)

10- سوڈیشی کا قوم پیغام..... میڈیم سے پیش کیا گیا تھا۔

(a) ٹیکس (b) طاقت (c) اشتہار (d) کم قیمت

جواب: (C)

ایک نمبر والے سوالات

11- انیسویں صدی میں کس ملک میں صنعت کاروں کے ذریعہ مشینوں کے استعمال کو پسند کیا جاتا تھا؟

12- کس دہائی میں انگلینڈ میں کارخانے کھولے گئے؟

13- گماشتے کون تھے؟ جن کو ایسٹ انڈیا کمپنی نے تعینات کیا تھا؟

14- نئے صارفین تیار کرنے کے لئے کون سا طریقہ بہتر ہے؟

15- صنعت کاری کے پہلے مرحلے میں انگلینڈ کی کون کون سی اہم صنعتیں تھیں؟

16- اسپینگ جینی نے کس کام میں اضافہ کیا؟

17- یورپی ایجنسیوں کی ہندوستان میں کس طرح کی صنعتوں میں دلچسپی تھی؟

18- دنیا میں چیزوں کی مانگ میں اضافے کی دو وجوہات بتائیے۔

19- شہری صنعت کار پیداوار کو کیسے کنٹرول کرتے تھے؟

20- صنعت کار مشینوں کا استعمال کیوں نہیں کرنا چاہتے تھے؟

21- برطانیہ کے سب سے زیادہ پھولتے پھلتے دو صنعتوں کے نام بتائیے؟

22- انگلینڈ میں 1840 کے بعد اسٹیل کی مانگ کیوں بڑھی؟

مختصر / طویل جواب والے سوالات (3/5 نمبر والے)

1- مائچسٹر کے آنے سے ہندوستانی بنگروں کو درپیش مسائل کیا تھے؟

- 2- پہلی عالمی جنگ کے دوران ہندوستان میں صنعتی پیداوار میں اضافے کی وجوہات کیا تھیں؟
- 3- 1930 میں صنعت کاری کے لیے مناسب حالات کون کون سے تھے؟
- 4- نئے تاجروں کو شہروں سے تجارت قائم کرنا دشوار کیوں تھا؟
- 5- نئی صنعتیں رسمی صنعتوں کا مقام کیوں نہیں لے سکیں؟
- 6- ہندوستانی تاجروں کے کنٹرول والا نیٹ ورک کیوں ٹوٹنے لگا؟
- 7- ایسٹ انڈیا کمپنی نے ہندوستان میں بنکروں پر نگرانی رکھنے کے لئے گماشتوں کو کیوں مقرر کیا تھا؟
- 8- JOBBAR کون تھے؟ نئے کارخانہ سسٹم میں ان کی کیا اہمیت تھی؟
- 9- برطانوی پیداوار کنندہ نے ایڈورٹائزمنٹس کی مدد سے ہندوستانی تجارت پر کس طرح قبضہ جمایا؟
- 10- بازار میں محنت کی بہتات سے مزدوروں کی زندگی کیسے متاثر ہوئی؟
- 11- 19ویں صدی میں یورپ کے صنعت کار مشینوں کے مقابلے ہاتھوں سے محنت کرنا کیوں پسند کرتے تھے؟

ایک نمبر والے سوالوں کے جوابات

- 11- امریکہ
- 12- 1730 کی دہائی میں
- 13- بنکروں کے اوپر سپروائزر
- 14- ایڈورٹائزمنٹ (اشتہار) کے ذریعے
- 15- کپاس اور دھات کی صنعتیں
- 16- کتائی
- 17- چائے اور کافی کے باغات لگانے میں
- 18- (i) عالمی تجارت کو پھیلا نا۔

- (ii) دنیا میں نوآبادیاتی نظام کا قیام
- 19- سوداگر کسانوں کو قرض دیتے تھے۔
- 20- انسانی مزدور بڑی تعداد میں سستی مزدوری کرنے کے لیے حاضر رہتے تھے۔
- ☆ 21- جواب: سوتی صنعت اور اسٹیل کی صنعت
- 22- ریلوے کے پھیلاؤ کے لیے اور 1860 کے بعد نوآبادیاتی نظام میں بھی ریلوے کو بڑھاوا ضروری تھا۔
- (2) برٹین اسٹیل کی درآمد بھی کرنے لگا۔

3/5 نمبر والے سوالوں کے جوابات

- 1- (i) ہندوستان کے کپڑوں کی برآمدات میں کمی
- (ii) ایسٹ انڈیا کمپنی پر برطانوی کپڑا بیچنے کا دباؤ
- (iii) مقامی بازاروں میں سمٹ کر رہ گئے
- (iv) کم لاگت
- (v) اچھی کپاس کا نہ ملنا
- 2- (i) انگریزوں کی جنگ سے متعلق ضروریات کو پورا کرنے کے لیے۔
- (ii) وردی کے کپڑے ٹینٹ اور چمڑے کے جوتے وغیرہ سامان بنانے کے لیے۔
- (iii) نئے مزدور کام پر لگوائے گئے اور کام کرنے کا وقت بڑھا دیا گیا۔
- 3- (i) پہلی عالمی جنگ کے بعد درآمد میں کمی
- (ii) امریکی سرمایہ داروں کے ذریعے یورپین ممالک کے لیے قرضے بند
- (iii) زراعت میں زیادہ پیداوار
- (iv) صنعتوں میں مشینوں کا استعمال
- 4- (i) شہروں میں پیداوار کنندہ کی تنظیمیں اور گلڈز کافی طاقتور تھے۔

- (ii) کاریگروں کو تربیت دیتے تھے۔
- (iii) پیداوار پر کنٹرول رکھتے تھے۔
- (iv) قیمتیں مقرر کرتے تھے۔
- (v) نئے لوگوں کو اپنے کاروبار میں آنے سے روکتے تھے۔
- 5 (i) صنعتی سیکٹر میں کام کرنے والے مزدوروں کی تعداد کم تھی۔
- (ii) تکنیکی تبدیلی کی رفتار کم تھی۔
- (iii) کپڑے کی صنعت ایک گردش والی صنعت تھی۔
- (iv) پیداوار کا ایک بہت بڑا حصہ کارخانوں کے بجائے گھریلو صنعتوں کے ذریعے پورا ہوتا تھا۔
- (v) ٹیکنالوجی بہت مہنگی تھی۔
- (vi) مشینوں کے خراب ہو جانے پر ان کی مرمت پر کافی خرچ آتا تھا۔
- 6 (i) یورپین کمپنیوں نے آہستہ آہستہ مقامی عدالتوں سے مختلف طرح کی رعایتیں حاصل کر کے تجارت پر قبضہ جمالیا
- (ii) بعد میں تجارت پر اپنا حق حاصل کر لیا۔
- (iii) سورت اور ہنگلی کی بندرگاہوں پر تجارت کم ہونے لگی۔
- 7 (i) وہ بنکروں کو قرض دیتے تھے۔
- (ii) تاکہ وہ کسی اور تاجر کو اپنا تیار مال نہ دے سکیں۔
- (iii) وہ خود بنکروں سے تیار مال اکٹھا کرتے تھے۔
- (iv) وہ خود کپڑوں کی کوالٹی کی جانچ کرتے تھے۔
- 8 (i) صنعت کار نئے مزدوروں کی بھرتی کے لئے ایک دلال (Jobbar) رکھتے تھے۔
- (ii) جابر کوئی پرانا بھروسے کا کاریگر ہوتا تھا۔
- (iii) وہ گاؤں سے لوگوں کو لاتا تھا۔
- (iv) کام کا بھروسہ دیتا تھا اور شہر میں بسانے کے لئے مدد کرتا تھا۔
- (v) جابر مدد کے بدلے پیسے اور تحائف کی مانگ کرتا تھا اور آہستہ آہستہ ان پر کنٹرول کرنے لگا۔

- 9- (i) ایشیا (پیداوار) کو بیچنے کے لئے کلینڈروں، اخباروں اور میگزین کا استعمال۔
(ii) لیبوں پر ہندوستانی دیوی دیوتاؤں کی تصویر لگی ہوتی تھی۔
(iii) دیگر ممالک کی تیار شدہ ایشیا بھی ہندوستانیوں کو جانی پہچانی لگتی تھی۔
- 10- (i) شہروں میں نوکری کی خبر سنتے ہی مزدور شہروں کی طرف دوڑ پڑے۔
(ii) جن کے رشتے دار شہروں میں پہلے سے کام کرتے تھے ان کے ذریعے نئے لوگوں کو نوکری مل سکتی تھی۔
(iii) جن کا شہروں میں کوئی نہیں تھا وہ ہفتوں انتظار کرتے تھے۔ وہ پلوں کے نیچے یا رین بسروں میں رات گزارتے تھے۔
- 11- (i) برطانیہ میں صنعت کاری کو انسانی مزدوروں کی کوئی کمی نہیں تھی۔
(ii) وہ مشین اس لیے لگانا چاہتے تھے کیونکہ مشینوں کے لیے زیادہ پیسہ خرچ کرنا پڑتا تھا۔
(iii) کچھ موسمی صنعتوں کے لیے وہ صنعتوں میں مزدوروں کے ذریعے ہاتھ سے کام کرنے کو اچھا سمجھتے تھے۔
(iv) بازار میں اکثر باریک ڈیزائن اور خاص شکلوں والی چیزوں کی مانگ رہتی تھی۔ وہ ہاتھ کے کام پر منحصر تھی۔

5/3 نمبر والے سوالات اور ان کے مرکزی الفاظ سے تفصیل لکھیں

- 1- تاجر گڈس کے رول پر تبصرہ کیجئے؟
مرکزی نقاط:-
- (1) پیداواری تنظیم (2) پیداوار پر کنٹرول (3) دستکاروں کو تربیت (4) حمایتوں کا تعین کرنا اور تجارت میں مقابلہ کرنا
(5) حکمرانوں کے ذریعے پیداوار اور تاجروں کا حق
- 2- صنعتی نظام اور بنیادی صنعتی نظام میں فرق ظاہر کرو
مرکزی نقاط:-
- (1) یہ کمرشل ایکسچنر کے ایک نیٹ ورک کا حصہ تھا۔
(2) اس پر تاجروں کا کنٹرول تھا۔
(3) ایشیا پیدا کرتے تھے لاتعداد پروڈیوسر جو فیکٹریوں میں مل کر خاندانی ٹھکانوں پر کام کرتے تھے۔
- 3- انگلینڈ میں صنعتی انقلاب کی کوئی پانچ وجوہات بتائے۔
- (1) بین الاقوامی بازار میں بڑھوتری۔
(2) بین الاقوامی تجارت بڑھنے لگی۔

- (3) نئی نئی ایجادات اور سرمایہ کاری بڑھنے لگی
- (4) کچے مال کا آسانی سے دستیاب ہونا
- 4- پیشگی کا طریقہ نظام نے بنکروں کے لئے کیسے عذاب ثابت ہوا؟
ج مرکزی نقاط:-

- (1) بنکروں کو دوسرے خریدار سے گفت و شنید پر روک لگا دی
- (2) بنائی پر زمین دی جائے گی۔
- (3) وہ اپنی زمین ٹھیکے یا کرائے پر دینے پر مجبور تھے۔
- (4) جلدی ہی بنکروں کے گاؤں سے گشتوں اور بنکروں کے درمیان جھگڑے ہونے لگے۔

باب۔ پانچ

پرینٹ کلچر اور جدید (ماڈرن) دنیا

یاد رکھنے لائق نکات:

- 1- 1448 میں گٹن برگ نے بائبل کو چھاپا۔
- 2- 1517 میں مذہبی مصلح مارٹن لوتھر کنگ نے رومن کیتھولک چرچ کے طور طریقوں اور رسومات کے بارے میں 95 تنقیدی مضامین لکھے۔
- 3- 1508 میں ایراسم نے ایڈاجس (Adages) نام کی کتاب شائع کی۔
- 4- ہندوستان میں پریس کا جنم داتا جیمس آگسٹس ہیکلی کو مانا جاتا ہے جنہوں نے 1780 میں ایسٹ انڈیا کمپنی کے ہفتہ واری اخبار ”بنگال گزٹ“ کی ادارت سنبھالی۔
- 5- 1821 میں راجا رام موہن رائے نے سمواد کمودنی شائع کی۔
- 6- 1820 میں کلکتہ سپریم کورٹ نے پریس کنٹرول بل پاس کیا۔
- 7- 1822 میں گجراتی اخبار بمبئی میں شائع کیا جانے لگا۔
- 8- ”مخطوطات“ یہ ہاتھ سے تحریر کئے جاتے تھے اور انھیں تاڑ کے پتوں پر تحریر کیا جاتا تھا۔
- 9- خطاطی (خوش نویسی): ہاتھ سے بڑے خوب صورت اور تخلیقی نقاشی میں لکھائی کا فن
- 10- ڈائمنڈ سوتر:- جاپان کی سب سے پرانی 868 میں چھپی کتاب
- 11- ویلوم (VELLUM): کاغذ کی جگہ جانوروں کی کھال سے بنے صفحات پر لکھنا
- 12- پلائٹین:- لیٹر پریس چھپائی میں ایک بورڈ جس کے کاغذ کے پیچھے دبا کر ٹائپ کی چھاپ لی جاتی تھی۔

- 13- کمپوزٹر:- چھپائی کے لیے کمپوز کرنے والا شخص
- 14- Galley:- کالموں کی صورت میں نکالے جانے والا کچا پروف
- 15- Balled:- کوئی تاریخ واقعہ یا کوئی لوک کہانی۔ داستان سنائی بھی جائیں اور گائی بھی جائیں۔
- 16- Inquisition (مذہبی عدالت):- سابق رومن کیتھولک کورٹ، بدعتوں کی شناخت کرنے اور انھیں سزا دینے کے لیے
- 17- تانا شاہی:- حکومت کرنے کا ایسا نظام جس میں کسی ایک فرد کو بغیر کاوٹ قانونی اور آئینی طاقت حاصل ہو۔
- 18- علما: اسلام اور شریعت (اسلام کے آئین اور قوانین) کے عالم
- 19- فتویٰ:- اسلامی قانون پر آئینی رائے جو عموماً مفتی دیتا ہے۔
- 20- بیچ گاہ:- چاند سورج کی گردش اور لوگوں کی روزانہ کی زندگی سے جڑی جانکاری دینے والا سالانہ رسالہ
- 21- 1878 میں ورکولرا ایکٹ لاگو ہوا۔
- 22- مارکو پولو نے 1295 میں چین سے اپنے ساتھ ووڈ بلاک پرنٹنگ کی جانکاری اپنے ساتھ لایا۔

یاد رکھنے کے لئے لائق باتیں

- 23- طباعت (چھپائی) کی تکنیک چین سے آنے والے بدھسٹ مشینڈ ز نے 770 کے قریب جاپان میں ہاتھ سے چھاپنے کی تکنالوجی کو متعارف کرایا۔
- 24- سول سروس امتحانوں کی بھرتی کے لئے بڑی تعداد میں درسی کتابیں چین میں چھپی تھیں۔
- 24- طباعتی کلچر کے خلاف چرچ اور ہندسی مبلغین راجہ اور ہندو قلم، دقیانوسی لوگ شامل ہیں
- 26- مطالعے کا جنون:- ضروری تعلیم، خواندگی کی شرح میں اضافہ آزاد خیال شوہر اور آزاد خیال بیوی، عورتیں اور بچے۔

ایک نمبر والے سوالات

- 1- یورپ میں پہلی پرنٹنگ پریس کی ایجاد کس نے کی؟

- 2- کون سا مذہبی مصلح پروٹسٹینٹ مذہبی مصلح کے لئے مشہور تھا؟
- 3- گٹن برگ کے ذریعے سب سے پہلی چھاپی گئی کتاب کون سی تھی؟
- 4- کتابوں کا پیپر بریک ایڈیشن کب پیش ہوا تھا؟
- 5- انگلینڈ میں پھیری والوں کے ذریعے ایک پیسے میں کتنے والی کتابوں کو کیا کہا جاتا تھا؟
- 6- مطالعہ کا کون سا ذریعہ خاص طور پر عورتوں کے لیے تھا؟
- 7- 1878 کے ورنائیولر پریس ایکٹ کس طرز پر بنا تھا؟
- 8- جاپان کی سب سے پرانی شائع ہونے والی کتاب کا نام کیا ہے؟
- 9- چھاپائی تکنیک سب سے پہلے کس ملک میں شروع ہوئی؟
- 10- ”چھاپہ خانہ ایشور کی دی ہوئی عظیم دین ہے“ ”سب سے بڑا تحفہ“ یہ الفاظ کس کے ہیں؟
- 11- کس نے پاور سے چلنے والا ہیلن پریس ایجاد کیا؟
- 12- ووڈ بلاک پرنٹنگ کی تکنیک کو یورپ میں کون لایا؟
- 13- ہندوستان میں چھاپائی کی تکنیک کب اور کون لایا؟
- 14- 1871ء غلام گیری کے مصنف کون تھے؟
- 15- تلسی داس کی رام چرت مانس پہلی طباعت کب اور کہاں شائع ہوئی؟
- 16- دو فارسی اخباروں کے نام لکھیے جو 1882ء میں شائع ہوئے؟

مختصر / طویل جواب والے سوالات (3/5 نمبر والے)

- 1- ”ووڈ بلاک (لکڑی کی تختی) والی چھاپائی یورپ میں 1295ء کے بعد آئی، واضح کیجیے۔
- 2- جدید چھاپے خانے کی ایجاد یورپ کے سبھی حصوں میں کیوں پھیل گئی؟ وجہ بتائیے۔
- 3- پرنٹ کلچر نے فرانسیسی انقلاب لانے میں کیا کردار ادا کیا؟

- 4- مخطوطات کیا ہیں؟ ان کا استعمال بڑے پیمانے پر کیوں نہیں کیا جاسکتا؟
- 5- پرنٹنگ نے کس طرح ہندوستان میں فرقوں اور مختلف علاقوں میں رہنے والے لوگوں کو جوڑنے کا کام کیا؟
- 6- ہندوستان میں قوم پرستی کو بڑھاوا دینے میں پرنٹ کلچر نے کس طرح تعاون دیا؟
- 7- چھپی ہوئی کتابیں غیر تعلیم یافتہ لوگوں کے درمیان مشہور کیوں ہوئیں؟
- 8- ہندوستان میں ورناکولر پریس ایکٹ جاری کرنے کی وجہ بتائیے۔
- 9- رومن کتھولک چرچ کی تقسیم میں پرنٹ کلچر کے کردار کو واضح کیجیے۔
- 10- 19ویں صدی میں عورتوں کے ذریعے پڑھنے کے رواج کے تئیں لوگوں کا کیا رویہ تھا؟ عورتوں کا اس سے متعلق کیا رد عمل تھا؟
- 11- ایسے تین طریقوں کا تذکرہ کیجئے جن سے پرنٹ کتابوں تک عام آدمی کی رسائی بڑھی؟

ایک نمبر والے سوالوں کے جوابات

- 1- یوہان گٹن برگ
- 2- مارٹن لوتھر
- 3- بائبل
- 4- کساد بازاری کا شروعات میں
- 5- چیپ بکس
- 6- پینی میگزین
- 7- آئرلینڈ پریس قانون
- 8- ڈائمنڈ سوتل
- 9- چین
- 10- مارٹن لوتھر

- 11- رچرڈ ایم ہو
- 12- مارکو پولو
- 13- چین جاپان کوریا
- 14- سولہویں صدی پرتگال
- 15- جیوتی باپھولے
- 16- کلکتہ میں 1810 میں
- 17- جام جہاں نامہ، نئس الاخبار

3/5 نمبر والے سوالوں کے جوابات

- 1- (i) یورپ میں ووڈ بلاک پرنٹ 1295 کے بعد ہی آیا۔
(ii) مارکو پولو یہ علم اپنے ساتھ لے کر لوٹا۔
(iii) مارکو پولو نے یورپ کو ووٹ بلاک تکنیک سے روشناس کرایا۔
(iv) یہ تکنیک پورے یورپ میں پھیل گئی۔
- 2- (i) کتابوں کی بڑھتی مانگ ہاتھ سے تحریر منطوطات سے پوری نہیں ہو رہی تھی۔
(ii) نقل اتارنا بے حد خرچہ چاہتا
(iii) مخطوطے مسودات اکثر نازک ہوتے تھے۔ ان کا لانالے جانا، رکھنا وغیرہ بہت مشکل کام تھا۔
(iv) ان کا چلن محدود تھا۔
(v) کتابوں کی بڑھتی مانگ کی وجہ سے ووڈ بلاک پرنٹنگ بہت مشہور ہو گئی۔
- 2- (i) جو لوگ پڑھ نہیں پاتے تھے وہ بھی بول کر پڑھنے والے لوگوں کو سن کر مزہ لیتے تھے۔
(ii) لوک گیت اور لوک کہتاؤں کا شائع ہونا۔
(iii) ایسی کتابیں با تصویر ہوتی تھیں۔

- (iv) انھیں مذہبی مجلسوں یا شہری شراب خانوں میں ترنم کے ساتھ سنایا جاتا تھا۔
- 3- (i) چھپائی کے ساتھ ساتھ نظریات کی وسعت ان کی تحریروں نے رسم و رواج، بداعتقادی اور مطلق العنانیت کی مخالفت
- (ii) رسم و رواج کے بجائے آزاد خیالی کو ترجیح دی گئی۔
- (iii) چرچ کے مذہبی اور ریاست کی مطلق العنانیت پر حملہ
- (iv) پرنٹنگ نے بحث و مباحثہ کے لئے کلچر کو جنم دیا
- 4- ہاتھوں سے تحریری کئیں کتابوں کو مخطوطے کہتے ہیں۔
- (i) کتابوں کی بڑھتی مانگ مخطوطے سے پوری نہیں ہو پارہی تھی۔
- (ii) نقل اتارنا بے حد خرچہ جیلا، وقت زیادہ لگنا اور مانگ پوری نہ ہونا۔
- (iii) یہ بہت نازک ہوتے تھے لانے لے جانے اور رکھنے میں بہت دشواریاں ہوتی تھیں۔
- (iv) مندرجہ بالا مسائل کی وجہ سے ان کا لین دین مشکل تھا۔
- 4- (i) مخطوطات تاڑ کے پتوں یا ہاتھ سے بنے کاغذ پر نقل کر کے تیار کئے جاتے تھے۔
- (ii) صفحات پر خوبصورت تصویریں بھی بنائی جاتی تھیں۔
- (iii) انھیں لکڑی کی جلدوں میں رکھا جاتا تھا۔
- (iv) انھیں سی کر باندھ دیا جاتا تھا۔
- (v) ان کا رکھ رکھاؤ بہت مشکل تھا۔
- 5- (i) پرنٹنگ ٹیکنالوجی نئے نظریات، ترقی، وسعت اور اظہار خیال کے تئیں ایک نیا پلیٹ فارم تیار کر دیا۔
- (ii) پرنٹنگ ٹکنالوجی مواصلات کا سب سے سستا اور آسان ذریعہ تھا۔
- (iii) یہ ہندوستان کے لوگوں کے مسائل کو اجاگر کرتا تھا۔
- (iv) مذہبی کتابیں عام لوگوں تک پہنچ رہی تھیں۔
- (v) اخبارات ہندوستانی علاقوں کی خبریں ایک جگہ سے دوسری جگہ پہنچاتے تھے۔

- (i) -6 پر تشدد پالیسی کے باوجود قوم پرست اخبار ملک میں ہر طرف پھیلتے گئے۔
- (ii) انھوں نے نوآبادیاتی حکومت کی بربریت کے بارے میں لکھا۔
- (iii) پنجاب کے انقلابیوں کو گرفتار کر لیا گیا تو بال گنگا دھرتلک نے اپنا ”کیسری“ نام کا اخبار شائع کیا۔ لوگوں نے گہری دلچسپی دکھائی۔
- (iv) پنجاب اور ملک کے دیگر حصوں میں قوم پرستی کی تحریک کو بل ملا
- (v) اس وجہ سے بال گنگا دھرتلک کو قید کر لیا گیا جس کی وجہ سے پورے ہندوستان میں مخالفت شروع ہو گئی۔
- (i) -7 جو لوگ پڑھے لکھے نہیں تھے وہ بھی پڑھنے والوں کو سن کر مزے لیتے تھے۔
- (ii) لوک گیت اور لوک کھٹاؤں کا شائع ہونا۔
- (iii) ایسی کتابیں با تصویر ہوتی تھیں۔
- (iv) انھیں دیہی مجلسوں یا شہری شراب خانوں میں ترنم کے ساتھ سنایا جاتا تھا۔
- (i) -8 جب کسی دیسی اخبار رپورٹ میں باغی قرار دے دیا جائے تو اسے چھاپنے سے پہلے خبردار کیا جاتا تھا اور نہ ماننے پر پرنٹنگ پریس ضبط کر لی جاتی تھی۔
- (ii) ہندوستان میں اخبار کے ذریعے بڑھتے رہے قوم پرستی کے جذبے کو فروغ دیا۔
- (iii) ہندوستان میں چھپنے والے سبھی دیسی اخبار پر نظر رکھنے کے لیے پریس ایکٹ بنایا گیا۔
- (i) -9 مارٹن لوتھر کنگ نے رومن کیتھولک چرچ کے طور طریقوں اور رسومات کے بارے میں 95 تنقیدی مضامین لکھے
- (ii) اس کی ایک چھپی ہوئی کاپی وٹن برگ میں چرچ کے دروازے پر لگائی گئی تھی۔
- (iii) مارٹن لوتھر کنگ کی تحریروں کو کثیر تعداد میں چھاپا گیا۔
- (iv) اس کا نتیجہ چرچ کے اندر اختلاف اور پروٹسٹنٹ ریفرمیشن کی تحریک کے آغاز کی شکل میں سامنے آیا۔
- (i) -10 اعتدال پسند شوہر اور والد اپنے یہاں عورتوں کو گھر پر ہی پڑھانے لگے۔
- (ii) شہروں میں چھوٹے چھوٹے اسکول کھلے تو انھیں اسکول بھیجنے لگے۔
- (iii) باغی عورتوں نے ان بندشوں کی مخالفت شروع کر دی۔

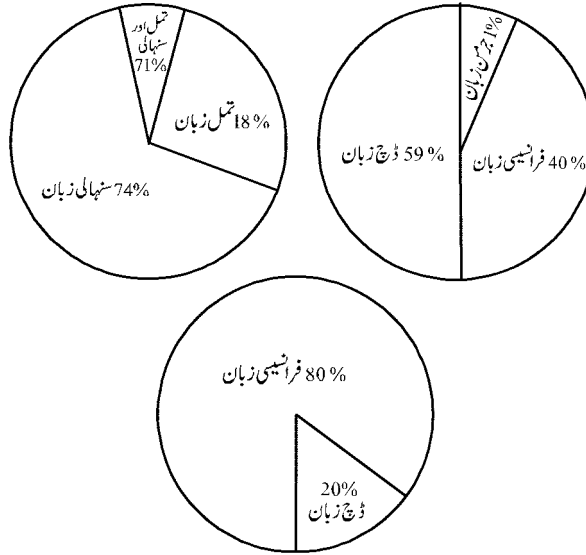
- (i) -11 مدارس کے چوراہوں پرستی کتابیں بیچی جا رہی تھیں۔ اب غریب لوگ بھی انہیں خرید سکتے تھے۔
- (ii) شہروں، قصبوں اور گاؤں میں پبلک لائبریریوں کا کھلنا۔
- (iii) کتابوں اور مضامین میں ذات پات کے بارے میں لکھنا۔
- (iv) مزدوروں میں نشہ کی لت نہ لگے اور تعلیم کی طرف رجحان بڑھے۔
- (v) قوم پرستی کا پیغام بھیجنا

باب۔ چھ

طاقت کی حصہ داری

یاد رکھنے کے لائق باتیں

بیلجیم اور سری لنکا کی زبانی بناوٹ



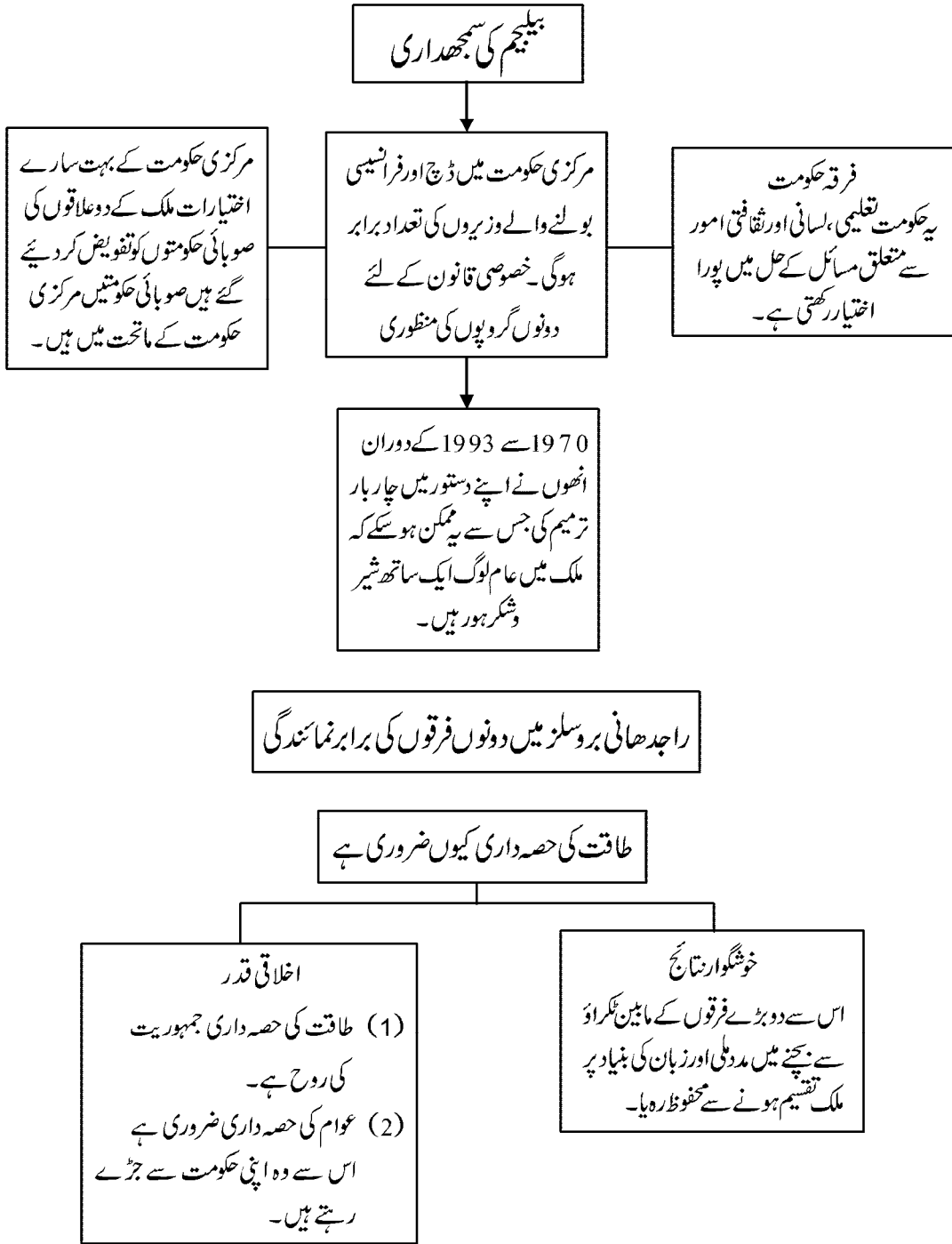
سری لنکا میں اکثریت پسندی

سنہالی زبان کو قومی زبان کا درجہ دے دیا گیا جس سے تمل زبان بولنے والوں کی دل آزاری ہوئی

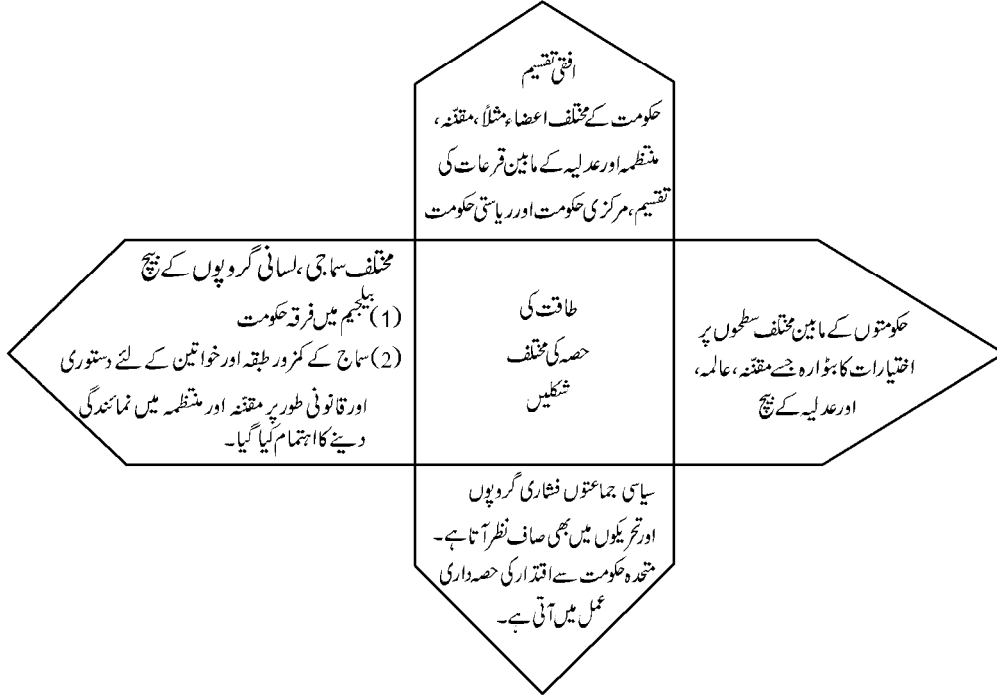
سنہالیوں کو یونیورسٹیوں اور سرکاری ملازمتوں میں ترجیح دی گئی۔

1956 میں ایک قانون پاس کیا گیا کہ سنہالی سرکاری زبان رہے گی سنہالی کو ترجیح دی

اکثریت پسند کا مطلب ہے کہ وہ اپنی پسند سے ملک کو چلائے اور اقلیتوں کی ضرورتوں آرزوؤں کو کھل کر جیسے چاہے ملک پر حکومت کرے۔



طاقت کی حصہ داری کی مختلف شکلیں



ایک نمبر والے سوالات:-

- 1- مختلف سماجی گروپوں کے بیچ طاقت کی حصہ داری کو ایک مثال دیکھئے۔
- 2- بیلیجیم کے فلیمش علاقے میں کون سی خاص زبان بولی جاتی ہے۔
- 3- بیلیجیم میں کون سا فرقہ زیادہ خوشحال اور طاقتور ہے؟
- 4- بیلیجیم میں کونسی حکومت تعلیم اور کلچر جیسے معاملات پر فیصلے لیتے ہیں۔
- 5- سنہالی فرقہ کے زیادہ تر لوگ کس مذہب کو مانتے ہیں؟
- 6- 1970 سے 1993 کے درمیان بیلیجیم کے دستور میں کتنی بار ترمیم ہوئیں۔
- 7- سنہالی فرقہ کے غلبے کو قائم کرنے کے لئے سری لنکا میں کس طرح کا نظام حکومت قائم کیا گیا۔

- 8- بیلجیم میں بولی جانے والی دو خاص زبانیں کونسی ہیں؟
- 9- سری لنکا کی آبادی میں کس سماجی طبقے کی حصہ داری سب سے زیادہ ہے؟
- 10- بیلجیم کی سرحد اپنے کن دو پڑوسی ملکوں سے ملتی ہے۔
- 11- سری لنکا کی زیادہ آبادی کس مذہب سے تعلق رکھتی ہے؟
- 12- سری لنکا میں لاکھوں لوگوں کے مارے جانے اور ان کی آزادی چھین جانے کی کیا وجہ تھی؟
- 13- یورپین یونین کا صدر دفتر کہاں ہے۔
- 14- بیلجیم کے برسلسز علاقے میں کونسی زبان خاص طور پر جاتی ہے۔

ایک نمبر والے جوابات:-

- 1- بیلجیم کی فرقہ حکومت
- 2- ڈچ
- 3- فرانسیسی بولنے والے
- 4- فرقہ حکومت
- 5- بودھ مذہب
- 6- چار بار
- 7- اکثریت پسندی
- 8- ڈچ اور فرانسیسی
- 9- سنہالی
- 10- فرانس اور نیدر لینڈ
- 11- بدھ مذہب

12- خانہ جنگی

13- بروسلز

14- فرانسیسی

مختصر / طویل جواب والے سوالات (3/5 نمبر)

- 1- اقتدار کی حصہ داری کی مختلف شکلوں کا ذکر کرو۔
- 2- بیلجیم کے سماج میں مختلف لسانی لوگوں کے بیچ تناؤ کی کیا وجوہات تھیں؟
- 3- سری لنکا میں اکثریت پسندی نے کس طرح سماجی تناؤ کو جنم دیا؟
- 4- طاقت کی حصہ داری کیوں ضروری ہے؟ سمجھائیے۔
- 5- سماجی تنوعات سے پر حکومت میں اقتدار کی تقسیم کس طرح کی جاسکتی ہے؟
- 6- سری لنکا کے پاس ہوئے 1950 کے قانون کے تحت سنہالی لوگوں کی سرداری کی تین باتیں لکھیے۔
- 7- طاقت کی حصہ داری کی ایک دانشمندانہ اور ایک اخلاقی وجہ بتائیے۔
- 8- سری لنکا میں اکثریت پسندی اور اس کے اثرات کو بیان کیجیے۔
- 9- بیلجیم میں سماجی تنوعات کی وجہ سے پیدا ہونے والے مسائل کو کس طرح حل کیا گیا؟
- 10- مختلف فئاری گروہ اور سیاسی جماعتیں اقتدار کی تقسیم کے عمل میں کس طرح اہم کردار ادا کرتے ہیں؟

3/5 نمبر والے سوالات

- 11- سری لنکا اور بیلجیم کی کہانی سے ہمیں کیا تعلیم ملتی ہے؟
- 12- فشاری گروپ اور امدادی گروپ جمہوریت میں کیسے طاقت کی حصہ داری کرتے ہیں۔
- 13- جمہوریت میں کنٹرول اور Balance کے نظام سے آپ کیا سمجھتے ہیں؟

3/5 نمبر والے سوالوں کے جوابات

- 1- (i) اختیارات کی افقی تقسیم:- متفقہ۔ منظمہ اور عدلیہ
- (ii) اقتدار کے مابین بٹوارے:- مرکزی حکومت، ریاستی حکومت اور علاقائی حکومت

- (iii) مختلف سماجی گروہوں میں اقتدار کا بٹوارا
- (iv) دباؤ گروپ یا فشاری گروپ کے ذریعے حصے داری
- (i) اکثریت ڈچ لوگوں کی تھی۔ -2
- (ii) اقلیت میں فرانسیسی زیادہ طاقت ور اور مضبوط تھے۔
- (iii) معاشی ترقی اور تعلیم کا فائدہ ایک کا خاص فرقے تک محدود تھا۔
- (iv) سیاسی اقتدار ایک کمیونٹی میں مرکوز تھا۔
- (i) اکثریت پسندی کے تحت سنہالیوں کے فائدے کا خاص دھیان رکھا گیا۔ -3
- (ii) سنہالی کو سرکاری زبان کی حیثیت سے تسلیم کیا گیا۔
- (iii) تملوں کو نظر انداز کیا گیا۔
- (iv) تملوں کو سیاسی حقوق سے محروم رکھا گیا۔
- (i) مختلف سماجی گروہوں کے بیچ ٹکراؤ کو کم کرنا -4
- (ii) یہ جمہوری اقتدار کے لیے ہے۔
- (iii) یہ سیاسی ٹکراؤ کو کم کرتا ہے۔
- (iv) اقتدار میں زیادہ سے زیادہ لوگوں کی حصہ داری بناتا ہے۔
- (i) مختلف سماجی گروہ جیسے لسانی اور مذہبی گروہ کے بیچ اقتدار کا بٹوارا -5
- (ii) عورتوں کو مقننہ میں حصہ داری دینا
- (iii) اقلیتی گروہوں کو ریزرویشن دے کر
- (iv) دوسرے کچھڑے ہوئے فرقوں کے لیے الگ سے سرکاری پالیسیاں بنانا
- (i) سنہالی زبان کو قومی زبان تسلیم کرنا۔ -6
- (ii) سنہالی لوگوں کو تعلیمی اداروں اور سرکاری نوکریوں میں ترجیح دینا
- (iii) سنہالی لوگوں کو سیاسی سرگرمیوں میں آزادانہ طور پر حصہ لینے کے لیے آزاد کرنا
- (iv) بدھ مذہب کا تحفظ کرنا اور ان کو آزادی دینا

7- دانشمندانہ وجہ:

- (i) اس کے تحت اس بات پر زور دیا جاتا ہے کہ طاقت کی حصہ داری سے بہتر نتائج سامنے آئیں گے۔ اس سے سماجی فرقوں کے مابین تنازعات کے امکانات کم ہو جاتے ہیں اور سیاسی استحکام حاصل ہو جاتا ہے۔

اخلاقی وجہ:

- (i) طاقت کی حصہ داری جمہوریت کی روح ہے۔
- (ii) جمہوریت کا مطلب ہے کہ جو لوگ اس نظام حکومت کے تحت ہیں ان کے مابین طاقت کی تقسیم ہونی چاہیے اور یہ لوگ اسی طرز پر رہیں۔ اس میں متفقہ۔ عاملہ اور عدلیہ۔
- (i) 1956 میں قانون بنا کر تاملوں کو نظر انداز کر کے سنہالی کو سرکاری زبان کا درجہ دے دیا گیا جس سے تامل لوگ ناراض ہو گئے۔
- (ii) یونیورسٹیوں اور سرکاری ملازمتوں میں سنہالیوں کو ترجیح دی گئی جس سے تامل ناراض ہو گئے۔
- (iii) حکومت کے ذریعے بدھ مت کو تحفظ فراہم کیا گیا اور اسے فروغ دیا گیا۔ اس وجہ سے بھی تاملوں کے اندر علیحدگی پسندی کا احساس پیدا ہونے لگا اور نتیجتاً سری لنکا میں خانہ جنگی شروع ہو گئی۔

- (i) 9- بلجیم میں سماجی انتشار کے حل۔

(ii) مرکزی حکومت میں ڈچ اور فرانسیسی زبان بولنے والے منتزیوں میں برابر کا ہٹوارہ۔

(iii) یہ طے کیا گیا کہ صوبائی حکومتیں مرکزی حکومت کے ماتحت ہوں گی۔

(iv) 'فرقہ حکومت' کی تشکیل ایک ہی زبان بولنے والے لوگ کریں گے۔

- (i) 10- سیاسی جماعت سماج میں اپنی خصوصیت بنا کر عوام کو متاثر کرتی ہے۔

(ii) تاجروں، کاشت کاروں وغیرہ پر مشتمل مفادی گروہ برسر اقتدار جماعت پر دباؤ بنا کر اقتدار میں حصہ داری حاصل کرتے ہیں۔

(iii) موجودہ دور میں مخلوط حکومت (گٹھ بندھن) حصہ داری کی ایک عمدہ مثال ہے۔

- 11- سری لنکا اور بلجیم کی کہانی سے ہمیں یہ سبق ملتا ہے۔

(1) بلجیم کے لیڈروں کو لگا کہ لوگوں کے مختلف فرقوں اور علاقوں کے احساسات و مفادات کو ملحوظ خاطر رکھ کر ہی ہم ملک کو متحد رکھ سکتے ہیں۔

(2) اس احساس کے چلنے دونوں فرقوں کی حصہ داری پر منظوری اور ملک میں خانہ جنگی پر سوالیہ نشان لگا اور دلش بٹنے سے بچ گیا۔

(3) سری لنکا کے مثال سے یہ پتہ چلتا ہے کہ اگر اکثریت فرقہ افلیتی فرقے پر اتنا دبدبہ قائم کرنے اور حکومت میں اس کی حصہ داری نہ بنانے کا فیصلہ کرتا تو اس سے ملک میں قومی یکجہتی خطرے میں پڑ جاتی۔

12- جمہوریت میں مفاد پرست گروپ بھی ہوتے ہیں اور انہیں ہم

(1) تجارت کار، صنعت کار، کسان اور صنعتی مزدور کے نام سے جانتے ہیں۔

(2) یہ سرکار کی پالیسیوں پر اپنے ممبران گروپ کے فائدے کے لئے حکومت پر دباؤ بناتے ہیں۔

(3) اس کا اندازہ حکومتی کمیٹیوں میں ان کی شرکت اور فیصلہ کے مختلف مراحل میں ان کے اثرات اور نفوذ سے لگایا جاسکتا ہے۔

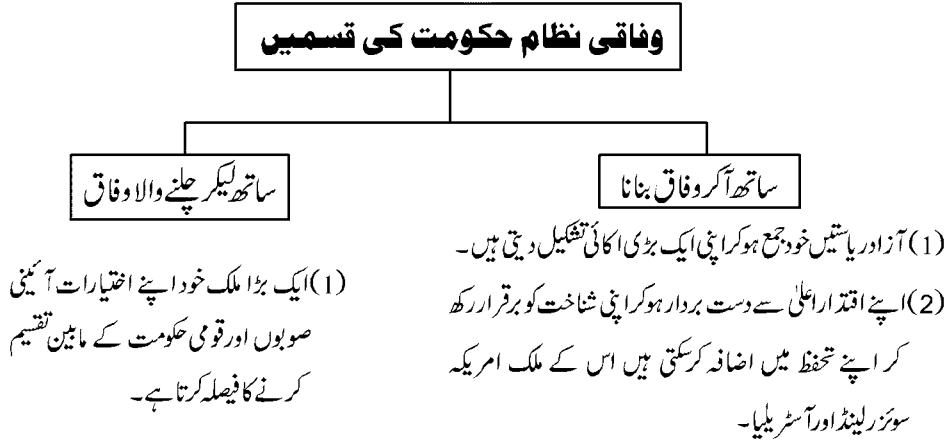
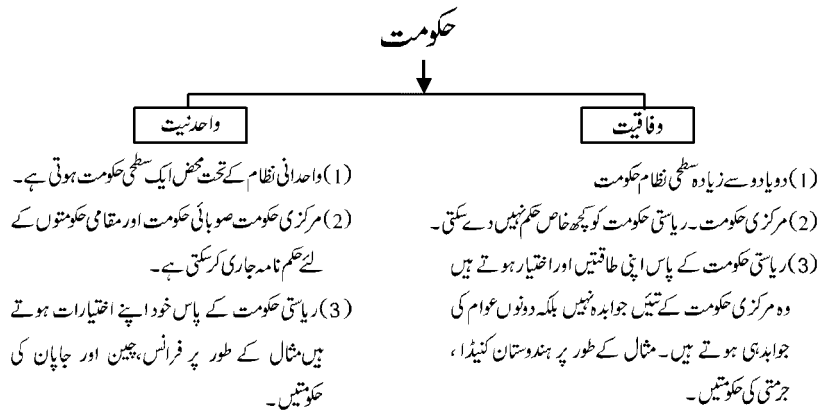
13- (1) جمہوریت میں حکومت کے مختلف اعضاء جیسے، مقتنہ، منظمہ اور عدلیہ کے بیچ طاقت کی حصہ داری ہوتی ہے اور حکومت ایک ہی سطح پر رہ کر اپنی اپنی طاقت کا استعمال کرتی ہے۔

(2) کوئی ایک اعضاء طاقت کا بے جا استعمال نہیں کر سکتا ہر اعضاء دوسرے اعضاء پر کنٹرول رکھتا ہے مثال کے طور پر عدلیہ کو مقتنہ نامزد کرتی ہیں لیکن عدلیہ ہی مقتنہ، اور منظمہ کے ذریعے بنائے گئے قانون پر کنٹرول رکھتی ہے اس نظام کو کنٹرول اور Balance کا نظام کہتے ہیں۔

باب۔ سات

وفاقیت (Federalism)

یاد رکھنے لائق نکات:

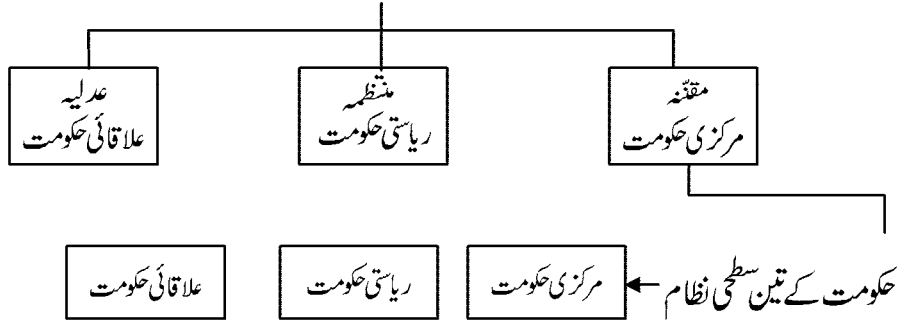


مرکزی حکومت زیادہ طاقتور ہوتا ہے۔ جاپان اور ہندوستان اسپین اس کی مثالیں ہیں۔

وزیر اعظم:- لوک سبھا میں اکثریت کا لیڈر

وزیر اعلیٰ:- ریاستی اسمبلی میں اکثریت کا لیڈر

ہندوستانی حکومت

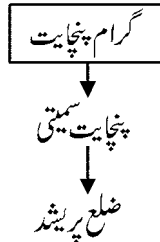


مرکزی اور صوبائی حکومتوں کے مابین قانون سازی کے اختیارات کو تین فہرست میں تقسیم کیا گیا ہے۔

- (1) مرکزی فہرست:- اس فہرست میں قومی اہمیت کے حاصل موضوعات ہیں۔ مثلاً دفاع، خارجہ امور، بینکاری، مواصلات اور کرنسی وغیرہ۔
- (2) ریاستی فہرست:- اس فہرست میں ایسے موضوعات کو شامل کیا گیا ہے جو صوبائی اور مقامی اہمیت کے حامل ہیں۔ مثلاً، پولیس، تجارت، کاروبار، زراعت اور آب پاشی
- (3) مشترکہ فہرست:- جو یکساں طور پر صوبائی اور مرکزی اہمیت کے حاصل ہیں۔ مثلاً تعلیم، جنگلات، ٹریڈ یونین، شادی، وغیرہ

تیسری سطح کی حکومت، مقامی حکومت

گاؤں کے سطح پر مقامی حکومت پنچایت راج کہلاتا ہے۔



- گرام پنچایت:- کچھ ریاستوں کے ہر گاؤں یا چند گاؤں ملا کر ایک گرام پنچایت بنائی گئی ہے یہ ایک ایسی مجلس ہے جو متعدد حلقوں کے ممبروں جسے پنچ کہتے ہیں اور ایک صدر یا سر پنچ پر مشتمل ہوتی ہے یہ براہ راست منتخب ہو کر آتے ہیں۔
- پنچایت سمیٹی:- چند گرام پنچایتوں کو ملا کر جو تشکیل پاتی ہے اسے عام طور پر پنچایت سمیٹی یا بلاک منڈل کہتے ہیں اس نمائندہ مجلس کے اراکین کا انتخاب اس علاقہ کی پنچایتوں کے ممبران کے ذریعہ عمل میں آتا ہے۔
- ضلع پریشد:- ضلع کی تمام پنچایت سمیٹیوں اور منڈلوں سے مل کر ضلع پریشد بنتا ہے۔ ضلع پریشد کے عام اراکین منتخب کئے جاتے ہیں اس ضلع کے لوگ سبھا اور ودھان سبھا کے تمام اراکین اور کچھ دوسرے ضلعی سطح کی مجلسوں کے اراکین بھی اسی کے اراکین ہوتے ہیں ضلع پریشد کا صدر ضلع پریشد کا سیاسی سربراہ ہوتا ہے۔

شہر کی سطح پر مقامی حکومت کا ڈھانچہ

- (1) قصبات میں میونسپلٹیاں قائم کی گئی ہیں اور بڑے شہروں میں میونسپل کارپوریشن بنائی گئی ہیں۔
- (2) میونسپلٹیاں اور میونسپل کارپوریشن دونوں کو عوامی نمائندوں پر مشتمل منتخب مجلسوں کے ذریعہ کنٹرول کیا جاتا ہے۔
- (3) میونسپل کا صدر میونسپلٹی کا سیاسی سربراہ ہوتا ہے۔ میونسپل کارپوریشن میں اس طرح کے آفیسر کو میئر کہتے ہیں۔
- (4) ہندوستان میں جموں و کشمیر ایک ایسی ریاست ہے جہاں ریاستی حکومت کی مرضی کے بغیر ہندوستانی آئین کو لاگو نہیں کیا جاسکتا۔
- (5) ہندوستان میں 40% لوگوں کی مادری زبان ہندی ہے۔
- (6) ایک سے زیادہ سیاسی پارٹیاں مل کر جو حکومت بناتی ہیں وہ ملی جلی حکومت کہلاتی ہے۔
- (7) زبانوں کی فہرست وہ 22 زبانیں جنہیں ہندوستانی آئین کی آٹھویں فہرست میں رکھا گیا ہے فہرستی زبانیں کہتے ہیں۔
- (8) ہندوستان میں 1992 میں آئین میں ترمیم کر کے پنچایتی راج کو زیادہ طاقتور اور اثر انداز بنا گیا ہے۔
- (9) علاقائی حکومت میں تقریباً ایک 1/3 نشستیں خواتین کے لئے مخصوص کر دی گئی ہیں۔

ایک نمبر والے سوالات

- 1- طاقت کی حصہ داری کسے کہتے ہیں؟

- 2- نگر پالیکاؤں اور گرام پنچایتوں کے لیے تقریباً کتنے لوگوں کا چناؤ ہوتا ہے؟
- 3- ہندوستان کی کس ریاست کو خصوصی درجہ حاصل ہے؟
- 4- علاقائی حکومتیں والی کون کون سی ادارے شہروں میں کام کرتے ہیں؟
- 5- وحدانی حکومت کسے کہتے ہیں؟
- 6- پنچیم میں کس طرح کی حکومت ہے؟
- 7- پنچایت سمیتی کا انتخاب کیسے ہوتا ہے؟
- 8- نگرگم کے سربراہ کو کیا کہتے ہیں؟
- 9- مشترکہ فہرست پر کون قانون بناتا ہے؟
- 10- ہندوستان کی ریاستوں میں پنچایت اور نگرگم کے الیکشن کروانے والے ادارے کا نام کیا ہے؟

مختصر/طویل جواب والے سوالات (3/5 نمبر)

- 1- مرکز اور صوبائی حکومتوں کے مابین قانون سازی کے اختیارات کی سطحی تقسیم کی وضاحت کیجیے۔
- 2- علاقائی حکومتوں کی اہمیت پر روشنی ڈالیے۔
- 3- ہندوستان کا وفاقی نظام پنچیم سے ملتا جلتا ہے۔ اس کی ایک خصوصیت اور اس سے الگ خصوصیت بتائیے۔
- 4- 1992ء کے آئین کی ترمیم کے ذریعے ہمارے ملک میں حکومت کی تیسری سطح کو زیادہ موثر کیوں بنایا گیا ہے؟
- 5- وفاق یا وفاقی نظام حکومت سے آپ کیا سمجھتے ہیں؟
- 6- ہندوستان کی لسانی پالیسی کیا ہے۔
- 7- 1992 میں لامرکزیت کی سمت میں ایک بڑا اہم قدم اٹھایا گیا۔ تبصرہ کیجیے۔
- 8- وحدانی اور وفاقی حکومتوں کے بیچ فرق واضح کریں۔
- 9- وفاقی نظام کی چار خصوصیات کا ذکر کیجیے۔
- 10- مرکز اور صوبوں کے رشتوں میں آئے بدلاؤ کا ذکر کیجیے۔

- 11- پنجابیتوں میں آئے خاص مسائل کا ذکر کیجیے۔
- 12- ہندوستان ایک وفاقی نظام والا ملک ہے۔ اس بات کو ثابت کرنے والے خاص اصول لکھیے۔
- 13- وفاقی تین خامیوں کا ذکر کیجیے۔

ایک نمبر والے سوالوں کے جوابات

- 1- مرکز اور ریاستوں کی طاقتوں کو لے کر علاقائی حکومتوں کو دینا۔
- 2- 36 لاکھ لوگ
- 3- جموں کشمیر
- 4- نگر پالیکا اور نگرگم
- 5- ایسا نظام حکومت جس میں حکومت کی ایک سطح ہوتی ہے
- 6- وفاقی نظام حکومت
- 7- کئی پنپوں کو ملا کر پنچایت سمیٹی بنتی ہے
- 8- میسر/مہاپور
- 9- مرکزی حکومت اور ریاستی حکومت
- 10- صوبائی انتخابی ادارہ (The State Election Commission)

3/5 نمبر والے سوالوں کے جوابات

- 1- (i) مرکزی فہرست :- اس فہرست میں قومی اہمیت کے موضوعات مثلاً دفاع، خارجہ امور، بنکاری، مواصلات اور کرنسی وغیرہ
- (ii) صوبائی فہرست: اس فہرست میں صوبائی اہمیت کے موضوعات شامل ہیں مثلاً پولیس، تجارت، کاروبار، زراعت اور آب پاشی وغیرہ۔
- (iii) مشترکہ فہرست: اس فہرست میں وہ موضوعات کو شامل کیا گیا ہے جو یکساں طور پر صوبائی اور مرکزی اہمیت کے حامل ہیں۔ مثلاً تعلیم، جنگلات، ٹریڈ یونین، شادی وغیرہ
- (i) حکومت ایک سے زیادہ سطحوں پر قائم کی جاتی ہے۔

- (ii) اقتدار کی تقسیم ہوتی ہے۔
- (iii) ہر حکومت کا دائرہ اختیار طے ہوتا ہے۔
- (iv) دونوں حکومتیں لوگوں پر مشترکہ طور پر حکومت کرتی ہیں۔
- 2- (i) بہت سے مسائل ایسے ہیں جنہیں مقامی سطح پر زیادہ بہتر طور پر حل کیا جاسکے۔
- (ii) لوگ اچھی طرح جانتے ہیں کہ کہاں کتنا پیسہ خرچ کرنا ہے۔
- (iii) مقامی سطح پر عوام کے لیے یہ ممکن ہوگا کہ وہ فیصلہ لینے کے عمل میں براہ راست شریک ہو سکیں۔
- 3- ہندوستان میں پبلک سروس سے ملتی جلتی خصوصیت یہ ہے کہ دونوں ملکوں میں وفاقی نظام حکومت ہے۔ پبلک سروس میں یہ خوبی ہے کہ انہوں نے ساری طاقت ملک کی دو علاقائی حکومتوں کے سپرد کر دی ہیں جبکہ ہندوستان میں بہت سے معاملات میں مرکزی حکومت صوبائی حکومت سے زیادہ طاقت ور ہے اور ان پر کنٹرول رکھتی ہے۔
- 4- (i) گاؤں، بلاک اور ضلعوں کی سطح پر مقامی حکومت کا قیام
- (ii) مقامی لوگوں کو اقتدار میں شامل کر کے ملک کی ترقی میں مددگار بنایا گیا ہے۔
- (iii) عورتوں، درج فہرست ذاتوں اور پسماندہ طبقات کے لیے ریزرویشن کا انتظام
- (iv) مقامی سطحوں پر مسائل کا فوری حل
- 5- (i) وفاقی نظام حکومت میں طاقت مرکزی حکومت اور صوبائی حکومتوں میں بٹ جاتی ہے۔
- (ii) وفاقی نظام حکومت میں دو سطحی نظام حکومت ہوتا ہے۔
- (iii) مرکزی حکومت قومی سطح کی فہرست پر قانون بناتی ہے اور صوبائی حکومت اپنے اپنے سطح کی فہرست پر قانون بناتی ہیں۔
- 6- (i) ہندوستان میں کسی ایک زبان کو قومی زبان کا درجہ نہ دے کر ہندی اور دوسری 21 زبانوں کو درج فہرست زبانوں کی حیثیت سے تسلیم کیا گیا ہے۔
- (ii) انگریزی زبان کو سرکار کی دفتری زبان کی حیثیت سے استعمال کرنے کی منظوری دی ہے۔
- (iii) سبھی صوبوں کو اپنی زبان کو اپنے سرکاری کاموں میں استعمال کرنے کی خصوصی اجازت ہے۔
- 7- (i) سبھی صوبوں میں گاؤں کی سطح پر گرام پഞ്چایت اور شہروں میں نگر نگر پالیکاؤں کا قیام کیا گیا تھا۔

- (ii) علاقائی حکومتیں صوبائی حکومتیں کے زیر نگیں رکھی گئیں۔
- (iii) مقامی حکومت کے چناؤ وقت پر کرائے جاتے ہیں۔
- (i) حکومت ایک سے زیادہ سطحوں پر قائم کی جاتی ہے۔
- (ii) اقتدار کی تقسیم ہوتی ہے۔
- (iii) ہر حکومت کا دائرہ اختیار طے ہوتا ہے۔

-8

9- وحدانی نظام حکومت

- (i) اس میں مرکزی حکومت طاقت ور ہوتی ہے۔
- (ii) اس کے تحت آئین میں ترمیم مرکزی حکومت کر سکتی ہے۔
- (iii) طاقت ایک جگہ مرکوز ہوتی ہے۔
- (iv) مرکزی حکومت صوبائی حکومت سے طاقت لے سکتی ہے۔

وفائی نظام حکومت

- (i) اس میں مرکزی حکومت ذرا کمزور ہوتی ہے۔
- (ii) اس میں اکیڈمک مرکزی حکومت قانون میں ترمیم نہیں کر سکتی۔
- (iii) طاقت مختلف سطحوں پر بٹ جاتی ہے۔
- (iv) کئی وفائی نظام حکومت والے ملک میں دوسری شہریت ہوتی ہے۔
- (v) دونوں سطح کی حکومتیں اپنے اپنے حقوق میں آزاد ہوتی ہیں۔

- (i) صوبوں میں علاقائی جماعتوں کے ذریعے حکومتوں کی تشکیل۔

-10

- (ii) مخلوط حکومتوں کی ابتداء جس سے حکومتیں من مانی نہیں کر سکتی۔
- (iii) مرکز اور صوبوں کے بیچ تناؤ میں کمی۔
- (iv) مرکز اور صوبوں کے رشتوں میں سدھار

- (i) -11 بیداری کی کمی
- (ii) گروہ بندی کی ابتداء
- (iii) دولت کی کمی
- (iv) افسران کی من مانی
- (i) -12 ہندوستان میں مرکز ریاست اور علاقائی تین سطح کی حکومتیں ہیں۔
- (ii) ہندوستان میں ایک لکھا ہوا آئین ہے۔
- (iii) سرخ کی حکومت کے الگ الگ حقوق آئین بھی واضح کر دیئے گئے ہیں۔
- (iv) آئین میں ترمیم کوئی ایک سطح کی حکومت نہیں بدل سکتی۔
- (v) سپریم کورٹ آئین کی محافظ ہے۔
- (i) -13 مرکزی حکومت کے پاس زیادہ طاقت کا ہونا۔
- (ii) آئین میں ترمیم کا حق صرف مرکزی حکومت کے پاس ہونا۔
- (iii) پارلیمنٹ کے پاس زیادہ اختیار ہونا۔
- (iv) مالی بل سے متعلق اختیار بھی مرکز کے پاس ہونا۔

باب۔ آٹھ

جمہوریت اور تنوع

یاد رکھنے لائق نکات:

- 1- مشترکہ سماج:- ایک ایسا سماج جس میں معاشرتی، ثقافتی اور ذاتی اختلافات زیادہ گہرا ہوتا ہے۔
- 2- افریقی، امریکی: امریکہ میں افریقہ سے لائے گئے غلاموں کی اولادیں جنہیں 17 ویں صدی میں امریکہ میں لا کر غلام بنایا گیا تھا۔
- 3- نسل بھید:- کسی ملک یا سماج میں رنگ و نسل کے بنا پر کچھ لوگوں کو نیچا یا گرا ہوا سمجھنا۔
- 4- رنگ بھید:- رنگ کی وجہ سے ان میں بھید بھاؤ کرنا جیسے گورا کالا
- 5- دلت: ہندوستان میں غربت، بے زمین اور سماجی معاشی طور پر پچھڑے ہوئے لوگ۔
- 6- سیاہ فام طاقت کی تحریک: امریکہ میں نسل پرستی کو مٹانے کے لئے چھیڑی گئی تحریک جو 1966 سے 1975 تک چلی تھی۔
- 7- مہاجر: کسی کام یا معاشی ضرورے کے تحت کوئی بھی شخص جو داخلی طور پر کسی علاقے میں یا خارجی طور پر ایک ملک سے دوسرے ملک میں منتقل ہو جاتا ہے۔
- 8- متجانس سماج:- ایسا سماج جو ہم فکر و ہم خیال لوگوں پر مشتمل ہو بالخصوص ایسا سماج جس میں قابل ذکر نسلی تفریق نہ پائی جاتی ہو
- 9- اکثریتی سماج:- مختلف خیالوں اور پختوں والا سماج

ایک نمبر والے سوالات

- 1- 1968 کے اولمپک کھیلوں کا انعقاد کہاں ہوا تھا؟
- 2- ٹام اسمتھ اور جان کارلوس کون تھے؟ انھوں نے کون سے تمنغے جیتے؟
- 3- امریکہ میں شہری حقوق کی تحریک کا مقصد کیا تھا؟

- 4- امریکہ میں شہری حقوق کی تحریک کس کی رہنمائی میں شروع کی گئی تھی؟
- 5- میکسیکو اولمپک میں ٹام اسمتھ کے ذریعے پہنا گیا کالا دستا نہ کس بات کی نشانی تھا؟
- 6- وہ کون سا آسٹریلیائی کھلاڑی تھا جس نے ٹامی اسمتھ اور جان کارلوس کی حمایت میں مخالفت جتائی؟
- 7- یوگوسلاویہ کے بٹوارے کا خاص مدعا کیا ہے؟
- 8- سری لنکا میں کس طرح کی سماجی تفریق ہے؟
- 9- مکمل سماج کی شکل کس دیش میں ہے؟
- 10- آئر لینڈ میں کن کن مذاہب کے ماننے والے لوگ رہتے ہیں؟
- 11- حال ہی میں کس یونیورسٹی نے اپنے کیمپس میں ٹام اسمتھ اور جان کارلوس کی مورتیاں لگوائیں ہیں؟
- 12- کس ملک میں مذہب اور فرقے میں گہری برابری ہے؟
- 13- ٹام اسمتھ اور جان کارلوس سے اولمپک میڈل واپس کیوں لے لیا گیا تھا؟
- 14- شمالی آئر لینڈ کی آبادی میں پروٹیسٹنٹ اور کیتھولک کا فیصد کتنا ہے؟

مختصر / طویل جوابات والے سوالات (3/5 نمبر والے)

- 1- سماج میں تفریقات ابھرنے کے دو خاص وجہ بیان کیجیے۔
- 2- ہندوستان میں تنوع کو ظاہر کرنے والے تین عناصر کا ذکر کریں۔
- 3- سماجی تقسیم کی سیاست کے نتائج کو طے کرنے والے تین عوامل کو بتائیے۔
- 4- جمہوریت سے آپ کیا سمجھتے ہیں؟ یہ کتنی اقسام کی ہوتی ہے؟ مختصراً بیان کیجیے۔
- 5- ”سماجی تقسیم ہمیشہ خطرناک نہیں ہوتی ہے“ اس قول کی حمایت میں مثال پیش کیجیے۔
- 6- ٹام اسمتھ اور جان کارلوس نے 1968 میں میکسیکو شہر میں ہوئے اولمپک کھیلوں کے وقت ریاست ہائے متحدہ امریکہ میں رواں نسل پرستی کے تئیں بین الاقوامی برادری کا دھیان کس طرح مبذول کرایا؟
- 7- سماجی تفریق کب اور کیسے سماجی تقسیم کی شکل لے لیتی ہے؟

- 8- مشترک اوت متضاد تفریق میں فرق ظاہر کیجیے۔
- 9- امریکہ میں شہری حقوق تحریک (1954 سے 1968) سے متعلق آپ کیا سمجھتے ہیں؟
- 10- اگر ایک سی سماجی تقسیم کئی گروہوں میں موجود ہوں اور ان سے اشتراک کر لیتی ہوں تو انہیں اپنی پہچان بنانا مشکل پڑ جاتا ہے۔ وضاحت کیجیے۔

ایک نمبر والے سوالوں کے جوابات

- 1- میکسکو
- 2- ایفر و امریکی 200 میٹر کی دوڑ میں
- 3- نسل پرہنی بھید بھاؤ کو ختم کرنا
- 4- مارٹن لوتھر کنگ جونیئر
- 5- سیاہ فام لوگوں کی طاقت
- 6- پیٹرنارمن
- 7- مذہبی اور ذات پرہنی تفریق
- 8- لسانی اور مذہبی
- 9- جرمن اور سوئیڈن
- 10- کیتھولک اور پروٹیسٹنٹ
- 11- ایسوسی ایشن نے انہیں سیاسی بیان دے کر اولمپک کے جذبہ کی خلاف ورزی کرنے کا قصور وار مانا تھا
- 12- سینٹ جوز اسٹیٹ یونیورسٹی
- 13- شمالی آئر لینڈ
- 14- 44% اور 53%

3/5 نمبر والے سوالوں کے جوابات

- 1- (i) پیدائش کی بنیاد پر:- ہم صرف اس بنیاد پر اس فرقے کے ہو جاتے ہیں جس میں ہماری پیدائش ہوئی ہے۔

- (ii) پسند یا چناؤ کی بنیاد پر:- جیسے مذہب، کاروبار کھیل وغیرہ کا چناؤ ہم اپنی پسند سے کرتے ہیں۔
- (iii) سوچنے کے الگ الگ ڈھنگ
- 2- (i) ذاتی تفریق: آریہ- غیر آریائی ترک، منگول، مغل، پارسی وغیرہ
- (ii) مذہبوں میں تفریق: ہندو، اسلام، سکھ، جین، بودھ، پارسی اور یہودی مذہب کے پیروکار رہتے ہیں۔
- (iii) زبانی تفریق: 1500 زبانیں بولی جاتی ہیں۔ آئین میں 22 زبانوں کو منظوری دی گئی ہے۔
- 3- (i) لوگوں میں قومی پہچان کے جذبے کے تئیں یقین کروانا۔
- (ii) سیاسی جماعتوں کا آئین کے دائرے میں رہ کر کام کرنا۔
- (iii) حکومت مختلف سماجی گروہوں کے تئیں کیسا رخ اپناتی ہے۔
- 4- جمہوریت سے مراد ہے عوام کی حکومت۔ ایسے نظام حکومت جس میں عوام کے ذریعے چُنے ہوئے لوگ عوام کے مقاصد کو پورا کریں اور ان میں خود غرضی کا جذبہ نہ ہو۔
- 5- (i) شمالی آئرلینڈ اور نیدرلینڈ میں زیادہ تر لوگ کیتھولک اور پروٹسٹینٹ عیسائی ہیں۔
- (ii) شمالی آئرلینڈ میں زیادہ تر کیتھولک عیسائی غریب اور تفریق کا شکار ہیں لہذا تناؤ بنا رہتا ہے۔
- (iii) نیدرلینڈ میں کیتھولک اور پروٹسٹینٹ دونوں ہی یکساں طور پر امیر اور غریب ہیں۔ اس لئے دونوں میں تفریق نہیں ہے۔ یہاں سماجی تقسیم خطرناک نہیں ہے۔
- 6- (i) بغیر جوتوں کے صرف موزے پہن کر انعام حاصل کیا
- (ii) اسمتھ نے گلے میں کالا مفلر پہنا تھا۔
- (iii) کارلوس نے مارے گئے لوگوں کی یاد میں کالے موتیوں کی مالا پہنی تھی۔
- (iv) کالے دستانے اور بندھی ہوئی مٹھی کے ذریعے سیاہ فان کی طاقت کو دکھایا۔
- 7- (i) جب کچھ سماجی تفریق دوسرے اور مختلف پہلوؤں سے اوپر ہو کر بڑی ہو جاتی ہیں۔
- (ii) امریکہ میں سفید فام اور سیاہ فام کے بیچ کا بھار بھید بھاؤ جو سماجی بٹوارے کی خاص وجہ تھی۔

(iii) جب ایک طرح کی سماجی تفریق کی کوئی قسم دوسرے کے مقابلے میں زیادہ اہمیت اختیار کر لیتی ہے تو یہ سماجی تقسیم کا موجب بن جاتی ہے۔

8- مشترک تفریق:

- (i) اس کے تحت سماج میں ایکٹا دکھائی دیتی ہے۔
- (ii) اس میں لوگ یہ محسوس کرنے لگتے ہیں کہ وہ کسی دوسرے گروپ سے تعلق رکھتے ہیں۔
- (iii) تو اس طرح کے حالات سماج میں گہری تقسیم کا موجب ہوتے ہیں۔
- (iv) جیسے امریکہ میں سفید فام سیاہ فام

متضاد تفریق:

- (i) اس کے تحت سماج میں لوگ ایک دوسرے کے خلاف صف آرا ہونا پڑتا ہے۔
- (ii) بعض گروپ کسی قبیلہ میں مشترکہ مفادات رکھتے ہیں۔
- (iii) اس میں سماجی تقسیم کا امکان پیدا ہو جاتا ہے۔
- (iv) جیسے نیدر لینڈ مذہب اور فرقوں میں ایسا میل نہیں دکھائی دیتا

- (i) دوسری جنگ عظیم کے بعد امریکہ میں نسلی بھید بھاؤ بڑھ گیا۔
- (ii) سیاہ فام لوگوں پر مختلف قسم کی پابندیاں عائد کر دی گئیں۔

- (iii) 1980 کی دہائی میں امریکہ میں تقریباً 33% لوگ سیاہ فام 20% لوگ ہسپانوی اور 12% سیاہ فام غریب تھے
- (iv) 1950 کی دہائی میں شہری حقوق کے لیے بڑے پیمانے پر مظاہرے ہوئے۔
- (v) 1954 میں وہاں کی سپریم کورٹ لگ لیکن برابری کے اصولوں کو نا منظور کر دیا۔
- (vi) نسلی بھید بھاؤ کے خلاف مارٹن لوتھر کنگ جونیئر کی رہنمائی میں تحریک چلائی گئی۔
- (vii) 1960 کی دہائی میں قانون بنا کر اس نسلی بھید بھاؤ کا خاتمہ کر دیا گیا۔

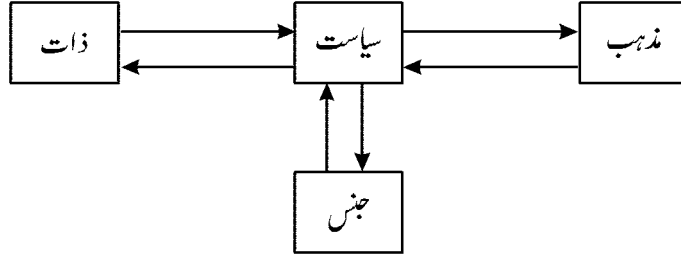
- (i) -10 اس کا مطلب یہ ہوا کہ بعض گروپ کسی مسئلہ میں مشترک مفادات رکھتے ہیں ممکن ہے کسی دوسرے مسئلہ میں بالکل مختلف دو مفاد رکھتے ہوں۔ شمالی آئر لینڈ اور نیدر لینڈ کے مسائل پر غور دیجیے۔ دونوں ملکوں میں غالب اکثریت عیسائیوں کی ہے لیکن دونوں کیتھولک اور پروٹسٹنٹ میں بٹے ہوئے ہیں۔
- (ii) شمالی آئر لینڈ میں مذہب و جماعت ایک دوسرے میں ضم ہو گئے ہیں۔
- (iii) کیتھولک اور پروٹسٹنٹ تقریباً تو مالدار ہیں یا غریب۔ دونوں میں کشمکش رہتے ہے۔ شمالی آئر لینڈ میں دونوں فریقین کے بیچ بھاری مار کاٹ چلتی رہتی ہے لیکن نیدر لینڈ میں ایسا نہیں ہے۔

باب۔ نو

جنس، مذہب اور ذات برادری

یاد رکھنے لائق نکات:

- 1- محنت کی جنسی تقسیم: کام کے بٹوارے کا وہ طریقہ جس میں گھر کے اندر کے کام عورتوں کی ذمہ داری سمجھی جاتی ہے۔
- 2- حامی مساوات نسواں: سماج کے وہ لوگ جو عورتوں اور مردوں کے یکساں حقوق اور مواقع میں یقین رکھتے ہیں۔
- 3- سویڈن، ناروے، فن لینڈ وغیرہ میں عوامی زندگی میں خواتین کی شرکت بہت زیادہ ہے۔
- 4- پدرسری: ایسا نظام جس میں عورتوں کے مقابلے مردوں کو زیادہ اہمیت اور اختیارات حاصل ہوتے ہیں۔
- 5- 2001 کی مردم شماری کے حساب سے ہندوستان میں مردوں کی خواندگی شرح 76% اور عورتوں کی خواندگی شرح 54% تھی
- 6- 2001 کی آبادی کے مطابق ہندوستان میں جنسی تناسب 927 تھا۔
- 7- لوک سبھا میں خواتین کا پارلیمنٹ میں حصہ 10% ہے جبکہ ریاستی اسمبلی میں عورتوں کا تناسب 5% سے بھی کم ہے۔
- 8- ہندوستان کے گاؤں اور شہروں کی مقامی مجالس میں 10 لاکھ سے زیادہ منتخب خواتین ہیں۔
- 9- خاندانی قوانین: شادی، طلاق، گود لینے اور وراثت جیسے خاندانی معاملات سے جڑے ہوئے قوانین۔
- 10- فرقہ پرستی: اپنے مذہب کو دوسرے مذہب سے اعلیٰ ماننے کی ذہانت کو فرقہ واریت کہتے ہیں۔
- 11- سیکولر ریاست: وہ ریاست جس میں سبھی مذہبوں کو یکساں اہمیت دی گئی ہے اور ہر شخص کو کسی بھی مذہب کو اپنانے کی آزادی ہوتی ہے اور حکومت کا اپنا کوئی مذہب نہیں ہوتا۔
- 12- بالغ حق رائے دہی: ہندوستان کے ہر شہری کو وہ چاہے امیر ہو غریب اس کی عمر 18 سال کی ہو، اسے ایک ووٹ دینے کا حق ہوتا ہے۔ یہ بالغ حق رائے دہی کہلاتا ہے۔
- 13- ذات پات: ذات کی بنا پر لوگوں میں بھید بھاؤ کرنا۔
- 14) ایک دوسرے پر سیاسی، جنس، ذات اور مذہب کو لیکر بھید بھاؤ۔



- 15- (a) مزدوری کا جنسی بٹوارا۔ عورتیں گھر کے سارے کام کرتی ہیں۔
- (b) مرد غلبہ والا سماج۔ سبھی طاقتیں مردوں کو دی جاتی ہیں۔
- (c) مقصد (ہندوستان میں کم تناسب عورتوں کا 2014 میں لوک سبھا میں تقریباً 11% رہا۔
- (d) علاقائی حکومت میں 1/3 فیصد عورتوں کا ریزرویشن۔
- (e) حامی نسواں اور دوسرے لوگ اور کئی تنظیمیں مقصد میں عورتوں کے لئے مخصوص نشستوں کی مانگ کر رہی ہیں۔

ایک نمبر والے سوالات

- 1- عورتوں اور مردوں کے یکساں حقوق اور مواقع میں یقین کرنے والے لوگوں کو کیا کہا جاتا ہے؟
- 2- ہندوستان میں عورتوں کے لیے ریزرویشن کس ادارے میں ہے؟
- 3- 2001 کی مردم شماری کے حساب سے ہندوستان کے کن ریاستوں میں جنسی تناسب 800 سے بھی کم ہے؟
- 4- علاقائی حکومت میں عورتوں کے لیے کتنے فیصد سیٹوں پر ریزرویشن دیا گیا ہے؟
- 5- جنسی تناسب کسے کہتے ہیں؟
- 6- ”مذہب کو سیاست سے کبھی بھی الگ نہیں کیا جاسکتا“۔ یہ الفاظ کس کے ہیں؟
- 7- ایک ایسے فرقے کے لوگ جو پہاڑی اور جنگلی علاقوں میں رہتے ہیں اور ان کا تعلق یا کی سماج زیادہ میل جول نہیں ہے کیا کہتے ہیں؟
- 8- اس طریقہ کار کو کیا کہتے ہیں جس میں لوگ گاؤں سے شہروں کی طرف ہجرت کرتے ہیں؟

مختصر / طویل جوابات والے سوالات (3/5 نمبر والے)

- 1- زندگی کے ان پہلوؤں کا ذکر کیجیے جن میں ہندوستان میں عورتوں کے ساتھ بھید بھاؤ ہوتا ہے۔
- 2- ذات کی بنیاد پر ہندوستان میں انتخابی نتائج طے نہیں ہو سکتے۔ وجوہات بیان کیجیے۔
- 3- ہندوستان کو ایک سیکولر ملک بنانے والے مختلف طریقے کون کون سے ہیں؟
- 4- ہندوستانی حکومت نے عورتوں کے بیچ عدم مساوات کو دور کرنے کے لئے کیا قدم اٹھائے ہیں؟
- 5- بتائیے کہ ہندوستان میں کس طرح آج بھی ذات پات کو لے کر بھید بھاؤ ہوتا ہے۔
- 6- فرقہ پرست سیاست کی مختلف اشکال کو بیان کیجیے۔
- 7- خواتین کی تحریک کسے کہتے ہیں؟ اس کی خصوصیت اور اس کے اثرات بتائیے۔
- 8- ہندوستان میں آزادی کے بعد خواتین کی پوزیشن میں کچھ سدھار آ رہا ہے لیکن ابھی بھی وہ مردوں سے کافی پیچھے؟ اس قول کی روشنی میں سمجھائیے۔
- 9- درج فہرست ذاتوں اور درج فہرست قبائل کی خصوصیات بیان کیجیے۔
- 10- ہندوستان میں عورتوں کی نمائندگی بہت کم ہے۔ وجوہات بیان کریں؟
- 11- جنسی تقسیم کا سیاسی بیان اور اس موضوع پر سیاسی حرکت میں عوامی زندگی میں خواتین نے کردار کو بہتر بنانے میں بڑی مدد کی ہے۔ وضاحت کیجیے۔
- 12- ہندوستانی مقننہ میں عورتوں کا تناسب کیا ہے؟ مقننہ میں عورتوں کی نمائندگی کو بڑھانے میں کیا کیا تدابیر کی جاسکتی ہیں؟
- 13- فرقہ واریت سیاست میں مختلف شکلیں لے سکتی ہے۔ اس قول کی وضاحت کیجیے؟
- 14- مذہب کو سیاسی سے کبھی الگ نہیں کیا جاسکتا، مہاتما گاندھی نے ایسا کیوں کہا؟
- 15- جدید سماج میں ذات اور ذات پات کے نظام کے بدلاؤ کے پیچھے کیا وجوہات ہیں۔
- 16- سیاست ذات پات کے نظام اور ذات کی پہچان کو کیسے اثر انداز کرتی ہے۔
- 17- ذات پر خاص دھیان دینے سے سیاست میں منفی نتائج کیسے آسکتے ہیں۔

ایک نمبر والے سوالوں کے جوابات

- 1- جنسی بٹارا
- 2- پنچایتی راج کے اداروں میں
- 3- پنجاب، ہریانہ، ہماچل پردیس اور گجرات
- 4- 33 فیصد
- 5- 1000 مردوں پر عورتوں کی تعداد
- 6- مہاتما گاندھی
- 7- درج فہرست قبائل
- 8- شہر کاری

3/5 نمبر والے سوالوں کے جوابات

- 1- (i) عورتوں کے اوپر گھر کی پوری ذمہ داری
(ii) مردوں کا ان پر پورا کنٹرول
(iii) آفس کے کا ماوردوسرے اداروں میں ان کی کم نمائندگی
(iv) اسقاطِ حمل
(v) عورتوں کی تعلیم کو کم اہمیت دینا
(vi) محنت کے کاموں میں نا برابر
- 2- (i) ووٹروں میں بیداری — کئی بار ووٹرز ذات پات سے اوپر اٹھ کر ووٹ دیتے ہیں۔
(ii) ووٹروں کے ذریعے اپنے معاشی فائدوں اور سیاسی پارٹیوں کو ترجیح دینا
(iii) کسی ایک حلقہ انتخاب میں کسی ایک ذات کے لوگوں کی اکثریت کا ہونا
(iv) ووٹروں کے ذریعے مختلف مدوں پر ووٹ کرنا
- 3- (i) ہندوستانی حکومت کا اپنا کوئی مذہب نہیں ہے۔
(ii) ہندوستان میں سبھی مذاہب کو برابر کا درجہ دیا گیا ہے۔

- (iii) ہر شہری کو اپنی مرضی کے مطابق کسی بھی مذہب کو اپنانے کی پوری آزادی ہے۔
 (iv) مذہب کی بنیاد پر کیے جانے والے کسی بھی فرق کو غیر آئینی قرار دیا گیا ہے۔

- 4- (i) جہیز لینا اور دینا دونوں قانوناً جرم قرار دے دیے گئے ہیں۔
 (ii) خاندان کی جائداد میں عورتوں کو برابر کے حصے کا حق دے دیا گیا ہے۔
 (iii) استقاط حمل کو قانوناً جرم قرار دیا گیا ہے۔
 (iv) ایک ہی کام کے لیے مرد اور عورت کو برابر تنخواہ دینا
 (v) لڑکیوں کی تعلیم پر خاص توجہ دینا
 (vi) بیٹی پڑھاؤ دہلیش بچاؤ جیسے پلان

فرقہ پرستی:

- (i) جب ایک مذہبی فرقہ اپنے آپ کو دوسرے مذہبی فرقہ سے اعلیٰ سمجھنے لگتا ہے تو اسے فرقہ پرستی کہتے ہیں۔
 (ii) یہ جمہوریت کی راہ میں ایک بڑی رکاوٹ پیدا کرتی ہے۔

ذات پرستی:

- (i) ذات پرستی وہ جذبہ ہے جس سے متاثر ہو کر اونچی ذات کے لوگ ادنیٰ ذات کے لوگوں کا استحصال کرتے ہیں۔
 (ii) اس سے بھی جمہوری نظام حکومت اور سماج بری طرح متاثر ہوتے ہیں۔

- 5- (i) آج بھی ہمارے ملک میں کچھ ذاتوں کے ساتھ اچھوت جیسا برتاؤ کیا جاتا ہے۔
 (ii) کچھ ذاتیں ترقی کر رہی ہیں اور کچھ ذاتیں زیادہ کچھڑی ہوئی ہیں۔
 (iii) آج بھی زیادہ تر لوگ اپنے ذات قبیلے میں شادی کرتے ہیں۔
 (iv) کچھ ذاتوں کا آج بھی استحصال ہو رہا ہے۔
 (v) چناؤ اور منتزعیوں کو بنانے میں دوسری ذاتوں کا خیال رکھنا چاہیے۔

- 6- (i) کٹر سوچ والے لوگ
 (ii) سیاست میں ایک مذہب کے لوگوں کے غلبہ کی کوشش
 (iii) فرقہ پرستی کی طرف سیاست کو لے جانا
 (iv) فرقہ وارانہ تشدد اور خون خرابہ

(v) فرقہ پرستی کو لے کر سیاسی پارٹیوں کا الگ الگ خیموں میں بٹ جانا جیسے آئر لینڈ میں نیشنلسٹ اور.....

7- عورتوں کو سیاسی، سماجی، تعلیمی اور روزگار کے مواقع مہیا کرانا اور ان کو خاندان کے اندر برابری کا درجہ دلانا۔ اس کو خواتین تحریک کہتے ہیں۔

- (i) یہ تحریک عورتوں کے لیے سیاسی حقوق اور حکومت پر ان کی پکڑ کی وکالت کرتی ہے۔
- (ii) اس تحریک میں عورتوں کو گھر کی چہار دیواری میں قید رکھنے اور گھر کے سبھی کاموں کا بوجھ ڈالنے کی مخالفت کرتی ہے
- (iii) یہ تحریک مرد پر دھان سماج کو خواتین پر دھان سماج بنانے کے لیے زور ڈالتی ہے۔
- (iv) یہ تحریک عورتوں کی تعلیم اور ملک کے دوسرے شعبوں میں ان کے کاروبار خدمات کی حمایت کرتے ہیں۔
- (v) یہ عورتوں کے ہر طرح کے استحصال کی مخالفت کرتی ہے۔

8- (i) خواندگی کی شرح: عورتوں میں خواندگی کی شرح 54% ہے جبکہ مردوں میں 76% ہے۔

(ii) اونچی تنخواہ اور اونچے پوزیشن کے عہدے میں مرد عورتوں سے بہت آگے ہیں۔

(iii) جنسی نابرابری: آج بھی 1000 مردوں پر عورتوں کی تعداد 933 ہے۔

(iv) گھریلو اور سماجی تفریق کا ظلم و شکار

(v) عوامی نمائندگی میں عورتوں کی حصہ داری بہت کم ہے۔

(vi) مردوں کے مقابلے عورتوں میں معاشی استحکام کم ہے۔

9- درج فہرست ذاتیں: جو دولت کے طور پر مانی جاتی ہیں۔ جو ہندو سماجی نظام میں اعلیٰ ذاتوں سے الگ اور اچھوت مانی جاتی تھیں

درج فہرست قبائل: ان ذاتوں کو اکثر قبائلی (آدی باسی) مانا جاتا ہے یہ عام طور پر پہاڑیوں اور جنگل میں زندگی بسر کرتے ہیں
درج فہرست ذاتوں کا 16.2% حصہ تھا۔ جبکہ 8.2% حصہ درج فہرست قبائل کا تھا۔

10- (i) ہندوستان میں عورتوں میں تعلیم کا فقدان ہونے سے سیاسی بیداری کم ہے۔

(ii) مرد امیدوار کبھی بھی عورتوں کو آگے نہیں آنے دیتے ہیں۔

(iii) ہندوستان میں سیاسی جماعتیں عورتوں کو ان کی آبادی کے تناسب میں انتخاب میں کھڑے ہونے کے لئے ٹکٹ نہیں دے رہی ہیں۔

- (i) -11 اب ہم خواتین کو سائنس دان، ڈاکٹر، انجینئر، قانون دان، منیجر، کالج اور یونیورسٹی میں استاد کی حیثیت سے دیکھ سکتے ہیں۔ اس سے پہلے تک خواتین کے لیے موزوں نہیں سمجھتے تھے۔
- (ii) دنیا کو کچھ حصوں میں مثلاً اسکینڈینیوین ممالک جیسے سویڈن، ناروے، فن لینڈ وغیرہ میں عوامی زندگی میں خواتین کی شرکت بہت زیادہ ہے۔
- (iii) ہمارے ملک میں آزادی کے بعد سے کچھ سدھار ہونے کے باوجود اب بھی خواتین مردوں کے مقابلے میں بہت پیچھے ہیں۔
- (i) -12 لوک سبھا 2014 میں عورتوں کا تناسب 11.23 رہا ہے۔
- (ii) ریاستی اسمبلی میں عورتوں کا تناسب 5% ہے۔
- (iii) مقتدہ میں عورتوں کی نمائندگی میں سدھار کے لئے عورتوں کے لئے لوک سبھا میں ریزرویشن ضروری ہے جس طرح علاقائی حکومت میں ہے۔
- (iv) جس طرح پنجایت میں 1/3 فیصد سیٹیں عورتوں کے لئے محفوظ ہیں۔
- (v) کچھ ریاستیں جہاں عورتوں کے لئے 50% سیٹیں پہلے سے ہی محفوظ ہیں وہ ہیں۔ بہار، اترکھنڈ، مدھیہ پردیش اور ہماچل پردیش۔
- (1) -13 جب کسی مذہب کا ماننے والا اپنے مذہب کو دوسرے مذاہب کے مقابلہ میں برتر تصور کرتا ہے اپنے مذہب کو اونچا مانا۔
- (2) فرقہ پرستی کا عمومی اظہار روزمرہ کے خیالات و نظریات سے جھلکتا ہے اس میں مذہبی تعصبات اور مذہبی کمیونٹی کے تنگ نظریات کا فرما ہوتے ہیں۔
- (3) فرقہ وارانہ ذہنیت رکھنے والا خود اپنے مذہبی فرقہ کے سیاسی غلبہ کی کوشش کا رجحان رکھتا ہے ایسے تمام لوگ جو اکثریتی فرقہ سے تعلق رکھتے ہیں وہ اکثریتی فرقہ کی حکومت تشکیل دینا چاہتے ہیں۔
- (4) اس تحریک کے تحت خفیہ علامتیں مذہبی قیادت جذباتی اپیل کا استعمال اور خود کا ماحول تیار کر کے ایک مذہب کے ماننے والوں کو سیاسی میدان میں متحد کیا جاتا ہے۔
- (5) انتخابی سیاست میں ایسا اکثر ہوتا ہے کہ دوسروں کے مقابلہ میں کسی ایک مذہب کے رائے دہندگان کو جذبات کی رو میں بہائے اور مفادات کا سبز باغ دکھانے کی کوشش کی جاتی ہے۔

- (6) کبھی کبھی فرقہ پرستی، فرقہ وارانہ تشدد و فسادات اور قتل عام کے چہرے کے ساتھ نمودار ہوتی ہے۔
- 14- گاندھی جی کے مطابق مذہب ہندو اسلام مذہب جسے مذہب سے متعلق نہیں تھا۔ بلکہ وہ اخلاقی اقدار تھے جو تمام مذاہب میں مشترک ہیں ان کا خیال تھا کہ مذہب سے ماخوذ اخلاقیات کے ذریعہ سیاست کی رہنمائی کی جانی چاہئے۔
- 15- جدید ہندوستان میں ذات پات اور فرقہ بندی کی وجہ سے بہت اہم تبدیلیاں رونما ہوئیں ہیں۔

(1) معاشی ترقی

(2) بڑے پیمانے پر شہروں کا وجود میں آنا

(3) خواندگی اور تعلیم میں ترقی

(4) کاروبار میں ترقی

(5) گاؤں میں زمینداروں کی پوزیشن کمزور ہونا۔

- 16- (1) ہر ایک ذات کے گروپ ذیلی ذاتوں کو اپنے اندر آگے بڑھنے کی کوشش کرتا ہے وہ فطری طور پر پیچھے رہ گئے ہیں
- (2) ایک ہی ذات اور و برادری سے تعلق رکھنے والے گروپ کے اراکین سے توقع کی جاتی تھی کہ وہ ایک ایسی کمیونٹی تشکیل دیں گے جو اپنے آبائی پیشے پر عمل پیرا رہیں گے اور دوسرے گروپ کی ذات و برادری کے اراکین کے ساتھ کھانے پینے سے پرہیز کریں گے۔

ج: 17 (1) یوں تو ذات برادری سیاست میں مختلف قسم کا کردار ادا کرتی ہیں بعض حالات میں سیاست میں ذات پات کی تفریق کا اظہار طاقت کی حصہ داری کے حصول میں محروم یا پسماندہ برادریوں کے لئے مفید ثابت ہوتا ہے۔

(2) ذات پات کی سیاست دلت اور دوسری پسماندہ ذاتوں کے لئے مددگار ثابت ہوتی ہے کیونکہ اس کے ذریعہ پارلیمنٹ تک ان کی رسائی بہتر طور پر ہو سکتی ہے۔

(3) محض ذات پات کی بنیاد پر سیاست کی شناخت جمہوریت میں بہت زیادہ مفید صحت بخش اور مستحکم علامت نہیں ہے اس کی وجہ سے غربت، ترقی اور بدعنوانی جیسے اہم مسائل سے توجہ ہٹ سکتی ہے۔ اور بہت سے معاملات میں ذات پات کی تقسیم سے کشیدگی، تنازعہ اور تشدد جیسے مسائل پیدا ہوتے ہیں۔

باب۔ دس

عوامی جدوجہد اور تحریکیں

یاد رکھنے لائق نکات:

- 1- فٹاری گروپ: فٹاری جماعتیں ایسی تنظیمیں ہیں جو حکومت کی پالیسیوں پر اثر انداز ہونے کی کوشش کرتی ہیں۔
- 2- عوامی مفادی گروہ: یہ لوگوں کے مفادات کی نمائندگی کرتے ہیں جن کا دفاع اور تحفظ لازمی ہے۔
- 3- ماؤ وادی: ماؤ نواز ایسے کمیونسٹ جو ماؤ کے نقطہ نظر میں یقین رکھتے ہیں جو چینی انقلاب کا لیڈر تھا یہ مسلح انقلاب کے ذریعہ اقتدار میں آنے کی کوشش کرتے ہیں تاکہ کسانوں اور مزدوروں کی حکومت قائم ہو سکے۔
- 4- نیپال میں جدوجہد: راجا وریندر کے ذریعے آئینی جمہوریت حکومت قائم کرنا۔
- 5- ایس۔ پی۔ اے۔ S-P-A سات جماعتی اتحاد نے حکومت کے لئے وزیراعظم کی حیثیت سے گیرجا پراساد کوائرلا کو منتخب کیا۔
- 6- بولیویا: لیٹن امریکہ کا ایک غریب ملک۔
- 7- (Fedecor) (فیڈی کور) یہ تنظیم مقامی پیشہوروں پر مشتمل تھی اور یہ تحریک اشتراکی پارٹی کی بھی حمایت کرتی تھی۔
- 8- بام کیف (Backword and Minorities Community Employers Federation) جو ایک ایسی تنظیم ہے جس میں بڑی تعداد میں سرکاری ملازمین بھی ذات پات کے امتیاز کے خلاف مہم چلاتے ہیں۔
- 9- تنظیم: کسی خاص مقصد کو حاصل کرنے کے لئے اکٹھا ہونا اور عوام کو ساتھ لیکر چلانا۔
- 10- واضح اکثریت: کل ووٹوں کے 50% فیصد سے زیادہ ووٹ حاصل کی طرف

ایک نمبر والے سوالات:-

- 1- بولیویا میں پانی کی جنگ کی کیا وجہ تھی۔
- 2- اپریل 2006 کے مہینے میں نیپال میں ایک غیر معمولی تحریک کا مظاہرہ ہوا اسکی کیا وجہ تھی؟
- 3- نیپال میں جمہوریت کب بحال ہوئی؟

- 4- ان گروہ کو کیا کہتے ہیں جو حکومت کی پالیسیوں کو اثر انداز کرتے ہیں۔
- 5- ان تنظیموں کو کیا کہتے ہیں جو اپنے مفاد کو بڑھانے کے لئے بنے ہیں؟
- 6- عوامی جدوجہد عوام کے کام کاج کا ایک اہم حصہ ہے کسی ایک عوامی جدوجہد کی مثال دیجئے۔
- 7- عوامی جدوجہد کی ایک خوبی بتاؤ۔
- 8- عوامی مفادی گروہ کی ایک مثال دیجئے۔
- 9- فیڈوکور (FEDECOR) کیا ہے
- 10- نیپال کی جمہوری تحریک اور یولیویا کی پانی کی جنگ کے بیچ کیا مناسبت تھی؟

3/5 نمبر والے سوالات:-

- 1- فشاری گروپ اور سیاسی جماعتوں میں کیا فرق ہے؟
- 2- فشاری گروپ کیا ہے۔ مثال دیکر بتاؤ؟
- 3- مفادی گروہ کے تین کام بتاؤ۔
- 4- نیپالی اور یولیویا کی جدوجہد کی دو برابری اور دو نا برابری والی باتیں بتاؤ۔
- 5- انتخابی منشور کیا ہوتا ہے اس کی اہمیت بتائیے؟
- 6- فشاری گروہ سیاست پر کس طرح اثر انداز ہوتے ہیں؟
- 7- درج ذیل کی تعریف لکھئے۔

(a) FEDECOR فیڈوکور

(b) حلقہ انتخاب

(c) بالغ حق رائے دہندگی

(d) ضابطہ اخلاق (Code of Conduct)

ایک نمبر والے سوالوں کے جوابات

- 1- بولیویا میں پانی کی نجی کاری کے خلاف
- 2- جمہوری نظام حکومت قائم کرنا
- 3- 1990
- 4- فشاری گروپ
- 5- مفادی گروہ
- 6- بولیویا میں پانی کی نجی کاری کے خلاف عوامی جدوجہود
- 7- اس کی ایک کمزور تنظیم ہوتی ہے
- 8- بام کیف (B.M.C.E.F)
- 9- اس تنظیم میں وکیل، ڈاکٹر اور انجینئر مزدور، ملازمین، تجارت کار صنعت کار وغیرہ سبھی شامل تھے۔
- 10- عوامی جدوجہد کی کامیابی

3/5 نمبر والے سوالوں کے جوابات

- فشاری گروپ
- 1- یہ حکومت میں سیدھے حصہ دار نہیں ہوتے۔
 - 2- ان کی تنظیم ڈھیلی ڈھالی ہوتی ہے۔
 - 3- اس کا اثر محدود ہوتا ہے۔
 - 4- ان کا مقصد کم وقت والا ہوتا ہے

سیاسی جماعتیں:-

- 1- یہ حکومت میں براہ راست حصہ دار ہوتے ہیں۔
- 2- یہ پوری طرح منظم ہوتے ہیں۔
- 3- ان کا پھیلاؤ قومی اور سطحی طور پر ہوتا ہے

4- ان کا مقصد لمبے عرصے تک حکومت کرنا ہوتا ہے۔

2- فٹاری جماعتیں لوگوں کا ایک ایسا گروہ جو حکومت کی پالیسیوں کو اثر انداز کرنے میں اپنے مقصد کو پورا کرتا ہے۔

(a) کسان تنظیم:- اھل بھارتیہ کسان یونین

(b) انجمن اساتذہ:- اھل بھارتیہ اساتذہ انجمن

(c) طلباء تنظیم:- A.B.V.B اھل بھارتیہ ودیارتھی پریشد

(d) تجاری انجمنیں:- اھل بھارتیہ تجارتی تنظیم

3- عوامی مفادی گروہ کے کام

(1) عوام کو ساتھ لیکر چلنا

(2) ہڑتالوں اور مظاہروں کو کرنا

(3) الیکشن کے دوران سیاسی جماعتوں کی حمایت حاصل کرنا

4 برابری:-

(1) یہ دونوں جمہوری تحریک تھیں۔

(1) یہ دونوں جدوجہد میں کامیاب رہیں۔

(1) یہ دونوں پوری دنیا میں جمہوریت کی کامیابی کی مثال بنیں

(1) یہ دونوں سیاسی جدوجہد کی مثال بنیں۔

نا برابری:-

(1) نیپال کی تحریک ملک کی سیاست سے متعلق تھی۔

(2) یولیویا کی جدوجہد پانی کی نجی کاری کے خلاف تھی۔

5- اس میں تمام سیاسی جماعتیں اپنے اپنے پروگرام اور پالیسیوں کا ذکر کرتے ہیں کہ اگر ہم الیکشن جیت گئے اور ہماری پارٹی حکومت میں آئی تو یہ کام کریں گے۔

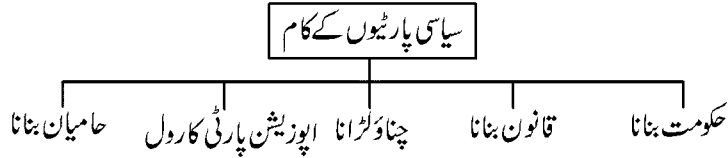
- اہمیت :- (1) اس کے ذریعہ کسی بھی جماعت کی اندرونی اور باہری پالیسیوں کا پتہ چل جاتا ہے۔
- (2) چناؤ کے بعد کئے جانے والے کاموں کی جانکاری مل جاتی ہے۔
- (3) اس میں ذکر کئے گئے کاموں کو پورا نہ کرنے پر عوام حکومت پر دباؤ ڈالتی ہے۔
- 6- (1) فشاری گروپ کے لوگوں الیکشن نہیں لڑتے مگر بالواسطہ طور چناؤ پر اثر انداز ہوتے ہیں۔
- (2) وہ بالواسطہ امیدواروں کی مدد کرتے ہیں۔
- (3) یہ حکومت پر دباؤ ڈالنے کے لئے دھرنے، مظاہرے، ہڑتال، جیسی احتجاجی سرگرمیوں کا اہتمام کرتی ہیں۔
- (4) یہ اپنے کاموں کو کرنے کے لئے عوام کی حمایت اور اس کی ہمدردی حاصل کرنے کی کوشش کرتی ہیں۔
- (5) یہ لوگوں کو حقائق سے باخبر کرنے کے لئے مہم چلا کر اجلاس کا اہتمام کر کے اور مفاد عامہ میں مقدمہ دائر کر کے اپنی سرگرمیوں اور مقاصد کے تئیں عوامی ہمدردی حاصل کرنے کی کوشش کرتی ہیں۔
- 7- (a) یہ تنظیم مقامی پیشہ وروں پر مشتمل تھی جس میں انجینئرز اور حامی ماحولیات وغیرہ شامل تھے۔
- (b) حلقہ انتخاب :- اس حلقہ میں ووٹر اپنے ایک نمائندے کو چنتا ہے۔
- (c) نابالغ حق رائے دہنگی :- 18 سال یہ اس سے زیادہ ہندوستان کے ہر شہری کو ایک ووٹ دینے کا حق (ضابطہ اخلاق)
- (d) الیکشن کے وقت غلط طریقہ استعمال کر کے اور ووٹر کو اثر انداز کرنے پر کسی بھی ممبر کے ذریعہ عدالت میں چناؤ درخواست پیش کی جاتی ہے جس کی عدلیہ جانچ کرتا ہے۔

باب۔ گیارہ

سیاسی جماعتیں

یاد رکھنے لائق نکات:

- (1) سیاسی جماعت کے معنی:۔ سیاسی جماعت کو لوگوں کے ایک ایسے منظم گروہ کی شکل میں سمجھا جاسکتا ہے جو انتخاب میں حصہ لینے اور حکومت و اقتدار حاصل کرنے کے مقصد سے کام کرتا ہے۔
- (2) ایک سیاسی جماعت کے تین اجزائے ترکیبی ہوتے ہیں۔
 - (1) قائدین
 - (2) سرگرم اراکین
 - (3) حامیان



سیاسی جماعتوں کی ضرورت:-

- (1) بنیادی طور پر سیاسی جماعتیں سیاسی عہدوں کو بھرتی ہیں اور سیاسی اختیارات کا استعمال کرتی ہیں۔
- (2) سیاسی جماعتیں مختلف پالیسیوں اور پروگرام کو رائے دہندگان کے سامنے پیش کرتی ہیں اور رائے دہندگان اپنی پسند کی پالیسیوں اور پروگراموں کو منتخب کرتے ہیں۔
- (3) سیاسی جماعتیں کسی بھی ملک کی قانون سازی میں فیصلہ کن کردار ادا کرتی ہیں تو ان میں پررسی بحث ہوتی ہے اور انھیں مقننہ میں پاس کرایا جاتا ہے۔
- (4) وہ جماعتیں جو انتخابات میں ہار جاتی ہیں حکمراں جماعت کے مقابلے میں مختلف نقطہ نظریہ پیش کر کے حزب اختلاف کا کردار ادا کرتی ہیں اور حکومت کی ناکامی یا غلط پالیسیوں پر تنقید کرتی ہیں مخالف پارٹی کہلاتی ہیں۔

قومی پارٹیاں اور علاقائی پارٹیاں :-

- (1) وہ سیاسی جماعت جو صوبائی اسمبلی کی مجلس قانون ساز کے انتخاب میں مجموعی ووٹوں کا 6% ووٹ حاصل کرے اور کم از کم دو نشستیں حاصل کرے تو وہ صوبائی (علاقائی) جماعت کی حیثیت سے الیکشن کمیشن کے ذریعے منظوری حاصل کر لیتی ہے۔
- (2) وہ جماعت جو لوک سبھا انتخابات یا چار صوبوں کے اسمبلی انتخابات میں مجموعی ووٹوں کا 6 فیصد ووٹ حاصل کرے اور لوک سبھا کی کم از کم چار نشستیں حاصل کرے تو وہ قومی جماعت کی حیثیت سے منظور کر لی جاتی ہے۔

جماعتی نظام

کچھ ملکوں میں صرف ایک ہی جماعت کو چلانے کی اجازت ہے اس وجہ سے انہیں ایک جماعتی نظام حکومت کہا جاتا ہے جیسے چین میں کمیونسٹ۔

کچھ ملکوں میں اقتدار عام طور پر دو بڑی جماعتوں کے مابین بدل ہوتا رہتا ہے اس طرح کے نظام کو دو جماعتی نظام کہتے ہیں امریکہ اور انگلینڈ دو جماعتی نظام کی مثالیں ہیں۔

اگر دو یا دو سے زیادہ جماعتوں کو خواہ اپنے بل پر یا دوسری جماعتوں کے ساتھ اتحاد کے ذریعے اقتدار میں آنے کا موقع حاصل ہو تو اسے کثیر جماعتی نظام کہتے ہیں اور فرانس میں اسی قسم کا نظام ہے۔

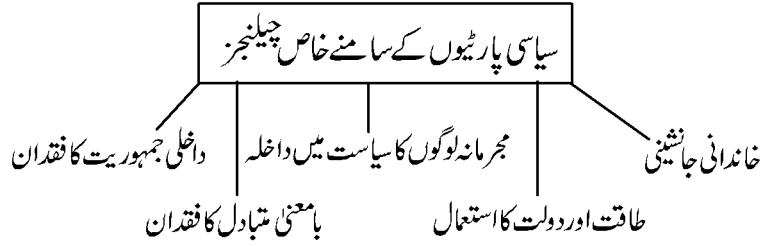
ہندوستان کی خاص خاص علاقائی پارٹیاں (جماعتیں)

ریاست	علاقائی جماعتیں
جموں و کشمیر	جموں کشمیر نیشنل کانفرنس، جموں و کشمیر نیشنل پتھر پارٹی اور P.D.P وغیرہ
اتراکھنڈ	اتراکھنڈ کرائی ڈل
پنجاب	شری فی اکالی دل
ہریانہ	انڈین نیشنل لوک دل۔ ہریانہ وکاس پارٹی
مہاراشٹر	شیو سینا
گوا	مہاراشٹر وادی گومتک پارٹی، یونائیٹڈ گوا پارٹی
کرناٹک	جنٹل سیکولر
کیرل	کیرل کانگریس، انڈین فیڈرل ڈیموکریٹک پارٹی
تامل ناڈو	ڈی ایم کے۔ اے۔ ڈی ایم کے
آندھرا پردیش	تیلگو دیشم، وائی ایس آر کانگریس

تلنگانہ راشٹری سمیتی	تلنگانہ
بیبو جنتا دل	اڑیشہ
جھارکھنڈ کی مورچہ	جھارکھنڈ
فارورڈ بلاک، ترنمول کانگریس	مغربی بنگال
Indijinus National Party of Trepura	تری پورہ
M.N.F. میوزیشنل فرنٹ	میزورم
منی پور Pupils پارٹی	منی پور
ناگالینڈ Pupils پارٹی	ناگالینڈ
ارونا چل پردیش	ارونا چل پردیش
آسام گن پریشنڈ۔ آسام یونائٹڈ ڈیموکریٹک فرنٹ	آسام
سکم ڈیموکریٹک فرنٹ	سکم
لوک جن شکتی پارٹی۔ جنتا دل یو اور راشٹریہ جنتا دل	بہار
سماج وادی پارٹی۔ راشٹریہ لوک دل	اتر پردیش
عام آدمی پارٹی	دہلی

کچھ دلچسپ حقیقت:-

- (1) آزادی کے بعد ہندوستان میں پہلا عام چناؤ 52-1951 میں ہوا۔
- (2) پنڈت جواہر لعل نہرو ہندوستان کے پہلے وزیر اعظم بنے۔
- (3) یومیش چندر بنرجی انڈین نیشنل کانگریس کے پہلے صدر بنے۔
- (4) شیاما پرساد کھرجی نے 1980 میں بھارتیہ جنتا پارٹی کی بنیاد رکھی۔
- (5) کانسی رام نے 1984 میں بہوجن سماج پارٹی کی بنیاد رکھی۔
- (1) 1985 میں راجیو گاندھی نے دل بدل قانون پاس کروایا۔



سیاسی جماعتوں میں سدھار کے لئے کی گئی اصطلاحات:-

- (1) دل بدل قانون کو سختی سے لاگو کیا جائے۔
- (2) جرائم پیشہ ور لوگوں کا سیاست میں داخلہ نہ ہونے دینا۔
- (3) سیاسی پارٹیوں کا وقت و وقت پران کی پالیسیاں اور پروگرام ٹھیک کئے جائیں۔
- (4) چند بڑے لیڈر کو پارٹی کے نام پر فیصلہ کرنے کے اختیار نہ ہوں۔
- (5) عورتوں کی حصہ داری بھی ہو۔
- (6) الیکشن کا خرچ حکومت اٹھائے۔

ایک نمبر والے سوالات:-

- س:-1- درج ذیل میں سے کون سی ایک قومی پارٹی نہیں ہے۔
- (1) انڈین نیشنل کانگریس (2) بھارتیہ جنتا پارٹی
 - (3) بہوجن سماج پارٹی (4) راشٹریہ جنتا دل
- س:-2- درج ذیل میں سے کونسی ایک علاقائی پارٹی نہیں ہے۔
- (1) بھارتیہ جنتا پارٹی (2) راشٹریہ جنتا پارٹی
 - (3) سماج وادی پارٹی (4) عام آدمی پارٹی
- س:-3- کانٹھی رام نے کس سیاسی پارٹی کی بنیاد 1984 میں ڈالی۔
- (1) انڈین نیشنل کانگریس (2) بہوجن سماج پارٹی
 - (3) بھارتیہ جنتا پارٹی (4) راشٹریہ جنتا پارٹی

س:-4۔ انڈین نیشنل کانگریس کا چناؤ نشان کیا ہے۔

- (1) مکمل کا پھول
(2) ہاتھی
(3) ہاتھ کا پنچہ
(4) لائین

س:-5۔ بھارتیہ جنتا دل کا چناؤ نشان کیا ہے۔

- (1) مکمل کا پھول
(2) سائیکل
(3) ہاتھ کا پنچہ
(4) لائین

س:-6۔ راشٹریہ وادی کانگریس کا چناؤ نشان کیا ہے۔

- (1) ٹیبل گھڑی
(2) مکمل کا پھول
(3) سائیکل
(4) تیرکمان

س:-7۔ ہندوستان میں کس طرح پر الیکشن بغیر سیاسی پارٹیوں کے لڑے جاتے ہیں۔

- (1) لوک سبھا کی سطح پر
(2) راجیہ سبھا کی سطح پر
(3) صوبائی سطح پر
(4) پنچایتی سطح پر

س:-8۔ حکمراں جماعت سے آپ کیا سمجھتے ہیں؟

س:-9۔ کونسا پارٹی نظام جمہوریت کے لئے اچھا نہیں مانا جاتا ہے؟

س:-10۔ دل بدل سے آپ کیا سمجھتے ہیں؟

جوابات:-

(1) راشٹریہ جنتا دل

(2) بھارتیہ جنتا پارٹی

(3) بہوجن سماج پارٹی

(4) ہاتھ کا پنچہ

(5) مکمل کا پھول

(6) ٹیبل گھڑی

(7) پنچایتی سطح پر

- (8) جس پارٹی کی حکومت ہوتی ہے اسے حکمراں پارٹی کہتے ہیں
- (9) ایک پارٹی نظام
- (10) M.P یا M.L.A کا کسی پارٹی سے جیت کر دوسری پارٹی میں چلنے جانا دل بدلنا کہتے ہیں۔

3/5 نمبر والے سوالات:-

- س1:- سیاسی جماعتوں کے کام کے بارے میں بتائے۔
- س2:- کسی جماعت کو صوبائی یا قومی جماعت کا درجہ حاصل کرنے کے لئے کیا کرنا چاہئے؟
- س3:- مختلف قسم کے جماعتی نظام کا ذکر کیجئے۔
- س4:- حال ہی میں سیاسی جماعتوں کے سامنے آئے چیلنجز کا ذکر کیجئے؟
- س5:- انڈین نیشنل کانگریس کے پروگرام اور پالیسیوں کا تذکرہ کیجئے؟
- س6:- بھارتیہ جنتا پارٹی کے پروگرام اور پالیسیوں کا تذکرہ کیجئے؟
- س7:- بہوجن سماج پارٹی کے پروگرام اور پالیسیوں کا تذکرہ کیجئے۔
- س8:- سیاسی جماعتیں جمہوریت کے لئے ضروری تبصرہ کیجئے۔
- س9:- جمہوری نظام حکومت میں مخالف جماعتوں کے رول پر تبصرہ کیجئے۔
- س10:- ملی جلی حکومت سے آپ کیا سمجھتے ہیں؟ ہندوستانی جمہوریت میں ملی جلی (Colation) حکومت کے رول پر تبصرہ کیجئے۔
- س11:- عام آدمی کس طرح سیاسی جماعتوں میں سدھار لاسکتے ہیں۔

جوابات:-

- ج1:- یاد رکھنے لائق باتیں دیکھیں
- ج2:- یاد رکھنے لائق باتیں دیکھیں
- ج3:- یاد رکھنے لائق باتیں دیکھیں
- ج4:- یاد رکھنے لائق باتیں دیکھیں
- ج5:- یاد رکھنے لائق باتیں دیکھیں
- ج6:- یاد رکھنے لائق باتیں دیکھیں
- ج7:- یاد رکھنے لائق باتیں دیکھیں

ج8:- یاد رکھنے لائق باتیں دیکھیں

ج9:- جمہوریت میں مخالف پارٹی کا کردار بہت ضروری ہے۔

(1) یہ حکمراں پارٹی کی پالیسیوں پر نظر رکھتا ہے۔

(2) یہ حکمراں پارٹی کی غلط پالیسیوں پر سوال اٹھاتا ہے۔

(3) اور حکومت کو صحیح ڈھنگ سے چلانے میں صحیح رول ادا کرتا ہے۔

ج10:- جب الیکشن میں کسی بھی پارٹی کو واضح اکثریت نہیں مل پاتی تو دو یا دو سے زیادہ سیاسی پارٹیاں مل کر حکومت چلاتے ہیں اسے

ملی جلی حکومت کہتے ہیں ہندوستان 1989 سے لیکر 2014 تک ملی جلی حکومت رہی ہے۔ ملی جلی حکومت میں علاقائی پارٹیوں

کا اہم رول ہوتا ہے اس سے جمہوریت اور مضبوط ہوتی ہے۔

(2) ملی جلی حکومت کی وجہ سے قومی پارٹیاں علاقائی پارٹیوں کو نظر انداز نہیں کر پاتی۔

(3) مرکزی حکومت کو کسبھی علاقوں کی ترقی کا دھیان دینا ہوگا۔

ج11:- کچھ تجاویز:-

(1) عام جتنا کو بڑھاوا کر

(2) سیاسی پارٹیوں پر دباؤ بنا کر

(3) مجرمانہ ریکارڈ والے امیدوار کو ہرا کر

(3) ایماندار اور صاف نیت والے امیدوار کو جتا کر۔

مشقی سوالات:-

س:-1- ہندوستان میں کثیر پارٹی نظام کیوں ہے؟

س:-2- علاقائی پارٹیوں سے آپ کیا سمجھتے ہیں؟ کسی پارٹی کا علاقائی درجہ حاصل کرنے کے لئے کیا شرائط ہیں۔

س:-3- ہندوستان میں علاقائی پارٹیوں کے ابھرنے سے وفاقی نظام اور جمہوریت مضبوط ہوتی ہے؟ کیا آپ اس بات سے متفق

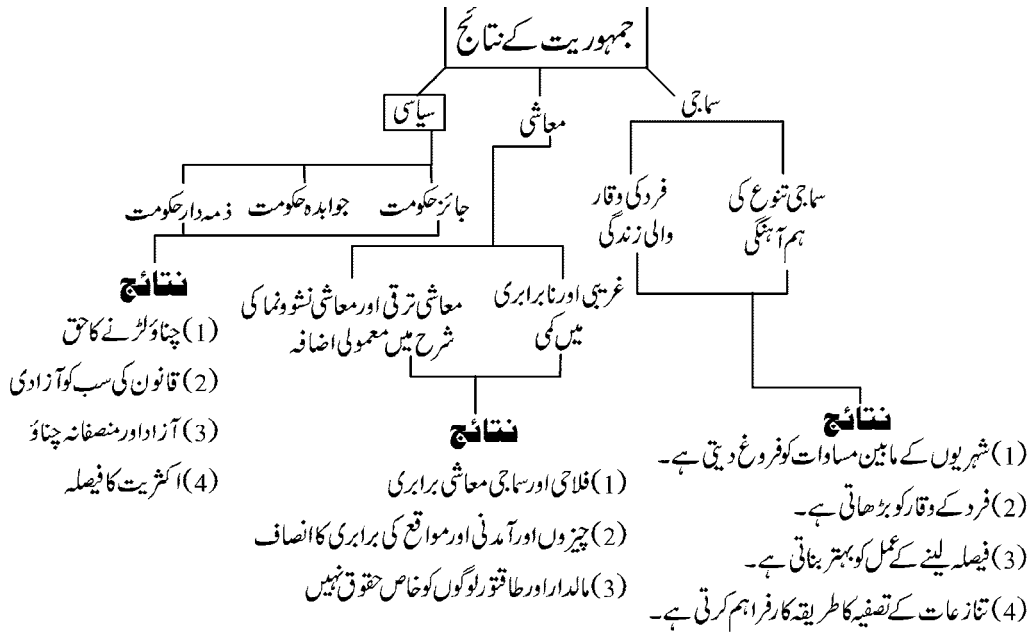
ہیں؟ تجزیہ کیجئے۔

س:-4- تامل ناڈو کنہیں دو علاقائی پارٹیوں کے نام ان کے نشان کے ساتھ لکھئے۔

س:-5- بہار کی کنہیں دو علاقائی پارٹیوں کے نام لکھئے۔

باب۔ بارہ

جمہوریت کے نتائج



یاد رکھنے لائق نکات

- 1- آج دنیا کے سو سے زیادہ ممالک کسی نہ کسی طرح کے جمہوری نظام کو چلانے کا دعویٰ کرتے ہیں۔ ان کا باقاعدہ ایک دستور ہے، ان کے یہاں انتخابات ہوتے ہیں اور سیاسی جماعتیں بھی ہیں۔ ساتھ ہی وہ اپنے شہریوں کے کچھ بنیادی حقوق کی ضمانت بھی دیتے ہیں۔
- 2- جمہوریت یہ یقین دلاتی ہے کہ فیصلہ لینے کا عمل اصول و ضوابط کے مطابق ہوگا۔
- 3- اگر کوئی شہری یہ جاننا چاہتا ہے کہ آیا فیصلہ صحیح ضابطہ کے مطابق لیا گیا ہے تو وہ اس کے بارے میں معلومات حاصل کر سکتا ہے۔ اسے اس سلسلے میں نہ صرف معلومات حاصل کرنے کا حق ہے بلکہ اس کے پاس اس کے ذرائع بھی موجود ہیں۔ اسے شفافیت کہتے ہیں۔

- 4- جمہوری حکومت یقیناً اپنی متبادل حکومتوں سے بہتر ہے۔ جمہوری حکومت قوانین کی رو سے جائز حکومت ہے۔ ایک جمہوری حکومت عوام کی اپنی حکومت ہوتی ہے۔ یہی وجہ ہے کہ پوری دنیا میں جمہوری حکومت کے خیال کی ہمہ جہت حمایت کی جاتی ہے جمہوریتیں سیاسی مساوات پر مبنی ہیں۔ نمائندوں کے انتخاب میں تمام افراد کی حیثیت برابر ہے۔
- 5- تانا شاہی کی حمایت کرنے والے لے نظریہ کو مطلق العنانیت کہتے ہیں۔
- 6- جنسی نابرابری، ذات پات اور فرقہ پرستی جیسی باتیں سماج میں نابرابری کی مثالیں ہیں۔
- 7- قانون کی حکومت سے مراد ہے کہ ایک ملک کے آئین کے تین وفاداری کے ساتھ حکومت چلائے۔

ایک نمبر والے سوالات

س:- 1:- خالی جگہوں کو پر کرو

جمہوریت فرد کی..... کو بڑھا دیتی ہے۔

(2) درج ذیل کا صحیح ملا کرو۔

(نشانیوں)

- (i) آزاد اور غیر جانبدار الیکشن — تانا شاہی
- (ii) کھلی بحث پر روک — جمہوریت
- (iii) جائز حکومت — تانا شاہی
- (iv) شہریوں کی بدتر حالت — جمہوریت

(3) جملوں کو سیاسی اعتبار سے صحیح کر کے لکھو۔

جمہوری حکومت ایک تانا شاہی حکومت ہوتے ہیں۔

س:- 4:- درج ذیل میں سے کونسی قسم کی حکومت میں شہریوں کو سماجی برابری حاصل ہوتی ہے

(i) سلطنت

(ii) تانا شاہی

(iii) جمہوریت

(iv) اقلیت

س 5:- دیئے گئے جملے کے آگے صحیح اور غلط کا نشان لگائیے۔

(A) جمہوریت میں غلطیوں کو سدھارنے کا موقع ہوتا ہے (O)

(B) جمہوریت سماجی نگرار کو بڑھانے میں مدد کرتی ہے (O)

(C) جمہوریت نظام حکومت خاص طور سے دوسرے نظام حکومت سے بہتر ہے (O)

(D) معلومات حاصل کرنے کا حق (R.T.I) کے ذریعے حکومت کے بارے میں بھی جانکاری حاصل کی جاسکتی ہے۔ (O)

6- جمہوریت کی تعریف لکھیے۔

7- تانا شاہی کی حمایت کرنے والے خیالات کو..... کہتے ہیں؟

8- جمہوری حکومت اچھی حکومت ہے کیوں؟

9- کس قسم کی حکومت سب سے بہتر مانی جاتی ہے؟

10- شہری آزادی کیا ہے؟

11- سماجی نابرابری کی کوئی ایک شکل لکھیے۔

12- اکثریتی حکومت سے آپ کیا سمجھتے ہیں؟

13- ایک جماعت کی حکومت کا کیا مطلب ہوتا ہے؟

مختصر / طویل جواب والے سوالات (3/5 نمبر)

1- جمہوریت کی خصوصیات بتائیے۔

2- جمہوری نظام کو آمریت سے بہتر کیوں مانا جاتا ہے؟

3- جمہوریت کے سماجی نتائج بیان کیجیے۔

4- جمہوریت کس طرح ایک قانونی طور پر جائز حکومت کو جنم دیتی ہے؟

- 5- جمہوریت کس طرح شہریوں کے مابین پرامن اور ہم آہنگ زندگی کی رہنمائی کرتی ہے؟
- 6- جمہوریت شہریوں کے وقار کو کس طرح بنائے رکھتی ہے؟
- 7- شکایات کس طرح جمہوریت کو کامیاب بنانے میں مدد کرتی ہیں؟
- 8- جمہوریت کے اصولوں کو زندگی کے سبھی شعبوں میں کس طرح نافذ کیا جاسکتا ہے؟
- 9- تانا شاہی حکومت کے مقابلے میں جمہوری حکومت کی خامیاں بتائیے۔

ایک نمبر والے سوالوں کے جوابات

- ج (1) فرد کا وقار
- ج (2) (i) آزاد اور منصفانہ الیکشن۔ جمہوریت
(ii) کھلی بحث پر روک۔ تانا شاہی
(iii) جائز حکومت۔ جمہوریت
(iv) شہریوں کی بدتر حالت۔ تانا شاہی
- ج (3) جمہوریت حکومت ایک جوابدہ ذمہ دار حکومت ہوتی ہے۔
- ج (4) (iii) جمہوریت
- ج (5)
- (A) صحیح
- (B) غلط
- (C) صحیح
- (D) غلط
- (E) غلط
- 6- ایسی حکومت جو عوام کے ذریعے چنی جائے، عوام کے ذریعے چلائی جائے اور عوام کے سامنے جوابدہ ہو

- 7- مطلق العنانیت/ آمرانہ حکومت
- 8- یہ شہریوں کو برابری کا حق دیتا ہے
- 9- جمہوری نظام حکومت
- 10- چھ قسم کی آزادیوں میں سے کوئی ایک۔ شہریوں کے بنیادی حقوق جن کی حفاظت قانون کرتا ہے۔
- 11- جنسی بھید بھاؤ یا ذات پات پر مبنی بھید بھاؤ
- 12- اکثریت کی حمایت ہونا
- 13- تانا شاہی یا ایک پارٹی کا نظام حکومت

3/5 نمبر والے سوالوں کے جوابات

- 1- — شہریوں کے مابین مساوات کو فروغ دیتی ہے
- فرد کے وقار کو بڑھاتی ہے
- فیصلہ لینے کے عمل کو بہتر بناتی ہے
- غلطیوں کی اصلاح کرنے کی گنجائش پیدا کرتی ہے
- 2- — جمہوریت میں آزادانہ اور منصفانہ انتخابات ہوتے ہیں
- جمہوریت میں پارلیسیوں اور فیصلوں پر کھلی بحث ہوتی ہے
- جمہوری حکومت قانونی طور پر جائز ہوتی ہے
- جمہوریت میں شہریوں کی حالت بہتر ہوتی ہے
- 3- — جمہوری نظام ہم آہنگ زندگی فراہم کرتا ہے
- اس میں سماجی اختلافات کا امکان کم رہتا ہے
- فرد کا وقار اور آزادی جمہوری نظام کی بنیاد ہے
- جمہوریت میں سماج کے کمزور طبقوں کو مساوی حیثیت فراہم کرنے کی وکالت کی جاتی ہے
- 4- — جمہوری حکومت ایک جواب دہ حکومت ہے

- شہریوں کو فیصلہ لینے کے عمل کی جانچ کرنے کے حقوق اور ذرائع دستیاب ہوتے ہیں
- جمہوریت ایک ذمہ دار نظام حکومت ہے۔ یہ شہریوں کے خیالات/ نظریات اور توقعات کا دھیان رکھتی ہے
- جمہوری حکومت قانونی طور پر جائز حکومت ہے کیونکہ عوام ہر پانچ سال میں اپنی حکومت کا انتخاب خود کرتے ہیں
- 5- ہر شہری کو ووٹ ڈالنے اور انتخابات لڑنے کا حق حاصل ہے
- یہ شہریوں کو سماجی مساوات فراہم کرتی ہے
- جمہوریت اختلافات اور تنازعات کو ختم کرنے میں مدد کرتی ہے
- جمہوریت میں اکثریت کو ہمیشہ اقلیت کے ساتھ کام کرنے کی ضرورت ہوتی ہے تاکہ حکومت سبھی کی خواہشات کی نمائندگی کر سکے
- 6- جمہوریت آزادی اور تکریم و توقیر کا احساس پیدا کرتی ہے
- جمہوریت میں سبھی شہریوں کے ساتھ ایک جیسا برتاؤ کیا جاتا ہے
- جمہوریت میں خواتین کو مردوں کے مساوی حقوق حاصل ہیں
- جمہوریت میں ذات پر مبنی عدم مساوات اور ظلم و تشدد کی کوئی اخلاقی اور قانونی بنیاد نہیں ہے
- 7- کافی عرصہ سے خواتین کو یکساں حقوق، انصاف اور آزادی سے محروم رکھا گیا تھا مگر جمہوریت نے سبھی حقوق کو یقینی بنایا ہے
- سماج کے کمزور طبقوں کے لیے خصوصی بندوبست کرنا
- مناسب نمائندگی فراہم کرنے کی وجہ سے مختلف نسلی گروہوں کے درمیان تنازعات کو کم کرنے میں مدد ملی ہے۔
- اختلافات کو دور کرنے کے لیے جمہوریت آئینی طریقہ کار فراہم کرتی ہے
- 8- کسی جمہوری فیصلہ میں ان سبھی لوگوں کی آرا اور خیالات کو شامل کرنے کا عمل شامل ہے جو اس فیصلہ سے متاثر ہو سکتے ہیں۔
- سبھی لوگوں کو فیصلہ سازی کے عمل میں حصہ لینے کا مساوی حق حاصل ہے۔
- کسی بھی دولت مند یا بااثر شخص کو خصوصی حق حاصل نہیں ہیں۔
- 9- تانا شاہی کے مقابلے میں جمہوریت میں فیصلہ لینے میں کچھ وقت لگتا ہے کیونکہ تانا شاہی میں فیصلہ جلدی کیا جاتا ہے
- تانا شاہی کے مقابلے میں جمہوری حکومت زیادہ خرچہ لگاتا ہے کیونکہ یہاں طے شدہ وقت کے بعد الیکشن ہوتے ہیں
- جمہوریت میں الیکشن جیتنے کے لیے روپیہ پانی کی طرح بہایا جاتا ہے جبکہ تانا شاہی حکومت میں ایسا نہیں ہوتا

باب۔ تیرہ

جمہوریت کو درپیش چیلنج

یاد رکھنے لائق نکات

- 1- عام طور پر ان مشکلات کو چیلنج کہا جاتا ہے جو اہم ہوں اور ان پر قابو پایا جاسکے۔
- 2- بہت سی مستحکم جمہوریتیں توسیع کے چیلنج کا سامنا کر رہی ہیں۔
- 3- انہیں جمہوری حکومت کے بنیادی اصولوں کو تمام علاقوں، مختلف سماجی گروپوں اور مختلف اداروں پر نافذ کرنا پیچیدہ اور مشکل نظر آتا ہے۔
- 4- دنیا کے ایک چوتھائی حصے میں ابھی بھی حکومتوں کا نظام جمہوری نہیں ہے۔
- 5- جمہوریت ایک ایسی طرز حکومت ہے جہاں حکومت عوام کے ذریعے چنی جاتی ہے

ایک نمبر والے سوالات

- 1- کسی بھی جمہوری نظام کو درپیش مسئلہ کیا کہلاتا ہے؟
- 2- ہر جمہوریت کے سامنیوں سے چیلنج ہوتے ہیں؟
- 3- لوگوں کو سیاسی اصلاحات نافذ کرنے میں باختیار بنانے والا کون سا قانون سب سے بہتر ہے؟
- 4- سیاسی سدھار کسے کہتے ہیں؟

مختصر / طویل جواب والے سوالات (3/5 نمبر)

- 1- جمہوریت کو درپیش چیلنجز پر ہم کس طرح قابو پاسکتے ہیں؟ سمجھائیے۔
- 2- جمہوریت کے بنیادی چیلنجز کون کون سے ہیں؟
- 3- جمہوریت کو کس طرح مضبوط کیا جاسکتا ہے؟ وجوہات بتائیے۔
- 4- ایک اچھی جمہوریت کی خصوصیات بتائیے۔

- 5- شکایتوں کو جمہوریت کی کامیابی کی کنجی کس طرح مانا جاتا ہے؟ تین حقائق کی مدد سے وضاحت کیجیے۔
- 6- ہندوستانی جمہوریت کے سامنے کونسے کونسے چیلنجز ہیں؟
- 7- نیچے دیے گئے بیانات میں جمہوریت کے چیلنجز کی پہچان کریں اور یہ حالات کس طرح شہریوں کی آزادی کی حفاظت اور امن و امان کی زندگی کے لیے چیلنجز پیش کرتے ہیں؟ اور جمہوریت کو مضبوط بنانے کے لیے کچھ تجاویز دیجیے۔
- (i) ہائی کورٹ کے حکم کے بعد اڑیسہ میں دلتوں اور غیر دلتوں کے داخلے کے لیے الگ الگ دروازے رکھنے والے ایک مندر کو ایک ہی دروازے سے سب کو داخلے کی اجازت دینی پڑی۔
- (ii) ہندوستان کی مختلف ریاستوں میں بڑی تعداد میں کسان خودکشی کر رہے ہیں۔
- (iii) جموں کشمیر میں گنڈوار میں مڈبھیڑ بنا کر جموں و کشمیر پولس کے ذریعے تین عام شہریوں کو مار دیا گیا حادثے کو دیکھتے ہوئے اس حادثے کی جانچ کے حکم دیئے گئے۔
- 8- کیا آپ سوچ سکتے ہیں کہ حکومت کیسے آپ کے اور آپ کے خاندان کے بارے میں جانتی ہے مثال کے طور پر راشن کارڈ اور پہچان پتر حکومت کے بارے میں جانکاری حاصل کرنے کے لیے آپ کے پاس کون کون سے ذرائع ہیں۔
- 9- کچھ سیاسی اصطلاحات کی بابت پر غور و فکر کریں جنہیں ہندوستان میں جمہوری اصلاح یا سیاسی اصلاح کہا جاتا ہے۔

ایک نمبر والے سوالوں کے جوابات

- 1- جمہوریت کے سامنے چیلنجز۔
- 2- جمہوریت کو وسیع کرنے کا چیلنجز۔
- 3- RTI 2005 خبر پانے کا حق
- 4- جمہوریت کے مختلف چیلنجز کے بارے میں سبھی دلائل، جمہوریت یا سیاسی سدھار کہا جاتا ہے۔

3/5 نمبر والے سوالوں کے جوابات

- 1- — اصولی طور پر اصلاحات کا کام سیاسی جماعتوں کے ذریعے ہی عمل میں لایا جائے۔
- رائے عامہ کے مطابق مناسب آئینی بنیاد کو اپنایا جائے۔
- پنچایتی راج نظام کے ذریعے انتظامیہ میں لوگوں کی حصہ داری کو بڑھانے کی کوشش

- سماجی ضروریات کے مطابق قوانین میں وقتاً فوقتاً تبدیلیاں
- 2 — بنیادی چیلنج
— توسیع کا چیلنج
— جمہوریت کو مضبوط بنانے کا چیلنج
- 3 — جمہوری اداروں اور ان کے طریقہ کار کو مضبوط بنانا
— لوگوں کے ذریعے جمہوریت سے وابستہ اپنے توقعات کو تکمیل تک پہنچانا
— لوگوں کی حصہ داری کو بڑھانا
— حکومت کے ذریعے لیے جانے والے فیصلوں پر مالدار اور اثر و رسوخ والے لوگوں کے کنٹرول اور اثر کو کم کرنا
- 4 — مذہب، نسل، ذات اور جنس کی بنیاد پر امتیاز نہیں
— ایک مقررہ مدت کے بعد انتخابات ہوتے ہیں
— اچھی جمہوریت میں ایک سے زیادہ سیاسی جماعتیں ہوتی ہیں
— عدلیہ، عاملہ اور مقتنہ دونوں سے آزاد ہوتی ہے۔
- 5 — شکایت کے ذریعے حکومت کے فیصلہ لینے کا عمل بہتر ہو جاتا ہے۔
— شکایت کے ذریعے اظہار خیال کی آزادی باقی رہتی ہے اور جمہوریت میں بہتری آتی ہے۔
— شکایت کی وجہ سے حکومت شہری فلاح و بہبود کی کوششیں شروع کر دیتی ہے۔
- 6 — (i) کرپشن
(ii) ذات پات کا نظام
(iii) علاقائی
(iv) زبان کو لے کر بھید بھاؤ
(v) دہشت گردی
- 7 — (i) یہاں چیلنج ذات پات کے نظام کا ہے۔
مشورہ: جن اداروں کو ذریعے ذات پات کے نظام کو بڑھا دیا جاتا ہے ان پر پابندی لگانی چاہیے۔ لوگوں میں بیداری لانی چاہیے اور حادثوں کو روکنے کے لیے سخت قوانین نافذ کرنے چاہئے۔

(ii) کسانوں کے لیے خصوصی سہولیات مہیا کرانا۔ ہندوستانی کسان ایک حد تک مانسون پر منحصر ہوتے ہیں۔ مشورہ: کم شرح سود پر کسانوں کو قرض دیا جانا چاہیے۔ زراعت سے متعلق سہولیات کو بڑھانا چاہیے اور کسانوں کو کھیتی کے نئے طریقے اپنانے کے لیے موٹی ویٹ کرنا چاہیے۔

(iii) دہشت گردی کے نام پر معصوم شہریوں کا قتل عام نہیں کرنا چاہیے پولس فورس کو شہریوں اور دہشت گردوں کی پہچان ہونی چاہیے اور شہریوں میں پولس کے تئیں یقین ہونا چاہیے اور ان میں آپس میں میل محبت ہونی چاہیے اور ان میں مثبت رول ہونا چاہیے۔

(i) خبر پانے کا حق -8

(ii) سیاسی لیڈروں کے ذریعے

(iii) اخبارات اور ٹیلی ویژن پر حکومت کے ذریعہ دیئے گئے اشتہاروں سے

(iv) سیاسی بات چیت کے ذریعے

(v) سیاسی آرٹیکل اور سیاسی خبروں کے ذریعے۔

9- ہندوستان کے جمہوری نظام میں بہت ساری کمیاں آچکی ہیں کمیوں کو دور کرنے کے لیے درج ذیل اصلاح ہیں۔

(i) قانون سیاسی اصلاح میں ایک اہم رول ادا کرتا ہے قانون میں محتاط طور پر لائی گئی تبدیلیاں غلط سیاسی عمل کی

حوصلہ شکنی اور اچھے کاموں کی حوصلہ افزائی کرنے میں مددگار ثابت ہو سکتی ہے۔

(ii) چناؤ کے خرچ کو لے کر بنائے گئے قوانین کا سختی سے نافذ کرنا۔

(iii) مجرمانہ فعل رکھنے والے لوگوں کو سیاست میں حصہ نہ لینے دینا۔

(iv) دل بدلی قانون پر اس کی ممبر شپ ختم کر دینا۔

(v) سیاسی پارٹیوں میں چندے کی خبر کا حق قانون کے تحت لانا۔

(vi) پارٹی کے اندر اندرونی جمہوریت کو ہر حال میں بحال کرنا۔

باب۔ چودہ

وسائل اور ترقی

یاد رکھنے لائق نکات:

(1) ہمارے ماحول میں پائی جانے والی تمام اشیاء جو ہماری ضروریات کو پورا کرتی ہیں اور جو تکنیکی اعتبار سے قابل حصول ہیں، معاشی اعتبار سے ممکن ہیں اور تمدنی لحاظ سے قابل غور ہیں وسائل کہلاتی ہیں۔

وسائل کی قسمیں

(1) نامیاتی وسائل (2) غیر نامیاتی وسائل

(1) نامیاتی وسائل

ایسے وسائل جو ہمیں نامیاتی کرہ سے حاصل ہوتے ہیں۔ اور ان میں حیات (زندگی) ہوتی ہے نامیاتی وسائل کہلاتے ہیں جیسے انسان، چرند، پرند، پیڑ پودے وغیرہ۔

(2) غیر نامیاتی وسائل

ایسے وسائل جو غیر جاندار مادے سے بنی ہوئی ہیں ان میں جان نہیں ہوتی غیر نامیاتی وسائل کہلاتے ہیں۔ جیسے چٹان، دھاتیں وغیرہ

خاتمے کے بنیاد پر

(1) تجدید کے لائق وسائل (2) ناقابل تجدید وسائل

(1) تجدید کے لائق وسائل ناقابل تجدید وسائل

تمام وسائل کن کی تجدید ہو سکتی ہے یا وہ کسی لمبی، کیمیائی، یا میکیکل عمل سے دوبارہ پندہ کہے جاسکتے ہیں تجدید کے لائق وسائل کہلاتے ہیں جیسے آبی وسائل، ہوائی وسائل اور شمشی وسائل

(2) ناقابل تجدید وسائل:- یہ وسائل طبقات الارضی وقت کے پیمانے پر بہت لمبے عرصے میں بنتے ہیں۔ معدنیات اور کازی

ایندھن ایسے وسائل کی مثال ہیں یہ ایک بار استعمال میں لانے کے بعد دوبارہ استعمال کے لائق نہیں رہتے۔ جیسے تیل، پٹرولیم، گیس

ملکیت کی بنیاد پر

- (1) (نچی) ذاتی مسائل (2) مقامی آبادی کی ملکیت کے وسائل (3) قومی وسائل (4) بین الاقوامی وسائل
- (1) نچی (ذاتی وسائل) یہ وہ وسائل ہیں جو کسی فرد یا واحد کی ذاتی ملکیت ہوتے ہیں۔
- (2) مقامی آبادی کی ملکیت کے وسائل۔ یہ وہ وسائل ہیں جو مقامی آبادی کے ہر فرد کی ملکیت میں مقامی وسائل کہلاتے ہیں۔
- (3) قومی وسائل:- ایک لحاظ سے سبھی وسائل قومی وسائل ہوتے ہیں۔ ملک کو یہ قانونی طاقت حاصل ہے کہ وہ عوامی بھلائی کے لئے ذاتی وسائل بھی حاصل کر سکتی ہے۔
- (4) بین الاقوامی وسائل:- زمینی سطح کے 200 میل دوری سے پرے کھلے سمندر کے وسائل پر کسی ملک کا حق نہیں ہے جن کی دیکھ بھال بین الاقوامی ادارے کرتے ہیں اور ان کو کوئی ملک بغیر بین الاقوامی مرضی کے استعمال نہیں کر سکتا۔

ترقی کی بنیاد پر

- (1) امکانی وسائل (2) ترقی یافتہ وسائل (3) ذخیرہ (Stock)
- امکانی وسائل:- یہ وہ وسائل ہیں جو کسی علاقے میں پائے جاتے ہیں لیکن ابھی تک استعمال میں نہیں لائے گئے ہیں امکانی وسائل کہلاتے ہیں۔
- ترقی یافتہ وسائل:- یہ ترقی کے وہ وسائل ہیں جن کا جائزہ لیا جا چکا ہے اور ان کی کمیت اور کیفیت کا اندازہ لگا کے استعمال کے لئے متعین کی جا چکی ہے۔
- (ذخیرہ) Stock: ان وسائل میں ماحول میں پائے جانے والی معدنیات آتی ہیں جو انسانی ضروریات کو پورا کرنے کا امکان رکھتی ہیں۔ لیکن آسان ان تک پہنچنے کی تکنیک نہیں رکھتے ذخیرہ کہلاتے ہیں۔

کچھ دلچسپ حقیقت:-

- ہندوستان میں سماجی اور سیاسی تحریکیوں کے ساتھ ساتھ مختلف ماحولیاتی تحریکیں بھی چلائی گئیں۔ جیسے
- (1) کھجڑی تحریک 1760 میں راجستھان میں چلائی گئی۔

(2) چیکو آندون (1973) میں اہڑی گڈھوال میں چلایا گیا۔

(3) ساکنہٹ و پلی آندون 1978 میں کیرل میں چلایا گیا۔

(4) آپکوٹھریک 1983 میں کرناٹک میں چلائی گئی۔

(5) نرمدا بچاؤ آندون 1985 میں گجرات میں چلایا گیا۔

ایک نمبر والے سوالات:-

س:- (1) مندرجہ ذیل میں سے کون ایک غیر نامیاتی وسائل ہے۔

(1) انسان (2) چرند پرند (3) معدنیات (4) جانور

س:- (2) پہلی ارض چوٹی کانفرنس کہاں ہوئی۔

(1) برازیل (2) امریکہ (3) ہندوستان (4) روس

س:- (3) پہلی ارض چوٹی کانفرنس کب ہوئی۔

(1) 1900 (2) 1992 (3) 1990 (4) 1991

س:- (4) Small is Beautiful کے مصنف کون ہیں۔

(1) مہاتما گاندھی (2) شو میسر (3) سچن (4) جوہر لعل نہرو

س:- (5) کس نے کہا تھا کہ ہمارے پاس پیٹ بھرنے کے لئے وسائل ہیں پٹی بھرنے کے لئے نہیں۔

(1) مہاتما گاندھی (2) ڈاکٹر بھیم راؤ امبیڈکر (3) زیندر مودی (4) جوہر لعل نہرو

س:- (6) مندرجہ ذیل میں سے کون سا بیان رسوبی مٹی کے لئے صحیح ہے۔

(1) ہندوستان کے تقریباً 22 فیصد علاقے میں پائی جاتی ہے۔

(2) اس مٹی میں پوٹاش کی مقدار زیادہ ہے۔

(3) سندھ، گنگا، برہم پتر ندی طاس سے بنی ہے۔

(4) اوپردی گئی سبھی باتیں صحیح ہیں۔

س:- (7) درج ذیل میں سے کون سا بیان کالی مٹی کے تئیں درست ہے۔

(1) نیگیشنیم میگنٹائٹ سے بنی ہے۔

(2) کیلشیم کاربونیٹ پوٹاش اور چونا اس میں پایا جاتا ہے۔

(3) کپاس کی کمی کے لئے اچھی ہے۔

(4) اوپردی گئی سبھی باتیں صحیح ہیں۔

س:- (8) درج ذیل میں کون سی بات جنگلاتی مٹی کے بارے میں درست ہے۔

(1) کوہستانی ماحول کے بدلنے کے ساتھ بدلتی ہے۔

(2) ندی گھاٹی میں مٹی دوٹ اور سہلٹ دار

(3) زیادہ مقدار میں ہوس ہے

(4) اوپردیے گئے تمام بیان درست ہیں۔

س:- (9) درج ذیل میں کون سا بیان لیٹرائٹ مٹی کے لئے درست ہے۔

(1) شدید گرمی اور زیادہ بارش والے علاقوں میں پائی جاتی ہے۔

(2) بارش کی بھاری مقدار کی وجہ سے ہیوس پانی کی غذائیت بہت کم ہوتی ہے۔

(3) چائے اور کاجو کی فصل کے لئے بہتر ہے۔

(4) اوپردیے گئے تمام بیان درست ہیں۔

س:- (10) نیچے دیئے گئے بیان میں کون سا بیان ریگستانی مٹی کے لئے درست ہے۔

(1) رنگ لال اور بھورا

(2) ریتلی اور Saline

(3) خشک آب وہوا اور اونچے درجہ حرارت کی وجہ سے ان علاقوں میں تبخیر کا عمل تیز ہوتا ہے۔

(4) اوپر دیئے گئے تمام بیان درست ہیں۔

س:- (11) کھینچی گئی لائن کے لفظ کو صحیح کر کے جملہ کو لکھئے۔

کالی مٹی کا جو کی کھیتی کے لئے سب سے زیادہ موضوع ہے۔

س:- (12) کھینچی گئی لائن میں دیئے گئے لفظ کو صحیح کر کے جملہ مکمل کیجئے۔ لیٹرائٹ مٹی کپاس کی کھیتی کے لئے موضوع ہے۔

ایک نمبر والے سوالوں کے جوابات:-

(1) معدنیات

(2) برازیل

(3) 1992

(4) شو میر

(5) مہاتما گاندھی

(6) سبھی بیان درست

(7) سبھی بیان درست

(8) سبھی بیان درست

(9) سبھی بیان درست

(10) کالی مٹی کپاس کے لئے موضوع ہے۔

(8) لیٹرائٹ مٹی کا جو چائے کی کھیتی کے لئے موضوع ہے۔

3/5 نمبر والے سوالات

س-1:- وسائل سے آپ کیا سمجھتے ہیں؟ وسائل کی منصوبہ بندی پر مختصر بیان کیجئے۔

- س2:- زمین کے کٹاؤ کی وجوہات بیان کیجئے۔
- س3:- زمین کی حفاظت کے لئے کچھ طریقے بیان کیجئے۔
- س4:- ہمارے پاس پیٹ بھرنے کے لئے وسائل ہیں پیٹ بھرنے کے لئے نہیں۔ اس بیان کی قول کی روشنی میں وسائل کی منصوبہ بندی کو سمجھائیے۔
- س5:- ایجنڈا 21 کیا ہے۔
- س6:- ان خاص عوامل کا ذکر کیجئے جو مٹی کی تشکیل کے لئے ذمہ دار ہیں۔
- س7:- کھاد اور بانگر مٹی میں فرق واضح کیجئے۔
- س8:- ان ماحولیاتی مسائل کا ذکر کیجئے جو وسائل کے زیادہ سے زیادہ استعمال سے ہو رہی ہیں۔
- س9:- ہندوستان میں پائی جانے والی مٹیوں کا ذکر کیجئے اور ان پر نوٹ لکھئے۔
- س10:- ہندوستان میں پائے جانے والے وسائل کا ذکر کیجئے۔

3/5 نمبر والے سوالوں کے جوابات:-

- ج(1) یاد رکھنے کے لائق باتیں دیکھیں
- ج(2) یاد رکھنے کے لائق باتیں دیکھیں
- ج(3) یاد رکھنے کے لائق باتیں دیکھیں
- ج(4) یاد رکھنے کے لائق باتیں دیکھیں
- ج(5) یاد رکھنے کے لائق باتیں دیکھیں
- ج(6) زمینی خدو خال۔ اصل یا اساسی چٹان
پیڑ پودے۔ زیادہ چراگاہی۔ اور بارش
- ج(7) کھاد اور بانگر مٹی میں فرق:-

بائگر مٹی	کھادر مٹی
(1) پرانی رسولی مٹی	(1) نئی رسولی مٹی
(2) کنکر اور کیشیم کاربونیٹ	(2) زیادہ باریک اور ریتیلی
(3) مٹی کا بار بار نہ بننا	(3) مٹی کا بار بار بننا
(4) ندی سے دور اونچی سطح پر پائی جاتی ہے۔	(4) ندی کے پاس ڈیلٹا اور سیلابی میدانوں میں پائی جاتی ہے۔

ج:- (8)

(1) مٹی کا کٹاؤ

(2) آلودگی

(3) آب و ہوا میں تبدیلی

(3) حیاتیاتی زندگی کی کمی

س 9:- یاد رکھنے کے لائق باتیں دیکھیں۔

س 10:- یاد رکھنے کے لائق باتیں دیکھیں۔

مشقی سوالات:-

س 1:- قابل تجدید اور ناقابل تجدید وسائل میں فرق واضح کیجئے۔

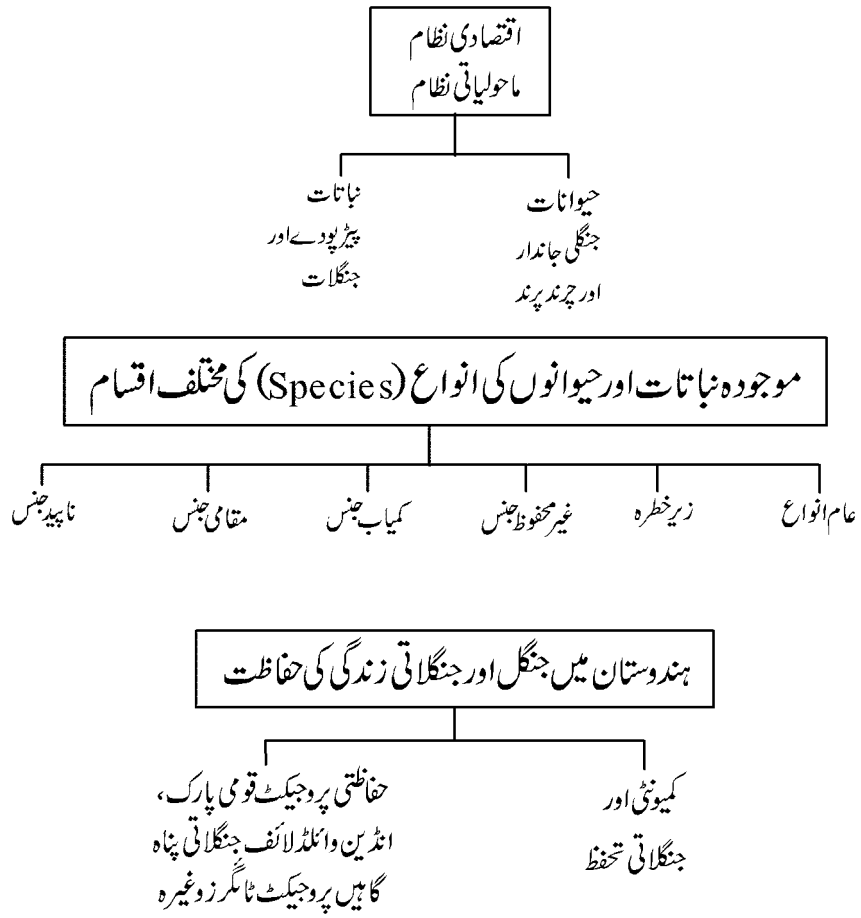
س 2:- کالی مٹی کی خصوصیات بیان کیجئے۔

س 3:- ہندوستان جیسے ملک میں وسائل کی منصوبہ بندی ایک ضروری عمل ہے۔ واضح کیجئے۔

س 4:- ماحول کو آلودہ کرنے والے نقصانات کبھی بھی قومی اور بین الاقوامی سرحدوں کا دھیان نہیں رکھتے اس قول کی وضاحت کیجئے۔

س 5:- زمین کی حفاظت کی پریشانی کو حل کرنے کے لئے تجاویز پیش کرو۔

باب۔ پندرہ جنگل اور جنگلاتی زندگی کے وسائل



جنگلات کی قسمیں اور جنگلاتی زندگی کے وسائل

مخصوص کردہ جنگلات محفوظ کردہ جنگلات غیر درجہ بند جنگلات

یاد رکھنے لائق نکات:

- (1) قدرتی نباتات کا مطلب ہے کہ قدرتی شکل میں خود بہ خود رکھے والے بیڑ پودے، جنگل، گھاس وغیرہ۔
- (2) درخت لگانا:- انسانوں کے ذریعے درخت لگانا۔
- (3) جنگلی جانور:- جنگلی جانور جو کہ اپنے قدرتی ماحول میں رہتے ہیں۔
- (4) گھریلو یا پالتو جانور:- انسانوں کے ساتھ رہنے اور ان کے استعمال میں لائے جانے والے جانور
- (5) نباتات:- (فلورا) کسی علاقے یا کال کی خاص نباتات
- (6) حیوانات:- (فونا) جانوروں کی ذیلی ذاتیں
- (7) ماحولیاتی نظام:- کسی علاقے میں پائے جانے والے نباتات اور حیوانات جو ماحول میں ایک دوسرے پر منحصر رہتے ہیں انسان بھی اس ماحول کا ایک حصہ ہے۔
- (8) حیاتیاتی تنوع:- جنگلاتی زندگی یا حیوانات میں جو شکل و شباہت اور عمل میں مختلف ہونے کے باوجود انحصار باہمی کے کثیر حال سے ایک نظام میں باہم مربوط ہے۔
- (9) نیشنل قومی پارک:- جنگلی جانوروں اور پرندوں کے لئے محفوظ پناہ گاہ۔
- (10) قومی پارک:- قومی جنگل جہاں جنگلی جانوروں کے شکار پر پابندی رہتی ہے۔ اور حکومت کے تحت ہوتے ہیں۔
- (11) ہمارے ملک میں 81000 سے زیادہ حیواناتی انواع و اقسام اور 47000 نباتاتی اقسام اور تقریباً 15,000 پھولوں کے اقسام ہیں جو ملک کے مختلف خطوں میں پائے جاتے ہیں۔
- (12) ہندوستان اپنے حیوانات میں بھی بہت پھیلا ہوا ہے یہاں پرندوں کی 1200 سے زیادہ اقسام اور مچھلیوں کی 2500 سے زیادہ اقسام ہیں اور یہاں تقریباً 6,000 اقسام کیڑے مکوڑوں کی ہیں۔
- (13) نباتات اور حیوانات ہماری روزمرہ کی زندگی سے اس قدر باہم مربوط ہیں کہ بالآخر ہمارے ماحول کو متاثر کرنے کی وجہ سے اس پر بڑا دباؤ ہوتا ہے۔
- (14) ہندوستان میں پانچ قسم کے جنگلات پائے جاتے ہیں۔
- (1) مخصوص کردہ جنگلات (2) محفوظ کردہ جنگلات (3) غیر درجہ بند جنگلات

- (15) انسان پیڑ پودے کاٹ کر ماحول میں غیر متوازن پیدا کرتا ہے۔
- (16) پراجیکٹ ٹائیگر کا قیام 1973 میں عمل میں آیا جو دنیا کے اچھے تشہیر کردہ پراجیکٹوں میں سے ایک تھا۔
- (17) 1972 میں انڈین وائلڈ لائف (تحفظ) ایکٹ کا نفاذ عمل میں آیا۔ اور بعد میں 1980, 1986 اور 1991 میں اس میں کچھ اہم تبدیلیاں کیں۔
- (18) کمیونٹی کے لوگوں نے ہندوستان میں جنگلوں اور جنگلی جانوروں کی حفاظت کے لئے بہت ذمہ داریاں نبھائی ہیں اور نبھاتے رہیں گے۔
- (19) جنگلات اور جنگلاتی زندگی کو تباہی صرف ایک حیاتیاتی مسئلہ نہیں ہے، حیاتیاتی نقصان ثقافتی تنوع کے نقصان سے باہم مربوط ہے۔
- (20) ہندوستان میں سب سے زیادہ نقصان نوآبادیاتی دور میں ہوا۔

مزے دار حقائق:-

- (1) ہندوستان کے بڑے حیوانات میں سے 79 فیصد دودھ پلانے والے جانوروں کی نوع جنس 44 فیصد پرندے 15 فیصد ریگننے والے جانور اور حمل تھلیا کی 3 نوع (Species) کو خطرہ لاحق ہے۔
- (2) تقریباً 1500 نباتات کی قسموں کو خطرے میں خیال کیا جاتا ہے۔
- (3) آج ایشیائی چیتا دستیاب علاقے کی کمی اور شکار کی وجہ سے تقریباً ناپید ہو چکا ہے۔
- (4) Taxus ہمالیاتی ایوادیاتی پیڑ ہے چھال ٹہنوں اور اس درخت کی جڑوں سے کشید کیا ہوا ایک کیمیائی مرکب ہے یہ کینسروں کے علاقوں کے لئے مفید دوا ہے۔
- (5) ایک امریکی شہری سومالی باشندے سے 40 گنا زیادہ چیزوں کا استعمال کرتا ہے۔
- (6) نکوباری میگا پوڈ ایک خطرہ لاحق والی نسل ہے۔
- (7) اگر ہم ایک جماعت پاس کر کے اپنی کتابیں اس جماعت میں آنے والے طالب علم کو دے دیں تو ہم ایک پیڑ کو بچا سکیں گے۔
- (8) انجمن اقوام متحدہ کی رپورٹ کے مطابق ہندوستان میں فی آدمی صرف 28 درخت ہیں جبکہ کینیڈا میں یہ تعداد 8953 روس

میں 4461 امریکہ میں 716 اور چین میں 102 ہے۔

(9) ہر پانچ سال میں ہمارا ماحول 10 ڈگری سیلسیس گرم ہو جاتا ہے۔

س:- (1) خالی جگہوں کو پر کرو۔

کسی علاقے یا زمانے میں خاص طور پر پائے جانے والے نباتات لفظ کا استعمال کیا جاتا ہے۔

س:- (2) صحیح ملا کیجئے۔

کمیونٹی

(i) فنڈ اور سنٹھال آدی واسی

(ii) اڈیشہ اور یہاں کی آدی واسی

(iii) راجستھان کی بشتوتی کمیونٹی

(iv) ٹھری کے کسان اور افراد کا گروہ

حفاظت

(i) املی اور آم

(ii) بیچ پچاؤ تحریک

(iii) مہوا اور قدیب

(iv) چنکارا (کالا ہرن)

س:- (3) جملے کو جغرافیائی حالات کے تحت صحیح کر کے لکھئے۔

چنکارا (کالا ہرن) ہندوستان میں ایک ناپید جانور ہے۔

س:- (4) صحیح جواب چنئے۔

جل تھلایا کیا ہے۔

(a) وہ جانور جو زمین اور پانی دونوں جگہ زندہ رہ سکتے ہیں۔

(b) پانی میں رہنے والے جانور

(c) زمین پر رہنے والے جانور

(d) ان میں سے کوئی نہیں

س:- (5) نیچے دیئے گئے جملوں کے آگے پر صحیح اور غلط پر نشان لگاؤ۔

(i) جھوم کھیتی جس میں درخت کاٹ اور جلا کر کھیتی کے لئے زمین حاصل کی جاتی ہے۔ ()

(ii) ساگوان کے درخت لگانے سے وہاں کے قدرتی جنگلوں کو نقصان پہنچا ہے۔ ()

(iii) جم کاربٹومی پارک کیرل میں قیام پذیر ہے۔ ()

(iv) اتر پردیش میں محفوظ جنگلات کے تحت سب سے زیادہ علاقہ ہے۔ ()

(iv) مشہور چیکو آندولن اتر اکنڈ میں جنگلوں کو کاٹنے سے روکنے میں کامیاب رہا۔ ()

ایک نمبر والے سوالوں کے جواب:-

ج(1) نباتات Flora

ج(2) (i) فنڈ اور سنٹھال طبقہ (iii) مہوا اور کدم

(ii) اڈیشہ اور بہار کے آدی باسی (i) اہلی اور آم

(iii) راجستھان کا ہشتوئی طبقہ (iv) چنکاراہرن (کالاہرن)

(iv) ٹھہری کے کسان اور شہریوں کی حمایت (ii) بیچاؤ تحریک

ج(3) چنکاراہرن (کالاہرن) ہندوستان میں ایک خطرہ لاحق ذاتی ہے۔

ج(4) وہ جانور جو زمین اور پانی دونوں میں زندہ رہ سکتے ہیں۔

ج (5) (i) صحیح

(ii) صحیح

(iii) غلط

(iv) غلط

(v) صحیح

ایک نمبر والے مختصر سوالات :-

س (1) ماحولیاتی ان پرائمری پیداوار کا نام لکھئے جس پر دوسرے سبھی جاندار منحصر ہیں؟

س (2) I.U.C.N کیا ہے؟

س (3) ہندوستان میں پائی جانے والی کوئی ایک غیر محفوظ جنس کا نام لکھئے۔

س (4) چیتا کس تیندوے سے کس طرح مختلف ہوتا ہے۔

س (5) نوآبادیاتی دور میں ہندوستانی جنگلوں کے ہونے والے نقصان کی ایک وجہ بتائیے۔

س (6) نوآبادیاتی دور میں کس پودے یا درخت ہمالین اوک کی جگہ لگایا گیا؟

س (7) جنگلاتی وسائل کے نقصان کے لئے چارہ اور ایندھن اسٹاک پوری طرح ذمہ دار کیوں نہیں ہے۔

س (8) ماحولیاتی نظام سے آپ کیا سمجھتے ہیں؟

س (9) ہندوستان میں پائے جانے والے کسی ایک ادویات پودے کا نام لکھئے۔

س (10) ماحولیاتی غیر توازن کیا ہے؟

س (11) آپ کے علاقے کے نزدیک کون سی ندی بہتی ہے؟ یہ صاف کیوں نہیں ہے۔

س (12) حال کے سالوں میں دہلی سے غائب کسی ایک پرندے کا نام لکھئے۔

س (13) جنگلوں اور جنگلاتی زندگی کا ہمارے لئے کوئی ایک استعمال لکھئے۔

س (14) شجر کشی کیا ہے؟

س (15) شجر کاری کیا ہے؟

س (15) کس معدنیات کی کان کنی کا وجہ سے مغربی بنگال میں Buna Tiger Resera کو خطرہ لاحق ہے۔

ایک نمبر والے سوالوں کے جوابات :-

ج (1) ہرے پودے یا جنگل

ج (2) بین الاقوامی تنظیم برائے تحفظ قدرت اور قدرتی وسائل برائے تحفظ تنظیم۔

ج (3) نیلی بھیڑ، ایشیائی ہاتھی، رگنگاندی کی ڈولفن وغیرہ

ج (4) چھتے کی خاص پہچان اس کی آنکھ کے کونے سے منہ تک ناک کے دونوں طرح پھیلی آنسوؤں کی کئی نمائشیں ہیں۔

ج (5) نوآبادیاتی دور میں ریلوے لائن۔ کھیتی، تجارت، کان کنی کی سرگرمیوں میں اضافہ ہوا۔

ج (6) چیڑ پائے

ج (7) کیونکہ چاروں طرف ایندھن کے لئے لکڑی کی ضرورت کو پورا کرنا خاص کر پیڑوں کی ٹہنیاں کاٹ کر کی جاتی ہیں نہ کہ پورے پیڑ کاٹ کر۔

ج (8) پیڑ پودے جانور اور معمولی جاندار ہوا کے معیار کر بڑھاتے ہیں۔

ج (9) تلسی، نیم، ارجن، جامن، کچار، بول، وغیرہ

ج (10) جنگلاتی جانداروں اور بنا کر پیدا کی گئی انواع میں حیاتیاتی تنوع بہت ہے۔

ج (11) جمناندی آلودگی کی وجہ سے

ج (12) گورید

ج (13) لکڑی، چھال، پتے، ربر، دوائیاں، کھانا۔ ایندھن، چارہ کھاد وغیرہ

ج (14) پیڑ کاٹنا

ج (15) درخت لگانا

ج (16) ڈولومائٹ

3/5 نمبر والے سوالات

- س:- (1) انسان کسی علاقے کے ماحولیاتی نظام کو کس طرح اثر انداز کرتا ہے؟
- س:- (2) ہندوستان کی حیاتیاتی اور ماحولیاتی نقصان کے لئے ذمہ دار عناصر بیان کیجئے۔
- س:- (3) ماہر تحفظات نے جنگلاتی زندگی کے بچاؤ کے لئے جنگلوں کو کتنے حصوں میں تقسیم کیا ہے۔
- س:- (4) I.U.C.N کے مطابق موجودہ نباتات، حیوانوں کی انواع۔ (Species) کو کتنے تین مختلف درجوں میں بانٹا گیا ہے۔ ان کا ذکر کیجئے۔
- س:- (5) ایسے کچھ طریقے بتائیے جس سے ہماری جنگلاتی زندگی کو ہونے والے نقصان پر کنٹرول کیا جاسکے۔

3/5 نمبر والے سوالوں کے جوابات

- ج:- (1) (i) نباتات اور جنگلاتی زندگی کا استعمال کر کے
- (ii) انسانی لالچ کی وجہ سے ان وسائل کا اندھا دھند استعمال کر کے
- (iii) پیڑ کاٹ کر اور جانوروں کے شکار کے ذریعہ انھیں مان کر ماحول میں غیر متوازن پیدا کرتے ہیں۔
- (iv) نیچے کے طور پر دودھ پلانے والے جنگلی جانور ختم ہونے کے کنارے پر ہیں۔
- ج:- (2) (i) آزادی کے بعد کھیتی میں ترقی
- (ii) آبادی کا تیزی سے بڑھنا
- (iii) کثیر المقاصد دریائی وادی منصوبے
- (iv) کان کنی
- (v) جانوروں کو زیادہ چرانے اور ایندھن کیلئے لکڑی اکٹھا کرنے سے
- (v) وسائل کا اندھا دھند استعمال کر کے

- (vi) ماحول کو آلودہ، غیر قانونی شکار
- (iii) ماحولیاتی آلودگی
- ج:- (3) (i) Reserved Eorests مخصوص کردہ جنگلات
- (ii) Protoded Forests مخصوص کردہ جنگلات
- (iii) Linclassd Forests غیر درجہ بند جنگلات
- ج:- (4) (i) عام
- (ii) خطرناک مرحلہ
- (ii) کمیاب جنس
- (iii) علاقائی جنس
- (iv) علاقائی جنس
- (v) ناپید جنس
- (vi) خاتمے کی جنس
- ج:- (5) (i) حکومت کے ذریعے جانوروں کیلئے قدرتی علاقے کو محفوظ کرنے کے مختلف طریقوں کے ساتھ 1972 میں انڈین وائلڈ لائف (تحفظ) ایکٹ کا نفاذ عمل میں آیا۔
- (ii) اس پروگرام کا مقصد شکار پر پابندی۔ جانوروں کے قدرتی علاقے کو قانونی تحفظ فراہم کرنے اور جنگلاتی زندگی میں کاروبار پر پابندی
- (iii) مرکزی پناہ گاہیں اور ریاستی حکومتوں نے قومی باغات اور جنگلاتی زندگی Wild life Sancharus قائم کیں۔
- (iv) 89 قومی نیشنل پارک 490 برڈ سیٹری بنائے گئے۔

باب۔ سولہ

آبی وسائل

یاد رکھنے لائق نکات:

- 1- دنیا میں موجود کل پانی کا 96.5 فی صد حصہ سمندر ہے اور صرف 2.5 فی صد میٹھا پانی ہے۔
- 2- ہندوستان کی زیادہ تر ندیاں خاص کر چھوٹی ندیاں آلودگی کی وجہ سے زہریلی دھاراؤں میں تبدیل ہو چکی ہیں۔
- 3- ندی کا بیسن: خاص ندیوں اور اس کی معاون ندیوں کے ذریعے سینچا جانے والا علاقہ۔
- 4- نرمدا بچاؤ تحریک:۔ نرمدا ندی پر سردار سرو وور ڈیم بنانے کی مخالفت
- 5- پالر پانی: راجستھان کے کچھ علاقوں میں بارش کے پانی کی سب سے خالص شکل۔
- 6- زمین دوز پانی: مٹی کے نیچے موجود چٹانوں کے بیچ اور مٹی کی پرتوں کے بیچ جمع ہونے والا پانی۔
- 7- بارش کے پانی کی ذخیرہ اندوزی: بارش کے پانی کو گڈھوں وغیرہ میں جمع کرنا اور دوبارہ استعمال میں لانا۔
- 8- آبی/پن بجلی: اونچے مقامات سے پانی کی دھار کو نیچے گرا کر بنائی جانے والی بجلی۔
- 9- آبشار: ندی گھاٹی کے بیچ میں اونچائی سے گرنے والی دھارا۔
- 10- باندھ: ڈیم یا باندھ بہتے ہوئے پانی کے سامنے ایک رکاوٹ ہوتا ہے جو بہاؤ کو روکتا ہے۔ بہاؤ کے رخ کو بندل دیتا ہے یا سست کر دیتا ہے اور اکثر مصنوعی جھیل یا مخزن بن جاتا ہے۔
- 11- کثیر المقاصد ندی پروجیکٹ:۔ ندیوں پر باندھ بنا کر ایک بار میں کئی مقاصد کو پورا کرنا۔
- 12- ملٹی نیشنل کمپنیاں (MNC):۔ وہ کمپنیاں جن صنعتیں ایک سے زیادہ ملکوں میں کام کرتی ہیں اور دوسرے ملکوں میں سرمایہ صرف کرتی ہیں اور اس سے زیادہ منافع حاصل کرتی ہیں۔
- 13- بانس سے پانی پکا کر سینچائی کا طریقہ:۔ میگھالیہ میں رود بار اور چشمہ کے پانی کے استعمال کو بانس کے بنے پائپ کے ذریعے اکھٹا کرنا

ایک نمبر والے سوالات

- 1- دنیا میں کل کتنا پانی پینے کے لائق ہے؟
- 2- ہندوستان کی وہ کون سی ریاست ہے جہاں چھت کے بارش کے پانی کی ذخیرہ اندوزی کی جاتی ہے؟
- 3- آزادی کے بعد کثیر المقاصد منصوبوں کو شروع کرنے کا کیا مقصد تھا؟
- 4- گل اور گل کیا ہے؟
- 5- کھادیپ اور جو ہڑ کیا ہے؟
- 6- ہندوستان کے ایسے علاقے کی مثال دو جہاں مناسب تعداد میں بارش ہوئی ہے پھر بھی وہاں پانی کی کمی ہے؟
- 7- راجستھان میں چھت کے بارش کے پانی کی ذخیرہ اندوزی کو کیا کہا جاتا ہے۔
- 8- پانی کی کمی کی دو وجوہات بتاؤ۔
- 9- ٹھہری دریائی منصوبہ کس ریاست میں کس ندی پر بنایا گیا ہے؟
- 10- سلال دریائی منصوبہ کس ریاست میں کس ندی پر بنایا گیا ہے؟

مختصر / طویل جواب والے سوالات (3/5 نمبر والے)

- 1- بارش کے پانی کی ذخیرہ اندوزی کیا ہے؟ ہندوستان کے مختلف حصوں میں بارش کے پانی کی ذخیرہ اندوزی کے کوئی دو طریقے بتائیے۔
- 2- کثیر المقاصد دریائی وادی منصوبہ کیا ہے؟ کثیر المقاصد دریائی وادی منصوبے کے چار مقاصد بیان کیجیے۔
- 3- بیکار پڑے کنویں کو بارش کے پانی کے ذریعے دوبارہ کیسے بھرا جاتا ہے؟
- 4- صنعت کاری اور شہر کاری کس طرح پانی کے دباؤ کے لیے ذمہ دار ہیں؟
- 5- نرم دابچا و تخریک پر ایک نوٹ لکھیے۔
- 6- پانی ایک قابل تجدید وسائل ہوتے ہوئے بھی اس کی حفاظت اور پلاننگ کیوں ضروری ہے؟
- 7- کیا روایتی بارش کے پانی کی ذخیرہ اندوزی کے طریقوں کو جدید دور میں بھی اپنا کر پانی کی کمی کے مسئلہ کو حل کیا جاسکتا ہے؟
- 8- جواہر لعل نہرو نے باندھوں کو جدید ہندوستان کا مندر کیوں کہا تھا؟
- 9- ہمارے ملک میں پانی کی کمی دن بدن کیوں بڑھتی جا رہی ہے؟ وجوہات بتائیے۔

10- ہندوستان کے نقشے میں مندرجہ ذیل کی نشاندہی کیجیے۔

- (i) بھاکڑ انگل ڈیم (ii) ہیرا کنڈ ڈیم (iii) سردار سروور ڈیم (iv) ٹھہری منصوبہ
(v) ناگ ارجنا ساگر ڈیم (vi) رہنڈ ڈیم (vii) رانا پرتاپ ساگر ڈیم (viii) سلال منصوبہ

ایک نمبر والے سوالوں کے جوابات

- 1- کل پانی کا 25% پینے کے لائق ہے۔
2- ٹینکٹا مل ناڈو
3- (i) کھیتی اور گاؤں کی معیشت کی ترقی
(ii) صنعتوں میں تیزی
(iii) شہری معیشت کی ترقی
4- مغربی ہمالیہ میں گل یا گل بنا رکھے تھے یہ بارش کا پانی جمع کرتے تھے۔
5- خشک اور نیم خشک علاقوں میں بارش کے پانی کو جمع کرنے کے لیے بنائے گئے گڈھے
6- میگھالیہ کی راجدھانی شیلانگ
7- ٹزکا
8- بڑھتی آبادی اور بڑھتی ضرورتیں
9- اتر اکنڈ میں بھاگیرتی ندی
10- جموں کشمیر میں چناب ندی

3/5 نمبر والے سوالات کے جوابات

- 1- یہ ایسی تکنیک ہے جس کے ذریعے بارش کے پانی کو خالی جگہوں، گھروں میں ٹینک، بے کار پڑے ہوئے کنوؤں میں جمع کیا جاتا ہے اور بعد میں اس کا استعمال کیا جاتا ہے۔
(i) پہاڑی علاقوں میں لوگوں نے گل یا گل جیسی ندی کی دھارا کا راستہ بدل کر کھیتوں میں آب پاشی کے لئے

بنائی ہیں۔

- (ii) راجستھان میں پینے کا پانی جمع کرنے کے لئے چھت کے ذریعے بارش کا پانی جمع کیا جاتا ہے۔
- (iii) مغربی بنگال میں سیلاب کے میدانوں کے لوگ اپنے کھیتوں کی سیچائی کے لئے نالیوں کی تعمیر کرتے ہیں۔
- (iv) خشک اور نیم خشک علاقوں میں کھیتوں میں بارش کا پانی گڈھوں میں جمع کر لیا جاتا ہے۔
- 2- ندی پر باندھ بنا کر اس سے کئی طرح کے کام کئے جانے کو کثیر المقاصد دریائی وادی منصوبے کہتے ہیں۔ اس کے مقاصد مندرجہ ذیل ہیں:

- (i) پن بجلی کو تیار کرنا
- (ii) آبپاشی
- (iii) گھریلو اور صنعتی استعمال کے لئے پانی کی فراہمی
- (iv) کشتی بانی
- (v) سیلاب پر کنٹرول
- (vi) مچھلی پالنے

- 3- (i) چھت کا پانی PVC پائپ کا استعمال کر کے جمع کیا جاتا ہے۔
- (ii) ریت اور اینٹ کے ذریعے صفائی کی جاتی ہے
- (iii) زمین دوز پائپ سے پانی نکال کر فوری استعمال کے لیے حوض میں جمع کر لیا جاتا ہے۔
- (iv) اضافی پانی حوض سے لے کر کنویں میں پہنچایا جاتا ہے۔
- (v) کنویں کا پانی زمین دوز پانی کو ریچارج کرتا ہے۔
- (vi) کنویں سے پانی لیں (بعد میں)

- 4- (i) آزادی کے بعد ہندوستان میں تیزی سے صنعتوں کا بڑھنا
- (ii) صنعتوں کی بڑھتی تعداد کی وجہ سے پینے کے پانی کا زیادہ استعمال
- (iii) شہروں کی بڑھتی آبادی اور شہری زندگی کے طرز زندگی میں تبدیلی کی وجہ سے پانی کا زیادہ استعمال
- (iv) شہروں اور گاؤں میں پانی کے وسائل کا زیادہ استعمال

- 5- (i) نرم داندی پرسر دار سرور ڈیم بنانے کے خلاف میں تھا۔
- (ii) نرم داندی آندولن ایک غیر سرکاری NGO نے چلائی۔

- (iii) اس میں قبائلی لوگوں، کسانوں، ماہرین ماحولیات اور انسانی حقوق کے کارندوں کو گجرات میں زندماندی پر سردار سروورڈیم بنانے کے خلاف تحریک چلائی۔
- (iv) شروع میں یہ تحریک ڈیم کے پانی میں وہاں کے تمام درخت غرقاب ہونے پر تھا۔
- (v) بعد میں اس نے نادر شہریوں خاص طور سے مہاجرین کے مسائل پر توجہ مرکوز کی۔
- (vi) اس تحریک کی رہنمائی ایک سماجی کارکن میگھا پائیکر کر رہی تھیں۔
- 6 (i) پانی کے وسائل کا بے تحاشہ استعمال سماج میں غیر مساوی تقسیم اس کے تحفظ کے لئے اور انتظامیہ کے لئے ضروری ہیں۔
- (ii) بڑھتی آبادی، زراعت کی تجدید کاری، شہر کاری، صنعت کاری کا ہندوستانی ندیوں پر بڑا اثر ڈال رہی ہیں۔
- (iii) قدرتی ماحولیاتی نظام برباد ہو رہا ہے۔ ماحولیاتی بحران پیدا ہو رہا ہے۔
- (iv) بڑی آبادی، پینے کے پانی اور زراعتی پیداوار میں آبپاشی وغیرہ کے لئے پانی کے تحفظ اور انتظام کی ضرورت ہے
- 7 (i) چھت کے ذریعے بارش کے پانی کی ذخیرہ اندوزی:
- (ii) گل اور گل
- (iii) موسمی نہروں کے ذریعے
- (iv) گڈھے بنا کر
- (v) تالاب
- (vi) قطروں کے ذریعے آبپاشی
- 8 باندھوں کے فائدے: باندھوں سے بہت سے فائدے ہیں ہر ترقی میں اہم رول ادا کرتے ہیں اس لیے جواہر لال نہرو نے انہیں جدید ہندوستان کے مندر کیا تھا۔
- (i) آبپاشی
- (ii) بجلی کی پیداوار
- (iii) گھریلو اور صنعتی ضرورت کے لئے پانی کی فراہمی
- (iv) سیلاب پر کنٹرول
- (v) تفریح
- (vi) مچھلی پالنے

- 9- (i) ہندوستان مانسونی آب و ہوا والا ملک ہے۔ کئی بار مانسون کی ناکامی ہونے کی وجہ سے پانی کی کمی بڑھ جاتی ہے
- (ii) سچائی کے پانی کی مانگ تیزی سے بڑھ رہی ہے۔
- (iii) صنعتوں کے بڑھنے سے زمین دوز پانی کی سطح کم ہو رہی ہے۔
- (iv) شہر کاری کی وجہ سے پانی کے وسائل پر بڑھتا دباؤ۔
- (v) بڑھتی ہوئی آبادی کی ضرورت کو پورا کرنے کی وجہ سے بھی پانی کی کمی ہو رہی ہے۔

10- ہندوستان کے نقشے کو بھر کر اس کی مشق کرو۔

- (1) بھا کرہ منگل ڈیم - ستلج ندی پر
- (2) ہیرا کنڈ ڈیم - مہانڈی پر
- (3) سردار سرور ڈیم - نرمدا ندی پر
- (4) ٹھہری پروجیکٹ - بھاگرتی ندی پر
- (5) ناگ ارجن ساگر ڈیم - کرشنا ندی پر
- (6) Rihind ریہنڈ ڈیم - سون ندی پر
- (7) رانا پرتاپ پروجیکٹ - جمبل ندی پر
- (8) سلال پروجیکٹ - چناب ندی پر

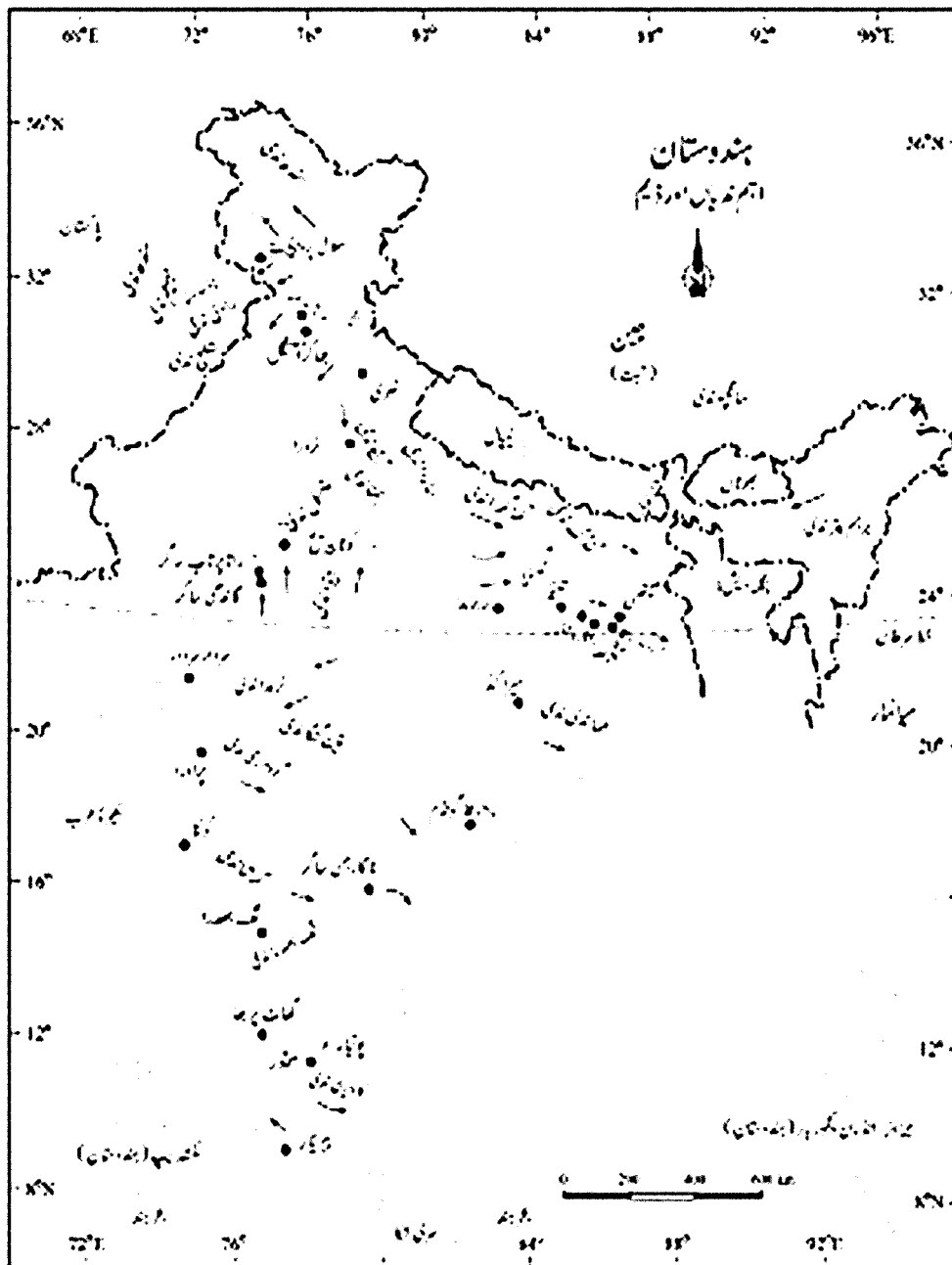
11- ”کہا جاتا ہے کہ اگر تیسری عالمی جنگ ہوئی تو وہ پانی کی کمی کی وجہ سے ہوگی“۔ اس کا مطلب سمجھائیے۔

12- حال کے برسوں میں بڑے باندھوں کی مخالفت کی وجہ بتائیے۔

جواب- 11

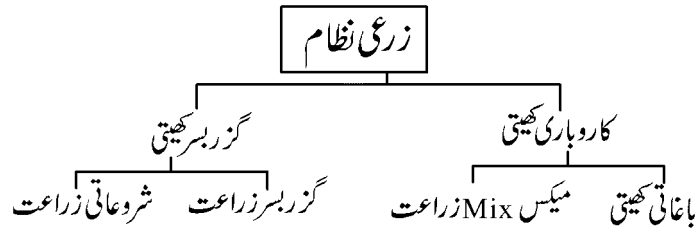
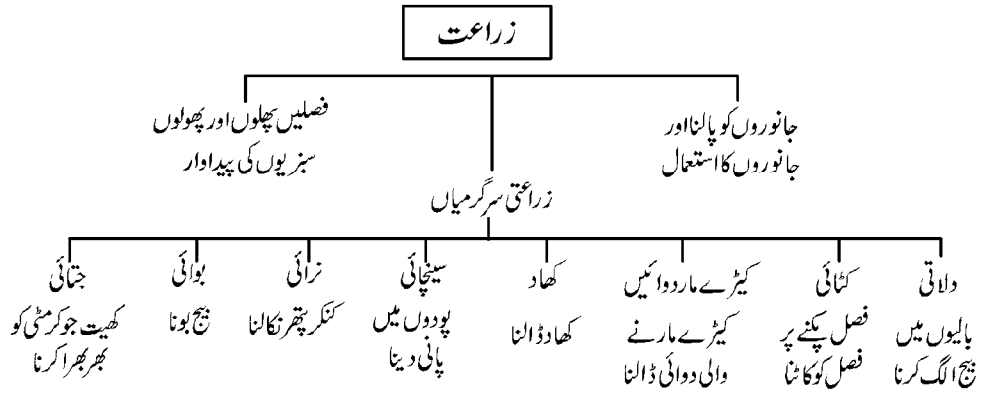
- (i) ریگستان (ii) سمندر (iii) بڑھتی آبادی (iv) شہروں کا بڑھتا دائرہ
- (v) صنعتوں کا بڑھنا (vi) پانی کا بیجا استعمال۔ کیمیائی اور کیڑے مار دواؤں سے پانی کا آلودہ ہو جانا۔

- (vii) زمین دو زپانی کا نیچے چلے جانا (viii) مانسون کا وقت پر نہ آنا اور پینے کا پانی بہت کم ہونا۔ اور پانی کی فراہم ہر جگہ یکساں نہ ہو جیسے، کیپ ٹاؤن (افریقہ) کی مثال۔
- چونکہ پانی ایک ضروری شے ہے (پانی ہی زندگی ہے)
- (i) -12 ندیوں پر باندھ بنانے اور رکاوٹ پیدا کرنے کو وجہ سے ندیوں کا فطری بہاؤ متاثر ہوتا ہے۔
- (ii) باندھ ندیوں کو بانٹتے ہیں جس سے آبی جاندار یعنی مچھلیوں وغیرہ کو نقل مکانی اور خاص طور سے انڈے دینے میں مشکل آتی ہے۔
- (iii) جو باندھ سیلاب روکنے کے لیے بنائے گئے انہیں کی وجہ سے مصنوعی جھیلوں میں مٹی کے جماؤ سے باڑھ کی صورت حال پیدا ہوئی۔
- (iv) بڑے ڈیم شدید بارش کے وقت سیلاب روکنے میں اکثر و بیشتر ناکام رہتے ہیں۔
- (v) باندھ سے زمین کی زبوں حالی (Degradation) میں مزید اضافہ ہوا ہے۔
- (iv) جب ڈیم بنتے ہیں تو اس کے آس پاس کے تمام جنگلات اور درختوں کو کاٹا پڑتا ہے جس سے ماحول آلودہ ہوتا ہے۔



باب۔ سترہ

زراعت



فصلوں کی بوائی کے موسم

ربیع کی فصلیں۔ خریف کی فصلیں: ربیع اور خریف موسم کے درمیان گرمیوں میں ایک قلیل مدتی موسم ہوتا ہے جو زائد موسم کے نام سے جانا جاتا ہے زائد موسم میں پیدا کی جانے والی فصلوں میں تربوز، خربوزہ، کھیرا، سبزیاں اور جانوروں کا چارہ وغیرہ شامل ہیں

غذائی فصلیں:- گیہوں، چاول، مکا، دالیں اور موٹے اناج

باغاتی زراعت:- چائے کافی تلہن ربرو وغیرہ

نقدی فصلیں:- ربر، کپاس، جوٹ، سن، اور قدرتی ریشم

باغبانی فصلیں:- پھل، پھول اور سبزیاں

یاد رکھنے لائق نکات

- 1- ہندوستان دنیا میں سب سے زیادہ پھل اور سبزیاں پیدا کرتا ہے۔
- 2- کاروباری کھیتی میں ایک لمبے چوڑے زمینی حصے پر ایک ہی فصل بوئی جاتی ہے۔
- 3- ہندوستان میں چائے کافی، ربر، گنا کیلا وغیرہ خاص نقدی فصلیں ہیں۔
- 4- ہندوستان میں خاص طور سے چاول، گیہوں، موٹے اناج، دالیں، تھن، چائے، کافی، گنا، کپاس اور جوٹ وغیرہ فصلیں اگائی جاتی ہیں۔
- 5- ربیع کی فصلیں اکتوبر سے دسمبر کے بیچ میں بوئی جاتی ہیں اور گرمی کے موسم میں اپریل سے جون کے بیچ میں کاٹی جاتی ہیں۔ گیہوں، جو، مٹر، چنا اور سرسوں وغیرہ خاص ربیع کی فصلیں ہیں۔
- 6- خریف کی فصلیں ملک کے مختلف حصوں کے مختلف علاقوں میں مانسون کے آنے کے ساتھ جون میں بوئی جاتی ہیں اور ستمبر اور اکتوبر میں کاٹی جاتی ہیں۔
- 7- خریف کی فصلیں:- چاول، مکا، جوار، باجرا، ارہر، مونگ، اڑو، کپاس، جوٹ، مونگ پھلی اور سویا بین وغیرہ
- 8- ہندوستان میں زیادہ تر لوگوں کی غذا چاول ہے۔ ہندوستان چین کے بعد چاول کا دوسرا بڑا پیداواری ملک ہے۔
- 9- جوار، باجرا، راگی، ملیٹ ہندوستان میں اگائے جانے والے خاص موٹے اناج ہیں۔
- 10- ہندوستان دالیں پیدا کرنے والا سب سے بڑا ملک ہے۔
- 11- زمین کو جو تھن، بونے، فصلیں اگانے، جانوروں کو پالنے کی آرٹ کو کھیتی کہتے ہیں۔
- 12- گزر بسر کھیتی:- ایسی کھیتی کرنے کا طریقہ جس میں کسان اپنے خاندان کا گزر بسر کرنے کے لیے پیداوار کرتا ہے۔ اس میں کھیتی کے روایتی طریقوں اور اوزاروں کا استعمال کیا جاتا ہے۔
- 13- یہ ایک نوع کی کاٹو اور جلاؤ قسم کی کھیتی باڑی ہے۔ کسان زمین کے ایک خطے کو صاف کرتے ہیں اور اپنے اہل خاندان کی معاش کے لیے غلہ اور دوسری غذائی فصلیں پیدا کرتے ہیں۔ جب مٹی کی زرخیزی میں کمی آجاتی ہے تو اس زمین کو چھوڑ دیا جاتا ہے پھر دوسری جگہ پر نیا کھیت بنا لیا جاتا ہے۔
- 14- کاروباری کھیتی:- اس قسم کی کھیتی کی خصوصیت یہ ہے کہ اس میں جدید افزائش مادے مثلاً اعلیٰ قسم کی فصل دینے والے

(HYV) بیج، زیادہ پیدا دینے والی قسمیں کیمیائی کھاد، کثیر پیداوار کی حصولیابی کے لیے تباہ کن اور مہلک کیڑے مار دواؤں کا استعمال ہوتا ہے۔

15- شجر کاری:- صنعت اور کاشت کی ملی جلی شکل۔ مہاجر مزدوروں کی مدد اور ایک اچھے خاصے سرمایہ کی لاگت سے شجر کاری زمین کے ایک بڑے حصے کا احاطہ کرتی ہے۔

16- فصلوں کی ادلا بدلی:- زمین کی زرخیزی قائم رکھنے کے لیے زمین کے اس ٹکڑے پر فصلیں بدل بدل کر ہونا۔

17- چک بندی:- بکھری ہوئی کھیتی اور کھیتوں کو ایک ساتھ ملا کر معاشی شکل میں فائدہ کمانا۔

18- سبز انقلاب:- کھیتی کے علاقے میں زیادہ اُپا جاؤ بیج کا استعمال، اچھی کیمیائی کھاد کا استعمال اور سیچائی کے طریقوں کا استعمال کرنے سے کچھ فصلوں میں خاص کر گیہوں کی پیداوار میں زبردست اضافہ سبز انقلاب کہلاتا ہے۔

ایک نمبر والے سوالات

س (1) خالی جگہ کو بھریئے۔

ایک ریشے دار فصل ہے

س (2) درج ذیل کا صحیح ملان کرو

ہندوستان کے خاص پیداوار کرنے والی ریاستیں

فصلیں

(i) چائے (i) کیرل

(ii) گیہوں (ii) آسام

(iii) ربر (iii) اتر پردیش

(iv) گنا (iv) ہریانہ

س (3) جملے کو جغرافیائی حالات کے مطابق صحیح کر کے لکھئے۔

”ہندوستان دنیا میں دالوں کی پیداوار میں تیسرا مقام ہے“

س (4) کثیر اختیاراتی سوال

درج ذیل میں خریف کے موسم کی خاص فصل ہے۔

(i) گیہوں

(ii) جو

- (iii) چاول
- (iv) چنا
- س (5) دیئے گئے جملوں کے آگے صحیح پر اور غلط پر کا نشان لگائیے۔
- (a) اوڈو ایک تاہن فصل ہے ()
- (b) سفید انقلاب کا تعلق فصلوں کی پیداوار میں اضافہ سے ہے ()
- (c) گیہوں کو سنہرا ریشہ بھی کہا جاتا ہے ()
- (d) جوار، باجرہ، راگی موٹے اناج کہے جاتے ہیں ()
- (e) ویتنام میں جھنگ (Jhumming) کاٹو اور جلاؤ کھیتی کو Ray کہتے ہیں ()
- س (6) صحیح جواب چنئے۔
- درج ذیل میں سے کون سی فصل ایک پھلی دار فصل ہے۔
- (a) دالیں
- (b) جوار
- (c) تل
- (d) موٹے اناج
- 7- ہندوستان کی چارریج اور چارخریف کی فصلوں کے نام بتائیے۔
- 8- کاروباری کاشت کی دو خوبیاں بیان کیجیے۔
- 9- دالوں اور تاہن کی فصلوں کی چار مثالیں دیجیے۔
- 10- ریشم کی پیداوار کے لیے ریشم کے کیڑے کو پالنا کھیتی کی کون سی قسم ہے؟
- 11- گزر بسر کھیتی اور منتقلی کھیتی مختلف ملکوں میں کس نام سے جانی جاتی ہیں؟
- 12- گزر بسر کھیتی کی دو خوبیاں لکھو؟
- 13- کاروباری کھیتی کی دو خوبیاں لکھو؟
- 14- آپریشن فلڈ کس سے متعلق ہے؟

15- کس فصل کو سنہری ریشہ کہا جاتا ہے؟

مختصر / طویل جواب والے سوالات (3/5 نمبر والے)

- 1- ہندوستانی معیشت میں کھیتی کی کیا اہمیت ہے؟
- 2- حکومت کے ذریعے کسانوں کے مفادات میں کئے گئے ادارہ جاتی اصلاحات کا ذکر کیجیے۔
- 3- ہندوستان میں غذا کی کمی کی پیداوار کے لیے ذمہ دار عناصر کا ذکر کرو؟
- 4- خود کفیل کھیتی اور تجارتی کھیتی میں فرق واضح کیجیے۔
- 5- چائے کی فصل کے لئے کوئی چار جغرافیائی حالات کا ذکر کرو؟
- 6- ربر اور مگن کی پیداوار کے لئے ضروری جغرافیائی حالات کا ذکر کریں؟
- 7- گنے کی کھیتی کے لئے جغرافیائی حالات کا ذکر کریں؟
- 8- چاول اور کپاس کی پیداوار کے لئے ضروری جغرافیائی حالات کا ذکر کریں۔
- 9- ہندوستان میں اگائی جانے والی چار ریسیڈار فصلوں کے نام لکھیے۔ ان میں سے کون سے ریشے سیدھے فصل اگانے سے حاصل نہیں ہوتا؟ اس کی پیداوار کے طریقے کا نام بتائیے۔
- 10- گیہوں کی کھیتی کے لئے جغرافیائی حالات کا ذکر کریں؟

ایک نمبر والے سوالوں کے جوابات

- ج (1) پن سن / کپاس سن / قدرتی ریشم
- ج (2) (i) چائے (ii) آسام
(ii) گیہوں (iv) ہریانہ
(iii) ربر (i) کیرل
(iv) گنا (iv) اتر پردیش
- ج (3) ہندوستان کا دنیا میں دالوں کی پیداوار میں پہلا مقام ہے۔

ج (4) (iii) چاول

ج (5) :-

(a) غلط ⊗

(b) غلط ⊗

(c) غلط ⊗

(d) صحیح ☑

(d) صحیح ☑

-6 دالیں

(a) -7 ریح کی فصلیں — گیہوں، چنا، جو، مٹر، سرسوں وغیرہ

(b) خریف کی فصلیں — چاول، مکا، جوار، باجرہ، ارہر اور مونگ

(a) -8 کاروباری کاشت بڑے حصے میں کی جاتی ہے۔

(b) زیادہ سرمایہ اور محنت کی ضرورت پڑتی ہے۔

(a) -9 دالیں — ارہر، مونگ، ارد، مٹر، چنا، مسور وغیرہ

(b) تاہن — مونگ پھلی، سرسوں، اسی، تل، سویا بین، ارٹڈی وغیرہ

-10 سیری کلچر

(a) -11 میکسیکو اور وسطی امریکہ میں ملپا (Milpa)

(b) برازیل میں Roca

(c) ویزولا میں Conuco

(d) افریقہ میں Masole

(e) انڈونیشیا میں Ladang

(f) ویتنام میں Ray

- 12- (i) زمین کے چھوٹے ٹکڑے پر روایتی طریقے سے کھیتی کرنا
(ii) مانسون، مٹی کی قدرتی زرخیزی اور فصل اگانے کی ماحولیاتی حالات کے موزوں ہونے پر منحصر
- 13- (i) زیادہ پیداوار کے لیے زیادہ مقدار میں کیمیائی کھادوں کا استعمال اور سینیٹائی کا استعمال
(ii) زمینوں کا سائز چھوٹا ہوے پر کئی فصلیں اگانا۔
- 14- دودھ کی پیداوار میں اضافہ
- 15- قدرتی طریقوں سے کھیتی میں کیمیائی کھادوں اور کیڑے مار دواؤں کا استعمال نہ کر کے کھیتی کرنا کاربن کھیتی کہلاتا ہے۔
- 16- جوٹ اور پنسن

3/5 نمبر والے سوالات کے جوابات

- 1- (i) دو تہائی آبادی کا کھیتی کے کام میں لگنا۔
(ii) کھیتی ایک پرائمری سرگرمی ہے۔
(iii) مختلف صنعتوں کے لیے کچا مال مہیا کرنا۔
(iv) ہندوستان کی پرانی سرگرمیاں۔
(v) پچھلی کچھ صدیوں میں کھیتی کے کاموں انقلابی تبدیلی آئی ہے۔
- 2- (i) فصل بیمہ سہولت دینا
(ii) سرکاری بینکوں کی ترقی کرکسانوں کو قرض دینے کی سہولیات دینا۔
(iii) فصلوں کی حمایت کرنا اور ان کی پیداوار بڑھانا۔
(iv) موسم سے متعلق جانکاری کسانوں کو دینا۔
(v) کھیتی سے متعلق نئی تکنیک، نئے اوزار، کیمیائی کھاد وغیرہ سے متعلق پروگرام کی جانکاری ریڈیو اور ٹی وی پر دینا
- 3- (i) غیر کاشت کاری کے استعمال کے لیے زمین کا زیادہ استعمال ہونا۔
(ii) کیمیائی کھاد کا ضرورت سے زیادہ استعمال ہونے سے زمین کی زرخیزی کم ہو رہی ہے۔
(iii) پانی کے ذخائر خشک ہو چکے ہیں۔

(iv) حیاتیاتی تناسب غائب ہوتا جا رہا ہے۔

4- خود کفیلی کھیتی:

(i) یہ کھیتی زمین کے چھوٹے ٹکڑے پر پرانے اوزاروں کی مدد سے کی جاتی ہے۔

(ii) کسان اپنے کنبے کی ضروریات کے مطابق پیداوار کرتے ہیں۔

(iii) گنجان علاقے میں یہ کھیتی کی جاتی ہے۔

(iv) دو یا تین فصلیں اگائی جاتی ہیں۔

(v) کھانے کی فصلوں پر زیادہ زور

تجارتی کھیتی:

(i) کھیتوں کا سائز بڑا ہوتا ہے۔

(ii) پیداوار برآمدات کے لئے کی جاتی ہے۔

(iii) کم آبادی والے علاقوں میں کی جاتی ہے۔

(iv) ایک خاص فصل اگائی جاتی ہے۔

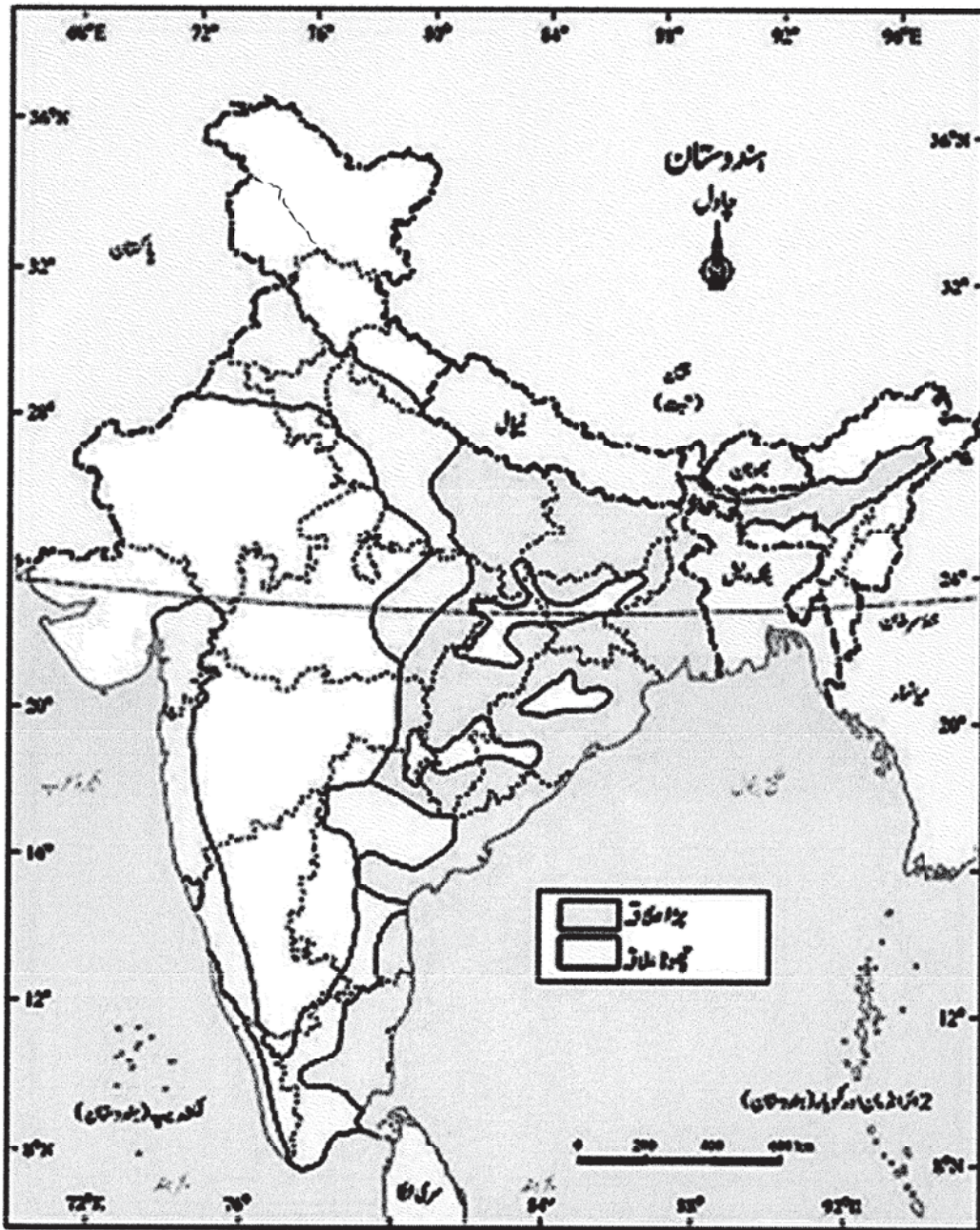
(v) گیہوں، کپاس اور گنا وغیرہ

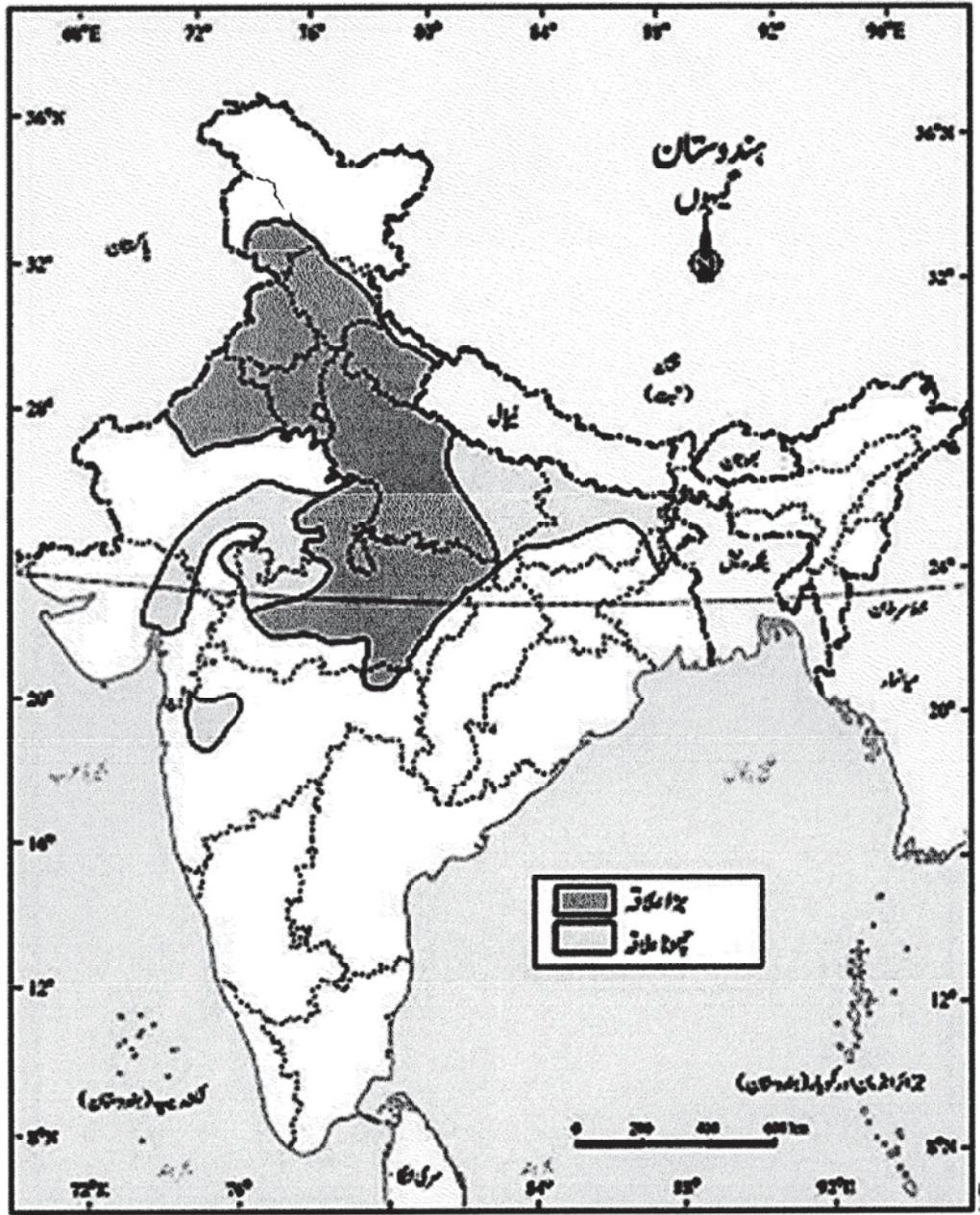
سوال نمبر 5 سے 8 اور 10 کے لئے درج ذیل جدول ملاحظہ فرمائیں۔

علاقے	آب و ہوا	بارش	مٹی	فصل	درجہ حرارت	فصل کا نام	
آسام، مغربی بنگال، تامل ناڈو، کیرل	حارّی مرطوب آب و ہوا	150 سینٹی میٹر سے 200 سینٹی میٹر	اعلیٰ پانی کی نکاسی والی مٹی	باغاتی	20 ° C سے 30 ° C	چائے	3
کیرل، آسام، تری پورہ، کرناٹک اور تامل ناڈو	گرم مرطوب آب و ہوا	300 سینٹی میٹر	مختلف النوع	باغاتی	25 ° C سے 35 ° C	رہڑ	4

5	مگ	21°C سے 27°C	خریف	سیلابی مٹی	50 سینٹی میٹر سے 100 سینٹی میٹر	مختلف طرح کی آب و ہوا	کرناٹک، اتر پردیش، بہار، مدھیہ پردیش، آندھرا پردیش
6	گنا	21°C سے 27°C	خریف	سیلابی مٹی	75 سینٹی میٹر سے 100 سینٹی میٹر	گرم اور مرطوب	اتر پردیش، تامل ناڈو، مہاراشٹر، اتر پردیش
7	چاول	24°C	خریف	سیلابی مٹی	100 سینٹی میٹر	منطقہ حارہ کی آب و ہوا	مغربی بنگال، پنجاب، ہریانہ، آندھرا پردیش، تامل ناڈو
7	کپاس	30°C	خریف	کالی اور سیلابی مٹی	50 سینٹی میٹر سے 100 سینٹی میٹر	منطقہ حارہ کی آب و ہوا	مہاراشٹر، گجرات، ہریانہ، پنجاب
8	گیہوں	10°C سے 25°C	ربیع	سیلابی مٹی	50 سینٹی میٹر سے 75 سینٹی میٹر	منطقہ حارہ کی آب و ہوا	اتر پردیش، پنجاب، ہریانہ، مدھیہ پردیش، بہار، راجستھان

- 9- (i) کپاس، جوٹ، سن اور قدرتی ریشم
(ii) کپاس، جوٹ، سن مٹی میں بوئی جاتی ہیں جبکہ ریشم کی پیداوار ریشم کے کیڑے کو کن سے ہوتی ہے۔
(iii) ریشم کے کیڑوں کو پالنا ریشم کی پیداوار کہلاتا ہے۔



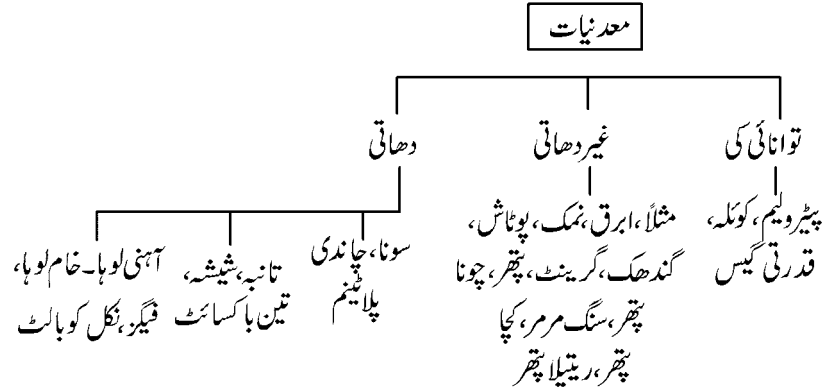


باب۔ اٹھارہ

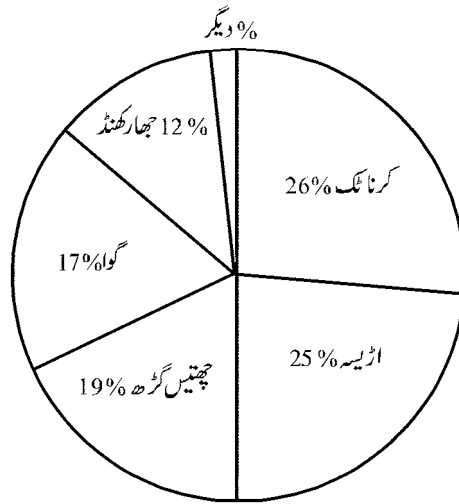
معدنیات اور توانائی کے وسائل

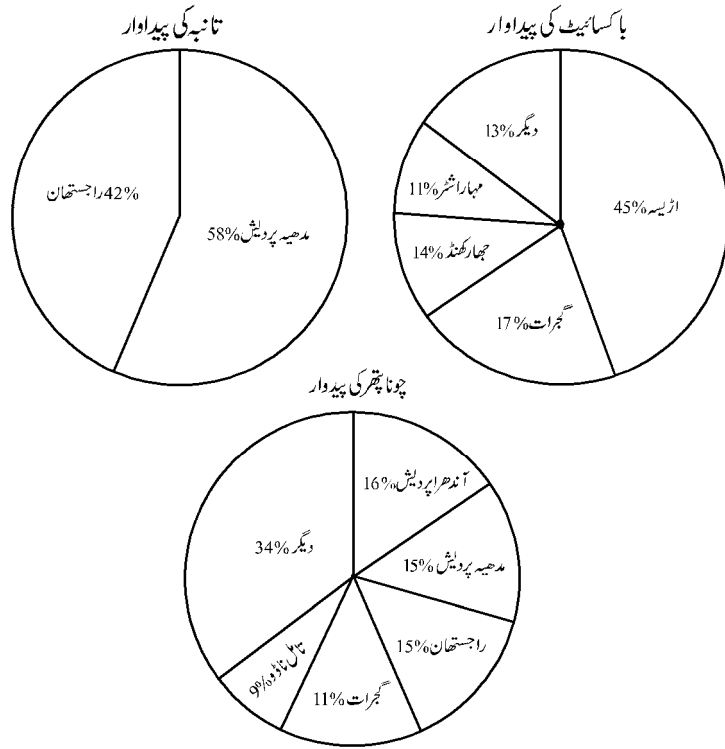
یاد رکھنے کے لائق باتیں:-

معدنیات کی درجہ بندی



آپنی معدنیات 10% دیگر





یاد رکھنے لائق نکات

- 1- معدن (Mineral): ایک قسم کا ایسا مادہ ہے جو قدرتی طور پر پایا جاتا ہے جس میں سختی، رنگ اور ایک مقررہ شکل ہوتی ہے
- 2- لیگنٹ: ایک کم درجہ کا کوئلہ
- 3- کچھ دھات (Ore): لوہا، مینگنیز، ابرق جیسے معدنیات کا آمیزہ۔ دھات ایک قسم کا ایسا مادہ ہے جو قدرتی طور پر پایا جاتا ہے یہ ہیرے کی سخت شکل میں کبھی ہوتے ہیں اور ابرق کی شکل میں نازک نرم بھی۔
- 4- ہیٹیجائٹ: صنعتوں میں استعمال ہونے والا عمدہ قسم کا لوہا جس میں 60% آہنی جزو ہوتا ہے۔
- 5- میکینٹائٹ: عمدہ قسم کی آہنی کچھ دھات جس میں 70% آہنی جزو ہوتا ہے۔
- 6- پٹرولیم: غیر خالص یا معدنی تیل
- 7- کان کنی: مفید معدنی اشیاء کو ان کے قدرتی ذخیروں سے باہر نکالنا
- 8- آہنی معدنیات: ایسے معدنیات جن میں آہنی جزو ہوتا ہے مثلاً لوہا، مینگنیز وغیرہ

- 9- ممبئی ہائی:۔ ممبئی سے 115 کلومیٹر دور بحر عرب میں واقع تیل کا علاقہ
- 10- نیوکلیائی یا ایٹمی توانائی:۔ ایٹم کے انشقاق (Fission) سے حاصل ہونے والی توانائی
- 11- بایوگیس:۔ گھاس پھوس، زراعتی کچرہ، جانوروں اور انسانوں کے فضلہ سے گیس ایندھن کی شکل میں حاصل ہونے والی توانائی
- 12- دھاتی معدنیات:۔ ایسے معدنیات جن میں دھات کے عنصر پائے جاتے ہیں۔ جیسے لوہا کچ دھات، باکسائٹ وغیرہ
- 13- غیر دھاتی معدنیات:۔ ایسے معدنیات جن میں دھات کے عنصر نہیں ہوتے۔ جیسے چونا پتھر، پوٹاشیم وغیرہ
- 14- ماہرین ارضیات:۔ وہ سائنسداں جو چٹانوں کے مطالعہ کی بنیاد پر زمین کی ساخت کا مطالعہ کرتے ہیں۔

ہندوستان میں مختلف طرح پائے جانے والے معدنیات کے علاقے

آہنی معدنیات	چھتیس گڑھ، جھارکھنڈ، گوا اور کرناٹک
مینگنیٹ	کرناٹک، اڑیسہ، مدھیہ پردیش، مہاراشٹر اور گوا
المونیم	مدھیہ پردیش، گجرات، تامل ناڈو
ایرک	بہار، آندھر پردیش، راجستھان
تانہ	مدھیہ پردیش، جھارکھنڈ، راجستھان، کرناٹک اور بہار
سونا	مدھیہ پردیش، جھارکھنڈ، چھتیس گڑھ، اڑیسہ، مغربی بنگال، آندھر پردیش،
کولڈ	مہاراشٹر
معدنی تیل	ممبئی ہائی، آسام، گجرات، اروناچل پردیش، آندھر پردیش، تامل ناڈو

ایک نمبر والے سوالات

- 1- رسوبی چٹانوں میں معدنیات کس طرح ملتے ہیں؟
- 2- آہنی کچ دھات کی سب سے عمدہ قسم کون سی ہے؟
- 3- مینگنیٹ کا استعمال کیا کیا چیزیں بنانے میں کیا جاتا ہے؟

- 4- چونہ۔ پتھر کس صنعت کا بنیادی خام مال ہے؟
- 5- مونا جائنٹ ریت میں کون سا معدن پایا جاتا ہے؟
- 6- توانائی کے غیر روایتی وسائل کون کون سے ہیں؟
- 7- سب سے بڑا شمسی توانائی کا مرکز کہاں واقع ہے؟
- 8- ہندوستان میں ارضی حراری توانائی کے دو منصوبے کہاں پر واقع ہیں؟
- 9- ریٹ ہول کان کنی کیا ہے؟ یا چوہے کے بل کی کان کنی کیا ہے؟
- 10- بمبئی ہائی کس لیے مشہور ہے؟
- 11- کون سا معدن سب سے سخت ہے اور کیوں؟
- 12- سمندری پانی سے کون سا معدن حاصل کیا جاتا ہے؟
- 13- کس معدن کی پیداوار ہندوستان میں سب سے زیادہ ہے؟
- 14- تانبہ کی اہمیت پر روشنی ڈالے۔
- 15- عمدہ قسم کے کوئلہ کا نام بتائیے۔
- 16- ہندوستان میں سب سے بڑی ہوائی توانائی پٹی کہاں واقع ہے؟

مختصر / طویل جواب والے سوالات (3/5 نمبر)

- 1- 'معدنیات کی ہماری زندگی میں کیا اہمیت ہے؟
- 2- معدنیات کتنے طرح کے ہوتے ہیں؟ ان کا بٹوار کس بنیاد پر کیا جاتا ہے؟
- 3- آتشیں یا تغیر پذیر چٹانوں میں معدنیات کیسے بنتے ہیں؟
- 4- آہنی اور غیر آہنی معدنیات کے درمیان فرق واضح کیجیے۔
- 5- کچے لوہے کی تین خاص خاص پٹیاں کون کون سی ہیں؟
- 6- ابرق کس شکل میں پایا جاتا ہے؟ ہندوستان میں اس کے خاص علاقے کون سے ہیں؟ ابرق کے خاص استعمال کیا ہیں؟

- 7- ہندوستان میں گیس آمدورفت کی صدی کہی جانے والی پائپ لائن کا نام لکھیے اور قدرتی گیس کے دو خاص استعمال کا ذکر کیجیے۔
- 8- 'ہندوستان میں شمسی توانائی کا مستقبل روشن ہے'۔ وضاحت کیجیے۔
- 9- ممبئی ہائی کیوں مشہور ہے؟ ملک کی معیشت میں اس کا کیا مقام ہے؟
- 10- حرارتی (تھرمل) بجلی اور آبی بجلی کے درمیان فرق واضح کیجیے۔
- 11- کان کانی کی صنعت کو خطرناک صنعت کیوں کہا جاتا ہے؟
- 12- ہم توانائی کی حفاظت کس طرح کر سکتے ہیں؟
- 13- ہمیں معدنیات کی حفاظت کی ضرورت کیوں ہے؟ اس کی حفاظت کے طریقے بھی بتائیے۔

ایک نمبر والے سوالوں کے جوابات

- 1- رسوبی چٹانوں میں معدنیات پرتوں یا سنٹروں میں پائے جاتے ہیں
- 2- میگنیشیئم، اس میں 70% لوہا پایا جاتا ہے
- 3- اسپت، بلچنگ پاؤڈر، کیڑے مار دوائیں اور رنگ بنانے میں استعمال ہوتا ہے
- 4- سینٹ صنعت میں
- 5- تھوریم
- 6- آبی توانائی اور شمسی توانائی اور ارضی توانائی، ہوائی توانائی
- 7- بھج کے قریب مادھاپور (گجرات)
- 8- ہماچل پردیش میں منی کرن کے نزدیک اور دوسرا الدراخ کے پوگا وادی میں
- 9- جوانی اور چیراپونجی علاقوں میں کولے کی کھدان خاندان کے افراد کے ذریعے ایک لمبی سرنگ کے ذریعے کی جاتی ہے
- 10- ہندوستان کا سب سے بڑا پٹرولیم پیدا کرنے والا علاقہ ہے 63%
- 11- ہیرا سب سے سخت ہوتا ہے
- 12- میکینیشیم، نمک اور برومان
- 13- ابرق

14- بجلی کے تار بنانے، الیکٹرانک اور کیمیائی صنعتوں میں ہوتا ہے

15- Bituminous Coal اور اتھر اسائٹ

16- تامل ناڈو میں ناگرکول اور جیسلمیر راجستھان میں ہیں

3/5 نمبر والے سوالوں کے جوابات

1- روزانہ کی زندگی میں کام آنے والی چیزیں چھوٹی پن اور سوئی سے لے کر ہوائی جہاز تک معدنیات سے بنائے جاتے ہیں

— عمارتیں پل بھی معدنیات سے بنائے جاتے ہیں

— مشینیں، بڑے بڑے اوزار بھی معدنیات سے بنائے جاتے ہیں

— آمدورفت کے ذرائع، برتن وغیرہ بھی معدنیات سے بنائے جاتے ہیں

2- معدنیات تین طرح کے ہوتے ہیں:

— دھاتی غیر دھاتی توانائی کے

— معدنیات کو ان کی بناوٹ، رنگ، چمک، سختی، گھٹنا پن اور کرسٹل کی بنا پر بانٹا جاتا ہے

3- آتشیں یا تغیر پذیر چٹانیں: — ان چٹانوں میں معدنیات، شگافوں، سوراخوں، چٹانوں گہرائیوں اور جوڑوں میں واقع ہو سکتی ہیں۔ کم مقدار میں دھات پائے جانے کو زنگ کہا جاتا ہے جبکہ بڑی مقدار کو پرت (Lode)۔ زیادہ تر حالتوں میں معدنیات اس وقت ملتی ہیں جب وہ رقیق یا پگھلی شکل میں یا پھر گیس کی صورت میں سوراخوں کے ذریعے زمین کی اوپری سطح پر آتی ہیں۔ یہاں آکر وہ ٹھنڈی اور سخت ہو جاتی ہیں جیسے ٹن، تانبہ اور سیسہ وغیرہ

4- آہنی معدنیات: — ایسی معدنیات جن میں لوہا بطور جزو ترکیبی موجود ہوتا ہے۔

مثال: — مینیکیزو، نکل اور کوبالٹ

— غیر آہنی معدنیات: — ایسی معدنیات جن میں لوہا موجود نہیں ہوتا ہے۔

مثال: — تانبہ، سیسہ، جست (زنک)، باکسائٹ وغیرہ

5- اوڈیشہ، جھارکھنڈ پٹی

— درگ، بستر، چندر پور پٹی

- کرنا ٹک، کالا ہاڑی، چتر درگ، چک منگھور پٹی
- مہاراشٹر اور گوا پٹی
- 6- — ابرق ایک ایسا معدن ہے جو پتلیوں یا پتھریوں کے ایک سلسلے سے بنتا ہے۔ یہ آسانی سے چادروں میں پھٹ جاتا ہے۔ یہ صاف، کالا، ہر، لال، پیلا اور بھورا ہو سکتا ہے۔ ابرق الیکٹرانک اور برقی صنعتوں میں استعمال ہوتا ہے
- یہ چھوٹا ناگپور سطح مرتفع کے شمالی کناروں کے علاقوں میں پائے جاتے ہیں
- جھارکھنڈ کا کوڈرما، گیا، ہزاری باغ یہ ابرق پیدا کرنے والی اہم پٹی ہے
- راجستھان میں ابرق پیدا کرنے والا خاص علاقہ اجمیر کے پاس ہے
- آندھرا پردیش کا نیلور پٹی ملک میں ابرق پیدا کرنے والا اہم علاقہ ہے
- 7- — 1700 کلومیٹر لمبا ہزیرا-بیجا پور-جگدیش پور گیس پائپ لائن
- ممبئی ہائی اور بسنن کی شمالی اور مغربی ہندوستان کو کیمیائی کھاد، توانائی اور صنعتی مرکبات کے ساتھ جوڑتی ہے۔
- اس لائن نے ہندوستان کی گیس پیداوار کو ایک قوت فراہم کی ہے، بجلی اور کیمیائی صنعتیں قدرتی گیس کو سب سے زیادہ استعمال کرنے والی اکائیاں ہیں
- رقیق ایندھن کے بدلے لگاڑیوں کو چلانے کے لیے سی این جی کا استعمال بہت مقبول ہو رہا ہے
- 8- — ہندوستان ایک گرم ملک ہے اس کے پاس شمسی توانائی کو حاصل کرنے کے بہت امکانات ہیں
- یہ آلودگی سے پاک ہے
- شمسی توانائی قابل تجدید توانائی کا ذریعہ ہے
- ڈل کلاس کے لوگ آسانی سے شمسی توانائی سے استفادہ کر سکتے ہیں
- یہ زراعت کے لیے کھادوں کی سپلائی میں بھی اپنا تعاون دے گا
- 9- — **حرارتی بجلی:** اسے کوئلہ، پٹرولیم اور قدرتی گیس کے ذریعے بنایا جاتا ہے
- مستقل ذریعہ نہیں ہے
- آلودگی سے مبرا نہیں ہے
- آبی بجلی:** اونچائی سے گرتے ہوئے پانی کی طاقت کا استعمال کر کے ٹربائن کو گھمایا جاتا ہے جس سے بجلی پیدا ہوتی ہے

- مستقل ذریعہ ہے
- آلودگی سے مبرا ہے
- 10- ممبئی کے نزدیک سمندر میں واقع معدنی تیل کا علاقہ ممبئی ہائی کہلاتا ہے
- ہندوستان کی پٹرولیم پیداوار کا تقریباً 63% تیل بمبئی ہائی سے ملتا ہے
- اس سے غیر ملکی کرنسی کی بچت ہوتی ہے
- 11- دھول اور زیر زمین دھوئیں جو کھدائی کرنے والوں کے سانسوں کے ذریعے ان کے پھیپھڑوں میں جاتا ہے
- ان سے انھیں خطرناک پھیپھڑوں کی بیماری ہو جاتی ہے
- کانوں کی چھتوں کے گرنے کے اندیشے سے کونلہ کی کانوں میں آتش زدگی، سیلاب کا خطرہ ان کے سر پر
- منڈلاتا رہتا ہے
- کھدائی کے سبب اس علاقے میں پانی کے ذرائع آلودہ ہو جاتے ہیں
- فضلات کا ڈھیر زمین اور مٹی کی عمر کو کم کرتا ہے اور ندی اور تالابوں کو آلودہ کرتا ہے
- 12- ضروری نہ ہونے پر بجلی کا سوئچ بند کر دینا چاہیے
- اپنی انفرادی سواری کے بجائے پبلک ٹرانسپورٹ کا استعمال کر سکتے ہیں
- محدود توانائی کے ذرائع کا استعمال دانشمندی سے کریں
- قابل تجدید وسائل کا استعمال کرنا چاہیے
- بجلی کھپت کرنے والے آلات کا استعمال کرنا چاہیے اپنے گھروں میں
- 13- ہم سبھی صنعت و زراعت کے معدنی ذخیرے پر مکمل انحصار کرتے ہیں
- یہ معدنیات قابل تجدید وسائل نہیں ہیں
- ان کے وسائل محدود ہیں اور ان کی مقدار کم ہے

— ان کے بننے اور جمع ہونے میں ہزاروں سال لگتے ہیں

— انھیں آنے والی نسلوں کے لیے سنبھال کر رکھنا چاہیے

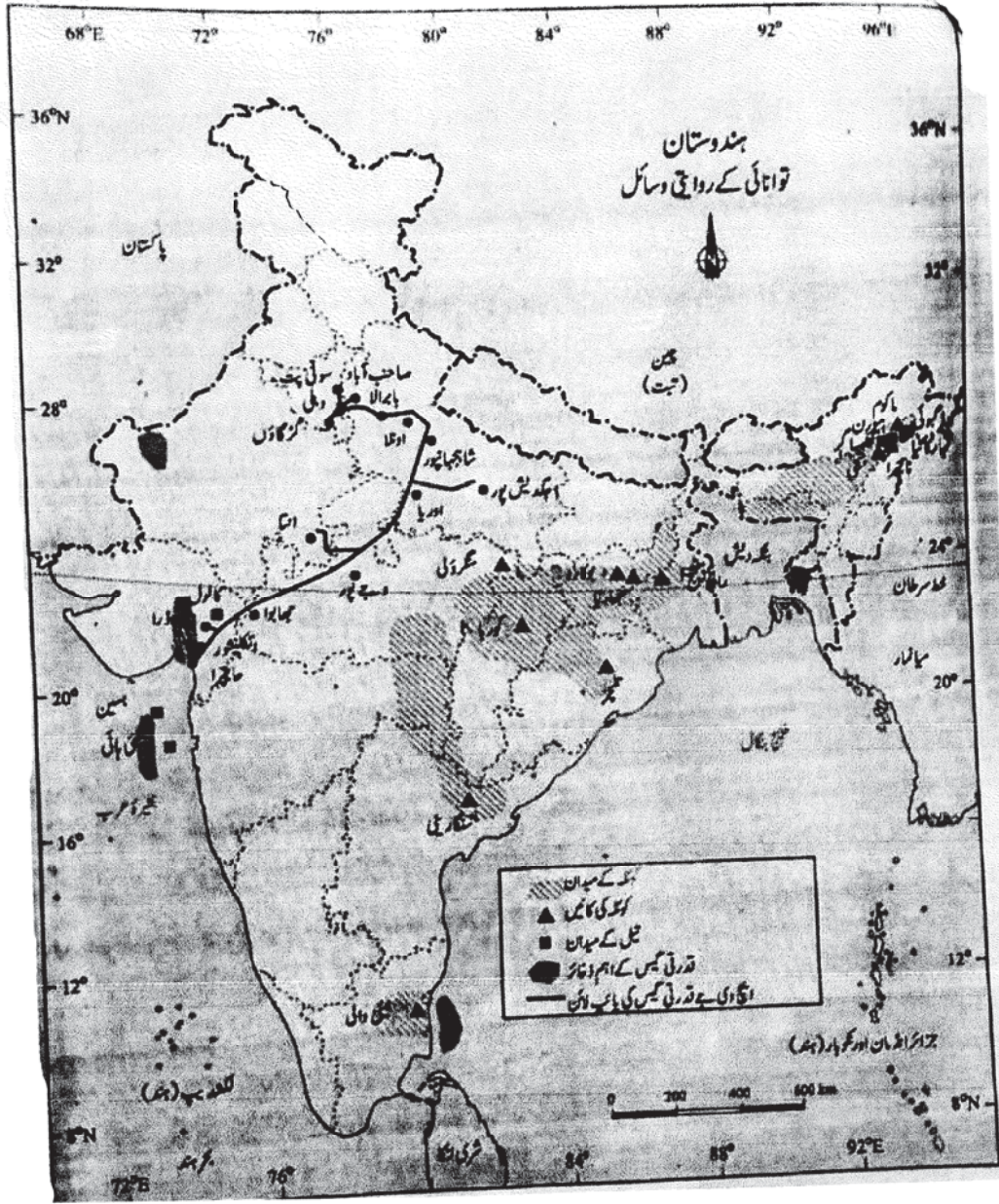
اس کے تحفظ کے طریقے

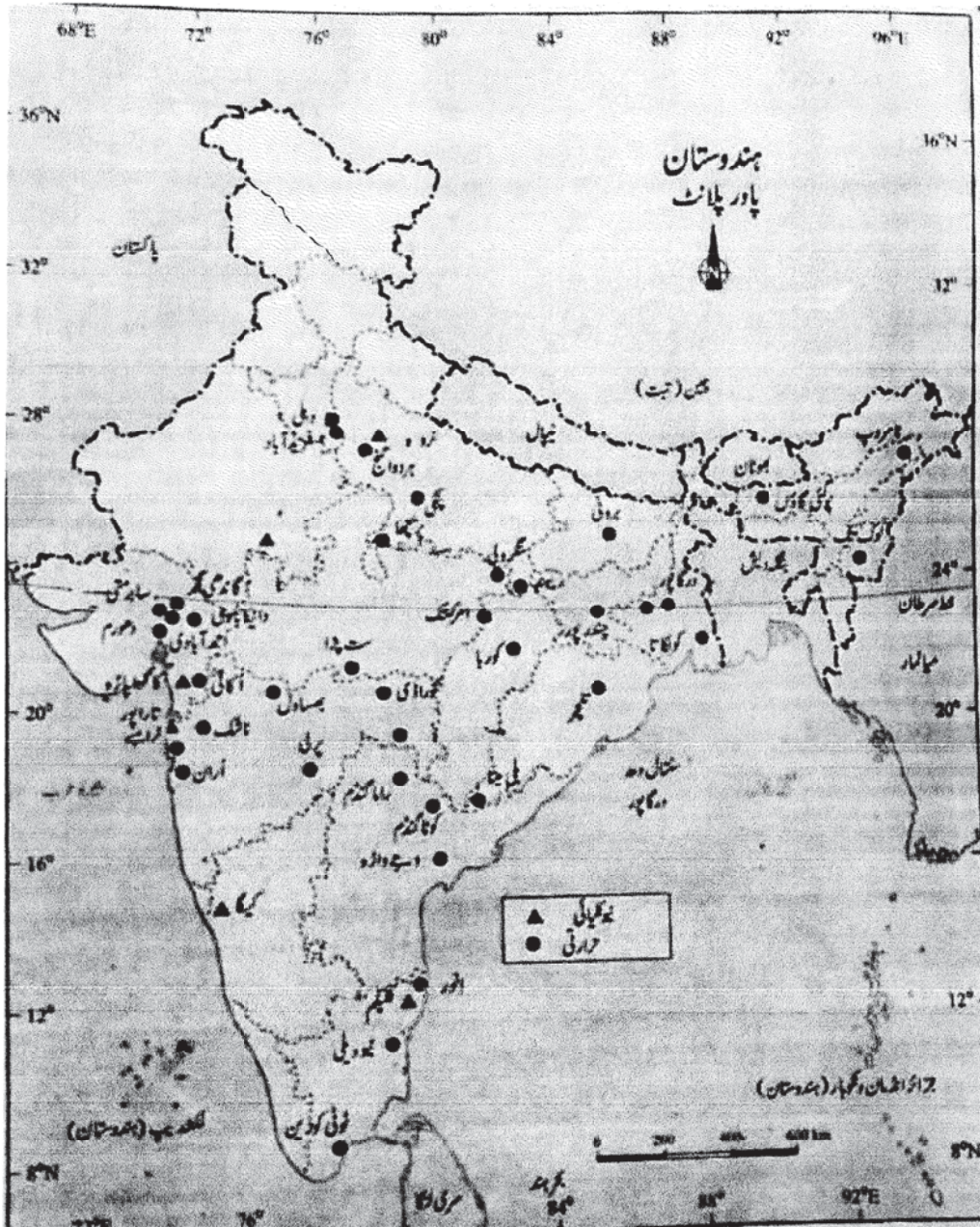
— ادنیٰ قسم کی خام چیزوں کو کم قیمت میں استعمال کرنے کے لیے اعلیٰ قسم کی ٹیکنالوجی کو بھی اپنانے کی ضرورت ہے

— جہاں تک ممکن ہو پلاسٹک اور لکڑی کا استعمال کریں

— رڈی اور پرانے مال کا دوبارہ استعمال کرنا چاہیے

— اس طرح کے دوسرے متبادل ایسے اقدامات ہیں جو ہمارے معدنی وسائل کا مستقبل تک تحفظ کر سکتے ہیں





باب۔ انیس

سامان تیار کرنے والی صنعتیں

یاد رکھنے لائق نکات

- 1- سامان سازی (Manufacturing):— خام مال کا استعمال کر کے مشینوں کے ذریعے بڑی مقدار میں قیمتی اشیاء بنانے کا عمل سامان سازی کہلاتا ہے۔
- 2- صنعت (Industry):— سامان سازی کی وسیع شکل صنعت کہلاتی ہے۔
- 3- بنیادی صنعتیں:— ایسی صنعتیں جو دوسری صنعتوں کے لیے اپنے مال کو خام مال کی شکل میں سپلائی کرتی ہیں۔ مثلاً لوہا اور فولاد کی صنعت
- 4- زراعت پر منحصر صنعتیں:— ابتدائی ایشیا زراعی پیداوار کو صنعتی پیداوار میں تبدیل کرنے والی صنعتیں
- 5- چھوٹے پیمانے کی صنعتیں:— ایسی صنعتی اکائیاں جنہیں کم سرمائے اور تھوڑے مزدوروں کی مدد سے چلایا جاتا ہے۔
- 6- گھریلو صنعتیں:— چھوٹی مشینوں کی مدد سے اہل خانہ کے ذریعے گھروں میں چلائی جانے والی صنعتیں۔ مثلاً کھادی، دستکاری
- 7- بھاری صنعتیں:— ایسی صنعتی اکائیاں جن میں بھاری خام مال کا استعمال کیا جاتا ہے مثلاً لوہا اور اسٹیل صنعت، چینی صنعت، سیمنٹ صنعت وغیرہ
- 8- نجی شعبہ کی صنعتیں:— کسی ایک فرد یا کئی افراد کے ذریعے چلائی جانے والی صنعتیں مثلاً ڈاٹر، بجاج آٹو لمیٹڈ، ٹسکو انڈسٹریز
- 9- عوامی شعبہ کی صنعتیں:— حکومت کی ملکیت والی اور حکومت کے زیر کنٹرول صنعتیں جیسے SAIL، BHEL
- 10- مشترکہ شعبوں کی صنعتیں:— جو مشترکہ طور پر سرکار اور فرد واحد یا کسی گروپ کے ذریعے چلائی جاتی ہیں جیسے OIL انڈیا لمیٹڈ
- 11- کوآپریٹو شعبوں کی صنعتیں:— یہ صنعتیں اشیاء تیار کرنے والے یا خام مواد فراہم کرنے والے مزدور یا دونوں کے ذریعے

چلائی جاتی ہیں اور دونوں کے پاس ان کی ملکیت ہوتی ہے اور نفع اور نقصان کے برابر حصے ہوتے ہیں

مثلاً: مہاراشٹر کی چینی صنعت اور کیرل کی ناریل کے ریشہ کی صنعت

12- غیر ملکی زرمبادلہ: — ایک ملک کی کرنسی کو دوسرے ملک کی کرنسی میں تبدیل کرنے کا عمل۔

13- زرمبادلہ: — کرنسی کا وہ روپ جس سے درآمدات و برآمدات کو خرید اور بیچا جاتا ہے۔

14- معدنیات پر مبنی صنعتیں: — وہ صنعتیں جو معدنیات کو خام مال کے طور پر استعمال کرتی ہیں۔ بجلی کے پنکھے، سلائی مشین، ٹیلی فون

یا درکھنے کے لائق باتیں

(16)۔: پیداوار کی اہمیت:۔ پیداواری شعبہ کو عام طور پر ترقی کی ریڑھ کی ہڈی کے طور پر مانا جاتا ہے۔

(i) یہ زراعت کو جدید بناتی ہے۔

(ii) ثانوی اور ثالثی شعبے میں لوگوں کو روزگار مہیا کرتی ہے۔

(iv) علاقائی تفریق کو کم کرتی ہے۔

(v) ایکسپورٹ کرنا تجارت اور کامرس کو وسعت دیتا ہے۔

(17)۔: صنعتی محل وقوع (i) زر کی فراہمی

(i) خام مواد کی فراہمی

(ii) مزدوروں کا ملنا

(iv) بجلی کی فراہمی

(v) بازار کی موجودگی

(v) نقل و حمل کی آسانی

(18)۔: زراعت پر منحصر صنعتیں:۔ مثال کے طور پر کپاس، جوٹ اور چینی چائے۔ کافی، کھانے کا تیل وغیرہ

(19)۔: معدنیات پر منحصر صنعتیں:۔ لوہا، اسپت، سمنٹ کی صنعتیں، قیمتی اوزار اور پٹرول و کیمیکل

(20)۔: دھات سے متعلق دوسری صنعت:۔ المونیم، تانبہ وغیرہ

(21):- صارفین صنعت:- جو صارفین کے براہ راست استعمال کے لئے اشیاء بناتی ہے۔ جیسے، چینی، ٹوتھ پیسٹ، کاغذ، سلائی مشین، پکھے وغیرہ۔

(22):- ملکیت کی بنیاد پر:- عوامی شعبے جو سرکاری ایجنسیوں کے ذریعے چلائے جاتے ہیں اور وہ سرکاری ملکیت ہے

مثلاً BHEL SATC

(23):- نجی شعبوں کی صنعتیں:- جو کسی فرد واحد یا کسی ایک گروپ کے ذریعے چلائی جاتی ہے۔ مثلاً ڈاٹر، بجاج آٹو لمٹیڈ اور TISCO انڈسٹریز

(24):- مشترکہ شعبوں کی صنعتیں:- جو مشترکہ طور پر سرکار اور فرد واحد یا کسی گروپ کے ذریعے چلائی جاتی ہیں۔ مثلاً Oil انڈیا لمٹیڈ

(25):- کوآپریٹو شعبوں کی صنعتیں:- اشیاء تیار کرنے والے یا خام مواد فراہم کرنے والے مزدوروں یا دونوں کے ذریعے چلائی جاتی ہیں جیسے مہاراشٹر کی چینی کی صنعت کیرل کی ناریل کے ریشہ کی صنعت۔

(26):- صنعتی آلودگی اور ماحولیاتی انحطاط:-

(1) فضائی آلودگی:- صنعتوں کے ذریعے سلفر ڈائی آکسائیڈ کاربن مولو آکسائیڈ Let میں چھوڑتی ہے اس میں کاغذ اور کیمیکل فیکٹریاں لاینٹ بنانے والی بھی ریفائنری اور پگھلانے والے پلانٹ شامل ہیں۔

(2) آبی آلودگی:- آبی آلودگی نامیاتی اور غیر نامیاتی صنعتی فضلات اور رڈی کی وجہ سے پھیلتی ہے کاغذ کا گود کیمیکل ٹیکسٹائل اور رنگ بناتے ہیں۔ پیٹرولیم ریفائنریاں چمڑہ تیار کرنے والے اور رنگنے والے کارخانے آبی آلودگی کے ذمے دار ہیں۔

(c) تھرمل آلودگی:- فیکٹریوں اور تھرمل پلانٹ کا گرم پانی ٹھنڈا کرنے سے پہلے دریاؤں اور تالابوں میں ڈالا جاتا ہے یہ کینسر و وضع حمل میں کمزوریوں کا سبب بنتی ہیں۔

(d) صوتی آلودگی:- اس کی وجہ سے قوت سماعت (سننے) میں کمی حرکت قلب اور Blood Presene کی تیزی بھی پیدا ہو سکتی ہے۔

ایک نمبر والے سوالات

1- سامان سازی کسے کہتے ہیں؟

- 2- کون سے عوامل کسی صنعت کو قائم کرنے میں اہم رول ادا کرتے ہیں؟
- 3- سامان سازی کی کیا اہمیت ہے؟
- 4- صنعتوں کے قیام کو اثر انداز کرنے والے کون کون سی وجوہات ہیں؟
- 5- بنیادی صنعتیں کسے کہتے ہیں؟
- 6- ہندوستان کا کون سا آئرن اینڈ اسٹیل پلانٹ جرمنی کی مدد سے قائم کیا گیا ہے؟
- 7- پہلا کامیاب کپڑا کب اور کہاں لگایا گیا؟
- 8- کون سی ایجنسی پبلک سیکٹر میں اسٹیل بازار میں مہیا کرواتی ہے؟
- 9- سیمنٹ بنانے کی صنعتیں گجرات میں ہی کیوں لگائی گئیں؟
- 10- پہلی سیمنٹ بنانے کی صنعت کب اور کہاں لگائی گئی؟
- 11- کس شہر کو ہندوستان کی الیکٹرانک راجدھانی کے طور پر جانا جاتا ہے؟
- 12- ثانوی سرگرمی کا کیا مطلب ہے؟
- 13- کون سی صنعت میں خام مادے کے طور پر چونا پتھر کا استعمال کیا جاتا ہے؟
- 14- پیرامبورکس لیے مشہور کس لیے مشہور ہے؟
- 15- دنیا میں پٹ سن کی پیداوار کرنے والا سب سے بڑا ملک کون سا ہے؟
- 16- بھلائی اسپتال کا کارخانہ کس ریاست میں ہے؟
- 17- ہوائی آلودگی کو بڑھاوا دینے والی صنعتوں کے نام بتاؤ۔
- 18- صوتی آلودگی کو بڑھاوا دینے والے صنعتوں کے نام بتاؤ۔
- 19- ہندوستان کے نقشے پر خاص خاص سوئی کپڑوں کی صنعتوں کو دکھائیے۔
- سوال (20) کونسی صنعت چوڑے پتھر کا استعمال کچے مال کی شکل میں کرتا ہے۔
- سوال (21) کلکتہ، بندرگاہ پر بوجھ کم کرنے کے لئے کونسی خاص بندرگاہ بنائی گئی۔

سوال (22) ہندوستان میں سوتی کپڑا بنانے کے دو مشہور مرکز کے نام لکھئے۔

سوال (23) کس شہر کو ہندوستان کی الیکٹرانک راجدھانی کے سے جانا جاتا ہے۔

مختصر / طویل جواب والے سوالات (3/5 نمبر)

- 1- صنعتوں کے محل وقوع کے لیے کوئی تین طبیعی وجوہات کو بیان کریں۔
 - 2- کسی صنعت کے جائے وقوع کے لیے تین انسانی وجوہات کو بیان کریں۔
 - 3- عوامی شعبہ (پبلک سیکٹر) اور نجی شعبہ کی صنعتوں کے درمیان فرق واضح کیجئے۔
 - 4- ہندوستان کی زیادہ تر جوٹ ملیں مغربی بنگال میں کیوں واقع ہیں؟
 - 5- ایشیا سازی کی صنعت (مینیوفیکچرنگ انڈسٹری) کو ہندوستان کی اقتصادی ترقی کی ریڑھ کی ہڈی مانا جاتا ہے۔ وجہ بیان کیجئے
 - 6- چینی صنعت کو درپیش چیلنجز کون کون سے ہیں؟
 - 7- زراعت اور صنعت ایک دوسرے سے جدا نہیں ہیں بلکہ ایک دوسرے کے متبادل ہیں۔ وضاحت کیجئے۔
 - 8- سوتی کپڑے کی صنعت کو کون سے مسائل درپیش ہیں؟
 - 9- ہمارے ملک کے لیے سیمنٹ کی صنعت کو فروغ بہت اہم ہے۔ وجہ بیان کیجئے۔
 - 10- ہندوستان میں عالمگیر ترقی اور غیر ملکی براہ راست سرمایہ کاری نے کس طرح موٹر گاڑیاں صنعتوں نے ترقی کی ہے؟
 - 11- جوٹ صنعت کو کن کن پریشانیوں کا سامنا کرنا پڑتا ہے؟
 - 12- صنعتوں کی وجہ سے ماحولیاتی انحطاط کو کم کرنے کے لیے اختیار کی جانے والی تدابیر بتائیے۔
 - 13- مواصلاتی ٹیکنالوجی اور الیکٹرانک صنعتوں نے ہندوستانی معیشت کی ترقی میں کیا رول ادا کیا ہے؟
- سوال (14) صنعتی سرگرمیاں شہر کاری دونوں ساتھ ساتھ چلتے ہیں اس قول کی وضاحت کیجئے۔
- سوال (15) کپاس صنعت کو کن پریشانیوں کا سامنا کرنا پڑ رہا ہے۔
- سوال (16) چھوٹا ناگپور پٹھا کے علاقے میں لوہے اور اسٹیل کی صنعت کیوں مرکوز ہیں؟

سوال (17) ہندوستان لوہے اور اسٹیل پیدا کرنے والا ایک اہم ملک ہے پھر بھی ہم اب تک اپنی پوری صلاحیت کا مظاہرہ نہیں کر پارہے ہیں وجوہات بتائیے۔

سوال (18) جوٹ کی صنعت ہنگلی ندی کے کنارے ہی کیوں مرکوز ہے وجہ بتائیں؟

ایک نمبر والے سوالوں کے جوابات

- 1- خام مال کا استعمال کر کے مشینوں کے ذریعے بڑی مقدار میں قیمتی اشیاء بنانے کا عمل سامان سازی کہلاتا ہے۔
- 2- سرمایہ اور کم پیداواری لاگت
- 3- سامان سازی کی ترقی اور کھیتی کی پیداوار اور سامان سازی کی وجہ سے ہی ملک ترقی کرے گا
- 4- پونجی (سرمایہ) اور کم پیداواری لاگت کچے مال فراوانی، بازار
- 5- ایسی صنعتیں جن کا پیداوار اور کچے مال پر دوسری صنعتیں منحصر ہوں جیسے لوہا، اسپت صنعتیں، ایلیمینیم صنعت وغیرہ
- 6- درگا پور
- 7- 1854 میں بمبئی میں
- 8- SAIL یعنی اسٹیل اتھارٹی آف انڈیا
- 9- گجرات سے اس صنعت کو کھانڈی ملکوں میں ایکسپورٹ کرنے کی سہولیات موجود ہیں۔
- 10- 1904 میں چینئی میں
- 11- بنگلورو
- 12- ثانوی سرگرمیوں میں لوگ کچے مال کی شکل بدل کر ان سے چیزیں بناتے ہیں۔
- 13- سیمنٹ کی صنعت
- 14- ریل گاڑی اور مال گاڑی کے ڈبے بنانے کے لیے
- 15- بنگلور دیش
- 16- چھتیس گڑھ
- 17- کانڈور کیمیکل فیکٹریاں، ریفاکٹری اور پگھلانے والے پلانٹ اور اینٹ بنانے والے بھٹے

18- صنعتی اور تعمیراتی سرگرمیاں، مشینی کام، فیکٹری کے آلات، جزیرے، ہوائی اور کھربائی ڈریل

ج(20) سمٹ کی صنعت چونا پتھر کا استعمال کچے مال کی شکل میں کرتی ہے۔

ج(21) ہلدیہ بندرگاہ کو کلکتہ بندرگاہ پر بوجھ کم کرنے کے لئے بنایا گیا ہے۔

ج(22) ممبئی اور احمد آباد

ج(23) بنگلور و Bengluru

3/5 نمبر والے سوالوں کے جوابات

1- — کچے مال کی فراوانی

— طاقتوں کا ملنا

— آب و ہوا کا ماحول کے مطابق ہونا

2- — انسانی ضرورت

— مزدور

— سرمایہ

— بازار

— آمدورفت کے ذرائع کی سہولیات

3- — عوامی شعبہ کی صنعتیں:— وہ صنعتیں جو سرکاری ایجنسیوں کے ذریعے چلائی جاتی ہیں اور وہ ریاستی یا مرکزی

سرکاری ملکیت ہوتی ہیں۔ مثال کے طور پر بھارتیہ ریل، بھلائی درگا پور وغیرہ میں لوہا اور اسٹیل کی صنعتیں، جہاز رانی کی صنعت وغیرہ

— نجی شعبہ کی صنعتیں:— یہ صنعتیں کسی فرد یا کسی ایک گروپ کے ذریعے چلائی جاتی ہیں۔ مثال کے طور پر

ڈابر، بجاج آٹو لمیٹڈ۔ ٹاٹا آئرن اسٹیل کمپنی۔

4- — مغربی بنگال جوٹ (پٹسن) کا گھر ہے۔

- ہندوستان میں سب سے زیادہ جوٹ اسی ریاست میں پیدا ہوتا ہے۔
- اس صنعت کے لیے پانی کی بہت زیادہ ضرورت پڑتی ہے جو ہنگامی ندی سے حاصل ہو جاتا ہے۔
- اس صنعت کے لیے کونلہ اور لوہے کی ضرورت پڑتی ہے جو نزدیک واقع رانی گنچ کی کانوں سے دستیاب ہو جاتا ہے۔
- 5- سامان سازی (Manufacturing):— خام مال کا استعمال کر کے مشینوں کے ذریعے بڑی مقدار میں قیمتی اشیاء بنانے کا عمل سامان سازی کہلاتا ہے۔

اہمیت

- کسی ملک کی معیشت اور لوگوں کی زندگی میں اہم رول ادا کرتی ہے
- روزمرہ کی ضروریات کو پورا کرتی ہے
- غیر ملکی زرمبادلہ حاصل کرنے میں مدد ملتی ہے
- قومی آمدنی میں اضافہ ہوتا ہے
- بے روزگاری اور غربتی کو دور کرنے میں مددگار ہے
- 6- — یہ صنعت موسمی نوعیت کی صنعت ہے
- پیداوار کا طریقہ پرانا اور ادنیٰ درجہ کا ہے
- گنے کو ملوں تک پہنچانے میں دیر ہو جاتی ہے
- گنے کی کھوئی کو زیادہ سے زیادہ استعمال کرنے کی ضرورت ہے
- 7- — زراعت سے متعدد صنعتوں کو خام مال حاصل ہوتا ہے جیسے کپاس، جوٹ، گنا
- صنعتی ترقی کے لیے ایک ٹھوس بنیاد تیار کرتی ہے
- صنعتوں کی وجہ سے ہی زرعی پیداوار میں اضافہ ممکن ہے
- آبپاشی کے لیے پمپ، فرٹیلائزر، کیڑے مار دوائیں، مشینیں وغیرہ صنعتوں کے ذریعے تیار کی جاتی ہیں
- 8- — پرانے اور روایتی طریقے
- لمبی ریشے والی کپاس کی پیداوار میں کمی ہونے کی وجہ سے باہر کے ملکوں میں کپڑے کی مانگ کم ہونا
- بجلی کی سپلائی پریشان کن ہے
- خاص طور سے بنائی اور پروسینگ شعبوں میں مشینری کو بہتر کرنے کی ضرورت ہے

- مزدوروں کی کم پیداوار، مصنوعی کپڑا، صنعت کے ساتھ سخت مقابلہ جیسی دوسری پریشانیوں بھی ہیں
- 9- — عمارتوں، فیکٹریوں، سڑکوں، باندھوں، پلوں، گھروں، ہوائی اڈوں اور دیگر صنعتی مقامات کی تعمیر میں سینٹ کی ضرورت ہوتی ہے۔
- ہندوستان میں اعلیٰ درجہ کا سینٹ تیار کیا جاتا ہے۔
- یہ صنعت پیداوار کے علاوہ برآمدات کے معاملے میں بھی اچھی کارکردگی کا مظاہرہ کر رہی ہے
- 10- — عالمگیریت کی ترقی کے ساتھ ساتھ نئے نئے اور جدید ٹرانسپورٹ کا بازار میں آنا۔ اسکوٹی اور بانگ گاڑیوں کی مانگ بڑھی۔ کار، اسکوٹر، دو پہیہ اسکوٹر میں فروغ آیا
- فی الحال پندرہ کارخانے مسافر گاڑیاں اور مختلف مقاصد میں کام آنے والی گاڑیاں بناتی ہیں جن میں 9 تجارتی گاڑیاں بناتے ہیں اور چودہ دو پہیہ اور سہ پہیہ گاڑیاں بناتی ہیں
- 11- — اس صنعت کو بہت سے چیلنجوں کا سامنا ہے خاص طور سے جوٹ کے مصنوعی متبادل آجانے سے بین الاقوامی بازار میں اسے سخت مقابلہ ہے
- علاوہ ازیں اس ضمن میں بنگلہ دیش، برازیل، فلپائن اور تھائی لینڈ جیسے ممالک سے سخت مقابلہ ہے
- 12- — صنعتی کاموں میں پانی کا کم سے کم استعمال
- پانی کو دو یا دو سے زیادہ لگا تار مرحلوں میں گردش دے کر اور دوبارہ استعمال کر کے پروسیسنگ کے لیے استعمال والے پانی کو کم سے کم کرنا
- پانی کی ضروریات پورا کرنے کے لیے بارش کے پانی کو جمع کرنا (واٹر ہارویسٹنگ)
- گرم پانی اور فضلہ کو دریاؤں اور تالابوں میں ڈالنے سے پہلے ان کو صاف کرنا
- 13- — یہ روزگار کے مواقع فراہم کر دیتا ہے
- اس سے غیر ملکی زرمبادلہ کی بڑی کمائی کی ہے
- ہارڈ ویئر اور سافٹ ویئر کی میدان میں لگا تار ترقی ہوئی ہے اور ہندوستان کی IT انڈسٹری کی کامیابی ہے۔
- ج (14) شہر بازار کراتے ہیں اور صنعتیں بینکنگ، انشورنس، ٹرانسپورٹ مزدور، شہر اور اقتصادی صلاح جیسی خدمات بھی مہیا کراتی ہیں اس کے علاوہ شہروں میں بنا ہوا سامان، روزگار اور حرارت حاصل کرتے ہیں۔

- (15):-(1) بجلی کی سپلائی پریشان کن ہے۔
- (2) خاص طور سے پٹائی اور پروسیدنگ شعبوں میں مشینری کو بہتر کرنے کی ضرورت ہے۔
- (3) مزدوروں کی کم پیداوار اور مصنوعی کپڑا صنعت کے ساتھ منتخب مقابلہ جیسی دوسری پریشانیوں بھی ہیں۔

- ج(16) (i) لوہا اسٹیل کم لاگت میں ملنا۔
- (ii) نزدیک اور اونچی کوالٹی کا کچا مال ملنا
- (iii) سستے مزدوروں کا ملنا
- (iv) گھریلو بازار میں بڑی ترقی کی صلاحیت شامل ہے۔
- ج(17) (i) اونچی قیمتیں اور پتھر کے کونکرے کی محدود فراہمی رہی ہے۔

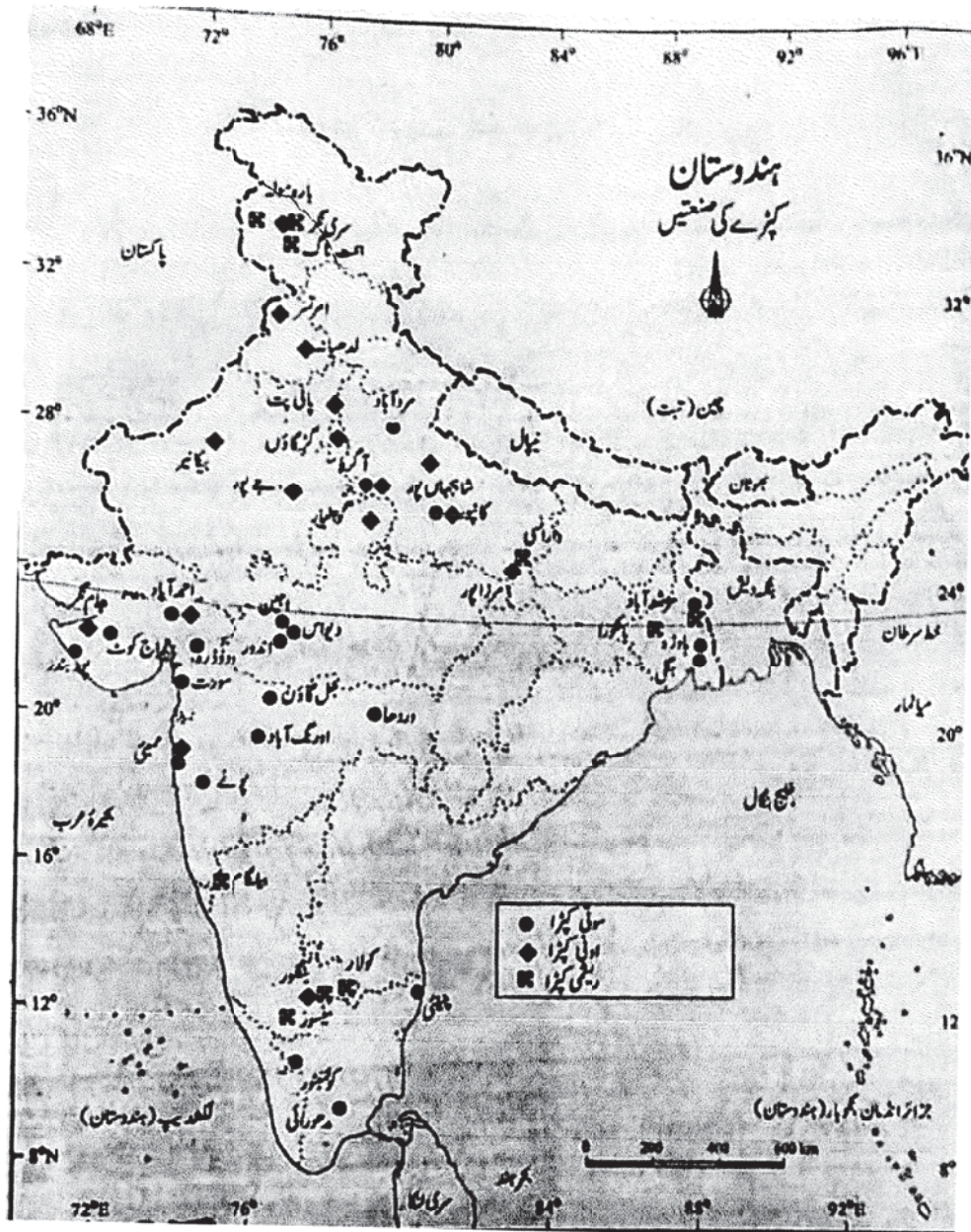
- (ii) مزدوروں کی تعداد کم ہونا
- (iii) توانائی کی غیر مسلسل سپلائی
- (iv) کمزور بنیادی ڈھانچہ

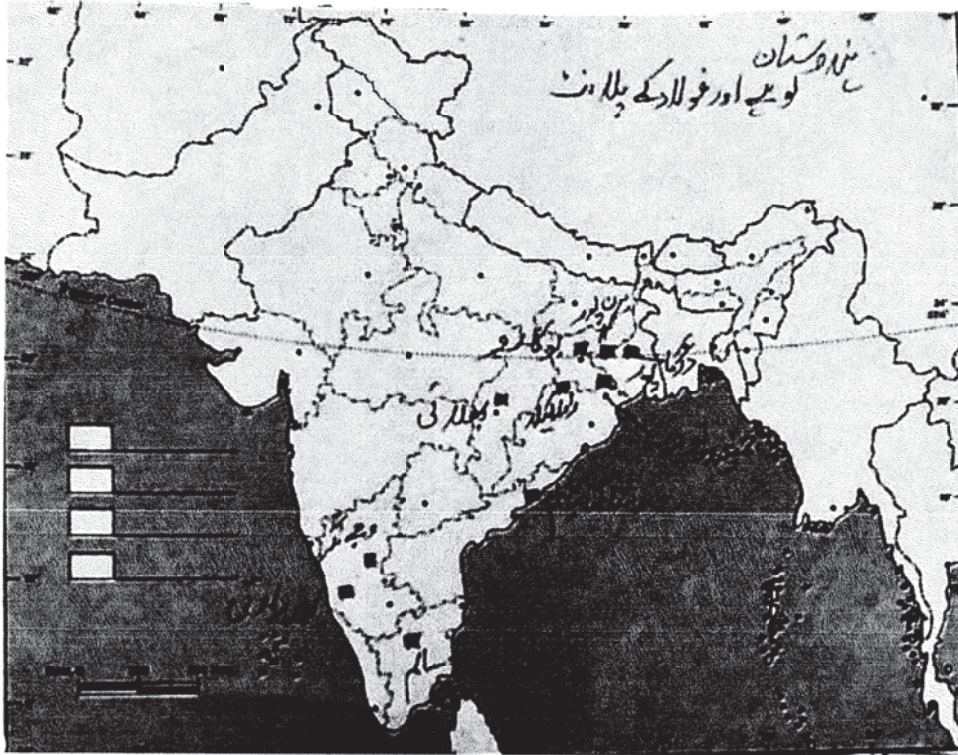
- ج(20) (i) جوٹ پیدا کرنے والے علاقوں سے نزدیک

(ii) ارزاں آبی ٹرانسپورٹ جو ریلوے سڑک اور آبی راستے کے اچھے نیٹ ورک کے سہارے خام مواد کو مل تک لے جاتے ہیں مددگار ثابت ہوتی ہے۔

(iii) خام جوٹ کے پروسیدنگ کے لئے زیادہ مقدار میں پانی مغربی بنگال اور اس سے ملتی دوسری ریاستیں مثلاً بہار، اڑیسہ اور اتر پردیش سے آنے والے سستے مزدور۔

(iv) ایک بڑے شہری مرکز ہونے کے سبب کولکاتا بینکنگ انسورنس اور بندرگاہ جیسی سہولیات فراہم کرتا ہے تاکہ جوٹ کی اشیاء کو برآمد کیا جاسکے۔



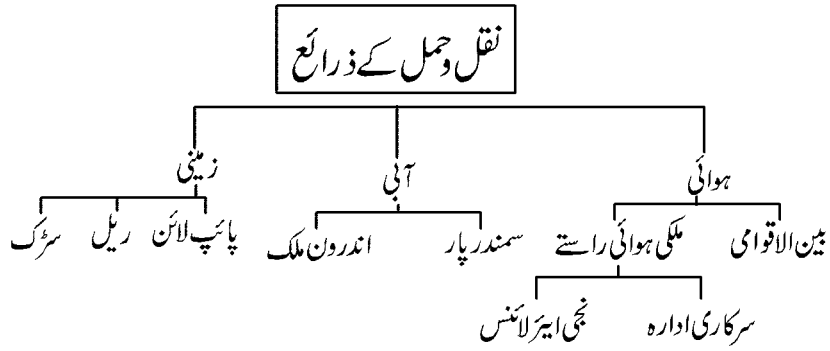




باب۔ بیس

قومی معیشت کی شہ رگیں

یاد رکھنے لائق نکات



ہندوستان میں سڑکوں کو ان کی استعداد اور اہمیت کے اعتبار سے چھ حلقوں میں تقسیم کیا جاسکتا ہے۔

- (1) (گولڈن کوڈری لیٹرل سپر ہائی ویز) سنہری چوٹرنہ اعلیٰ ترین شاہراہیں۔
- (2) قومی شاہراہیں:- قومی شاہراہیں ملک کے دور دراز حصوں کو جوڑتی ہیں۔
- (3) ریاستی شاہراہیں:- وہ سڑکیں جو کسی ریاست کی راجدھانی کو مختلف ضلعوں اور ہیڈ کوارٹروں سے جوڑتی ہیں۔
- (4) ضلعی سڑکیں:- یہ سڑکیں ضلع کے ہیڈ کوارٹر کو مختلف جگہوں سے جوڑتی ہیں۔
- (5) دوسری سڑکیں:- گاؤں کی سڑکیں جو ایک گاؤں کو دوسرے گاؤں اور شہروں سے ملاتی ہیں۔
- (6) سرحدی سڑکیں:- یہ سڑکیں حکومت ہند کی خاص تنظیموں کے تحت آتی ہیں۔

ریل کے مقابلے سڑک آمدورفت کے فائدے

- (1) سڑکوں کو بنانے میں ریل کے مقابلے کم لاگت آتی ہے۔
- (2) سڑکوں ریل کے مقابلے کہیں پر بھی اور کسی بھی زاویہ پر موڑا جاسکتا ہے۔

(3) سڑکوں کو ریل کے مقابلے زیادہ آسانی سے پہاڑی ڈھالوں پر بھی بنایا جاسکتا ہے یہاں تک کہ ہمالیہ پہاڑ کے علاقے میں بھی۔

(4) سڑکوں کے ذریعہ لوگوں اور سامانوں کو کم دوری کی جگہوں پر کم خرچ میں لایا اور لے جایا جاسکتا ہے۔

(5) سڑکوں کے ذریعے گھر گھر خدمات انجام دی جاسکتی ہیں اور اس کے ذریعے مال لانے اور لے جانے میں خرچ کم آتا ہے۔

(6) سڑک کی مدد سے دوسرے ذرائع کو بھی جوڑا جاسکتا ہے۔ مثلاً ریلوے اسٹیشن، ہوائی اڈہ، اور بندرگاہ تک آسانی سے جایا جاسکتا ہے۔

ریلوے	
پیشینیاں	فائدے
(1) بغیر ٹکٹ مسافروں کا سفر کرنا	سامان اور لوگوں کے نقل و حمل کا ایک اہم ذریعہ ہے۔
(2) ریلوے کے سامان کی چوری کرنا اور ریلوے کو نقصان پہنچانا	ریلوے کے ذریعے تجارت قابل دید مقامات سیر و مذہبی مقامات کی زیارت کے ساتھ ساتھ سامان کو دور دراز مقامات تک آسانی سے لایا اور لے جایا جاسکتا ہے۔
(3) بغیر وجہ چین کھینچ کر ریل کو روکنا	150 سالوں سے ملکی اتحاد کا بڑا کام کر رہی ہے۔

پائپ لائن	
تین ضروری جال	استعمال
(1) آسام سے کانپور تک جال پھیلا ہوا ہے۔	(1) پرانے دور میں یہ پائپ لائن شہروں اور صنعتوں میں پانی پہنچانے کے کام میں استعمال ہوتی ہیں۔
(2) گجرات کے سلائیہ سے پنجاب کے جالندھر تک جال پھیلا ہوا ہے۔	(2) اب یہ کسی تیل، پٹرولیم کی اشیاء اور قدرتی گیس کی نقل و حمل میں استعمال ہوتی ہے۔
(3) گجرات کے ہزیرہ سے اتر پردیش کے جگدیش پور تک پھیلا ہوا ہے۔	(3) کیمیائی کھاد اور بجلی پیدا کرنے کے پلانٹوں تک پہنچاتی ہے ٹھوس مادوں کو پگھلا کر ان پائپ لائنوں کے ذریعے ایک مقام سے دوسرے مقام تک پہنچاتی ہے۔

کچھ دلچسپ باتیں

- (1) کالی یا نیلی رنگ کی پٹی والی میل کے پتھر ضلع سرگودھا سے۔
- (2) ہرے رنگ کی پٹی والی میل کا پتھر اسٹیٹ ہائی وے ہیں۔
- (3) پیلے رنگ کی پٹی کا استعمال نیشٹل ہائی وے پر ہوتا ہے۔

آبی راستے	
ہندوستان کے قومی دریائی راستے	فائدے
(1) آلہ آباد سے ہلدیہ کے بیچ	(1) دریائی راستے نقل و حمل کا ایک سستا ذریعہ ہے۔
(2) سادیا اور دھری کے بیچ	(2) یہ بھاری سامانوں کو لانے لے جانے کا سب سے بہتر ذریعہ ہے۔
(3) کونا پور ما اور کومان کے بیچ	(3) یہ نقل و حمل کا ایک ایندھن بچانے والا
(4) عتائی ندی، مہانندی کے ڈیلٹا چینل اور برہم ندی کا پھیلاؤ	ماحول دوست ذریعہ ہے۔

ملک کی خاص بڑی بندرگاہیں

بندرگاہ کا نام	ریاست	اہمیت
کاندھلہ	گجرات	ہندوستان کا پہلا بندرگاہ جو آزادی کے فوراً بعد وجود میں آیا
ممبئی	مہاراشٹر	سب سے بڑی بندرگاہ
مرماگاؤں	گوا	50% خام لوہا کی برآمدی تجارت
نیونگلور	کرناٹک	کندیری لوہے کی کان سے کچا لوہا برآمد کرنے میں مشغول
کوچی	کیرل	بالکل جنوب میں واقع بحری جھیل کی وجہ سے ایک قدرتی بندرگاہ
ٹیوٹی کورین	تامل ناڈو	قدرتی بندرگاہ
چنئی	تامل ناڈو	سب سے پرانا مصنوعی بندرگاہ

گہرا زمین سے گہرا ہوا محفوظ بندرگاہ	وٹا کھا پٹنم
کچے لوہے کی برآمد کے لئے	پارادیپ
کولکاتا بندرگاہ پر بڑھتے ہوئے تجارتی بوجھ کو کم کرنے کے لئے	مغربی بنگال

ہوائی راستے

- (1) فائدے:- آج کل ہوائی راستے سب سے تیز، آرام دہ اور باوقار نقل و حمل کا ذریعہ ہے۔
- (2) بہت آسانی سے اونچے اونچے پہاڑی گھنے جنگلوں اور سمندری علاقوں کو پار کر سکتا ہے۔
- (3) مشرقی حصے میں بڑی ندیاں، گھاٹی گھنے جنگل، سیلاب اور بیرونی ممالک کی سرحدیں ہیں جن کا سفر ہوائی راستے کی غیر موجودگی میں کافی دشوار ہوتا ہے لیکن ہوائی راستے نے اسے بے حد آسان بنا دیا ہے۔
- (4) سبھی لوگوں کی پہنچ سے باہر مہنگا ہے۔
- (5) خراب موسم میں بہت جلد اثر انداز ہوتا ہے۔

خاص ہوائی اڈے ریاست

- (1) راجہ سانسہ ہوائی اڈہ امرتسر (پنجاب)
 - (2) اندرا گاندھی انٹرنیشنل ہوائی اڈہ نئی دہلی
 - (3) چھتر پتی شیواجی ہوائی اڈہ ممبئی
 - (4) مینم بکم ہوائی اڈہ چنئی
 - (5) نیتاجی سبھاش چندر بوس ہوائی اڈہ کلکتہ
 - (6) راجیو گاندھی ہوائی اڈہ حیدرآباد
- 1- معیشت کی شرح رگیں:- نقل و حمل اور مواصلات (ترسیل) کے جدید ذرائع جو لوگوں کو ایک دوسرے کے پاس لاتے ہیں اور قومی اور بین الاقوامی تجارت میں مدد کرتے ہیں۔
 - 2- آمدورفت کے ذرائع:- آمدورفت کے ذرائع جو انسانوں اور سماج کو ایک جگہ سے دوسری جگہ تک لے جاتے ہیں۔

- ریل، ہوائی جہاز، پانی کے جہاز، کار بس وغیرہ
- 3- ترسیل کے ذرائع: — وہ ذرائع جو ہمیں خبریں اور ایک جگہ سے دوسری جگہ پہنچاتے ہیں جیسے اخبار، رسالے، ریڈیو، ٹی وی، انٹرنیٹ، موبائل ای میل وغیرہ
- 4- سنہری چار ضلعی (گولڈن کوآڈری لیٹرل): — سپربائی ویز دہلی، ممبئی، چنئی اور کولکاتا کو ایک دوسرے سے جوڑتے ہیں۔
- 5- قومی شاہراہیں: — 4 سے 6 لین والی سرک ملک کے دور دراز حصوں کو جوڑتی ہیں ان کا رکھ رکھاؤ کا کام سینٹرل پبلک ورکس ڈپارٹمنٹ (CPWD) کے زیر نگرانی ہوتا ہے۔
- 6- سرحدی سڑکیں: — سرحدی سڑک تنظیم کا کام سرحدی سڑکوں کی تعمیر اور ان کا رکھ رکھاؤ کرنا ہے۔
- 7- تجارت: — سامانوں کا لوگوں، ریاستوں اور ملکوں میں آپسی لین دین تجارت کہلاتا ہے۔
- 8- بین الاقوامی تجارت: — دو ملکوں کے درمیان تجارت کو بین الاقوامی تجارت کہتے ہیں۔ ہمارے ملک کی 95% تجارت سمندری راستوں سے ہوتی ہے۔
- 9- ریلوے آمدورفت: — آمدورفت کا سب سے بڑا ذریعہ ریل ہے۔ ہندوستان کے ریلوے کو 16 حلقوں میں تقسیم کیا گیا ہے
- 10- ریلوے کو گنج کی بنیاد پر براؤ گنج (بڑی لائن)، میٹر گنج (چھوٹی لائن) اور نیر گنج (نگ لائن) میں تقسیم کیا گیا ہے۔
- 11- بندرگاہ: — سمندر کے کنارے پر وہ جگہ جہاں پانی کے جہاز پر چیزوں کو لادنے اور اتارنے کا کام کیا جاتا ہے۔
- 12- سیاحت کی نئی شکل: — غیر ملکی لوگ جو ہمارے ملک میں گھومنے کی غرض سے تہذیبی عمارات سیاحت، ماحولیاتی سیاحت، مہماتی سیاحت، ثقافتی سیاحت، طبی سیاحت اور تجارتی سیاحت کے لیے آتے ہیں۔

ایک نمبر والے سوالات

- 1- کون سا حصہ ملک کے بعید مشرق و مغرب کنارے کو جوڑتا ہے؟
- 2- شمالی ریلوے کا صدر دفتر کہاں واقع ہے؟
- 3- ہندوستان میں پہلی گاڑی کب اور کہاں چلائی گئی؟
- 4- ہمارے ملک کا سب سے قدیم مصنوعی بندرگاہ کون سی ہے؟
- 5- سڑک کے گھنے پن سے آپ کیا سمجھتے ہیں؟
- 6- قومی دریا کی راستہ نمبر-1 کن مقامات کے درمیان نقل و حمل میں مدد کرتا ہے؟

- 7- شمال۔ جنوب گلیارے کے ذریعے کن دو مقامات کو جوڑا گیا ہے؟
- 8- پائپ لائن آمدورفت سے آپ کیا سمجھتے ہیں؟
- 9- ہندوستان کے ساحل کی لمبائی کتنی ہے؟
- 10- کون سا بندرگاہ لوہے کی کچھ دھات کی برآمدات کے سلسلے میں ایک اہم بندرگاہ ہے؟
- 11- آزادی کے بعد پہلا ترقی یافتہ بندرگاہ کون سا ہے؟
- 12- ہندوستان کے دو قومی دریائی راستے کون سے ہیں؟
- 13- ہندوستان میں ہوائی نقل و حمل کو قومی ملکیت میں کب شامل کیا گیا تھا؟
- 14- بڑے شہروں میں ڈاک و تار میں تیزی لانے کے لیے کیا کیا تدابیر کی گئی ہیں؟
- 15- کس علاقے میں ہوائی سفر کو عام جتنا تک پہنچایا گیا ہے؟
- س:- (16) سب سے لمبی قومی شاہراہ کونسی ہے؟
- س:- (17) N.H.I سے کون سے دو شہر جوڑتے ہیں؟
- س:- (18) ہندوستان میں کل کتنے ریلوے زون ہیں؟
- س:- (19) ہندوستان کی کس ریاست میں سب سے زیادہ اور سب سے کم سڑکوں کا حال ہے۔
- س:- (20) شمالی ہندوستان کا سب سے مصروف ترین ریلوے جنکشن کون سا ہے۔
- س:- (21) بین الاقوامی تجارت کے دو اہم جز کون سے ہیں؟
- س:- (22) ہندی کے علاوہ کن دوزبانوں میں سب سے زیادہ اخبار شائع ہوتے ہیں۔
- س:- (23) اندرا اور پیر ونی ممالک کی فلموں کو سند کون دیتا ہے؟
- س:- (24) سب سے لمبی گیس پائپ لائن کون سی ہے۔؟
- س:- (25) اول درجے کی ڈاک کی دو مثالیں دیجئے۔

جوابات:

ج: (16) N.H.7

ج: (17) دلی اور امرتسر

ج: (18) 16 زون

ج: (19) سب سے زیادہ کیرل اور سب سے کم جموں و کشمیر

ج: (20) مغل سرائے

ج: (21) برآمد اور درآمد

ج: (22) انگریزی اور اردو

ج: (23) مرکزی فلمی بورڈ

ج: (24) ہنری راہ۔ و بے پور سے جگدیش پور

ج: (25) کارڈ اور لفافے

مختصر / طویل جواب والے سوالات (3/5 نمبر)

- 1- ترسیل عامہ سے ہونے والے کوئی تین فائدوں پر تبصرہ کیجیے۔
- 2- پائپ لائن کے ذریعے نقل و حمل کے کوئی چار فائدوں کو بیان کیجیے۔
- 3- سنہری چار ضلعی (گولڈن کواڈری لیٹرل) سپر ہائی ویز کی تین خصوصیات بیان کیجیے۔
- 4- تین ریلوے علاقے اور ان کے ہیڈ کوارٹر کے نام لکھیے۔
- 5- سڑک آمدورفت ریل آمدورفت سے زیادہ ضروری کیوں ہے؟
- 6- ہوائی نقل و حمل کی اہمیت کو چار نکات میں بیان کیجیے۔
- 7- سڑک نقل و حمل کے کوئی چار مسائل بیان کیجیے۔

- 8- ریلوے کے جال کے آسان پھیلاؤ کی وجہ بیان کیجیے۔
- 9- سیاحت ایک صنعت یا تجارت کی شکل میں معیشت کی ترقی میں کس طرح مددگار ہے بیان کیجیے۔
- 10- ہندوستان میں سڑکوں کو ان کی استعداد اور اہمیت کے اعتبار سے تقسیم کیجیے۔
- 11- بین الاقوامی تجارت اور مقامی تجارت میں فرق واضح کیجیے۔
- 12- آمدورفت اور ترسیل کے ذرائع کو کسی معیشت کی شرحیں کیوں کہا جاتا ہے؟
- 13- ہندوستان کے مشرق شمال کی ریاستوں میں زیادہ تر نقل و حمل کے ذرائع کون سے استعمال کیے جاتے ہیں۔ کوئی چار وجوہات بتائیے۔
- 14- بین الاقوامی تجارت کی ترقی اس ملک کی معاشی خوشحالی کا ایک اشاریہ ہونا ہے۔ اپنے جواب کے دلائل میں پانچ باتیں لکھیے۔

ایک نمبر والے سوالوں کے جوابات

- 1- سلچر (آسام) اور پور بندر (گجرات)
- 2- دہلی
- 3- 16 اپریل 1853 میں بمبئی اور تھانے کے بیچ (34 کلومیٹر کی دوری)
- 4- چیٹنی
- 5- فی ایک سو مربع کلومیٹر کے علاقے میں سڑک کی لمبائی کو سڑک کا گھٹاپن کہتے ہیں
- 6- الہ آباد اور ہلدا پور کے بیچ، 1620 کلومیٹر لمبا
- 7- سری نگر کو کنیا کماری سے
- 8- پائپ لائن کے ذریعے ہندوستان کے نقل و حمل میں ایک جدید اضافہ ہوا ہے۔ پرانے زمانے میں یہ پائپ لائن شہروں اور صنعتوں میں پانی پہنچانے کے کام میں استعمال ہوتی تھیں۔ اب یہ کچا تیل پٹرولیم اور قدرتی گیس کی نقل و حمل میں استعمال ہوتی ہے
- 9- 7516.6 کلومیٹر ہے

- 10- مراگاؤں
- 11- کاندھلہ بندرگاہ
- 12- (i) گنگاندی—الہ آباد اور ہلدیہ کے بیچ
(ii) برہم پترندی—سادیا اور دھری کے بیچ
- 13- 1953 میں
- 14- چھ ڈاک چینل ہیں:- راجدھانی چینل، میٹرو چینل، گرین چینل، تجارتی چینل، ضخیم ڈاک چینل اور قومی چینل شامل ہیں

3/5 نمبر والے سوالوں کے جوابات

- 1- — تفریح کا ذریعہ
— دور دراز کے مقامات پر موجود لوگوں سے باسانی رابطہ قائم کیا جاسکتا ہے
— قومی پروگراموں اور پالیسیوں کو سب کے پاس آسانی سے پہنچانے والا ذریعہ ہے
— دور دراز قومی سطح کا خبر اور پیغام رسانی کا ذریعہ ہے
- 2- — پائپ لائن کے ذریعے گیس، معدنی تیل، اور پانی کو ایک مقام سے دوسرے مقام تک آسانی سے پہنچایا جاسکتا ہے
— شروع میں پائپ لائن بچھانے میں زیادہ رقم خرچ ہوتی ہے لیکن نقل و حمل کی لاگت بہت کم ہو جاتی ہے۔
— نقل و حمل میں کم وقت لگتا ہے
— چوری کا امکان بہت کم ہے
- 3- — یہ چھ لین وال اسپر ہائی وے ہے
— یہ دہلی، ممبئی، چنئی اور کولکاتا کو جوڑتا ہے
— اس کو بنانے کا مقصد ملک کے میٹروپولیٹن شہروں کے درمیان کے فاصلوں کو کم کرنا ہے
- 4- — شمالی ریلوے علاقہ — نئی دہلی
— مغربی ریلوے علاقہ — ممبئی
— جنوبی ریلوے علاقہ — چنئی

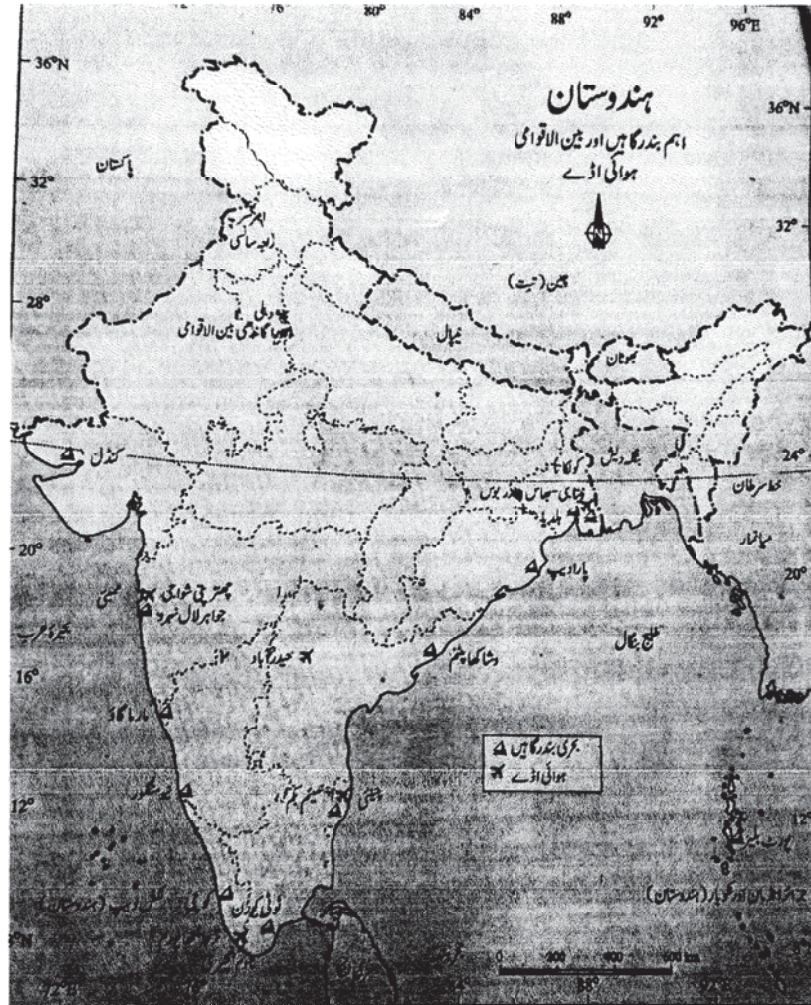
- 5 — سڑک آمدورفت ریل آمدورفت سے پہلے شروع ہوا
- اس کو بنانے میں آسانی ہوتی ہے
- سڑکوں کو گھروں تک پہنچا سکتے ہیں
- پہاڑی علاقوں اور اوڑھکھا بڑگھوں پر آسانی بنائی جاسکتی ہے
- دوسرے آمدورفت کے مقابلے میں سڑک آمدورفت ایک کڑی کی شکل میں کام کرتا ہے
- 6 — یہ نقل و حمل کا بہت آرام دہ ذریعہ ہے
- ایسے مقامات کے لیے مناسب ہے جہاں رسائی مشکل ہے
- طویل فاصلوں کے لیے مناسب ہے
- کم وقت میں دوسرے مقامات پر پہنچا جاسکتا ہے
- باڈر پر فوجیوں کے رکھ رکھاؤ اور کھانے کے سامان کو جلدی پہنچاتا ہے
- 7 — مسافروں کی تعداد اور بار برداری کے بڑھتے ہوئے دباؤ کے پیش نظر سڑکوں کا جال نسبتاً کم ہے۔
- پچاس فیصد سڑکیں کچی ہیں
- بہت زیادہ بارش والے علاقوں میں سڑکیں جلدی خراب ہو جاتی ہیں
- سڑکیں تنگ ہیں اور آمدورفت زیادہ ہونے کی وجہ سے ٹریفک جام ہونے کا مسئلہ پیدا ہو جاتا ہے
- 8 — میدانی علاقوں میں ریلوں کا جال سب سے زیادہ ہے کیونکہ ان علاقوں میں تعمیر لاگت کم ہے اور تعمیر آسان ہے
- پہاڑی علاقوں میں لاگت زیادہ اور تعمیر کا کام مشکل ہوتا ہے
- ریگستانی اور پٹھاری علاقوں میں صنعتی اور زرعی ترقی نہ ہونے کی وجہ سے ریلوں کی کثافت (گھٹاپن) کم ہے
- میدانی علاقوں میں صنعتی اور زرعی ترقی زیادہ ہونے کی وجہ سے آبادی کی کثافت بہت زیادہ ہے نتیجتاً ریلوں کا جال بہت زیادہ ہے
- انتظامیہ اور سرکاری پالیسیوں کی وجہ سے بھی ریلوے کی ترقی اثر انداز ہو رہی ہے

- 9- — پچھلے کچھ سالوں میں ہندوستان میں سیاحت کی صنعت میں بہت زیادہ فروغ ہوا ہے
- تقریباً 23.5% غیر ملکی سیاح ہندوستان آتے ہیں
- اس سے کل آمدنی 21828 کروڑ روپے بیرونی زرمبادلہ ہوتی ہے
- یہ بین الاقوامی سطح پر آپسی بھائی چارگی اور میل جول کو بھی بڑھاتا ہے
- غیر ممالک کے سیاح ثقافتی سیاحت، طبی سیاحت اور تجارت کے لیے آتے ہیں
- راجستھان، گوا، جموں کشمیر اور جنوبی ہندوستان کے مندر، شہر سیاحوں کی خاص منزلیں ہیں
- 10- — گولڈن کوڈری لیٹرل — یہ عظیم 6 شاہراہوں سے جوڑا جائے گا
- قومی شاہراہیں — ملک کے دور دراز حصوں کو جوڑتی ہے
- ریاستی شاہراہیں — وہ سڑکیں جو کسی ریاست کی راجدھانی کو مختلف ضلعوں اور ہیڈ کوارٹر سے جوڑتی ہیں
- سرحدی سڑکیں — سرحدی سڑکیں حکومت ہند کی خاص تنظیموں کے تحت آتی ہیں۔ ان کی مرمت اور دیکھ بھال کی ذمہ داری سرکاری تنظیموں کی ہے
- 11- — **بین الاقوامی تجارت:**
- دو ملکوں کے بیچ بڑے پیمانے پر ہوتا ہے
- غیر ملکی زرمبادلہ حاصل ہوتا ہے اور ملک کے لیے فائدہ مند ہوتا ہے
- اپنے ملک کی ضرورتوں کو پورا کرتا ہے
- **علاقائی تجارت:**
- شہروں، قصبوں اور گاؤں میں ہوتی ہے
- دیش کی پونجی اسی دیش میں رہتی ہے
- اپنے علاقے کے لوگوں کی ضروریات پوری کرتی ہے
- 12- — آمدورفت اور ترسیل کے ذرائع ایک دوسرے کے متبادل ہیں

- یہ ایک ملک کو دوسرے ملک سے ملاتے ہیں
- قومی اور بین الاقوامی سیاحت کو بڑھا دیتے ہیں
- اس سے غیر ملکی کرنسی حاصل ہوتی ہے
- اس سے زندگی سکون اور آسان ہوتی ہے
- (i) -13 یہ نقل و حمل کا سب سے سستا ذریعہ ہے
- (ii) یہ بھاری سامانوں کو لانے لے جانے کا سب سے بہتر ذریعہ ہے
- (iii) یہ نقل و حمل کا ایک ایندھن بچانے والا ماحول دوست ذریعہ ہے۔
- (iv) مشرق شمال ریاستوں میں سڑکوں اور ریلوں کا جال زیادہ پھیلا ہوا نہیں ہے۔
- (v) ندیاں آبی راستوں کے لیے بندرگاہ بناتی ہیں۔
- (i) -14 تجارت کو ملک کا ایک اقتصادی پیمانہ سمجھا جاتا ہے۔ چونکہ وسائل مقام سے منسلک ہیں اس لیے دنیا کا کوئی بھی ملک بغیر بین الاقوامی تجارت کے زندہ نہیں رہ سکتا۔
- (ii) برآمدات و درآمدات تجارت کی بنیاد ہیں۔ کسی بھی ملک کی تجارت کا توازن اس کی برآمدات اور درآمدات پر منحصر ہوتا ہے۔
- (iii) جب برآمدات درآمدات سے زیادہ ہوتی ہے تو اسے منافع بخش تجارت کہتے ہیں۔
- (iv) ہندوستان کے ہر بڑے تجارتی مراکز اور جغرافیائی خطہ سے رشتہ رکھتا ہے۔
- (v) ہندوستان سو فٹ ویئر ٹکنالوجی میں بین الاقوامی سطح پر ایک بڑا مقام رکھتا ہے۔

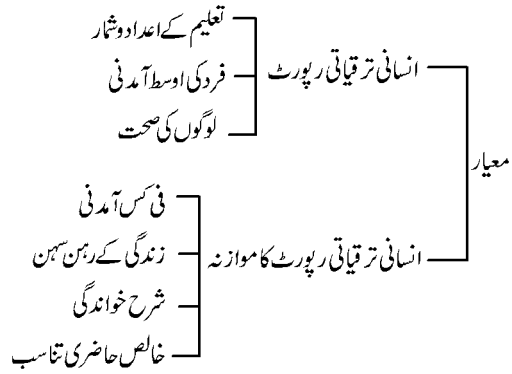
Map

- (1) ہندوستان کے نقشے پر گولڈن کوڈاری لیٹرل کو دکھائیے۔
- (2) ہندوستان کے نقشے پر اہم بندرگاہیں اور بین الاقوامی ہوائی اڈے دکھائیے۔



باب۔ اکیس

ترقی



عالمی بینک (World Bank) کے ذریعے پیش کردہ عالمی ترقیاتی رپورٹ 2012		
جن ممالک کی آمدنی 1045 ڈالر سے کم ہے۔	وہ ممالک جن کی فی کس آمدنی 1005 امریکی ڈالر یا اس سے کم تھی انھیں کم آمدنی والے ممالک کہا جاتا ہے۔	وہ ممالک جن کی فی کس آمدنی 1,2276 امریکی ڈالر اور اس سے بھی زیادہ تھی انھیں امیر ممالک کہا جاتا ہے۔

- (1) بچوں کی شرح اموات:- بچوں کی اس تعداد کا پتہ چلتا ہے جن کی موت اس مخصوص سال میں پیدا ہوئے زندہ بچوں کی 1000 کی تعداد کے تناسب میں۔
- (2) شرح خواندگی:- 7 اور اس سے زیادہ کی عمر والوں میں پڑھے لکھے آبادی کے تناسب کی پیمائش ہوتی ہے۔
- (3) خالص حاضری تناسب:- 6 سے 10 سال کی عمر کے بچوں کی کل تعداد جو اس عمر کے بچوں کی کل تعداد کے فیصد کے طور پر اسکول جانے والوں کی تعداد ہے۔

یاد رکھنے لائق نکات:

- 1- معاشی نظام ایک ایسا نظام ہے جو لوگوں کو بہتر زندگی گزارنے کے طریقے مہیا کرتا ہے۔

- 2- معاشی ترقی ایک ایسی سرگرمی ہے جس کے ذریعے فی کس آمدنی طویل مدت میں بڑھتی ہے۔
- 3- لوگوں یا گروہوں کا پرائمری مقصد:۔ زیادہ آمدنی پانا اس کے علاوہ برابری، آزادی، حفاظت، سلامتی اور دوسروں سے عزت حاصل کرنا۔
- 4- معاشی نظام ملک کے وسائل کا صحیح طریقے سے استعمال کر کے ملک کی ترقی کے لئے منصوبے تیار کرتا ہے۔
- 5- فرد کی کل آمدنی یا اوسط آمدنی = $\frac{\text{ملک کی کل آمدنی}}{\text{ملک کی کل آبادی}}$
- 6- ممالک کا موازنہ کرنے کے لئے ان کی آمدنی سب اہم خصوصیت کو واضح کرتی ہے۔
- 7- ملک کی ترقی کو ناپنے کے لیے اوسط عمر کے ساتھ پبلک سہولیات مہیا کرنا جیسے صحت عامہ۔ شرح پیدائش اور شرح اموات اور آلودگی سے پاک ماحول مہیا کرنا اور ان کو ناپنے کا آلہ بھی استعمال کیا جاتا ہے۔
- 8- ہر ملک کے لیے اوسط آمدنی کی گنتی بین الاقوامی کرنسی ڈالر میں کی جاتی ہے۔
- 9- انسانی ترقی کا اشاریہ:۔ اقوام متحدہ کے ذریعے رکھا گیا ایک ایسا اشاریہ جس کے ذریعے دنیا کے مختلف ممالک میں سماجی اور معاشی کارناموں کی بنیاد پر درجات مقرر کیے جاتے ہیں۔

ایک نمبر والے سوالات

- 1- دوسری ریاستوں کے مقابلے کیل میں بچوں کی شرح اموات کم ہوئی ہے؟
- 2- کیا صرف اوسط آمدنی کی وجہ سے ترقی کی گنتی کرنا صحیح ہے؟
- 3- زندہ رہنے کے اوسط سے کیا مراد ہے؟
- 4- جی. ڈی. پی (GDP) کا کیا مطلب ہے؟
- 5- ہندوستان میں انسانی ترقی کا اشاریہ (Index) کس زیاست میں ہے؟
- 6- انسانی ترقی کے اشاریہ کی پیمائش کس تنظیم کے ذریعے کی جاتی ہے؟
- 7- PDS سرکاری راشن کی دکانوں کا نظام کیا ہے؟
- 8- پبلک سہولیات سے آپ کیا سمجھتے ہیں؟

9- ناقابل تجدید وسائل کا صحیح استعمال کیوں ضروری ہے؟

10- ترقی کیا ہے؟

مختصر / طویل جواب والے سوالات (3/5 نمبر)

1- ترقی کا مقصد الگ الگ ہوتا ہے اور کبھی کبھی یہ برخلاف بھی ہو سکتا ہے۔ اس بات کو لے کر وضاحت کیجیے۔

2- ایک ترقی پذیر ملک کا موزنہ ایک ترقی یافتہ ملک سے کیجیے۔

3- آمدنی کے علاوہ اور کون سے کام ہیں جو ہماری زندگی میں اہم رول ادا کرتے ہیں؟

4- معاشی ترقی کے لئے لبرتعلیم یافتہ ہونا کیوں ضروری ہے؟

5- مندرجہ ذیل کی وضاحت کیجیے۔

(a) بچوں کی شرح اموات

(b) شرح خواندگی

(c) خالص حاضری تناسب

(d) B.M.I.

B.M.I. جسم کا اشاریہ کمیت اس کو Body Mass Index کا نام دیا ہے اسے شمار کرنا آسان ہے خود کا وزن کلوگرام میں بچے وزن کو قد کے مربع کے ذریعے تقسیم کیجئے اگر یہ عدد 18.5 سے کم ہے۔ تب فرد کو کم تغذیہ یا ناقص تغذیہ کا شکار سمجھا جائے گا تاہم اگر B.M.I. 25 سے زیادہ ہے تو فرد کو ورزنی Over Weright سمجھا جائے گا۔ انسانی ترقیاتی رپورٹ کے مطابق ہندوستان کا نمبر 136 واں ہے۔

6- ترقی کی قائم پذیریری یا تحفظ پسندانہ ترقی سے آپ کیا سمجھتے ہیں؟ اس کی چار خوبیوں کا ذکر کیجیے۔

ایک نمبر والے سوالوں کے جوابات

1- کیونکہ کیرل میں بنیادی صحت اور تعلیمی سہولیات موجود ہیں۔

2- نہیں کیونکہ اس سے آمدنی کی نابرابری چھپ جاتی ہے۔

3- انسان کے زندہ رہنے کا اوسط سال

- 4- کسی ملک کی کل گھریلو پیداوار
- 5- کیرل ریاست
- 6- یو. این. ڈی. پی (UNDP)
- 7- سرکاری راشن کی دکانوں کا نظام جہاں حکومت کے ذریعے طے کی گئی قیمت کے لیے غریبوں کو راشن بانٹا جاتا ہے۔
- 8- وہ سہولیات جو انسانی زندگی کو بہتر بنانے کے لیے ضروری ہوتی ہیں۔
- 9- کیونکہ یہ وسائل محدود تعداد میں موجود ہوتے ہیں اور ان کو دوبارہ استعمال میں نہیں لایا جاسکتا۔
- 10- افراد کے لیے ترقی یا بہتری کی طرف آگے بڑھنے کا مفہوم اور اس مقصد کو حاصل کرنے کے لیے آمدنی، حفاظت، برابری اور صحت عام آتی ہے۔

زیادہ مناسب متبادل چنئے۔

سوال نمبر (1) بے زمینی دیہی مزدور کے لئے درج ذیل میں سے کون سا ترقی کا مقصد ہو سکتا ہے۔

- (a) کام کے زیادہ دن
- (b) خواندگی کی شرح زیادہ ہونا
- (c) بہتر مزدوری
- (d) بچوں کو دوسرے ملک میں بڑھانا

جواب :- (C)

سوال نمبر (2) زندگی کی پیش قدمی کا کیا مطلب ہے۔

- (a) پیدائش کے وقت فرد کی اوسط آمدنی کے لئے عمر
- (b) موت کے وقت اوسط آمدنی کے لئے عمر
- (c) پیدائش کے وقت بچوں کی اوسط عمر
- (d) ان میں سے کوئی نہیں

جواب :- (a)

سوال نمبر (3) درج ذیل میں سے کس ملک میں شرح خواندگی 15 سال کی عمر کے گروپ کی ناخواندہ ہے۔

(a) ہندوستان (b) سری لنکا (c) میانمار (d) بنگلہ دیش

جواب:۔ (a) بنگلہ دیش

سوال نمبر (4) کس ریاست کی شرح خواندگی سب سے کم ہے۔

(a) پنجاب (b) بہار (c) کیرل (d) تامل ناڈو

جواب:۔ (b) بہار

سوال نمبر (5) کیرل میں بچوں کی شرح اموات بہت کم ہے۔ درج ذیل میں سے کونسی وجہ ہے۔

(a) وہاں بنیادی طبی سہولیات اور تعلیمی سہولیات موجود ہیں۔

(b) اس کی فی کس آمدنی زیادہ ہے۔

(c) یہ ریاست قدرتی وسائل سے مالا مال ہے۔

(d) کیرل حکومت بہت قابل ہے۔

جواب:۔ (a)

3/5 نمبر والے سوالات کے جوابات

1- ہر آدمی یا گروہ کی ترقی کا مقصد الگ الگ ہو سکتا ہے۔ کئی بار ان کو قدرت کے برخلاف بھی جانا پڑتا ہے۔ یہ ایک کے لیے ترقی کا مقصد ہو سکتا ہے مگر دوسرے کے لیے بربادی کا۔ مثال کے طور پر ہندی پر ڈیم بنانا وہاں کے کسانوں کے لیے بربادی کی وجہ بن سکتا ہے۔

ترقی پذیر ممالک

ترقی یافتہ ممالک

2-

نئی تکنیک اور صنعتوں میں کچھڑا ہوا ہونا

(i) نئی تکنیک اور ٹیکنالوجی اور

صنعتوں کا ہونا

رہن سہن کا اچھا نہ ہونا

(ii) انسانی ترقی کا اشاریہ اچھا رہن سہن

- (iii) فی کس آمدنی اچھا ہونا
فی کس آمدنی کا اچھا نہ ہونا
- (iv) شرح خواندگی کا اونچا ہونا
شرح خواندگی کا کم ہونا
- (v) لوگوں کی صحت میں بہتری شرح پیدائش اور شرح اموات میں کمی۔
- 3- آمدنی کے علاوہ بہتر زندگی گزارنے کے لیے خاندان، روزگار، دوستی، حفاظت اور برابری کا جذبہ ضروری ہے۔
- 4- (i) اس سے تعلیم کو عام کیا جائے اور بہتر کیا جائے۔
(ii) طبی سہولیات کو بہتر بنایا جائے۔
(iii) آمدنی کی یکساں تقسیم ہو۔
(iv) آبادی کو کنٹرول کرنے کے لئے ٹھوس اقدامات اٹھائے جائیں۔
(v) نئی صنعتیں بڑھیں اور عوامی سہولیات بہتر ہوں۔
(v) نئی صنعتوں کو قائم کرنے کی صلاحیت کو وسعت دینا ہے۔
(v) لوگوں میں صفائی، صحت اور بیماریوں کے تئیں بیداری پیدا کرتا ہے۔
- 5- (a) بچوں کی شرح اموات: کسی سال میں پیدا ہوئے 1000 زندہ بچوں میں سے ایک سال کی عمر سے پہلے مر جانے والے بچوں کا تناسب ظاہر کرتا ہے۔
(b) شرح خواندگی: سات سال اور اس سے زیادہ عمر کے لوگوں میں خواندہ آبادی کا تناسب
(c) خالص حاضری تناسب: 10-6 سال کی عمر کے اسکول جانے والے کل بچوں کا اس عمر کے کل بچوں کے ساتھ فیصد
(d) شرح خواندگی سات سال اور اس سے زیادہ عمر کے لوگوں کا آبادی میں تناسب۔
(e) B.M.I اگر بالغان کم تغذیہ کا شکار ہے تو اسے معلوم کرنے کا ایک طریقہ ہے جسے تغذیاتی سائنس دانوں نے جس کا اشاریہ کیفیت (Body Mass Index) B.M.I کا نام دیا ہے۔
- 6- (i) ہم ترقی کی تعریف کسی بھی انداز میں کر سکتے ہیں بالغرض یہ پیش کرنے کے لیے کہ فلاں ملک کافی ترقی یافتہ ہے ہمیں یقیناً ترقی کی سطح پسند ہوگی وہ مزید آگے بڑھے یا آنے والی نسلوں کے لیے کم از کم اسے برقرار رکھے۔

(ii) ناقابل تجدید وسائل وہ ہیں جو برسوں استعمال کے بعد ختم ہو جائیں گے زمیں پر ہمارے پاس ایک مقررہ ذخیرہ ہے جن کی پھر سے بھر پائی نہیں کی جاسکتی۔ اس لیے کہیں ہم قابل تجدید وسائل کا زیادہ استعمال کریں تاکہ آنے والی نسلیں اس کا فائدہ اٹھا سکیں۔

دیئے گئے سوالوں کے جواب مرکزی نقاط کی مدد سے حل کریں

- سوال نمبر (1) ترقی کی قائم پذیری کیا ہے اس کے تحت کن باتوں کو لایا گیا ہے۔
- مرکزی نقاط:- (i) ترقی کو تحفظ پسندانہ بنانا وقتاً فوقتاً علم کا ایک نیامیدان ہے۔
- (ii) جس پر سائنسداں ماہرین معاشیات۔ فلسفی اور دیگر سماجی سائنسداں مل جل کر کام کر رہے ہیں۔
- (iii) سماج کے ایک ممبر کے طور پر اور ایک فرد کی حیثیت سے ہمیں یہ معلوم کرنے کی ضرورت ہے کہ ہم کہاں جانا چاہتے ہیں ہم کیا بننا چاہتے ہیں اور ہمارے مقاصد کیا ہیں۔
- سوال نمبر (2) کرہ ارض میں سبھی کی ضرورتوں کو پورا کرنے کے لئے کافی وسائل موجود ہیں لیکن ایک فرد کی حرص کی تسکین کے لئے کافی نہیں ہیں؟ بحث کیجئے۔
- مرکزی نقاط: (i) زمین دوز پانی قابل تجدید وسائل ہے تاہم ان وسائل کا زیادہ استعمال ہی کیا جاتا ہے۔
- (ii) ناقابل تجدید وسائل وہ ہیں جو برسوں استعمال کے بعد ختم ہو جائیں گے۔
- (iii) زمین پر ہمارے پاس ایک مقررہ ذخیرہ ہے جن کی پھر سے بھر پائی نہیں کی جاسکتی۔
- (iv) ہم نئے وسائل کی دریافت کرتے ہیں اور ہم ماحول کو نقصان پہنچانے کے بعد وسائل کا استعمال کرنا چاہئے۔
- سوال نمبر (3) لوگوں کے لئے ترقی کا مقصد الگ الگ ہو سکتے ہیں۔ جو ایک کے لئے ترقی ہے دوسرے کے لئے تنزلی بھی ہو سکتی ہے۔
- مرکزی نقاط: (i) مختلف لوگوں کے مختلف مقصد
- (ii) باندھ بنانا۔ بجلی پیدا کرنا، لیکن وسائل کا خاتمہ
- (iii) تعمیراتی کام کروانا رہنے کے لئے جگہ مہیا کرنا حل ہے لیکن قدرتی نباتات اور جنگلی جانوروں کا اجڑنا

سوال نمبر (4) درج ذیل اعداد و شمار کو پڑھ کر جواب دیں:-

ریاست	بچوں کی شرح اموات	شرح خواندگی %	خالص حاضری تناسب	فی کس آمدنی
بہار	48	62	35	31,199
کیرل	13	94	78	103,820
مہاراشٹر	24	82	64	1,17091

- (i) کس ریاست کی فی کس آمدنی زیادہ اور کس کی کم ہے۔
- (ii) خواندگی کی شرح کس ریاست کی سب سے زیادہ ہے اس کی وجہ بتائیں۔
- (iii) کس ریاست کی بچوں کی شرح اموات زیادہ ہیں اس کی کیا وجہ ہے۔

باب۔ بائیس

ہندوستانی معیشت کے شعبے

یاد رکھنے لائق نکات:

- 1- معاشی سرگرمیاں:۔ وہ سرگرمیاں یا کام جن کے کرنے سے آمدنی حاصل ہوتی ہے۔ معاشی سرگرمی کہلاتی ہے۔
- 2- ابتدائی شعبے: ایسی سرگرمیاں جن میں قدرتی وسائل کا استعمال کر کے اشیا کی پیداوار کی جاتی ہے۔ اسے زرعی سرگرمی بھی کہا جاتا ہے۔ مثال کے طور پر زراعت۔ جوڈیری مچھلی پالنے جینگل بانی۔
- 3- ثانوی شعبے:۔ وہ سرگرمیاں جن میں صنعت کار یا تیار کرنے والے ابتدائی شعبہ سے اشیا حاصل کر کے ان سے مال تیار کرتے ہیں۔ اسے صنعتی شعبہ بھی کہا جاتا ہے۔ سوت کاتتے ہیں۔ کپڑا بناتے ہیں گنے سے شکر یا گڑ بناتے ہیں۔
- 4- ثالثی شعبے:۔ خدماتی حلقہ ابتدائی اور ثانوی شعبوں کی خدمات کے لئے پیداوار کرتا ہے۔ اسے خدماتی شعبہ بھی کہا جاتا ہے۔ مثال کے طور پر تجارت۔ آمدورفت۔ بینکنگ اور ٹرانسپورٹ وغیرہ۔
- 5- خدماتی شعبے جو سیدھے طور پر اشیا کی پیداوار میں مددگار نہ ہوں۔ مثال کے لئے ہمیں ٹیچروں، ڈاکٹروں اور ایسے لوگوں کی ضرورت ہوتی ہے جو ہمیں ذاتی خدمات فراہم کرتے ہیں۔
- 6- عوامی شعبہ جس میں زیادہ تر ملکیت پر سرکار کا کنٹرول ہوتا ہے اور سرکاری سبھی خدمات مہیا کرتی ہے۔
- 7- نجی شعبہ وہ حلقہ ہوتے ہیں جس میں ملکیت پر کنٹرول اور خدمات کی تقسیم کی ذمہ داری ایک فرد یا کمپنی کے ہاتھوں میں ہوتی ہے
- 8- کل گھریلو پیداوار:۔ کسی مخصوص سال میں تینوں شعبوں کے ذریعے پیدا کی گئی اشیا اور خدمات کی مالی قیمت
- 9- ہندوستان میں پچھلے 40 سالوں میں سب سے زیادہ ترقی ثالثی شعبے میں ہوئی ہے۔
- 10- اس کی وجہ سے خدماتی شعبہ میں تیزی سے ترقی کی ہے۔ نقل و حمل، تجارت، اسٹوریج وغیرہ
- 11- کھیتی میں چھپی بے روزگاری:۔ کھیتی میں چھپی بے روزگاری کا مسئلہ بہت ہوتا ہے کہ کھیت پر دو لوگوں کا کام ہے مگر وہاں پانچ لوگ کام کرتے ہیں۔ اگر تین لوگ کام چھوڑ دیں تو کھیتی پر فرق نہیں پڑے گا۔

- 12- تعلیم یافتہ بے روزگار: جب تعلیم یافتہ، تربیت یافتہ، ماہر لوگوں کو ان کی قابلیت کے مطابق کام نہیں ملتا۔
- 13- ماہر مزدوروں ہے جس نے مناسب تربیت حاصل کی ہے مگر قابل مزدوروں ہے جس نے کوئی تربیت حاصل نہیں کی ہے۔
- 14- منظم شعبے وہ کاروباری ادارے ہوتے ہیں جہاں کام کرنے کا وقت مقرر ہوتا ہے۔ یہ شعبے سرکار کے ذریعے رجسٹرڈ ہوتے ہیں اس میں کام کرنے والوں کو روزگار کی ضمانت ہوتی ہے۔
- 15- غیر منظم شعبے: وہ چھوٹی اور بکھری ہوئی اکائیاں جو زیادہ تر حکومت کے کنٹرول سے باہر رہتی ہیں۔ اس میں کام کرنے والوں کو روزگار کی کوئی ضمانت نہیں ہوتی۔
- 16- **دوہرے شمار کا مسئلہ:** یہ مسئلہ تب پیدا ہوتا ہے جب تمام پیداوار پر آئے خرچ کو جوڑا جاتا ہے کیونکہ اس میں خام پیداوار بھی شامل ہے۔
- 17- غیر منظم سیکٹر جنہیں تحفظ کی ضرورت ہے دیہی علاقوں میں غیر منظم زیادہ تر بے زمین زرعی مزدور چھوٹے اور حاشیائی کسانوں، بٹائی والے کسانوں اور دستکاروں جیسے بنگر، لوہارم بڑھی اور سنار پر مشتمل ہے۔
- 18- قومی دیہی روزگار گارنٹی قانون 2005:- اس کے تحت جو بھی لوگ کام کے لائق ہیں اور انہیں اس کی ضرورت ہے حکومت نے انہیں ایک سال میں روزگار کے سودوں کی ضمانت دی گئی ہے۔
- 19- کام حق:- کام کے لائق اور بے روزگار ضرورت مندوں کو ایک سال میں 100 دنوں کی روزگار کی گارنٹی دی ہے۔ اگر حکومت روزگار دینے میں ناکام رہتی ہے تو وہ لوگوں کو بے روزگاری بھتہ دے گی۔
- 20- G.D.P. ملک کی مجموعی پیداوار عطا کرتی ہے یہ کسی ملک کے اندر ایک مخصوص سال میں پیش کی جانے والی تمام اشیا اور خدمات کی قدر ہے۔

ایک نمبر والے سوالات

- 1- ثالثی شعبے میں شامل دوسرے گرمیاں کون سی ہیں؟
- 2- معیشت میں ہر سیکٹر کے آخری پیداوار کی ہی گنتی کیوں کی جاتی ہے؟
- 3- پبلک اور پرائیویٹ سیکٹر کی درجہ بندی کس بنیاد پر کی گئی؟
- 4- روزگار حاصل کرنے میں کس شعبہ کا پہلا مقام ہے؟

- 5- منظم سيلٹر كى دو خصوصيات بتائیں۔
- 6- قومی روزگار گارنٹی ایکٹ كس سال میں نافذ كیا گیا؟
- 7- معاشی سرگرمیاں جو ثلاثی شعبے میں نہیں آتی دو مثالیں دیں۔
- 8- پبلک سيلٹر میں حكومت كا خاص مقصد كیا ہوتا ہے؟
- 9- ٹسكو كمپنی میں كون سا ایکٹ لاگو نہیں ہوگا؟
- 10- چھپی ہوئی بے روزگاری كس نام سے جانی جاتی ہے؟
- 11- ہندوستان میں خدماتی شعبے كی كیا خصوصيات ہیں؟
- 12- تنخواہ كے ساتھ چھٹی كا نظام كس شعبے میں آتا ہے؟

مختصر / طویل جواب والے سوالات (3/5 نمبر والے)

- 1- پبلک سيلٹر اور پرائیویٹ سيلٹر میں فرق واضح كیجیے۔
- 2- غیر منظم شعبوں میں مزدوروں كے سامنے آنے والے مسائل كا تذکرہ كیجیے۔
- 3- منظم اور غیر منظم شعبوں میں روزگار كے حالات میں فرق واضح كیجیے۔
- 4- قومی دیہی روزگار گارنٹی ایکٹ 2005 كے كوئی تین طریقے بتائیے۔
- 5- اگرچہ معاشی سرگرمیوں كو پرائمری، سینڈری اور ثانوی تین الگ الگ شعبوں میں تقسیم كیا گیا ہے لیكن وہ پھر بھی ایک دوسرے پر منحصر ہیں۔“ واضح كیجیے۔
- 6- شہری علاقوں میں روزگار كے مواقع پیدا كرنے كے كوئی تین طریقے بتائیے۔
- 7- تیزی سے بڑھتی آبادی كس طرح بے روزگاری كو متاثر كرتی ہے؟
- 8- آپ ایک منظم شعبے كے ملازم ہیں۔ غیر منظم شعبے كے مقابلے آپ كو كون سے فائدے حاصل ہوں گے؟
- 9- وضاحت كیجیے كہ كس طرح پبلک سيلٹر ملك كو بنانے میں اہم كردار نبھاتا ہے؟

10- پوشیدہ (چھپی ہوئی) بے روزگاری سے کیا مراد ہے؟ دیہی اور شہری علاقوں میں اس کی ایک ایک مثال دیجیے۔

ایک نمبر والے سوالوں کے جوابات

- 1- ٹرانسپورٹ، مواصلات اور بینکنگ
- 2- دوبارہ گنتی کی پریشانی سے بچنے کے لیے
- 3- کاروباری اداروں کی ملکیت پر
- 4- ابتدائی سیکٹر
- 5- (i) یہاں روزگار کی شرطیں طے ہوتی ہیں۔
(ii) یہ حکومت سے رجسٹرڈ ہوتی ہیں۔
- 6- 2005 میں
- 7- مدھو کھی پالنا
- 8- سماجی فلاح و بہبود
- 9- قومی دیہی روزگار گارنٹی ایکٹ
- 10- جذوی روزگار
- 11- سب سے زیادہ روزگار
- 12- منظم سیکٹر

3/5 نمبر والے سوالات کے جوابات

- 1- عوامی شعبے
(i) زیادہ تر اثاثوں کی ملکیت پر سرکار کا کنٹرول
(ii) سبھی خدمات سرکار مہیا کرتی ہے
(iii) عوامی شعبے کی سرگرمیاں
نجی شعبے
اثاثوں کی ملکیت نجی افراد یا کمپنی کے ہاتھ میں ہوتی ہے۔
ایک فرد یا کمپنی کے ہاتھوں میں ہوتا ہے
یہ صرف منافع کمانے کے لئے سرگرم ہوتے ہیں

- (iv) روزگار محفوظ ہوتے ہیں روزگار غیر محفوظ ہوتے ہیں۔
- (v) پنشن، چھٹیاں اور دوسری خدمات دی جاتی ہیں روزگار کی گارنٹی نہیں ہوتی اور پنشن اور چھٹیاں نہیں دی جاتیں

- 2 (i) یہ شعبہ سرکاری قوانین و ضوابط کو نہیں مانتا
- (ii) اس میں بہت سے لوگ سڑکوں پر چھوٹی چھوٹی دکانیں لگا کر اپنا کام چلاتے ہیں۔
- (iii) بہت کم مزدوری کا ملنا
- (iv) مزدوری طے نہیں ہوتی اور روزگار بھی مستقل نہیں ہوتا۔
- (v) یہاں زائد وقت میں کام کرنے، چھٹی اور بیماری کی وجہ سے چھٹی وغیرہ کے لئے مزدوری نہیں ملتی
- (vi) ملازمت غیر محفوظ ہے

- 3 (i) منظم شعبہ غیر منظم شعبہ
- (ii) زیادہ تنخواہ ملنا کم تنخواہ کا ملنا
- (iii) ملازمت محفوظ ملازمت محفوظ نہیں
- (iv) کام کرنے کے بہتر حالات کام کرنے کے حالات بہتر نہیں
- (v) کام کرنے کا وقت مقرر کام کرنے کا وقت مقرر نہیں
- (vi) ملازموں کو اسکیموں کا فائدہ ملتا ہے انہیں اسکیموں کا فائدہ نہیں ملتا

- 4 (i) سرکار کے ذریعے سال میں 100 دن کے روزگار کی گارنٹی
- (ii) کام مہیا نہ ہونے کی حالت میں بے روزگاری بھتہ دینا
- (iii) دیہی علاقوں کو ترجیح دینا۔
- (iv) مستقبل میں زمینی پیداوار میں اضافہ کرنے والوں کو امداد

- 5 (i) یہ بات صحیح ہے کہ کیونکہ پرائمری سیکٹر میں ہم قدرتی وسائل کو برباد کرتے ہیں۔ یہ ایک ابتدائی شعبہ کی سرگرمی ہے۔ مثال کے طور پر زراعت، کان کنی وغیرہ۔
- (ii) تعمیراتی طریقہ کے ذریعے قدرتی پیداواروں کو دیگر شکلوں میں تبدیل کر کے نئی اشیاء تیار کی جاتی ہیں، مثال

- کے طور پر کپاس سے کپڑا تیار کرنا اور گنے سے چینی۔
- (iii) ثلاثی شعبہ کی سرگرمیاں ابتدائی اور ثانوی شعبوں کی سرگرمیوں میں تعاون۔ یہ شعبہ ان سرگرمیوں کو آگے بڑھانے کے قابل بناتا ہے۔ مثال کے طور پر ٹرانسپورٹ، تعلیم وغیرہ۔ تینوں شعبے ایک دوسرے پر منحصر ہیں۔ ابتدائی اور ثانوی سرگرمیاں کسی شے کا استعمال نہیں کر سکتیں۔ جب تک کہ انہیں ثلاثی شعبہ کا تعاون نہ ملے۔
- 6- (i) گھریلو صنعتوں اور خدمات کو بڑھا دینا
- (ii) سیاحت کو بڑھا دینا
- (iii) سرکاری پالیسیاں بدل کر
- (iv) بنیادی سہولیات، ترقی، قرض اور تکنیکی مدد دے کر
- (v) آسان شرطوں پر لون یا معاشی مدد کرنا
- 7- (i) روزگار کے مواقع آبادی میں اضافہ کے تناسب میں نہیں بڑھتے۔
- (ii) زراعتی شعبہ میں چھپی ہوئی بے روزگاری بڑھ جاتی ہے۔
- (iii) وسائل پر بوجھ بڑھ جاتا ہے۔
- (iv) روزگار کے لیے زیادہ آدمی ہونے سے آمدنی کی سطح کم ہو جاتی ہے۔
- (v) چیزوں اور خدمات کی قیمتیں بڑھ جاتی ہیں اور ان کا ملنا کم ہو جاتا ہے۔
- 8- (i) کام کے لیے مقررہ گھنٹے طے ہوں گے۔
- (ii) متعین وقت سے زیادہ کام کرنے پر ان کو الگ سے آمدنی حاصل ہوگی۔
- (iii) طبی امداد اور پنشن جیسی سہولیات ملیں گی۔
- (iv) رٹائرمنٹ کے وقت پنشن اور دوسرے فائدے ملیں گے۔
- (v) ملازمین کا استحصال نہیں ہوگا۔
- 9- (i) پبلک سیکٹر حکومت کسانوں سے مناسب قیمت پر گیہوں اور چاول خریدتی ہے اور صنعتوں کو بڑھاوا بھی دیتی ہے
- (ii) حکومت لوگوں پر صحت اور تعلیم کی سہولیات فراہم کرنا، معیاری تعلیم فراہم کرنا بطور خاص حکومت کا فریضہ ہے۔
- (iii) مزدوروں کو اچھی تنخواہ دلوانا اور دوسری سہولیات دلوانا بھی حکومت کا فریضہ ہے۔

- (iv) لوگوں کی فلاح و بہبود کے لیے اچھے کام کرنا
- 10- (i) لوگ بلواسطہ طور پر کام کرتے ہیں مگر حقیقت میں بے روزگار ہوتے ہیں۔ ایک ہی کام میں ضرورت سے زیادہ لوگ لگے رہتے ہیں۔
- (ii) یہ عام طور پر دیہی شعبہ زرعی شعبہ میں پایا جاتا ہے۔ جہاں کھیتوں میں چار افراد کی ضرورت ہے وہاں آٹھ افراد کام کر رہے ہوتے ہیں۔
- (iii) شہری علاقوں میں ایک دوکان کو خاندان کے چار لوگ چلاتے ہیں جبکہ وہاں دو افراد کی ضرورت ہے۔
- سوال (11) ہندوستان میں ثانوی شعبہ سب سے اہم کیوں ہے۔
- سوال نمبر (12) غیر منظم شعبے کے مزدوروں کو درج ذیل باتوں پر حفاظت کی ضرورت ہے حفاظت اور صحت ان کے بارے میں تفصیل سے بتائیے۔
- سوال نمبر (13) زراعت کے شعبے میں آنے والی پریشانیوں کا ذکر کرو؟
- سوال نمبر (14) ہم زراعت کے شعبے میں زیادہ روزگار کیسے مہیا کر سکتے ہیں؟
- سوال نمبر (15) تینوں معاشی شعبوں میں آئے تاریخی بدلاؤ پر بحث کریں۔
- ج (11) (i) جو ابتدائی، ثانوی شعبوں میں تیار کی جاتی ہیں انھیں لڑکیوں یا لڑکیوں کے ذریعے لانے جانے کی ضرورت ہوتی ہے وہ یہ کثیر خدمات انجام دیتا ہے۔
- (ii) بینک کاری رسل و رسائل تجارت ٹرانسپورٹ، مواصلات مجلسی سرگرمیاں یہ شعبہ انجام دیتا ہے۔
- (iii) یہ ہمیں خدماتی مددگار بھی ہیں ٹیچر ڈاکٹروں اور ایسے لوگوں کی ضرورت ہوتی ہے جو ہمیں ذاتی خدمات فراہم کرتے ہیں۔
- (iv) آج کل انفارمیشن ٹکنالوجی پر مبنی بعض نئی خدمات جیسے انٹرنیٹ کیفے A.T.M بوتھ، کال سینٹر سافٹ ویئر کمپنیاں زیادہ روزگار فراہم کر رہی ہیں۔

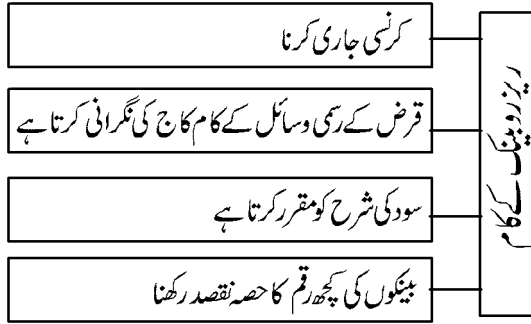
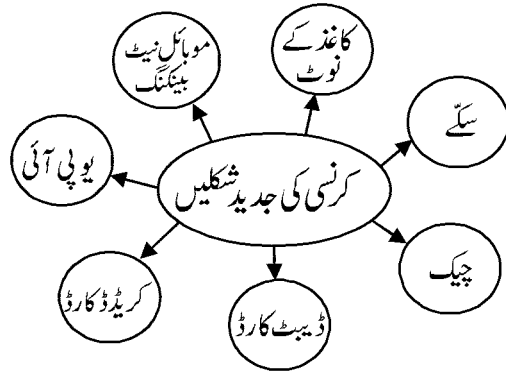
- ج (12) (i) بہت ہی کم تنخواہ دی جاتی ہے ان کا اکثر استحصال کیا جاتا ہے۔ اچھی اجرت نہیں ادا کی جاتی ان کی کمائی کم ہے اور باقاعدہ نہیں۔
- (ii) غیر منظم ہیں مزدوروں کو پنشن، بیمہ پالیسی، کام کے وقت کا تعین نہ ہونا وغیرہ نہیں دیا جاتا۔
- (iii) ان کو ملازمت سے کبھی بھی نکال دیا جاتا ہے۔
- (iv) بے ضابطہ اور کم اجرت والے کام حاصل کرنے کے علاوہ یہ مزدور سماجی تفریق کا بھی سامنا کرتے ہیں۔
- ج (13) (i) آپاشی محدود ہے زمین کا شہکاری کے لئے ہے اسے بیجوں فرٹیلائزر زرعی سازوسامان کی ضرورت پڑتی ہے وہ اسے آسانی سے دستیاب نہیں ہوتا۔
- (ii) مہاجنوں سے قرض لیتے ہیں تو اس کی اونچی شرح سود پر ادائیگی کرنی پڑتی ہے۔
- (iii) کسان کو آمدنی میں اتار چڑھاؤ
- (iv) بارش پر منحصر اور کوئی نوکری نہ ملنا وغیرہ
- ج (14) (i) کسانوں کو کھیتی کے اوزار خریدنے کے لئے قرض دیا جاسکتا ہے۔
- (ii) سوکھے علاقے کے لئے باندھ بنائے جاسکتے ہیں۔
- (iii) بیج اور کھاد پر سبسڈی دی جاسکتی ہے۔
- (iv) زراعت کے لئے اسٹورٹیج کا انتظام کیا جائے۔
- (v) آمدورفت کے جال کو بڑھایا جاسکتا ہے۔
- ج (15) (i) 1972 میں آزادی کے بعد ہندوستانی جی، ڈی، پی، جی، ڈی، پی میں پرائمری شعبہ سب سے خاص تھا۔
- (ii) جیسے جیسے آمدنی کی سطح بڑھتی ہے لوگوں کے بعض طبقات کی مانگ جیسے باہر کھانے پینے، سیاحت، شاپنگ، نجی اسپتال، نجی اسکول کا مانگ بڑھی
- (iii) ہندوستان میں خدماتی شعبے متعدد کئی طرح کے لوگوں کو ملازمت پر رکھتے ہیں ان میں انتہائی ماہر، ہنرمند اور تعلیم یافتہ ملازموں کو ملازمت دی جاتی ہے۔
- (iv) لہذا سروس سیکٹر لوگوں کو روزگار مہیا کر رہا ہے اور اس میں G.D.P کی حصہ داری تقریباً 60% ہے۔
- (v) آمدورفت کے جال کو بڑھایا جاسکتا ہے۔

باب۔ تیئیس

زر اور قرض

یاد رکھنے لائق نکات

- (1) اشیاء کے بدلے اشیاء کا لین دین ذریعہ مبادلہ کے طور پر تسلیم کیا جاتا ہے۔
- (2) ایک شخص جو فروخت کرنا چاہتا ہے بالک وہی چیز دوسرا خریدنے کی خواہش رکھتا ہے ایک تبادلہ اشیاء (بارٹر نظام) کہلاتا ہے۔
- (3) کرنسی کی ایجاد سے چیزوں کا لین دین میں ذریعہ مبادلہ کے طور پر عمل کرتا ہے۔



قرض سے مراد ایک ایسا معاہدہ ہے جس میں قرض دینے والا (قرض دہندہ) قرض لینے والے کو زرا اشیاء یا خدمات اس شرط پر فراہم کرتا ہے کہ وہ مستقبل میں ادائیگی کا وعدہ کرے۔

قرض جائیداد کی شکل میں :-

تہوار کے دوران جو تاجرانے کو سلیم کو ایک مہینے اندر جوتے بنانے کا آرڈر ملتا ہے وقت پر جوتے تیار ہو جائیں اس کے لئے سلیم کو سلائی اور چکانے کے کام میں کچھ مزید کام کرنے والوں کو بڑھانے کی ضرورت ہے اسے کچا مال بھی خریدتا ہے ان اخراجات کو پورا کرنے کے لئے سلیم کو دو ذرائع سے قرض حاصل کرنا ہے پہلا اسے چڑے کے سپلائر سے اور دوسرے اسے بڑے تاجر سے نقد قرض حاصل کرتا ہے اور وہ مہینے کے آخر میں آڈر تیار کرے اسے دے دیتا ہے اور اچھا منافع حاصل ہوتا ہے اور اس نے جو قرض لیا تھا اسے چکا بھی دیتا ہے۔

قرض سود کے جال کی شکل میں :-

سنو پنا ایک چھوٹا کسان ہے وہ موسم پھلی کی کھیتی کرنے کے لئے مہاجن سے قرض لیتی ہے اسے امید ہے کہ فصل تیار ہونے پر اسے قرض چکانے میں مدد ملے گی مگر فصل برباد ہونے کی وجہ سے وہ قرض چکانے میں ناکام رہتی ہے اور اس کا قرض اور بڑھ جاتا ہے۔

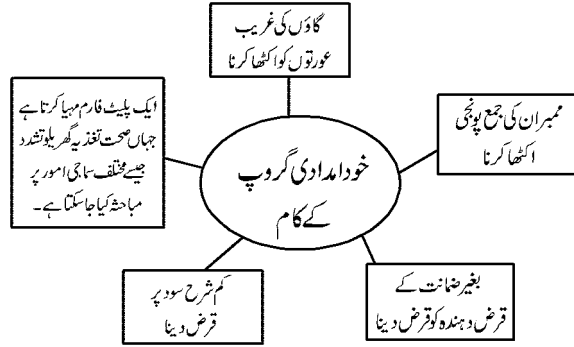
شرائط قرض :-

ہر قرض کے معاہدے میں شرح سود کی صراحت کی جاتی ہے جسے قرض دہندہ کو قرض لینے والے کے ذریعے اصل رقم کی ادائیگی کے ساتھ ادا کرنا پڑتا ہے اسکے علاوہ قرض دینے والا قرض کے مقابلے ضمانت (سیکورٹی) طلب کر سکتا ہے ضمانت ایک اثاثہ ہے جو قرض لینے والی کی ملکیت میں ہوتا ہے جیسے زمین، مکان، گاڑی، موٹیو، بینکوں میں جمع۔

قرض کی شرائط

سود کی شرح قرض لینے والا ضروری کاغذات قرض دینے کا طریقہ

خود امداد گروپ :- حالیہ سالوں میں لوگوں نے غریبوں کو قرض فراہم کرنے کے کچھ نئے نئے طریقوں کو آزمانے کی کوششیں کی ہے خیال یہ ہے کہ دیہی غریبوں خاص طور پر عورتوں کے چھوٹے چھوٹے خود امدادی گروپوں (SHGS) میں منظم کیا جائے۔



ایک نمبر والے سوالات :-

- (1) کرنسی کی جدید شکل کوئی ہے۔
- (1) کاغذ کا نوٹ (2) سونے کا سکہ (3) چاندی کا سکہ (4) تانبا کا سکہ
- (2) ہندوستان میں مرکزی حکومت کی طرف سے کون کرنسی جاری کرتا ہے۔
- (1) نابورڈ (2) بھارتیہ ریزرو بینک (3) عالمی بینک (4) اسٹیٹ بینک آف انڈیا
- (3) جمع کا بڑا حصہ بینک کس پر استعمال کرتا ہے۔
- (1) نئی شاخیں کھولنے میں (2) سود جمع کرنے میں (3) قرض پر سود کا چکانا (4) قرض دینے کے لئے
- (4) قرض کے رسی حلقے میں شامل نہیں ہے۔
- (1) بینک (2) امدادی بینک (3) دین دار (4) ان میں سے کوئی نہیں
- (5) قرض جال سے آپ کیا سمجھتے ہیں؟
- (1) لون ادا کرنے میں ناکام (2) لون چکانے میں کامیاب (3) دونوں صحیح (4) دونوں غلط
- (6) درج ذیل میں سے کون شرائط قرض کی مثال نہیں ہے۔
- (1) زیور (2) گھر (3) کھیتی کی زمین (4) ان میں سے کوئی نہیں
- (7) خود امدادی گروپ میں بحث اور قرض سے متعلق زیادہ فیصلے لئے جاتے ہیں۔
- (1) بینکوں کے ذریعے (2) حکومت کے ذریعے

(3) ممبران کے ذریعے (4) غیر سرکاری گروپوں کے ذریعے

س (8) بینک اپنے پاس کتنی جمع رقم رکھتا ہے۔

(1) 10 فیصد (2) 20 فیصد (3) 15 فیصد (4) 30 فیصد

س (9) بین الاقوامی سطح پر لین دین کے لئے کون سی کرنسی استعمال کی جاتی ہے۔

(1) امریکی ڈالر (2) سنگا پوری ڈالر (3) روپیہ (4) ٹکا

س (10) بنگلہ دیش میں گرامین بینک کا قیام کس نے کیا۔

(1) وسیم اکرم (2) شعیب (3) محمد یونس (4) شاہد آفریدی

س (11:-) مان لیجئے آپ پرانے زمانے میں ہیں جب چیزوں کو خریدنے اور بیچنے وقت پیسے کا لین دین نہیں کیا جاتا تھا اس وقت چیزیں خریدتے وقت آپ کو کن پریشانیوں کا سامنا کرنا پڑے گا۔

س (12:-) ہندوستان کے شروع کے وقت میں لین دین کے لئے کن چیزوں کا استعمال کیا جاتا تھا۔

س (13:-) بھارتی یہ جاننا چاہتی ہے کہ کیوں ہندوستان میں روپے میں کی گئی ادائیگی کو کوئی نامنظور کیوں نہیں کرتا؟ وجہ بتائیے۔

س (14:-) غیر رسمی حلقہ قرض زیادہ مہنگا کیوں ہوتا ہے۔

س (15:-) جدید اور قدیم کرنسی کی ایک ایک مثال لکھئے۔

جوابات ایک نمبر والے

(1) کاغذ کے نوٹ

(2) بھارتیہ ریزرو بینک

(3) قرض لینے کے لئے

(4) ادائیگی

(5) لون اتارنے میں ناکام

- (6) ان میں سے کوئی نہیں
- (7) ممبران کے ذریعے
- (8) 15% فیصد
- (9) امریکی ڈالر
- (10) محمد یونس
- (11) ضرورت کے دوہری پریشانی
- (12) اناج اور زیور
- (13) کیونکہ یہ حکومت ہند کی جانب سے اس کی گارنٹی دی جاتی ہے۔
- (14) شرح سود زیادہ ہوتا ہے۔
- (15) جدید کرنسی، نوٹ، قدیم کرنسی، سونے کے سکے۔

مختصر / طویل جواب والے سوالات (3/5 نمبر)

- 1- ریزرو بینک آف انڈیا کیا کام انجام دیتا ہے؟
- 2- قرض دہندہ کیا ہے؟ مثالیں سے واضح کیجیے۔
- 3- قرض کے رسمی اور غیر رسمی سیکٹر کی خصوصیات بتائیے۔
- 4- کیا وجہ ہے کہ بینک بعض قرض خواہوں کو قرض دینے کے لیے تیار نہیں ہوتے؟
- 5- چیزوں کے لین دین کے ذرائع کی تین حدود بتائیے۔
- 6- کیا سلیم اور سوپنا کے لیے لون ایک ایک سے حالات پیدا کرتا ہے؟ بتائیے۔
- 7- قرض جال کب ابھرتا ہے؟ مثال دے کر سمجھائیے۔
- 8- لون کی شرط کسے کہا جاتا ہے؟ یہ کس طرح الگ ہوتی ہیں؟
- 9- غریبوں کے لیے خود امدادی گروپ کی تنظیم کے پس پشت بنیادی نظریہ کیا ہے؟

10- ہمیں ہندوستان میں قرض کے رسمی وسائل کو بڑھانے کی ضرورت کیوں ہے؟

ایک نمبر والے سوالوں کے جوابات

- 1- ضرورتوں کو پورا کرنے کے لیے آسانی ہوگی۔
- 2- کیونکہ یہ لین دین میں ذریعہ کے مبادلہ کے طور پر عمل کرتا ہے۔
- 3- کل رقم کا 15 فیصد
- 4- ڈالر
- 5- جب اس ملک کی حکومت اس کرنسی کو منظور کرتی ہے
- 6- مہاجن، دوست اور رشتہ دار وغیرہ
- 7- خود مختار گروپ
- 8- لون حاصل کرنے والے لوگوں کا زیادہ حصہ سود کو چکانے میں چلا جاتا ہے۔ کیونکہ سود کی شرح زیادہ ہوتی ہے۔
- 9- گروپ کے ممبران
- 10- اناج

3/5 نمبر والے سوالوں کے جوابات

- 1- حکومت کی طرف سے کرنسی جاری کرتا ہے
— بینک اپنی جمع کا کتنا حصہ نقد رکھے گا
— سود کی شرح اور لون کی شرائط پر بھی نگرانی کرتا ہے
— بینک صرف منافع کمانے والے اداروں اور تاجروں کو ہی قرض نہ دے رہے ہوں بلکہ چھوٹے کاشتکاروں،
چھوٹے پیمانے کی صنعتوں اور چھوٹے قرض داروں کو بھی قرض دے رہے ہوں، یہ بھی نگرانی کرتا ہے۔
- 2- قرض دہندہ کو قرض دینے والے کے ذریعے اصل رقم کی ادائیگی کے ساتھ ادا کرنا پڑتا ہے
— قرض دینے والا قرض کے مقابلے ضمانت (سیکورٹی) طلب کر سکتا ہے

— ضمانت ایک اثاثہ ہے جو قرض لینے والے کی ملکیت میں ہوتا (جیسے زمین، عمارت، گاڑی، مویشی، بینکوں میں جمع)

— ان اثاثوں کو قرض دہندہ جب تک قرض کی بے باقی نہ ہو جائے ضمانت کے طور پر استعمال کرتا ہے

3- قرض کا رسمی سیکٹر — قرض کا غیر رسمی سیکٹر

— بینک، کوآپریٹو سوسائٹی — مہاجن، تاجر، آجر، دوست، رشتہ دار

— سود کی شرح کم — سود کی شرح زیادہ

— اس میں قرض خواہ کا استحصال نہیں ہوتا — اس میں قرض خواہ کا استحصال ہوتا ہے

— قرض کے جال میں نہیں پھنستا ہے — قرض کے جال میں پھنس سکتا ہے

— ہندوستان کے سبھی دیہی علاقوں میں بینک کا نہ ہونا — 4

— بینک سے قرض لینا سہا ہو کار (مہاجن) سے قرض لینے کے مقابلے زیادہ مشکل ہے

— بینک سے قرض لیتے وقت جائیداد اور دیگر کئی دستاویزوں کی ضرورت پڑتی ہے

— غریب کنبوں کو بینک قرض نہیں دیتے

— گاؤں والے لون کی شرائط کو پوری نہیں کر پاتے

— اشیا کا مبادلہ اسی وقت ممکن ہے جب ضروریات کی دوہری مطابقت پائی جائے۔ — 5

— اشیا کے مبادلہ کے نظام کے تحت دولت یا قیمت کی ذخیرہ اندوزی مشکل ہے۔

— کچھ اشیا ناقابل تقسیم ہوتی ہیں لہذا کچھ ضروریات کی تکمیل نہیں ہو پاتی۔

— اشیا کی ذخیرہ اندوزی لمبے عرصے کے لیے نہیں کی جاسکتی۔

— 6 — اسلام کے لیے قرض مثبت رول ادا کرتا ہے۔

— اس قرض سے اس نے منافع کمایا اور اپنا لون بھی چکایا

— سو پنا کے لیے قرض منفی رول ادا کرتا ہے

— کیونکہ لون ادا نہیں کر پائی اور اس کو گھٹا ہوا

— اور وہ قرض میں ڈوب گئی لہذا بینک کا قرض ادا کرنے کے لیے اسے اپنی زمین کا ایک ٹکڑا بیچنا پڑا

— 7 — غیر رسمی ذرائع سے قرض لینے پر زیادہ سود ادا کرنا پڑتا ہے

— رسمی ذرائع سے قرض لینے والے کو غیر رسمی ذرائع سے قرض لینے والے کے مقابلے زیادہ فائدہ حاصل ہوتا ہے۔

- غیر رسمی ذرائع قرض خواہ سے بہت زیادہ سود لیتے ہیں نتیجتاً قرض بہت مہنگا ثابت ہوتا ہے اور اس کی معاشی حالت بدتر سے بدتر ہوتی چلی جاتی ہے۔
- 8- لون لینے کے لیے شرح سود کی شرط ضروری کاغذات اور گارنٹیکون بنے گا اور لون دا کرنے کے طریقے کیا ہوں گے، آپ کے پاس سیکورٹی کیا ہوگی بینک میں رکھنے کے لیے۔ بینک کی لون کی شرطیں مختلف گروپ کے لیے الگ الگ ہو سکتی ہیں۔
- 9- — دیہی علاقوں کے غریبوں کو منظم کرتے ہیں۔
— ممبران کے درمیان اپنے روزگار قائم کرنے کے مواقع فراہم کراتے ہیں۔
— عورتوں کو معاشی طور پر مضبوط بناتے ہیں۔
— قرض داروں کو قرض کے بوجھ سے نجات دلانے کے لیے قائم کیے جاتے ہیں۔
- 10- — غیر رسمی ذرائع سے قرض لینے پر زیادہ سود ادا کرنا پڑتا ہے
— رسمی ذرائع سے قرض لینے والے کو غیر رسمی ذرائع سے قرض لینے والے کے مقابلے زیادہ فائدہ حاصل ہوتا ہے۔
— غیر رسمی ذرائع قرض خواہ سے بہت زیادہ سود لیتے ہیں نتیجتاً قرض بہت مہنگا ثابت ہوتا ہے
— غریب اور ان پڑھ لوگ آسانی سے قرض کے جال میں پھنس جاتے ہیں۔

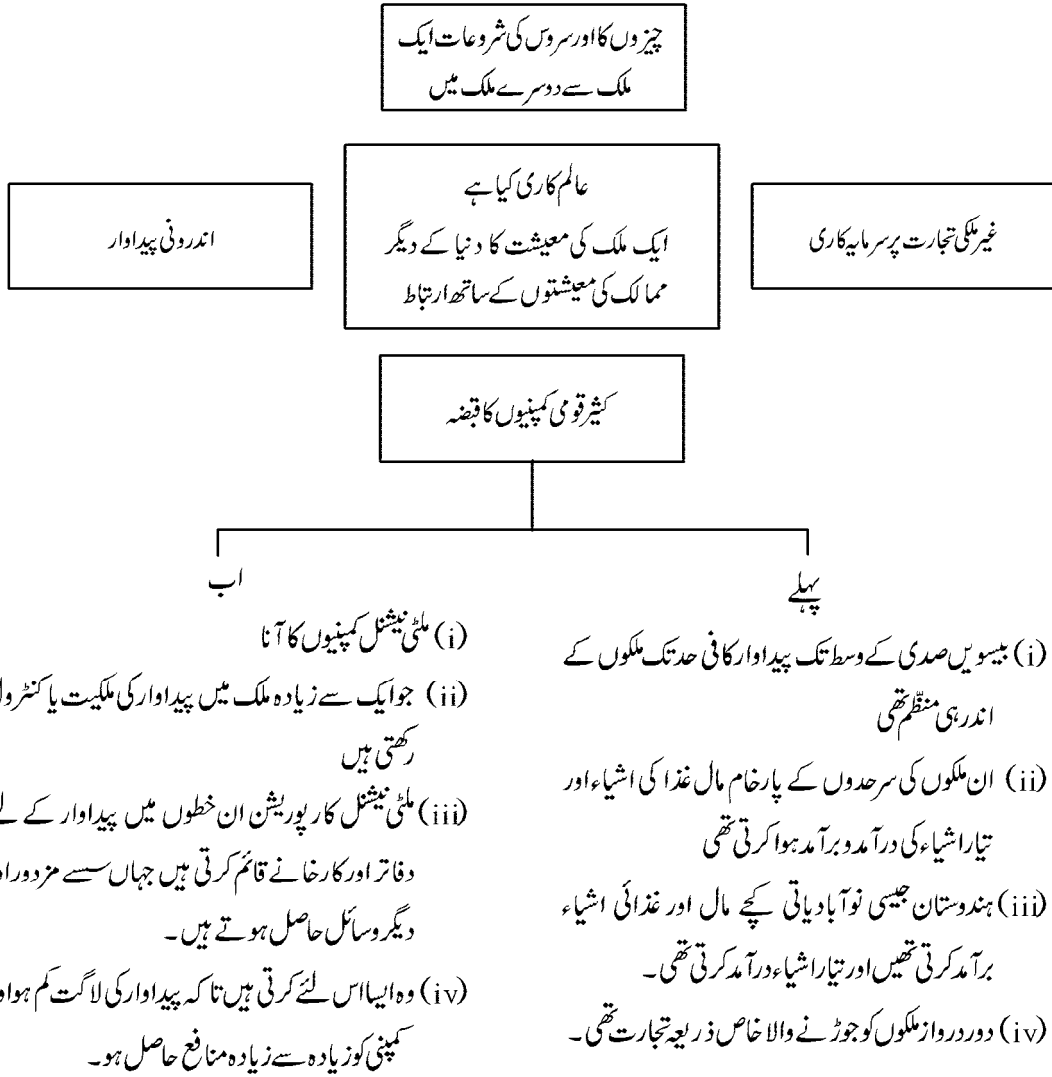
مشقی سوالات :-

- س1:- ایسی کیا وجہ ہے کہ گاؤں کے علاقوں میں بینکوں کی تعداد زیادہ ہونی چاہئے۔ وضاحت کیجئے؟
- س2:- بینک اور کوآپریٹو سوسائٹیوں کو اپنے قرض دینے کی سرگرمیوں کو گاؤں کے علاقوں میں بڑھانے کی زیادہ ضرورت؟ کہیں تین نکات کو بتائیے۔
- س3:- زیادہ ترقی کرنے کے لئے قرض کے رسمی حلقے کی اہمیت بیان کیجئے؟
- س4:- قرض کے غیر رسمی حلقے سے قرض دار پر پڑنے والے اثرات کے بارے میں بتائیے۔
- س5:- ہندوستان کی زیادہ تر آبادی آج بھی قرض کے غیر رسمی حلقے پر کیوں منحصر ہے۔

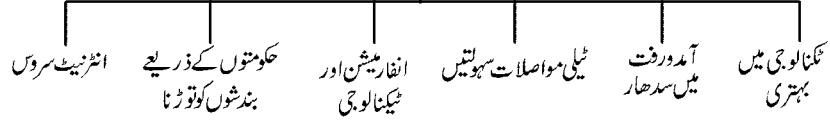
باب۔ چوبیس

عالم کاری اور ہندوستانی معیشت

یاد رکھنے لائق نکات



وہ عوامل جو گلوبلائزیشن (عالم کاری) کو مجاز بناتے ہیں؟



عالمی تجارتی تنظیم W.T.O

عالمی تجارتی تنظیم کے مقاصد:-

- (i) بین الاقوامی تجارت کو نرم بنانا
- (ii) بین الاقوامی تجارت سے متعلق ضوابط بنانا ہے اور یہ دیکھتا ہے کہ ان اصولوں کی تعمیل ہوتی ہے کہ نہیں۔
- (iii) ترقی یافتہ ممالک نے ناجائز طور پر تجارتی بندشیں لگا رکھی ہیں تو ان کو روکنا ہے۔
- (iv) ترقی پذیر ملکوں پر تجارتی بندشوں کو ختم کرنے پر روک لگاتا ہے۔

گلوبلائزیشن کے اثرات:-

- (i) پیدا کار کے درمیان عظیم مسابقت سے صارفین کو فائدہ ہوا ہے ان کے سامنے اشیاء کے لئے بہتر کوالٹی اور کم قیمتوں سے فائدہ اٹھاتے ہیں ان کے سامنے اب پسندنا پسند کا کافی اختیار ہے۔
- (ii) نئے نئے روزگار کے مواقع ملے ہیں۔
- (iii) کثیر کمپنیوں کو کچا مال فراہم کرنے والی علاقائی کمپنیوں کے حالات سدھ گئے ہیں۔
- (iv) مزید برآں گلوبلائزیشن سے کچھ بڑی ہندوستانی کمپنیاں خود ملٹی نیشنل کے طور پر ابھرنے میں کامیاب ہوتی ہیں۔ ٹاٹا موٹرز (آٹوموبائل) (I.T.)

ممالک کے درمیان باہم مربوط پیداوار

- (i) ملٹی نیشنل کمپنیاں پیداوار عمل کا انتظام وہاں کرتی ہیں جو بازاروں سے قریب ہوتے ہیں جہاں ہنرمند اور غیر ہنرمند اور مزدور کم لاگت پر ملتے ہیں۔
- (ii) ان کے ذریعے جو رقم خرچ کی گئی ہے اس کو غیر ملکی سرمایہ کاری کہا جاتا ہے۔

(iii) ملٹی نیشنل کمپنیوں کے لئے سرمایہ کاری کا سب سے زیادہ عام طریقہ یہ ہے کہ وہ مقامی کمپنیوں کو خرید لیں یا ان کے ساتھ ملک کر کام کرتی ہیں جیسے پارکوفوڈ میں۔

(iv) درحقیقت بہت سی بڑی کثیر قومی کمپنیوں کے پاس اتنی زیادہ دولت ہے جو ترقی پذیر ملکوں کی حکومتوں کے پورے بجٹ سے کہیں زیادہ ہے۔

(v) کثیر قومی کمپنیاں چھوٹے چھوٹے پیدا کاروں کو پیداوار کے لئے آرڈر پیش کرتی ہیں گارمنٹس (ملبوسات) جو تا وغیرہ کھیل کود کے سامان ان صنعتوں کی مثالیں ہیں۔

غیر ملکی تجارت کیسے بازاروں کو ایک کرتی ہے:-

(i) کثیر قومی کمپنیاں اپنے پیداوار کو وسعت دے رہی ہیں اور پوری دنیا کے مختلف ملکوں میں مقامی پیدا کاروں کے ساتھ باہمی تعلقات قائم کر رہی ہیں۔

(ii) مقامی کمپنیوں کی شراکت قائم کرنے سپلائی کے لئے مقامی کمپنیوں کے ساتھ زبردست مقابلہ یا انھیں خرید لینے کے ذریعے کثیر قومی کمپنیاں ان دور دراز کے مقامات پر پیداوار پر زبردست اثر انداز ہوتی ہے۔

رین بیکیسی (ادویات) ایشین پیٹنس (بینٹ) سڈرم فاسٹرس (لوٹ) (نٹ اور بولٹ) کچھ ایسی کمپنیاں ہیں جو اپنے عمل عالمی پیمانے پر انجام دے رہی ہیں۔

ایک منصفانہ گلوبلائزیشن کے لئے جدوجہد:-

(1) حکومت اس بات کو یقینی بنا سکتی ہے کہ خواتین کی صحت کی ٹھیک طرح سے تعمیل ہو۔ اور ورکرس اپنے حقوق حاصل کر سکیں۔

(2) وہ چھوٹے پیدا کاروں کی مدد کر سکتی ہے تاکہ وہ اپنی کارکردگی کو زیادہ بہتر بنا سکیں۔

(3) اگر ضروری ہو تو حکومت کو تجارتی اور سرمایہ کاری سے متعلق بندشوں کا استعمال کرنا چاہئے۔

(4) منصفانہ اصول و قواعد کے لئے بھی بات کرنی چاہئے۔

(5) عالمی تجارتی تنظیم ترقی یافتہ ملکوں کے غلبے کے خلاف جدوجہد کے لئے یکساں مفادات والے دیگر ترقی پذیر ممالک کے ساتھ بھی اتحاد کرنا چاہئے۔

غیر ملکی تجارت کی نرم کاری اور غیر ملکی سرمایہ کاری کی پالیسی :-

(i) 1991 کے شروع میں غیر ملکی تجارت اور غیر ملکی سرمایہ کاری پر بندشیں کافی حد تک ہٹالی گئیں۔

(ii) اس کا مطلب یہ تھا کہ اشیاء کی درآمد اور برآمد آسانی کے ساتھ کی جاسکتی تھی۔

(iii) غیر ملکی کمپنیاں یہاں فیکٹریاں اور دفاتر بھی قائم کر سکیں گی۔

یاد رکھنے کے لائق باتیں :-

- (1) کثیر قومی (ملٹی نیشنل کمپنیاں) :- وہ کمپنیاں جو ایک سے زیادہ ملکوں میں پیداوار پر کنٹرول رکھتی ہیں۔
- (2) عالم کاری (گلوبلائزیشن) :- ممالک کے درمیان تیز ارتباط یا باہمی جڑاؤ کا عمل۔
- (3) نرم کاری :- حکومت کے ذریعے تمام بندشوں اور پابندیوں کو ہٹانے کی سرگرمی نرم کاری کہلاتی ہے۔
- (4) سرمایہ کاری :- وہ رقم جو اثاثوں جیسے زمین، عمارت، مشینوں اور دیگر ساز و سامان کو خریدنے کے لئے خرچ کی جاتی ہے اسے سرمایہ کاری کہا جاتا ہے۔
- (5) غیر ملکی سرمایہ کاری :- غیر ملکی سرمایہ کاری کثیر قول کمپنیوں کے ذریعے کئے گئے خرچ کو غیر ملکی سرمایہ کاری کہتے ہیں۔
- (6) آزاد تجارت :- جب دو ملکوں کے بیچ تجارت بغیر کسی شرط اور پابندی کے ہوتی ہے تو اسے آزاد تجارت کہتے ہیں۔
- (6) نجی کاری :- پبلک سیکٹر کی کمپنیوں کو اپنے پیداواری عمل کے لئے نجی شعبے میں بیچا۔
- (6) عالمی تجارتی تنظیم :- W.T.O جس کا مقصد بین الاقوامی تجارت کو نرم بنانا ہے۔
- (6) عالمی بینک :- اپنے ممبران ممالک کو مالی فنڈ مہیا کراتا ہے۔
- (6) خصوصی معاشی زون :- (SEZ-S) Special Economic Zones ہندوستان میں سرمایہ کاری کے لئے غیر ملکی کمپنیوں کو راغب کرنے کے لئے خصوصی اقدامات کر رہی ہیں جنہیں (SEZ-S) کہا جاتا ہے۔

ایک نمبر والے سوالات

- 1- ایک کمپنی جو ایک سے زیادہ ملکوں میں پیداوار پر کنٹرول اور اپنا مالکانہ حقوق رکھتی ہے کیا کہلاتی ہے؟
- 2- زمین، مکان، مشینیں اور دیگر آلات میں خرچ کی گئی رقم کو کیا کہتے ہیں؟

- 3- عالم کاری کیا ہے؟
- 4- تجارتی رکاوٹ کی ایک مثال دیجیے۔
- 5- ہندوستان میں نئی معاشی پالیسی کب نافذ ہوئی؟
- 6- ہندوستانی معیشت کس طرح کی معیشت ہے؟
- 7- ہندوستانی معیشت کیسی معیشت ہے؟
- 8- غیر ملکی تجارت کس کے مابین ہوتی ہے؟
- 9- امریکی کمپنی فورڈ موٹر ہندوستان کب آئی؟
- 10- کس شعبے میں عالم کاری سے سب سے کم فائدہ ہوا ہے؟
- 11- کثیر قومی کمپنیاں (MNCs) بیرونی ممالک میں سرمایہ کاری کیوں کرتی ہیں؟
- 12- عالم کاری کے ذریعے لوگوں کو آپس میں جوڑنے کا نتیجہ ہوگا؟
- س: 13- حکومت کے ذریعے رکاوٹوں کو ہٹانے کی گرمی کو..... کہتے ہیں۔
- س: 14-..... اس ہندوستانی کمپنی کا نام بتائیں جس نے فورڈ موٹرز کے ساتھ ہندوستانی موٹر گاڑی صنعت میں ساجھے داری کی ہے۔
- س: 15- کس ہندوستان کمپنی کو ایک کثیر قومی کمپنی ”کارگل فوڈس نے خرید لیا ہے۔
- س: 16- عالم کاری نے درج ذیل کے لئے چیلنجز کھڑا کر دیا ہے۔
- (a) بڑے پیداوار (b) چھوٹے پیداوار (c) گاؤں کے غریب لوگ (d) ان میں سے کوئی نہیں
- س: 17- درج ذیل میں سے کون سا تجارت میں رکاوٹ کی مثال ہے۔
- (a) غیر ملکی سرمایہ کاری (b) سامان میں دہری یا نقصان
- (c) برآمد پر ٹیکس (d) ان میں سے کوئی نہیں

س:18:- کثیرقومی کمپنیوں کے خاص..... بیان کیجئے۔

مختصر/طویل جواب والے سوالات (3/5 نمبر)

- 1- کثیرقومی کمپنیاں کس طرح پیداوار پر کنٹرول قائم کرتی ہیں؟ کوئی تین نکات پیش کیجئے۔
- 2- کن وجوہات کی بنا پر ہندوستان میں معاشی اصلاحات کی ضرورت کو محسوس کیا گیا؟
- 3- عالم کاری کو تحریک دینے میں ٹیکنالوجی کا رول بیان کیجئے۔
- 4- عالم کاری کی وجہ سے مقابلہ آرائی کے برے اثرات کا تذکرہ کیجئے۔
- 5- عالم کاری کو مجاز بنانے میں حکومت کا کردار بیان کیجئے۔
- 6- عالم کاری کا لوگوں کی زندگی پر کیا اثر پڑا؟
- 7- حکومت ہند نے آزادی کے بعد غیرملکی تجارت اور غیرملکی زرمبادلہ پر بندشیں کیوں عائد کیں؟
- 8- نرم کاری اور عالم کاری کی پالیسی کو اپنانے کے نتیجے میں ہندوستان میں کون کون سی اہم تبدیلیاں رونما ہوئیں؟
- 9- عالمی تجارتی تنظیم (WTO) کا مطلب بتائیے۔ اس کے دو نقصانات بیان کیجئے۔
- 10- غیرملکی تجارت اور غیرملکی سرمایہ کاری کے درمیان فرق کیجئے۔
- 11- غیرملکی سرمایہ کاری کو راغب کرنے کے لیے کیا کیا اقدام کیے گئے ہیں؟

ایک نمبر والے سوالوں کے جوابات

- 1- کثیرقومی کمپنی
- 2- سرمایہ کاری
- 3- ایک ملک کی معیشت کا دنیا کے دیگر ممالک کی معیشتوں کے ساتھ ارتباط
- 4- ایکسپورٹ پریکٹس
- 5- 1991 میں
- 6- مشترکہ نظام

- 7 دو یا دو سے زیادہ ممالک کے مابین
- 8 ٹاٹا موٹرس
- 9 1995 میں
- 10 کھیتی کے شعبے میں
- 11 زیادہ نفع حاصل کرنے کے لیے
- 12 پیدا کاروں کے مابین پہلے سے زیادہ مسابقت
- 13 نرم کاری
- 14 مہندر اینڈ مہندرا
- 15 پرکھ فوڈس
- 16 چھوٹے پیداوار
- 17 برآمد پر ٹیکس
- 18 منافع حاصل کرنا۔

3/5 نمبر والے سوالوں کے جوابات

- 1 پیداوار پر کنٹرول قائم کرنے کے طریقے
- جوائنٹ انڈر ٹیکنگ کا طریقہ
- مقامی کمپنیوں کو خرید لینا
- چھوٹے پیدا کاروں سے مال خریدنا
- 2 — مالیاتی خسارہ میں اضافہ
- توازن ادائیگی میں اضافہ
- خلیجی بحران
- غیر ملکی زرمبادلہ کے ذخیرہ میں کمی
- قیمتوں میں اضافہ

- پبلک سیکٹر میں تسلی بخش کام کا نہ ہونا
- 3- — نقل و حمل کے ذرائع میں ہونے والی اصلاحات کی بدولت ایشیا کو کم لاگت پر دروازے کے مقامات تک بھیجنا آسان ہو گیا
- انفارمیشن ٹیکنالوجی میں سدھار کی وجہ سے دنیا کے تمام ممالک آپس میں جڑ کر فوراً اطلاعات کا لین دین کر لیتے ہیں
- انٹرنیٹ ٹیکنالوجی سے تجارت میں تیزی آئی ہے
- 4- — چھوٹی صنعتوں، بیٹری، کھلونے، ٹائروں وغیرہ کی پیداوار میں کمی
- بے روزگاری میں اضافہ
- غیر مستقل مزدور
- مزدوروں کو تحفظ اور فائدہ نہیں مل پارہا تھا
- کام زیادہ اور مزدوری کم
- 5- — **حکومت کا کردار**
- عالم کاری کی نئی پالیسی کے مطابق ہندوستانی معیشت کو عالمی معیشت سے جوڑنے کی کوشش کی گئی تاکہ پونجی (اصل) ٹیکنیک، علم اور تجربہ کا دنیا کے دیگر ممالک کے ساتھ تبادلہ ہو سکے
- حکومت نے مال کی درآمدات پر عائد کئی پابندیاں ہٹا دیں
- درآمدی مال پر ٹیکس کم کر دیا
- غیر ملکی سرمایہ کاروں کو ہندوستان میں سرمایہ کاری کرنے کے لیے راغب کیا
- تکنیکی شعبہ کو ہر طرح سے معیاری بنانے کی کوشش کی گئی
- 6- — خریدار کے سامنے پہلے سے زیادہ پسند کی چیزیں
- خریدار کو کم قیمت پر اچھی خوبی والی چیزیں دستیاب ہونا شروع ہو گئیں
- لوگ پہلے کے مقابلے اپنی زندگی بہتر طور پر بسر کرنے لگے
- صنعتوں میں نئے نئے روزگار مہیا ہوئے
- صنعتوں کو کچا مال مہیا کرانے کے لیے علاقائی کمپنیاں شروع ہوئی

- 7- — غیرملکی مسابقت سے ملک کے پیدا کاروں کو تحفظ فراہم کرنا
- آزادی سے پہلے انگریزوں نے ہندوستانی صنعتوں کو تباہ کر دیا تھا۔ آزادی کے بعد یہاں ہندوستانی صنعتیں قائم کی گئیں۔ صنعتوں کی ترقی کے لیے غیرملکی تجارت پر پابندی ضروری تھی
- آزادی کے بعد ہندوستان 562 ٹکڑوں میں منقسم تھا۔ یہاں نقل و حمل اور مواصلات (ترسیل) کے ذرائع بہت خستہ حالت میں تھے
- آزادی کے ابتدائی برسوں میں ہندوستان کے بیرونی ممالک سے تعلقات اتنے استوار نہیں ہو پائے تھے کہ دنیا کے دیگر ممالک کے ساتھ تجارت کو فروغ دیا جاسکے
- 8- — نرم کاری اور عالم کاری کی پالیسی پر عمل کرنے کے نتیجے میں نجی غیرملکی سرمایہ کاری کو بڑھانے کا زیادہ موقع ملا
- غیرملکی زرمبادلہ کے ذخیرہ میں اضافہ
- آئی ٹی صنعت کو فروغ ملا
- سرکاری محصول میں اضافہ
- 9- — 1995 میں اقوام متحدہ کے ممبر ممالک کے ذریعے باہمی تجارت کو فروغ دینے کے لیے عالمی سطح پر جس تنظیم کا قیام عمل میں آیا اسے عالمی تجارتی تنظیم کہتے ہیں
- نقصانات:**
- دنیا کے ترقی یافتہ ممالک ترقی پذیر ممالک کے داخلی امور میں دخل اندازی کر سکتے ہیں
- ترقی یافتہ ممالک کوئی بھی اہم فیصلہ خود ہی لیتے ہیں وہ ترقی پذیر ممالک سے صلاح مشورہ نہیں کرتے
- 10- — غیرملکی تجارت :- بیرونی ممالک سے ایشیا کو خریدنے اور فروخت کرنے کا کام غیرملکی تجارت کہلاتا ہے
- اس میں درآمدات اور برآمدات دونوں ہی شامل ہیں
- غیرملکی سرمایہ کاری :- زیادہ نفع حاصل کرنے کے مقصد سے جب کثیر قومی کمپنیاں میزبان ملک میں اپنی پونجی سے پیداواری اکائیاں قائم کرتی ہیں تو اسے غیرملکی سرمایہ کاری کہا جاتا ہے

- 11 — صنعتی زون خصوصی معاشی زون قائم کیے جا رہے ہیں
- عالمی معیار کی سہولتیں بجلی، پانی، سڑکیں، ٹرانسپورٹ، اسٹورٹیج، تفریحی اور تعلیمی سہولتیں مہیا کی جاتی ہیں
- جو کمپنیاں SEZ میں پیداواری اکائیاں لگاتی ہیں پانچ سال کی ابتدائی مدت کے لیے ٹیکس ادا نہیں کرتیں
- حکومت غیر ملکی سرمایہ کاری کو راغب کرنے کے لیے قوانین محنت میں چلک کی بھی گنجائش رکھتی ہے۔
- سوال 12:- گلوبلائزیشن کو کیسے منصفانہ بنایا جاسکتا ہے؟ تبصرہ کیجئے۔
- سوال 13:- تفصیل سے بتائے کہ ہندوستان کی باقی کمپنیوں کو گلوبلائزیشن سے کیسے فائدہ پہنچا ہے؟
- سوال 14:- عالمی تجارت دنیا کے مختلف ملکوں کے بازاروں کو جوڑتا ہے اس جملے کی حمایت میں دلائل پیش کیجئے۔
- سوال 15:- چیزوں کے بہت سارے متبادل موجود ہیں اب ہندوستانی بازار میں اس قول کو وضاحت عالم کاری کے نظیر نہیں کیجئے۔
- سوال 16:- زیادہ غیر ملکی سرمایہ کاری کو راغب کرنے کے لئے حکومت ہند نے کیا قدم اٹھائے ہیں۔
- جوابات:- (12) نوٹس کی مدد سے طلباء جو اب خود ڈھونڈیں۔
- جوابات:- (13) نوٹس کی مدد سے طلباء جو اب خود ڈھونڈیں۔
- جوابات:- (14) نوٹس کی مدد سے طلباء جو اب خود ڈھونڈیں۔
- جوابات:- (15) (i) کثیر قومی کمپنیاں سیل فون، آڈیو موبائل، الیکٹرانکس، ہلکے مشروبات فاسٹ فوڈ خدمات جیسے شہری علاقوں میں بینکنگ میں کافی دلچسپی رہی ہے۔
- جوابات:- (i) ان صنعتوں اور خدمات میں نئے نئے کام کے مواقع بھی پیدا ہوئے ہیں۔
- (iii) اس کے علاوہ مقامی کمپنیوں کے ذریعے خام مواد وغیرہ کی فراہمی سے بھی ان صنعتوں کی خوشحالی بڑھی ہے۔
- (iv) ہمارے ہندوستان کی سڑکوں پر گاڑیوں کے نئے نئے ماڈل دیکھے جاسکتے ہیں۔
- (v) صارفین متعدد اشیاء کے لئے بہتر کوالٹی اور کم قیمتوں سے استفادہ کر رہے ہیں۔
- ج (16) (i) ہندوستان میں سرمایہ کاری کے لئے غیر ملکی کمپنیوں کو راغب کرنے کے خصوصی اقدامات کر رہی ہیں (SEZs) اس کی مثال ہے۔

- (ii) عالمی معیار کی سہولتیں، بجلی، پانی، سڑکیں، ٹرانسپورٹ، اسٹوریج، تفریحی اور تعلیمی سہولتیں مہیا کی جاتی ہیں۔
- (v) وہ کمپنیاں جو SEZS میں پیداواری اکائیاں لگائی ہیں پانچ سال تک کی ابتدائی مدت کے لئے انھیں ٹیکس ادا نہیں کرنا پڑے گا۔
- (iv) کمپنیاں باضابطہ بنیاد پر کام گاروں کو رکھنے کے بجائے مختصر مدت کے لئے رکھنے کی لچک سے اس وقت استفادہ کرتی ہے۔
- ج (17) طلباء خود کریں۔

سیمپل پیر-I
جماعت دہم X
مضمون: سماجی علوم

کل نمبر 80

وقت 3 گھنٹے

ہدایات:-

- 1- سوال نمبر ایک سے 20 تک انمبر کے ہیں ان کا جواب ایک لفظ یا ایک جملے میں دیں۔
 - 2- سوال نمبر 21 سے 28 تک 3 نمبر کے ہیں ان کا جواب تقریباً 80 لفظوں سے زیادہ نہیں ہونا چاہئے۔
 - 3- سوال نمبر 29 سے 34 تک 50 نمبر کے ہیں ان کا جواب تقریباً 100 لفظوں سے زیادہ نہیں ہونا چاہئے۔
 - 4- سوال نمبر 35 اور 36 نقشے سے متعلق ہے جغرافیہ اور تاریخ دونوں سوال 3,3 نمبر کے ہیں۔
- س 1- ہندوستان میں کرنسی (زر) جاری کرنے کے حق کسے ہے؟

یا

- (زر) کرنسی کی دو شکلیں کونسی ہیں؟
- س 2- جاپان کی سب سے قدیم چھپی ہوئی کتاب کونسی ہے۔
 - س 3- قدرتی سرگرمی سے چیزوں کی پیداوار کس معاشی شعبے کے تحت آتی ہے۔
 - س 4- چھوٹے اور بڑے کا ”سوال“ کس کی تخلیق ہے؟
 - س 5- لوک سبھا میں عورتوں کے لئے کتنی سیٹیں محفوظ ہیں؟
 - س 6- ”انڈو“ کس جگہ کا قدیمی نام ہے۔
 - س 7- پٹ مونٹ میدان میں پائی جانے والی رسولی مٹی کا علاقائی نام کیا ہے؟
 - س 8- سب سے زیادہ روزگار دینے والا کون سا سیلٹر ہے؟
 - س 9- H.S.I کا پورا نام کیا ہے؟

- س 10- ہندوستانی آئین میں کتنی زبانوں کو درج فہرست زبانوں کا درجہ دیا گیا ہے؟
- س 11- قومی آبی راستہ نمبر 1 سے متعلق نئی کونسی ہے؟
- س 12- 'ہندسوراج' کتاب کے مصنف کون ہیں؟
- س 13- ہندوستان کی ایک سیاسی پارٹی کا نام لکھئے جس کی پیدائش ایک تحریک کے نتیجے میں ہوئی؟
- س 14- پانچویں صدی میں 'پاستا' کو سیلی لیکر کون آیا؟

یا

- دھنائی کا کیا مطلب ہے؟
- س 15- نگرنگم کے سربراہ کو کیا کہتے ہیں؟
- س 16- آمدورفت کا سب سے سستا ذرائع کون سا ہے؟
- س 17- ان دو معدنیات کا نام بتائیں جن کا استعمال ایٹم بم بنانے میں کیا جاتا ہے۔
- س 18- زائد فصلیں کسے کہتے ہیں؟
- س 19- شدید درجہ حرارت اور بھاری بارش والے علاقے میں کون سی مٹی پائی جاتی ہے؟
- س 20- جرمنی کے اتحاد میں کس عظیم شخص کا رول تھا؟
- س 21- نیپولین کے ذریعے کئے گئے انتظامی اصلاحات میں سے تین کا ذکر کیجئے۔
- س 22- مٹی کے کٹاؤ کے لئے ذمے دار کنہیں دو انسانی سرگرمیوں کا ذکر کریں، ہندوستان میں دیکھے جانے والے دو طرح کے مٹی کے کٹاؤ کا ذکر کریں۔
- س 23- عدم تعاون کی تحریک کے معاشی اثرات کا ذکر کریں۔
- س 24- حال ہی کے سالوں میں ہندوستان میں زراعت کے شعبے میں کئے گئے روایتی اور تکنیکی سدھار پر تبصرہ کیجئے۔
- س 25- عالم کاری معاشی نظام میں سروس سیکٹر کی بڑھتی ہوئی اہمیت پر تبصرہ کیجئے۔

یا

کسی ملک کی ترقی میں ثالثی شعبے کی اہمیت پر روشنی ڈالئے۔

س26- سمت ایک گھر خریدنا چاہتا ہے جس کے لئے وہ بینک جاتا ہے؟ بینک کن شرطوں پر اسے قرض دینے کے لئے تیار ہوگا

یا

گاؤں کے قرضدار (قرض لون) کے لئے قرض کے غیر رسمی وسائل پر کیوں منحصر رہتے ہیں؟

س27- ایک ساتھ وفاقی نظام سبھی اکائیوں کو برابری کا حق یا طاقت نہیں دیتا۔ اس قول کی وضاحت کریں۔ ہندوستان کی مثال دیئے گئے ہیں۔

س28- سیکولرزم (غیر مذہبی) ملک کیا ہے؟ ہندوستان کا آئین ہندوستان کو غیر مذہبی ملک بنائے رکھنے کے لئے کیا اقدام کرتی ہے۔

س29- انیسویں صدی میں یورپ کے صنعت کار مشینوں کے بجائے ہاتھ سے کام کرنا کیوں زیادہ پسند کرتے تھے کہ نہیں پانچ وجوہات کا ذکر کریں۔

یا

1929 کے کساد بازاری کا کیا مطلب ہے معاشی کساد بازاری کے لئے کنہیں چار جوابدہی وجوہات کا ذکر کریں؟

س30- ہندوستان میں پایا جانے والا سب سے Foul ایندھن کون سا ہے اس کی مختلف قسموں کی اہمیت بتائیے؟

یا

حرارت کے غیر روایتی وسائل کا مستقبل روشن ہے کسے؟

س31- زیادہ تر لوگ منظم سیکٹر میں ہی کام کرنا کیوں پسند کرتے ہیں

س32- ہندوستانی معیشت پر صاف طور پر دیکھا جانے والے معاشی اثرات پر تبصرہ کرو۔

س33- شکایتیں جمہوریت کی کامیابی کی گواہی دیتی ہیں؟ کیسے؟

س34- سیاسی جماعتیں جمہوریت کی کامیابی کے لئے ایک ضروری اور سازگار ماحول پیدا کرتی ہیں کیسے؟

س35;B- دیئے گئے ہندوستان کے نقشے دی گئی جگہوں کو پہچانئے۔ اور پہچان کر نام لکھئے۔

- (1) مٹی کی قسمیں
- (2) راگی کی سب سے زیادہ پیداوار والی ریاست
- (3) بھلائی اسٹیل پلانٹ کو دکھائی
- س A; 35- نقشے میں A اور B دو جگہیں نشانہ ہی کی گئی ہے انھیں نیچے دی گئی جانکاری کے ذریعے پہچانیے۔
- (A) 1927 میں انڈین نیشنل کانگریس کا اجلاس۔
- (B) وہ شہر جہاں جلیانوالہ باغ کا حادثہ رونما ہوا تھا
- (C) 1917 میں جس جگہ پر کسان ستیہ گرہ ہوئی تھی۔
- درج ذیل سوال نابینا سے متعلق طلباء کے لئے ہیں کل 9 سوال میں صرف 6 سوالوں کے جواب دیجئے۔

- (1) 1927 میں انڈین نیشنل کانگریس کا اجلاس کہاں ہوا تھا؟
- (2) جلیانوالہ باغ کا قتل عام کس شہر میں ہوا؟
- (3) 1917 میں کسانوں کی ستیہ گرہ کہاں ہوئی تھی؟
- (4) راجستھان میں کس طرح کی مٹی پائی جاتی ہے۔
- (5) راگی کی سب سے زیادہ پیداوار کس ریاست میں ہوتی ہے۔
- (6) بھلائی اسٹیل پلانٹ کہاں واقع ہے۔
- (7) کلہول تیل کا علاقہ کس ریاست میں ہے۔؟
- (8) راجہ سانسی ہوائی اڈہ کس شہر میں ہے۔؟
- (9) پارادیپ کہاں ہے؟

نابینا طلباء کے سوالوں کے جوابات :-

- (1) مدراس
- (2) امرتسر

- (3) چچارن
- (4) ريگستاني مٺي
- (5) کرناٺک
- (6) چٺين گڑھ
- (7) گجرات
- (8) امرتسر
- (9) اڏيشه

سيميل پيپر کے جوابات:

- (1) ريزرو بينڪ آف انڊيا (يا) سڪے اور نوٺ
- (2) ڈائمنڊ سوتز
- (3) پرائمر سيڪٽر
- (4) کاشي پانه
- (5) کوئي سيٺ نهين
- (6) ٺوڪيو
- (7) دوآر۔ چوس ياترائي
- (8) پرائمر سيڪٽر
- (9) انساني ترقي اشاريه
- (10) 22
- (11) گنگا
- (12) مهاتما گانڊھي

- (13) آسام گن پریشد، دواؤز منکر گریم۔ آپ پارٹی A.T.A.D.M.K
- (14) عرب تاجر (یا) دھاگے بنانے سے پہلے اون یا کپاس کو تیار کرنا
- (15) میٹر
- (16) آبی آمدورفت
- (17) پورنیم اور تھیریم
- (18) ربیع اور خریف کے فصل کے بیج بوئی جانے والی فصل
- (19) لیٹرائٹ
- (20) بسمارک
- (21) صفحہ نمبر 6 اور 7 تاریخ

یا

- صفحہ 5 تاریخ
- (22) صفحہ نمبر 11 جغرافیہ
- (23) صفحہ نمبر 58 پر تاریخ دیکھئے
- (24) صفحہ نمبر 43 جغرافیہ
- (25) صفحہ نمبر 24 اور 25 معاشیات
- (26) صفحہ نمبر 24 اور 25 معاشیات
- (27) صفحہ نمبر 17 جمہوری سیاست اور صفحہ نمبر 16 اور 17 جمہوری سیاست
- (28) صفحہ نمبر 48 اور 49 جمہوری سیاست
- (29) صفحہ نمبر 109 سے 110 تاریخ

اور صفحہ نمبر 95 اور 96 تاریخ

(30) صفحہ نمبر 58 جغرافیہ

اور

صفحہ نمبر 62 جغرافیہ

(31) صفحہ نمبر 30 معاشی ترقی کی سمجھ

(32) صفحہ نمبر 66 اور 67 معاشی ترقی کی سمجھ

(33) صفحہ نمبر 98 جمہوری سیاست

(34) صفحہ نمبر 73 اور 74 جمہوری سیاست

(35)(A) نقشے (i) ریگستانی مٹی

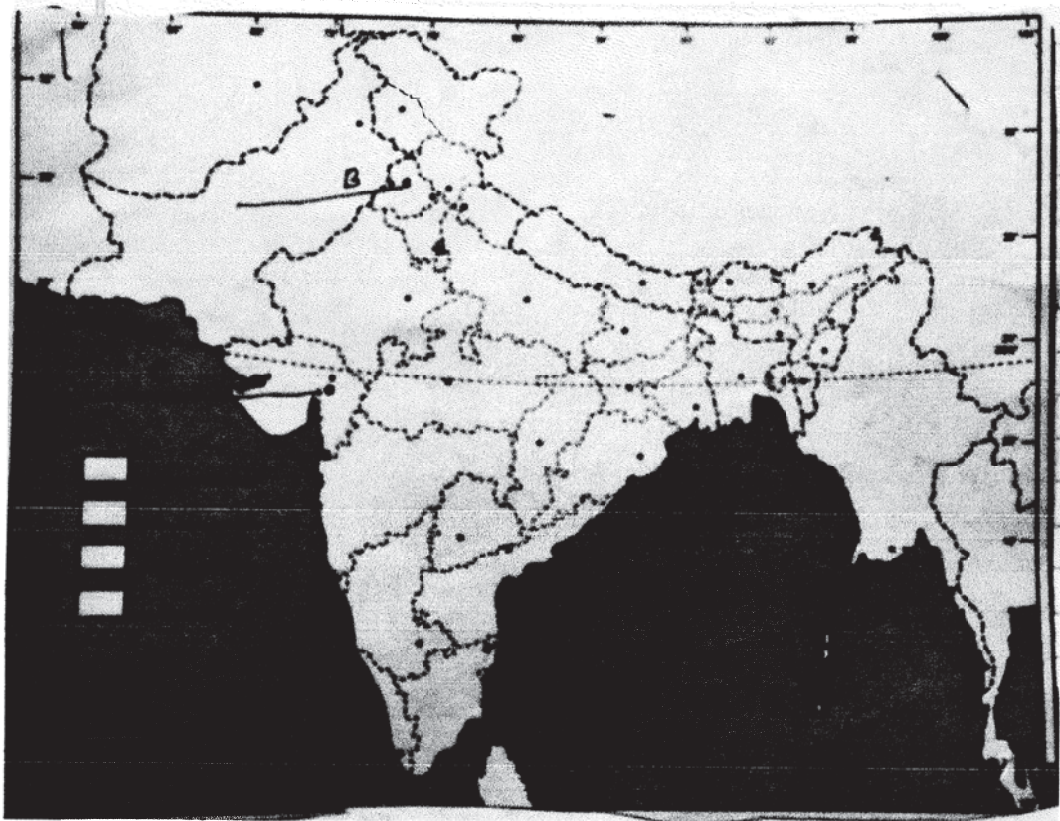
(ii) کرناٹک

(iii) چھتیس گڑھ

(35)(B) (a) مدراس 1927

(b) امرتسر

(c) چمپارن



سیمپل پیپر-II
جماعت دہم X
مضمون: سماجی علوم

کل نمبر 80

وقت 3 گھنٹے

ہدایات:-

حصہ (الف)

س 1- برلن میں کس سال بڑی طاقتیں آپس میں ملیں۔

1857(a) 1861(b) 1885(c) 1815(d)

س 2- کس نے کہا تھا ”اگر فرانس کو چھینک بھی آتی ہے یو پورا یورپ زکام میں مبتلا ہو جاتا ہے۔“

(a) میسرنج (b) آٹومان بسمارک (c) میزنی (d) گیری بالڈی

س 3- ”ہندسوراج“ کتاب کے مصنف کون ہیں۔

(a) پنڈت جواہر لعل نہرو (b) مہاتما گاندھی (c) دلپھ بھائی پٹیل (d) بھیم راؤ امبیڈکر

س 4- کس انڈین نیشنل کانگریس کے اجلاس میں مکمل آزادی مانگ کو مانا گیا۔

1920 (a) کلکتہ 1920 (b) ناگپور 1920 (c) مدراس 1927 (d) لاہور 1929

س 5- گلشن برگ کون تھا

(a) فرانس کا فلاسفر (b) اٹلی کا فن کار (c) جرمنی کا گائیک (d) جرمنی کا ایجاد

س 6- نیپولین کوڈ کو عام طور سے کیا کہا جاتا ہے؟

1805 (a) کاسول کوڈ (b) 1806 کاسول کوڈ

1804 (c) کاسول کوڈ (d) 1807 کانپو لین کوڈ

س 7- رسوبی مٹی کی ایک خوبی بتائیے۔

یا

ہندوستانی کی اس پہلی ریاست کا نام بتائیے جس نے چھت پر بارش کا پانی اکٹھا کرنے کی سرگرمی کو ضروری بنا دیا تھا۔

(a) تامل ناڈو (b) بہار (c) مہاراشٹر (d) کرناٹک

س 8- جمہوری نظام حکومت میں درج ذیل میں سے کون سی زیادہ بہتر بات ہے۔

(a) آزاد اور منصفانہ الیکشن (b) فرد کے وقار کو بڑھاتی ہے

(c) اکثریت کی حکومت (d) قانون کی نظر میں سب برابر ہیں۔

س 9- بھارتیہ جنتا پارٹی پروگرام اور پالیسی کا راستہ کیا ہے؟

(a) بہوجن سماج (b) انقلابی جمہوریت

(c) ہندوستانی قوم پرستی (d) ایک نے اور مستحکم ہندوستان کی تعمیر کی

س 10- کوئی ایک وجہ بتائیے کہ تقسیم اختیارات خوش آئند ہے؟

س 11- مرکزی فہرست کا موضوع کون سا ہے۔؟

(a) پولیس (b) تجارت

(c) کھیتی (زراعت) (d) مواصلات اور کرنسی

س 12- ہندوستان میں عورتوں کی کم نمائندگی کے مسئلے کو حل کرنے کے لئے کوئی ایک حل بتائیے؟

س 13- دل بدل سے آپ کیا سمجھتے ہیں؟

س 14- کنہیں دو وجوہات کا ذکر کریں جو یہ بتاتا ہے کہ جمہوری نظام حکومت دوسری حکومت سے بہتر ہے؟

س 15- بچوں کی شرح اموات سے آپ کیا سمجھتے ہیں

س 16- اوسط آمدنی کے علاوہ ترقی کے کسی دو سوٹی کا ذکر کرو؟

س 17- 1973 سے 2013-14 کے بیچ کونسی سرگرمیاں بڑی کارآمد ثابت ہوئیں۔

س 18- زر (کرنسی) لین دین کے معاملے میں کیسے کام کرتا ہے؟

س 19- ہندوستانی بازاروں میں چینی کھلونے اتنے مقبول کیوں ہیں؟

س 20- تجارت میں رکاوٹ سے آپ کیا سمجھتے ہیں؟

حصہ (ب)

س 21- 1804 کے سول کوڈ پر تبصرہ کیجئے؟

(Or اور)

1890 کی دہائی میں افریقہ میں تیز رفتار سے پھیلنے والی پلگ (Rinder Rest) کی وبائی لگوں کے روزگار اور

اقتصادیات پر کیسے اثرات ڈالے؟

س 22- سول نافرمانی کی تحریک کے دائرے محدود کیا تھے؟

یا

آسانی سے دستیاب چھپی ہوئی کتابوں سے مذہبی لیڈروں کو کیوں ڈر لگا۔

س 23- جدید ہندوستان میں ذات پات اور ذات پات کے نظام کے بدلاؤ کے پیچھے کیا وجوہات تھیں؟

(Or اور)

راجا ایک تمل مچھوارا ہے جو سری لنکا میں رہتا ہے اسے کس طرح کی پریشانیوں کا سامنا کرنا پڑے گا۔

س 24- ہندوستان میں جنگل اور جنگلاتی زندگی کی حفاظت کے لئے حکومت نے کیا کیا اقدام کئے ہیں؟

یا

کھاد اور بانگر مٹی میں فرق واضح کیجئے۔

س 25- رسوبی مٹی کی خاص خوبیاں بیان کرو

یا

شکر (چینی) کی صنعت کے سامنے آرہی پریشانیوں کا ذکر کرو۔

س 26- ترقی کی قائم پذیری کا مدعا کیوں اہمیت رکھتا ہے؟

س 27- گاؤں کے علاقوں میں زیادہ روزگار کیسے مہیا کرائے جاسکتے ہیں؟

س 28- خود امدادی گروپ پر ایک مختصر نوٹ لکھئے۔

اور

ان عوامل کا ذکر کیجئے جو گلوبلائزیشن کو مجاز بنانے میں کامیاب ہوتے ہیں۔

س 29- گاؤں کے علاقوں میں عدم تعاون کی تحریک کیسے پھیلی؟

اور

بتائیے کس طرح پرنٹ کلچر نے ہندوستان میں قومیت کو فروغ دینے میں اہم رول ادا کیا؟

س 30- ہندوستان میں تاشی شعبے (سروس سیکٹر) کی اتنی اہمیت کیوں ہے؟

اور

غیر منظم سیکٹر میں مزدوروں کی حفاظت آپ کیسے کریں گے۔

س 31- فرقہ واریت سیاست میں مختلف شکل لے سکتی ہے اس قول کی وضاحت کیجئے۔

اور

جمہوریت کے سامنے آئے چیلنجز کا ذکر کریں۔

س 32- ہندوستان میں وفاقی نظام کیسے کامیاب رہا؟ مثالوں کے ذریعے سمجھائیے۔

یا

99 آپ یہ کیسے کہہ سکتے ہیں کہ جمہوری نظام حکومت ایک جواب دہ اور جائز حکومت سے تفصیل سے بتائیے۔

س33- سیاحت ایک تجارت کی شکل میں ملک کی معاشی ترقی میں کس طرح مدد کرتی ہے تفصیل سے بتائیے۔

اور

100 ہندوستان میں مختلف سڑکوں کے حال کے بارے میں بتائیے۔

س34- صنعتی شعبے کو معیشت کی ریڑھ کیوں مانا جاتا ہے وجوہات بتائیے۔

س35-A- دیئے گئے ہندوستان کے نقشے میں تین جگہیں A, B اور C کو پہنچائیے اور ان کی جگہ ان کے صحیح نام لکھئے۔

(a) وہ جگہ جہاں مہاتما گاندھی نے کسانوں کے لئے سستی گرہ شروع کی۔

(b) وہ جگہ جہاں دسمبر 1920 کا کانگریس کا اجلاس ہوا۔

(c) وہ جگہ جہاں عدم تعاون کی تحریک واپس لی گئی۔

س35-B- دیئے گئے ہندوستان کے اسی نقشے پر تین جگہوں کا پتہ لگا کر ان کی نشاندہی کیجئے۔

(1) بھاکرہ ننگل ڈیم

(2) ناگ ارجنا ساگر ڈیم

(3) لوہے اور اسٹیل پلانٹ

(4) سافٹ ویئر ٹکنالوجی پارک موہالی

(5) ہزاری باغ قومی پارک

(6) ہلدیہ بندرگاہ

نوٹ:- سوال نمبر (35) کی جگہ نابینا طالب علموں کے لئے۔

(1) کس سال گاندھی ارون سمجھوتے پر دستخط ہوئے۔

(2) رولٹ ایکٹ کس سال پال کیا گیا تھا۔

(3) ہندوستان میں ابرق پیدا کرنے والی ریاست کا نام بتائے۔

(4) قومی شاہراہیں کون بناتا ہے۔

(5) اتر پردیش میں موجود پاور پلانٹ کا نام بتائیے۔

(6) جھارکھنڈ میں کولے کی کان کا نام بتائیے۔

(7) بلدیہ بندرگاہ کس ریاست میں قائم ہے۔



سیمپل پیپر کے جوابات

ج(1) (C) 1885

ج(2) میٹرنج

ج(3) مہاتما گاندھی

ج(4) لاہور اجلاس 1929

ج(5) جرمنی پر ننگ پر لیس ایجاد کرنے والا

ج(6) 1804 نیپولین کوڈ

ج(7) جغرافیہ صفحہ نمبر 8 دیکھیں۔

یا

تامل ناڈو

ج(8) اکثریت کی حکومت

ج(9) جمہوری سیاست کا صفحہ نمبر 80 دیکھیں۔

ج(10) جمہوریت سیاست کا صفحہ نمبر 06 دیکھیں۔

ج(11) جمہوریت سیاست کا صفحہ نمبر 16 دیکھیں۔

ج(12) جمہوریت سیاست کا صفحہ نمبر 45 دیکھیں۔

ج(13) جمہوریت سیاست کا صفحہ نمبر 85 دیکھیں۔

ج(14) جمہوریت سیاست کا صفحہ نمبر 90 دیکھیں۔

ج(15) معاشی ترقی کی سمجھ کا صفحہ نمبر 10 دیکھیں۔

ج(16) معاشی ترقی کی سمجھ کا صفحہ نمبر 10 دیکھیں۔

ج (17) معاشی ترقی کی سمجھ کا صفحہ نمبر 25 دیکھیں۔

ج (18) معاشی ترقی کی سمجھ کا صفحہ نمبر 40 دیکھیں۔

ج (19) معاشی ترقی کی سمجھ صفحہ نمبر 60 دیکھیں۔

ج (20) معاشی ترقی کی سمجھ صفحہ نمبر 64 دیکھیں۔

ج (21) تاریخ صفحہ نمبر 6 دیکھیں۔

یا

معاشی ترقی کی سمجھ صفحہ نمبر 68 دیکھیں۔

ج (22) معاشی ترقی کی سمجھ صفحہ نمبر 68 اور 68 دیکھیں۔

ج (23) جمہوری سیاست صفحہ 51 دیکھیں۔

ج (24) جغرافیہ صفحہ نمبر 18 اور 19 دیکھیں۔

یا

جغرافیہ صفحہ نمبر 8 دیکھیں

ج (25) جغرافیہ صفحہ نمبر 8 دیکھیں

ج (26) معاشی ترقی کی سمجھ صفحہ نمبر 14 دیکھیں

ج (27) معاشی ترقی کی سمجھ صفحہ نمبر 50 دیکھیں

ج (28) معاشی ترقی کی سمجھ صفحہ نمبر 27 دیکھیں

ج (29) معاشی ترقی کی سمجھ صفحہ نمبر 50 دیکھیں

یا

تاریخ صفحہ نمبر 175 دیکھیں

ج (30) معاشی ترقی کی سمجھ صفحہ نمبر 24 دیکھیں

یا

معاشی ترقی کی سمجھ صفحہ نمبر 32 دیکھیں۔

ج (31) جمہوری سیاست صفحہ نمبر 47 دیکھیں۔

یا

جمہوری سیاست صفحہ نمبر 102 دیکھیں۔

ج (32) جمہوری سیاست صفحہ نمبر 19 دیکھیں۔

یا

جمہوری سیاست صفحہ نمبر 99 دیکھیں۔

ج (33) جغرافیہ صفحہ نمبر 97 اور 98 دیکھیں۔

یا

جغرافیہ صفحہ نمبر 105 دیکھیں

ج (34) جغرافیہ صفحہ نمبر 65 دیکھیں۔

سیمپل پیر-III
جماعت دہم X
مضمون: سماجی علوم

کل نمبر 80

وقت 3 گھنٹے

ہدایات:-

حصہ (الف)

س 1- درج ذیل میں سے کون سا ایک جنسی امتیاز کی مثال ہے۔

(a) سبھی کے لئے اسکول کا نظام کرنا۔

(a) کھیلوں کے مقابلوں میں مرد اور عورت کے لئے برابر کے انعام کا انتظام کرنا

(a) لڑکوں کے کھیلنے کے لئے بیٹ اور لڑکی کے لئے گڑیا لاکر دینا

(a) سبھی باتیں صحیح ہیں۔

اور

جنسی امتیاز کی کوئی ایک مثال لکھئے

س 2- درج ذیل میں سے کون سی ایک فرقہ واریت کی مثال ہے؟

(a) مختلف مذہب کے لوگ عام شہریوں کی طرح خوشی خوشی رہتے ہیں۔

(a) کسی بھی مذہب کو نہ ماننا۔

(a) ایک مذہب دوسرے مذہب سے اونچا ہے۔

(a) سبھی باتیں صحیح ہیں۔

اور

فرقہ واریت کو کیسے دور کیا جاسکتا ہے؟

س3- ہندوستانی آئین کے بارے میں کون سی بات صحیح ہے۔

(a) سبھی مذہب کو برابر مانا گیا ہے۔

(a) سبھی لوگوں کو کوئی بھی مذہب کو اپنانے کی آزادی ہے۔

(a) کسی مذہبی کمیونٹی میں سبھی شہریوں کو برابری کا حق دیتا ہے۔

(a) سبھی باتیں صحیح ہیں۔

س4- درج ذیل میں کون ہندوستانی سماج کے لئے خطرہ ہے؟

(a) ذات پات کو لیکر بھید بھاؤ

(a) فرقہ واریت

(a) جنسی امتیاز

(a) اوپر دی گئی سبھی باتیں۔

س5- جمہوری نظام حکومت سبھی نظاموں سے بہتر ہے۔

(a) شہریوں کے مابین پرامن اور ہم آہنگ زندگی کی رہنمائی کرتی ہے۔

(a) شہریوں کے وقار کو بڑھا دیتی ہے۔

(a) اس میں غلطیوں کی سدھار کی گنجائش ہوتی ہے۔

(a) اوپر دی گئی سبھی باتیں صحیح ہیں۔

س6- جمہوریت (Corruption) کے لئے خطرہ بن رہا ہے کسی ایک کو مثال کی مدد سے واضح کیجئے۔

س7- شکایتیں جمہوریت کی کامیابی کی گواہی دیتی ہیں کوئی ایک مثال دو۔

س8- کسی شہر کے ایک امیر خاندان کی لڑکی ترقی کے تعلق سے درج ذیل میں سے اس کا کیا مقصد ہوگا۔

(a) اسے اپنے بھائی جیسی آزادی ملے۔

(b) وہ اپنے فیصلے خود لے سکے۔

(c) وہ پڑھائی کے لئے بیرون ملک جاسکے۔

(d) اوپر دی گئی سبھی باتیں۔

اور

بے زمین دیہی مزدور کے لئے اس کی آمدنی سے متعلق ترقی کا کیا مقصد ہو سکتا ہے۔

س 9- درج ذیل میں سے کون سا پیمانہ انسانی ترقیاتی رپورٹ کی شکل میں استعمال کیا جاتا ہے۔

(a) تعلیم

(b) صحت

(c) فی کس آمدنی

(d) اوپر دی گئی سبھی باتیں۔

اور

پنجاب کے خوشحال کسان کا ترقی کا مقصد کیا ہوتا ہے۔

س 10- تجارت میں رکاوٹ سے آپ کیا سمجھتے ہیں۔

س 11- عالم کاری کے ہندوستانی معیشت پر پڑے کسی ایک منفی اثر کا ذکر کرو۔

س 12- درج ذیل جملے کو صحیح کر کے لکھئے۔

سونے کے سیکے کرنسی کی جدید شکل میں۔

س 13- وسیم اکرم کو بنگلہ دیش میں گرامین بینک قائم کرنے کا سحر اجاتا ہے۔

س 14- بیرام پور کس لئے مشہور ہے۔

اور

بنگلور کس لئے مشہور ہے۔

س 15- جال ویرائن کیوں بنایا گیا۔

س 16- تلوار پر لپٹی ہوئی زیتون..... کی نشانی تھی۔

اور

ٹوٹی ہوئی بیڑیاں اور..... کی نشانی تھی۔

س 17- فیڈرک سور یوکون تھا؟

س 18- ویلم سے آپ کیا سمجھتے ہیں؟

س 19- ان کووی ڈیشن (Inquisition) سے آپ کیا سمجھتے ہیں؟

س 20- ورناکولر پریس ایکٹ کیا تھا۔

حصہ (ب)

س 21- انیسویں صدی کے دوران بندھوا مزدوروں کے لوگ وطن کے حالات کا ذکر کیجئے۔

(Or اور)

ہندوستان کے شروعاتی دور میں اور یہاں کے صنعت کاروں نے صنعتی ترقی میں کیا رول ادا کیا۔

س 22- برطانیہ ایک قوم ایک نیشن اسٹیٹ کی شکل میں ظہور ہوا۔ تبصرہ کیجئے؟

(Or اور)

انیسویں صدی کے دوران یورپی لوگوں کے بیچ قوم پرستی کی تحریک پھیلانے میں رومانی تخیل کا کیا رول رہا؟

س 23- کس فصل کو سنہرا ریشہ کہا جاتا ہے؟ اس کی پیداوار کے لئے جغرافیائی حالات بیان کرو۔

(Or اور)

سینچائی نے ہندوستان کے کئی علاقوں میں فصلوں کی شکل تبدیل کر دی ہے۔ تجزیہ کیجئے۔

س 24- دنیا بھر میں کچے تیل کے ذخیرے محدود ہیں؟ اگر لوگ حال کی شرح سے اس کا استعمال کرتے رہے تو یہ ذخیرے 35 سے

40 سالوں میں ختم ہو جائیں؟ اس پریشانی سے نمٹنے کے لئے تین اقدامات بتاؤ۔

س 25- ہم نے دنیا کو اپنے آباء و اجداد سے تر کے میں نہیں حاصل کیا ہے بلکہ ہم نے اسے اپنے بچوں سے واپسی کے وعدے پر ادھار لیا ہے اس قول کی روشنی میں ترقی کی قائم پذیری کی اہمیت بیان کیجئے۔

س 26- رسمی حلقہ قرض اور غیر رسمی حلقہ قرض کے بیچ فرق واضح کرو؟

س 27- ہندوستانی حکومت ایک منصفانہ گلوبلائزیشن کے لئے کچھ محکمہ اقدامات کر رہی ہے تفصیل سے بتائیے۔

س 28- قومی سیاسی پارٹی سے آپ کیا سمجھتے ہیں؟ قومی سیاسی پارٹی ہونے کے لئے کیا شرائط ہونی چاہئے؟

حصہ (ج)

س 29- ہندوستان میں بے روزگاری کو دور کرنے کے طریقے بتائیے؟

س 30- ماحول کو نقصان پہنچانے والے قومی اور بین الاقوامی سرحدوں کا بھی دھیان نہیں رکھتے ہیں؟ اس قول کو انصاف پسند ٹھہرائیے؟

(اور)

ہندوستان میں پائی جانے والی مختلف قسم کی میٹوں پر ایک نوٹ لکھئے۔

س 31- توانائی کا بچانا ہی توانائی کی حفاظت ہے؟ اس قول کی روشنی میں توانائی کے حفاظت کے لئے اٹھائے گئے اقدام کا ذکر کرو۔

(اور)

معدنیات ہماری زندگی کا ایک لازمی حصہ ہیں، دی گئی مثال کے ساتھ اس قول کی وضاحت کیجئے۔

س 32- تقسیم اختیارات کا تصور غیر منقسم سیاسی قوت کے نظریہ کے درعمل کے طور پر سامنے آیا ہے عام طور پر تقسیم اختیارات کے مختلف پہلوؤں پر نظر ڈالئے۔

س 33- ہندوستان جیسے بڑے ملک میں علاقائی حکومت کی اہمیت بیان کیجئے۔

س 34- انگریزی حکومت ہندوستانیوں کے تعاون سے چل رہی ہے اگر یہ تعاون واپس لے لیا جائے تو انگریزی حکومت ختم ہو جائے گی۔ اس قول کی روشنی میں انگریزی حکومت کے خلاف کس طرح ہندوستان میں ایک عوامی تحریک شروع کرنے میں مدد ملی!

حصہ (د)

س-35-A۔ ہندوستان کے سیاسی نقشے میں A, B اور C تین جگہیں دکھائی گئی ہیں ان انسانوں کو درج ذیل جانکاری کی مدد سے پہچاننے اور ان کے صحیح نام نقشے میں کھینچی گئی لائنوں پر لکھئے۔

(a) وہ جگہ جہاں 1927 میں انڈین نیشنل کانگریس کا اجلاس ہوا۔

(b) وہ جگہ جہاں حادثے کے بعد عدم تعاون کی تحریک واپس لی گئی۔

(c) وہ جگہ جہاں ستمبر 1920 میں انڈین نیشنل کانگریس کا اجلاس ہوا۔

س-35-B۔ ہندوستان کے اسی نقشے میں درج ذیل میں سے کہیں تین جگہوں کو ان کی صحیح جگہ پر بھریئے۔

(a) سالم

(b) پونا سافٹ ویئر ٹکنالوجی پارک

(c) بوکارو کوئلے کی کان

(d) اندور سوتی کپڑے کی صنعت

(e) نوئیڈا سافٹ ویئر ٹکنالوجی پارک

(f) حیدرآباد سافٹ ویئر ٹکنالوجی پارک

درج ذیل سوال 35 نمبر کی جگہ نابینا طلباء کے لئے ہے۔

(a) مہاتما گاندھی نے عدم تعاون کی تحریک کس سال واپس لی۔

(b) کانگریس کے اجلاس میں مکمل آزادی کی مانگ کی گئی؟

(c) ریاستی شاہرہ کون بناتا ہے۔

(d) اتر پردیش میں موجود سافٹ ویئر ٹکنالوجی پارک کا نام بتائیے۔

(e) اڈیشہ میں قائم لوہے اسٹیل پلانٹ کا نام بتائیے؟

(f) اوئی کپڑوں کے لئے پنجاب میں مشہور جگہ کا نام بتائیے؟

- (g) کاندھلہ بندرگاہ کس ریاست میں واقع ہے۔
- (h) اس ریاست کا نام لکھئے۔ جہاں جلیانوالہ باغ کا قتل عام کا حادثہ ہوا۔
- (i) اس ریاست کا نام لکھئے جہاں مہاتما گاندھی جی نے نمک قانون توڑا۔

مشقی سوال نامہ کے جوابات

- ج:1- لڑکے کو کھیلنے بیٹ اور لڑکی کو کھیلنے کے لئے گڑیا کر دیا۔
اور
- طلباء خود اپنی روزانہ کی زندگی سے اس کی مثال دیں۔
- ج:2- ایک مذہب دوسرے اچھایا اونچا ہے۔
اور
- طلباء خود اپنی روزانہ کی زندگی سے اس کی مثال دیں۔
- ج:3- سبھی باتیں صحیح ہیں
- ج:4- دی گئی باتیں سبھی
- ج:5- سبھی باتیں صحیح
- ج:6- نوٹ کے بدلے ووٹ
- ج:7- یہ دکھاتا ہے کہ لوگوں کی حکومتوں سے امیدیں بڑھ رہی ہیں۔
- ج:8- دی گئی باتیں سبھی
اور
- سال بھر میں کھیتی کے لئے زمین حاصل ہو
- ج:9- دی گئی باتیں سبھی
اور
- سینچائی کا نظام

ج:10- چیزوں کی برآمد اور درآمد پر پابندی لگانا یہ گھریلو چیزوں کو غیر ملکی مقابلوں سے بچاتا ہے۔

ج:11- طلباء اپنی نئی زندگی سے کوئی مثال دیں۔

ج:12- سونے کے سیکے کرنسی کی قدیم شکل ہے۔

ج:13- محمد یونس کو بنگلہ دیش کے گرامین بینک قائم کرنا کا سحر اجاتا ہے

ج:14- ریل گاڑی اور مال گاڑی کے ڈبوں کیلئے

اور

سافٹ ویئر اور ٹیکنیکی کے لئے

ج:15- معاشی رکاوٹوں کو دور کرنے کیلئے جو آگے چل کر جرمنی کے ایک ہونے (متحد) میں مددگار ہوا۔

ج:16- امن و امان کی چاہت

اور

آزادی ملانا

ج:17- فرانسیسی فن کار

اور

آٹومن بسمارک نے جرمنی کو متحد کرنے میں بہت اہم رول ادا کیا۔

ج:18- چمڑے کے پتے یا جانوروں کے چمڑے سے بنی لکھنے کی سطح

ج:19- سابق رومن کیتھولک کورٹ، بدعتیوں کی شناخت کرنے اور انھیں سزا دینے کیلئے

ج:20- 1878 میں ورنہ کولر پریس ایکٹ پاس ہوا جس کے مطابق حکومت سرکاری پریس سے چھپی رپورٹ اور اداروں کو سفر کر سکتی تھی۔

ج:21- اس جواب کے لئے صفحہ نمبر 87 اور 88 تاریخ میں دیکھیں۔

اور

صفحہ نمبر 118 اور 119 تاریخ کی کتاب

ج:22- صفحہ نمبر 22 تاریخ کی کتاب میں

اور

صفحہ نمبر 13,15 تاریخ کی کتاب میں

ج:23- صفحہ 49 جغرافیہ میں دیکھیں

اور

صفحہ 53 جغرافیہ میں دیکھیں

ج:24- دیکھیں صفحہ 69 جغرافیہ

ج:25- صفحہ 14 معاشی ترقی کی سمجھ میں دیکھیں۔

ج:26- صفحہ نمبر 48 اور 49 معاشی ترقی کی سمجھ میں دیکھیں۔

ج:27- صفحہ نمبر 70 پر دیکھیں معاشی ترقی کی سمجھ۔

ج:28- صفحہ نمبر 86 جمہوری سیاست میں دیکھیں۔

ج:29- صفحہ نمبر 25 معاشی ترقی کی سمجھ میں دیکھیں۔

ج:30- جغرافیہ کے 3-5 صفحے پر دیکھیں۔

اور

جغرافیہ کے 8 سے 11 صفحے پر دیکھیں۔

ج:31- جغرافیہ کے 53 اور 54 صفحے پر دیکھیں۔

اور

جغرافیہ کے صفحہ نمبر 62 پر دیکھیں۔

ج:32- جمہوری سیاست کے صفحہ نمبر 7 سے 9 پر دیکھیں

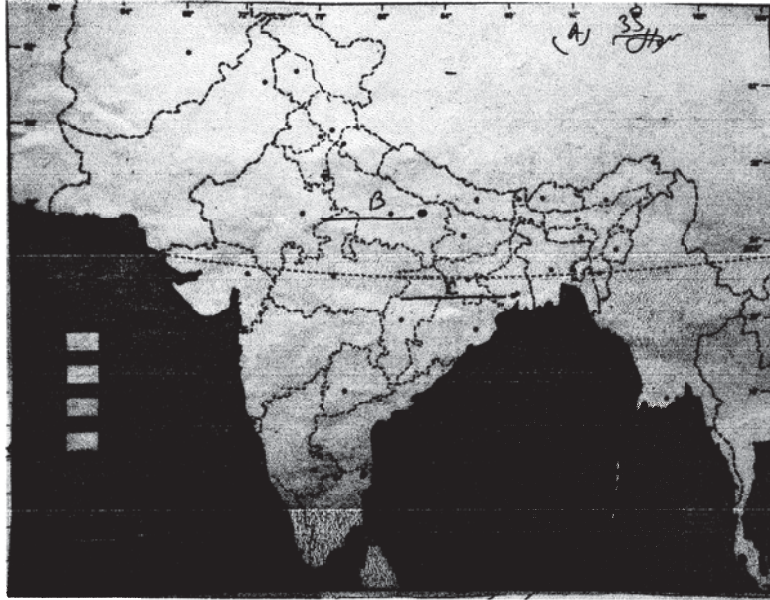
ج:33- جمہوری سیاست کے صفحہ نمبر 24 پر دیکھیں۔

ج:34- تاریخ کے صفحہ 56 اور 57 پر دیکھیں۔

ج:35- نقشہ ساتھ لگا ہوا ہے۔

نابینا طلباء کیلئے

- (1) 1922
- (2) 1929
- (3) ریاستی
- (4) نیوٹن اسافٹ ویئر ٹکنالوجی پارک
- (5) بھلائی
- (6) لدھیانہ
- (7) گجرات
- (8) پنجاب
- (9) گجرات



سیمپل پیر-IV
جماعت دہم X
مضمون: سماجی علوم

کل نمبر 80

وقت 3 گھنٹے

ہدایات:-

سوال (نمبر 1) 1859 کے Indentured Labour Act کے تحت

- (a) راجاؤں کو لوگوں کے آنے جانے کا حق تھا۔
(b) باغانوں میں کام کرنے والے مزدوروں کو بغیر اجازت کے باغان سے باہر یا باغان چھوڑنے کی اجازت نہیں تھی۔
(c) ملک میں لوگوں کی آمد اور جا مدروک دی جاتی تھی۔
(d) ان میں سے کوئی نہیں۔

سوال (نمبر 2) 1832 کی قسطنطنیہ کے معاہدے کے تحت۔

- (a) ترکی کو آزاد ملک کی منظوری دی۔
(b) جرمنی کو آزاد ریاست اعلان کیا گیا۔
(c) فرانس کو آزادی حاصل ہوئی۔
(d) یونان کو آزاد قوم کی منظوری ملی۔

سوال (نمبر 3) عدم تعاون کی تحریک کی واپسی..... سال میں ہوئی۔

- (a) 1920 (b) 1922 (c) 1921 (d) 1925

سوال (نمبر 4) 1982 سے 1934 میں ہندوستان میں گہروں کے دام 50% کم ہونے کی وجہ تھی۔

- (a) کم پیداوار (b) سیلاب کا آنا (c) عظیم کساد بازاری (d) قحط کا آنا

سوال (نمبر 5) درج ذیل میں سے کون سے ہندوستان کے پہلے نوآبادی بندرگاہ تھے۔

(a) سورت اور مچھلی پٹنم (b) مدراس اور ہنگلی

(c) مدراس اور ممبئی (d) بمبئی اور ہنگلی

سوال (نمبر 6) درج ذیل میں سے کون 768 سے 770 عیسوی کے آس پاس چھپائی کی تکنیک لیکر جاپان آئے۔

(a) چینی بدھسٹ (b) جاپانی تاجر

(c) یورپی تاجر (d) ان میں سے کوئی نہیں

سوال (نمبر 7) کاروبار کھیتی.....

(i) فصلوں کی پیداوار بچنے کے مقصد سے کی جاتی ہے۔

(ii) چھوٹے کھیتوں پر کی جاتی ہے۔

(iii) پرانے اور روایتی طریقوں سے کھیتی کی جاتی ہے۔

(iv) زیادہ آبادی والے علاقوں میں کی جاتی ہے۔

سوال (نمبر 8) پائپ لائن آمدورفت کی بڑھتی ہوئی مقبولیت کی وجہ ہے۔

(a) آمدورفت میں ہونے والی دیر اور نقصان کم

(b) پائپ لائن کو بچھانے کی یا شروع کرنے میں کم خرچ

(c) یہ نئی سسٹم میں زیادہ بہتر ہے

(d) یہ رقیق مادے کی آمدورفت کے لئے بہتر نہیں ہے۔

سوال (نمبر 9) وسائل کا تحفظ

(i) وسائلوں کا احتیاط سے استعمال

(ii) ہندوستان میں کارگر نہیں ہے۔

(iv) ان میں سے کوئی نہیں

- سوال (نمبر 10) درج ذیل میں سے ایک کو چھوڑ کر سبھی مہاراشٹر کی سوتی کپڑے کی مل ہیں۔
- (a) ممبئی (b) ناگپور (c) وردھا (d) احمد آباد
- سوال (نمبر 11) کاندھلہ بندرگاہ کی خوبی میں جو صحیح ہیں اسے بتائیے۔
- (a) یہ جوار بھانٹا والی بندرگاہ ہے اس کو ممبئی بندرگاہ سے ہونے والی تجارتی دباؤ کم کرنے کیلئے بنایا گیا ہے۔
- (b) آزادی کے بعد یہ پہلی بندرگاہ کی شکل میں قائم ہوئی ہے۔
- (c) یہ بھاری سامان کے آنے جانے کے لئے ہے۔
- (d) ان میں سے کوئی نہیں۔
- سوال (نمبر 12) درج ذیل میں سے کون سی ریشے والی فصل ہے۔
- (i) کافی (ii) ٹماٹر (iii) جوٹ (iv) ربڑ
- سوال (نمبر 13) ان میں سے کون سی قومی پارٹی ہے
- (a) عام آدمی پارٹی (b) سماج وادی پارٹی (c) بھارتیہ جنتا پارٹی (d) جنتا دل سیکولر
- سوال (نمبر 14) درج ذیل میں سے کون سی خوبی وفاقی نظام کی نہیں ہے۔
- (i) حکومت دو یا دو سے زیادہ سطحی حکومت کو کہتے ہیں۔
- (ii) الگ الگ سطح کی حکومتیں ایک ہی شہریوں پر حکومت کرتی ہیں۔
- (iii) مرکزی حکومت ریاستی حکومت کو حکم دے سکتی ہے۔
- (iv) ان میں سے کوئی نہیں۔
- سوال (نمبر 15) درج ذیل میں سے کون سے حالات فرقہ واریت کی نہیں ہے۔
- (i) فرقہ واریت سیاست خیالات پر منحصر ہوتی ہے کہ مذہب ہی سماجی کمیونٹی کا حصہ ہوتا ہے۔
- (ii) مذہب کو قوم کے طور پر دیکھا جاسکتا ہے اور بیدار سماج بنایا جاسکتا ہے۔

(iii) ایک خاص مذہب کے ماننے والے دوسرے کمیونٹی کے خیالات کو غلط مانتے ہیں

سوال (نمبر 16) جب کوئی پارٹی لوک سبھا چناؤ میں پڑے کل ووٹوں یا چار ریاستوں کی اسمبلیوں کے چناؤ میں پڑے کل ووٹوں حاصل کرتی ہیں۔

اور لوک سبھا کے چناؤ میں کم از کم..... سیٹیں پر جیت درج کرتی ہیں تو اسے قومی پارٹی کی منظوری مل جاتی ہے۔

(i) 3% ووٹ اور 4 سیٹیں (ii) 5% ووٹ اور 4 سیٹیں

(iii) 2% ووٹ اور 4 سیٹیں (iv) 6% ووٹ اور 4 سیٹیں

سوال (نمبر 17) درج ذیل میں سے کونسی آمدنی اوسط آمدنی سے بھی ناپی جاتی ہے۔

(i) قومی آمدنی (ii) فی کس آمدنی

(iii) کل آمدنی (iv) اوپر دی گئی سبھی

سوال (نمبر 18) درج ذیل میں سے کس سیکٹر کی حصہ داری ہندوستان میں سب سے زیادہ ہے۔

(i) پرائمری سیکٹر (ii) انفورمیشن سیکٹر

(iii) سکندری سیکٹر (iv) ثالثی سیکٹر

سوال (نمبر 19) کرنسی کی جدید شکل میں شامل ہے۔

(a) ڈالر (b) سکے

(c) نوٹ سکے (d) نوٹ بیٹکوں میں جمع پونجی، سکے چیک

سوال (نمبر 20) کثیر قومی کمپنیاں کا ہندوستانی بازاروں میں آنا نقصان دہ بھی ہو سکتا ہے۔

(a) بڑے صنعت کاروں کے لئے ہو سکتا ہے (b) چھوٹے پیداوار کرنے والے کیلئے

(c) سبھی صنعت کاروں کیلئے (d) بڑے پیمانے کی صنعتوں اور چھوٹے پیمانے کی صنعتوں کیلئے

(ب) حصہ

سوال (نمبر 21) ہندوستان میں آہنی معدنیات کے پھیلاؤ کا ذکر کرو؟

یا

ہندوستان میں تانبے کی پیداوار اور اس کے ذخائر کے بارے میں تفصیل سے بتائیے۔

سوال (نمبر 22) جمہوری نظام حکومت اصولوں میں اچھی دکھائی دیتی ہے لیکن برتاؤ میں اتنی اچھی نہیں اس قول کو واضح کیجئے۔

سوال (نمبر 23) ان تین علاقائی مسئلوں کو پہچانیے جن پر 1917 اور 1918 سالوں کے دوران گاندھی جی نے اپنے ستیہ گرہ کے ہتھیار کو اپنایا ان کا حل کیسے نکلا۔

یا

سوراج کے معنی الگ الگ گروہ کے لئے الگ الگ کس طرح ہو رہے تھے۔

سوال (نمبر 24) ماحول میں گراوٹ کے نتائج قومی اور ریاستی سرحدوں کا خیال نہیں کرتے اس قول کی روشنی میں انصاف کیجئے۔

سوال (نمبر 25) ناری وادی آندولن کیا ہے؟ ان کی خاص خاص مانگیں کیا تھیں؟

سوال (نمبر 26) نیپولین کوڈ 1804 کی چار باتوں کا ذکر کرو؟

یا

لبرل ازم اور قدامت پسند لوگوں کے خیالات پر تبصرہ کیجئے۔

سوال (نمبر 27) مانگ جمع کیا ہے؟ مانگ جمع کس طرح کرنسی کی ہی شکل سمجھی جاتی ہے۔

یا

2005 قومی دیہی روزگار گارنٹی ایکٹ (NREGA) کے کیا مقاصد تھے؟

سوال (نمبر 28) ہندوستانی حکومت کا آزادی کے بعد تجارت پر روک لگانے کی کیا وجوہات تھیں؟ یہ ضروری کیوں لگنے لگا!

(حصہ ج)

سوال (نمبر 29) پرنٹ کلچر نے کمیونیٹیوں کے بیچ توڑنے کا کام نہیں بلکہ ہندوستان کو جوڑنے کا کام ہے اس قول کی وضاحت کیجئے۔

یا

سول نافرمانی کی تحریک کیا تھی اور یہ کس طرح عدم تعاون کی تحریک سے مختلف تھی؟

سوال (نمبر 30) زیادہ تر کپڑے کی سوتی ملیں یا تو ممبئی یا احمد آباد میں ہی کیوں مرکوز ہیں۔

یا

زراعت پر منحصر صنعت اور معدنیات پر منحصر صنعتوں میں فرق واضح کرو۔

یا

ہندوستان میں پائپ لائن آمدورفت ایک ضروری آمدورفت کیوں ہے؟

سوال (نمبر 31) ہندوستان میں پبلک سیکٹر میں حکومت کے رول کو بتائیے۔

یا

بینکوں کی کارگزاری پر نظر کون رکھتا ہے؟ یہ نگرانی کس طرح رکھی جاتی ہے۔؟

سوال (نمبر 32) غیر ملکی سرمایہ کاری کو راغب کرنے کے لئے اٹھائے گئے اقدامات میں سے پانچ اقدامات کا ذکر کریں۔

یا

پرائمری سیکٹر اور سکیئنڈری سیکٹر میں فرق واضح کریں۔

سوال (نمبر 33) چناؤ میں ذات پات کبھی کبھی ایسا معلوم ہوتا ہے کہ چناؤ صرف ذات سے ہی متعلق ہے لیکن ایساں ہیں مثالوں

کے ذریعے اپنی بات بتائیے۔

سوال (نمبر 34) 1960 میں بیلجیم میں تنازعات کی کیا وجہ تھی؟ یہ تنازعات کس طرح ختم ہوئے۔

یا

ہندوستان کی لسانی پالیسی کس طرح وفاقی ڈھانچے کو مضبوط کرتی ہے یہ سری لنکا سے کس طرح مختلف ہے۔

سوال (نمبر 35) دیئے گئے ہندوستان کے سیاسی نقشے میں درج ذیل جگہوں پر A اور B اور C پر کھینچی گئی لائنوں میں اسے صحیح نام

لکھئے۔

- (a) وہ جگہ جہاں پر گاندھی جی نے نمک قانون توڑا۔
- (b) وہ جگہ جہاں پر عدم تعاون کی تحریک واپس لی گئی۔
- (c) کوئی ایک انڈین نیشنل کانگریس کا اجلاس دکھائیں۔

سوال (نمبر- B36) ایک پاور پلانٹ کلیم

- (i) لوہے اور فولاد کی صنعت وجے نگر
- (ii) سافٹ ویئر ٹکنالوجی نوئیڈا
- (iii) پارادیپ سمندری بندرگاہ
- (v) باندھ سردار سروور باندھ



سیمپل پیر-V
جماعت دہم X
مضمون: سماجی علوم

کل نمبر 80

وقت 3 گھنٹے

ہدایات:-

(حصہ الف)

- سوال (نمبر 1) قدامت پسندی کیا تھی؟ ایک جملے میں جواب دیجئے۔
- سوال (نمبر 2) ہندوستان میں سائنس کمیشن کا استقبال ”سائنس واپس جاؤ“ کے نعروں سے کیوں کیا گیا؟

اور

- سوال (نمبر 3) سول نافرمانی کی تحریک عدم تعاون کی تحریک سے کس طرح مختلف تھی۔
- Rinder Pest پلگ ایک خطرناک..... بیماری تھی۔

اور

- سوال (نمبر 4) صنعتی دور کے پہلے اور شروعاتی دور کو..... صنعتی نظام کے نام سے بھی جانا جاتا ہے۔
- مطلق العنان کی تعریف لکھئے۔

یا

- یہ کس نے کہا تھا ”پرنٹنگ پریس ترقی کا توانا ترین انجن ہے اور رائے عامہ وہ قوت ہے جو آمریت اور مطلق العنان کو بہالے جائے گی؟

- سوال (نمبر 5) درج ذیل میں سے ناقابل تجدید وسائل بتائیے۔

(i) پانی (ii) کوئلہ (iii) پانی (iii) سٹسی توانائی، ہوائی توانائی

- سوال (نمبر 6) ہمیں راگی کیوں کھانی چاہئے؟ کوئی ایک وجہ لکھئے۔

سوال (نمبر 7) اس معدنیات کا نام لکھئے جو کہ پرتوں میں پائی جاتی ہے۔

اور

اس معدنیات کا نام لکھئے جو ارضیاتی ساخت کی تہہ نشیں چٹانوں سے بنی ہیں اور سینٹ صنعت کے لئے ضروری ہے۔

سوال (نمبر 8) جملے کو صحیح کر کے لکھئے۔

ہندوستان جاپان سے سوت برآمد کرتا ہے؟

سوال (نمبر 9) نیچے تصویر کو پورا کرو۔

آمدورفت کے ذرائع

زمینی آمدورفت	آبی ذرائع آمدورفت
---------------	-------------------

اور

ہندوستان میں سڑکوں کے بنانے اور ان کی دیکھ بھال کون کرتا ہے۔

(a) N.H.A.I. (b) CPWD

(c) BRO (d) PWD

سوال (نمبر 10) بندرگا ہیں ہندوستان کے لئے کیوں ضروری ہیں کوئی ایک وجہ لکھئے

اور

کوئی ایک وجہ بتائیے کہ ریلوے کے آمدورفت سڑک آمدورفت سے بہتر کیوں ہے؟

سوال (نمبر 11) سری لنکا کے گھریلو تمل کو..... تمل کہا جاتا ہے۔

اور

اس جمہوری نظام کو زیادہ اچھا مانا جاتا ہے جس میں زیادہ سے زیادہ عوام کی سیاسی حصہ داری ہے۔

سوال (نمبر 12) کوئی ایک وجہ بتائیے کہ ہم کہہ سکیں کہ ہندوستان ایک وفاقی ملک ہے۔

اور

ملی جلی حکومت کا مطلب بتائیے؟

سوال (نمبر 13) لوک سبھا کے عام چناؤ 2019 کو کس سیاسی پارٹی کو اکثریتی ملی۔

اور

حکمران پارٹی کی تعریف کیجئے۔

سوال (نمبر 14) ہندوستانی جمہوریت کا ایک معاشی نتائج بیان کریں۔

سوال (نمبر 15) زندگی صوبائی فہرست کی ایک مثال بتائیے۔

سوال (نمبر 16) ہم ملک کی فی کس آمدنی کی گنتی ہندوستانی روپے میں کیوں نہیں کرتے۔

سوال (نمبر 17) درج ذیل میں سے کونسی سرگرمی ثالثی سیکٹر میں آتی ہے۔

(a) قمیض (b) کپاس (c) آمدورفت (d) گٹا

اور

درج ذیل میں سے بے میل کو چنئے

(a) ٹیچر (b) سبزی بیچنے والا (c) ڈاکٹر (d) وکیل

سوال (نمبر 18) قرض دینے کی ایک مثال لکھئے۔

اور

قرض دینے والا رقم ادھار دیتے وقت گارنٹر کی مانگ کیوں کرتا ہے۔

سوال (نمبر 19) غیر ملکی سرمایہ کاری ہے.....

سوال (نمبر 20) تجارتی بندش کی ایک مثال لکھئے۔

حصہ (ب)

سوال (نمبر 21) قومیت کے بارے میں اولین واضح تصور انقلاب فرانس 1789 کے ساتھ آیا تین نقاط بتائیے۔

اور

جرمنی کے متحد ہونے کے عمل کو سمجھائیے۔

سوال (نمبر 22) شری مان جتن داس مغربی بنگال میں ہنگلی ندی کے کنارے ایک ایک پٹ سن کا کارخانہ کھولنے کا فیصلہ کرتے ہیں۔ ان کے کارخانے لگانے کی حمایت میں کوئی تین باتیں لکھئے۔

اور

شری مان ہری داس گجرات کے سورت شہر میں ایک کپاس مل کھولنے میں دلچسپی رکھتے ہیں؟ کوئی تین پریشانی کے بارے میں لکھے جو کپڑا مل لگانے میں آسکتی ہے۔

سوال (نمبر 23) محترمہ نغمہ کودٹی سے ممبئی ایک ضروری میٹنگ میں شامل ہونے کے لئے اگلے تین گھنٹے میں پہنچا ہے انہیں کس آمدورفت کا استعمال کرنا چاہئے۔ اور کیوں؟

یا

ہیلری اپنی گرمیوں کی چھٹی سے امریکہ سے ہندوستان گھومنے آتی ہے ایسی کوئی تین پریشانیاں لکھو جو ان کو سڑک آمدورفت میں آتی ہیں۔

سوال (نمبر 24) ہلیجیم کے ماڈل سے آپ کیا سمجھتے ہیں؟ ہلیجیم حکومت کے کچھ خاص نقاط کا تجزیہ کیجئے۔

یا

سری لنکائی تملوں کو اپنے ہی ملک میں بیگانہ پن کیوں محسوس ہوا؟

سوال (نمبر 25) ہندوستانی جمہوریت کی تیسری سطح کی حکومت 1992 کے بعد زیادہ طاقتور کیسے بن گئی؟

اور

ساتھ آ کر وفاق اور ساتھ ملکر وفاق کے ریاستی وفاق کے نظام میں فرق واضح کریں۔

سوال (نمبر 26) ایسے کہیں تین باتوں کو لکھئے جو لوگوں کے ذریعے اپنی ترقی اور خوشحالی کے لئے بہتر آمدنی کے لئے پسند کرتے ہیں۔

سوال (نمبر 27) پبلک سیکٹر نجی سیکٹر سے مختلف کیوں ہے؟

یا

منظم سیکٹر کے روزگار کے حالات غیر منظم سیکٹر سے کس طرح بہتر مانے جاتے ہیں؟

سوال (نمبر 28) امر اور اسلم عالمی کاری کے اوپر بحث کر رہے ہیں؟ ان کی مدد کے لئے عالم کاری کی تین خوبیاں اور تین خامیاں بیان کرو۔

حصہ (ج)

سوال (نمبر 29) ہندوستان میں ثقافتی سرگرمیاں کس طرح اپنے پن کی پہچان کو بنانے میں مددگار ثابت ہوئی ہیں؟

اور

ہندوستان میں عدم تعاون کی تحریک پوری طرح کامیاب کیوں نہیں رہی کوئی پانچ وجوہات بیان کریں۔

سوال (نمبر 30) پرنٹ اور کلچر نے کس طرح قومیت کے تصور کو ابھرنے میں مدد کی بیان کیجئے۔

یا

انیسویں صدی میں چھاپے خانے کی تحریک کا ہندوستانی ثقافت پر کیا اثرات مرتب ہوئے۔

سوال (نمبر 31) ہندوستان میں چاول کی پیداوار کے اضافے کے لئے ذمہ دار پانچ باتوں کا ذکر کرو۔

یا

زراعت کو معیشت کی ریڑھ کی ہڈی کیوں کہا جاتا ہے۔

سوال (نمبر 32) ہندوستانی جمہوریت کی کوئی پانچ نشانیاں بتائیے جو یہ ثابت کریں کہ ہندوستان میں وحدانی نظام حکومت نہیں ہے؟

یا

مثال دیکر ہندوستان کی آئینی طاقت کا مرکزی حکومت اور ریاستی حکومت کے بیچ بٹوارے کا ذکر کیجئے۔

سوال (نمبر 33) سیاسی پارٹیوں میں کس طرح سدھار لایا جاسکتا ہے؟ کوئی پانچ اصطلاحات لکھیں،

یا

ہندوستان میں کوئی علاقائی پارٹی قومی پارٹی کا درجہ کیسے حاصل کر سکتی ہے بتائیے۔؟
سوال (نمبر 34) گر پریٹ کو لگتا ہے کہ ہندوستان میں بینک ایک ضروری معاشی تنظیم ہے اس کی حمایت میں پانچ باتیں لکھئے۔

یا

سیما چین اپنے گھر خریدنے کے لئے قرض لینا چاہتی ہیں ایک ساہوکار (مہاجن) جناب شاہ جی اور ایک نیشنل قومی بینک دونوں ہی سیما کو لون (قرض) دینے کو راضی ہو گئے انھیں کس سے قرض لینا چاہئے اور کیوں؟

سوال (نمبر 35) (A): ہندوستان کے نقشے پر درج ذیل میں سے کہیں تین جگہوں کو پہچان کر ان کے نام لکھئے۔

(a) انڈین نیشنل کانگریس ستمبر 1920 دسمبر 1920 اور 1927 کے اجلاس دکھائیے۔

(b) گجرات میں گاندھی جی کے ذریعے چلائی گئی کسانوں کے لئے سٹیہ گرو۔

(c) پنجاب میں وہ جگہ جہاں جلیان والہ باغ کا قتل عام ہوا۔

سوال (نمبر 35) (B): دیئے گئے ہندوستان کے اسی نقشے پر درج ذیل میں سے کہیں تین جگہیں کو پہچان کر ان کے نام لکھئے۔

(i) درگ — لوہے اسٹیل کا پلانٹ

(ii) ہندوستان کا پٹ سن پیدا کرنے والی ریاست

(iii) نیولی کولے کی کان

(iv) کلال تیل کا علاقہ

(v) سنگرلی حرارتی توانائی مرکز

(vi) گولڈن کوآرڈی نیٹر شاہراہ

(vii) تارپور پاور پلانٹ

(viii) کانپور سوتی کپڑے کی صنعت

(ix) بھلائی لوہے اور فولاد کا پلانٹ

(x) پوناسافٹ ویئر ٹکنالوجی پارک

(xi) توتی کورین بندرگاہ

(xii) راجیوگانڈھی انٹرنیشنل ہوائی اڈہ

نقشہ

سیمپل پیپر کے جوابات

ج(1) ایسی سیاسی نظام جو پرانی روایت اور رواج کے بہتر بدلاؤ کے بجائے بدلاؤ کو اہمیت دیتے ہیں۔

ج(2) کیونکہ ان میں کوئی بھی ہندوستانی ممبر شامل نہیں تھا۔

اور

اس بار لوگوں کو نہ صرف انگریزوں کے ساتھ تعاون نہ کرنے کے لئے بلکہ انگریزی قانون کو توڑنا بھی تھا۔

ج(3) جانوروں کے ذریعے پھیلنے والی بیماری

اور

پروٹو

ج(4) تاریخ صفحہ نمبر 163

اور

لوئی سبائٹین مرسیر

ج(5) کونلہ

ج(6) ذائقہ کے لئے

ج(7) ابرق

ج(8) ہندوستان جاپان کو سوت برآمد کرنا ہے۔

ج(9) ہوا

اور

BRO

ج(10) برآمد اور درآمد

اور

کم کرایہ وغیرہ

ج(11) سری لنکائی ہٹل

اور صحیح

ج(12) دو یا دو سے زیادہ سطح کی حکومتیں

اور

صفحہ پر نمبر 20 جمہوری سیاست

ج(13) بھارتیہ جنتا پارٹی

اور

جو پارٹی حکومت کر رہی ہو

ج(14) نابرابری اور غربت میں کمی

ج(15) کرنسی اور مواصلات

ج(16) فی کس آمدنی کی گنتی ڈالر سے کی جاتی تاکہ ان کی آمدنی کا موازنہ سبھی ملکوں سے کیا جاسکے۔

ج(17) آمدورفت

اور

سبزی بیچنے والا

ج (18) جائیداد جیسے کہ زمین وغیرہ

اور

معاشی ترقی کی سمجھ صفحہ نمبر 44

ج (19) کثیر قومی کمپنیوں کے ذریعے کیا گیا خرچ

ج (20) برآمد پرائیکس

ج (21) (i) ایک ایسی کمیونٹی پر زور دیا جس میں دستور کے تحت ہر کس ونا کس مساوی حقوق ہوں۔

(ii) پرانے شاہی جھنڈے کی جگہ عوام ترنگے کا انتخاب کیا گیا۔

(iii) فعال شہریوں کی ایک جماعت نے جڑا سٹیٹ کا انتخاب کیا جس کا نام نیشنل اسمبلی رکھا گیا۔

اور

جغرافیہ کے صفحہ نمبر 19 دیکھیں

ج (22) دیکھیں جغرافیہ صفحہ 70

اور

دیکھیں جغرافیہ صفحہ 70

ج (23) ہوائی آمدورفت یہ تیز اور آرام دہ ہے۔

اور

زیادہ سڑکوں کا جال

ج (24) دیکھیں صفحہ 04 جمہوری سیاست

اور

1956 کا قانون صفحہ 3 جمہوری سیاست

ج (25) دیکھیں صفحہ 24 جمہوری سیاست

اور

دیکھیں صفحہ 15 جمہوری سیاست

ج (26) (i) امن وامان (ii) حفاظت (iii) اچھی صحت

ج (27) معاشی ترقی کی سمجھ صفحہ 33

اور

معاشی ترقی کی سمجھ صفحہ 30 اور 31

ج (28) معاشی ترقی کی سمجھ صفحہ نمبر 67,66 اور 70

ج (29) تاریخ صفحہ نمبر 70 سے 72 تک

اور

تاریخ صفحہ 58 اور 62

ج (30) صفحہ نمبر 169,168 تاریخ

اور

صفحہ نمبر 117 تاریخ

ج (31) جغرافیہ صفحہ 36 اور 42

اور

جغرافیہ صفحہ 39 اور 44

ج (32) صفحہ نمبر 15 جمہوری سیاست

اور

صفحہ نمبر 16 اور 17 جمہوری سیاست

ج (33) صفحہ نمبر 79 جمہوری سیاست

اور

صفحہ نمبر 86 اور 87

ج (34) صفحہ نمبر 39, 40, 41 معاشی ترقی کی سمجھ

اور

صفحہ 48 اور 49 معاشی ترقی کی سمجھ

