

# **DIRECTORATE OF EDUCATION**

**GNCT of Delhi, Delhi Government**

## **SUPPORT MATERIAL (2020-2021)**

**Class : XII**

## **Political Science (Urdu Medium)**

Under the Guidance of  
**Ms. Manisha Saxena**  
Secretary (Education)

**Mr. Binay Bhushan**  
Director (Education)

**Dr. Saroj Bala Goel**  
Addl. Director (School & Exam)

### **Coordinators**

**Mrs. Mukta Soni**  
DDE (Exam)

**Dr. Raj Kumar**  
OSD (Exam)

**Mr. Krishan Kumar**  
OSD (Exam)

**Production Team**

**Anil Kumar Sharma**

---

**Published at Delhi Bureau of Text Books, 25/2 Institutional Area, Pankha Road, New Delhi-110058 by Prabhjot Singh, Secretary, Delhi Bureau of Text Books and Printed by Supreme Offset Press, New Delhi-110017**

**MANISHA SAXENA  
IAS**



सचिव ( शिक्षा )  
राष्ट्रीय राजधानी क्षेत्र  
दिल्ली सरकार  
पुराना सचिवालय, दिल्ली-110054  
दूरभाष : 23890187 टेलीफैक्स : 23890119

Secretary (Education)  
Government of National Capital Territory of Delhi  
Old Secretariat, Delhi-110054  
Phone : 23890187 Telefax : 23890119  
e-mail : secyedu@nic.in

### **MESSAGE**

The importance of adequate practice during examinations can never be overemphasized. I am happy that support material for classes IX to XII has been developed by the Examination Branch of Directorate of Education. This material is the result of immense hard work, co-ordination and cooperation of teachers and group leaders of various schools. The purpose of the support material is to impart ample practice to the students for preparation of examinations. It will enable the students to think analytically & rationally, and test their own capabilities and level of preparation.

The material is based on latest syllabus prepared by the NCERT and adopted by the CBSE for the academic session 2020-21 and covers different levels of difficulty. I expect that Heads of Schools and Teachers will enable and motivate students to utilize this material during zero periods, extra classes and regular classes best to their advantage.

I would like to compliment the team of Examination Branch for their diligent efforts of which made it possible to accomplish this work in time. I also take this opportunity to convey my best wishes to all the students for success in their endeavours.

(Manisha Saxena)

**BINAY BHUSHAN, IAS**



**Director**  
Education & Sports  
Govt. of NCT of Delhi  
Old Secretariat, Delhi- 110054  
Tel.: 23890172, Fax : 23890355  
E-mail : diredu@nic.in  
Website : www.edudel.nic.in

**D.O. No.**

**Date :**

Dear Students,

Directorate of Education is committed to providing qualitative and best education to all its students. The Directorate is continuously engaged in the endeavor to make available the best study material for uplifting the standard of its students and schools.

Every year, the expert faculty of Directorate reviews and updates Support Material. The expert faculty of different subjects incorporates the changes in the material as per the latest amendments made by CBSE to make its students familiar with new approaches and methods so that students do well in the examination.

The book in your hand is the outcome of continuous and consistent efforts of senior teachers of the Directorate. They have prepared and developed this material especially for you. A huge amount of money and time has been spent on it in order to make you updated for annual examination.

Last, but not the least, this is the perfect time for you to build the foundation of your future. I have full faith in you and the capabilities of your teachers. Please make the fullest and best use of this Support Material.

  
**BINAY BHUSHAN**  
**DIRECTOR (EDUCATION)**



**Dr. (Mrs.) Saroj Bala Sain**

Addl. Director of Education  
(School / Exam / EVGB/IEB/ VOC )



सत्यमेव जयते

Govt. of NCT of Delhi  
Directorate of Education  
Old Secretariat, Delhi-110054  
Tel.: 23890023, 23890093

D.O. No. PA/Addl.DE(sch)/86  
Date : 03-10-2019

I am very much pleased to forward the Support Material for classes IX to XII. Every year, the Support Material of most of the subjects is updated/revised as per the most recent changes made by CBSE. The team of subject experts, officers of Exam Branch, members of Core Academic Unit and teachers from various schools of Directorate has made it possible to make available unsurpassed material to students.

Consistence use of Support Material by the students and teachers will make the year long journey seamless and enjoyable. The main purpose to provide the Support Material for the students of government schools of Directorate is not only to help them to avoid purchasing of expensive material available in the market but also to keep them updated and well prepared for exam. The Support Material has always been a ready to use material, which is matchless and most appropriate.

I would like to congratulate all the Team Members for their tireless, unremitting and valuable contributions and wish all the best to teachers and students.

**(Dr. Saroj Bala Sain)**  
Addl.DE (School/Exam)



# **DIRECTORATE OF EDUCATION**

**GNCT of Delhi, Delhi Government**

## **SUPPORT MATERIAL**

**(2020-2021)**

### **Political Science (Urdu Medium)**

**Class : XII**

**NOT FOR SALE**

**PUBLISHED BY : DELHI BUREAU OF TEXTBOOKS**



**Support Material 2020-2021**  
**Political Science**  
**Class-XII**  
**Review Committee**  
**Team Members**

S. No.	Name	Designation	School	ID
1	Krishan Mohan Tripathi (Group Leader)	Vice Principal	SBV (Gandhi Memorial) G.T. Road Shahdra	1105001
2	Ms. Veena Mari	Lect. (Pol.Se)	GGSSS Janta Flats Nand Nagri, Delhi-94	1106115
3	Dr. Shaifali Gupta (Core Academic Unit)	Lect. (Pol.Se)	SKV Mandoli	1106019
4	Mr. Arun Kumar	Lect. (Pol.Se)	GBSSS Shastri Park Delhi-53	1105011

**مترجم**

**شاهینہ فیض**

ایس۔ کے وی بلنگی خانہ

آصف علی روڈ

آئی۔ ڈی۔ 2127021



## भारत का संविधान

भाग 4क

### नागरिकों के मूल कर्तव्य

#### अनुच्छेद 51क

**मूल कर्तव्य** – भारत के प्रत्येक नागरिक का यह कर्तव्य होगा कि वह –

1. संविधान का पालन करे और उसके आदर्शों, संस्थाओं, राष्ट्र ध्वज और राष्ट्रगान का आदर करें।
2. स्वतंत्रता के लिए हमारे राष्ट्रीय आंदोलन को प्रेरित करने वाले उच्च आदर्शों को हृदय में संजोए रखे और उनका पालन करे।
3. भारत की प्रभुता, एकता और अखंडता की रक्षा करे और उसे अक्षुण्ण रखे।
4. देश की रक्षा करे।
5. भारत के सभी लोगों में समरसता और समान भ्रातृत्व की भावना का निर्माण करे।
6. हमारी सामाजिक संस्कृति की गौरवशाली परंपरा का महत्त्व समझे और उसका निर्माण करे।
7. प्राकृतिक पर्यावरण की रक्षा और उसका संवर्धन करे।
8. वैज्ञानिक दृष्टिकोण और ज्ञानार्जन की भावना का विकास करे।
9. सार्वजनिक संपत्ति को सुरक्षित रखे।
10. व्यक्तिगत एवं सामूहिक गतिविधियों के सभी क्षेत्रों में उत्कर्ष की ओर बढ़ने का सतत प्रयास करे।
11. माता-पिता या संरक्षक द्वारा 6 से 14 वर्ष के बच्चों हेतु प्राथमिक शिक्षा प्रदान करना (86वां संशोधन)।

# CONSTITUTION OF INDIA

## Part IV A (Article 51 A)

### Fundamental Duties

**Fundamental Duties :** It shall be the duty of every citizen of India —

1. to abide by the Constitution and respect its ideals and institutions, the National Flag and the National Anthem;
2. to cherish and follow the noble ideals which inspired our national struggle for freedom;
3. to uphold and protect the sovereignty, unity and integrity of India;
4. to defend the country and render national service when called upon to do so;
5. to promote harmony and the spirit of common brotherhood amongst all the people of India transcending religious, linguistic and regional or sectional diversities; to renounce practices derogatory to the dignity of women;
6. to value and preserve the rich heritage of our composite culture;
7. to protect and improve the natural environment including forests, lakes, rivers and wild life, and to have compassion for living creatures.
8. to develop the scientific temper, humanism and the spirit of inquiry and reform;
9. to safeguard public property and to adjure violence;
10. to strive towards excellence in all spheres of individual and collective activity so that the nation constantly rises to higher levels of endeavour and achievement.
11. who is a parent or guardian to provide opportunities for education to his child or, as the case may be, ward between the age of six and fourteen years.



## भारत का संविधान

### उद्देशिका

हम, भारत के लोग, भारत को एक (सम्पूर्ण प्रभुत्व—सम्पन्न समाजवादी पंथनिरपेक्ष लोकतंत्रात्मक गणराज्य) बनाने के लिए, तथा उसके समस्त नागरिकों को :

सामाजिक, आर्थिक और राजनैतिक न्याय,

विचार, अभिव्यक्ति, विश्वास, धर्म

और उपासना की स्वतंत्रता,

प्रतिष्ठा और अवसर की समता

प्राप्त करने के लिए,

तथा उन सब में,

व्यक्ति की गरिमा और (राष्ट्र की एकता

और अखंडता) सुनिश्चित करने वाली बंधुता

बढ़ाने के लिए

हम दृढ़संकल्प होकर इस संविधान को आत्मार्पित करते हैं।

# THE CONSTITUTION OF INDIA

## PREAMBLE

WE, THE PEOPLE OF INDIA, having solemnly resolved to constitute India into a **(SOVEREIGN SOCIALIST SECULAR DEMOCRATIC REPUBLIC)** and to secure to all its citizens :

**JUSTICE**, social, economic and political,

**LIBERTY** of thought, expression, belief, faith and worship,

**EQUALITY** of status and of opportunity; and to promote among them all

**FRATERNITY** assuring the dignity of the individual and the **(unity an integrity of the Nation)**;

WE DO HEREBY GIVE TO OURSELVES THIS CONSTITUTION.

## کلاس XII

### مضمون سیاسی علوم

(اپریل 2020 سے ستمبر 2021)

### عصری عالمی سیاست: پروجیکٹ ورک

باب 1: سرد جنگ کا زمانہ:۔ کیوبا میزائل بحران، عالمی سیاست میں سرد جنگ کا زمانہ۔ دو عظیم طاقتوں کے دور کی شروعات سرد جنگ میں سرد جنگ کے دائرے، دو محوریت کو چنوتی، ناوابستگی کو چنوتی، ناوابستگی اور کے دائرے، دو محوریت کو چنوتی، ناوابستگی اور نیا بین الاقوامی معاشی نظام۔ ہندوستان اور سرد جنگ۔ اقتباس۔ نقشہ اور کارٹون۔

باب 2: دو قطبیت کا خاتمہ۔ سوویت نظام۔ گورباچیف اور سوویت یونین کا انتشار۔ انتشار کو وجوہات۔ انتشار کے نتائج کمیونسٹ حکومت کے بعد صدمہ کا علاج کے نتائج۔ کشیدگیاں اور تنازعات۔ ہندوستان کے روس اور کمیونزم کے بعد کے ممالک سے تعلقات۔ اقتباس، نقشہ اور کارٹون۔

باب 3: عالمی سیاست میں امریکہ کی سرداری۔ نئے عالمی نظام کی ابتداء۔ کٹن کا دور۔ 9/11 اور دہشت گردی کے خلاف عالم گیر جنگ سرداری کا مطلب۔ فوجی۔ ساختی اور ثقافتی شکل میں امریکہ کی سرداری امریکی طاقت پر بندشیں۔ ہندوستان اور امریکہ کے تعلقات۔ اقتباس، نقشہ اور کارٹون۔

باب 4: طاقت کے متبادل مراکز۔ یورپین یونین کی بناوٹ اور فروغ آسیان۔ چینی معیشت کا ابھرنا۔ ہندوستان اور چین تعلقات۔ اقتباس کارٹون اور نقشے۔

### گرمیوں کی چھٹیاں Summer Vacation

Summer Vacation کے لیے ہوم ورک اور پروجیکٹ۔

باب 5: دور حاضر کا جنوبی ایشیا۔ جنوبی ایشیا کیا ہے۔ پاکستان میں فوج اور جمہوریت۔ بنگلہ دیش میں جمہوریت۔ نیپال میں بادشاہت اور جمہوریت۔ سری لنکا میں نسلی تنازعہ اور جمہوریت۔ ہند۔ پاک تنازعات۔ ہندوستان اور بڑوسی ممالک کے ساتھ تعلقات۔ اقتباس۔ کارٹون اور نقشے۔

باب 6: بین الاقوامی تنظیمیں۔ بین الاقوامی تنظیموں کی ضرورت۔ اقوام متحدہ کا ارتقا۔ اقوام متحدہ میں اصلاحات۔ اقوام متحدہ کا دائرہ کار۔ خاص اجزائی بین الاقوامی معاشی تنظیمیں غیر ساکاری ادارے۔ ایک قطعی دنیا میں اقوام متحدہ۔ اقتباس کارٹون اور نقشے۔

باب 7- دور میں سلامتی اور تحفظ — سلامتی کیا ہے؟ سلامتی کارسی اور غیر رسمی تصور۔ خطروں کے لیے سرچشمے۔ عالمی غربی۔ صحت اور تعلیم انسانی حقوق۔ باہمی تعاون کی سلامتی ہندوستان اور سلامتی کی حکمت عملی۔ دنیا کے سامنے موجود کئی نئے طریقے۔ خطروں سے سلامتی کے طریقے۔ اقتباس۔ کارٹون اور نقشے۔

باب 8- ماحولیات اور قدرتی وسائل — عالمی سیاست میں ماحولیاتی تشویش۔ عالمگیر مشترکات۔ مشترک لیکن ممتاز ذمے داری۔ ماحولیاتی تحریکیں اور وسائل کی جغرافیائی سیاست۔ مشترکہ ملکیت سے متعلق تنازعات عالمگیر ماحولیات کے مدے پر ہندوستان کا موقف۔ ہندوستان کے ذریعے اٹھائے گئے قدم۔ اصل باشندے اور ان کے حقوق۔ اقتباس۔ کارٹون۔ نقشے۔

باب 9- عالمگیریت — عالمگیریت کے معنی۔ عالمگیریت کی وجوہات۔ سیاسی معاشی اور ثقافتی اثرات۔ ہندوستان اور عالمگیریت کی مزاحمت۔ اقتباس کارٹون اور نقشے۔

## آزادی کے بعد ہندوستان کی سیاست

باب 1: قومی تعمیر کے چیلنج — تین چیلنج۔ ہندوستان کی تقسیم خانمان، بربادی اور باز آباد کاری، راجوڑوں کا الحاق۔ ریاستوں کی از سر نو تعمیر لسانی بنیاد پر سیاسی تنازعات۔ اقتباس۔ کارٹون اور نقشے۔

باب 2: ایک پارٹی کی بالادستی کا زمانہ — جمہوریت کی تعمیر کا چیلنج۔ پہلے تین عام انتخابات میں کانگریس کی بالا دستی۔ اپوزیشن پارٹیں کا ظہور۔ اہم اپوزیشن پارٹیاں۔ اقتباس۔ کارٹون اور نقشے۔

باب 3: منصوبہ بند ترقی کی سیاست — سیاسی فیصلے اور ارتقا۔ سیاسی ٹکراؤ۔ ترقی کے تصورات۔ منصوبہ کمیشن، پنج سالہ منصوبے۔ اہم تنازعات۔ زراعت بنام صنعت۔ عوام بنام نجی شعبہ۔ زمینی اصلاحات۔ غذائی بحران۔ سبز انقلاب اور سیاسی بدلاؤ۔ اقتباس۔ کارٹون اور نقشے۔

## II Term

اکتوبر 2020 سے نومبر 2020

### پروجیکٹ ورک

باب 4: ہندوستان کے خارجی تعلقات — خارجہ پالیسی۔ ناوابستگی۔ نہرو کا کردار۔ ایفرو ایشیائی ایکتا۔ چین کے ساتھ امن اور تنازعہ۔ 1962 کی ہندوستان چین جنگ۔ ہندوستان پاکستان جنگ۔ بنگلہ دیش جنگ۔ کارگل تنازعہ۔ ہندوستان کا نیوکلیائی پروگرام۔ اقتباس۔ نقشہ اور کارٹون۔

باب 5:- کانگریس سسٹم — چینج اور اس کی بحالی، نہرو کے بعد سیاسی جانشینی۔ شاشتری جی۔ چوتھا چناؤ 1967۔ غیر کانگریسیٹ۔ کانگریس میں تقسیم۔ 1971 کا چناؤ۔ کانگریس کی بحالی۔ اقتباس۔ نقشہ۔ کارٹون۔

باب 6:- جمہوری نظام کا بحران — ایمر جنسی کا پس منظر۔ گجرات۔ بہار اور نلسلوادی تحریک۔ عدلیہ سے تنازعہ۔ ایمر جنسی کے دوران اور حکومت کا فیصلہ اور تنازعہ۔ ایمر جنسی کے بارے میں اختلافات۔ ایمر جنسی کے دوران کیا کیا ہوا؟ ایمر جنسی کے سبق ایمر جنسی کے بعد کی سیاست لوک سبھا کا 1977 کا چناؤ۔ جنتا پارٹی کا اقتدار۔ اقتباس۔ نقشہ۔ کارٹون۔

باب 7:- عوامی تحریکوں کا عروج — عوامی تحریکوں کی نوعیت۔ چکوتہ تحریک۔ پارٹیوں پر مبنی تحریکیں۔ غیر جماعتی تحریکیں۔ دلت پینتھرس۔ بھارتیہ کسان یونین نیشنل فوش ورکرس فارم۔ تاڑی مخالف تحریک۔ نرمدا بچاؤ تحریک۔ عوامی تحریکوں سے سبق اطلاع پانے کا حق۔ اقتباس۔ نقشہ اور کارٹون۔

باب 8:- علاقائی آرزوئیں:۔ علاقہ اور قوم۔ ہندوستانی حکومت کا نظریہ۔ جموں اور کشمیر۔ دراوڑ تحریک۔ باہری اور اندرونی تنازعات۔ علاقائی سیاست۔ 1948 کے بعد پنجاب سیکھ مخالف 1984 کے دنگے۔ شمال مشرقی ریاستوں میں چینج اور گرمیاں۔ بچہتی اور مصالحتیں۔ گوا کی آزادی۔ اقتباس۔ کارٹون۔ نقشہ۔

باب 9:- ہندوستانی سیاست — نئے بدلاؤ۔ ہندوستانی سیاست میں 1990 کی دہائی۔ جنتا دل اور بھارتیہ جنتا پارٹی کا عروج۔ علاقائی پارٹیوں کا بڑھتا کردار۔ گٹھ بندھن کی سیاست۔ نیشنل فرنٹ اور یونائیٹڈ فرنٹ۔ 2004 کا چناؤ۔ اور UPA-OBC کا سیاسی عروج۔ فرقہ واریت۔ سیکولزم اور جمہوریت ایک نئے ارتفاق رائے کا ظہور۔ اقتباس۔ کارٹون اور نقشہ۔

## Pre-Board Exam

### سوالنامہ پر تبصرہ

پروجیکٹ ورک کے لیے Evaluation اور Oral Test تیاری Teaching Aids کے ذریعے تیاری کرنا۔  
CBSE کے گذشتہ سوالنامہ کو حل کرنا۔ CBSE پر مبنی سیمپل پیپر کے ذریعے تیاری۔

**Question Paper Design (2020-21)**  
**(Code No 028)**

**Class: XII**  
**Max. Marks: 80**

**Political Science**  
**Time: 3 Hours**

S. No.	Typology of Questions	Learning Outcome and Testing Skill	Very Short Answer (1 Marks)	Very Short Answer (2 Marks)	Short Answer (4 Marks)	Long Answer Based on passages (5 Marks)	Map Question/ Picture Based Interpretation (5 Marks)	Long Answer-II (6 Marks)	Marks
1	<b>Remembering</b> - (Knowledge based Simple recall questions, to know specific facts, terms, concepts, principles, or theories, identify, define, or recite, information)		6	1	1	—	—	1	18
2	<b>Understanding</b> - (Comprehension to be familiar with meaning and to understand conceptually, interpret, compare, contrast, explain, paraphrase, or interpret information)	Reasoning Analytical skills Critical thinking	2	—	1	1	—	1	17
3	<b>Application</b> (Use abstract information in concrete situation, to apply knowledge to new situations; Use given content to interpret a situation, provide an example, or solve a problem)		7	1	—	1	—	1	20
4	<b>High Order Thinking Skills</b> (Analysis & Synthesis- Classify, compare, contrast, or differentiate between different pieces of information; Organize and/or integrate unique pieces of information from a variety of sources)(included Map interpretation)		4	1	1	1	—	—	15
5	<b>Evaluation</b> - (Appraise, judge, and/ or justify the value or worth of a decision or outcome, or to predict outcomes)		1	1	1	—	1	—	12
<b>Total</b>			<b>1×20=20</b>	<b>2×3 = 6</b>	<b>4×4=16</b>	<b>5×3 =15</b>	<b>5×1 =5</b>	<b>6×3 =18</b>	<b>80</b>

## Project work: 20 Marks

### Details of Project Work

1. The Project work will be implemented in class XII from the session is 2019-20.
  2. Out of 20 marks, 10 marks are to be allotted to viva voce and 10 marks for project work.
  3. For class XII, the evaluation for 20 marks project work should be done jointly by the internal as well as the external examiner.
  4. The project can be individual/pair/group of 4-5 each. The Project can be made on any of the topics given in the syllabus of a particular class.
  5. The suggestive list of activities for project work is as follows:-  
Role Play, Skit, Presentation, Model, Field Survey, Mock Drills/Mock Event etc.
  6. The teacher should give enough time for preparation of the Project work. The topics for Project Work taken up by the student must be discussed by the teacher in classroom.
-





# باب۔ ایک

## سرد جنگ کا زمانہ

سرد جنگ سے مراد دنیا کی دو عظیم طاقتوں امریکہ اور سابق سوویت یونین کے بیچ موجودہ تلخ تعلقات جو تناؤ، ڈر اور حسد پر مبنی تھے۔ دوسری جنگ عظیم کے بعد 1945-1991 کے بیچ سرد جنگ کا دور چلا اور دنیا دو گٹوں میں بٹ گئی۔ ان دونوں گٹوں کے بیچ نظریاتی اور سیاسی لڑائی تھی۔

### یاد رکھنے لائق نکات:

● دوسری جنگ عظیم کے بعد سے آج تک کے عالمی واقعات کا مطالعہ عصری عالمی سیاسیات کے موضوعات ہیں:

■ پہلی جنگ عظیم 1914 سے 1918 تک

■ دوسری جنگ عظیم 1939 سے 1945 تک

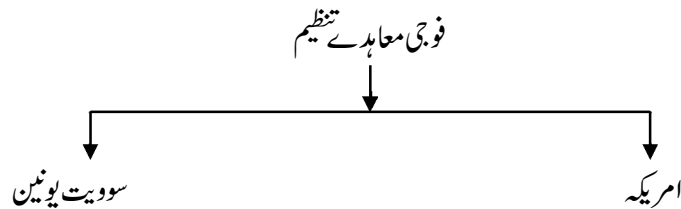
● دوسری جنگ عظیم کے گٹ:

■ دوست ممالک: سوویت یونین، فرانس، برطانیہ، ریاست ہائے متحدہ امریکہ

■ محوری طاقتیں: جرمنی، جاپان، اٹلی

● دوسری جنگ عظیم کے ختم ہو جانے کے بعد دو عظیم طاقتوں کا عروج ہوا۔ سرمایہ دارانہ نظریات کی نمائندگی کرنے والا ریاست ہائے متحدہ امریکہ اور سماج وادی نظریات کا حامی سوویت یونین تھا۔

● اپنے اثرات کو بڑھانے کے لیے دونوں عظیم طاقتوں نے دوسرے ممالک کے ساتھ معاہدے کیے:





- 1- NATO (1949)
- 2- SEATO (1954) وارسا پیکٹ 1955
- 3- CENTO (1955)

- اپنے اثرات کا رقبہ بڑھاتے ہوئے اور ان سے حاصل دیگر فائدوں کو دیکھتے ہوئے یہ عظیم طاقتیں چھوٹے ممالک کے ساتھ بھی اپنے تعلقات رکھنا چاہتی تھیں۔
  - چھوٹے ممالک بھی سلامتی، ہتھیار اور معاشی امداد کی غرض سے ان عظیم طاقتوں سے جڑے رہنا چاہتے تھے۔
  - ایٹمی صلاحیتیں ہونے کی وجہ سے دونوں ہی عظیم طاقتیں خون ریزی کی جنگ کے مقام پر مقابلہ آرائی اور تناؤ کی صورت پیدا کر رہی تھیں جسے سرد جنگ کا نام دیا گیا۔
- عظیم طاقتوں کو چھوٹے ممالک سے فائدے:

- چھوٹے ممالک سے قدرتی وسائل حاصل کرنا
- ان ممالک میں اپنے فوجی ٹھکانے قائم کرنا
- معاشی امداد حاصل کرنا
- زمینی علاقہ (تاکہ عظیم طاقتیں اپنے ہتھیاروں اور فوجی کارروائی چلا سکیں)

سرد جنگ کے دائرے:

- 1948 میں برلن کی ناکہ بندی
- 1950 میں کوریا بحران
- 1954 سے 1975 تک ویت نام میں امریکی مداخلت
- 1956 ہنگری میں سوویت یونین کی مداخلت

■ 1962 کیو بامیزائل بحران

## دومحوری طاقتوں کو چنوتی

- ناوابستہ تحریک ایشیا اور افریقہ کے نئے آزاد ممالک کے سامنے اپنی آزادی اور اقتدار کو بنائے رکھنے کا تیسرا حل تھا کہ ناوابستہ تحریک میں شامل ہو جائیں۔
- ناوابستہ تحریک کی پہلی کانفرنس 1961 میں بیگلرڈ (یوگوسلاویہ) میں ہوئی جس میں 25 ممالک نے حصہ لیا۔ اس تحریک سے وابستہ لیڈر اور ممالک تھے:-

■ پنڈت جواہر لعل نہرو	————	بھارت
■ جمال عبدالناصر	————	مصر
■ سوکارنو	————	انڈونیشیا
■ جوزف بروز ٹیٹو	————	یوگوسلاویہ
■ کوائے نکر و مہ	————	گھانا

## یاد رکھنے لائق نکات

- 17 ویں فاواہستہ چوٹی کانفرنس Venezuela کے Margarita جزیرے میں ستمبر 2016 میں منعقد ہوئی۔ اس وقت اس تحریک کے ممبروں کی تعداد 120 ہے ساتھ ہی ساتھ اس کی 17 ممالک اور 10 بین الاقوامی تنظیمیں ہیں۔ اس چوٹی کانفرنس میں دہشت گردی، مجموعی قومی اصلاح مغربی ایشیا کے حالات UNO کی امن مہم، تبدیلی آب و ہوا۔ نکاؤ ترقی شنارتھیوں کا مسئلہ اور ترک اسلحہ جیسے مدعوں پر بحث کی گئی ہے۔
- 18 ویں NAM کانفرنس ازربجان میں 2018 میں ہونی طے ہوئی ہے۔

## جدید بین الاقوامی معاشی نظام (NIEO)

- 1972 میں اقوام متحدہ کی تنظیم برائے تجارت و ترقی (UNCTAD) نے ایک نئی تجارتی پالیسی کی تجویز پیش کی تاکہ ترقی یافتہ ممالک اور ملٹی نیشنل کمپنیوں کے ذریعے غریب اور کم سے کم ترقی یافتہ ممالک کا استحصال نہ ہو سکے اور وہ اپنے قدرتی وسائل کا اپنی مرضی سے استعمال کر سکیں۔

## بھارت اور سرد جنگ

- سرد جنگ کے دوران بھارت نے نئے آزاد ممالک کی قیادت کی اور اپنے قومی مفادات کو پورا کیا۔ بھارت نے دونوں عظیم طاقتوں کے درمیان بھاد کو دور کرنے کی بھی کوششیں کیں۔

## ہتھیاروں کو محدود کرنے کے معاہدے

Limited Test Ban Treaty (LTBT)	1963 اگست/5	-1	
SALT	1972 مئی/26	(i) -2	}
	1979 جون/18	(ii)	
START	1991 جولائی/31	(i) -3	}
	1993 جنوری/3	(ii)	
Non-Proliferation Treaty (NPT)	1968 یکم جولائی	-4	

(پانچ ایٹمی طاقت والے ملک فرانس، جرمنی، امریکہ، برطانیہ اور روس ہی ایٹمی تجربہ کر سکتے تھے دوسرے ملک نہیں)

## ایک نمبر والے سوالات

- 1- جملے کو صحیح کر کے لکھیں:
- ”امریکہ نے سرمایہ دار ممالک کو لے کر 1949 میں وارسا معاہدہ کیا“
- 2- NPT/NATO کو مکمل کر کے لکھیں۔
- 3- محوری طاقتوں کے دو ممبران کے نام لکھیں۔
- 4- ایسے دو دوست ممالک کے نام لکھیں جن کے درمیان بعد میں سرد جنگ ہوئی۔
- 5- امریکہ نے دوسری جنگ عظیم میں جاپان کے کن دوشہروں پر بم گرائے تھے؟
- 6- ایٹمی بموں کے خفیہ نام کیا تھے؟

- 7- SALT کا پورا نام لکھیں؟
- 8- START کا پورا نام لکھیں
- 9- UNCTAD کو وسیع کر کے لکھیں
- 10- ناوابستہ تحریک کے کئیں دو ممالک اور اس کے بانی لیڈروں کے نام لکھیں۔
- 11- خالی جگہوں کو پورا کریں۔
- کیوبا میزائل بحران \_\_\_\_\_ کے ذریعے کیوبا میں \_\_\_\_\_ کو تعینات کرنے کی وجہ تھی۔
- 12- خالی جگہوں کو پورا کریں۔
- \_\_\_\_\_ میں ناٹو کی تشکیل ہوئی جس میں \_\_\_\_\_ ممالک شامل تھے۔
- 13- پہلی ناوابستہ کانفرنس میں کتنے ممالک شامل ہوئے۔
- (A) 15 (B) 20 (C) 30 (D) 25
- 14- امریکہ میں آزادی کی لڑائی کب ہوئی تھی۔
- 15- ناوابستہ تحریک میں شامل یوگوسلاویہ کے لیڈر کا نام لکھیں۔
- 16- تیسری دنیا سے کیا مراد ہے؟
- 17- مندرجہ ذیل حادثات کو ترتیب وار لکھیں۔
- (1) ناٹو کی تشکیل (2) پہلی جنگ عظیم
- (3) ہیروشیما اور ناگاساگی پر ایٹم بم گرنا (4) وارسا پیکٹ
- 18- سرد جنگ کے زمانے میں ایک مشرقی اور ایک مغربی گٹھ بندھن کا نام لکھیں۔
- 19- کیوبا میزائل بحران کے دوران سوویت یونین کے لیڈر کون تھے؟

20- پہلی جنگ عظیم کب سے کب تک ہوئی؟

### دو نمبر والے سوالات

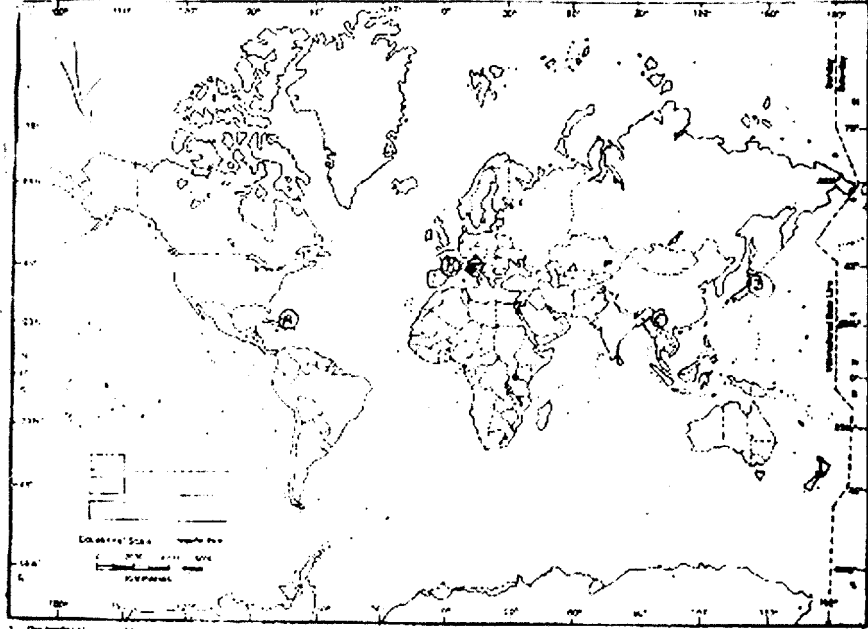
- 1- سرد جنگ سے کیا مراد ہے؟
- 2- ناواہنگی سے آپ کیا سمجھتے ہیں؟
- 3- جدید بین الاقوامی معاشی نظام کا اہم مقصد کیا تھا؟
- 4- بھارت سینٹو اور ناٹو کا ممبر کیوں نہیں بنا؟
- 5- ہتھیاروں پر پابندی کے لیے عظیم طاقتوں نے کن دو معاہدوں پر دستخط کیے؟
- 6- مزاحمت کسے کہتے ہیں؟
- 7- کیوبامیزائل بحران کے دوران امریکہ اور سوویت یونین کی قیادت کون کر رہا تھا؟
- 8- ایٹمی ہتھیاروں کے ہونے کے باوجود عظیم طاقتوں کو ایک دوسرے کے خلاف جنگ چھیڑنے سے کون روکتا ہے؟
- 9- تخفیف اصلاح کے کیا معنی ہیں؟
- 10- تیسری دنیا سے کیا مراد ہے

### چار نمبر والے سوالات

- 1- عظیم طاقتیں چھوٹے ممالک کو اپنے ساتھ کیوں رکھتی تھیں؟
- 2- ”کیوبامیزائل بحران سرد جنگ کا نقطہ عروج تھا“ واضح کیجیے۔
- 3- ناواہستہ پالیسی کے چار اصول بیان کیجیے۔
- 4- جدید بین الاقوامی معاشی نظام کیا ہے؟ اس کی دو خصوصیات بتائیے۔
- 5- ناواہنگی کے معنی علیحدگی کا مذہب نبھانا نہیں ہے۔ اس جملے کو واضح کریں۔

## پانچ نمبر والے سوالات

- 1- ”سرد جنگ صرف زور آزمائش۔ فوجی گٹھ بندھن اور طاقت کے توازن کا ہی معاملہ نہیں تھا۔ بلکہ اس کے ساتھ ساتھ حقیقی نظریاتی اختلافات بھی تھے۔ یعنی کشاکش تھی کہ کون سا نظریہ دنیا کے سیاسی معاشی اور سماجی نظام کے لیے بہترین اور مناسب ہے۔“
- 1- سرد جنگ جن دو عظیم طاقتوں کے بیچ تھی۔ ان کے نام لکھیں۔
- 2- دونوں عظیم طاقتوں کے ذریعے بنائے گئے فوجی گٹھ بندھنوں میں سے ایک ایک کا نام لکھیں۔
- 3- مندرجہ بالا اقتباس میں کن نظریات کے بیچ اختلافات کی بات کہی جا رہی ہے کس نظریے والے ملک کا زوال ہو گیا۔
- 2- نیچے دیئے گئے دنیا کے نقشے میں پانچ جگہوں کو دکھایا گیا ہے نیچے دی گئی معلومات کی بنیاد پر ان کی پہچان کریں ان کے صحیح نام ان کا سیریل نمبر اور متعلق حروف لکھیں۔
- 1- میزائل بحران سے متعلق ملک
- 2- دوست ممالک کی رہنمائی کرنے والا ایک ملک
- 3- محوری طاقتوں کی رہنمائی کرنے والا ملک
- 4- اگست 1945 میں ایٹمی بم کا شکار ملک
- 5- جنوبی مشرقی ایشیا کا ایک ملک



1. The political boundaries of the world are shown in solid lines. The names of the countries are written in the appropriate location.  
2. The national flags of the world are shown in a small scale in the margin of the map and the permission of the Government of India, New Delhi, 1988.

کارٹون کی بنیاد پر مندرجہ ذیل سوالات کے جواب دیں۔ -3



یہ کارٹون کس مشہور کارٹونسٹ کے ذریعے بنایا گیا ہے۔ اس میں کس جنگ کو لے کر ہندوستان کے نظریہ کو پیش کیا گیا ہے۔ -1



- 2- یہ کارٹون کب کا ہے۔  
3- اوپر دیا گیا یہ کارٹون کیا ظاہر کرتا ہے۔

### چہ نمبر والے سوالات

- 1- دو محوری دنیا قائم ہونے کے کیا اسباب تھے؟ دونوں عظیم طاقتوں کے درمیان سرد جنگ سے متعلق دائرے کون کون سے تھے؟  
2- سرد جنگ کے دوران دونوں عظیم طاقتوں نے ایک طرف تو ہتھیاروں کی دوڑ شروع کی تو دوسری طرف ہتھیاروں کو محدود کرنے کے لیے معاہدے کیے۔ کیوں؟ (Imp)  
3- ”سرد جنگ کے ختم ہو جانے کے بعد کیا ناوابستگی موزوں یا فائدے مند ہے؟ واضح کیجیے۔ (Imp)  
4- سرد جنگ کے نتائج کا ذکر کریں۔  
5- سرد جنگ کے تناؤ کو کم کرنے میں بھارت نے کیا رول ادا کیا ہے؟

### ایک نمبر والے سوالات کے جوابات

- 1- NATO معاہدہ کیا  
2- North Atlantic Treaty Organization .....(NATO)  
3- جرمنی، جاپان، اٹلی  
4- سوویت ویت یونین اور ریاست ہائے متحدہ امریکہ  
5- ہیروشیما اور ناگاساکی  
6- چھوٹا بچہ (Little Boy) اور موٹا آدمی (Fat Man)  
7- Startegic Arms Limitation Talks

- Starategic Arms Reduction Treaty. -8
- United Nation Conference on the Trade and Development -9
- (1) ہندوستان۔ جواہر لال نہرو، (2) انڈونیشیا۔ سوکارنو -10
- سوویت یونین — ایٹمی میزائلس -11
- 12 — 1949 -12
- 25 -13
- 1787 -14
- جوزف ہرڈیٹو -15
- دوسری جنگ عظیم کے بعد افریقہ اور ایشیا کے لیے آزاد ممالک جن کی ترقی کم ہوئی یا ہو رہی ہے۔ ترقی پذیر -16
- 1 -iv 1 -iii 3 -ii 2 -i -17
- مشرقی گٹھ بندھن۔ وارسا پیکٹ۔ مغربی گٹھ بندھن SEATO -18
- نکلینا خرچہ -19
- 1914-18 -20

## دو نمبر والے سوالات کے جوابات

- 1- سرد جنگ سے مراد ہے دو عظیم طاقتوں (سوویت یونین اور امریکہ) کے درمیان ایٹمی طاقت ہونے کے سبب خون ریز جنگ نہ ہو کر تناؤ اور کشیدگی کی حالت کا بنے رہنا
- 2- دونوں عظیم طاقتوں میں سے کسی کے بھی گٹھ میں شامل نہ ہونے کی پالیسی ہی ناوابستگی ہے۔
- 3- کم ترقی یافتہ ممالک کا اپنے قدرتی وسائل پر کنٹرول ہوگا اور مغربی ممالک کے بازاروں تک ان کی پہنچ ہوگی۔
- 4- بھارت کسی بھی عظیم طاقت کے گٹھ کا ممبر نہیں بننا چاہتا تھا۔ آزاد پالیسی کو بنائے رکھنے کی وجہ سے بھارت ناٹو اور سیٹو جیسے

فوجی معاہدوں میں شامل نہیں ہوا۔

START, SALT, LTBT -5

6- مزاحمت یعنی روک اور توازن۔ جب دونوں فریق تباہی کرنے کی صلاحیت رکھتے ہوں لیکن کوئی بھی فریق جنگ کا خطرہ نہیں اٹھانا چاہتا۔

7- امریکہ کی جانب سے جان۔ ایف۔ کیٹری اور سوویت یونین کی جانب سے مکیتا خروٹچیف

### چار نمبر والے سوالات کے جوابات

1- یاد رکھنے کے لائق نکات میں دیکھیں ”.....عظیم طاقتوں کو چھوٹے ممالک سے فائدے“

2- 1962 میں سوویت یونین نے کیوبا میں ایٹمی میزائلیں تعینات کر دیں اور امریکہ ان نشانوں کی حدود میں آ گیا لیکن امریکی صدر جان کیٹری کی جوابی کارروائی کے بعد سوویت یونین نے میزائلیں ہٹالیں۔ دونوں عظیم طاقتوں کے درمیان تناؤ اور کشدگی نے جنگ کی شکل اختیار نہیں کی۔ کیوبا میزائل بحران سرد جنگ کا نقطہ عروج کہلاتا ہے۔

- 3- (i) آزادانہ خارجہ پالیسی
- (ii) عظیم طاقتوں کے گٹوں سے الگ رہنا
- (iii) نوآبادیات اور سامراجیت کی مخالفت کرنا
- (iv) عالمی امن اور پرامن بقائے باہمی
- (v) رنگ بھید کی پالیسی کی مخالفت
- (vi) اقوام متحدہ میں یقین
- (vii) آپسی بھید بھاؤ اور جھگڑوں کا بات چیت کے ذریعے حل تلاش کرنا

4- کم ترقی یافتہ ممالک کے ذریعے معاشی اور پائیدار ترقی کرنا

■ اپنے قدرتی وسائل پر کنٹرول ہو

■ ان ممالک کی بین الاقوامی معاشی تنظیموں میں اہمیت بڑھے

5- ناوابستگی کے معنی علیحدگی کا مذہب نبھانا نہیں ہے۔ اس بیان کا مطلب ہے خاص طور سے جنگ میں شامل نہ ہونے کی پالیسی کو اپنانا۔ علیحدگی کی پالیسی کو اپنانے والے ملک کے لیے یہ ضروری نہیں کہ وہ جنگ کو ختم کرنے میں مدد کریں۔ ایسے ملک جنگ میں شامل نہیں ہوتے اور نہ ہی جنگ کو صحیح غلط ہونے کے بارے میں ان کی کوئی طرفداری ہوتی ہے۔ دراصل کئی

وجوہات سے ناوابستہ ممالک جس میں ہندوستان بھی شامل ہے جنگ میں شامل ہوئے ہیں۔ ان ممالک نے دوسرے ممالک کے بیچ جنگ کو ہونے سے ٹالنے کے لیے کام کیا ہے اور جاری جنگ کو ختم کرنے کے لیے کوشش کی ہے۔

### پانچ نمبر والے سوالات کے جوابات

- 1- (i) امریکہ اور سوویت یونین  
(ii) ناٹو اور او ایس پی سیٹ  
(iii) سرمایہ دارانہ نظریات اور سماجی نظریات
- 2- کیوبا A 1  
فرانس B 2  
اٹلی C 3  
جاپان D 4  
میانمار E 5
- 3- (i) یہ کارٹون مشہور کارٹونسٹ گٹی نے بنایا ہے۔ اس میں سرد جنگ کو لے کر ہندوستان کے نظریے کو پیش کیا ہے۔  
(ii) یہ اس وقت کا ہے جس سوویت یونین کو اندھیرے میں رکھ کر امریکہ نے چین کے ساتھ خفیہ دوستی کی تھی۔  
(iii) یہ کارٹون امریکہ اور چین کے بیچ دوستی کو ظاہر کر رہا ہے۔

### چھ نمبر والے سوالات کے جوابات

- 1- دونوں عظیم طاقتیں دنیا میں اپنا اثر، غلبہ یا دبدبہ قائم رکھنا چاہتی تھیں۔ اپنی فوجی طاقت، ایٹمی طاقت اور خیالات کے نظریہ کو بڑھا چڑھا کر دکھانا چاہتی تھیں۔
- 2- ہتھیاروں کی دوڑ: اپنا دبدبہ قائم رکھنا، عمدہ قسم کے تکنیکی ہتھیار بنانا، زیادہ طاقت کے ایٹمی ہتھیار بنانا
- ہتھیاروں پر کنٹرول: دونوں عظیم طاقتوں کو اپنے ختم ہونے کا خوف، ہتھیار بنانے کے خرچ کو بچانا، ہتھیاروں پر روک لگانے سے متعلق معاہدے

3- ناوابستہ تحریک کی حقیقت:

- (i) ترقی پذیر ممالک کا ایسا سٹیج جہاں وہ سب ایک ساتھ جمع ہوں
- (ii) جدید معاشی نظام کو لاگو کرنا
- (iii) بین الاقوامی میدان میں اپنی پہچان بنانا اور اپنا وجود قائم رکھنا
- (iv) بین الاقوامی اداروں میں ترقی پذیر ممالک کو غلبہ دینا
- (v) غریب ممالک کے معاشی استحصال کے خلاف مل کر کھڑے ہونا
- (vi) عالمی امن و امان کو قائم رکھنا اور تخفیف اسلحہ کو لاگو کرنا

4- سرد جنگ:

- (i) دو محوری دنیا کا وجود عمل میں آنا
- (ii) فوجی معاہدوں کی تشکیل
- (iii) ناوابستہ تحریک کی شروعات
- (iv) ہتھیاروں کی دوڑ کا شروع ہونا
- (v) اقوام متحدہ کی کارروائی میں کمی آنا

5- ناوابستہ تحریک کی قیادت

- (i) فوجی معاہدوں یا فوجی گٹوں میں شامل نہ ہونا
- (ii) عالمی مشکلات یا مسائل پر آزاد خیالات کا ہونا
- (iii) علاقائی تنظیموں کی تشکیل
- (iv) عظیم طاقتوں سے دوستانہ تعلقات
- (v) بین الاقوامی تنظیموں کو مضبوط کرنے میں مدد کرنا

## باب۔ دو

### دوقطبيت کا خاتمہ

#### یاد رکھنے لائق نکات:

- سرد جنگ کی نمایاں پہچان 1961 میں بنی برلن کی دیوار کو 9 نومبر 1989 میں مشرقی جرمنی کی عوام نے توڑ دیا۔
- 25 دسمبر 1991 کو سوویت یونین کا زوال ہو گیا۔

#### سوویت یونین کی ابتدا اور نظام

- 1917 کے روسی بالشویک انقلاب کے بعد سماجی سوویت یونین کا وجود عمل میں آیا۔

#### سوویت نظام کی خصوصیات

- سوویت یونین میں مساوی سماج کی تشکیل کے لیے مرکزی منصوبہ۔ ریاست کے کنٹرول پر مبنی اور کمیونسٹ پارٹی کے ذریعے بنایا گیا نظام سوویت نظام کہلائے گا۔
- ایک منصوبہ بند معاشی نظام تھا جو سرمایہ دارانہ نظام کا مخالف تھا اور سماج واد کے اصولوں میں یقین رکھتا تھا۔
- کمیونسٹ پارٹی کا دبدبہ تھا۔
- کم از کم معیار زندگی کی سہولیت، بے روزگاری کا نہ ہونا، ترقی یافتہ مواصلاتی نظام کے تمام ذرائع پر حکومت کا کنٹرول تھا۔ پیداوار کے تمام ذرائع بھی ریاست کی ملکیت میں تھے۔

#### دوسری دنیا

- مغربی یورپی ممالک کو سماج وادی نظام کے طرز پر ڈھالا گیا تھا۔ ان ہی کو سماج وادی خیمے کے ملک اور دوسری دنیا کہا گیا۔

#### میخائل گورباچیف

- 1980 کی دہائی میں میخائل گورباچیف نے سیاسی اصلاحات کی شروعات کی۔ گورباچیف کے ذریعے پیرستورائکا (مکمل) اور گلاس نوست (کھلے پن) کی پالیسیاں اختیار کی گئیں تاکہ معاشی بہتر اقدامات کیے جاسکیں۔

## سوویت یونین کے ختم ہونے کا اعلان

- 1991 میں بورس یلتسین کی قیادت میں مشرقی یورپین ممالک اور روس، یوکرین اور بیلاروس نے سوویت یونین کے ختم ہونے کا اعلان کیا۔
- سوویت یونین کا زوال ہوا۔ آزاد ریاستوں کی دولت مشترکہ (Commonwealth of Independent States) کا قیام عمل میں آیا جس میں 15 ریاستیں شامل تھیں۔

## سوویت یونین کے زوال کے اسباب

- سوویت یونین کے سیاسی اور معاشی ادارے اندرونی کمزوریوں کے سبب عوام کی خواہشات اور امنگوں کو پورا نہ کر سکے
- سوویت نظام پر نوکر شاہی کا شکنجہ
- کمیونسٹ پارٹی کا کنٹرول
- عوامی مفاد کے بجائے ایٹمی ہتھیاروں اور فوجی ساز و سامان کا زیادہ استعمال
- مغربی ممالک کے مقابلے میں سوویت یونین کا پیچھے رہنا
- روس کی اہمیت
- گورباچیف کے ذریعے کے گئے اقدامات کی مخالفت
- معیشت کی رفتار دھیمی اور صارفین کی چیزوں کی کمی۔
- ریاستی ملکیت کی بالادستی، آمریت اور نوکر شاہی کا دخل
- قومی جذبات اور اقتداری خواہش کی کمی
- سوویت نظام کا اقتدار پسند ہونا۔
- پارٹی کا عوام کے تئیں جواب دہ نہ ہونا۔

## سوویت یونین کے زوال کے نتائج

- سرد جنگ کا خاتمہ ہو گیا۔

- ایک محوری طاقت کی شکل میں امریکہ کا ظہور عمل میں آیا۔
- ہتھیاروں کی دوڑ ختم ہو گئی۔
- سوویت یونین کا خاتمہ ہوا۔ 15 نئی ریاستوں کو ملا کر روس کا وجود ہوا۔
- روس سوویت یونین کا جانشین بنا۔
- دنیاوی سیاست میں طاقت کے رشتے بدل گئے۔
- سماج وادی نظریہ پر سوالیہ نشان لگ گیا اور سرمایہ داری یا حریت پسند نظام کا دبدبہ ہوا۔

### شاک تھرپی

- لفظی معنی تکلیف پہنچا کر علاج کرنا۔
- کمیونزم کے زوال کے بعد سوویت یونین کے ریاستوں کو عالمی بینک اور بین الاقوامی مالیاتی فنڈ کے ذریعے تیار کئے گئے
- کمیونزم سے سرمایہ داری کی طرف رخ کرنے کے ماڈل کو اپنانے کو کہا گیا اسے ہی شاک تھرپی کہتے ہیں۔

### شاک تھرپی کی خصوصیات

- ملکیت کی اہم شکل ذاتی ملکیت
- ریاست کی ملکیت کی نجی کاری
- اجتماعی فارم کی جگہ ذاتی فارم
- آزادانہ تجارت کے نظام کو اپنانا
- مغربی ممالک کو معاشی نظام سے جوڑنا
- مالی کھلا پن، کرنسی کا لین دین اور آزاد تجارت کی پالیسی کو اہم سمجھا گیا
- سرمایہ دارانہ نظام کے طریقوں سے کھیتی کا کام شروع کیا گیا

### شاک تھیرپی کے نتائج

- شاک تھیرپی مکمل طور پر سے ناکام رہی۔ روس کا صنعتی ڈھانچہ چرمر گیا۔



روسی کرنسی روبل میں گراوٹ آگئی  
 سماجی فلاح و بہبودگی کا نظام پوری طرح تباہ ہو گیا۔  
 90% صنعتوں کو نجی ہاتھوں یا کمپنیوں کو کم داموں میں بیچا گیا جیسے تاریخ کی سب سے بڑی گیراج سیل کہا جاتا ہے۔  
 معاشی گراوٹ میں اضافہ ہوا۔

غذائی بحران پیدا ہو گیا

ما فیہ طبقہ کا عروج ہوا۔

کمزور پالیمنٹ اور صدر کو زیادہ اختیارات دینے کی وجہ سے صدر حکومت قائم ہو گئی۔

## تناؤ اور کشیدگی کے علاقے

- سابق سوویت یونین کی زیادہ تر ریاستیں تنازعہ میں الجھنے کی جانب مائل ہیں۔ ان ریاستوں میں باہری طاقتوں کی دخل اندازی بھی بڑھی ہے۔ روس کی دور ریاستوں چیچنیا اور داغستان میں علاحدگی پسند تحریکوں کا میدان رہی ہیں۔ چیکو سلواکیہ دو حصوں چیک اور سلواکیہ میں بٹ گیا۔

## بلقان ریاست

- بلقان ریاست یوگوسلاویہ خانہ جنگی کے سبب کئی صوبوں میں بٹ گیا۔ اس میں شامل بوسنیا، ہرزگوینا، سلووینیا اور کروئیا نے اپنی آزاد ریاستوں کا اعلان کر دیا۔ بالٹک حصے میں لیتھوانیا نے مارچ 1990 میں خود کو آزاد ریاست ہونے کا اعلان کر دیا۔ الیکسوینا، لاتیوا اور لیتھوانیا 1991 میں اقوام متحدہ کے ممبر بنے اور 2004 میں ناٹو میں شامل ہوئے۔
- وسطی ایشیا کے تاجکستان میں دس سالوں تک (2001 تک) خانہ جنگی چلتی رہی۔ آذربائیجان، آرمینا، یوکرین، کرغستان اور جارجیا میں بھی خانہ جنگی جیسی صورت حال ہے۔ وسط ایشیائی ریاستوں کے پاس پیٹرول کے ذخائر ہیں جس کی وجہ سے یہ علاقہ باہری طاقتوں اور تیل کمپنیوں کے لیے مقابلہ کا میدان بن گیا ہے۔

## بھارت اور کمیونزم کے بعد کے ممالک

- کمیونزم کے بعد وجود میں آئے ملکوں کے ساتھ بھارت کے تعلقات اچھے ہیں۔ خاص طور سے روس کے ساتھ بھارت کے تعلقات کافی خوشگوار ہیں۔

- روس اور بھارت دونوں کے سامنے ایک کثیر قبطی عالمی نظام کا تصور ہے۔
- دونوں ممالک اجتماعی سلامتی، علاقائی اقتدار، آزادانہ خارجہ پالیسی، بین الاقوامی تنازعات کو بات چیت کے ذریعے حل کرنے اور اقوام متحدہ پر یقین رکھتے ہیں۔
- 2001 میں بھارت اور روس کے ذریعے 80 سے زیادہ دوطرفہ معاہدوں پر دستخط ہوئے ہیں۔
- بھارت روس کے ہتھیار کا خریدار ہے۔
- بھارت روس سے تیل درآمد کرتا ہے۔
- روس اور بھارت نے کئی سائنسی منصوبوں پر ایک دوسرے کے ساتھ تعاون کیا ہے۔
- 1991 لے کر آج تک قومی مفاد کو مد نظر رکھتے ہوئے بھارت روس کے علاوہ امریکہ کے ساتھ بھی اپنے تعلقات کو خوشگوار بنانے کی کوششیں کر رہا ہے۔
- گوا میں دسمبر 2016 میں ہوئی BRICS کانفرنس کے دوران روس اور ہندوستان کے بیچ 17 ویں سالانہ کانفرنس میں ہندوستان کے وزیر اعظم نریندر مودی اور روس کے صدر Vladimir Putin کے بیچ ایٹمی توانائی خلائی مہم کے ساتھ معاشی تعلقات کو بڑھاوا دینے اور ان کے مقاصد کو حاصل کرنے پر زور دیا گیا۔

### ایک نمبر والے سوالات

- 1- دو قطبیت کے معنی بتائیے؟
- 2- برلن کی دیوار..... کی نمایاں پہچان تھی۔
- 3- سماج وادی سوویت ریاست کب وجود میں آئی؟
- 4- دوسری دنیا کسے کہا جاتا ہے؟
- 5- CIS کا پورا نام لکھیں۔
- 6- برلن کی دیوار کب گرائی گئی تھی؟
- 7- USSR کا جانشین کسے بنایا گیا؟

- 8- سوویت یونین میں بہتر اقدامات کی شروعات کس لیڈر نے کی؟
- 9- چیکوسلواکیہ کن دو حصوں میں بٹ گیا تھا؟
- 10- سوویت یونین کے ذریعے ناٹو کی مخالفت میں کب اور کون سا فوجی گٹھ بندھن بنایا تھا؟
- 11- سوویت یونین سے سب سے پہلے علاحدہ ہونے والی ریاست کا نام بتائیے
- 12- روس کی کن دو ریاستوں میں علاحدگی پسند تحریکیں چلائی گئیں؟
- 13- سوویت یونین سیاسی نظام..... نظریہ پر قائم تھا؟
- 14- روس کتنی ریاستوں کو ملا کر بنا تھا؟
- 15- موجودہ سیاسی تناظر کو دھیان میں رکھتے ہوئے بتائیے کہ دنیا کتنی محوری ہے۔
- 16- سوویت یونین کب وجود میں آیا؟
- 17- سوویت یونین سے الگ ہونے کا اعلان سب سے پہلے کن ریاستوں نے کیا؟
- 18- 1991 میں یوگوسلاویہ کے ٹوٹنے سے کون سے دو ملک بنے نام لکھیں۔
- 19- سوویت نظام میں مندرجہ ذیل میں سے کسے اہمیت نہیں دی گئی۔
- 1- نجی جاؤد ادا کا خاتمہ
- 2- مساوات کے اصول پر سماج کی تشکیل
- 3- مخالف پارٹی کا وجود نہیں
- 4- معیشت پر ریاست کا کوئی کنٹرول نہیں
- 20- سوویت نظام مفاد عامہ کے حق میں ایک خصوصیت بتائیے۔
- 21- صحیح انتخاب کریں:
- NATO کے جواب میں سوویت یونین نے فوجی معاہدہ کیا۔
- (1) سیٹو (2) سیٹو (3) سارک (4) وارسا

- 22- سوویت یونین کی زوال کے وقت کمیونسٹ پارٹی کے جنرل سیکریٹری تھے۔
- (1) بورس یلتین (2) نکیتا خروشچو (3) میخائل گورباچیف (4) بلادی پٹین
- 23- سوویت یونین میں شامل جمہوریہ (ریاستوں) کی تعداد تھی۔
- (1) 10 (2) 15 (3) 20 (4) 18

### دو نمبر والے سوالات

- 1- شک تھرپی سے کیا مراد ہے؟
- 2- سوویت یونین سے الگ ہوئے کوئی دو وسط ایشیائی ملکوں کے نام لکھیں۔
- 3- تاجکستان میں ہوئی خانہ جنگی کتنے سالوں تک چلتی رہی اور یہ خانہ جنگی کب ختم ہوئی؟
- 4- مندرجہ ذیل کو ترتیب وار شکل میں لکھیں۔
- افغانستان بحران، روس کا انقلاب، برلن کی دیوار کا گرنا، سوویت یونین کا زوال
- 5- مندرجہ ذیل کو ملا کر لکھیں:
- (i) شک تھرپی ..... سوویت یونین کا جانشین
- (ii) روس ..... فوجی معاہدہ
- (iii) بورس یلتین ..... معاشی ماڈل
- (iv) وارسا ..... روس کے صدر
- 6- تاریخ کی سب سے بڑی گیراج سیل کسے اور کیوں کہا جاتا ہے؟
- 7- شک تھرپی کے دو نتائج بتائیے۔

### چار نمبر والے سوالات

- 1- سوویت یونین کے زوال کے تین اسباب بتائیے۔ (Imp)

- 2- سماج وادی سوویت معاشی نظام اور سرمایہ دارانہ امریکی نظام میں چار فرق بتائیے۔
- 3- ”گورباچیف بیماری کا علاج ٹھیک کر رہے تھے اور سدھاروں کی کوشش بھی ٹھیک تھی“۔ پھر بھی سوویت یونین کا زوال کیوں ہو گیا؟
- 4- بھارت جیسے ملک کے لیے سوویت یونین کے زوال کا نتیجہ کیا ہوا؟
- 5- کیا شاک تھرپی سماج واد سے سرمایہ دارانہ نظام کی جانب جانے کا بہتر طریقہ تھی؟ واضح کیجیے۔ (Imp)
- 6- میخائل گورباچیف سوویت نظام میں سدھار کیوں چاہتے تھے۔

### پانچ نمبر والے سوالات

- 1- ”روسی کرنسی روبل کی شرح بتا دلہ بہت زیادہ گر گئی۔ مہنگائی اس تیزی سے بڑھی کہ لوگوں نے اپنی ساری بچت گنوا دی۔ اجتماعی زرعی نظام کے خاتمہ کی وجہ سے غذائی چیزوں کی گارنٹی ختم ہو گئی۔
- (i) روسی کرنسی کا نام کیا ہے؟
- (ii) اجتماعی زرعی نظام کیا ہوتا ہے؟
- (iii) یہ کس تھرپی کے نتائج بتائے جا رہے ہیں
- (iv) اس تھرپی کے معنی بتائیے۔

### چھ نمبر والے سوالات

- 1- کیا آپ مانتے ہیں کہ سوویت یونین کے زوال کے بعد بھارت کو اپنی خارجہ پالیسی بدل لینا چاہیے اور روس جیسے پرانے دوست کے بدلے امریکہ سے دوستی کرنے پر زیادہ دھیان دینا چاہیے۔
- 2- سوویت یونین کے زوال کے کیا اسباب تھے؟ (Imp)
- 3- ”سابق سوویت یونین کی ریاستوں میں تناؤ اور کشیدگی کی صورت بنی رہتی تھی“۔ اپنے خیالات کا اظہار کیجیے۔
- 4- دوسری جنگ عظیم کے بعد سوویت یونین کے عظیم طاقت بننے کی وجوہات بتائیں۔

## ایک نمبر والے سوالات کے جوابات

- 1- دنیا میں اقتدار کے دو مرکز ہونا۔ ریاست ہائے متحدہ امریکہ اور سوویت یونین
- 2- سرد جنگ
- 3- 1917
- 4- مشرقی یورپ کے سماج وادی خیمے کے ملکوں کو
- 5- Commonwealth Independent States
- 6- 9 نومبر 1989
- 7- روس
- 8- میخائل گورباچیف
- 9- چیک اور سلواکیہ
- 10- وارسا معاہدہ، 1955
- 11- روس، یوکرین
- 12- چین، پاکستان
- 13- سماج واد
- 14- پندرہ (15)
- 15- کثیرمخوری
- 16- 1917 کے سماج وادی انقلاب کے بعد
- 17- روس۔ یوکرین اور بیلاروس
- 18- بوزینا۔ ہرگز گوینا
- 19- (1)

20- سبھی شہریوں کے لیے رہن سہن کا کم سے کم ایک معیار مقرر تھا۔

21- وارسا

22- میخائل گورباچیف

23- 15

### دو نمبر والے سوالات کے جوابات

1- تکلیف پہنچا کر علاج کرنا۔ کمیونزم سے سرمایہ دارانہ نظام کی جانب رخ کرنا

2- تاجکستان، بوسنیا، بوسنیا، بوسنیا

3- 10 سال تک، 2001 میں

4- روس کا انقلاب — افغانستان کا بحران، برلن کی دیوار کا گرنا، سوویت یونین کا زوال

5- شاہ تھروپی ..... معاشی ماڈل

روس ..... سوویت یونین کا جانشین

بورس یا لیسٹن ..... روس کے صدر

وارسا ..... فوجی معاہدہ

6- شاہ تھروپی کو اختیار کرنے پر روس کے 90 فی صد صنعتوں کو نجی ہاتھوں یا کمپنیوں کو ادا کرنے پونے دامنوں پر بیچا گیا جسے تاریخ کی سب سے بڑی گیراج سیل کہا جاتا ہے۔

7- روسی کرنسی روبل کی قیمت میں گراوٹ ..... تمام معاشی نظام چرمر گیا

## چار نمبر والے سوالات کے جوابات

1- یاد رکھنے والے نکات میں ”سوویت یونین کے زوال کے اسباب“ دیکھیں۔

نمبر شمار	سوویت معاشی نظام	نمبر شمار	امریکی معاشی نظام
(i)	منصوبہ بند معاشی نظام، ریاست کا کنٹرول	(i)	ریاست کا کم سے کم مداخلت کرنا
(ii)	منصوبہ بند معاشی نظام	(ii)	آزاد معاشی مقابلہ آرائی پر قائم
(iii)	ذاتی سرمائے کا تصور نہیں	(iii)	ذاتی سرمائے کو اہمیت
(iv)	سماج وادی اصولوں پر قائم	(iv)	زیادہ سے زیادہ منافع کے سرمایہ دارانہ اصول
(v)	پیداوار کے ذرائع پر ریاست کا کنٹرول	(v)	پیداوار کے ذرائع پر بازار کا کنٹرول

3- گورباچیف نے لوگوں کے غصہ کو کم کرنے اور معاشی نظام کو سدھارنے کے لیے انتظامی ڈھانچہ میں ڈھیل دینے کا فیصلہ کیا لیکن نظام میں ڈھیل دیتے ہی شہریوں کی امیدوں کا سیلاب امنڈ پڑا جس پر قابو پانا مشکل ہو گیا۔

4- بھارت جیسے ملک کے لیے سوویت یونین کے زوال کے نتائج

(i) ترقی پذیر ملکوں کی گھریلو سیاست میں امریکہ کی مداخلت زیادہ بڑھ گئی

(ii) کمیونسٹ نظریہ کو شدید جھٹکا لگا ہے۔

(iii) دنیا کی اہم ترین تنظیموں جیسے World Bank & IMF پر امریکہ کا غلبہ

(iv) ملٹی نیشنل کمپنیوں کو بھارت و دیگر ترقی پذیر ممالک میں قدم جمانے کا موقعہ

5- نہیں، تبدیلی فوراً کیے جانے کی بانسبت آہستہ آہستہ ہونی چاہیے تھی۔ سوویت یونین میں حالات اچانک صدمہ حاصل کرنے کے نہیں تھے۔

6- میخائل گورباچیف 1985 میں کمیونسٹ پارٹی کے سیکریٹری جنرل بنے اور 1988 میں سوویت یونین کے صدر بن گئے۔ وہ مندرجہ ذیل وجوہات سے سوویت یونین میں سدھار چاہتے تھے۔

1- سوویت یونین میں اطلاعاتی اور تکنیکی وسعت کے لیے

2- سوویت معیشت کو زیادہ مضبوط بنانے کے لیے



3۔ سیاسی نظام کو زیادہ جوادہ بنانے کے لیے اور زیادہ جمہوری بنانے کے لیے

4۔ مغربی ممالک کے ساتھ رشتوں کو مضبوط کرنے کے لیے

### پانچ نمبر والے سوالات کے جوابات

- 1۔ روبل
- 2۔ زمین پر ریاست کی ملکیت اور زرعی کام لوگوں کے ذریعے اجتماعی شکل میں ریاست کے کنٹرول میں کرنا۔
- 3۔ شاک تھیرپی
- 4۔ کمیونزم سے سرمایہ دارانہ نظام کی طرف جانے کا خاص ماڈل

### چھ نمبر والے سوالات کے جوابات

- 1۔ بین الاقوامی سطح پر دنیا میں ناکوی مستقل دشمن ہوتا ہے اور نہ ہی مستقل دوست۔ صرف قومی مفاد ہی سب سے اوپر ہوتا ہے۔ لہذا بین الاقوامی تبدیلی کے سبب ہر ملک کے لیے لازمی ہے کہ وہ خود کو تبدیلی کے مطابق ڈھال سکے۔ بھارت نے بھی عالمی نظام میں تبدیلی کے تحت خود کو تبدیل کیا ہے۔ روس کے ساتھ بھارت کے تعلقات دوستانہ اور مددگار رہے ہیں لیکن اپنی ترقی کے لیے بھارت کو امریکہ کے ساتھ بھی اپنے خوشگوار تعلقات قائم رکھنے ضروری ہیں۔ بھارت امریکہ کی پالیسیوں کی بھی حمایت کر رہا ہے۔ بھارت بھی اپنے تعلقات امریکہ کے ساتھ مضبوط اور بہتر بنانا چاہتا ہے۔ لیکن روس کے ساتھ بھی بھارت اپنے تعلقات کو بہتر بنانے ہوئے ہے۔
- 2۔ یاد رکھنے لائق نکات میں دیکھیں
- 3۔ یاد رکھنے لائق نکات میں دیکھیں
- 4۔ 1۔ مشرقی یورپ اور سوویت یونین کی معیشت کو مجموعی طور سے دوسری دنیا کا نام دیا گیا جو کہ اس کی طاقت کا متعارف تھا۔  
2۔ وار سائیکٹ فوجی گٹھ بندھن کا کنٹرول سوویت یونین کے پاس تھا۔  
3۔ سوویت معیشت دنیا کی معیشت میں کافی آگے تھی۔  
4۔ ترقی یافتہ مواصلاتی نظام توانائی کے وسائل، تیل، لوہا، اور فولاد کے ترقی یافتہ ذخیروں کا ہونا، اور ملک کے دور دراز حصوں پر پہنچ ہونا۔  
4۔ پیداوار میں خود انحصاری جس میں پن سے لیکر کارکی پیداوار بھی گھریلو بازاروں میں کی جاتی تھی۔

# باب۔ تین

## عالمی سیاست میں امریکہ کی سرداری

### یاد رکھنے لائق نکات:

- امریکی غلبہ یاد بدیہ کی شروعات 1991 میں ہوئی جب سوویت یونین کا زوال ہو گیا اور دنیا ایک محوری ہو گئی۔
  - اگست 1990 میں عراق کے صدر صدام حسین نے اپنے پڑوسی ملک کویت پر قبضہ کر لیا۔ اقوام متحدہ کے ذریعے عراق کے خلاف طاقت کے استعمال کی اجازت دیے جانے کو امریکی صدر جارج بش نے اسے نئے عالمی نظام سے منسوب کیا۔
  - غلبہ (دبدبہ) لفظ کے معنی سبھی میدانوں جیسے فوجی، معاشی، سیاسی اور ثقافتی میدانوں میں بین الاقوامی سطح پر ایک ہی طاقت کا مرکز ہونا
  - امریکی صدر بل کلنٹن لگا تار (1992 سے 1998) دو مرتبہ صدر کے عہدے پر رہے۔ انھوں نے امریکی جمہوریت کو بڑھا دیا، آب و ہوا میں تبدیلی اور عالمی تجارت جیسے مدعوں پر ہی اپنے خیالات کو مرکوز رکھتے ہوئے امریکہ کو معاشی طور پر مضبوط کیا۔
- امریکہ کے ذریعے چلائی گئیں فوجی مہم/کارروائی

فوجی مہم کا نام	امریکی صدر کا نام	سال	تفصیل/کس کے خلاف کارروائی/مہم چلائی گئی
operation Desert Storm (طوفان دشت کی مہم)	جارج بش (سینئر)	1991	34 ممالک کی زبردست فوج نے مل کر عراق کے خلاف جنگ چھیڑی اور اس کو شکست دے دی۔ اسے خلیج کی پہیلی جنگ، کمپیوٹر جنگ یا ویڈیو گیم وار بھی کہا جاتا ہے
Operation Infinite Reach (لامحدود تحقیق کی مہم)	بل کلنٹن	1998	نیروبی (کینیا) اور دارالسلام (تنزانیہ) کیا امریکی سفارت خانوں پر بمباری کے جواب میں سوڈان و افغانستان میں القاعدہ کے ٹھکانوں پر کروڑوں میزائلوں سے حملہ
Operation Enduring Freedom (پائیدار آزادی کی مہم)	جارج ڈبلیو بوش	2001	9/11 کے واقعہ کے ردعمل میں القاعدہ اور افغانستان میں طالبان حکومت کے خلاف دنیا میں دہشت گردی کے خلاف عالم گیر جنگ

اقوام متحدہ کی منظوری کے بغیر عراق پر حملہ۔ سلامتی کونسل کے ذریعے اس حملہ کی تنقید بھی کی گئی	2003	جارج ڈبلیو بوش	Operation Iraqi Freedom (عراق کی آزادی کی مہم)
---	------	----------------	---

- 11/ ستمبر 2001 کے دن 19 بریغالیوں کے ذریعے جن کا تعلق القاعدہ دہشت گرد گروپ سے مانا گیا۔ 14 امریکی تجارتی طیاروں پر ان کے اڑان بھرتے ہی قبضہ کر لیا گیا۔ ایک طیارہ نیویارک میں عالمی تجارتی مرکز کے شمالی اور جنوبی ٹاور سے ٹکرایا۔ اسے 9/11 کا واقعہ کہا گیا۔ اس حملے میں تقریباً تین ہزار لوگ مارے گئے جس کے ردعمل میں امریکہ نے دہشت گردی کے خلاف عالمی جنگ کا اعلان کیا گیا۔
  - عراق کی آزادی کی مہم کو فوجی اور سیاسی سطح پر ناکام مانا گیا کیوں کہ اس میں تین ہزار امریکی فوجی، بڑی تعداد میں عراقی فوج اور تقریباً پچاس ہزار بے قصور شہری مارے گئے تھے۔
  - امریکی فوج کا خرچ و فوجی ساختی قوت اتنی زیادہ ہے کہ کسی بھی ملک کے لیے اس معاملہ میں امریکہ کی برابری کر پانانی الحال ممکن نہیں۔
  - امریکہ کی فوجی طاقت، امریکہ کی ساختی قوت جس میں سمندری تجارتی راستے اور انٹرنیٹ وغیرہ شامل ہیں۔ اس کے علاوہ MBA کی ڈگری اور امریکی ڈالر کا اثر اس کے معاشی دبدبہ کو بڑھا دیتے ہیں۔
  - برٹین ووڈ نظام کے ادارے، بین الاقوامی مالیاتی فنڈ اور عالمی بینک پر بھی امریکی دبدبہ قائم ہے۔
  - نیلی جینز، میک ڈونلڈ وغیرہ امریکی ثقافتی دبدبہ کی مثال ہیں جس میں نظریہ، کھانا پینا، رہن سہن، رسم و رواج اور زبان کی سطح پر امریکی دبدبہ قائم ہو گیا ہے۔ اس کے تحت زور بردستی سے نہیں بلکہ رضامندی سے بات منوائی جاتی ہے۔
- امریکی طاقت کے راستے میں تین اہم رکاوٹیں ہیں:

- امریکی تنظیمی بناوٹ جس میں حکومت کے تینوں اعضا ایک دوسرے پر کنٹرول رکھتے ہوئے آزادانہ طور پر کام کرتے ہیں۔
- امریکی سماج کی شکل بھی عجیب ہے۔ یہ امریکہ کی خارجہ فوجی کارروائی پر روک لگانے میں اہم رول ادا کرتی ہے۔
- ناٹو: ان ممالک میں بازاری بنیاد پر معاشی نظام چلتا ہے۔ ناٹو میں شامل ممالک امریکی دبدبہ پر روک لگا سکتے ہیں

## امریکی غلبہ/دبدبہ سے بچنے کی تراکیب

- بینڈ ویگن کی پالیسی: اس کے معنی دبدبہ والے موقعوں کا فائدہ اٹھاتے ہوئے ترقی کرنا اور امریکی غلبہ کے خلاف جانے کے بجائے اس کی قیادت یا سرداری کو اپنے مفاد میں استعمال کیا جائے۔
- اپنے کو چھپا لینے کی پالیسی تاکہ غلبہ والے ممالک کی نظر نہ پڑے
- ریاستی سطح کی تنظیمیں جیسے ذاتی خدماتی تنظیمیں، سماجی تحریکیں اور رائے عامہ کا آپسی تعلق، میڈیا، کلاکار اور دانشمندانہ کرا امریکی غلبہ کی مخالفت کریں۔
- بھارت اور امریکی تعلقات خاص طور سے سرد جنگ کے ختم ہو جانے کے بعد کافی اہم ہو گئے ہیں۔ بھارت نے آزادانہ تجارت و عالم کاری کی پالیسی اختیار کر کے اپنا اہم مقام قائم کیا جس کے نتائج آج ظاہر ہو رہے ہیں۔
- امریکہ آج بھارت کا سب سے بڑا تجارتی حصہ دار بن رہا ہے۔
- امریکہ کے ہر صدر کا بھارت سے تعلق مضبوط بنانے کے لیے بھارت کا سفر کرنا
- امریکہ میں رہنے والے بھارت کے لوگوں کا Silicon Valley میں دبدبہ
- اعلیٰ ٹکنالوجی کی 15 فی صد بڑی مہمات ہندوستانی امریکیوں کے ہاتھوں میں ہیں۔
- براک اوباما کے 2015 کے ہندوستان دورہ کے دوران تحفظی سودوں سے متعلق سمجھوتوں کی شروعات کی گئی اور کئی میدانوں میں ہندوستان کو قرض دینے کا اعلان کیا گیا۔
- موجودہ امریکی صدر ڈونلڈ ٹرمپ کی آٹ سٹینگ پالیسی سے ہندوستان کے تجارتی مفاد متاثر ہونے کے امکانات ہیں۔ حال میں مختلف عالمی منجوں پر امریکہ کے رائٹ ٹریپی اور ہندوستان کے وزیر اعظم کے بیچ ہوئی ملاقات اور بات چیت کو دونوں ممالک کے بیچ معاشی، سیاسی، ثقافتی اور فوجی تعلقات کو مضبوط کرنے کے سمت میں مثبت شکل میں دیکھا جاسکتا ہے۔

## ایک نمبر والے سوالات

- 1- امریکی غلبہ/دبدبہ کی شروعات کب ہوئی؟
- 2- پینٹاگون کیا ہے؟
- 3- IMF کو تفصیل سے لکھیں۔

- 4- امریکی غلبہ سے بچنے کا کوئی ایک طریقہ بتائیں۔
- 5- جملے کو صحیح کر کے لکھیں:
- MBA کی ڈگری امریکہ کے فوجی غلبہ کو ناپا کر رہی ہے۔
- 6- 9/11 کے واقعہ کے لیے کس دہشت گرد جماعت کو ذمہ دار مانا گیا؟
- 7- پہلی خلیج جنگ کب ہوئی؟
- 8- ”طوفان دشت کی مہم“ نام کی فوجی کارروائی کی قیادت کس نے کی؟
- 9- دہشت گردی کے خلاف چلائی گئی عالمی مہم کی جنگ کو کس نام سے جانا جاتا ہے؟
- 10- امریکہ کی قیادت میں ”رضامندوں کا مخلوط اتحاد“ کس ملک کے خلاف بنا؟
- 11- کون سی جنگ ”ویڈیو گیم جنگ“ کے نام سے جانی جاتی ہے؟
- 12- بیڈ ویگن پالیسی کیا ہے؟
- 13- جدید عالمی نظام کیا ہے؟
- 14- ”لامحدود تحقیق کی مہم“ کس کے خلاف چلائی گئی؟
- 15- اسمارٹ بم سے کیا مراد ہے؟
- 16- برٹین و ڈنمارک کو مختصر بتائیں۔
- 17- خالی جگہ کو بھریں۔
- (1) ..... ممالک کی ملی جلی اور ..... فوجیوں کی بھاری بھر کم فون نے عراق کے خلاف مورچہ کھولا
- (2) کیوبا کے نزدیک امریکی فوج کا ایک ٹھکانہ ..... میں ہے۔
- (a) جملے کو صحیح کر دو بارہ لکھیں۔
- خلیجی جنگ کو آپریشن اینڈ یورنگ فریڈم کے نام سے جانا جاتا ہے۔
- (b) عالمی معیشت میں ہندوستان کی حصہ داری %28 ہے۔

صحیح جواب کا انتخاب کریں:

20- پہلی جنگ عظیم میں عراق کے تقریباً شہری مارے گئے۔

(1) 3000 (2) 5000 (3) 20,000 (4) 50000

21- آپریشن عراق فریڈم میں ممالک شامل ہوئے۔

(1) 35 سے زیادہ (2) 34 سے زیادہ

(3) 40 سے کم (4) 50 سے زیادہ

### دو نمبر والے سوالات

1- پہلا بزنس اسکول کب اور کہاں بنا؟

2- دبدبہ/غلبہ سے آپ کیا سمجھتے ہیں؟

3- صدر بل کلنٹن نے اپنی صدارتی مدت کے دوران کن مدعوں پر زیادہ زور دیا؟

4- پہلی خلیج جنگ کس کے درمیان لڑی گئی؟

5- 9/11 کے واقعہ سے آپ کے خیال میں امریکی سوچ میں کیا تبدیلی آئی؟

6- بھارت اور امریکہ کے درمیان دوستی کو ظاہر کرنے والے دو عناصر بیان کیجیے۔

7- ”آپریشن عراقی فریڈم“ کے عراق پر کیے گئے حملے کا حقیقی مقصد کیا تھا؟

8- ”پائیدار آزادی کی مہم“ کے تحت کیا کیا قدم اٹھائے گئے؟

9- مارشل منصوبہ کیا ہے؟

10- ملان کریں۔

1- آپریشن ڈیزرٹ اسٹارم A بل کلنٹن

2- آپریشن انفانٹنٹ ریج B 9/11 کے حادثہ کے بعد

3- آپریشن اینڈیورنگ فریڈم C جارج بوش سنئیر

4- آپریشن عراقی فریڈم D جارج ڈبلیو بوش جونیئر

## چار نمبر والے سوالات

- 1- امریکی غلبہ کو فوجی اور ثقافتی معنوں میں بیان کیجیے۔
- 2- 11/ ستمبر 2001 کو امریکہ پر دہشت گردانہ حملہ کیوں ہوا؟ اس حملے پر امریکہ کا کیا رد عمل سامنے آیا؟
- 3- امریکی غلبہ سے نپٹنے کے لیے مختلف طریقوں پر بحث کیجیے۔
- 4- دنیا کے معاشی نظام میں امریکہ کا کیا مقام ہے؟ مثالوں کے ساتھ بیان کیجیے۔

## پانچ نمبر والے سوالات

- 1- دیے گئے پیرا گراف سے مطالعہ کر کے سوالات کے جواب دیں۔
 


”کچھ لوگ مانتے ہیں کہ امریکی دبدبہ کی مزاحمت کوئی ملک یا کئی ملکوں کا گروپ نہیں کر پائے گا۔ کیوں کہ آج بھی بہت سے ملک امریکی طاقت کے سامنے بے بس ہیں۔ یہ لوگ مانتے ہیں کہ غیر ریاستی اداروں کو امریکی دبدبہ کی مزاحمت کے لیے آگے آنا ہوگا۔ امریکی قیادت/غلبہ کو اس مزاحمت کا سامنا معاشی اور تہذیبی محاذوں پر کرنا ہوگا“

  - (i) امریکی قیادت/غلبہ کی مزاحمت کون کر سکتا ہے؟
  - (ii) غیر ریاستی اداروں سے کیا مراد ہے؟
  - (iii) امریکی قیادت کی مزاحمت کس طرح کی جاسکتی ہے؟
- 2- مندرجہ ذیل پیرا گراف کو دھیان سے پڑھیں اور سوالات کے جواب دیں۔
 

”1992 میں بل کلنٹن امریکہ کے صدر بنے۔ کلنٹن نے خارجہ پالیسی کے بدلے داخلہ پالیسی (گھریلو پالیسی) کو الیکشن مہم کا حصہ بنایا۔ کلنٹن 1996 میں دوبارہ الیکشن جیتے اور اس طرح وہ آٹھ سالوں تک صدر کے عہدے پر رہے۔ کلنٹن کے زمانے میں ایسا لگتا تھا کہ امریکہ نے اپنے آپ کو گھریلو معاملات تک ہی محدود کر لیا ہے۔ خارجہ پالیسی کے معاملے میں کلنٹن نے فوجی طاقت اور سلامتی جیسی اہم سیاست کی جگہ جمہوریت کو فروغ دینے، ماحولیاتی تبدیلی اور عالمی تجارت کی جانب زیادہ توجہ دی“

  - (i) 1992 میں امریکی صدر بل کلنٹن کس پارٹی کے امیدوار تھے اور انہوں نے کس امیدوار کو ہرایا تھا؟
  - (ii) بل کلنٹن کے الیکشن مہم کے خاص مددے کیا تھے؟
  - (iii) بل کلنٹن نے کن مدعوں کو اپنے دور اقتدار میں اٹھایا؟

3- دیے گئے کارٹون کو غور سے دیکھیں اور مندرجہ ذیل سوالات کے جواب دیں:



- 1 (i) یہ طاقتور فوجی کون سے ملک کی نمائندگی کرتا ہے؟
- 2 (ii) فوجی کی وردی پر اتنے ممالک کے نام کیوں لکھے گئے ہیں؟
- 2 (iii) یہ کارٹون بین الاقوامی برادری کو کیا پیغام دیتا ہے؟





4- اوپردی گئی تصویر کا مطالعہ کریں اور سوالات کے جواب دیں۔

- 1- کارٹون میں عالمی عظیم طاقت کی شکل میں کسے دیکھا گیا ہے؟
- 2- موجودہ عالمی منج پر امریکہ کے غلبہ کو کس طرح چنوتی مل رہی ہے؟
- 3- اگر یہ تصویر آپ بناتے تو اگلی عظیم طاقت کی شکل میں کس ملک کو دکھاتے؟

5-



11 ستمبر 2001 میں نیویارک کی عالمی تجارتی مرکز کی جڑواں عمارتوں پر حملہ کو عصری تاریخ میں ایک اہم موڑ اور خط فاصل کے طور پر دیکھا گیا ہے۔

## چہ نمبر والے سوالات

- 1- امریکی قیادت/غلبہ کی راہ میں تین مزاحمتیں کون سی ہیں؟ واضح کیجیے۔ (Imp)
- 2- امریکی غلبہ کو اس کی فوجی طاقت، ساختی بناوٹ اور ثقافتی دبدبہ کی شکل میں بیان کیجیے۔ (Imp)
- 3- امریکہ کے ساتھ بھارت کے تعلقات کس طرح کے ہونے چاہئیں؟ اس بارے میں بھارت کے اندر تین مختلف نظریات کا تجزیہ کیجیے۔
- 4- ”امریکہ کی صنعتی ترقی بھارت کی محنت کا پھل ہے“ اس بیان کی حمایت میں تفصیل سے اپنے خیالات کا اظہار کریں۔
- 5- ”کیا بھارت-امریکی غیر فوجی ایٹمی معاہدہ بھارت اور امریکی تعلقات میں میل کا پتھر ہے؟“ اپنے خیالات کا اظہار کریں۔
- 6- ریاستہائے متحدہ امریکہ کے غلبہ کے دنیا پر سیاسی اثرات کا تجزیہ کریں۔

## ایک نمبر والے سوالات کے جوابات

- 1- 1991 میں سوویت یونین کے زوال کے بعد
- 2- امریکہ کا محکمہ دفاع
- 3- بین الاقوامی مالیاتی فنڈ (International Monetary Fund)
- 4- اپنے کوچھپالینے کی پالیسی
- 5- MBA کی ڈگری امریکہ کے معاشی دبدبہ کو ظاہر کرتی ہے
- 6- القاعدہ
- 7- 1991 میں
- 8- امریکی جنرل نارمن شوازکوف
- 9- پائیدار آزادی کی مہم
- 10- عراق
- 11- پہلی خلیج جنگ (1991)
- 12- دبدبہ والے ملک مخالفت کرنے کے بجائے اس کی قیادت یا سرداری کو اپنے مفاد میں استعمال کرنا

- 13- اقوام متحدہ کے ذریعے عراق کے خلاف فوجی کارروائی کو منظوری دینا
- 14- القاعدہ کے خلاف
- 15- پہلی خلیجی جنگ میں امریکہ کے ذریعے استعمال میں لائے گئے بموں کو تشہیری انداز میں اسمارٹ بم کہا گیا۔
- 16- عالمی تجارت کے اصول و قوانین امریکی مفاد کے مطابق طے کرنا۔
- 17- A 34 , 660000
- B Guantanamo Bay
- 18- Sea lane of Communications
- 19- (a) خلیجی جنگ کو آپریشن ڈیزرٹ اسٹارم کے نام سے جانا جاتا ہے۔
- (b) عالمی معیشت میں امریکہ کی حصہ داری 28% ہے۔
- 20- صحیح انتخاب 50,000
- 21- 40 سے زیادہ

## دو نمبر والے سوالات کے جوابات

- 1- یونیورسٹی آف پینسلوانیا میں واہرٹن اسکول کے نام 1881 میں MBA کا نصاب 1900 سے شروع ہوا۔
- 2- دوسرے کے برتاؤ کو متاثر یا کنٹرول کرنے کی صلاحیت جس سے وہ ہر بات کو تسلیم کرے دبدبہ کہلاتا ہے۔
- 3- جمہوریت کو فروغ، ماحولیاتی تبدیلی اور عالمی تجارت جیسے مدعوں پر زور دیا گیا۔
- 4- عراق اور امریکہ کی ذریعے 34 ممالک سے اٹھائی گئی فوج کے درمیان۔
- 5- دہشت گردی کو ایک عالمی جنگ یا بین الاقوامی مسئلہ کی شکل میں لینا
- 6- بھارت اور امریکہ کے درمیان غیر فوجی ایٹمی معاہدہ، دہشت گردی کو ایک بین الاقوامی مسئلہ ماننا
- 7- عراق کے تیل کے ذخائر پر قبضہ، عراق میں امریکہ کی من پسند حکومت قائم کرنا
- 8- القاعدہ اور طالبان کو نشانہ بنانا، مشکوک لوگوں کو گرفتار کر کے گوانتانامو جیل میں رکھا گیا۔

9- امریکہ کے ذریعے یورپ کے ممالک کو معاشی مدد دی گئی تھی اسے ہی مارشل منصوبہ کہا جاتا ہے۔

10- 1- C 2- A 3- B 4- D

### چار نمبر والے سوالات کے جوابات

- 1- یاد رکھنے لائق نکات کا مطالعہ کریں۔
- 2- تمام دنیا کے لوگوں اور حکومتوں کا دھیان اپنی جانب مبذول کرنے کے لیے اور لامحدود تحقیق کی مہم کے ردعمل کی شکل میں۔
  - امریکہ نے اس کے خلاف عالمی جنگ شروع کر دی
  - تحقیقات کے نام پر سلامتی کی شکل میں امریکہ میں داخل ہونے والے یہاں تک کہ جن سفارت خانہ کے لوگوں کو رعایت حاصل ہوتی ہے جانچ کے دائرے میں لے لیا گیا۔
- 3- (i) بیڈوینگن پالیسی..... اپنے کو چھپالینے کی پالیسی
- (ii) میڈیا، غیر حکومتی تنظیموں، سماجی تحریکوں، دانشور، فن کار اور ادیبوں کے ذریعے
- (iii) ترقی یافتہ اور بڑے ممالک جیسے چین، روس اور بھارت وغیرہ کے ذریعے مل جل کر کوششیں کی جائیں۔
- 4- عالمی معاشی نظام میں امریکہ کی حصہ داری 28 فی صد ہے
  - ہرمیدان میں امریکہ کی کوئی نہ کوئی کمپنی تین کمپنیوں میں سے ایک ہے۔
  - اہم بین الاقوامی معاشی تنظیمیں جیسے IMF، عالمی بینک اور عالمی تجارتی تنظیم پر امریکہ کا غلبہ/دبدبہ قائم ہے۔
  - World Wide Web یا انٹرنیٹ اور MBA کی ڈگری پر امریکہ کا دبدبہ۔

### پانچ نمبر والے سوالات کے جوابات

- 1- (i) غیر ریاستی اداروں
  - (ii) ذاتی خدمات کی تنظیمیں، میڈیا اور دانشور وغیرہ
  - (iii) یہ ادارے آپس میں مل کر ایک عالمی نیٹ ورک قائم کر سکتے ہیں جس میں امریکی شہری بھی شامل ہو سکتے ہیں
- 2- (i) ڈیموکریٹک پارٹی، جارج بوش سینئر


- (ii) گھریلو شکل میں امریکہ کو مضبوط بنانا
- (iii) جمہوریت کو فروغ دینا، ماحولیاتی تبدیلی اور عالمی تجارت جیسے اہم مددے پر اپنی توجہ مرکوز کی۔
- 3- (i) امریکہ
- (ii) یہ نام ان ملکوں کے ہیں جن پر امریکہ حملہ کر چکا ہے اور عظیم طاقت کی شکل میں اپنا بددہ بنا کر چکا ہے
- (iii) آج کے دور میں امریکہ دنیا کی ایک عظیم طاقت ہے اور دنیا کے کسی بھی حصے میں اپنے مفاد کو آگے بڑھا سکتا ہے۔
- 4- (i) امریکہ اور چین
- (ii) چین کی معیشت - یورپین یونین کا بڑھتا اثر - روس کی معاشی اور فوجی طاقت
- (iii) طلبا خود جواب دیں
- 5- 1- World Trade Tower 11 ستمبر 2001
- 2- امریکہ - القائدہ
- 3- آپریشن ڈیزرٹ اسٹارم
- چھ نمبر والے سوالات کے جوابات**
- 1- 1- امریکی ساخت کی بناوٹ
- 2- امریکی سماج کی آزاد شکل
- 3- ناٹو
- 2- یاد رکھنے لائق نکات کا مطالعہ کریں
- 3- (i) بھارت کو امریکہ سے دوری بنائے رکھنا چاہیے اور اسے اپنی فوجی طاقت پر ہی توجہ مرکوز کرنی چاہیے۔
- (ii) بھارت کو امریکی دبدبہ اور آپسی سمجھ بوجھ کا اپنے مفاد میں ہی فائدہ اٹھانا چاہیے۔ امریکی مخالفت کرنا بے کار ہوگا جس سے بھارت کو ہی نقصان پہنچے گا۔
- (iii) بھارت کو ترقی پذیر ممالک کا گٹھ بندھن بنانے میں قیادت کرنی چاہیے۔

- 4- ■ سافٹ ویئر کے میدان میں بھارت کی کل پیداوار کا 65 فی صد حصہ امریکہ کو جاتا ہے
- بونگ کے 35 فی صد تکنیکی ملازمین ہندوستانی نسل کے ہیں۔
- بھارت کے تقریباً تین لاکھ شہری امریکہ کی سکلی کون ویلی میں کام کرتے ہیں۔
- اعلیٰ تکنالوجی کے میدان میں 15 فی صد کمپنیوں کی شروعات امریکہ میں رہ رہے بھارت کے لوگوں نے کی ہے
- 5- ■ ہاں
- تو انائی ضروریات کا پورا ہونا
- عالمی سیاست میں بھارت کا قدر بڑھ رہا ہے اور اس کی طاقت میں بھی اضافہ ہو رہا ہے
- بھارت اور امریکہ کے دوستانہ تعلقات کو مضبوطی حاصل ہو رہی ہے
- دیگر ترقی یافتہ ممالک جیسے فرانس کے ساتھ بھی اسی طرح کا معاہدہ کرنا
- 6- ■ یاد رکھنے لائق نکات دیکھیں۔

## باب۔ چار

# طاقت کے متبادل مراکز

### طاقت کے متبادل مراکز



- سرد جنگ کے بعد دنیا میں عالمی سطح پر کچھ ایسی تنظیموں اور ممالک نے بین الاقوامی سیاست میں اہم کردار نبھانا شروع کیا جس سے یہ واضح ہونے لگا کہ یہ تنظیمیں یا ممالک امریکہ کے سامنے متبادل کی شکل میں دیکھے جاسکتے ہیں۔
- امریکہ نے یورپ کی معاشی نظام کی تشکیل نو کے لیے بہت مدد کی تھی۔ اسے مارشل پلان کے نام سے جانا جاتا ہے۔
- 1948 میں مارشل پلان کے تحت تنظیم برائے یورپی معاشی تعاون کو قائم کیا گیا جس کے ذریعے مغربی یورپ کے ملکوں کو معاشی امداد دی گئی۔
- 1957 میں چھ ملکوں فرانس، مغربی جرمنی، اٹلی، بیلجیم، نیدرلینڈ اور لکسمبرگ نے روم معاہدے کے ذریعے یورپی معاشی کمیونٹی (EEC) اور یورپی ایٹمی توانائی کمیونٹی کی تشکیل کی۔
- جون 1979 میں یورپی پارلیمنٹ کی تشکیل کے بعد یورپی معاشی کمیونٹی نے سیاسی شکل اختیار کرنا شروع کر دی
- فروری 1992 میں ماسٹر چٹ معاہدے کے ذریعے یوروپین یونین کی تشکیل ہوئی
- یوروپین یونین کے مقاصد
  - ایک جیسی خارجہ و دفاعی پالیسی
  - اندرونی معاملات اور انصاف سے جڑے معاملات پر ایک دوسرے کی مدد
  - ایک جیسی کرنسی کا استعمال
  - بغیر ویزا کے ایک دوسرے ملک میں آنا جانا

## یوروپین یونین کی خصوصیات

- یوروپین یونین نے معاشی امداد والی تنظیم سے بدل کر سیاسی تنظیم کی شکل اختیار کر لی ہے
- یوروپین یونین ایک ملکی ریاست کی حیثیت سے کام کر رہی ہے
- یوروپین یونین کا اپنا جھنڈا، اپنا ترانہ، یوم تاسیس اور کرنسی ہے
- دوسرے ممالک سے تعلقات کے معاملہ میں اس نے کافی حد تک مساوی خارجہ پالیسی اور دفاعی پالیسی اختیار کی ہے۔
- یوروپین یونین کا جھنڈا 121 سونے کے ستاروں کے گھیرے کی شکل میں روایتی طور سے تکمیل اور اتحاد و اتفاق کی نشانی ہیں۔

## یوروپین یونین کو طاقتور بنانے والے عناصر یا خصوصیات

- 2005 میں یہ دنیا کی سب سے بڑی معاشی نظام کی شکل تھی اور اس کی گھریلو پیداوار امریکہ سے بھی زیادہ تھی۔
- اس کی کرنسی یورو، امریکی ڈالر کی قیادت کے لیے خطرہ بن گئی ہے۔
- دنیاوی تجارت میں اس کی حصہ داری امریکہ سے تین گنا زیادہ ہے۔
- یہ عالمی تجارتی تنظیم کے اندر ایک اہم گروپ کی شکل میں کام کرتی ہے۔
- اس کی معاشی طاقت کا اثر ایشیا اور افریقہ کے ممالک پر ہے۔
- اس کے ممبران ملک برطانیہ اور فرانس سلامتی کونسل کے مستقل ممبر ہیں۔
- یوروپین یونین امریکہ سمیت سبھی ملکوں کی پالیسیوں کو متاثر کرتی ہے۔
- یوروپین یونین کے دو ملک برطانیہ اور فرانس ایٹمی طاقت سے مالا مال ہیں۔
- فوجی طاقت میں یوروپین یونین کے پاس دنیا کی سب سے بڑی فوج ہے۔ اس کا کل دفاعی بجٹ امریکہ کے بعد سب سے زیادہ ہے۔



## یوروپین یونین کی کمزوریاں:

- اس کے ممبران ممالک کی اپنی خارجہ اور دفاعی پالیسی ہے جو کئی بار ایک دوسرے کے خلاف بھی ہوتی ہے جیسے عراق پر حملے کے معاملے میں
- یورپ کے کچھ حصوں میں یورو کرنسی کو لاگو کرنے کو لے کر ناراضگی بھی ہے۔
- ڈنمارک اور سویڈن نے ماسٹریٹ معاہدہ اور یورو کرنسی کو اختیار کرنے کی مزاحمت کی۔
- یوروپین یونین کے کئی ممبر ممالک امریکی گٹھ بندھن میں تھے۔
- برطانیہ یوروپین یونین سے جون 2016 میں رائے شماری کے ذریعے الگ ہو گیا ہے۔

## جنوبی مشرقی ایشیائی قوموں کی تنظیم (ASEAN)

- 1- اگست 1967 میں اس علاقے کے پانچ ملکوں انڈونیشیا، فلپینس، سنگاپور اور تھائی لینڈ نے بنکاک قرارداد پر دستخط کر کے ASEAN کے قیام کا اعلان کیا۔
- 2- بعد میں برونائی، دارالسلام، ویت نام، لاؤس، میانمار اور کمبوڈیا کو شامل کیا گیا۔ اور ان کی تعداد 10 ہو گئی۔

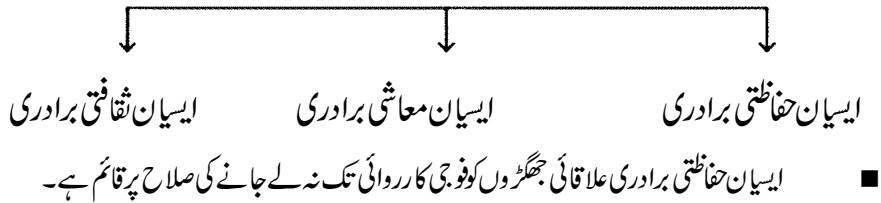
## ایسیان ASEAN کے مقاصد

- ممبر ممالک کی معاشی ترقی کو فروغ دینا
- اس کے ذریعے سماجی اور ثقافتی ترقی حاصل کرنا
- قانون کی حکومت اور اقوام متحدہ کے اصولوں کو اختیار کر کے علاقائی امن و امان اور اقتدار کو بڑھا دینا۔

## ایسیان انداز یا طریقہ کار (ASEAN WAY)

ایسیان ممالک کا اپنا غیر رسمی، غیر تنازعاتی اور باہمی تعاون کے ساتھ کام کرنے کا انداز ہے جس کو ایسیان انداز یا طریقہ کار (ASEAN WAY) کہا جاتا ہے۔

### ایسیان کے اہم ستون



- ایسیان معاشی برادری کا مقصد ایسیان ممبر ممالک کا مشترکہ بازار، صنعتی مرکز کا قیام اور علاقے کی سماجی اور معاشی ترقی میں تعاون شامل ہے۔
- ایسیان ثقافتی برادری کا مقصد ہے کہ ایسیان ممالک کے درمیان ٹکراؤ کی جگہ بات چیت اور تعاون کو بڑھاوا دیا جائے۔

### ● ایسیان کی اہمیت یا حقیقت

- ایسیان کی موجودہ معاشی طاقت خاص طور سے بھارت اور چین جیسے تیزی سے ترقی کرنے والے ایشیائی ملکوں میں تجارت کو ظاہر کرتی ہے۔
- ایسیان نے ایک آزاد تجارتی علاقہ (FTA) بنانے پر زور دیا ہے جو سرمایہ کاری، خدمات اور مزدوروں کے لیے واقف ہو۔
- امریکہ اور چین نے FTA کے معاملے میں ایسیان سے گفتگو کرنے میں دلچسپی ظاہر کی ہے۔
- 1991 کے بعد بھارت نے ”مشرق کی جانب“ کی پالیسی اختیار کی ہے۔
- بھارت ایسیان کے ساتھ بھی FTA کرنے کی کوشش کر رہا ہے۔ ہندوستان نے آسیان کے دو ملک سنگا پور اور تھائی لینڈ کے ساتھ آزاد تجارت کا سمجھوتہ کیا ہے۔
- یہ ایشیا کی واحد ایسی تنظیم ہے جو ایشیائی ملکوں اور عالمی طاقتوں کو سیاسی اور دفاعی معاملات پر بات چیت کے لیے اسٹیج فراہم کرتی ہے۔
- آسیان کی اپنی اصل طاقت اپنے ممبر ممالک معاون ممبروں اور غیر علاقائی تنظیموں کے بیچ بات چیت اور صلاح کرنے کی پالیسی سے ہے۔
- حال ہی میں بھارت کے وزیر اعظم نے ایسیان ملکوں کا دورہ کیا اور مختلف میدانوں میں تعاون کرنے پر معاہدے کیے۔ اور جو مشرق کی جانب دیکھو پالیسی کی جگہ Act East Policy شروع کی۔ اس کے تحت 2018 کی یوم جمہوریہ تقریب میں آسام ممالک کے سربراہ کو خصوصی مہمان کی شکل میں بلایا گیا تھا۔

### ● ماؤ کی قیادت میں چین کی ترقی

1949 کے انقلاب کے ذریعے چین میں سماج وادی حکومت کو قائم کیا گیا۔ شروع میں یہاں سماج وادی معاشی نظام کو اختیار

- کیا گیا لیکن اس کے سبب چین کو مندرہ ذیل مشکلات کا سامنا کرنا پڑا۔
- چین میں سماج وادی ماڈل کھڑا کرنے کے لیے ایک عظیم صنعتی معاشی نظام کا مقصد سامنے رکھا۔ اس مقصد کو حاصل کرنے کے لیے سبھی اداروں کو صنعتوں میں لگا دیا گیا۔
- چین اپنے شہریوں کو روزگار، صحت سے متعلق سہولیات اور سماجی فلاحی منصوبوں میں فائدے پہنچانے میں ترقی یافتہ ممالک سے بھی آگے نکل گیا لیکن چین کی بڑھتی ہوئی آبادی ترقی میں رکاوٹ پیدا کر رہی تھی۔
- کھیتی باڑی پرانے طریقوں پر قائم ہونے کی وجہ سے وہاں صنعتوں کی ضرورتوں کو پورا نہیں کر پارہی تھی۔

### ● چین میں اصلاحات کی شروعات

- چین نے 1972 میں امریکہ سے تعلقات قائم کر کے اپنی سیاسی اور معاشی خاموشی کو ختم کیا۔
- 1973 میں وزیر اعظم ڈوان لال نے زراعت، صنعت، فوج اور سائنسی ٹکنالوجی کے میدان میں جدیدیت کا اعلان کیا۔
- 1978 میں اس وقت کے چینی رہنما ڈینگ زیاننگ نے معاشی اصلاحات اور کھلے دروازے کی پالیسی کا اعلان کیا۔
- 1982 میں زراعت کو غیر ریاستی بنایا گیا۔
- 1998 میں صنعت بھی حکومت کے اثر سے آزاد ہو گئی۔ اس کے ساتھ ہی خصوصی معاشی علاقوں (SEZ) سے پابندیاں ہٹالی گئیں۔
- چین 2001 میں عالمی تجارتی تنظیم میں شامل ہو گیا۔ اس طرح دوسرے ممالک کے لیے اپنا معاشی نظام کھولنے کی جانب چین نے ایک قدم اور بڑھایا۔

### ● چین کی اصلاحات کا منفی پہلو

- چین کی معاشی ترقی کا فائدہ سماج کے سبھی لوگوں کو حاصل نہیں ہوا۔
- سرمایہ داری طریقوں کو اختیار کیے جانے سے وہاں بے روزگاری بڑھی ہے۔
- وہاں خواتین کے روزگار اور کام کرنے کے حالات تسلی بخش نہیں ہیں۔
- گاؤں اور شہر، ساحلی علاقوں اور اہم زمینی مقامات پر رہنے والے لوگوں کے درمیان آمدنی میں فرق بڑھ رہا ہے۔
- ترقی کے اہم طریقوں نے ماحولیات کو کافی نقصان پہنچایا ہے۔

■ چین میں انتظامیہ اور سماجی زندگی کے درمیان بدعنوانی میں اضافہ ہوا ہے۔

## ● چین کے ساتھ بھارت کے تعلقات

### تنازعات کے میدان میں:

- 1- 1950 میں چین کے ذریعے تبت کو ہڑپ لینے اور بھارت چین سرحد پر بستیاں قائم کرنے کے فیصلے سے دونوں ملکوں کے تعلقات خراب ہو گئے۔
- 2- چین نے 1962 میں لداخ اور اروناچل پر دہلیش پر اپنے دعویٰ کو زبردستی ثابت کرنے کے لیے بھارت پر حملہ کیا۔
- 3- چین کے ذریعے لگاتار پاکستان کی مدد کی جا رہی ہے۔
- 4- چین بھارت کے ایٹمی تجربات کی مخالفت کرتا ہے۔
- 5- بنگلہ دیش اور میانمار سے چین کے فوجی تعلقات کو بھارت کے مفاد کے خلاف مانا جاتا ہے۔
- 6- انجمن اقوام متحدہ نے دہشت گرد تنظیم جیش-اے-محمد پر پابندی لگانے والی تجویز کو پیش کیا۔ چین کے ذریعے ویٹو پاسور کا استعمال کرنے سے یہ تجویز رد ہو گئی۔
- 7- ہندوستان نے انظر مسعود کو دہشت گرد قرار دینے کے لیے UNO میں تجویز پیش کی جس پر چین نے ویٹو پاسور کا استعمال کیا۔
- 8- چین کا خود غرض منصوبہ One Belt one Road جو کہ Pak سے ہو کر گزرے گا۔ اسے ہندوستان کو گھیرنے کے طریقے کی شکل میں لیا جا رہا ہے۔
- 9- 2017 میں بھوٹان کے زمینی حصہ۔ لیکن ہندوستان کے لئے بہت اہم ڈوک لام پر قبضے کے دعوے کو لے کر دونوں ممالک کے بیچ لمبا تنازعہ چلا جس میں دونوں ممالک کے بیچ تعلقات کشیدہ ہو گئے۔ لیکن اس تنازعے کے حل کے لیے ہندوستان کی بے پناہ کوششوں اور ہندوستان کے رخ کو عالمی سطح پر سراہا گیا۔

## ● تعاون کا دور:-

- 1- 1970 کی دہائی میں چین کی قیادت بدل جانے سے اب بات چیت کے مدھے کی جگہ عام برتاؤ کی حقیقت اہم ہو رہی ہے
- 2- 1988 میں وزیر اعظم راجیو گاندھی نے چین کا دورہ کیا جس کے بعد سرحدی جھگڑے پر موجودہ صورت حال بنائے رکھنے کی شروعات ہوئی۔

- 3- دونوں ممالک نے ثقافتی، سائنسی اور تکنیکی میدانوں میں آپسی تعاون دیا ہے اور تجارت کے لیے چارپوسٹ کھولنے کے لیے معاہدے کیے ہیں۔
- 4- 1999 سے دو طرفہ تجارت 30 فی صدی سالانہ کی در سے بڑھ رہی ہے۔
- 5- دوسرے ممالک میں توانائی سودا حاصل کرنے کے معاملات میں بھی دونوں ملک آپسی تعاون کے ذریعے حل نکالنے کی کوششیں کر رہے ہیں۔
- 6- عالمی میدان میں بھارت اور چین نے عالمی تجارتی تنظیم جیسے دیگر بین الاقوامی معاشی تنظیموں کے ساتھ مساوی پالیسیاں اختیار کی ہیں۔

### ایک نمبر والے سوالات

- 1- مارشل پلان کے تحت 1948 میں کس تنظیم کی شروعات ہوئی؟
- 2- چین میں کس لیڈر نے اور کب ”کھلے دروازے“ کی پالیسی اختیار کی؟
- 3- چین کے کس وزیر اعظم کے زمانے میں جدیدیت کی چارتجاویز رکھی گئیں؟
- 4- ASEAN کا پورا نام لکھیں؟
- 5- یورپین یونین کی تشکیل کب اور کس معاہدے کے ذریعے ہوئی؟
- 6- بھارت نے ایسیان کے کن دو ملکوں کے ساتھ آزاد تجارت کا معاہدہ کیا؟
- 7- ایسیان نے ASEAN WAY کے ذریعے کن دو ملکوں کا ٹکراؤ ختم کیا؟
- 8- یورو (EURO) کرنسی کو ماننے کی مخالفت کن ملکوں نے کی؟
- 9- کب اور کس معاہدے کے ذریعے یورپی کمیونٹی کے ملکوں کے درمیان سرحدی کنٹرول ختم کیا گیا؟
- 10- یورپین یونین کی کرنسی کا نام بتائیے۔
- 11- چین نے بھارت پر حملہ کب کیا؟
- 12- ماؤ کی قیادت میں چین میں آئے انقلاب کے بعد اختیار کیا گیا معاشی ماڈل کسی ملک پر قائم کیا گیا تھا؟
- 13- مندرجہ ذیل میں سے کون سا بیان غلط ہے۔

- 1- آسیان کی تشکیل پانچ ممالک نے مل کر کی ہے۔
- 2- حامیں اس کے ممبروں کی تعداد 10 ہے۔
- 3- آسیان کے کام کاج میں قومی باہمی تعاون کی عزت کرنا اہم ہے۔
- 4- 1992 میں آسیان علاقائی تنظیم کی تشکیل کی گئی۔
- 14- چین میں زراعت کی نجی کاری کب کی گئی۔
- 15- چین کے خود غرض منصوبے OBOR کو وسیع کر کے لکھیں۔
- 16- آسیان کے دو ممبر ممالک کے نام لکھیں۔

### دو نمبر والے سوالات

- 1- علاقائی تنظیم کے کیا معنی ہیں؟
- 2- طاقت کے متبادل مراکز سے کیا مراد ہے؟
- 3- مارشل پلان کیا تھا؟
- 4- ایسیان کے کوئی دو بانی ملکوں کے نام بتائیے۔
- 5- 1970 کی دہائی میں چین نے کون سے دو اہم فیصلے لیے؟
- 6- 1973 میں چین کے وزیر اعظم ژو این لال نے کن چار میڈانوں میں جدیدیت کی تجویز رکھی؟
- 7- چین کے ذریعے اختیار کی گئی کھلے دروازے کی پالیسی کیا تھی؟
- 8- تاریخ کے اعتبار سے مندرجہ ذیل کو ترتیب دیں:
  - (i) عالمی تجارتی تنظیم میں چین کا شامل ہونا
  - (ii) چین میں کھیتی کو نجی ملکیت
  - (iii) کھلے دروازے کی پالیسی
  - (iv) سیاسی اور معاشی خاموشی کا خاتمہ

9- مندرجہ ذیل کو صحیح طرح سے جوڑیں۔

ڈنمارک اور سوئیڈن	.....	(i) یورپی معاشی تعاون تنظیم کا قیام
فرانس و برطانیہ	.....	(ii) بنکاک قرارداد کے ذریعے قیام
مارشل منصوبہ	.....	(iii) یورو کرنسی کا ماننے سے انکار
ایسیان	.....	(iv) اقوام متحدہ کی سلامتی کونسل کی مستقل ممبر شپ

### چار نمبر والے سوالات

- 1- ایک معاشی کمیونٹی کی شکل میں بنی یورو پین یونین نے ایک سیاسی تنظیم کی شکل کیسے اختیار کی؟
- 2- ایسیان برادری کے کوئی دو ستون اور ان کے مقاصد کے بارے میں بتائیے۔
- 3- علاقائی تنظیموں کو بنانے کے اہم مقاصد کیا ہیں؟
- 4- بدلی ہوئی چین کی معیشت میں کوئی چار کمی بیان کیجیے۔
- 5- بھارت اور چین کے درمیان چار تنازعات بیان کیجیے۔
- 6- چین کے ساتھ بھارت کے بہتر تعلقات کی تشریح کیجیے۔
- 7- یورو پین یونین کو ایک کمزور علاقائی تنظیم بنانے والی چار باتیں بتائیے۔
- 8- چین کی نئی معاشی پالیسی نے کن چار طریقوں سے چین کے معاشی نظام کو فائدہ پہنچایا؟
- 9- طاقت کے متبادل مراکز کے ذریعے مختلف ملکوں میں خود کفیل معاشی نظام کی شکل دینے میں ادا کیے گئے رول کی تشریح کیجیے۔
- 10- آسیان وزن 2020 کی اہم خصوصیات کیا ہیں۔ (Imp)

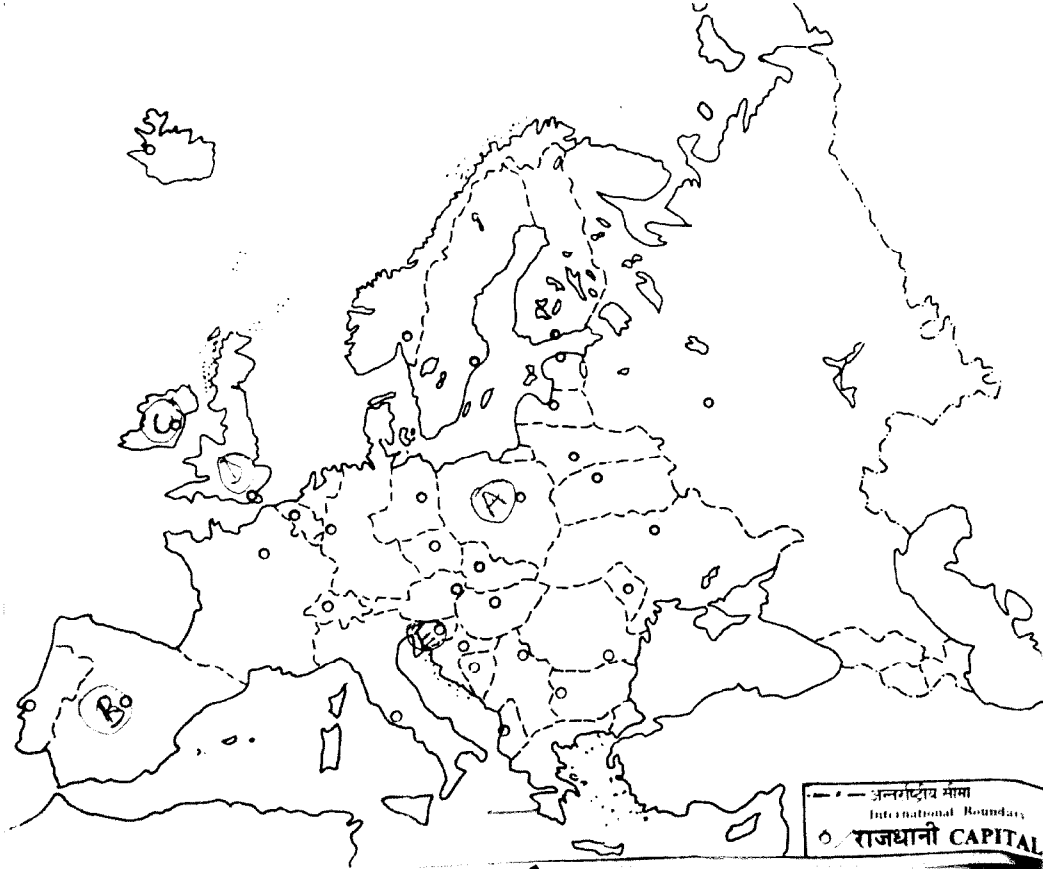
### پانچ نمبر والے سوالات

- 1- نیچے دیئے گئے نقشے میں پانچ جگہوں کو (A)(B)(C)(D)(E) کے ذریعے دکھایا گیا ہے۔ نیچے دی گئی جانکاری کی بنا کر ان کو پہچانیے اور ان کے صحیح نام ترتیب وار اور اس سے متعلق حروف بھی لکھیں۔  
A- یورو پین یونین کا ایک پرانا ممبر ملک۔  
B- یورو پین یونین کا ایک نیا ممبر ملک۔

-C یوروپین یونین وہ ملک سلامتی کا کونسل کا مستقل ممبر ہے۔

-D وہ ملک جو 2016 میں یوروپین یونین سے الگ ہو گیا۔


-E وہ ملک جس نے 2007 میں یورو کو اپنایا۔




-2 یوروپین یونین کے نقشہ پر پانچ پرانے اور پانچ نئے ملکوں کو دکھائیے اور ان کے نام لکھیں۔

-3 تصویر A اور تصویر B کو دھیان سے دیکھیں اور سوالات کے جواب دیں۔






(B)



(A)

- 1 (i) تصویر A اور تصویر B میں دکھائے گئے جھنڈے کس تنظیم سے متعلق ہیں؟
- 2 (ii) تصویر A میں بنے 12 ستارے کس بات کو ظاہر کرتے ہیں؟
- 2 (iii) تصویر B میں دھان کی دس بالیاں اور حل کیا پیغام دیتا ہے؟

-4 نیچے دیے گئے کارٹون کا مطالعہ کریں اور سوالات کا جواب دیں۔



- 1 (i) کارٹون میں سائیکل کی علامت کیا ظاہر کرتی ہے؟
- 2 (ii) دیے گئے کارٹون میں چین کی کس پالیسی کو ظاہر کیا گیا ہے؟
- 2 (iii) چین نے اپنی معاشی ترقی کے لیے کیا قدم اٹھائے؟

### چہ نمبر والے سوالات

-1 چین کی معیشت کو ترقی دینے کے لیے ذمہ دار عناصر کی تشریح کیجیے۔ (Imp)

- 2 یوروپین یونین ایک با اثر علاقائی تنظیم کی شکل میں کس طرح ابھری؟ (Imp)
- 3 طاقت کے متبادل مراکز کی شکل میں جاپان کس طرح اثر انداز ہوگا؟
- 4 چینی معیشت کی ترقی کا تقیدی جائزہ لیجیے۔
- 5 ”چین اور بھارت ایک بڑی معاشی طاقت کی شکل میں ابھر رہے ہیں“۔ کیا آپ اس بیان سے متفق ہیں۔ کوئی تین دلائل دے کر اپنا جواب واضح کیجیے۔

### ایک نمبر والے سوالات کے جوابات

- 1 یورپی معاشی تعاون تنظیم
- 2 ڈیگ زیانگ، 1978
- 3 ژو این لال
- 4 ایسیان ..... Association of South East Asian Nations
- 5 1992 میں ماسٹریٹ معاہدے کے ذریعے
- 6 سنگا پور اور تھائی لینڈ
- 7 کمبوڈیا اور جنوبی تمور
- 8 سوڈن اور ڈنمارک
- 9 1985، Shengen معاہدہ
- 10 یورو
- 11 اکتوبر 1962
- 12 سوویت یونین
- 13 1992 میں آسیان علاقائی تنظیم کی تشکیل کی گئی
- 14 1982 میں۔
- 15 One Belt one Road
- 16 انڈونیشیا اور ملائیشیا

## دو نمبر والے سوالات کے جوابات

- 1- علاقائی تنظیم اقتدار والے ممالک کے رضا کارانہ کمیونٹی کی ایک تنظیم ہے۔ جو ایک مقررہ رقبہ کے اندر ہو اور ان میں تمام شامل ممالک کا مفاد ہو اور اس رقبہ میں ان شامل ممالک میں کسی کے ساتھ بھی حملے کی کارروائی نہ ہو۔
- 2- سوویت یونین کے زوال کے بعد دنیا میں امریکہ کا دبدبہ قائم ہو گیا ہے۔ کچھ ملکوں کی تنظیموں کی ابتدا طاقت کے متبادل مراکز کی شکل میں ہوئی ہے۔ یہ تنظیمیں امریکہ کی قیادت کو محدود کریں گی کیوں کہ یہ تنظیمیں سیاسی اور معاشی نقطہ نگاہ سے کافی طاقتور یا بااثر ہو رہی ہیں۔
- 3- 1945 کے یورپی ملکوں میں میل ملاپ اور امریکہ کے ذریعے سرد جنگ کے دوران معاشی نظام کی تشکیل نو کے لیے مدد
- 4- انڈونیشیا، ملیشیا، فلپائنس، سنگاپور، تھائی لینڈ
- 5- (i) 1972 میں امریکہ سے سیاسی و معاشی تعلقات قائم کیے۔  
(ii) 1978 میں کھلے دروازے کی پالیسی کا اعلان کیا۔
- 6- زراعت، صنعت، فوج اور سائنس ٹکنالوجی کے میدان میں۔
- 7- غیر ملکی سرمایہ اور ٹکنالوجی میں شامل ہونے سے اعلیٰ پیداوار کو حاصل کیا جائے۔
- 8- (i) عالمی تجارتی تنظیم میں چین کا شامل ہونا  
(ii) چین میں کھیتی کو توجی ملکیت  
(iii) کھلے دروازے کی پالیسی  
(iv) سیاسی اور معاشی خاموشی کا خاتمہ
- 9- (i) یورپی معاشی تعاون تنظیم کا قیام  
(ii) بینک اقرا دار کے ذریعے قیام  
(iii) یورو کرنسی کو ماننے سے انکار  
(iv) اقوام متحدہ میں سلامتی کونسل کی مستقل ممبر شپ

## چار نمبر والے سوالات کے جوابات

- 1- (i) یورو پیٹن یونین ایک ریاست کی طرح ہے جس کا اپنا جھنڈا، ترانہ، یوم تائیس اور کرنسی ہے۔

- (ii) یورپی پارلیمنٹ کی تشکیل کے سبب۔
- (iii) سوویت یونین کے زوال کے بعد 1992 میں یوروپین یونین کی تشکیل ہوئی۔
- (iv) ایک کرنسی، مساوی خارجہ و دفاعی پالیسی، انصاف اور گھریلو معاملات پر آپسی تعاون۔
- 2- (i) دفاعی برادری: ایسیان دفاعی برادری علاقائی جھگڑوں کو فوجی ٹکراؤ تک نہ لے جانے کی رضامندی پر منحصر ہے۔
- (ii) معاشی برادری کا مقصد ایسیان ملکوں کا ایک بازار اور پیداوار کی بنیاد تیار کرنا ہے اور اس علاقے میں سماجی اور معاشی امداد کرنا ہے۔
- 3- (i) ممبران ممالک میں یکجہتی کے جذبے کا مضبوط ہونا۔
- (ii) علاقائی امداد کو فروغ دینا۔
- (iii) ممبران ممالک کے درمیان تجارت کو بڑھانا۔
- (iv) اپنے رقبے میں امن و امان قائم رکھنا اور دوستی کو بڑھانا۔
- (v) مسائل کو آپسی بات چیت کے ذریعے حل کرنا
- 4- جواب یاد رکھنے لائق نکات میں تلاش کریں
- 5- جواب یاد رکھنے لائق نکات میں تلاش کریں
- 6- جواب یاد رکھنے لائق نکات میں تلاش کریں
- 7- (i) کبھی کبھی ممبران ملکوں کے ذریعے غیر ملکی اور سیاسی پالیسیوں کا ایک دوسرے کے خلاف استعمال
- (ii) ایک آئین بنانے کی کوشش ناکام
- (iii) ڈنمارک اور سویڈن کنیزریے ماسٹریٹ معاہدے اور یورو کرنسی کی مخالفت
- (iv) کئی ممبران ممالک امریکہ کے گٹ میں شامل ہیں
- 8- (i) کھلے دروازے کی پالیسی
- (ii) زراعت کو نجی ملکیت میں لے کر
- (iii) تجارت کے نئے اصول اور معاشی میدانوں میں اصلاحات

- (iv) دیہی معیشت میں نجی بچت کو فروغ حاصل ہوا
- 9- ■ ایک محوری دنیا میں امریکی دبدبہ کو ختم کرنے کے لیے طاقت کے متبادل مراکز کا ہونا ضروری ہے
- یوروپین یونین، ایشیا، ناوابستہ تحریک اور سارک جیسے طاقت کے متبادل مراکز نے علاقائی سطح پر زیادہ پرامن اور خوش گوار معاشی نظام کو شکل دینے میں اہم رول ادا کیا۔
- 10- (i) بین الاقوامی برادری میں ایک وسیع النظر کردار کو اولیت دینی ہے۔
- (ii) ٹکراؤ کی جگہ بات چیت کو بڑھاوا دینے کی پالیسی اپنائی جاتی ہے۔
- (iii) دنیا تیزی سے بدل رہی ہے اس لئے آسیان ممالک کو اپنی معیشت میں اور زیادہ نرم کاری لانی ہوگی۔
- (iv) 2020 تک نہ صرف تجارت بلکہ سرمایہ کاری اور خدمات کے میدان میں بھی آسیان ممالک پوری طرح سے ایک بازار بن جائیں گے۔

### پانچ نمبر والے سوالات کے جوابات

- 1- 1 A — C — آئرلینڈ
- 2 D — A — پولینڈ
- 3 C — B — فرانس
- 4 B — D — برٹین
- 5 E — سلووینیا
- 2- (i) یوروپین یونین اور ایشیا
- (ii) یورپ کے لوگوں کی یکجہتی اور میل ملاپ
- (iii) یہ دس ملک آپس میں دوستی اور یکجہتی کے دھاگے میں بندھے ہیں جو ایشیا کی یکجہتی اور طاقت کو ظاہر کرتے ہیں
- 3- (i) چین کی معیشت
- (ii) چین کے دوہرے پن کی پالیسی..... سرمایہ دارانہ سماج واد
- (iii) کھلے دروازے کی پالیسی، خصوصی معاشی علاقوں (SEZ) کی تشکیل، زراعت اور صنعت کو بھی نجی ملکیت میں دینا

## چہ نمبر والے سوالات کے جوابات

- 2- (a) سب سے پرانی تنظیم جو اسے مضبوط اور بااثر بناتی ہے۔
- (b) مساوی سیاسی شکل جیسے جھنڈا، قومی ترانہ، یوم تاسیس اور کرنسی
- (c) یورپین یونین کی امداد کی پالیسی
- (d) عالمی بازار میں (عالمی تجارت) میں یورپین یونین کی حصہ داری امریکہ سے تین گنا زیادہ ہے۔
- (e) اس کے پاس دنیا کی دوسرے نمبر پر سب سے بڑی فوج ہے جس کا دفاعی بجٹ امریکہ کے بعد سب سے زیادہ ہے
- (f) برطانیہ اور فرانس اقوام متحدہ میں سلامتی کونسل کے مستقل ممبر ہیں
- 3- جاپان مندرجہ ذیل حقائق کی بنیاد پر طاقت کے متبادل مراکز کا حصہ بن سکتا ہے:
- (i) دنیا میں اپنی اعلیٰ ٹکنالوجی کے لیے مشہور ہے
- (ii) اس کی معیشت دنیا کی دوسری سب سے بڑی معیشت ہے
- (iii) جاپان ترقی یافتہ ممالک کے گروپ G-8 میں شامل ہے
- (iv) اقوام متحدہ کے بجٹ میں مستقل چندہ دینے والا یہ دوسرے نمبر کا ملک ہے
- (v) جاپانی عوام ہمیشہ کے لیے کسی بھی قوم کا بنیادی حق ماننے اور بین الاقوامی معاملات کو سلجھانے کے لیے طاقت اور دھکی کے استعمال کو غلط قرار دیتے ہیں۔
- (vi) اگرچہ جاپان کا دفاعی اخراجات اس کی مجموعی گھریلو پیداوار GDP کا ایک فیصد ہے پھر بھی یہ دنیا کے چوتھے نمبر پر ہے

## 4- حمایت میں:

- (i) 1972 میں سیاسی اور معاشی خاموشی کو ختم کر کے
- (ii) زراعت، فوج، سائنس اور ٹکنالوجی کے میدان میں جدیدیت
- (iii) کھلے دروازے کی پالیسی
- (iv) زراعت اور صنعت کو نجی ملکیت میں دینا

## مخالفت میں:

- (i) بہتر اقدامات کا فائدہ سبھی طبقات کو نہیں مل سکا
  - (ii) بے روزگاری میں اضافہ
  - (iii) خواتین کے لیے روزگار اور کام کے حالات ٹھیک نہیں رہے
  - (iv) ماحولیات کو نقصان پہنچنا
  - (v) بدعنوانی کو بڑھاوا دیا گیا
- -5 عالمی سطح پر چین ایک بڑی معاشی طاقت بن چکا ہے۔ جاپان، امریکہ، روس کے ساتھ اپنے اختلافات کو کچھ حد تک سدھار لیا ہے۔
- لاطینی امریکہ اور افریقی ممالک میں اپنا سرمایہ لگا رہا ہے
- عالمی تجارتی تنظیم کا ممبر بھی ہے
- عالمی چنوتیاں سامنے رکھتے ہوئے بھارت نے بھی معاشی میدان میں بہتر اقدامات کیے ہیں اور اپنی معیشت میں سدھار کیا ہے۔

# باب۔ پانچ

## دور حاضر کا جنوبی ایشیا

### یاد رکھنے لائق نکات

- جنوبی ایشیا دنیا کا اہم علاقہ ہے۔ اس میں شامل سات ممالک ہندوستان، پاکستان، نیپال، بھوٹان، بنگلہ دیش، سری لنکا، مالدیپ کو جنوبی ایشیا کا نام دیا گیا ہے۔ اب اس میں میانمار اور افغانستان کو بھی شامل کیا جاتا ہے۔ جنوبی ایشیا کے ممالک میں آپس میں تعاون اور تنازعات کا دور چلتا رہتا ہے۔
- چین کو جنوبی ایشیا کے ممالک میں شمار نہیں کیا گیا ہے۔
- شمال میں ہمالیہ پہاڑ جنوب میں بحر ہند۔ مغرب میں بحر عرب اور مشرق میں موجود خلیج بنگال جنوبی ایشیا کو جغرافیائی خصوصیات عطا کرتے ہیں۔
- جنوبی ایشیا کے ممالک میں ایک جیسا سیاسی نظام نہیں پایا جاتا۔
- بھارت اور سری لنکا میں آزادی کے بعد سے ہی جمہوری نظام پایا جاتا ہے۔
- پاکستان اور بنگلہ دیش میں کبھی جمہوری اور کبھی فوجی نظام حکومت رہا ہے۔
- نیپال میں 2006 تک آئینی بادشاہت تھی اور بعد میں جمہوری نظام بحال ہوا ہے۔
- بھوٹان میں بادشاہت ہے۔
- مالدیپ میں 1968 تک سلطنت نظام تھا لیکن اب یہاں بھی جمہوری نظام ہے۔
- جنوبی ایشیا کے لوگ جمہوریت کو اچھا سمجھتے ہیں اور نمائندہ جمہوری اداروں کی حمایت کرتے ہیں۔
- جنوبی ایشیا کی جمہوریت کے تجربوں سے جمہوریت کے بارے میں قائم یہ یقین ٹوٹ گیا ہے کہ جمہوری نظام صرف دنیا کے امیر ممالک میں ہی پھل پھول سکتا ہے۔



## پاکستان

- پاکستان کے سیاسی نظام میں فوج کافی بااثر ہے۔ یہ ہی وجہ ہے کہ یہاں فوجی نظام بار بار جمہوریت کو کچلتا رہا ہے۔ ایسا ہی بنگلہ دیش میں بھی ہوا ہے۔
- پاکستان میں آئین بننے کے بعد سے ہی چار بار جمہوری نظام کو ختم کر کے فوجی حکمرانی کو قائم کیا جا چکا ہے۔
- سب سے پہلے ملک کی باگ ڈور جنرل ایوب خاں نے سنبھالی پھر جنرل یحییٰ خان۔ ان کے بعد جنرل ضیاء الحق اور 1999 میں جنرل پرویز مشرف نے عوام کے ذریعے نمائندہ حکومت کو ہٹا کر فوجی نظام حکومت قائم کیا۔
- کچھ وقت کے لیے ضرور ذوالفقار علی بھٹو، بے نظیر بھٹو اور نواز شریف کی قیادت میں پاکستان میں جمہوری نظام حکومت قائم رہا۔ جون 2013 میں پاکستان میں نواز شریف کی قیادت میں جمہوری حکومت قائم ہوئی لیکن 2017 میں انھیں مالی بند عنوانی کے معاملے میں پاکستان سپریم کورٹ کے ذریعے عید سے پہلے ہٹا دیا گیا اور 10 سال کی سزا کا حکم دیا گیا۔ جولائی 2018 میں ہونے والے چناؤ میں عمران خان کی ہمنمائی میں جمہوری حکومت قائم ہوئی۔

## نیپال

- نیپال میں ایک طویل مدت تک بادشاہ اور جمہوری نظام کی حمایت کرنے والوں میں جدوجہد چلتی رہی۔ نیپال کی سیاست میں آج ماؤ وادی کافی اثر انداز ہو رہے ہیں۔
- نیپال میں فوج، جمہوریت کے حامی اور ماؤ وادیوں کے درمیان تکیونی جدوجہد کا نتیجہ یہ رہا کہ نیپال میں آج آئینی جمہوریت کی شروعات ہوئی۔ نیپال کے ذریعے موجودہ آئین کے تحت کھڑگ پرشاد شرما اولیٰ 2015 سے نیپال کے وزیر اعظم ہیں۔

## سری لنکا

- سری لنکا نے 1948 میں آزادی حاصل کی اور آج تک جمہوریت کی برقراری میں کامیاب رہا ہے۔ سری لنکا میں ایک کامیاب جمہوریت اور سماجی، معاشی میدانوں میں اپنی اچھی صورت کے باوجود سنہالی اور تامل قوم نسلی تصادم کا شکار رہا ہے۔ سنہالی سری لنکا کے بنیادی شہری ہیں جبکہ تامل لوگ کثیر تعداد میں بھارت سے ہجرت کر کے سری لنکا میں بس گئے تھے۔ تامل لوگوں کی ذریعے سری لنکا میں ایک علاحدہ تامل ملک کا مطالبہ ہے جبکہ سنہالی قوم پرستوں کے خیال میں سری لنکا کو تامل لوگوں کو کوئی مراعات نہیں دینی چاہئیں۔

- مئی 2009 میں سری لنکا کی فوج کے ذریعے جنگجو قوم پرست تنظیم (LTTE) کے لیڈر پر بھاکرن کے مارے جانے کے بعد سری لنکا میں سالوں سے چلی آ رہی خانہ جنگی کا خاتمہ ہو گیا۔

## سارک

- جنوبی ایشیا کے دو بڑے ملک بھارت اور پاکستان کے آئینی تعلقات ابتدا سے ہی کشیدگی اور تنازعات سے بھرے ہیں۔ ان دونوں ممالک کے درمیان 1947, 1948, 1965, 1971 اور 1999 میں فوجی کارروائیاں ہوتی رہی ہیں۔
- جنوبی ایشیا کے ممالک میں بھارت ہی ایک ایسا ملک ہے جس کی دوسرے ممالک کے ساتھ سرحدیں ملتی ہیں۔ جس کی وجہ سے بھارت کے ان ملکوں کے ساتھ اختلافات بھی رہے ہیں اور کچھ میدانوں میں انھیں امداد بھی دی گئی ہے۔
- جنوبی ایشیا کے ممالک میں آپسی تعاون کے لیے 1985 میں سارک کا قیام عمل میں آیا۔
- 2005 میں سارک کی تیرہویں کانفرنس کے ذریعے ڈھاکہ میں افغانستان کو سارک میں شامل کرنے پر رضامندی ظاہر کی گئی۔
- عالم کاری کے دور میں ہوئے سارک کے اجلاس میں آب و ہوا میں تبدیلی، قدرتی آفات سے نمٹنے اور دہشت گردی کو ختم کرنے اور ان ممالک میں تجارت کو فروغ دینے کے لیے بہت سے معاہدے کیے گئے۔

## سافٹا

- جنوری 2004 میں منعقدہ 12 ویں چوٹی کانفرنس میں سارک ممالک نے تاریخی جنوبی ایشیائی آزاد تجارت سمجھوتہ (SAFTA) پر دستخط کیے۔ جو 1 جنوری 2006 سے عمل میں آئے۔ اس سمجھوتے کے دو خاص مقاصد ہیں۔
- 1- جنوبی ایشیائی علاقے میں آزاد تجارت سے متعلق پابندیوں کو ہٹانا۔
- 2- تجارت اور ٹیکس سے متعلق سبھی پابندیوں کو ختم کرنے کی کوشش کرتے ہوئے زیادہ سے زیادہ لبرل نظام قائم کرنا۔
- سارک کا 18 واں اجلاس نیپال کی راجدھانی کٹھمنڈو میں 26 نومبر 2014 میں منعقد ہوا جس میں امن و امان و خوشحالی کے لیے سارک ممالک کو مل جل کر ایک ساتھ آگے بڑھنا ہے۔
- سارک کی 19 ویں کانفرنس 2016 میں اسلام آباد میں ہوئی لیکن اُری میں دہشت گرد حملہ کی وجہ سے ہندوستان نے اس کانفرنس کا بائیکاٹ کیا۔ بعد میں بنگلہ دیش، بھوٹان، سری لنکا اور مالڈیپ نے بھی اس کانفرنس کا بائیکاٹ کیا۔

- بھارت کے اپنے پڑوسی ممالک کے ساتھ جن میں پاکستان، نیپال، بنگلہ دیش اور سری لنکا اہم ہیں۔ ان میں سے اگر پاکستان کو چھوڑ دیا جائے تو باقی ملکوں کے ساتھ بھارت کے خوشگوار تعلقات رہے ہیں۔
- بھارت کے اپنے پڑوسی ممالک کے ساتھ جن میں پاکستان، نیپال، بنگلہ دیش اور سری لنکا اہم ہیں۔ ان میں سے اگر پاکستان کو چھوڑ دیا جائے تو باقی ملکوں کے ساتھ بھارت کے خوشگوار تعلقات رہے ہیں۔

### سارک کی افادیت

- 1- ہندوستان اور پاکستان کے ساتھ تناؤ بھرے تعلقات کے باوجود دوطرفہ سطح پر سمجھ اور تعاون کو بڑھا دینے کے لئے چھوٹے ممالک کے لئے ابھی بھی مفید تنظیم ہے۔
- 2- سافٹا کو بنا کر تجارت کی سمت میں اہم قدم اٹھایا ہے۔
- 3- Bay of Bengal Initiative for Multi Sectoral Technical and Economic (Co-operation) BIMSTEC اس کے ممبر ممالک بنگلہ دیش، ہندوستان، برما، سری لنکا، تھائی لینڈ، بھوٹان اور نیپال ہیں۔
- 4- موجودہ وقت میں ہندوستان BIMSTEC پر زیادہ زور دے رہا ہے۔ اس کے سینئر آفسروں کی 17 ویں میٹنگ فروری 2017 میں کاٹھمنڈو (نیپال) میں منعقد کی گئی۔ اس میٹنگ میں سرمایہ کاری، توانائی، تکنیکی، مچھلی پالن آب و ہوا کی تبدیلی، تہذیب و تمدن، لوگوں کے نجی تعلقات وغیرہ کے بارے میں بحث کی گئی۔

### ایک نمبر والے سوالات

- 1- جنوبی ایشیا کے اس ملک کا نام بتائیے جس میں بادشاہت ہے؟
- 2- نیپال میں کب تک آئینی بادشاہت قائم رہی؟
- 3- سارک (SAARC) کا قیام کب عمل میں آیا؟
- 4- سری لنکا کا اہم مسئلہ کیا ہے؟
- 5- سیپین کن دو ملکوں کے درمیان ہے؟
- 6- جنوبی ایشیا کا وہ کون سا ملک ہے جس کی آزادی میں بھارت کا اہم رول رہا ہے؟

- 7- فرخا مسئلہ کن دو ممالک کے درمیان رہا ہے؟
- 8- سارک کا مرکزی دفتر کہاں ہے؟
- 9- آپ کے خیال میں اکیسویں صدی میں بھارت-پاکستان تناؤ کا اہم سبب کیا ہے؟
- 10- سری لنکا نے کب آزادی حاصل کی؟
- 11- سری لنکا میں کن دو قوموں کے درمیان تصادم رہا؟
- 12- کس ملک کو آٹھویں ممبر کی شکل میں اور کب سارک کا ممبر بنایا گیا؟
- 13- جنوبی ایشیا میں آزاد تجارت بڑھانے کے لیے..... سمجھوتہ کیا گیا۔
- 14- شیخ مجیب الرحمن کس پارٹی سے متعلق تھے۔
- 15- مالدیپ میں کس پارٹی کا دبدر ہے۔
- 16- مشرقی پاکستان کے عوامی تنازعے کی نمائندگی کس نے کی؟
- 17- جنوبی ایشیا میں چاروں طرف زمین سے گھرے دو ممالک کے نام بتائیے۔
- 18- 1960 میں ہندوستان اور پاکستان نے کس معاہدہ پر دستخط کئے۔
- 19- ہندوستان اور بنگلہ دیش کے بیچ تنازعے کے اہم مدے کیا ہیں؟

### دونمبر والے سوالات

- 1- جنوبی ایشیا میں کامیاب جمہوریت والے دو ملکوں کے نام لکھیں؟
- 2- جنوبی ایشیا سے کیا مراد ہے؟
- 3- بھارت اور پاکستان کے درمیان کوئی دو معاہدوں کا ذکر کریں۔
- 4- جنوبی ایشیا کے ان دو ملکوں کے نام بتائیے جن میں جمہوریت اور فوجی نظام رہا ہے؟

- 5- مالدیپ میں کس طرح کا نظام حکومت پایا جاتا ہے؟
- 6- بھارت نے کب کب ایٹمی تجربات کیے؟
- 7- ایسے دو ملکوں کے نام لکھیں جن کے ساتھ پانی کے بیڑے کے مدعوں پر بھارت کا جھگڑا رہا ہے؟

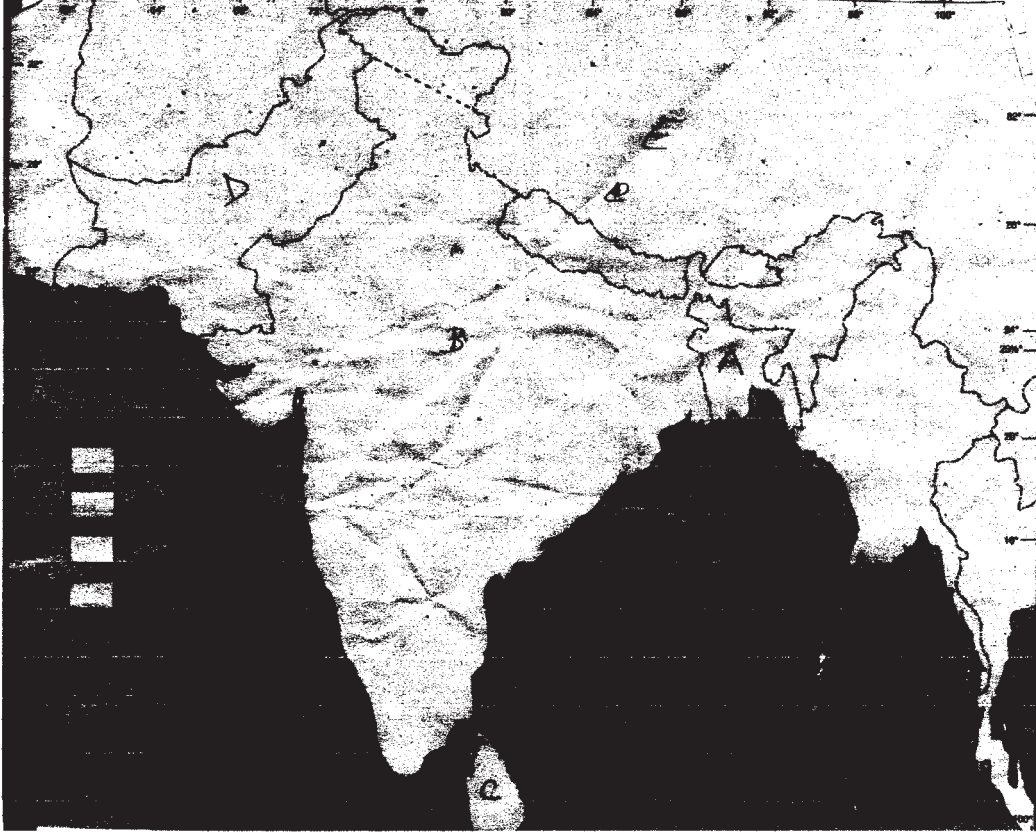
### چار نمبر والے سوالات

- 1- پاکستان میں جمہوریت کو کمزور کرنے والے کیا اسباب ہیں؟
- 2- نیپال میں جمہوریت کے قائم ہونے پر خیالات کا اظہار کریں۔
- 3- سارک کے مقاصد بیان کیجیے۔
- 4- بھارت-پاکستان تعلقات کے درمیان کشیدگی کے کیا اسباب ہیں؟
- 5- جنوبی ایشیا کے ممالک کی کوئی چار ایک جیسی مشکلات کا ذکر کیجیے۔
- 6- بھارت اور پاکستان کے درمیان تعلقات ہموار کرنے کی جانب ہوئے معاہدوں پر روشنی ڈالیں۔
- 7- ایسے دو مسائل کے نام بتائیے جن پر بھارت-بنگلہ دیش کے درمیان آپسی تعاون اور نارنگی ہے۔
- 8- مندرجہ ذیل کو مکمل کر کے لکھیں:

SAARC, SAFTA,LTTE, IPKF

## پانچ نمبر والے سوالات

دیئے گئے نقشے میں پانچ ممالک تک A, B, C, D اور E کو دکھایا گیا ہے۔ نیچے دی گئی معلومات کی بنا پر ان ممالک کی پہچان کریں۔ اور ان کے صحیح نام استعمال کی گئی معلومات کے سیریل نمبر اور متعلق حروف جدول کی شکل میں اپنی جوابی کاپی میں لکھیں۔



- 1- چاروں طرف خشکی سے بھرا ہوا ملک۔
- 2- وہ ملک جہاں نسلی جدوجہد ہوئی۔
- 3- وہ ملک جہاں آزادی کے بعد زیادہ وقت تک فوجی حکومت رہی۔
- 4- وہ ملک جس کی تشکیل 1971 میں ہوئی۔
- 5- وہ ملک جسے جنوبی ایشیا کا ملک نہیں مانا جاتا۔

3- مندرجہ ذیل پیرا گراف کا مطالعہ کریں اور دیے گئے سوالات کا جواب دیں:

”آزادی کے بعد سری لنکا میں سیاست پر ان طاقتوں کا غلبہ ہوا جو اکثریت یعنی سنہالی قوم کے مفادات کی نمائندگی کرتی تھیں۔ وہ تامل لوگوں سے عداوت رکھتے تھے جو کثیر تعداد میں موجود تھے اور ہندوستان سے ہجرت کر کے سری لنکا میں بس گئے تھے۔ یہ ہجرت آزادی کے بعد بھی جاری رہی۔ سنہالی قوم پرستوں کے خیال میں سری لنکا کو تامل لوگوں کو کوئی مراعات نہیں دینی چاہئیں کیونکہ سری لنکا صرف سنہالی لوگوں کا ہے۔ تامل مفادات کو نظر انداز کرنے کی وجہ سے جنگجو تامل قوم پرستی نے جنم لیا ہے۔ 1983 سے اب تک جنگجو قوم پرست تنظیم (LTTE) ایک علاحدہ ملک کا مطالبہ کر رہی ہے اور سری لنکا کی فوج سے مصروف پیکار ہے۔ LTTE نے سری لنکا کے شمال مشرقی علاقے کو قبضہ میں لے رکھا ہے۔“

- 1 (i) سری لنکا کا پرانا نام کیا ہے؟
- 2 (ii) سری لنکا میں کن دو قوموں کے درمیان نسلی تصادم قائم ہے؟
- 2 (iii) نسلی تصادم کے دو اہم اسباب بیان کریں۔

4- نیچے دیے گئے کارٹون کو دیکھیں اور سوالات کا جواب دیں۔



- 1 (i) یہ کارٹون کس تنظیم کے اجلاس کو ظاہر کرتا ہے؟
- 2 (ii) تنظیم میں شامل دو ملکوں کے نام بتائیے۔
- 2 (iii) کارٹون میں دو کرسیوں کی حالت باقی دوسری کرسیوں سے الگ کیوں دکھائی گئی ہے؟

5- مندرجہ ذیل کارٹون کو دھیان سے دیکھیں اور مندرجہ ذیل سوالات کے جواب دیں۔



- (i) یہ کارٹون کس ملک سے متعلق ہے؟  
(ii) تصویر میں شیر اور چیتا کن کن فرقوں کی نمائندگی کر رہے ہیں۔  
(iii) تصویر میں دکھایا گیا شخص کون ہے اور تصویر میں ان کی کوشش کی وضاحت کریں۔

### چہ نمبر والے سوالات

- 1- بھارت- پاکستان تعلقات پر روشنی ڈالیں۔  
2- سری لنکا میں نسلی تصادم کا ذکر کریں۔  
3- جنوبی ایشیا کی بانسبت چھوٹے ملکوں کے بھارت کے تئیں امید کے برتاؤ کے کیا اسباب ہیں؟  
4- جنوبی ایشیا کے ممالک کے درمیان معاشی امداد کی راہ ہموار کرنے میں سارک کا رول اور اس کی حدود کا تنقیدی جائزہ لیں۔ جنوبی ایشیا کی بہتری کے لیے سارک ایک اہم رول ادا کر سکے، اس جانب اپنی رائے پیش کریں۔

### ایک نمبر والے سوالات کے جوابات

- 1- بھوٹان  
2- 2006



- 1985 -3
- سنہالی-تامل نسلی تضادم -4
- بھارت-پاکستان -5
- بنگلہ دیش -6
- بھارت-بنگلہ دیش -7
- کاٹھمنڈو -8
- دہشت گردی -9
- 1948 -10
- سنہالی اور تامل -11
- افغانستان کو 2005 میں سارک کا ممبر بنایا گیا -12
- SAFTA -13
- عوامی لیگ -14
- مالدیوین ڈیموکریٹک پارٹی -15
- شیخ مجیب الرحمن -16
- نیپال - بھوٹان -17
- سندھ کے پانی کا معاہدہ Indus Water Treaty -18
- ندی پانی کا تنازعہ۔ پناہ گزینوں کا مسئلہ -19

## دو نمبر والے سوالات کے جوابات

- 1- بھارت، سری لنکا
- 2- بھارت، پاکستان، نیپال، بھوٹان، بنگلہ دیش، سری لنکا اور مالدیپ کو جنوبی ایشیا کی ممالک میں شمار کیا جاتا ہے۔ کچھ لوگ افغانستان اور میانمار کو بھی سارک میں شامل کرتے ہیں۔
- 3- تاشقند معاہدہ، شملہ معاہدہ
- 4- پاکستان اور بنگلہ دیش
- 5- جمہوری
- 6- 1974 اور 1998 میں
- 7- پاکستان اور بنگلہ دیش

## چار نمبر والے سوالات کے جوابات

- 1- (i) سیاست میں فوجی مداخلت  
(ii) سیاست میں مذہبی لیڈروں کا بدبہ  
(iii) بیرونی طاقتوں کی مداخلت  
(iv) سیاسی جماعتوں اور لیڈروں کے آپسی مفادات وغیرہ
- 2- (i) 2006 تک آئینی بادشاہت  
(ii) عوامی بغاوت اور جمہوریت کی شروعات  
(iii) بادشاہ کا اشرختم ہو جانا  
(iv) عوام میں اپنے حقوق کے لیے بیداری

- (v) ماؤ وادی لوگوں کا اثر انداز ہونا
- 3- جنوبی ایشیا کے عوام کے معیار زندگی میں اضافہ
- جنوبی ایشیا میں معاشی ترقی، سماجی ترقی اور ثقافتی ترقی
- جنوبی ایشیا کے عوام میں خود اعتمادی کا بڑھنا
- آپسی مسائل کا پر امن طریقوں اور بات چیت سے حل نکالنا
- 4- کشمیر کا مسئلہ
- دہشت گردی
- سیچین گلیشیر
- ثقافتی مسائل وغیرہ
- 5- (i) تعلیم کا کم ہونا، جہالت
- (ii) غربت
- (iii) آبادی میں اضافہ
- (iv) معاشی کچھڑا پن وغیرہ
- 6- (i) 1960 ..... سنڈھونڈی پانی کا معاہدہ
- (ii) 1966 ..... تاشقند معاہدہ
- (iii) 1972 ..... شملہ معاہدہ
- (iv) 1999 ..... لاہور بس سروس وغیرہ
- 7- (i) آپسی تعاون: بھارت کی ”مشرق کی جانب دیکھو“ پالیسی کا حصہ ہے

(ii) قدرتی آفات کے باوجود بنگلہ دیش کو ماحولیات سے متعلق امداد دینا

(i) گڑگا- برہمپتر کے پانی بھڑارے کو لے کر مسائل

ناراضگی:

(ii) بھارت- بنگلہ میں ناجائز طور سے لوگوں کی ہجرت پر روک لگانا

1. SA ARC – South Asian Association and Regional Co-operation

-8

2. SAFTA South Asian free Trade Agreement

3. LTTE Liberation Tigers of Tamil Eelam

4. IPKF Indian Peace Keeping force

### پانچ نمبر والے سوالات کے جوابات

ملک	حروف	سیریل نمبر	-1
ہندوستان	B	1	
سری لنکا	C	2	
پاکستان	D	3	
بنگلہ دیش	A	4	
چین	E	5	

آپسی تعلقات کو بہتر بنانے کی کوششیں کی ہیں	(i)	(a)	-2
معاشی سدھار کیے ہیں	(ii)		
آزاد پالیسیاں بنائی ہیں	(iii)		
امریکہ میں جنوبی ایشیائی لوگوں کی اچھی خاصی تعداد	■	(b)	
یہاں کا بڑا بازار	■		
کارگل مسئلہ	■	(c)	

- 3- (i) سیلون
- (ii) سنہالی اور تامل
- (iii) تامل قوم کے ذریعے سری لنکا میں خصوصی حقوق اور الگ ملک کی مانگ
- 4- (i) سارک اجلاس
- (ii) بھوٹان، نیپال وغیرہ
- (iii) یہ دو کرسیاں سارک کے دو ممالک ممبر بھارت اور پاکستان کی خاص صورت اور اس اجلاس میں چھائے رہنے والے ان دونوں ملکوں کے دورخی مدعووں کی جانب توجہ مرکوز کرتی ہے۔
- 5- (i) سری لنکا
- (ii) شیر سری لنکا کے سنہالی فرقے اور چیتا تامل فرقے کی نمائندگی کر رہا ہے۔
- (iii) تصویر میں دکھائے گئے شخص سری لنکا کے سابق صدر مہندرا راج کپتھے ہیں اور وہ دونوں فرقوں کے بیچ توازن قائم کرنے کی کوشش کر رہے ہیں۔

### چھ نمبر والے سوالات کے جوابات

1- بھارت اور پاکستان کے درمیان سماجی، معاشی، ثقافتی اور تاریخی ایک جیسی اشکال پائی جاتی ہیں۔

بھارت - پاکستان کے درمیان کشیدگی

■ 1947-48، 1965، 1971 اور 1999 میں فوجی ٹکراؤ

■ کشمیر کا مسئلہ

■ ہتھیاروں کا مسئلہ

■ دہشت گردی کا مسئلہ

- سیاچن گلشیر کا مسئلہ
- سرکرک مسئلہ
- بھارت-پاکستان کے درمیان آپسی تعاون
- ثقافتی ( فلمی گانے، ڈرامے وغیرہ)
- کھیل ( کرکٹ، ہاکی)
- تجارت ( کپاس، پیاز، سافٹ ویئر وغیرہ)
- غربتی کو دور کرنا، ترقی کو فروغ دینا، جمہوریت کو مضبوط کرنا وغیرہ
- اکثریت والے سنہالی اور اقلیت والے تامل لوگوں کے درمیان نسلی تصادم
- تامل لوگوں کو حقوق دلوانے کی کوششیں
- جنگجو تامل لوگوں کے ذریعے LTTE کی تشکیل
- سری لنکا کی حکومت کی جانب سے سختی
- 1987 میں راجیو گاندھی اور بے وردھنے کے درمیان معاہدہ
- سری لنکا میں بھارت کی امن فوج
- ناروے کی مدد سے دونوں ملکوں کے درمیان امن قائم کرنے کی کوششیں
- وسیع زمینی رقبہ
- جغرافیائی خصوصیات
- بہت زیادہ آبادی
- معیشت کا مضبوط ہونا
- بڑی فوجی طاقت

■ ٹکنالوجی میں دوسرے ملکوں سے آگے

■ بین الاقوامی سیاست میں اہم مقام

■ پاکستان، چین اور مغربی میڈیا کا بھارت کے بارے میں غلط نظریہ

4- 1985 میں ایک علاقائی اسٹیج پر جمع ہونے کے لیے سارک کو قائم کیا گیا۔ ان ممالک نے آزاد تجارت کے معاہدے پر دستخط کیے۔ SAFTA کے ذریعے سرحدوں میں آزادانہ تجارت کی اجازت۔ سارک کانفرنس میں آپسی جھگڑوں کو بات چیت کے ذریعے حل کرنا اور پرامن تعلقات کو قائم رکھنا وغیرہ۔

**حدود:** کچھ لوگوں کا یہ ماننا کہ بھارت SAFTA کو بنیاد بنا کر سارک میں شامل ممالک کے گھریلو بازاروں پر اپنا قبضہ جمانا چاہتا ہے۔

**مشورے:** (i) سارک میں شامل ممالک کو ڈر، خوف کے اندیشہ سے دور رہ کر آپس میں اعتماد قائم کرنا چاہیے

(ii) آپسی مسائل کا حل بات چیت کے ذریعے نکالنا چاہیے

(iii) معاشی ترقی کو اپنا اہم مدعا بنانا چاہیے


# باب۔ چھ

## بین الاقوامی تنظیمیں

### یاد رکھنے لائق نکات

- جس طرح کسی علاقہ کی مشکلات یا مسائل کو حل کرنے کے لیے علاقائی تنظیمیں ہوتی ہیں اسی طرح مختلف ممالک کے درمیان مختلف مسائل اور ان کا حل تلاش کرنے کے لیے بین الاقوامی تنظیموں کی ضرورت ہوتی ہے۔
- بین الاقوامی تنظیموں کی ضرورت
  - بین الاقوامی مسائل کا پر امن طریقے سے حل تلاش کرنا
  - جنگوں کے روک تھام میں مددگار
  - دنیا کی معاشی ترقی میں معاون
  - قدرتی آفات، حادثات سے نمٹنا
  - بین الاقوامی امداد کو فروغ دینا
  - عالمی درجہ حرارت سے نمٹنا
- پہلی جنگ عظیم کے بعد لیگ آف نیشنز کا قیام عمل میں آیا تاکہ مستقبل میں جنگ کے خطروں کو روکا جاسکے لیکن یہ اپنے مقاصد کو پورا کرنے میں ناکام رہی۔ 1939 سے 1945 کے دوران دوسری جنگ عظیم کے بعد بین الاقوامی امن وامان کو قائم رکھنے اور دنیا کو تیسری جنگ عظیم کے خطرے سے بچانے کے لیے 24/ اکتوبر 1945 کو اقوام متحدہ کا قیام عمل میں آیا۔ اقوام متحدہ میں ابتدا میں 51 ممالک شامل تھے جس میں بھارت بھی ایک اہم ممبر تھا۔ آج اقوام متحدہ کے ممبران کی تعداد 193 ہو گئی ہے۔





## اقوام متحدہ

مقاصد	مرکزی دفتر	ممبران کی تعداد	اعضائے نام
ممبران ممالک کی شمولیت و برخواستگی، بجٹ پیش کرنا	نیویارک	193	جنرل اسمبلی
امن و سلامتی قائم رکھنا، جھگڑے، امن اور جنگ پر بحث، فوجی کارروائی کرنا	نیویارک	5 مستقل + 10 غیر مستقل	سلامتی کونسل
خصوصی علاقوں کی سماجی و معاشی ترقی کرنا، 1994 سے پلاؤ کی آزادی کے بعد اس کو معطل کر دیا گیا ہے	نیویارک	14	ٹرسٹی شپ کونسل
معاشی، سماجی، تعلیم اور صحت پر غور کر کے جنرل اسمبلی کو اپنی رپورٹ پیش کرنا	نیویارک	57	سماجی اور معاشی کونسل
مختلف ممالک کے آپسی مسائل / جھگڑوں پر غور کرنا	ہیگ	15 جج	بین الاقوامی عدالت
اقوام متحدہ کے ذریعے کیے جا رہے کاموں کو انجام دینا اقوام متحدہ کا مکمل ریکارڈ رکھنا	نیویارک	سکرٹری جنرل + دیگر ملازمین	سکرٹریٹ

- اقوام متحدہ کا سب سے طاقت ور اعضاء سلامتی کونسل ہے۔ اس میں کل 15 ممبران ہیں۔ جن میں 5 ممبران (امریکہ، روس، برطانیہ، فرانس اور چین) اس کے علاوہ 10 غیر مستقل ممبران ہیں۔ جو 2 سال کی مدت کے لئے چنے جاتے ہیں مستقل ممبران کو ویٹو کے اختیارات حاصل ہیں۔
- سرد جنگ کے بعد سے ہی اقوام متحدہ اور اس کے ڈھانچے میں کام کرنے کے عمل سے متعلق سدھار کرنے کی مانگ زور پکڑنے لگی ہے۔ سلامتی کونسل میں مستقل اور غیر مستقل ممبران کی تعداد کو بڑھانے پر بھی زور دیا جا رہا ہے۔ اس کے علاوہ غربتی، بھوک مری، بیماریاں، دہشت گردی، ماحولیات اور انسانی حقوق وغیرہ جیسے مدعوں پر اقوام متحدہ کے رول کو اور بھی زیادہ با اثر بنانے پر بھی زور دیا جا رہا ہے۔
- سکریٹری جنرل اقوام متحدہ کی جنرل اسمبلی کی نمائندگی کرتا ہے۔ اقوام متحدہ کے موجودہ سکریٹری جنرل کا نام Antonio Guterres ہے جن کا تعلق پرتگال سے ہے۔
- انجمن اقوام متحدہ کے اب تک کے سیکریٹری جنرل اس طرح ہیں۔

نام	ملک	مدت
1- ترگف لائی	ناروے	1946-1952
2- ڈاگ ہیمرشولڈ	سویڈن	1953-1961
3- یوتھانٹ	برما (میانمار)	1961-1971
4- کرٹ والدیم	آسٹریا	1972-1981
5- جیورچیز ڈیوکر	پیرو	1982-1991
6- بطرس بطرس غالی	مصر	1992-1996
7- کوفی۔ اے۔ عنان	گھانا	1997-2006
8- بانگی مون	جنوبی کوریا	2007-2016
9- ایٹونیو گوتیرس	پرتگال	اب تک-2017

- بھارت نے ہمیشہ ہی اقوام متحدہ کے کاموں میں مدد کی ہے۔ چاہے وہ عالمی امن کا معاملہ ہو، تخفیف اسلحہ، جنوبی کوریا کا بحران، سوئز نہر کا مسئلہ، عراق کا کویت پر حملہ ہو یا انسانی حقوق کی حفاظت، نوآبادیات کی مخالفت وغیرہ میں بھارت نے بڑھ چڑھ کر حصہ لیا ہے اور اقوام متحدہ کی مدد کی ہے۔

## ● اقوام متحدہ کی سلامتی کونسل میں مستقل ممبر شپ کے لیے بھارت کے دعویداری

- بھارت آبادی کے لحاظ سے دنیا کا دوسرا بڑا ملک ہے
- دنیا کی سب سے بڑی جمہوریت والا ملک
- ابھرتی ہوئی معاشی طاقت
- اقوام متحدہ کے بجٹ میں لگا تار تعاون
- دنیاوی امن کو قائم کرنے میں ہمیشہ اقوام متحدہ کے ساتھ شامل

## ● اقوام متحدہ کی چند اہم ایجنسیاں

- 1- عالمی ادارہ صحت (WHO)
- 2- اقوام متحدہ کی تعلیمی، سائنسی و ثقافتی کونسل (UNESCO)
- 3- اقوام متحدہ بین الاقوامی چلڈرن/ایمرجنسی فنڈ (UNICEF)
- 4- اقوام متحدہ ترقیاتی پروگرام (UNDP)
- 5- اقوام متحدہ ہائی کمیشن برائے پناہ گزین (UNHRC)
- 6- اقوام متحدہ کمیشن برائے انسانی حقوق (UNHRC)

## 7. UNCTAD United Nations Conference on Trade and Development

## ● اقوام متحدہ کے مقاصد و اصول

- بین الاقوامی امن و امان کو قائم رکھنا
- ملکوں کے درمیان دوستانہ تعلقات کو قائم رکھنا
- آپسی تعاون کے ذریعے معاشی، سماجی، ثقافتی اور انسانی ڈھنگ کی بین الاقوامی مشکلات کو حل کرنا
- بین الاقوامی معاہدوں، بین الاقوامی قوانین کو مساوی شکل میں لاگو کرنا
- ملکوں کی علاقائی سالمیت اور سیاسی آزادی کی عزت کرنا

● اقوام متحدہ کو یک محوری دنیا میں زیادہ بااثر بنانے کے لیے تدابیر

■ امن قائم کرنے والے کمیشن کی تشکیل کی جائے

■ انسانی حقوق کمیشن کو قائم کیا جائے

■ ایک جمہوری فنڈ کی تشکیل کی جائے

■ دہشت گردی کی تمام شکلوں کو ختم کیا جائے

■ ٹرسٹی شپ کونسل کا خاتمہ

● آج ایک محوری دنیا میں جہاں امریکہ کا دبدبہ بڑھتا جا رہا ہے ایسے میں اقوام متحدہ کی امریکی طاقت پر مکمل طور سے قابو نہیں لگایا جاسکتا کیونکہ امریکہ کا اقوام متحدہ کے بجٹ میں ایک بڑا حصہ ہے اس کے علاوہ اقوام متحدہ کے مرکزی دفتر بھی امریکہ کے رقبے میں واقع ہے۔ اس کے باوجود بھی اقوام متحدہ وہ ادارہ ہے جہاں امریکہ سے بھی زیادہ دنیا کے دوسرے بااثر ممالک بات چیت کے ذریعے اس پر کنٹرول کرنے کی کوشش کر رہے ہیں۔

● بین الاقوامی ادارے اور غیر سرکاری تنظیمیں

اقوام متحدہ کے علاوہ کئی بین الاقوامی ادارے اور غیر سرکاری تنظیمیں ہیں جو لگا تار اپنے مقاصد کو پورا کر رہی ہیں جیسے:

1- بین الاقوامی مالیاتی ادارہ (International Monetary Fund)

یہ ان مالیاتی اداروں اور اصولوں کی نگرانی کرتا ہے جو بین الاقوامی سطح پر کام کرتے ہیں۔ IMF میں یوں تو 184 ممبر ہیں لیکن ہر ممبر مساوی حیثیت نہیں رکھتا۔ چوٹی کے دس ممبر 55 فی صد ووٹ کا حق رکھتے ہیں۔

2- عالمی بینک (World Bank)

دوسری جنگ عظیم کے بعد 1945 میں قائم کیا گیا۔ اس کی سرگرمیوں کا محور ترقی پذیر ممالک ہیں۔ یہ ممبر ملکوں کو قرضے اور مدد فراہم کرتا ہے۔

3- عالمی تجارتی تنظیم (World Trade Organisation)

یہ ایک بین الاقوامی تنظیم ہے جو عالمگیر تجارت کے لیے قانون اور اصول وضع کرتی ہے۔ یہ تنظیم 1945 میں قائم ہوئی۔ اس

کے ممبران کی تعداد 150 ہے۔ سارے فیصلے مجموعی اتفاق رائے سے طے پاتے ہیں۔

4. **بین الاقوامی جوہری توانائی ایجنسی** (International Atomic Energy Agency)

اس تنظیم کا قیام 1957 میں عمل میں آیا۔ اس کا مقصد امریکی صدر ڈیوٹ آئسن ہاور کی پیش کش ”ایٹم امن کے لیے“ کی تکمیل تھا جس کے مطابق نیوکلیری طاقت کا استعمال پر امن مقاصد کے لیے ہوگا اور اس کے فوجی استعمال پر روک لگائی جائے۔

5. **ایمنسٹی انٹرنیشنل** (Amnesty International)

یہ ایک غیر سرکاری تنظیم ہے جو دنیا بھر میں حقوق انسانی کے تحفظ کے لیے کام کرتی ہے۔ اقوام متحدہ کے انسانی حقوق اور ان کے احترام کو فروغ دیتی ہے۔

6. **انسانی حقوق کے نگراں** (Human Rights Watch)

یہ ایک بین الاقوامی غیر سرکاری تنظیم (NGO) ہے۔ جو انسانی حقوق کے بارے میں تحقیق و تفتیش اور اس کی وکالت میں مصروف ہے۔ یہ امریکہ میں حقوق انسانی کی سب سے بڑی تنظیم ہے۔ یہ عالمی میڈیا کی توجہ حقوق انسانی کی پامالی کی جانب مبذول کراتی ہے۔

7. **بین الاقوامی ریڈ کراس سوسائٹی**

یہ سوسائٹی جنگ اور اندورنی تشدد کے سبھی متاثرہ کو مدد اور ہتھیاروں کے ساتھ تشدد پر روک لگانے والے قانون کو لاگو کرنے کی کوشش کرتی ہے۔

8. **گرین پیس**

1971 کے قائم گرین پیس فاؤنڈیشن عالمی برادری کو ماحولیات کے تئیں بیدار کرنے اور ماحولیاتی تحفظ کے لئے قانون بنانے کے لئے دباؤ ڈالنے کا کام کرتے ہیں۔

حالانکہ اقوام متحدہ میں کچھ کمی پائی جاتی ہے لیکن اس کے بغیر دنیا بد حال ہو جائے گی۔ اقوام متحدہ اور اوپردی گئیں تمام بین الاقوامی تنظیمیں اور غیر سرکاری تنظیمیں ایک دوسرے پر منحصر ہیں جن سے ان کی اہمیت دن بدن بڑھتی جا رہی ہے۔ اس لیے آنے والی حکومتوں کو اقوام متحدہ اور ان بین الاقوامی ادارے اور تنظیموں کو حمایت دینے اور استعمال کے طریقے تلاش کرنے ہوں گے۔

## ایک نمبر والے سوالات

- 1- اقوام متحدہ کی تشکیل کب ہوئی؟
- 2- اقوام متحدہ کے چارٹر پر کتنے ملکوں نے دستخط کیے؟
- 3- بھارت اقوام متحدہ کا ممبر کب بنا؟
- 4- موجودہ دور میں اقوام متحدہ کے ممبران کی تعداد کتنی ہے؟
- 5- اقوام متحدہ کے موجودہ سکرٹری جنرل کا نام بتائیے۔
- 6- بین الاقوامی عدالت کہاں واقع ہے؟
- 7- IAEA کو مکمل کر کے لکھیں۔
- 8- عالمی تجارتی تنظیم کب قائم ہوئی؟
- 9- پہلی جنگ عظیم کے بعد جنگ روکنے کے لیے کون سی بین الاقوامی تنظیم بنائی گئی؟
- 10- UNHRC کو مکمل کر کے لکھیں۔
- 11- عالمی بینک کی تشکیل کب ہوئی؟
- 12- انجمن اقوام متحدہ کی سلامتی کاؤنسل..... مستقل..... غیر مستقل ممبر ہیں۔
- 13- UNESCO کو وسیع کر کے لکھیں۔
- 14- کس چارٹر کے تحت انجمن اقوام متحدہ کی تشکیل کی گئی۔
- 15- IMF کا کوئی ایک کام لکھیں۔
- 16- انجمن اقوام متحدہ کی تشکیل..... کی جانشینی کی شکل میں کی گئی۔

## دو نمبر والے سوالات

- 1- عالمی بینک کے کوئی دو کام بتائیے۔
- 2- سلامتی کونسل کے مستقل ممبران کے نام لکھیں۔
- 3- انسانی حقوق کی سلامتی سے متعلق دو تنظیموں کے نام بتائیے۔
- 4- عالمی تجارتی تنظیم کے دو کام بتائیے۔
- 5- مندرجہ ذیل کو ملائیے
  - (i) 24/ اکتوبر 1945 ..... اٹلانٹک چارٹر
  - (ii) 10/ دسمبر 1948 ..... مالٹا کانفرنس
  - (iii) فروری 1945 ..... اقوام متحدہ کی تشکیل
  - (iv) اگست 1941 ..... انسانی حقوق کا اعلان
- 6- وینوکا حق کیا ہے؟
- 7- مندرجہ ذیل کو ملائیے۔
  - 1- ریڈ کراس سوسائٹی ..... A عالمی تجارتی قانون
  - 2- ایمینسٹی انٹرنیشنل ..... B جنگ یا آفات سے متاثرہ کو مدد
  - 3- عالمی تجارتی تنظیم ..... C معاشی ترقی اور قرض دینا
  - 4- بین الاقوامی مالیاتی فنڈ ..... D انسانی حقوق کا تحفظ
- 8- ایسے کوئی دو بین الاقوامی مدعوں کو پہچانیے جنہیں سلجھانا کسی ایک ملک کے لیے ممکن نہیں ہے۔

9- آپسی انحصار کسے کہتے ہیں؟

10- دنیا میں بین الاقوامی تنظیمیں ہونے کے کوئی دو فائدے بیان کیجیے۔

### چار نمبر والے سوالات

1- بدلتے ہوئے حالات میں بااثر اور مناسب ڈھنگ سے کام کرنے کے لیے اقوام متحدہ کی عمل اور ڈھانچے میں سدھار کے کون کون سے تجویز ہیں؟ بیان کیجیے۔ (Imp)

2- ”اقوام متحدہ امریکی دبدبہ کا سامنا کرنے میں ناکام ثابت ہوا ہے“۔ اس بات سے آپ کہاں تک متفق ہیں۔

3- سلامتی کونسل کے کام بیان کیجیے۔

4- بھارت کے شہری کی شکل میں سلامتی کونسل میں بھارت کی مستقل ممبر شیب کی دعویداری کے حق میں آپ کیا دلائل دیں گے۔ بیان کیجیے۔ (Imp)

5- ایمنسٹی انٹرنیشنل کیا ہے؟ اس کے کوئی دو کام بیان کیجیے۔

6- اقوام متحدہ کے اہم اصول بیان کیجیے۔


### پانچ نمبر والے سوالات

1- نیچے دیے گئے کارٹون کا مطالعہ کریں اور سوالات کے جواب دیں۔





- (i) دیے گئے کارٹون میں دکھایا گیا شخص کس ملک کی جانب اشارہ کر رہا ہے؟ 1
- (ii) کارٹون میں دکھائے گئے شخص کے دونوں ہاتھوں میں کیا دکھایا گیا ہے؟ 2
- (iii) ”دائیں ہاتھ سے بات نہیں سمجھو گے تو بائیں ہاتھ سے سمجھائی جائے گی“۔ اس بیان کا مطلب اپنے الفاظ میں بیان کیجیے۔ 2
- (i) تصویر کس ادارے یا تنظیم سے تعلق رکھتی ہے؟ 1 -2
- (ii) اس تصویر میں کون سا نقشہ دکھایا گیا ہے۔ 2
- (iii) اس تصویر میں کون سی پٹیاں دکھائی گئی ہیں؟ یہ پٹیاں کس بات کو ظاہر کرتی ہیں؟ 2



- 3- مندرجہ ذیل اقتباس کو پڑھیں اور پوچھے گئے سوالات کے جواب دیں۔
- ”پہلی جنگ عظیم نے دراصل تنازعہ مسلوں کے حل کے لئے بین الاقوامی تنظیموں کے قیام کی حوصلہ افزائی کی۔ اکثر کا خیال تھا کہ ایسی تنظیم جنگ کو ٹالنے میں مددگار ثابت ہو سکتی ہے اس خیال کے تحت مجلس اقوام (The League of Nation) کا قیام عمل میں آیا۔ اپنی ابتدائی کامیابیوں کے باوجود یہ دوسری عالمی جنگ (1939-45) روک نہیں سکی۔ اس جنگ میں پہلے سے کہیں زیادہ لوگ ہلاک اور زخمی ہوئے۔ اقوام متحدہ مجلس اقوام کی جانشین ہے اور یہ 1945 میں قائم ہوئی۔“
- (i) دوسری جنگ عظیم کب ختم ہوئی؟
- (ii) انجمن اقوام متحدہ کی تشکیل کب اور کیوں ہوئی؟
- (iii) اس طرح کی تنظیمیں کیوں بنائی جاتی ہیں؟

## چہ نمبر والے سوالات

- 1- بین الاقوامی تنظیموں کی ضرورت کو واضح کیجیے۔
- 2- اقوام متحدہ کو اور بھی زیادہ بااثر بنانے کے لیے کیا قدم اٹھائے جانے چاہئیں؟
- 3- اقوام متحدہ میں بھارت کی مستقل ممبر شپ کی حمایت میں دلائل پیش کریں۔
- 4- اقوام متحدہ میں بھارت کے رول پر بحث کیجیے۔ (Imp)
- 5- آج کے ماحول میں سلامتی کونسل میں سدھار کی ضرورت کیوں محسوس ہوتی ہے؟ (Imp)
- 6- اقوام متحدہ کے اہم مقاصد بیان کیجیے۔ ان مقاصد کو کیسے حاصل کیا جاسکتا ہے؟
- 7- عالمی سیاست میں بین الاقوامی ادارے اور تنظیمیں کس حد تک جمہوری اور جوابدہ ہیں؟

## ایک نمبر والے سوالات کے جوابات

- 1- 24/اکتوبر 1945
- 2- 51 ملکوں نے
- 3- 30/اکتوبر 1945
- 4- 193
- 5- Antonio Guterres
- 6- ہیگ، نیدر لینڈ
- 7- بین الاقوامی جوہری توانائی ایجنسی
- 8- جنرل سکریٹری
- 9- 1995 میں

- 10- لیگ آف نیشنز
- 11- اقوام متحدہ کمیشن برائے انسانی حقوق
- 12- 1945
- 13- 05 اور 10
- 14- United Nations Educational Social and Cultural Organisation
- 15- اٹلانٹک چارٹر
- 16- عالمی سطح کے مالیاتی نظام کی دیکھ بھال کرنا۔
- 17- انجمن اقوام

### دونمبر والے سوالات کے جوابات

- 1- (i) زراعت اور گاؤں کی ترقی کے لیے کام کرنا
- (ii) ممبر ممالک کو قرضے اور مدد فراہم کرنا
- 2- برطانیہ، فرانس، امریکہ، روس اور چین
- 3- ایمنسٹی انٹرنیشنل اور انسانی حقوق کے نگراں
- 4- (i) عالمگیریت کے لیے قانون اور اصول وضع کرنا
- (ii) ممبران ممالک کے درمیان آزادانہ تجارت کو ہموار کرنا
- 5- (i) 24/اکتوبر 1945 ..... اقوام متحدہ کا قیام
- (ii) 10/دسمبر 1948 ..... انسانی حقوق کا اعلان
- (iii) فروری 1945 ..... مالٹا کانفرنس
- (iv) اگست 1941 ..... اٹلانٹک چارٹر

- 6- سلامتی کونسل کا کوئی بھی مستقل ممبر سلامتی کونسل کے ذریعے لئے جانے والے فیصلے کو روک سکتا ہے یہی ویٹو کا حق ہے۔
- 1 - B -7
- 2 - D
- 3 - A
- 4 - C
- 8- عالمی درجہ حرارت..... دہشت گردی
- 9- معاشرہ اور مسائل کے درمیان بڑھتے ہوئے رشتے جسے ہم عام طور پر ایک دوسرے پر منحصر کہتے ہیں اسے ہی آپسی انحصار کا نام دیا گیا ہے۔
- 10- ■ بین الاقوامی تنظیمیں جنگ اور امن کے معاملات میں مدد کرتی ہیں۔
- بین الاقوامی تنظیمیں عالمی درجہ حرارت اور دہشت گردی جیسے مسائل کا حل ڈھونڈنے کی کوششیں کرتی ہیں۔

### چار نمبر والے سوالات کے جوابات

- 1- (i) اقوام متحدہ میں سلامتی کونسل میں مستقل ممبران کی تعداد کو بڑھانا
- (ii) ویٹو پاور کو ختم کرنا
- (iii) ترقی یافتہ ممالک کے اثر کو ختم کرنا
- (iv) اقوام متحدہ کے کام کرنے کے طریقوں کو اور زیادہ جمہوری بنانا
- 2- (i) امریکہ سب سے بڑی مالی امداد دینے والا ملک ہے
- (ii) اقوام متحدہ کا صدر مقام نیویارک میں ہے جو امریکہ کے رقبے میں آتا ہے۔
- (iii) اقوام متحدہ میں زیادہ تر ملازمین امریکہ کے ہیں۔
- (iv) کوئی بھی قرارداد یا تجویز اپنے ساتھی ملکوں کے مفاد کے مطابق نہ ہونے پر اپنے ویٹو سے روک سکتا ہے۔
- 3- سلامتی کونسل کے کام مندرجہ ذیل ہیں:
- (i) دنیا میں امن و امان قائم رکھنا

(ii) کسی بھی ملک کے ذریعے بھیجی گئی شکایت پر کارروائی کرنا

(iii) اپنے منصوبوں کو لاگو کرنے کی کارروائی کرنا

(iv) جھگڑوں کا حل تلاش کرنا

4- یاد رکھنے لائق نکات کا مطالعہ کریں

5- ایمنسٹی انٹرنیشنل انسانی حقوق کی حفاظت کرنے والا ایک بین الاقوامی ادارہ ہے۔ یہ ادارہ انسانی حقوق سے جڑی رپورٹ تیار کرتا ہے اور انھیں شائع کرتا ہے جو انسانی حقوق کی طرفداری میں ایک اہم رول ادا کرتی ہیں۔

6- یاد رکھنے لائق نکات کا مطالعہ کریں

### پانچ نمبر والے سوالات کے جوابات

1- (i) امریکہ

(ii) اس شخص کے ہاتھ میں اقوام متحدہ کا نشان ہے جو امن و امان کا مظہر ہے اور بائیں ہاتھ میں پنچہ ہے جو جنگ کو ظاہر کرتا ہے

(iii) اس بیان کا یہ مطلب ہے کہ امریکہ کا کہنا ہے کہ اگر کوئی ملک اس کی بات کو پرامن طریقے سے نہیں مانے گا تو اسے جنگ کا سامنا کرنا پڑے گا۔

2- (i) امریکہ

(ii) دنیا کا نقشہ

(iii) زیتون کی پتیاں ہیں جو عالمی امن کو ظاہر کرتی ہیں۔

3- (i) 1945 میں۔

(ii) 24 اکتوبر 1945 میں دنیا میں امن و سلامتی کو بنائے رکھنے کے لئے۔

(iii) تاکہ مستقبل میں کسی بھی بھیانک جنگ کو روک کر دنیا میں امن و سلامتی کو بنائے رکھا جاسکے۔

## چھ نمبر والے سوالات کے جوابات

- 1- یاد رکھنے لائق نکات کا مطالعہ کریں
- 2- یاد رکھنے لائق نکات کا مطالعہ کریں
- 3- یاد رکھنے لائق نکات کا مطالعہ کریں
- 4- یاد رکھنے لائق نکات کا مطالعہ کریں
- 5- مندرجہ ذیل اسباب کی وجہ سے اقوام متحدہ میں سدھاروں کی ضرورت محسوس ہو رہی ہے۔
  - (i) سلامتی کونسل اب سیاسی حقیقت کی نمائندگی نہیں کرتی
  - (ii) اس کے فیصلوں پر مغربی ممالک کے مفاد کا اثر نظر آتا ہے
  - (iii) سلامتی کونسل میں برابر کی نمائندگی نہیں ہے
  - (iv) اس کے فیصلوں پر چند ملکوں کا دباؤ ہے، خاص طور سے ان ملکوں کا جو اقوام متحدہ کے بجٹ میں زیادہ سے زیادہ مالی امداد کرتے ہیں۔
- 6- یاد رکھنے لائق نکات کا مطالعہ کریں
- 7- بین الاقوامی اداروں اور تنظیموں کے جوابدہ ہونے کی حمایت میں دلائل
  - (i) جنرل اسمبلی میں دنیا کے تمام ملکوں کی مساوی ممبر شپ
  - (ii) معاشی ترقی کے لیے کئی اکائیاں قائم
  - (iii) ملکوں میں جمہوریت کی حفاظت کے لیے اقوام متحدہ مسلسل کوشاں ہے
  - (iv) اقوام متحدہ کی اکائیاں انسانی حقوق کے حفاظت کے لیے کام کرتی ہیں
  - (v) انسانی ترقی (تعلیم، علاج) وغیرہ پر زور
  - (vi) ماحولیاتی سلامتی پر زور

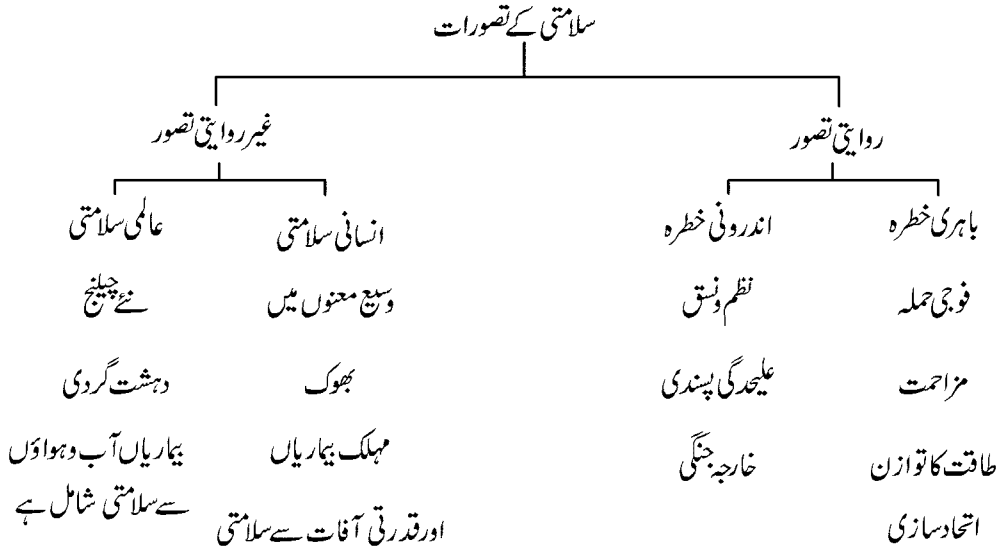
مندرجہ بالا دلائل کی بنیاد کے باوجود بھی اقوام متحدہ میں کچھ ملکوں کا لگا تار دبدبہ بڑھتا ہی جا رہا ہے چاہے وہ سلامتی کونسل میں ممبران کی تعداد کو بڑھانے کی بات ہو یا سلامتی کونسل میں ویٹو کا استعمال ہو وغیرہ..... اقوام متحدہ جیسے ادارے کے جمہوری ہونے پر بھی سوالیہ نشان لگتے ہیں۔

# باب۔ سات

## دور حاضر میں سلامتی اور تحفظ

### یاد رکھنے لائق نکات

- انسان کی زندگی کا اہم مرکز سلامتی ہی ہے اپنے شہریوں کی سلامتی کے لئے دنیا کے تقریباً سبھی ممالک ایک جیسی فکر میں ہیں
- سلامتی کے معنی انسانی زندگی میں شامل خطروں کو دور کرنا تاکہ انسان پر امن زندگی گزار سکے

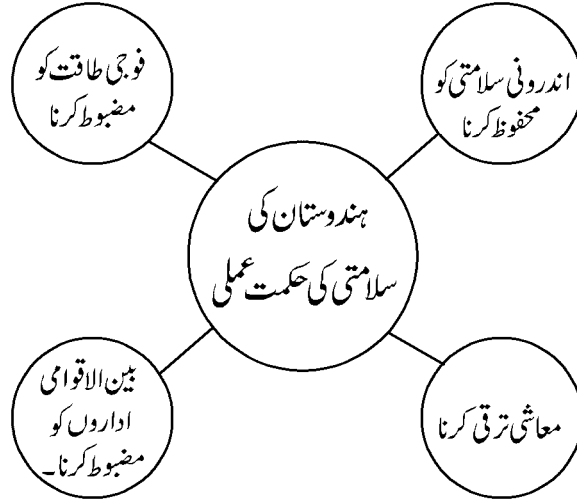


- باہری سلامتی کے تحت خطرے کا زریعہ کوئی دوسرا ملک ہوتا ہے جو فوجی حملے کی دھمکی دے کر اقتدار اعلیٰ، خود مختاری اور حدود ارضی کے استحکام کی بنیادی قدروں کو خطرے میں ڈال دیتا ہے۔
- سلامتی کی پالیسی کا تعلق جنگ کو ٹالنے سے ہے جسے ”مزاحمت“ کہا جاتا ہے۔
- سلامتی کی روایتی پالیسی کے تحت ملک ”طاقت کے توازن“ کا بھی بہت دھیان رکھتا ہے اور اپنی فوجی طاقت کے ساتھ معاشی طاقت اور ٹیکنالوجی بڑھانے میں لگا رہتا ہے۔
- کسی ملک یا گٹھ بندھن کے مقابلے میں اپنی طاقت کا اثر بڑھانے کے لیے ملک گٹھ بندھن بناتے ہیں۔ گٹھ بندھن قومی مفادات پر منحصر ہوتے ہیں۔ قومی مفاد بدل جانے پر گٹھ بندھن بھی بدل جاتے ہیں۔



- سلامتی کے روایتی طریقے: تخفیف اسلحہ، ہتھیاروں پر کنٹرول اور یقین کی بحالی
- سلامتی کے داخلی تصور کے تحت ملک کے اندر امن و امان اور قانونی نظم و نسق ہو۔ ایشیا اور افریقہ کے نئے آزاد ملکوں کے ساتھ اندرونی فوجی بغاوتیں، خانہ جنگی اور علاحدگی پسند تحریکیں تشویش کا سبب ہیں۔
- سلامتی کا غیر روایتی نظریہ فوجی خطرات کے ساتھ ساتھ انسانی وجود پر آنے والے خطروں سے جڑا ہوا ہے۔ جس میں انسانی وجود کو نقصان پہنچانے والے خطروں اور اندیشوں کو شامل کیا جاتا ہے جیسے اناج کی قلت، قحط، موذی بیماری، قدرتی آفات اور گلوبل وارمنگ وغیرہ۔ بین الاقوامی دہشت گردی بھی اس میں شامل ہے۔
- سلامتی کے غیر روایتی تصور کے دو پہلو ہیں: انسانی سلامتی اور عالمی سلامتی
- سلامتی کے غیر روایتی تصور کے تحت دنیا کے لیے:
  - دہشت گردی
  - انسانی حقوق
  - عالمی غربی
  - ہجرت کرنے والے لوگوں کا مسئلہ
  - بیماریاں جیسے ایڈس، برڈ فلوا اور SARS وغیرہ شامل ہیں۔
- باہمی تعاون کی سلامتی
  - غیر روایتی خطرات سے نمٹنے کے لیے فوجی کارروائی کا استعمال نہ کر کے بین الاقوامی تعاون (باہمی تعاون) کی مدد سے پالیسیاں بنائی جاتی ہیں۔ اگرچہ آخری حل کی شکل میں طاقت کا استعمال کیا جاسکتا ہے۔
  - باہمی تعاون میں مختلف ملکوں کے علاوہ بین الاقوامی ادارے (اقوام متحدہ، عالمی بینک وغیرہ)، ذاتی خدمات کی تنظیمیں (ریڈ کراس، ایمنسٹی انٹرنیشنل وغیرہ) کاروباری تنظیمیں اور مشہور شخصیات جیسے نیلسن منڈیلا، مدرٹریسا وغیرہ شامل ہو سکتی ہیں۔

## ● بھارت کی سلامتی حکمت عملی



### ایک نمبر والے سوالات

مندرجہ ذیل سوالات میں دیئے گئے مختلف انتخابات میں سے صحیح کو چنیں۔

1- مندرجہ ذیل معاہدوں میں سے ترک اسلحہ سے متعلق معاہدے کا انتخاب کریں۔

(i)	1992 کا BWC معاہدہ	(ii)	NPT
(iii)	1972 کا ABM معاہدہ	(iv)	کیڈو پروٹوکول
-A	i, ii, iii,	-B	ii, iv
-C	ii, iii, iv	-D	i, ii, iii, iv

2- ایشیا اور افریقہ کے نئے آزاد ممالک کے سامنے کون سی سلامتی کی چنوتی تھی۔

-A ان ممالک کے سامنے علیحدگی پسند تحریکوں سے خطرہ تھا۔

-B ان ممالک کے سامنے سرحدی تنازعے تھے۔

- C - آبادی پر کنٹرول کو لے کر باہمی تعاون کی پالیسی تھی۔
- D - انہیں اندرونی فوجی تنازعے کی بھی فکر کرنی تھی۔
- 3- مندرجہ ذیل میں سے کس سال چین کے ذریعے ہندوستان پر حملہ کیا گیا۔
- 1947-48 -A  
1962 -B
- 1965 -C  
1971 -D
- 4- خالی جگہ بھریں۔
- کسی ملک کے اندر خطروں سے بچنے کے لیے نظام کو..... کہتے ہیں۔
- 5- جو لوگ قومی سرحدوں کے اندر اپنا کاروبار چھوڑ چکے ہوتے ہیں انہیں..... کہا جاتا ہے۔
- 6-..... سیاسی انسانی حقوق کے تحت آتے ہیں۔
- 7- سلامتی سے کیا مراد ہے؟
- 8- مزاحمت کسے کہتے ہیں؟
- 9- NPT کو مکمل کر کے لکھیں۔
- 10- شمالی نصف کرہ اور جنوبی نصف کرہ کے ممالک میں خاص فرق کیا ہیں۔
- 11- ملک کی کوئی دو مرکزی قدریں بتائیں۔

### دو نمبر والے سوالات

- 1- روایتی سلامتی سے کیا مراد ہے؟
- 2- باہمی تعاون کی سلامتی سے کیا مراد ہے؟
- 3- اندرونی طور سے پناہ لینے والے لوگوں سے کیا مراد ہے؟ کوئی ایک مثال بیان کیجیے۔
- 4- تارکین وطن اور پناہ گزینوں کے درمیان کیا فرق ہے؟

- 5- گٹھ بندھن بنانا کس طرح رسمی سلامتی پالیسی کا ایک اجزا ہے
- 6- ترک اسلحہ سے کیا مراد ہے۔
- 7- مندرجہ ذیل کو ملا کر لکھیں
- (i) پناہ گزین ..... فوجی طاقت سے متعلق بیرونی و اندرونی خطرات سے سلامتی
- (ii) داخلی طور سے اجڑے لوگ ..... دلائلی لامہ
- (iii) روایتی سلامتی ..... کشمیری پنڈت
- (iv) غیر روایتی سلامتی ..... عالمی سلامتی اور انسانی سلامتی

### چار نمبر والے سوالات

- 1- بھارت کی سلامتی پالیسی کو تفصیل سے بیان کریں۔
- 2- عالمی غریبی کس طرح انسانیت کے لیے ایک سنگین خطرہ ہے؟
- 3- سلامتی کے دور روایتی طریقے مثالوں کے ساتھ بیان کیجیے۔
- 4- طاقت کا توازن کیا ہے؟ کوئی ملک اسے کیسے قائم کرتا ہے؟

### پانچ نمبر والے سوالات

- 1- مندرجہ ذیل تصویر کو دھیان سے دیکھیں اور سوالات کا جواب دیں



- (i) تصویر میں دکھائے گئے مسائل کے لیے کون سے عوامل ذمہ دار ہیں؟
- (ii) کیا ان مسائل کے علاوہ بھی اور مسائل ہیں؟ کنہیں دو عالمی مسائل کا ذکر کریں۔
- (iii) ان مسائل سے دنیا کیسے نمٹ سکتی ہے؟

2- مندرجہ ذیل پیرا گراف کو دھیان سے پڑھیے اور متعلقہ سوالات کے جواب دیجیے

”صرف ملک ہی نہیں انسانوں اور تنظیموں یا یہ کہا جائے کہ تمام انسانیت کو سلامتی کی ضرورت ہے۔ اگرچہ اس بات میں فرق پایا جاتا ہے کہ ایسے کون سے خطرات ہیں جن سے انسان کو بچایا جانا چاہیے۔ وسیع معنی میں انسانوں و دیگر طبقات کو خون خرابے سے بچانا انسانیت کی سلامتی ہے جبکہ عام اصطلاح میں یہ ”محرومی سے نجات“ اور ”خوف سے نجات“ ہے۔

- 1 (i) اس پیرا گراف میں مصنف سلامتی کے کون سے تصور کی جانب اشارہ کر رہا ہے؟
- 2 (ii) سلامتی سے کیا مراد ہے؟
- 2 (iii) انسانی سلامتی کے لیے کیا خطرے ہیں؟

### چھ نمبر والے سوالات

- 1- بیرونی سلامتی کے روایتی تصور سے کیا مراد ہے؟ اس طرح کی سلامتی کے دو عناصر بیان کیجیے۔
- 2- اندرونی اور بیرونی سلامتی کے روایتی تصور سے کیا مراد ہے؟
- 3- ”ملک کے سامنے فی الحال جو خطرات موجود ہیں ان میں ایٹمی ہتھیاروں کی سلامتی یا مزاحمت کے لیے بڑا محدود استعمال رہ گیا ہے“۔ اس بیان کو تفصیل سے بتائیے۔
- 4- بھارت کے تصور کو دھیان میں رکھتے ہوئے کس طرح کی سلامتی کو ترجیح دی جانی چاہیے۔ روایتی یا غیر روایتی۔ اپنے جواب کی وضاحت میں آپ کیا خیال پیش کریں گے؟ (Imp)

### ایک نمبر والے سوالات کے جوابات

- A -1
- C -2

- 3 B
- 4 حکومت
- 5 اندرونی طور سے ہجرت کرنے والے لوگ
- 6 خیال کا اظہار اور جلسے کرنے کی آزادی
- 7 خطرے کی آزادی
- 8 جنگ کا اندیشہ ہونا
- 9 Nuclear Nonproliferation Treaty
- 10 شمالی نصف کرہ کے زیادہ تر ممالک ترقی یافتہ ہیں جبکہ جنوبی نصف کرہ کے ممالک ترقی پذیر ہیں۔
- 11 اقتدارِ اعلیٰ اور علاقائی یک جہتی

### دو نمبر والے سوالات کے جوابات

- 1 فوجی حملہ جس کا ذریعہ کوئی دوسرا ملک ہوتا ہے جو فوجی حملے کی دھمکی دے کر کسی ملک کی مرکزی اقتدار، جیسے انتشار، آزادی اور علاقائی سالمیت وغیرہ کے لیے خطرہ پیدا کرتا ہے۔
- 2 غیر روایتی خطروں سے نپٹنے کے لیے فوجی معاہدے کے بجائے بین الاقوامی تعاون سے حکمت عملی تیار کرنا
- 3 ہجرت کرنے والے وہ لوگ جو اپنا گھر چھوڑ کر اپنے ہی ملک کی حدود میں رہتے ہیں ان کو داخلی طور سے اجڑے ہوئے لوگ کہا جاتا ہے جیسے جموں و کشمیر ریاست سے کشمیری پنڈت جو بھارت کے مختلف حصوں میں رہنے پر مجبور ہیں۔
- 4 تارکین وطن وہ لوگ ہیں جو اپنی خوشی اور سہولت کے مطابق اپنا وطن چھوڑتے ہیں اور پناہ گزین وہ لوگ ہیں جو اپنے وطن کو جنگ، قدرتی تباہ کاری یا سیاسی جبر کی وجہ سے چھوڑتے ہیں۔
- 5 گٹھ بندھن نظام میں اس طرح کا معاہدہ کیا جاسکتا ہے کہ کچھ خاص حالات میں دونوں لوگ ایک دوسرے کی مدد کر سکتے ہیں۔
- 6 ترک اسلحہ سے مراد ہتھیاروں کے بنانے یا ان کو حاصل کرنے پر پابندی لگانا ہے۔

- 7- (i) پناہ گزین ..... دلائی لاما
- (ii) داخلی طور سے اجڑے ..... کشمیری پنڈت
- (iii) روایتی سلامتی ..... فوجی طاقت سے متعلق بیرونی و اندرونی خطرات سے سلامتی
- (iv) غیر روایتی سلامتی ..... عالمی سلامتی اور انسانی سلامتی

### چار نمبر والے سوالات کے جوابات

- 1- (i) فوجی صلاحیت کو مضبوط کرنا
- (ii) بین الاقوامی اداروں کا احترام
- (iii) اندرونی سلامتی کے مسئلے کو حل کرنا
- (iv) معاشی استحکام/ مضبوطی
- 2- (i) معاشی نابرابری
- (ii) پناہ گزین
- (iii) تارکین وطن (تفصیل سے)
- 3- ■ تخفیف اسلحہ..... 1972 کی Biological Weapons Treaty
- ہتھیاروں پر کنٹرول..... 1972 کی Anti-ballistic Missile Treaty
- یقین کی بحالی..... ایک دوسرے ملک کے درمیان اطلاعات کو فروغ دینا..... (کوئی دو)
- 4- ■ طاقت کا توازن ایک ایسا نظام ہے جس میں لگاتار یہ کوشش رہتی ہے کہ کوئی ملک طاقتور بن کر موجودہ طاقت کے توازن کو بگاڑ نہ دے۔
- اپنی فوجی طاقت بڑھا کر
- معاشی ٹیکنالوجی کی طاقت بڑھا کر

## پانچ نمبر والے سوالات کے جوابات

- 1- (i) دہشت گردی کے لیے غریبی۔ بے روزگاری، تنگ نظریہ۔ قدرتی آفات کے لیے بڑھتی ہوئی آبادی وسائل کا زیادہ سے زیادہ استعمال ماحول کو برباد ہونا وغیرہ عوامل ذمہ دار ہیں۔
- (ii) ہاں ان کے علاوہ انسانی حقوق کی پامالی، عالمی غریبی، مہلک بیماریاں، گلوبل وارمنگ جیسے مسائل ہیں۔
- (iii) ان مسائل سے نمٹنے کے لئے دنیا کے سبھی ممالک کے بیچ باہمی تعاون کی ضرورت ہے۔ یہ تعاون دو طرفہ علاقائی اور عالمی سطح کا بھی ہو سکتا ہے۔
- 2- (i) سلامتی کا غیر روایتی تصور
- (ii) خطرے سے آزادی
- (iii) غریبی، بیماریاں، ماحولیاتی تبدیلی اور دہشت گردی وغیرہ

## چھ نمبر والے سوالات کے جوابات

- 1- بیرونی سلامتی کا روایتی تصور: کسی ملک کو سب سے بڑا خطرہ فوجی خطرہ مانا جاتا ہے۔
- بیرونی سلامتی کے عناصر:
- (i) بیرونی حملے کے خلاف اپنی حفاظت کرنا یا اس کو روکنا
- (ii) جنگ کو ٹالنا
- (iii) طاقت کا توازن / گٹھ بندھن بنانا
- 2- اندرونی سلامتی کا روایتی تصور:
- روایتی سلامتی کا تصور اندرونی سلامتی کے ساتھ جڑا ہوا ہے۔ دوسری جنگ عظیم کے بعد زمین پر سب سے زیادہ طاقتور ممالک کی اندرونی سلامتی کم و بیش پہلے سے قائم تھی۔ 1945 کے بعد امریکہ اور سوویت یونین میں یکجہتی دکھائی دی تھی اور وہ اپنی سرحدوں میں امن کی امید کر سکتے تھے۔ یورپ میں زیادہ طاقتور ممالک کے سامنے اپنی سرحدوں میں کوئی چٹوٹی نہیں تھی۔



## بیرونی سلامتی کا روایتی تصور

دوسری جنگ عظیم کے بعد کا وقت سرد جنگ کا زمانہ تھا جس میں امریکہ کی قیادت میں مغربی گٹھ بندھن کے سامنے سوویت یونین کی قیادت میں جنوبی گٹھ بندھن تھا۔ دونوں کو ایک دوسرے سے فوجی حملے کا خطرہ تھا۔ کچھ یورپی طاقتوں کو اپنی نوآبادیات میں آزادی کی مانگ کرنے والی عوام کے تشدد کی فکر تھی۔

- 3- نئے نئے خطرے دنیا کے سامنے آرہے ہیں جیسے عالمی درجہ حرارت کا بڑھنا، موذی بیماریاں اور غربتی وغیرہ
- قحط، موذی بیماریاں اور قدرتی آفات سے مرنے والے لوگوں کی تعداد جنگ، دہشت گردی سے مرنے والے لوگوں کے مقابلے میں زیادہ ہے۔
  - ایٹمی ہتھیار، قحط، وبائی امراض (مہما ماریاں) اور قدرتی آفات کو روکنے میں..... نہیں ہیں۔

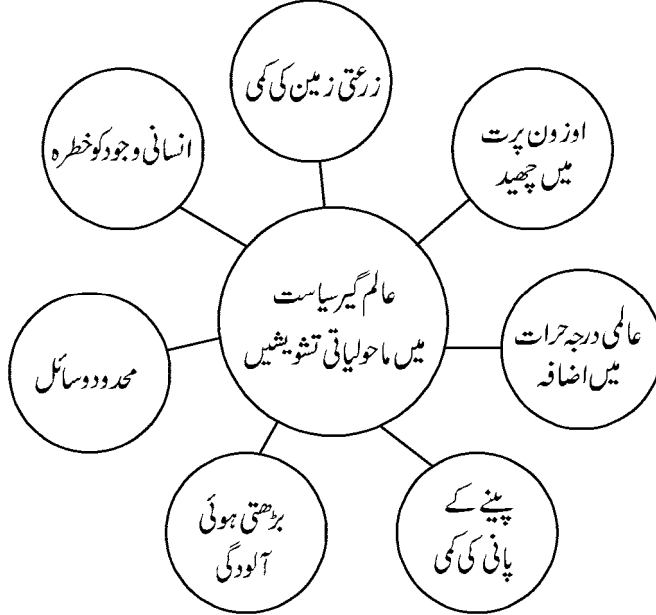
- 4- بھارت سے متعلق دونوں ہی خطرے مساوی طور سے کافی سنجیدہ ہیں
- بھارت کو 48-1947، 1965، 1971 اور 1999 میں پاکستان کے ساتھ جنگی حملوں کا سامنا کرنا پڑا جب کہ 1962 میں چین نے بھارت پر فوجی حملہ کیا تھا۔
  - کشمیر اور شمال مشرقی ریاستوں کی سرحدیں بین الاقوامی ہونے کی وجہ سے کافی تناؤ اور کشیدگی کا سبب ہیں۔
  - بھارت بین الاقوامی اداروں کو مضبوطی دینے اور عالمی امداد کے حق میں اپنا مکمل تعاون دے رہا ہے۔
  - غربتی، وبائی امراض اور دہشت گردی سے بھی لگاتار بھارت کو مقابلہ کرنا پڑ رہا ہے۔

# باب۔ آٹھ

## ماحولیات اور قدرتی وسائل

### یاد رکھنے لائق نکات

- ماحولیات: آس پاس کے حالات جس میں انسان رہتا ہے اور چیزیں ملتی ہیں ان کا فروغ ہوتا ہے۔ ماحولیات قدرتی پیڑ پودوں اور جنگلی جانوروں پر مشتمل ہے۔
- قدرتی وسائل: قدرت سے حاصل انسان کے استعمال کے ذرائع
- موجودہ عالمی سیاست میں ماحولیات اور قدرتی وسائل ایک ایسا موضوع ہے جس کے بارے میں فکر لازمی ہے۔ جس کی خاص وجہ کھیتی کے لائق زمین کی کمی۔ چراگاہ اور مچھلی ذخائر میں تنزلی۔ آبی آلودگی اور صاف پینے کے پانی کی کمی۔ جنگلات کی کٹائی۔ حیاتیاتی اختلاف کا ختم ہونا اور اوزون پرت کو نقصان اور ساحلی علاقوں میں بڑھتی آلودگی ہے۔



● ماحولیات کے تحفظ کے لئے عالمی کوششیں:-

آلودگی

نمبر شمار	سال	کوشش	نتائج
-1	1972	کلب آف روس نے Limits to growth کتاب شائع کی	اس میں بڑھتی ہوئی آبادی کے سبب قدرتی وسائل کے اندیشوں کو بتایا گیا ہے۔
-2	1972	اشاک ہوم	Human Envirnment کانفرنس کرائی گئی جس میں ایک ہی زمین کی گونج سنائی دی۔
-3	1970	UNEP کے ذریعے مختلف کانفرنس	ماحولیات کے مسائل پر زیادہ کارگر اور زیادہ سلجھی ہوئی پہل قدمیوں کی شروعات ہوئی۔
-4	1987	Montreal پروٹوکول	یہ اوزون کی تنزلی کو روکنے کے لیے کیا گیا۔
-5	1987	برٹ لینڈر رپورٹ	اس میں بتایا گیا تھا کہ معاشی ترقی کے یہ جاری طریقے آگے چل کر ٹکاؤ ثابت نہیں ہوں گے۔
-6	1992	Our Common Future برازیل (ریوڈی جنیریلو) ارضی کانفرنس	• 170 ممالک ہزاروں خود امدادی تنظیموں اور کئی ملٹی نیشنل کمپنیوں نے حصہ لیا۔
-7	1997	کیوٹو پروٹوکول	ماحولیاتی تحفظ کو لے کر ترقی یافتہ اور ترقی پذیر ممالک کے بیچ فرق تھا۔ ترقی یافتہ ممالک کی فکر اوزون پرت میں چھید اور عالمی درجہ حرارت کو لے کر تھی۔ ترقی پذیر ممالک اپنے اور ماحول کے تحفظ کے بیچ توازن قائم کرنے کے لئے فکر مند تھے۔ ایجنڈا 21 اس میں ترقی کے طریقے سمجھائے گئے یہ کیا گیا کہ معاشی ترقی کا طریقہ ایسا ہونا چاہیے جس سے ماحول کو کوئی نقصان نہ پہنچے۔ اسے ہی ٹکاؤ ترقی بھی کہا گیا۔
-8	2002	جوہانسبرگ (جنوبی افریقہ) دوسری ارضی کانفرنس	صنعتی ممالک کے لئے گرین ہاؤس گیسوں کے اخراج کو کم کرنے کے لئے مقاصد تعین کئے گئے۔ بنیادی طور سے عرصہ دراز ترقی پر مرکوز تھا۔ • سابق راشرپتی جارج ہش نے اس کا بائیکاٹ کیا تھا۔ • چین اور روس نے 1997 کے کیوٹو پروٹوکول پر رضامندی دے دی تھی۔

<p>برازیل نے ایک تجویز کے ذریعے سے 2010 تک دنیا بھر میں گل توانائی کے استعمال کا 10% غیر رسمی زراعتوں سے ہونے کا مقصد رکھا تھا۔</p>			
<p>• اس میں CoP-3 کے نام سے بھی ارضی کانفرنس جانی جاتی تھی۔ • کیوٹو پروٹوکول پر بات چیت ہوئی۔ مشرق میں ماحول کو لے کر کی گئی کوششوں کا تجزیہ کیا گیا۔ • 2009 تک اگلی کانفرنس سے پہلے کچھ ٹھوس روڈ میپ اور طے شدہ مقاصد کو تیار کیا گیا۔</p>	<p>ہالی (انڈونیشیا) تیسری کانفرنس</p>	<p>2007</p>	<p>-9</p>
<p>2012 میں ختم ہونے والے کیوٹو معاہدے کو آگے لاگو کرنے کے پیمانے کا تعین کرنا۔ زمین کا درجہ حرارت 2°C سے زیادہ نہ کرنے پر اتفاق ہوا۔ کاربن کے اخراج میں کٹوتی کو کہا گیا۔</p>	<p>کوپین ہیگن کانفرنس</p>	<p>2009</p>	<p>-10</p>
<p>گرین ہاؤس گیسوں کے اخراج میں کٹوتی کی بات بھی کہی گئی۔</p>	<p>کانگن کانفرنس</p>	<p>2010</p>	<p>-11</p>
<p>پہلی ارضی کانفرنس کے 20 سال بعد ریو میں یہ کانفرنس ہو رہی تھی اس لئے ریو+20 کہا گیا۔ اس میں نئی ابھرتی چنوتیوں کو حل کرنا مقصد تھا ریو کانفرنس کا تجزیہ کیا گیا۔</p>	<p>CoP-16 ریو+20 ریو چینی ریو</p>	<p>2012</p>	<p>-12</p>
<p>یہ کہا گیا کہ سبھی ممبر ممالک یقیناً 2015 کے پہلے سہ ماہی تک کاربن کے اخراج میں کٹوتی کریں گے۔</p>	<p>فارسا COP-19</p>	<p>2013</p>	<p>-13</p>
<p>• یہ 2020 تک لاگو ہوگا۔ • عالمی درجہ حرارت میں بڑھوتری کو 2°C کے قریب محدود کرنا۔ • ہندوستان نے 2 اکتوبر 2016 کو دستخط کئے اور 2030 تک اپنے اخراجات کی تیزی کو 2015 کے مقابلے میں 33-35% تک کم کرنے کا مقصد رکھا ہے۔</p>	<p>پیرس سمجھوتہ CoP-19 Conference of Parties</p>	<p>2015</p>	<p>-14</p>
<p>• امریکہ نے خود کو اس سمجھوتے سے الگ رکھا ہے۔ • ترقی پذیر ممالک کے ذریعے مقرر انشدانی کو حاصل کرنے کے لئے ضروری مالی مدد مہیا کرنا اس کا خاص موضوع تھا۔</p>	<p>CoP-22 ماراکیش (مورٹو)</p>	<p>2016</p>	<p>-15</p>

<ul style="list-style-type: none"> <li>• کونسل کے استعمال کو محدود کرنے پر رضامندی۔</li> <li>• جنس سے متعلق عوامل کو پہچان کی تعمیر۔</li> <li>• مقامی لوگوں کی رائے کو اہمیت۔</li> <li>• زراعت کے وسیلے سے ہونے والے گرین ہاؤس اخراج کے مددے پر بحث و مباحثہ کا فیصلہ ہے۔</li> <li>• ٹلناؤ وارثا۔ مختلف ممالک کے ذریعے کی جانے والی کوششوں کو جانچنے کی ایک کارروائی ہے۔</li> <li>• یہ اس سال 2018 میں منظم کی جائے گی۔</li> </ul>	<p>CoP-23 جان (جرمنی)</p> <p>2017 -16</p> <p>پولینڈ CoP-2</p> <p>2018 -17</p>
--	---

### ● مشترکہ ملکیت:

ان وسائل کو کہتے ہیں جن پر کسی ایک کا نہیں بلکہ تمام کمیونٹی کا حق ہوتا ہے جیسے مشترکہ خاندان کا چولہا، چراگاہ، میدان، کنویں اور ندیاں وغیرہ۔ اسی طرح دنیا کے کچھ حصے ہیں جن پر دنیا کے کسی ایک ملک کا حق نہیں ہوتا بلکہ ان کا انتظام ملی جلی یا بین الاقوامی کمیونٹی کی ذمہ داری ہوتی ہے۔ انھیں عالمی جائیداد یا پھر انسانیت کی سماجی وراثت کہا جاتا ہے۔ اس میں خطہ ارض کا ماحول، انٹارٹیکا، سمندری سطح اور خلا شامل ہیں۔ اس جانب کچھ اہم معاہدے جیسے انٹارٹیکا معاہدہ 1959-1987 کا منٹریل پروٹوکال اور 1991 کی انٹارٹیکا ماحولیاتی پروٹوکول ہیں۔

### ● مشترکہ ملکیت الگ الگ ذمہ داری:

عالمی مشترکہ ملکیت کے تحفظ کو لے کر ترقی پذیر اور ترقی یافتہ ممالک کے خیالات الگ الگ ہیں ترقی یافتہ ممالک اس کو تحفظ کی ذمہ داری سبھی ممالک میں یکساں بانٹنے کے حق میں ہیں لیکن ترقی پذیر ممالک دو بنیاد پر ترقی یافتہ ممالک کی اس پالیسی کی مخالفت کرتے ہیں پہلا یہ کہ مشترکہ ملکیت کو آلودہ کرتے ہیں ترقی یافتہ ممالک کا کردار زیادہ ہے۔ دوسرا یہ کہ ترقی پذیر ممالک ابھی ترقی کر رہے ہیں اس لئے مشترکہ ملکیت کے تحفظ کے سلسلے میں ترقی یافتہ ممالک کی ذمہ داری بھی زیادہ ہونی چاہیے۔ اور ترقی پذیر ممالک کی ذمہ داری کم ہونی چاہیے۔

● بھارت نے بھی ماحولیاتی تحفظ کے پروگراموں کے توسط سے اپنے حصہ داری پیش کی ہے۔

### ● ماحولیاتی تحفظ اور بھارت

- 2002 میں کیوٹو پروٹوکول پر دستخط
- 2005 میں ممالک G-8 کے اجلاس میں ترقی یافتہ ملکوں کے ذریعے کی جارہی گرین ہاؤس گیسوں کے اخراج

کے سلسلے میں کمی پر زور

- 2001 میں توانائی کے تحفظ کا قانون پاس کیا۔
- صاف ایندھن مثلاً قدرتی گیس اور آلودگی سے مبرا تکنیکوں پر زور (نیشنل آٹومینول پالیسی)
- 2003 میں بجلی قانون میں قابل تجدید توانائی کے استعمال کو بڑھاوا
- ہندوستان میں بائیو ڈیزل سے متعلق ایک قومی مشن پر کام چل رہا ہے۔
- بھارت میں ماحول کے تحفظ اور سلامتی کے لیے National Green Tribunal (NGT) کی تشکیل کی گئی۔

- ہندوستان دنیا کا پہلا ملک ہے جہاں Renewable Energy کے لیے الگ منسٹری ہے۔
- بھارت سارک کی مدد سے سبھی ملکوں کے ذریعے ماحولیاتی تحفظ سے متعلق ایک رائے قائم کرنا چاہتا ہے۔
- ہندوستان میں ماحول کے تحفظ کے لئے 2010 میں National Green Techonology کی تشکیل کی گئی

- ہندوستان نے پیرس سمجھوتے پر 2 اکتوبر 2016 میں دستخط کئے۔ 2030 تک ہندوستان نے اخراج کی تیزی کو 33-35% کم کرنے کا مقصد رکھا ہے۔

- CoP-23 میں ہندوستان پیڑوں کو لگانے اور جنگلاتی علاقے کے وسیلے سے 2030 تک سنک ہٹانے کا وعدہ کیا ہے۔

- ہندوستان خط سرطان اور خط جدتی کے بیچ سبھی ممالک کے ایک عالمی گٹھ بندھن کے مگھیا کی شکل میں کام کرے گا۔
- ماحولیاتی تحفظ کو لے کر مختلف ملکوں کی حکومتوں کے علاوہ مختلف حصوں میں منظم ماحولیاتی کارکنان نے بین الاقوامی اور مقامی سطح پر بہت سی تحریکوں کا آغاز کیا:

■ میکسیکو، چلی، برازیل، ملیشیا، انڈونیشیا، افریقہ اور بھارت میں جنگلاتی تحریکیں

■ آسٹریلیا میں معدنی صنعتوں کی مخالفت میں تحریکیں

- تھائی لینڈ، جنوبی افریقہ، انڈونیشیا، چین اور بھارت میں بڑے بڑے باندھ کے خلاف تحریکیں جن میں بھارت کا نرمد اپجاؤ آندولن مشہور ہے۔

● وسائل کی زمینی سیاست

جس ملک کے پاس جتنے زیادہ وسائل ہوں گے اس کی معیشت اتنی ہی مضبوط ہوگی۔ مغربی ملکوں کی ترقی کا اہم سبب ان کی ٹوآبادیات کا معاشی استحصال رہا ہے۔

- **عمارتی لکڑی:** مغربی ممالک نے کشتیوں، جہازوں کی تعمیر کے لیے دوسرے ملکوں کے جنگلات پر قبضہ کیا تاکہ ان کی بحریہ مضبوط ہو اور غیر ملکی تجارت میں اضافہ ہو۔
- **تیل کے ذخائر:** ترقی یافتہ ممالک نے تیل کے بے روک ٹوک سپلائی کے لیے سمندری راستوں پر فوج تعینات کی۔ سعودی عرب اور عراق دنیا کے بڑے تیل کی پیداوار کرنے والے ملک ہیں۔
- **پانی:** دنیا کے کئی حصوں میں پانی کا فقدان ہے عالمی سیاست کے لیے پانی بھی ایک اہم وسیلہ ہے۔ دنیا کے بہت سے علاقوں میں صاف پینے کے پانی کی لگاتار کمی ہو رہی ہے۔ یہ اندازہ لگایا گیا ہے کہ اکیسویں صدی میں پانی فساد کی جڑ نہ بن جائے۔

### ● اصل باشندے

اقوام متحدہ نے 1982 میں ان لوگوں کو اصل یا قدیمی باشندے بتایا جو ان لوگوں کی اولاد ہیں جو کسی مخصوص علاقے میں اس وقت آباد تھے جب کہ ایک دوسری نسل اور تمدن کے لوگوں نے دنیا کے دوسرے علاقوں میں وہاں آ کر بستیاں بسائیں اور ان پر حاکم ہو گئے۔ بھارت میں قدیمی باشندوں کے لیے شیڈیولڈ ٹرائس یا آدی باسی لفظ کا استعمال کیا گیا ہے۔ 1975 میں اصل باشندوں کی تنظیم (World Council of Indegenous People) قائم ہوئی۔ اصل باشندوں کی اہم مانگ یہ ہے کہ انہیں اپنی آزاد پہچان رکھنے والا سماج مانا جائے۔ دوسرے آزادی کے بعد سے چلی آ رہی ترقیاتی منصوبوں کے سبب ان لوگوں کے بے گھر ہونے اور ترقیاتی منصوبوں کے مطابق انہیں معاوضہ دے کر ان کی خوش حالی کو بحال کیا جائے۔

### ایک نمبر والے سوالات

خالی جگہیں بھریں۔

- 1- اوزون پرت میں چھید ہونے کی خاص وجہ.....گیس کی مقدار میں کمی کا ہونا ہے۔
- 2- مشترکہ..... کے وسائل کو لے کر ممالک کے بیچ تشدد ہوئے ہیں۔
- 3- ہندوستان میں اصل باشندے کے لیے..... لفظ کا استعمال کیا جاتا ہے۔  
صحیح متبادل چنیں۔
- 4- ریو اجلاس کب ہوا۔  
(A) 1992 (B) 1997 (C) 2002 (D) ان میں سے کوئی نہیں۔
- 5- دنیا کی سب سے پہلی باندھ مخالف تحریک کہاں ہوئی۔

(A) ہندوستان (B) کناڈا (C) آسٹریلیا (D) ناروے  
-6 شمال جنوبی اختلافات کیا ہیں۔

(A) شمال اور جنوبی سمت میں واقع ممالک کے بیچ ترقی کے لیے اختلافات  
(B) ترقی یافتہ اور ترقی پذیر ممالک کے بیچ ترقی کو لے کر اختلاف  
(C) دونوں ہی  
(D) ان میں سے کوئی نہیں۔

-7 مندرجہ ذیل میں سے کن وسائل کو لے کر زمینی سیاست کی جاتی رہی ہے۔

(i) عمارتی کٹری (ii) انٹرنیٹ (iii) تیل (iv) پانی  
(A) i, ii, iii, vi (B) i, ii, iii (C) ii, iii, iv (D) i, iii, vi

مندرجہ ذیل کو صحیح کر کے پھر سے لکھیں

- 8 کیوٹو پروٹوکول 1992 میں ہوا۔  
-9 پہلی ارضی کانفرنس جنوبی افریقہ میں ہوئی۔  
-10 تیل ذخائر میں سعودی عرب دوسرے نمبر پر ہے۔  
-11 کیوٹو پروٹوکول سے کیا مراد ہے؟  
-12 گلوبل وارمنگ کسے کہتے ہیں؟  
-13 عالمی آب و ہوا سے متعلق انٹارکٹیکا کی کیا اہمیت ہے؟  
-14 خطہ ارض میں گرین ہاؤس گیسوں کے بڑھنے سے کیا اثر پڑتا ہے؟  
-15 آب و ہوا میں تبدیلی اور عالمی درجہ حرارت کے بڑھنے کا کیا سبب ہے؟  
-16 ریو 20+ کیا ہے۔

## دو نمبر والے سوالات

- 1 Agenda-21 کیا ہے؟  
-2 ریو اجلاس کے دو نتائج کا ذکر کیجیے۔



- 3- ہندوستان اور چین کو کیوٹو پروٹوکول کی شرائط سے رعایت دینے کا کیا سبب تھا؟
- 4- اصل باشندوں کے وجود کو سب سے اہم خطرہ کیا ہے؟
- 5- آب و ہوا تبدیلی کے سلسلے میں امریکہ کی پالیسی میں کیا تبدیلی آئی ہے؟
- 6- زمین کے اوپری کرہ بادی میں کیا تبدیلیاں آرہی ہیں؟
- 7- دنیا کی مشترکہ ملکیت کے سائز میں لگاتار کمی کی کوئی دو وجہ بتائیں۔

### چار نمبر والے سوالات

- 1- مشترکہ ملکیت کی سلامتی سے متعلق بین الاقوامی سطح پر کیے گئے اقدامات بیان کیجیے۔
- 2- ماحولیاتی تحفظ کے تحت مشترکہ ذمہ داری لیکن الگ الگ رول سے متعلق بھارت کا نظریہ بیان کیجیے۔
- 3- اصل باشندے کون ہیں؟ ان کے حقوق پر بحث کیجیے۔ (Imp)
- 4- پائیدار ترقی کیا ہے؟ اسے کیسے لاگو کیا جاسکتا ہے؟
- 5- دنیا کے ساجھی وراثت کے کیا معنی ہیں اس کا استعمال اور اسے آلودہ کیسے کیا جا رہا ہے۔ (Imp)

### پانچ نمبر والے سوالات

مندرجہ ذیل پیرا گراف کو پڑھیں اور سوالات کا جواب دیں:

- 1- زمین کے ماحولیاتی نظام کی سالمیت اور صحت کو برقرار رکھنے حفاظت کرنے کے لیے ریاستیں عالمی ساجھی داری کے ساتھ تعاون کریں گی۔ ماحول کو خراب کرنے سے متعلق غیر یکساں (کم اور زیادہ) حصہ داری کو دھیان میں رکھتے ہوئے ریاستیں مشترکہ لیکن الگ الگ ذمے داریوں کو نبھائیں گی۔
- 1 حال ہی میں ماحول کی سالمیت اور صحت کو برقرار رکھنے کے لیے ریاستوں کی ساجھی داری کی ضرورت کیوں محسوس کی گئی؟
- 2 کیا دیوا اجلاس کے بعد ریاستوں نے اپنے کام نبھانے میں اس جذبے کو کتنا پورا کیا ہے۔



2

(iii) ماحولیات کے فیصلے کو لے کر امیر اور غریب ممالک کے نظریے میں کیا فرق ہے؟

-4 دیئے گئے دنیا کے نقشے میں پانچ ممالک (A) (B) (C) (D) (E) کی نشاندہی کی گئی ہے نیچے دی گئی جانکاری کی بنا کر انہیں پہچانیے اور ان کے صحیح نام استعمال کی گئی جانکاری کے سیریل نمبر اور متعلق حروف کے ساتھ مندرجہ ذیل جدول میں لکھیں۔

ملک کا نام	متعلق حروف	استعمال کی گئی جانکاری کا سیریل نمبر
		i
		ii
		iii
		iv
		v

(i) وہ ملک جہاں جون 1992 میں ارضی کانفرنس ہوئی۔

(ii) گرین ہاؤس گیسوں کے اخراج کا اہم ملک

(iii) باندھ مخالف ندی بچاؤ تحریک کے لیے جانا جاتا ہے۔

(iv) کیوٹو پروٹوکول کی پابندیوں سے آزاد رکھا گیا ملک۔

(v) دنیا میں معدنی تیل کا دوسرے نمبر کا سب سے بڑا پیداواری ملک۔



## چہ نمبر والے سوالات

- 1- ”عالمی سیاست میں ماحولیات کی فکر لازمی ہے“ واضح کیجیے۔
- 2- ”سماجی ذمہ داری لیکن الگ الگ رول“ سے کیا مراد ہے؟ ہم اس خیال کو کیسے لاگو کر سکتے ہیں؟
- 3- دنیا میں ماحولیاتی آلودگی کی کیا وجوہات ہیں۔ اس کا تحفظ کیسے کیا جاسکتا ہے۔ اپنے خیالات واضح کریں۔

## ایک نمبر والے حالات کے جوابات

- 1- کاربن ڈائی آکسائیڈ
- 2- پانی
- 3- قبائلی
- 4- A
- 5- C
- 6- B
- 7- D
- 8- 1997 میں
- 9- برازیل
- 10- پیلے
- 11- کیوبو پروٹوکول جاپان کے شہر میں ہوئے ایک معاہدہ ہے کا نام ہے جس میں گرین ہاؤس گیسوں کے اخراج کی کمی کے مقاصد کو طے کیا گیا۔
- 12- ماحولیاتی آلودگی سے دنیا کے بڑھتے ہوئے درجہ حرارت کو گلوبل وارمنگ کہا جاتا ہے۔
- 13- عالمی آب و ہوا کو متوازن رکھتا ہے۔
- 14- گرین ہاؤس گیس اوزون کو نقصان پہنچاتی ہیں۔

- 15- بڑھتی ہوئی صنعتی ترقی
- 16- 1992 کی پہلی ارضی کانفرنس نے 20 سال بعد 2012 میں ریو میں پھر سے کانفرنس ہوئی جسے ریو+20 کہا گیا۔

### دونمبر والے سوالات کے جوابات

- 1- اس اجلاس میں ترقی کے کچھ طور طریقے سکھائے گئے جسے Agenda-21 کہا جاتا ہے۔
- 2- (i) گلوبل وارمنگ کو خاص فکر کی شکل میں ابھارا گیا۔  
(ii) پائیدار ترقی پر زور دیا گیا۔
- 3- کیوں کہ گرین ہاؤس گیسوں کا اخراج ان ممالک میں زیادہ نہیں تھا۔
- 4- اصل باشندوں کے وجود کو سب سے اہم خطرہ وہاں تیزی سے جنگلات کا کاٹنا جانا اور ان جنگلات میں جنگلی جانوروں کی تعداد میں کمی کا آنا ہے۔
- 5- راشٹر پتی اوباما کے دور میں اربوں ڈالر کی مدد عالمی درجہ حرارت کے مسئلہ سے نپٹنے کے لئے دی گئی تھی۔ جبکہ راشٹر پتی ٹرمپ نے یہ کہہ کر ایسا کرنے سے امریکہ کی GDP اگلے دس سال 2500 ارب ڈالر گھٹ کر کمزور ہو جائے گی امریکہ کو پیرس سمجھوتے سے الگ کر لیا ہے۔
- 6- اوزون پرت میں چھید جس کی وجہ سے انسانی صحت اور ماحول کو خطرہ ہوا۔
- 7- مشترکہ ملکیت کا اندھا دھند استعمال۔ بڑھتی ہوئی آبادی۔

### چار نمبر والے سوالات کے جوابات

- 1- یاد رکھنے لائق نکات کا مطالعہ کریں
- 2- بھارت کا خیال ہے کہ گرین ہاؤس گیسوں کا اخراج میں کمی کرنے کی زیادہ تر ذمہ داری ان ترقی یافتہ ممالک کی ہے جنہوں نے ایک طویل مدت تک ان گیسوں کا اخراج کیا ہے۔
- 3- یاد رکھنے لائق نکات کا مطالعہ کریں
- 4- ایسی ترقی جو ماحول کو نقصان پہچائے بغیر کی جائے۔
- 5- ایسی ملکیت جس پر کسی ایک فرد یا کمیونٹی کا حق نہیں بلکہ پوری عالمی کمیونٹی کا حق ہو مشترکہ ملکیت کہلاتی ہے (وجہ)

- (i) نجی کاری
- (ii) آبادی میں اضافہ
- (iii) ماحولیاتی نظام میں گراوٹ
- (iv) کاربن گیسوں کا زیادہ اخراج

### پانچ نمبر والے سوالات کے جوابات

- 1- طلبا خود کریں۔
- 2- (i) دنیا کے پر حصے میں صاف پینے کا پانی یکساں نہیں ہے۔
- (ii) کیوں کہ دنیا میں صاف پانی کی کمی ہے۔ کیوں کہ پانی ایک مشترکہ وسائل ہے۔
- (iii) اسرائیل۔ جارڈن۔ سیریا
- 3- (i) ترقی یافتہ اور ترقی پذیر ممالک کی جانب
- (ii) ریو قرار داد 1992، UNFCCC اور کیوٹو پروٹوکول 1997
- (iii) امیر ملکوں کا یہ کہنا کہ ماحولیات کے تحفظ کو لے کر سبھی ممالک کی ذمہ داری برابر ہونی چاہیے جب کہ غریب ممالک کے ماحولیات کو آلودہ کرنے میں ان ترقی یافتہ امیر ممالک کا سب سے زیادہ ہاتھ ہے۔ لہذا یہ ذمہ داری ان ہی ملکوں کو پوری کرنی چاہیے۔
- 4- (i) C برازیل
- (ii) B امریکہ
- (iii) E ہندوستان
- (iv) A چین
- (v) D عراق

## چھ نمبر والے سوالات کے جوابات

1- مندرجہ ذیل اسباب کی بنیاد پر عالمی سیاست میں ماحولیات کی فکر کرنا لازمی ہے:

- (i) بڑھتی ہوئی آلودگی
- (ii) اوزون پرت میں سوراخ
- (iii) تازہ پینے کے پانی کی کمی
- (iv) جنگلی جانوروں کو خطرہ
- (v) زرخیز زمین اور چراگا ہوں کا تیزی سے کم ہونا
- (vi) قدرتی وسائل میں تیزی سے کمی
- (vii) آبادی کا تیزی سے بڑھنا

2- یاد رکھنے لائق نکات کا مطالعہ کریں

3- دنیا میں ماحولیاتی آلودگی کی وجوہات:-

- 1- آبادی میں اضافہ
- 2- جنگلات کی کٹائی
- 3- صارفینی تہذیب کو بڑھاوا
- 4- وسائل کا ااندھا دھندا استعمال
- 5- صنعت کاری کو بڑھاوا
- 6- آمدورفت کے بہت زیادہ وسائل

تحفظ کے طریقے

- 1- آبادی پر کنٹرول

- 2 جنگلات کا تحفظ
- 3 ماحولیات کو صاف ستھرا رکھنے والی تکنیک کا استعمال
- 4 قدرتی وسائل کا متوازن استعمال
- 5 آمدورفت کے سرکاری وسائل کا استعمال
- 6 عوام کو بیدار کرنے والے پروگرام
- 7 بین الاقوامی تعاون



# باب۔ نو

## عالم گیریت

### یاد رکھنے لائق نکات:

- عالم گیریت کے معنی اشیا، سرمایہ، محنت اور خیالات کا دنیا کے ایک حصے سے دوسرے حصوں میں آزادانہ ہجرت
- عالم گیریت ایک ایسا عمل ہے جس کا بنیادی عنصر میل ملاپ ہے۔ یہ بین الاقوامی پس منظر میں مسلسل لازمی عمل ہے جو لگاتار بڑھ رہا ہے۔
- عالم گیریت کو فروغ دینے میں ایجادات کا زبردست ہاتھ ہے۔ عالم گیریت کے سبب ہی ملکوں کی نزدیکیاں بڑھی ہیں۔
- عالم گیریت کے اسباب
  - اعلیٰ ٹیکنالوجی اور عالمی میل ملاپ کے سبب آج دنیا ایک عالمی گاؤں کی شکل اختیار کر چکی ہے۔
  - ٹیلی گراف، ٹیلی فون، مائیکرو چپ، انٹرنیٹ اور اطلاعات کے دیگر ذرائع نے دنیا کے مختلف حصوں کے درمیان ترسیل کا ایک انقلاب پیدا کر دیا ہے۔
  - ماحولیات کے عالمی مسائل جیسے سونامی، آب و ہوا میں تبدیلی، عالمی درجہ حرارت وغیرہ سے نمٹنے کے لیے بین الاقوامی امداد
- عالم گیریت کی خصوصیات
  - سرمایہ کا میل ملاپ، خیالات کا میل ملاپ اور اشیا کا میل ملاپ اور آزادانہ تجارت
  - سرمایہ دارانہ نظام، کھلے پن اور عالمی تجارت میں اضافہ
  - مختلف ممالک کے درمیان آپسی میل جول، ترقی اور انحصار
  - مختلف معاشی واقعات جیسے معاشی بحران یا ترقی، وبائی امراض جیسے ایڈس، برڈ فلو، سانس کی گھٹن (SARS)، سوائن فلو وغیرہ جیسے معاملات میں عالمی تعاون اور اثر۔
- عالم گیریت کی مثالیں
  - مختلف بیرونی ممالک کی اشیا کی بھارت میں مانگ
  - نوجوانوں کی ترقی کرنے کے لیے مواقع اور کوریوریز کا ملنا

- کسی ہندوستانی کا امریکی کلیئڈر اور وقت کے مطابق خدمات فراہم کرنا
- فصلوں کے خراب ہو جانے کے سبب کچھ کسانوں کا خودکشی کر لینا
- Retail کے تاجروں کو اس بات کا ڈر ہے FDI کہ لاگو ہونے سے بڑی کمپنیاں آجائیں گی اور ان کا روزگار چھن جائے گا۔
- لوگوں کے درمیان معاشی عدم مساوات میں اضافہ
- یہ مثالیں مثبت اور منفی دونوں شکلوں میں ہو سکتی ہیں۔ عالم گیریت کے اثرات تین طرح کے ہیں۔ سیاسی، معاشی اور ثقافتی۔
- عالم گیریت کے سیاسی اثرات
- عالم گیریت کے سبب ریاست کے دائرہ اختیار میں کمی آئی ہے۔ ریاست اب چند اہم کاموں جیسے قانونی نظام یا سلامتی تک ہی محدود ہے۔ آج بازار معاشی اور سماجی اہمیت یا فوقیت پر قائم ہے۔
- ریاست کا اقتدار برقرار ہے اور اسے عالم گیریت سے کوئی خاص چنوتی نہیں مل رہی ہے۔
- عالم گیریت کے سبب ذرائع ترسیل و آمد و رفت کو کافی فروغ حاصل ہوا ہے۔ کئی مرتبہ ملٹی نیشنل کمپنیوں کے دباؤ کی وجہ سے ریاستیں اپنے آپ کو بے سہارا محسوس کرتی ہیں۔
- عالم گیریت کے معاشی اثرات
- بین الاقوامی مالیاتی فنڈ، عالمی بینک اور عالمی تجارتی تنظیم جیسے بین الاقوامی اداروں کے ذریعے معاشی پالیسیوں کو لاگو کرنا
- درآمد برآمد سے متعلق پابندیوں میں کمی
- غیر ملکی زرمبادلہ کو فروغ اور روزگار کے عالمی مواقع بڑھے ہیں
- ترقی یافتہ ممالک کے ذریعے ویزا کی پالیسی کے تحت لوگوں کے آنے جانے پر پابندی
- عالم گیریت کے سبب آج حکومتیں اپنے سماجی تعلق سے بھی منہ موڑ رہی ہیں جس کے لیے سماجی ڈھال کی ضرورت ہے۔
- تنقید نگاروں کے مطابق عالم گیریت کے سبب سماج میں معاشی نا برابری بڑھ رہی ہے

## ● عالم گیریت کے ثقافتی اثرات

- عالم گیریت کے سبب دنیا کے بیشتر ممالک میں مغربی ثقافت کو بڑھاوا ملا ہے
- اس عمل سے یہ بھی خطرہ پیدا ہو گیا ہے کہ کہیں یہ دنیا کی ثقافتوں کے لیے خطرہ نہ بن جائے
- کھانے پینے کی اشیاء اور لباس وغیرہ میں کافی تیزی سے اضافہ ہوا ہے
- قدیم تہذیبوں کی بنیادی اقدار پر کافی برا اثر پڑا ہے
- ثقافتی عالم گیریت کے سبب ہر ملک کی ثقافت بہت زیادہ اہم اور الگ ہو رہی ہے۔

## ● بھارت اور عالم گیریت

- آزادی کے بعد بھارت میں گھریلو صنعتوں کو بڑھاوا دینے کی پالیسی اختیار کی گئی تاکہ بھارت خود کفیل بن سکے لیکن ملک میں معاشی ترقی کی رفتار سست رہی۔
- 1991 میں لاگوئی معاشی پالیسی کے ذریعے بھارت عالم گیریت کے لیے تیار ہوا اور کھلے پن کی پالیسی اختیار کی
- آج عالم گیریت کے سبب بھارت کی معاشی اضافہ کی در 7.5 فی صد سالانہ کی اوسط سے بڑھ رہی ہے جو 1990 میں 5.5 فی صد سالانہ تھی۔
- بھارت کے لوگ کمپیوٹر سافٹ ویئر میں اپنا دبدبہ قائم کرنے میں لگے ہیں
- آج بھارت کے لوگ عالمی سطح پر اعلیٰ عہدوں کو حاصل کرنے میں کامیاب ہو رہے ہیں۔

## ● عالم گیریت کی تنقید/مخالفت

- عالم گیریت کے سبب امیر اور غریب لوگوں کے درمیان کافی فاصلے بڑھ گئے ہیں۔
- بائیں بازو والے مخالفین کے مطابق ثقافت کی بنیاد ختم ہو رہی ہے۔ گھریلو صنعتوں پر ہونے والے اثرات کے سبب یہ عالم گیریت کی مخالفت کرتے ہیں
- سیاسی معنوں میں عالم گیریت کے سبب ریاست کے کمزور ہونے کی فکر پائی جاتی ہے
- ثقافتی میدانوں میں اکثر لوگ اپنی پرانی تہذیب کو بھول رہے ہیں اور ان پر مغربی ثقافت کی چھاپ بڑھ رہی ہے۔
- کھانے پینے کی اشیاء اور لباس نے بھی ملکوں کی پرانی تہذیب کو متاثر کیا ہے
- دنیاوی سطح پر عالم گیریت کی مخالفت کرنے کے لیے ورلڈ سوشل فورم قائم کی گئی ہے۔ یہ ایک ایسا عالمی پلیٹ فارم

- ہے جہاں حقوق انسانی ماحولیات، مزدور، حقوق نسواں اور نئی نسل کے سرگرم کارکن ایک جگہ جمع ہوتے ہیں۔
- 1991 میں عالمی تجارتی تنظیم کے وزارتی جلسہ میں معاشی طور سے مضبوط ریاستوں کی بدعنوانیوں کے خلاف وسیع پیمانے پر احتجاج ہوئے۔ یہ اجلاس Seattle میں ہوا تھا۔
  - ورلڈ سوشل فورم (WSF) کی پہلی میٹنگ برازیل کے شہر یورٹو الیکر میں 2001 میں ہوئی۔ چوتھی میٹنگ 2004 میں ممبئی میں اور ساتویں نیروبی، کینیا میں جنوری 2007 میں ہوئی۔
  - باہر کے ممالک کے ٹی وی چینل جو کیبل نیٹ ورک کے ذریعے دکھائے جاتے ہیں ان کی بھی مخالفت کی جا رہی ہے
  - ویلفارٹ ڈے کی تقریب اسکول اور کالجوں میں طالبات کا مغربی طرز کے لباس کا ذوق بھی تنقید کا موضوع بن رہے ہیں۔

## ایک نمبر والے سوالات

خالی جگہیں بھریں۔

- 1- ..... اور ..... معاشی تنظیم ہیں۔
  - 2- عالم کاری کو بڑھاوا دینے میں ..... کا اہم کردار ہے۔
  - 3- ورلڈ سوشل فارم کی پہلی بیٹھک 2001 میں ..... ہوئی۔
  - 4- عالم کاری ایک ..... تصور ہے۔
  - 5- عالم کاری کی مخالفت ہندوستان میں ..... اور ..... کے ذریعے کی گئی۔
- مندرجہ ذیل کے سامنے صحیح اور غلط کا نشان لگائیں۔
- 6- عالم کاری کا تعلق چیزوں، سرمایہ اور خدمات کا ایک ملک سے دوسرے ملک میں بہاؤ سے ہے۔
  - 7- عالم کاری خاص طور پر سیاسی تصور ہے۔
  - 8- عالم کاری 1993 کے بعد سے پھیلنے شروع ہوئی۔
  - 9- عالم کاری سے ہندوستان کو فائدہ پہنچا ہے۔
- مندرجہ ذیل سوال میں دو بیانات ہیں۔ ایک کو بیان A اور دوسرے کو وجہ بھی کہا گیا ہے۔ آپ کو دونوں کا تجزیہ کرنا ہے۔ اور مندرجہ ذیل

کی بنیاد پر فیصلہ کر کے اپنا جواب دینا ہے۔

(A) اور R دونوں صحیح ہیں A, R کی صحیح وضاحت ہے۔

(B) اور R دونوں صحیح ہیں لیکن A, R کی صحیح وضاحت نہیں ہے۔

(C) صحیح ہے لیکن R غلط ہے

(D) غلط ہے اور R صحیح ہے۔

10- بیان A:- عالم کاری ایک سرمایہ وادی کارروائی ہے۔ جس کا سب سے اہم اور آخری مقصد سرمایہ کاری کو بڑھاوا دینا ہے۔

وجہ: R:- عالم کاری سے سب کو فائدہ ہوتا ہے۔ چاہے وہ ترقی یافتہ ملک ہو چاہیے وہ ترقی پذیر۔

11- بیان A:- ہندوستان میں عالم کاری کی مخالفت کی گئی ہے۔

وجہ: R:- عالم کاری ریاست کے کردار کو محدود کرتی ہے۔

12- بیان A:- عالم کاری سے دنیا میں معاشی بہاؤ میں اضافہ ہوتا ہے۔

وجہ: R:- عالم کاری ثقافتی یک رنگی کا اجزا ہے۔

13- بیان A:- ہندوستان میں بایاں بازو نے عالم کاری کی حمایت کی ہے۔

وجہ: R:- عالم کاری کی وجہ سے روزگار کے مواقع میں اضافہ ہوا ہے۔

14- بیان A:- عالم کاری کے بڑھنے میں تکنیکی کا اہم کردار ہے۔

وجہ: R:- ٹکنالوجی اور انفارمیشن کی تیزی سے ریاستوں کے کام کرنے کی صلاحیت میں کمی آتی ہے۔

15- عالم گیریت کیا ہے؟

16- عالم گیریت کا ایک مثبت اثر بتائیے۔

17- بھارت نے نئی معاشی پالیسی کب اختیار کی۔

18- WSF کو تفصیل سے لکھیں

19- بائیں بازو کے لوگ عالم گیریت کے کس اثر کی زیادہ مخالفت کرتے ہیں؟

- 20- عالمگیریت کے لیے مناسب حالات پیدا کرنے والے عوامل کا نام لکھیں۔
- 21- ایک مناسب مثال کے ذریعے واضح کریں کہ یہ ضروری نہیں کہ عالم کاری ہمیشہ مثبت ہو۔
- 22- فلاحی ریاست کی جگہ بازار لے رہا ہے اس تبدیلی کی وجہ بتائیں۔

### دو نمبر والے سوالات


- 1- سماجی سلامتی ڈھال سے آپ کیا سمجھتے ہیں؟
- 2- ترقی یافتہ ممالک کی ویزا پالیسی کیا ہے؟
- 3- میک ڈونلڈ کاری کے کیا معنی ہیں؟
- 4- سائنس اور ٹیکنالوجی کا عالم گیریت پر کیا اثر پڑا ہے؟
- 5- عالم کاری میں کس کا آزاد بہاؤ ہوتا ہے؟
- 6- Protectionism کیا ہے؟

### چار نمبر والے سوالات

- 1- ثقافتی میل ملاپ اور ثقافتی امتیاز میں کیا فرق ہے؟
- 2- عالم گیریت کا بھارت پر کیا اثر پڑا ہے؟ وضاحت کیجیے۔
- 3- عالم گیریت کی مخالفت اور اس سے متعلق سیاسی حمایت پر بھارت کے پس منظر میں جواب دیں۔
- 4- عالم گیریت کے معاشی اثرات بیان کیجیے۔
- 5- ”عالم گیریت کے سبب ریاست کی صلاحیت میں کمی آئی ہے“۔ بیان کیجیے۔
- 6- عالمی جڑواؤ کیا ہے اس کے کون کون سے عوامل ہیں؟

## پانچ نمبر والے سوالات

1- مندرجہ ذیل کارٹون کو غور سے دیکھیں اور اس سے متعلق سوالات کے جواب دیجیے۔



- 1 (i) تصویر کے مطابق کل اور آج سے کیا مراد ہے؟
- 2 (ii) چین اور ہندوستان کے لوگ تمھاری نوکری کھا جائیں گے اس جملے کے کیا معنی ہیں؟
- 2 (iii) اس کارٹون کے ذریعے سے آؤٹ سورسنگ کے معنی واضح کریں۔

2- مندرجہ ذیل پیرا گراف کو غور سے پڑھیں اور سوالات کے جواب دیں

”بھارت میں عالم گیریت کی مخالفت کئی حلقوں میں ہو رہی ہے۔ معاشی عالم گیریت کے خلاف وام پنٹھی تیور کی آوازیں سیاسی جماعتوں کی جانب سے اٹھ رہی ہیں تو انڈین سوشل فورم جیسے منج سے بھی اٹھ رہی ہیں۔ صنعتی مزدور اور کسانوں کی تنظیموں نے ملٹی نیشنل کمپنیوں کے آنے کی مخالفت کی ہے۔ کچھ پیڑ پودوں جیسے ”نیم“ کو امریکہ اور یورپ کی کمپنیوں نے پیٹنٹ کرانے کی کوششیں کی ہیں جس کی سخت مخالفت ہو رہی ہے۔“

- 2 (i) وام پنٹھی سیاسی جماعتوں نے عالم گیریت کی مخالفت کیوں کی؟
- 1 (ii) انڈین سوشل فورم جیسا عالمی سوشل فورم کون سا ہے؟
- 2 (iii) پیٹنٹ سے آپ کیا سمجھتے ہیں؟

3- کارٹون کا مطالعہ کریں اور جواب دیں۔



- (i) اس کارٹون میں عالم کاری کے کس اثر کو دکھایا گیا ہے۔
- (ii) MCDonaldism کیا ہے؟
- (iii) ترقی یافتہ اور ترقی پذیر ممالک پر اس کا کوئی ایک مثبت اور منفی اثر بتائیں۔

### چھ نمبر والے سوالات

- 1- عالم گیریت نے بھارت کو کس طرح متاثر کیا ہے اور بھارت کس طرح عالم گیریت کو متاثر کر رہا ہے؟ (Imp)
- 2- کیا آپ اس بیان سے متفق ہیں کہ عالم گیریت کے سبب ثقافتی امتیاز بڑھ رہا ہے؟
- 3- عالم کاری کی وجہ سے ترقی پذیر ممالک میں ریاست کے بڑھتے یا کم ہوتے کردار کو بیان کریں۔
- 4- عالم کاری کی مخالفت کس بنیاد پر کی جا رہی ہے۔

### ایک نمبر والے سوالات کے جوابات

IMF :WTO -1



- 2- ٹکنا لوجی
- 3- پورٹ الگورے
- 4- کثیر جہتی
- 5- بایاں بازو۔ دایاں بازو
- 6- صحیح
- 7- غلط
- 8- غلط
- 9- صحیح
- 10- C
- 11- A
- 12- B
- 13- D
- 14- C
- 15- ایشیا، سرمایہ، مزدوری اور خیالات کا ایک ملک سے دوسرے ملکوں میں آزادانہ ہجرت
- 16- کمپنیوں میں مقابلہ آرائی ہونے کی وجہ سے خریداروں کو اشیاء کم قیمتوں پر ملنا اور ان اشیاء کو انتخاب کرنے میں بھی آسانی ہو جاتی ہے۔
- 17- 1991 میں
- 18- World Social Forum
- 19- معاشی اثرات
- 20- نجی کاری اور نرم کاری

- 21- عالم کاری کی وجہ سے دنیا میں بے روزگاری بڑھ رہی ہے اس لئے عالم کاری ہمیشہ مثبت ہو یہ ضروری نہیں ہے۔
- 22- عالم کاری کی وجہ سے ملٹی نیشنل کمپنیوں نے ریاست کے فلاحی کاموں کو کچھ حد تک محدود کر دیا ہے۔

### دو نمبر والے سوالات کے جوابات

- 1- معاشی طور پر کمزور لوگوں کو تعلیم، صحت، صاف صفائی اور نوکری کی سہولت حکومت کے ذریعے مہیا کرانا
- 2- ترقی پذیر ممالک کے لوگوں کو ویزا دینے کے اصولوں میں سختی تاکہ زیادہ تعداد میں پہنچ کر یہ لوگ ترقی یافتہ ممالک میں نوکریاں نہ حاصل کر سکیں
- 3- مختلف ثقافت پر امریکی ثقافت کا اثر
- 4- سائنس اور ٹیکنالوجی کی ترقی کے سبب دنیا میں آپسی میل جول اور آپسی انحصار بڑھا ہے
- 5- سرمایہ، خیالات، چیزیں اور خدمات
- 6- 1991 سے پہلے اپنے گھریلو سامان کو بچانے کے لئے ملٹی نیشنل کمپنیوں پر پابندی لگانا۔

### چار نمبر والے سوالات کے جوابات

- 1- ثقافتی میل ملاپ کے معنی مغربی تہذیب کا پوری دنیا میں پھیلنا تاکہ وہ عالمی ثقافت کی شکل اختیار کر سکے۔ ثقافتی امتیاز کے تحت ثقافتیں دوسری تہذیبوں یا ثقافت کی اچھی باتوں کو اپنی ثقافت میں شامل کرتی ہیں جس کے سبب ہر تہذیب یا ثقافت انوکھی بنتی جا رہی ہے۔
- 2- تیزی سے معاشی ترقی
- نئے مواقع کا فراہم ہونا
- گھریلو صنعتوں کو نقصان یا ان کے سامنے نئی چنوتیوں کا سامنا
- عالمی سیاست میں بھارت کا اہم مقام حاصل کرنا
- 3- 1991 میں شروع معاشی سدھاروں کا دائیں بازوں اور بائیں بازوں کی جماعتوں نے مخالفت کی

- بھارت میں ثقافتی اثرات کی بھی مخالفت کی گئی
- 1991 کے بعد کسی بھی سیاسی جماعت کی حکومت رہی ہو سبھی نے آزادانہ تجارت، کھلے پن کی پالیسی کو اختیار کر لیا
- آزادانہ سرمایہ دارانہ معاشی نظام کو بڑھاوا
- آئی پی میل ملاپ کے مفاد میں مساوات کا بڑھنا
- 4- دنیا کے تمام ممالک کا ترسیل و آمدورفت کی ترقی کے ذریعے ایک دوسرے کے نزدیک آنا۔ آئی پی میل ملاپ اور آئی پی انحصار سے معاشی ترقی میں اضافہ ہونا، درآمد و برآمد سے متعلق پابندیوں کی غیر ملکی کرنسی کو فروغ روزگار کے مواقع بڑھنا۔
- 5- یاد رکھنے لائق نکات کا مطالعہ کریں
- 6- دنیا کے سبھی ممالک انفارمیشن ٹیکنالوجی کی ترقی کے ذریعے نزدیک ہوئے۔
- آپنی انحصار اور آئی پی تعاون
- عوامل۔ انٹرنیٹ۔ ٹیلی فون۔ ٹیلی گراف۔ مائیکرو چپ وغیرہ۔

### پانچ نمبر والے سوالات کے جوابات

- 1- (i) کل کے معنی عالم گیریت سے پہلے اور آج کے معنی عالم گیریت کے بعد کی صورت
- (ii) عالم گیریت کے سبب بھارت اور چین کے لوگوں کے ذریعے ترقی یافتہ ممالک میں نوکری کے مواقع حاصل کرنا جس کے سبب بے روزگاری کا خطرہ بڑھا
- (iii) اس کے معنی یہ ہیں کہ کسی کام کا ٹھیکہ دوسری کمپنیوں کو دینا۔ اس کا اہم سبب قیمت میں کمی اور ایشیا کی کوالٹی میں معیاری استعمال
- 2- (i) کیوں کہ عالم گیریت ایک طرح سے سرمایہ دارانہ نظام کی تبلیغ کرتی ہے اور وام پنہتی نظریہ رکھنے والے سرمایہ دارانہ نظام کی مخالفت کرتے ہیں
- (ii) World Social Forum
- (iii) عالمی ملکیت کا حق جس کے تحت کوئی بھی ایجاد، نیا خیال وغیرہ کو اپنے نام پر رجسٹرڈ کروانا 'پیٹنٹ' کہلاتا ہے
- 3- (i) اس میں عالم کاری کے ثقافتی اثر کو دکھایا گیا ہے ثقافتی اثر کی وجہ سے دنیا پر مغربی تہذیب کو لایا جا رہا ہے۔ دنیا میں میکڈونلڈ تہذیب کا بڑھنا اس کی اچھی مثال ہے۔
- مثبت اثر: لوگوں کے سامنے متبادل کا دائرہ وسیع ہو جاتا ہے۔
- منفی اثر: طاقتور تہذیب کم طاقتور سماج پر اپنا اثر ڈال دیتی ہے۔

(ii) MC Donaldism کے معنی ہیں مختلف تہذیبوں کا امریکی تہذیب میں رنگ جانا۔

(iii) ہاں یہ کارٹون اس کی طرف اشارہ کرتا ہے۔

### چھ نمبر والے سوالات کے جوابات

-1 عالم گیریت کے بھارت پر اثرات

(i) تیزی سے معاشی ترقی

(ii) نئے مواقع کا حاصل ہونا

(iii) مزدور اور کسانوں کی حالت پر منفی اثرات

(iv) گھریلو صنعتوں کے سامنے چنوتیاں

(v) علم گیر ثقافت

بھارت کے ذریعے عالم گیریت کو متاثر کرنا

(i) کم مزدوری کی بدولت بھارت کی کمپنیوں کو outsourcing کے ذریعے زیادہ کام

(ii) نوجوانوں کا روزگار میں تیزی سے اضافہ

(iii) ترقی یافتہ ممالک میں بھارت کے لیے اہمیت

(iv) کمپیوٹر اور ٹیکنالوجی کے میدان میں تیزی سے ترقی کر کے اپنا بدہ قائم کرنا

-2 ہاں ہم اس بیان سے متفق ہیں

■ مختلف ثقافتوں کا میل جول

■ مختلف ممالک کے ذریعے دوسرے ممالک کے تہواروں کا مزہ لینا

■ مختلف کھانے پینے کی اشیاء اور لباس وغیرہ کے استعمال میں اضافہ ہونا

■ نیلی جینز اور خاکی کرتے کا میل وغیرہ

-3 یاد رکھنے لائق نکات دیکھیں

-4 یاد رکھنے لائق نکات لکھیں۔

# آزادی کے بعد ہندوستان کی سیاست

# باب۔ ایک

## قومی تعمیر کے چیلنج

### یاد رکھنے لائق نکات:

- تقریباً 200 سال کی انگریزوں کی غلامی کے بعد 14-15 اگست 1947 کی درمیانی شب کو ہندوستان آزاد ہوا۔ لیکن اس آزادی کے ساتھ ملک کی عوام کو ملک کی تقسیم کا سامنا کرنا پڑا۔ آئین ساز مجلس کے خاص اجلاس میں پنڈت جواہر لال نہرو نے مقدر سے ملاقات کے نام سے تقریر کی۔
- آزادی کی لڑائی کے وقت دو باتوں پر عام رضامندی تھی:
  - (i) ملک کا نظام جمہوری طرز پر چلایا جائے گا
  - (ii) حکومت عوام کی بھلائی کے لیے کام کرے گی
- نئے ملک کے سامنے چنوتیاں
- آزادی کے بعد ملک کے سامنے تین اہم چنوتیاں تھیں:
  - 1- ایلکتا کی چنوتی:۔ ہندوستان اپنے ساز اور اختلاف میں کسی بڑے ملک کے برابر تھا یہاں مختلف زبان۔ تہذیب اور مذہب کے لوگ رہتے تھے ان سبھی کو یکجا کرنے کی چنوتی تھی۔
  - 2- جمہوریت کا قیام
  - 3- مساوات پر قائم ترقی
- بھارت نے پارلیمانی نظام حکومت کے مطابق نمائندہ جمہوریت کے عمل کو اختیار کیا اور بھارت کے آئین میں ہر شہری کو بنیادی حقوق اور بالغ رائے دہی کا حق دیا گیا۔
- ایسی ترقی جس سے تمام سماج کو فائدہ پہنچایا جاسکے نہ کہ کسی ایک طبقہ یا مذہب کو بلکہ تمام شہریوں کے ساتھ مساوی برتاؤ کیا جائے اور سماجی طور پر کچھڑے ہوئے طبقات اور مذہبی و ثقافتی طبقات کو جو کہ اقلیت میں پائے جاتے ہیں خصوصی سہولت دی جائے۔

## ● ملک کی تقسیم

مسلم لیگ نے ”دوقومی نظریہ“ کا اصول پیش کیا تھا۔ بھارت کسی ایک قوم کا نہیں بلکہ ہندو اور مسلمان دونوں کا ملک ہے جس کی وجہ سے مسلم لیگ نے مسلمانوں کے لیے ایک الگ ملک یعنی ”پاکستان“ کی مانگ کی۔ بھارت کی تقسیم کی بنیاد مذہبی اکثریت کو بنایا گیا۔ ملک کی تقسیم کے سبب بہت سے مسائل پیدا ہو گئے جیسے:

- مسلمانوں کی آبادی کی بنیاد پر پاکستان میں دو علاقے شامل ہوں گے مشرقی پاکستان اور مغربی پاکستان اور ان کے درمیان بھارت کے زمینی رقبہ کا بڑا حصہ رہے گا۔
- مسلم اکثریت والے علاقے کے سبھی لوگ پاکستان جانے کو راضی نہیں تھے۔ مغربی سرحدی والے علاقے کے لیڈر خان عبدالغفار خان جنھیں سرحدی گاندھی کے نام سے جانا جاتا ہے وہ دوقومی نظریہ کے اصول کے سخت خلاف تھے۔
- برٹش۔ انڈیا کے مسلم اکثریتی صوبے پنجاب اور بنگال میں ان کے حصے اکثریت غیر مسلم آبادی والے تھے۔ ایسے میں ان صوبوں کے تقسیم مذہبی اکثریت کی بنیاد پر ضلع یا اس سے نجلی سطح کے انتظامی حلقے کو بنایا جانا چاہئے۔
- بھارت کی تقسیم صرف مذہب کی بنیاد پر ہوئی تھی اس لیے دونوں طرف سے اقلیتی طبقے بڑے ہی شش و پنج میں تھے کہ ان کا کیا ہوگا۔ وہ کل سے پاکستان کے شہری ہوں گے یا بھارت کے۔

## ● تقسیم کا مسئلہ

بھارت کی تقسیم کے منصوبے میں یہ نہیں کہا گیا کہ دونوں حصوں سے اقلیتوں کی منتقلی بھی ہوگی یا نہیں۔ تقسیم سے پہلے ہی دونوں ملکوں کے تقسیم کے علاقوں میں ہندو۔ مسلم فسادات شروع ہو گئے۔ مغربی بنگال میں رہنے والے اکثریتی غیر مسلم لوگوں کو اپنا گھر بار، زمین جائیداد چھوڑ کر اپنی جان بچانے کے لیے وہاں سے پنجاب یا بھارت کے دوسرے حصے میں آنا پڑا اور اسی طرح مسلمانوں کو بھی دوسرے حصوں میں جانا پڑا۔

- تقسیم کے عمل میں بھارت کی زمین کا ہی بٹوارہ نہیں ہوا بلکہ تہذیبوں کا بٹوارہ بھی ہوا۔
- آزادی اور ملک کی تقسیم کے سبب بھارت کو وراثت میں شرنا تھیوں (مہاجرین) کو دوبارہ بسانے جیسے مسئلہ کا بھی سامنا کرنا پڑا جسے نہایت صبر آمیز طریقوں سے حل کیا گیا۔ شرنا تھیوں کی تشکیل نو اور ان کو بسانے کے لیے ایک وزارت بھی قائم کی گئی۔

## ● ریاستوں کی تشکیل

رجواڑوں کا الحاق آزادی حاصل کرنے سے پہلے بھارت و دھرموں میں بنا ہوا تھا۔ برطانوی بھارت اور دیسی ریاستیں۔ ان دیسی ریاستوں کی تعداد 565 تھی۔ ریاستوں کے حکمرانوں کو منانے، سمجھانے میں سردار پٹیل (وزیر داخلہ) نے تاریخی رول ادا کیا۔ انھوں نے زیادہ تر رجواڑوں کو بھارتیہ یونین میں شامل کرنے کے لیے راضی کر لیا تھا۔

## ● دیسی ریاستوں کے بارے میں تین اہم باتیں

- زیادہ تر رجواڑوں کے لوگ بھارتیہ یونین میں شامل ہونا چاہتے تھے۔
- بھارت سرکار کچھ علاقوں کو خود مختاریت دینے کے لیے تیار تھی جیسے جموں و کشمیر
- ملک کی تقسیم کے پس منظر میں مختلف علاقوں کے سرحدی سوالات پر کھینچا تانی زور پکڑ رہی تھی اور ایسے میں ملک کی علاقائی سالمیت اور یکجہتی کا سوال سب سے اہم تھا۔ زیادہ تر رجواڑوں کے حکمرانوں نے بھارتیہ یونین میں الحاق کے معاہدے پر دستخط کر دیئے تھے جسے الحاق کی دستاویز کہا جاتا ہے۔ جونا گڑھ، حیدرآباد، کشمیر اور منی پور کی ریاستوں کا الحاق باقی ریاستوں کے مقابلے میں کافی مشکل ثابت ہوا۔

## ● حیدرآباد کا الحاق

- حیدرآباد کے حکمرانوں کو نظام کہا جاتا تھا۔ انہوں نے بھارت سرکار کے ساتھ نومبر 1947 میں ایک سال کے لیے موجودہ صورت حال قائم رکھنے کا معاہدہ کیا۔
- کمیونسٹ پارٹی اور حیدرآباد کانگریس کی قیادت میں کسانوں اور خواتین نے نظام کے خلاف تحریک شروع کر دی۔ اس تحریک کو کچھنے کے لیے نظام نے ایک نیم فوجی دستہ (رضا کار) کو لگایا جس کے جواب میں بھارت سرکار نے ستمبر 1948 کو فوجی کارروائی کے ذریعے نظام کو ہتھیار ڈالنے پر مجبور کر دیا۔ اس طرح حیدرآباد ریاست کا بھارت میں الحاق ہو گیا۔

## ● منی پور ریاست کا الحاق

- منی پور کی اندرونی خود مختاریت بنی رہے اس بات کو لے کر مہاراج بودھ چند سنہا اور بھارت سرکار کے درمیان الحاق کی منظوری پر دستخط ہوئے۔
- عوام کے دباؤ میں الیکشن کروایا گیا جس کے سبب آئینی جمہوریت قائم ہوئی۔ منی پور بھارت کا پہلا حصہ ہے جہاں سب سے پہلے بالغ رائے دہی کے اصول کو اختیار کیا گیا جس کے تحت یہاں 1948 میں انتخابات ہوئے۔



## ● ریاستوں کی تشکیل نو

نوآبادیاتی نظام کے وقت ریاستوں کی تشکیل انتظامی سہولیات کے مطابق کی گئی تھی۔ لیکن آزاد بھارت میں زبان اور ثقافتی اکثریت کی بنیاد پر ریاستوں کی تشکیل کی مانگ ہوئی۔

- زبان کی بنیاد پر صوبوں کی تشکیل کا سیاسی مدعا کانگریس کے ناگپورا اجلاس (1920) میں پہلی بار شامل کیا گیا تھا۔
- تیلگو زبان بولنے والے لوگوں کی مانگ تھی مدراس صوبے کے تیلگو زبان علاقوں کو الگ کر کے ایک نئی ریاست آندھرا پردیش بنائی جائے۔
- اس تحریک کے دوران کانگریس کے ایک سینئر لیڈر پوٹی سری رامولو کی تقریباً 56 دنوں کی بھوک ہڑتال کے بعد موت ہو گئی اور جگہ جگہ تشدد کے واقعات پیش آئے۔
- اس کے سبب سرکار کو دسمبر 1952 میں آندھرا پردیش نام سے الگ ریاست بنانے کا اعلان کرنا پڑا۔ آندھرا پردیش زبان کی بنیاد پر تشکیل دی گئی پہلی ریاست تھی۔

## ● ریاستوں کا تشکیل نو کمیشن

مرکزی حکومت نے 1953 میں ریاستوں کی تشکیل نو کے لیے کمیشن قائم کیا۔ کمیشن نے اپنی رپورٹ میں کہا کہ ریاستوں کی تشکیل وہاں بولی جانے والی زبانوں کی بنیاد پر کی جائے۔

## ● کمیشن کی اہم سفارشات

- تین سطحی (حصہ A, B اور C) ریاستی نظام کو ختم کیا جائے
- صرف تین مرکزی انتظامیہ علاقوں (انڈومان، نکوبار، دہلی اور منی پور) کو چھوڑ کر باقی کے مرکزی زیر انتظام علاقوں کو ان کی نزدیکی ریاستوں میں ملا دیا جائے۔
- ریاستوں کے سرحدوں کو وہاں پر بولی جانے والی زبان کی بنیاد پر قائم کیا جائے۔
- اس کمیشن نے اپنی رپورٹ 1955 میں پیش کی جس کی بنیاد پر پارلیمنٹ میں ریاستوں کی تشکیل نو کا قانون عمل میں آیا اور ملک کو 14 ریاستوں اور 6 مرکز کے زیر انتظام علاقوں میں بانٹا گیا۔

بنیادی ریاست	نئی ریاستیں	سال
بیبئی	مہاراشٹر، گجرات	1960

1963	ناگالینڈ	آسام
1966	ہریانہ، ہماچل پردیش، پنجاب	پنجاب
1987	میزورم، اروناچل پردیش	آسام
2000	اتراکھنڈ چھارکھنڈ چھتیس گڑھ	اتر پردیش بہار مدھیہ پردیش
2014	تلنگانہ	آندھرا پردیش

1987 ..... گوا ■

1975 ..... سکم ■

مرکز کے زیر انتظام علاقے جو بعد میں ریاست بنے ■

میزورم، مئی پور، تری پورہ اور گوا وغیرہ ■

### ایک نمبر والے سوالات

- 1- جواہر لعل نہرو کی کس تقریر کو ”مقدر سے ملاقات“ کے نام سے جانا جاتا ہے؟
- 2- آزادی کے بعد بھارت کے سامنے پہلی چنوتی کیا تھی؟
- 3- محمد علی جناح نے دو قومی نظریہ کا اصول کیوں پیش کیا تھا؟
- 4- رجواڑوں کے حکمرانوں اور بھارتیہ یونین کے درمیان جس رضامندی پر دستخط ہوئے اسے کیا کہتے ہیں؟
- 5- کس ریاست میں پہلی بار بالغ رائے دہی کے اصول کو اختیار کر کے الیکشن ہوئے؟
- 6- کس اجلاس کے بعد بھارتیہ کانگریس نے مان لیا کہ ریاستوں کی تشکیل زبان کی بنیاد پر ہوگی؟
- 7- Struggle For Survival-1953 کارٹون کس ماحول کو ظاہر کرتا ہے؟
- 8- بھارت میں آزادی کے وقت رجواڑوں کی تعداد کتنی تھی؟
- 9- آندھرا تحریک کے دوران کس لیڈر کی موت بھوک ہڑتال کے سبب ہوئی؟

- 10- بھارت نے 1956 میں زبان کی بنیاد پر ریاستوں کی تشکیل کیوں کی؟
- 11- پہلا الیکشن کمشنر کون ہے۔
- 12- سرحدی گاندھی کے نام سے کسے جانا جاتا ہے۔
- 13- ہندوستان کے کن دوصوبوں کا ہٹوارہ 1947 کی تقسیم کی سب سے بڑی وجہ بنا؟
- 14- پنجابی زبان کے پدم شری اور گیان پیٹھ انعامات سے نوازی گئی شاعرہ کا نام لکھیں۔
- 15- مندرجہ ذیل واقعات کو ان کے دور کے مطابق لکھیں۔

A- کانگریس کا ناگپور اجلاس

B- ریاستی تنظیم نو کمیشن کا قیام

C- پوٹی سری لامولو کی بھوک ہڑتال

D- آندھرا پردیش بنانے کا اعلان

16- مندرجہ ذیل بیانات کو صحیح کر کے دوبارہ لکھیں۔

”ہندوستان میں کثرت کا بنیادی اصول ہے۔“

”ہندوستان میں مختلف علاقوں اور لسانی گروہ کو اپنی ثقافت کو بنائے رکھنے کی چھوٹ نہیں ہوگی۔“

17- آزادی کے وقت منی پور کے راجا..... تھے۔

18- حیدرآباد کے حکمران..... کے نام سے جانے جاتے تھے۔

## دونمبر والے سوالات

- 1- آزادی کی لڑائی کے وقت کن دو باتوں پر سبھی راضی تھے؟
- 2- بھارت کی آزادی کے وقت قومی تشکیل کی راہ میں دور کا وٹیں کونسی تھیں؟

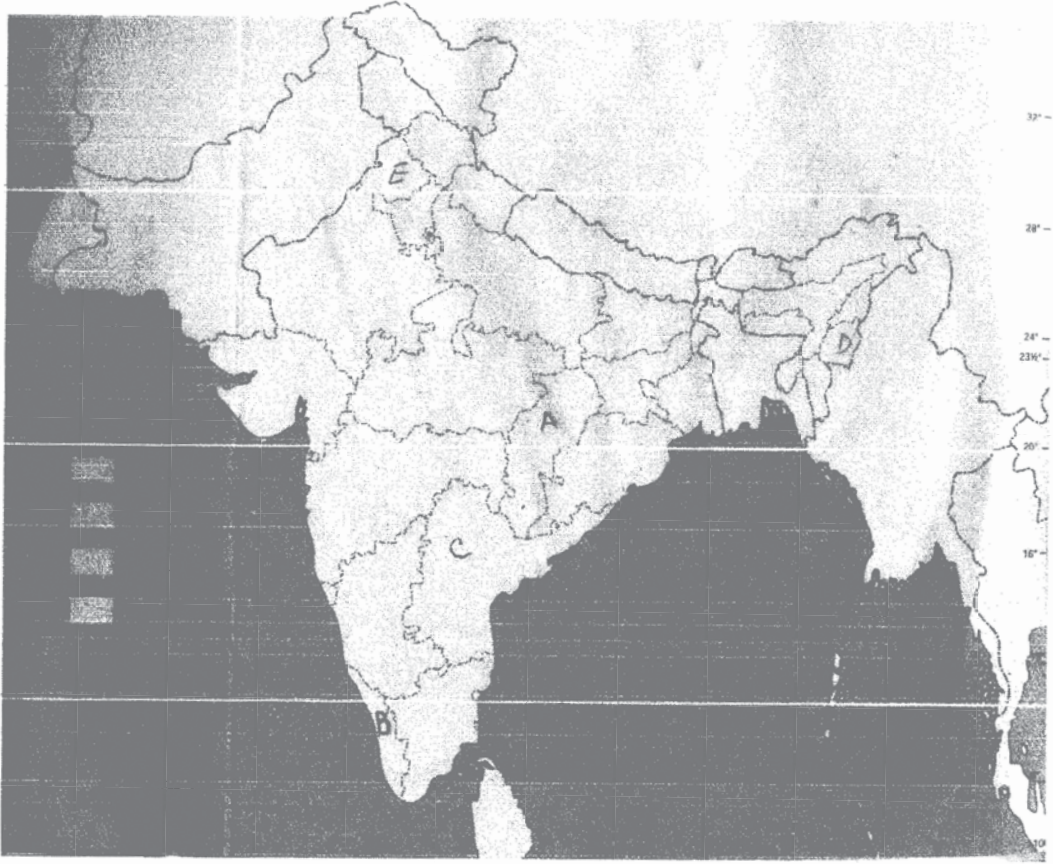
- 3- مہاتما گاندھی کے مطابق 15/ اگست 1947 (کل) خوشی اور غم دونوں کا دن کیوں ہوگا؟
- 4- آزادی کے وقت ملک کے مشرق اور مغرب میں قومی تشکیل کی چنوتی کے لحاظ سے دو خاص فرق کیا تھے؟
- 5- دو قومی نظریہ کیا ہے؟
- 6- آزاد ہندوستان کے لیڈر سیاست کو مسئلے کی شکل میں نہیں دیکھتے تھے۔ وہ سیاست کو مسئلے کے حل کی شکل میں مانتے تھے آپ اس دلیل سے کہاں تک متفق ہیں۔
- 7- آزادی کے بعد ہندوستانی لیڈر ہندوستانی وفاق کی ریاستوں کا زبان کی بنیاد پر بنائے گئے تشکیل نو کے اصول کو ماننے سے کیوں جھجک رہے تھے۔
- 8- 1950 کی دہائی میں ملک کے باقی حصوں کو زبان کی بنیاد پر بنایا گیا تھا لیکن پنجاب کو 1966 تک کیوں انتظار کرنا پڑا؟

### چار نمبر والے سوالات

- 1- بھارت کی تقسیم کے عمل میں کوئی چار مشکلات کا تفصیل سے ذکر کریں۔ (Imp)
- 2- رجواڑوں سے متعلق الحاق کی دستاویز (Instrument of accession) کے کیا معنی ہیں؟
- 3- آزادی کے بعد قومی تشکیل کی کن کن چنوتیوں کو کامیابی کے ساتھ حل کیا گیا؟
- 4- حیدرآباد کا الحاق ہندوستان میں کس طرح ہوا؟ (Imp)
- 5- ہندوستانی انتخابی کمیشن کے سامنے پہلے عام چنناؤ سے پہلے آنے والی چار مشکلات کی وضاحت کریں۔

### پانچ نمبر والے سوالات

- 1- دیئے گئے ہندوستان کے نقشے میں پانچ ریاستوں کو A, B, C, D اور E کے ذریعے دکھایا گیا ہے نیچے دی گئی جانکاری کے مطابق انہیں پہچانیئے اور جوابی کاپی میں ان کے صحیح نام ان کا سیریل نمبر اور اس سے متعلق حرف (Alphabet) لکھیں۔



- (i) وہ ریاست جسے مدھیہ پردیش کاٹ کر بنایا گیا۔
- (ii) آزاد ہندوستان میں کمیونسٹ حکومت والی پہلی ریاست۔
- (iii) وہ ریاست جس نے آزادی کے بعد ہندوستان کے ساتھ الحاق کی مخالفت کی۔
- (iv) یوٹی سری رامولوسے متعلق ریاست
- (v) سبز انقلاب کی وجہ سے زراعتی میدان میں خوشحال ہونے والی ریاست۔

2- مندرجہ ذیل اقتباس کو دھیان سے پڑھیں اور سوالوں کے جواب دیں۔

”چھوٹی چھوٹی ریاستوں میں بٹ جانے کے اس امکانات کے خلاف عارضی حکومت نے سخت رویہ اپنایا۔ مسلم لیگ نے انڈین نیشنل کانگریس کے اس قدم کی مخالفت کی۔ لوگوں کا ماننا تھا راجواڑوں کو اپنی مرضی کا راستہ چننے کے لئے چھوڑ دیا جانا چاہیے۔ راجواڑوں کو منانے اور سمجھانے میں سردار پٹیل نے تاریخی رول ادا کیا۔ اور اس طرح زیادہ تر راجواڑوں کو انھوں نے ہندوستان میں شامل ہونے کے لئے راضی کر لیا۔“

- (i) کس حکومت کو عارضی حکومت کہا گیا۔
- (ii) رجواڑہ کسے کہا جاتا تھا؟
- (iii) مسلم لیگ نے کانگریس کی مخالفت کیوں کی؟
- (iv) سردار پٹیل کے کردار کو تاریخی کیوں کہا جاتا ہے؟
- 3- دیئے گئے کارٹون کا دھیان سے مطالعہ کریں اور مندرجہ ذیل سوالات کے جواب دیں۔



- 1- کارٹون میں دائیں اور بائیں طرف کے لیڈر کو پہچانیے اور ان کے نام لکھیے۔
- 2- یہ کارٹون راجا اور عوام کے بیچ کن تعلقات کو ظاہر کرتا ہے۔
- 3- اس لیڈر نے کس معاملے کو کامیابی سے حل کرا لیا۔

### چہ نمبر والے سوالات

- 1- ریاستی تنظیم نو کمیشن کیا تھا؟ اس کی اہم سفارشات کیا تھیں؟ (Imp)
- 2- رجواڑوں کو بھارتیہ یونین میں شامل کرنے کی اہم بنیاد کیا تھی؟ اس کام میں کس نے اہم رول ادا کیا؟
- 3- آزادی کے وقت بھارت کے سامنے آنے والی تین چنوتیوں کو تفصیل سے بیان کیجیے۔ (Imp)
- 4- 1947 میں بھارت کی تقسیم کے کوئی چار اسباب بیان کیجیے۔ تقسیم کے کوئی چار نتائج بھی بیان کیجیے۔

## ایک نمبر والے سوالات کے جوابات

- 1- 14/15 اور 15/اگست (1947) کی درمیانی شب میں بھارت کے وزیر اعظم جواہر لعل نہرو نے آئین ساز جماعت کو مخاطب کیا تھا۔ اس تقریر کو ”مقدر سے ملاقات“ کے نام سے جانا جاتا ہے۔
- 2- ملک کو بچھتی کے دھاگے میں باندھنا
- 3- محمد علی جناح نے ہندوؤں کے لیے ہندوستان اور مسلمانوں کے لیے پاکستان کے مقصد کو سامنے رکھتے ہوئے دو قومی نظریہ کے اصول کو پیش کیا تھا۔
- 4- Instrument of accession
- 5- منی پور
- 6- ناگپورا اجلاس (1920)
- 7- جب لسانی بنیاد پر ریاستوں کی تشکیل کرنے کی مانگ زور پکڑ رہی تھی۔
- 8- 565
- 9- پوٹی سری رامولو
- 10- (i) تحریکوں کا دباؤ  
(ii) اپنی پہچان بچائے رکھنے کے لیے
- 11- سوکمار سین
- 12- خان عبدالغفار خان
- 13- پنجاب اور بنگال
- 14- امریتا پریتم
- 15- A  
C  
D  
B

- 16- ہندوستان میں کثرت میں وحدت کا بنیادی اصول ہے۔  
 ”ہندوستان میں مختلف علاقوں اور لسانی گروہ کو اپنی ثقافت بنائے رکھنے کی چھوٹ ہوگی۔“  
 17- راجا بودھ چندر سنگھ  
 18- نظام

### دو نمبر والے سوالات کے جوابات

- 1- (i) ملک کا نظام جمہوری نظام کے مطابق چلایا جائے گا  
 (ii) حکومت سماج کے سبھی طبقات کے لیے کام کرے گی۔
- 2- (i) پاکستان سے آئے ہوئے شہرنا تھیوں کو دوبارہ بسانے کی چنوٹی  
 (ii) فرقہ وارانہ یکجہتی کو چنوٹی
- 3- مہاتما گاندھی کے مطابق 15/1 اگست 1947 خوشی کا دن اس وجہ سے ہوگا کیوں کہ بھارت کو آزادی ملی تھی اور غم کا دن اس وجہ سے ہوگا کہ ملک کی تقسیم کے سبب ہندو-مسلم فسادات ہو رہے ہیں۔
- 4- (i) مشرقی علاقے میں ثقافتی اور معاشی توازن کا مسئلہ تھا لیکن مغربی علاقوں میں ترقی کو چنوٹی تھی۔  
 (ii) مشرقی علاقے زبانی مسائل سے جو جھڑھے تھے جب کہ مغربی علاقوں میں مذہبی اور ذات پات کی مشکلات تھیں  
 (i) فرقہ وارانہ فسادات  
 (ii) جمہوریت کا قیام  
 (iii) سماج کے سبھی طبقات کے لیے بھلائی اور ترقی
- 5- یاد رکھنے لائق نکات دیکھیں۔
- 6- ان کے مطابق سیاسی سرگرمیوں کا مقصد عوامی مفاد میں فیصلہ لینا اور اس پر عمل کرنا ہوتا ہے۔ اسی لیے انھوں نے سیاست میں آنا ضروری سمجھا۔
- 7- فرقہ وارانہ تقسیم کے بعد انہوں نے محسوس کیا کہ زبان کی بنیاد پر ریاستوں کی تشکیل سے اور رکاٹیں آسکتی ہیں اور ملک بکھر سکتا ہے۔
- 8- پنجابی صوبہ تحریک کی رہنمائی کمزور تھی اسے غیر سکھوں اور سکھوں میں کچھ نسلوں کی حمایت حاصل نہیں تھی۔ پنجاب کی یہ



تحریک دوسری ریاستوں میں ہونے والی تحریک کی طرح مضبوط نہیں تھی۔

### چار نمبر والے سوالات کے جوابات

- 1- (i) صوبوں کی تقسیم
- (ii) ریاستوں کا الحاق
- (iii) مہاجر/پناہ گزینوں کا مسئلہ
- (iv) غذائی بحران
- 2- یاد رکھنے لائق نکات کا مطالعہ کریں
- 3- یاد رکھنے لائق نکات کا مطالعہ کریں
- 4- یاد رکھنے لائق نکات دیکھیں
- 5- یاد رکھنے لائق نکات دیکھیں

### پانچ نمبر والے سوالات کے جوابات

- 1- (نقشہ)

ریاست	حروف	سیریل نمبر
چھتیس گڑھ	A	1
کیرل	B	2
منی پور	D	3
آندھرا پردیش	C	4
پنجاب	E	5

- 2- (i) 1946 میں کابینٹ مشن کے تحت ہوئے چناؤ کے بعد بنائی گئی حکومت کو پہلے عام چناؤ سے پہلے کام کر رہی حکومت کو عارضی حکومت کیا گیا۔

(ii) برطانوی حکومت میں چھوٹے چھوٹے ساز کی کچھ ریاستیں تھیں جن پر راجاؤں کی حکومت تھی وہ اپنی ریاستوں کے گھریلو معاملات کی حکومت چلاتے تھے۔ انہیں راجاؤں کہا گیا۔

(iii) مسلم لیگ کانگریس کی مخالفت اس لئے کر رہی تھی کیوں کہ اس کا منشا تھا کہ راجاؤں کو اپنی مرضی کے راستے چننے کے لئے چھوڑ دینا چاہیے۔

(iv) سردار پٹیل نے آزادی کے بعد مشکل وقت میں زیادہ تر راجاؤں کو سمجھا کر ہندوستانی وفاق میں شامل ہونے کے لئے تیار کر لیا اور جہاں ضرورت پڑی وہاں طاقت کا استعمال کر کے بھی ملک کو یکجا کیا۔ اس لئے ان کے کردار کو تاریخی مانا جاتا ہے۔

(i) -3 سردار ولہ بھائی پٹیل اور منی پور کا راجا بودھ چند سنگھ

(ii) کارٹون ظاہر کرتا ہے کہ ریاستوں کے راجا نے عوام پر ظلم اور استحصال کیا۔

(iii) سردار پٹیل نے ریاستوں کے ہندوستان میں الحاق کے معاملے کو کامیابی سے حل کر لیا۔

### چھ نمبر والے سوال کے جوابات

-1 یاد رکھنے لائق نکات کا مطالعہ کریں

(i) -2 راجاؤں کے رہنے والے بھارتیہ یونین میں شامل ہونا چاہتے تھے

(ii) بھارت سرکار کا نظریہ لچبلا تھا وہ کچھ علاقوں کو خود مختاری دینے پر بھی راضی تھے۔

(iii) ملک کی تقسیم کے پس منظر میں ملک کی یکجہتی، اس کی علاقائی حدود کا سوال سب سے اہم تھا۔

سردار پٹیل نے جن کو ”مرد آہن“ (Iron man) کہا جاتا ہے اس کام میں اہم رول ادا کیا۔

-3 یاد رکھنے لائق نکات کا مطالعہ کریں

-4 یاد رکھنے لائق نکات کا مطالعہ کریں

## باب۔ دو

# ایک پارٹی کی بالادستی کا زمانہ

### یاد رکھنے لائق نکات:

- بھارت کے لیڈروں کی آزادی کی تحریک کے زمانے سے ہی جمہوری نظام میں گہری دلچسپی تھی۔ اس لیے آزادی کے بعد بھارت نے جمہوریت کا راستہ اختیار کیا جب کہ اس وقت آزاد ہوئے دوسرے کئی ملکوں میں غیر جمہوری حکومتیں قائم ہوئیں۔
- 26 جنوری 1950 کو آئین نافذ ہونے کے وقت ملک میں عارضی اندرون حکومت تھی۔ اب ملک کے آئین کے مطابق نئی حکومت کے لیے انتخابات کروانے تھے۔ جنوری 1950 میں الیکشن کمیشن کی تشکیل کی گئی۔ سوکمار سین ملک کے پہلے چیف الیکشن کمشنر تھے۔
- الیکشن کمیشن کی چنوتیاں
  - آزاد اور غیر جانبدار انتخابات کروانا
  - انتخابی حلقوں کی حدود متعین کرنا
  - افسران اور انتخابی ملازمین کو تربیت دینا
  - تعلیمی کمی کے سبب الیکشن کے خاص عمل کے بارے میں سوچنا
- اکتوبر 1951 سے فروری 1952 تک پہلے عام انتخابات ہوئے۔
- پہلے تین عام انتخابات میں کانگریس پارٹی کا اقتدار پر قبضہ برقرار رہا۔
- بھارت میں ایک ہی سیاسی جماعت کی بالادستی دنیا کے دیگر ممالک میں ایک پارٹی کی بالادستی سے مندرجہ ذیل بنیاد پر مختلف تھی۔
- دیگر ممالک میں ایک پارٹی کی بالادستی جمہوریت کی قیمت پر قائم ہوئی۔
- چین، کیوبا اور سیریا جیسے ممالک میں آئین صرف ایک ہی پارٹی کو اجازت دیتا ہے
- میکسیکو میں PRI کی تشکیل 1929 میں ہوئی جس نے میکسیکو میں 60 سالوں تک حکومت کی۔ لیکن اس کی شکل پوری طرح تانا شاہی تھی۔

- میانمار، بیلاروس اور آسٹریا جیسے ممالک میں ایک پارٹی کی بالادستی قانونی اور فوجی طریقوں سے قائم ہوئی۔
- بھارت میں ایک پارٹی کی بالادستی جمہوریت اور آزادانہ انتخابات کے ساتھ ہوئی۔
- پہلے تین عام انتخابات میں کانگریس کی بالادستی کے اسباب
  - آزادی کی تحریک میں اہم رول ادا کرنا
  - سب سے پرانی سیاسی جماعت
  - پارٹی کا مکمل طور سے قومی سطح پر کام کرنا
  - پارٹی میں شامل مشہور لیڈر
  - سبھی لوگوں کو ایک ساتھ ملا کر کام کرنے کا عمل
  - بھارت کا انتخابی طریقہ
- کانگریس پارٹی کی شکل ایک سماجی اور نظریاتی گٹھ بندھن کی ہے۔ کانگریس میں کسان اور صنعت کار، شہر کے باشندے اور گاؤں کے لوگ، مزدور اور مالکان، نچلے اور اعلیٰ طبقات وغیرہ سبھی لوگوں کو جگہ دی گئی۔
- کانگریس میں انقلاب پسند اور پر امن، قدامت پسند اور آزاد خیال، اعتدال پسند اور انتہا پسند سبھی طرح کے لوگوں کو ایک ساتھ پارٹی میں شامل رکھا۔ کانگریس کے گٹھ بندھن کے تحت مخالف جماعتوں کے سامنے مشکلات ہی رہیں جب کہ کانگریس کو عام طاقت ملی۔
- انتخابی مقابلوں کے پہلے دس سالوں میں کانگریس نے حکمران پارٹی کا رول ادا کیا۔ کانگریس نے مخالف جماعت کا بھی رول ادا کیا۔ اسی وجہ سے ہندوستانی سیاست کے اس دور کو کانگریسی نظام کہا جاتا ہے۔

### چند اہم مخالف جماعتیں

سیاسی جماعت کا نام	کب قائم ہوئی (تفصیل)	اہم لیڈر	سیاسی جماعت کی اہم پالیسیاں
سوشلسٹ پارٹی	1934 میں کانگریس کا ایک گٹھ اور 1948 میں کانگریس سے الگ نئی سیاسی جماعت بنی	جے پرکاش نارائن اشوک مہتہ، ایم۔ این۔ جوشی رام منوہر لویا وغیرہ	جمہوری سماج واد میں یقین

پیداوار کے ذرائع پر سرکار کا کنٹرول، عام تقسیم کا نظام، کسانوں اور مزدوروں کے مفاد کی حمایت، امریکی اور مغربی ممالک کی مخالفت	اے۔ کے۔ گوپالن ایس۔ اے۔ ڈانگے پی۔ سی۔ جوشی اے جے گھوش، ای ایم ایس نمودری پد	1935 سے ہی کانگریس میں ایک گروپ۔ 1941 میں کانگریس سے الگ ہو کر 1964 میں چین کی جنگ کے سبب پارٹی میں تقسیم ہو گئی۔	کیونٹ پارٹی آف انڈیا
ایک ملک، ایک تہذیب اور ایک قوم کا تصور، ہندی قومی زبان، آرٹیکل 370 کی مخالفت، ایٹمی ہتھیاروں کی تشکیل، حکومت کی کم دخل اندازی وغیرہ	شیا ما پراساد کھرجی دین دیال اپادھیائے بلراج مدھوک اٹل بہاری واجپئی لال کرشن اڈوانی وغیرہ	1951 میں قائم ہوئی	بھارتیہ جن سنگھ
حکومت کی کم مداخلت، آزادانہ معاشی نظام، مرکزی منصوبہ بندی، پرائیویٹ سیکٹر کو ترقی دینا، زرعی زمین کی سیلنگ، سرکاری کاشت کاری اور سرکاری تجارت کی مخالفت کرنا	سی۔ راج گوپال آچاری کے۔ ایم۔ منشی این جی رنگا اور مینومسانی وغیرہ	اگست 1959 کیونٹ پارٹی آف انڈیا	سوتز پارٹی

### ایک نمبر والے سوالات

- 1- مندرجہ ذیل جملے کو مکمل کر کے لکھیں۔  
”بھارتیہ جن سنگھ کا قیام آچاریہ زیندر دیو نے کیا“
- 2- خالی جگہ بھریں  
لوک سبھا کے پہلے عام انتخابات میں 16 نشستیں جیت کر..... دوسرے مقام پر رہی۔
- 3- آزادی کے بعد بھارت میں کون سا نظام حکومت اختیار کیا گیا؟
- 4- بھارت کے پہلے گورنر جنرل کون تھے؟
- 5- بھارتیہ جن سنگھ نے کس خیال پر زور دیا؟
- 6- کانگریس کا پہلے عام انتخابات میں چناؤ نشان کونسا تھا؟
- 7- بھارت میں ایک پارٹی کی بالادستی کس سیاسی جماعت سے متعلق رہی؟
- 8- ”سیاست میں قیادت کی پوجا سیدھے تنزلی کی جانب لے جاتی ہے“۔ یہ کہاوت کس نے کہی ہے؟

- 9- پہلے عام انتخابات میں انتخابی مہم، الیکشن اور ووٹوں کی گنتی میں کتنا وقت لگا؟
- 10- 1975 میں کس سیاسی جماعت نے حکومت بنائی۔
- 11- پہلے عام انتخابات میں دوسرے نمبر پر ووٹ حاصل کرنے کے لحاظ سے کونسی سیاسی جماعت رہی؟
- 12- کس سماج وادی لیڈر نے عارضی اندرون حکومت میں شامل ہونے کی دعوت کو نہ منظور کر دیا تھا؟
- 13- متحدہ انسانیت کے اصول کے بانی کون تھے۔
- 14- بھارت رتن اعزاز سے نوازے پہلے ہندوستانی اور آزاد پارٹی کے بانی کون تھے۔
- 15- ایک پارٹی کی بالادستی سے آپ کیا سمجھتے ہیں۔
- 16- ہندوستانی سیاست کے کس دور کو کانگریسی نظام کہا جاتا ہے؟
- 17- پہلے عام چناؤ میں..... قانون ساز اسمبلیوں کے ممبر اور..... لوک سبھا کے ممبروں کو چناؤ کیا گیا۔
- 18- ہندوستان کا آئین کب بن کر تیار ہوا۔
- 19- مندرجہ ذیل پارٹیوں کے بانیوں کے نام اور انکے ذریعے بنائی گئی سیاسی پارٹیوں میں ملان کریں۔
- |   |                      |       |                  |
|---|----------------------|-------|------------------|
| A | سی۔ راج گوپال اچاریہ | (i)   | تیلگو دیشم پارٹی |
| B | دین دیال ایدھیائے    | (ii)  | سوتن پارٹی       |
| C | این۔ آئی۔ رامارائو   | (iii) | لوک دل           |
| D | چودھری چرن سنگھ      | (iv)  | بھارتیہ جن سنگھ  |
- 20- بھارت رتن سے اعزاز بخش پہلے ہندوستانی تھے۔
- 21- EVM کا استعمال 1990 کی دہائی کے آخر میں الیکشن کمیشن نے کیا..... تک پورے ملک میں EVM کا استعمال شروع ہو گیا۔
- خالی جگہیں بھریں۔
- 22- ہندوستان میں..... کمیشن کی تشکیل جنوری 1950 میں ہوئی تھی۔
- 23- صحیح جواب کا انتخاب کریں:

اس پارٹی نے ایک قوم ایک تہذیب اور ایک ملک کے نظریہ پر زور دیا۔

(1) سوتنڑ پارٹی (2) بھارتیہ کمیونسٹ پارٹی

(3) بھارتیہ جن سنگھ (4) سوشلسٹ پارٹی

## دو نمبر والے سوالات

- 1- دنیا میں سب سے پہلے کب اور کہاں سماج وادی پارٹی کی حکومت جمہوری انتخابات کی بنیاد پر قائم ہوئی؟
- 2- بھارت میں الیکشن کمیشن کی تشکیل کب ہوئی اور پہلے چیف الیکشن کمشنر کون بنے؟
- 3- جمہوریت میں مخالف جماعت کا رول ادا کریں۔
- 4- کون کون سے ملک ایک پارٹی کی قیادت والے ملک تھے؟
- 5- سوتنڑ پارٹی کن باتوں کے خلاف تھی؟
- 6- بھارت میں سماج وادی پارٹی کی تقسیم کے کیا اسباب تھے؟
- 7- ایسی دو ریاستوں کے نام لکھیں جہاں 1952 سے 1967 کے دوران کانگریس اقتدار میں نہیں تھی اور وہ کون سی ریاستیں تھیں جہاں اس دوران کانگریس کو اقتدار حاصل رہا؟
- 8- ”سیاست مسئلہ نہیں بلکہ مسئلہ کا حل ہے۔“ اس بیان کو واضح کیجیے۔
- 9- پہلے تین عام انتخابات میں کانگریس پارٹی کا اقتدار کس طرح بھارت کے جمہوری نظام کو قائم رکھنے میں کامیاب رہا؟
- 10- بھارتیہ جن سنگھ کا کون سا ممبر وزیر اعظم کی پہلی مجلس وزیر بنا اور اس نے کیوں استعفیٰ دیا۔
- 11- بھارتیہ جن سنگھ کے نظریات کی کوئی دو اہم خصوصیات کا ذکر کریں۔
- 12- بھارتیہ کمیونسٹ پارٹی میں تقسیم کب اور کیوں ہوئی؟
- 13- مندرجہ ذیل کو ملا کر مکمل کریں

(i) اے۔ ایس۔ ڈانگے	.....	بھارتیہ جن سنگھ
(ii) شیاما پرساد مکھرجی	.....	بھارتیہ سماج وادی جماعت
(iii) مینومسانی	.....	پرچاشلٹ پارٹی
(iv) اشوک مہتا	.....	سوتنڑ پارٹی

## چار نمبر والے سوالات

- 1- بھارت میں ایک جماعت کی بالادستی کے اسباب بیان کیجیے۔
- 2- وقت کے ساتھ ساتھ کانگریس کی شکل میں کیا تبدیلی آئی؟
- 3- کانگریس کن معنوں میں ایک نظریاتی گٹھ بندھن تھی؟ مثال دیں۔
- 4- بھارتیہ جن سنگھ اور بھارتیہ کمیونسٹ پارٹی کے درمیان تعلقات بیان کیجیے۔ (Imp)
- 5- پہلے عام انتخابات کو "تاریخ کا سب سے بڑا جوا" کیوں کہا گیا؟

## پانچ نمبر والے سوالات

- 1- مندرجہ ذیل پیرا گراف کو دھیان سے پڑھیں اور دیے گئے سوالات کے جواب دیں۔  
 ”پہلے عام انتخابات اکتوبر 1951 سے فروری 1952 تک مکمل ہوئے۔ انتخابی مہم، الیکشن اور ووٹوں کی گنتی میں کل چھ مہینے لگے۔ کل ووٹ دینے والوں میں سے آدھے سے زیادہ نے ووٹ دینے والے دن اپنا ووٹ ڈالا۔ ہارنے والے امیدواروں نے بھی اس انتخاب کو غیر جانبدار بنایا۔ عام بالغ رائے دہی کے اس استعمال نے تنقید نگاروں کا منہ بند کر دیا۔ ہندوستان ٹائمز نے لکھا ”یہ بات ہر جگہ مانی جا رہی ہے کہ بھارت کی عوام نے دنیا کی تاریخ میں جمہوریت کے سب سے بڑے تجربے کو بخوبی انجام دیا“
- 1 (i) پہلے عام انتخابات کے عمل میں چھ مہینے کا وقت کیوں لگا؟
- 2 (ii) عام بالغ رائے دہی کا حق کیا ہے؟
- 2 (iii) ”ہندوستان ٹائمز“ کے ذریعے دیے گئے بیان کا کیا مطلب ہے؟
- 2- پہلا عام الیکشن ایک غریب اور ان پڑھ ملک میں جمہوریت کی پہلی آزمائش بھی تھا۔ اب تک جمہوریت صرف دولت مند ملکوں میں ہی پنپ سکی تھی۔ خاص طور سے یورپ اور امریکہ میں جہاں تقریباً ہر آدمی پڑھا لکھا تھا۔ اس وقت تک یورپ کے کئی ملکوں میں عورتوں کو حق رائے دہندگی نہیں ملا تھا۔ اس حوالے سے ہندوستان کا عام حق رائے دہندگی کا فیصلہ ایک جرأت مندانہ اور جو کھم بھرا اقدام تھا۔ ایک ہندوستانی ایڈیٹر نے اس کو تاریخ کا سب سے بڑا جوا قرار دیا۔
- (i) 1992 کا پہلا عام چناؤ جمہوریت کی تاریخ میں سب سے بڑا جوا کیسے بن گیا۔
- (ii) حق رائے بالغ دہندگی کے معنی بتائیں۔
- (iii) ملک میں پہلا عام چناؤ کرانے میں الیکشن کمیشن کو کن مسائل کا سامنا کرنا پڑا۔



3- مندرجہ ذیل تصویر کا مطالعہ کریں اور سوالات کے جواب دیں:

- 1 (i) یہ تصویر کس سے متعلق ہے؟
- 1 (ii) آزاد ہندوستان کے پہلے گورنر جنرل کون تھے؟
- 3 (iii) تصویر میں دکھائے گئے دو بیٹھے ہوئے اور دو کھڑے ہوئے لوگوں کے نام پہچان کر لکھیں۔



4- مندرجہ ذیل کارٹون کو غور سے دیکھیں اور دیے گئے سوالات کا جواب دیں۔



- 1 (i) رسہ کشی کا کھیل کن کے درمیان چل رہا ہے؟
- 2 (ii) تصویر میں مخالف جماعتوں کی حالت کمزور کیوں نظر آ رہی ہے؟
- 2 (iii) تصویر کی مدد سے چار لوگوں کو پہچان کر ان کے نام لکھیں۔

## چہ نمبر والے سوالات

- 1- پہلے عام انتخابات (1952) سے چوتھے عام انتخابات (1967) سے پہلے تک سیاسی نظام میں کانگریس کی قیادت کے اسباب بیان کیجیے۔
- 2- پارٹیوں کے اندر گٹھ بندھن اور پارٹیوں کے درمیان گٹھ بندھن میں فرق بیان کیجیے۔
- 3- بھارت میں سیاسی جماعتوں کے درمیان مقابلہ آرائی کے اسباب بیان کیجیے۔
- 4- بھارت اور میکسیکو دونوں ہی ملکوں میں ایک خاص وقت تک ایک پارٹی کی بالادستی قائم رہی۔ بھارت اور میکسیکو کی یہ بالادستی کس طرح الگ تھی؟ (Imp)
- 5- ایک پارٹی کی بالادستی کا ہندوستانی سیاست کے جمہوری کردار پر کیا اثر پڑا؟ (Imp)

## ایک نمبر والے سوالات کے جوابات

- 1- شام پراساد کھرجی
- 2- بھارتیہ کمیونسٹ پارٹی
- 3- جمہوری نظام حکومت
- 4- سی۔ راج۔ گوپال آچاریہ
- 5- ایک ملک، ایک ثقافت اور ایک قوم
- 6- دو بیلوں کی جوڑی
- 7- کانگریس پارٹی
- 8- بی۔ آر۔ امبیڈکر
- 9- چھ مہینے
- 10- بھارتیہ کمیونسٹ پارٹی (کیرل میں)

- 11- سماج وادی پارٹی
- 12- جے پرکاش نارائن
- 13- دین دیال اپدھیائے
- 14- سی راج گوپال آچاریہ
- 15- جہاں کثیر پارٹی طریقے کے تحت کس ایک پارٹی کی بالادستی ہوتی ہے اس نظام میں ووٹس ایک ہی پارٹی کو زیادہ اہمیت دیتے ہیں۔
- 16- جہاں کثیر پارٹی نظام کے تحت ایک پارٹی کی بالادستی ہوتی ہے ایسے نظام میں ووٹر ایک ہی پارٹی کو زیادہ اہمیت دیتے ہیں۔
- 17- 489 — 3200
- 18- 26 نومبر 1949
- 19- ii — A
- iv — B
- i — C
- iii — D
- 20- سی۔ راج گوپال آچاریہ
- 21- 2004
- 22- الیکشن کمیشن
- 23- بھارتیہ جن سنگھ

### دونمبر والے سوالات کے جوابات

- 1- 1957 میں بھارت کی کیرل ریاست میں ریاستی اسمبلی انتخابات میں
- 2- جنوری 1950، سوکمار سین
- ڈاکٹر بھیم راؤ امبیڈکر — کیونکہ کانگریس پارٹی کے دروازے سبھی لوگوں کے لیے کھلے ہوئے تھے۔ آزادی کی تحریک میں بھی سبھی لوگوں نے کانگریس کی قیادت میں حصہ لیا تھا۔

- 3- (i) حکومت کی پالیسیوں کی تنقید  
(ii) عوام کو سیاسی تعلیم دینا  
(iii) حکومت کی تانا تاشاہی پر روک  
(iv) عام رائے قائم کرنا
- 4- میکسیکو، جنوبی کوریا، تائیوان
- 5- زراعتی زمین کی حد بندی، سرکاری کاشتکاری اور سرکاری تجارت
- 6- 1962 کے بھارت-چین جنگ کے دوران کمیونسٹ پارٹی نے چین کے حملے کو صحیح مانا اور ایک گٹ نے اس کی مخالفت کی۔ لہذا 1964 میں کمیونسٹ پارٹی تقسیم ہوگی۔
- 7- (i) جموں و کشمیر اور کیرل (جہاں ریاستی حکومت میں کانگریس اقتدار میں نہیں رہی)  
(ii) پنجاب، اتر پردیش (جہاں کانگریس کو ریاستی حکومت میں اقتدار حاصل رہا)
- 8- سماج میں زرائعوں/وسائل کی صحیح تقسیم کے لیے سیاست ہی اہم ذریعہ ہے۔ اس طرح سیاست ایک مسئلہ نہیں ہے بلکہ مسائل کا حل پیش کرتی ہے۔
- 9- (i) بھارت میں کانگریسی اقتدار کی شکل کیوبا اور چین جیسے ملکوں میں ایک جماعتی اقتدار سے مختلف تھی۔  
(ii) پہلے تین عام انتخابات میں کانگریسی اقتدار کے باوجود مخالف جماعتوں کی آوازوں کو دیا نہیں گیا بلکہ ان کی عزت کی گئی۔
- 10- شیاپرساد کھرجی نے پاکستان کے ساتھ آپسی اختلافات کو لے کر 1950 میں استعفیٰ دے دیا۔
- 11- یاد رکھنے لائق نکات دیکھیں۔
- 12- 1964 میں ہوئی چین اور سوویت یونین میں نظریاتی فرق آنے پر بھارتیہ کمیونسٹ پارٹی ٹوٹ کا شکار ہو گئی سوویت نظریات کے حامی بھارتیہ کمیونسٹ پارٹی (CPI) اور چین کے نظریات کے حامی بھارتیہ کمیونسٹ پارٹی مارکس وادی کہلائے۔
- 13- (i) ایس۔ اے۔ ڈانگے ..... کمیونسٹ پارٹی آف انڈیا  
(ii) شیاپرساد کھرجی ..... بھارتیہ جن سنگھ  
(iii) مینومسانی ..... سونتر پارٹی  
(iv) اشوک مہتہ ..... پرچاسوشلیسٹ پارٹی

## چار نمبر والے سوالات کے جوابات

- 1- (i) کانگریس کو سبھی طبقات کی نمائندگی حاصل تھی۔  
(ii) تقریباً ساری مخالف جماعتیں کانگریس سے ہی نکلی تھیں  
(iii) کانگریس اور مخالف جماعتوں کی پالیسیوں میں مساوات تھی۔  
(iv) ریاستوں میں گھٹ بندھن حکومتوں کا ناکام ہونا
- 2- (i) بیسویں صدی میں کانگریس امیروں و تجارتی لوگوں کا دباؤ گروپ جس پر انگریزی بولنے والے اعلیٰ طبقے کا اثر تھا۔  
(ii) گاندھی کے آجانے سے شہری، دیہات، سرمایہ دار، مزدور اور مختلف طبقات کانگریس کے ممبر بنے۔  
(iii) آزادی حاصل کرنے کے وقت کانگریس قوس و قزح کی مانند تھی جس میں تمام مذاہب، طبقات اور زبان کے لوگ شامل تھے۔
- 3- (i) کانگریس میں مختلف نظریات کے لوگ شامل تھے جیسے اعتدال پسند و انتہا پسند  
(ii) اس میں لوگ اپنے گٹوں میں رہتے ہوئے بھی شامل ہو سکتے تھے۔  
(iii) سوشلسٹ پارٹی کی تشکیل بھی کانگریس کے اندر سے ہی ہوئی۔  
(iv) اس کی قیادت کسی ایک طبقے، ذات یا پیشہ تک ہی محدود نہیں تھی۔

-4

بھارتیہ کمیونسٹ پارٹی	بھارتیہ جن سنگھ
1951 میں تشدد انقلاب کا راستہ چھوڑ کر عام انتخابات میں حصہ لیا	(i) ایک دلش، ایک ثقافت اور ایک قوم کا نظریہ
1964 میں تقسیم ہوئی۔ چین کے حامی لیڈروں نے بھارتیہ کمیونسٹ پارٹی کے نام سے پارٹی بنائی۔	(ii) ہندوستانی ثقافت اور روایت کی بنیاد پر آزادی، ترقی یافتہ اور طاقت ور بھارت کا تصور
1947 میں اقتدار کی منتقلی کو سچی آزادی نہیں مانا۔ تلگانہ میں پر تشدد بغاوت کو بڑھا دیا۔	(iii) بھارت اور پاکستان کو ملا کر اکھنڈ بھارت کا تصور
اے۔ اے۔ کے۔ گوپالن، ایس۔ اے۔ ڈانگے، ای۔ ایم۔ ایس۔ نمودری پدو غیرہ صف اول کے رہنما تھے۔	(iv) انگریزی زبان کو ہٹا کر ہندی زبان کو قومی زبان بنانے کے لیے تحریکیں چلائیں۔ شیاما پرساد مکھرجی، دین دیال اپادھیائے، بلراج مدھوک وغیرہ اہم لیڈروں میں شامل تھے۔

- 5- (i) ووٹ دینے والوں کی ایک بڑی تعداد  
(ii) غریب اور غیر تعلیم یافتہ ووٹ دینے والے  
(iii) انتخابات سے متعلق ذرائع کی کمی  
(iv) تربیت یافتہ انتخابی افسران و ملازمین کی کمی

### پانچ نمبر والے سوالات کے جوابات

- 1- (i) (a) ذرائع کی کمی  
(b) تربیت یافتہ انتخابی افسران و کارکنان کی کمی  
(ii) ذاب پات، مذہب، رنگ و نسل کے بھید بھاؤ کے بغیر سبھی کو ووٹ دینے کا حق  
(iii) (a) ووٹ دینے والوں کی بھاری تعداد  
(b) غریبی اور غیر تعلیم یافتہ ماحول میں انتخابات
- 2- (i) چناؤ کی کامیابی نے یہ ثابت کر دیا کہ جمہوری چناؤ غریبی اور تعلیم کی کمی میں بھی کرائے جاسکتے ہیں اور جمہوریت قائم کی جاسکتی ہے۔  
(ii) سبھی بالغوں کو بنا کسی تفریق کے ووٹ دینے کا حق  
(iii) ووٹرز کی بڑی آبادی غریبی اور ان پڑھ ہونا۔ چناؤ کے لیے وسائل کی کمی ترقی یافتہ چناؤ کرانے والوں کی کمی۔
- 3- (i) 1948 میں چکرورتی راج گوپال آچاریہ کے گورنر جنرل کا عہدہ سنبھالنے کا حلف کے بعد نہرو کا بیٹہ  
(ii) چکرورتی راج گوپال آچاریہ  
(iii) ڈاکٹر امیڈ کر، شاما پرساد کھرجی، راج کماری امرت کور، سردار ٹیل، مولانا آزاد، جواہر لعل نہرو
- 4- (i) سرکار اور مخالف جماعتوں کے درمیان  
(ii) کانگریس پارٹی مضبوط پوزیشن میں تھی جبکہ ایک مضبوط مخالف جماعت کی کمی تھی۔ کیونکہ کانگریس کے پاس ایک مضبوط تنظیم اور آزادی کی تحریک وراثت کی شکل میں موجود تھی۔  
(iii) مخالف جماعت: ایس۔ کے۔ گوپال، اچاریہ کلپالانی، این۔ سی۔ چٹانی سری کانت نیر اور حکم سنگھ

اقتداری جماعت: پنڈت جواہر لعل نہرو، راجکمارى امرت کور، مولانا ابوالکلام آزاد

### چہ نمبر والے سوالات کے جوابات

- 1- یاد رکھنے لائق نکات کا مطالعہ کریں
- 2- پارٹی کے اندر گٹھ بندھن بھارت میں پہلے عام انتخابات سے ہی دیکھنے کو ملا۔ الگ الگ گٹھوں کے ہونے سے اس کا برتاؤ صبر کرنے والا بنا اور کانگریس کے اندر تنظیم کا ڈھانچہ الگ ہونے پر بھی نظام میں توازن کو برقرار رکھنے کا کام کیا آج کی سیاست میں جماعتوں کے درمیان گٹھ بندھن دکھائی دیتا ہے جہاں الگ الگ نظریات کو ماننے والے عام حمایت کے مدعوں پر ملی جلی حکومت قائم کرتے ہیں لیکن اپنی جماعت کی پالیسیاں نہیں بدلتے۔
- 3- (i) آزاد انتخابی کمیشن  
(ii) آزاد پریس  
(iii) آزاد عدلیہ  
(iv) کثیر جماعتی نظام  
(v) دباؤ گروپ اور مفاد گروپ وغیرہ
- 4- (i) میکسیکو میں (PRI) ہی کامیاب رہی باقی تمام جماعتیں صرف نام کی ہی تھیں تاکہ حکمران پارٹی کو منظوری ملی رہے۔  
(ii) انتخابات کے اصول حکمران جماعت کے مطابق طے کیے گئے  
(iii) حکمران پارٹی نے انتخابات کے دوران ہیرا پھیری اور دھاندلی کی  
(iv) بھارت میں ایک جماعت کی بالادستی کے پیچھے کانگریس کو تحریک آزادی وراثت میں ملی تھی۔  
(v) کانگریس پارٹی کی تنظیم مضبوط اور اہم تھی۔  
(vi) مخالف جماعتوں کی تنظیم کمزور تھی  
(vii) سب سے زیادہ ووٹوں سے جیت حاصل کرنے کے طریقے کے سبب بھی کانگریس پارٹی نے اہم رول ادا کیا
- 5- یاد رکھنے لائق نکات دیکھیں۔

## باب۔ تین

### منصوبہ بند ترقی کی سیاست

منصوبے سے مراد ہے موجودہ وسائل کے بہتر استعمال کے لئے مستقبل کا منصوبہ بنانا۔ منصوبے کے ذریعے سے پیداوار میں اضافہ۔ روزگار کے موقعوں میں اضافہ۔ اور معاشی استحکام وغیرہ مقاصد کو حاصل کیا جاتا ہے۔

#### یاد رکھنے لائق نکات:

- آزادی کے بعد تقریباً سبھی اس بات پر متفق تھے کہ بھارت کی ترقی کے معنی منصوبہ بند معاشی و سماجی انصاف پر قائم ہو۔
- اس بات پر بھی متفق تھے کہ معاشی ترقی اور سماجی و معاشی انصاف کو صرف پیشہ وارانہ، صنعت کاروں اور کسانوں کے بھروسے نہیں چھوڑا جاسکتا۔ اس میں حکومت کو بھی اہم رول ادا کرنا ہوگا۔
- آزادی کے وقت ترقی کا پیمانہ مغربی ممالک کو مانا جاتا تھا۔ جدید ہونے کے معنی مغربی صنعتی ممالک کی طرح ہونا تھا۔
- ترقی کے دو ماڈل تھے پہلا آزاد سرمایہ دارانہ ماڈل اور دوسرا اشتراکی (سماج وادی) ماڈل۔
- بھارت نے ملی جلی معیشت کا ماڈل جس میں عوامی اور نجی شعبوں کی خصوصیات کی آمیزش تھی اختیار کیا۔
- آزادی کی تحریک کے دوران لیڈروں میں اتفاق ہو گیا تھا کہ غربی مٹانے اور سبھی معاشی تقسیم نو کے کام کی اہم ذمہ داری ہندوستان کی حکومت کی ہوگی۔
- زراعت یا صنعت کیسے اولیت دی جائے۔ اس پر اختلاف تھے۔
- 1944 میں صنعت کاروں کے ایک گروپ نے منصوبہ بند معیشت کے قیام کی تجویز پیش کی جس کے تحت حکومت نے صنعتی اور معاشی سرمایہ کاری کے دیگر شعبوں میں اہم اقدامات کیے جسے ”مبینی پلان“ کہا جاتا ہے۔
- ممبئی پلان کی سفارش تھی کہ حکومت صنعتی اور سرمایہ کاری کے دیگر شعبوں میں اہم قدم اٹھائے۔
- پلاننگ کمیشن کی تشکیل مارچ 1950 میں بھارت سرکار کی ایک تجویز کے ذریعے کی گئی۔ وزیر اعظم اس کے صدر بنے۔
- سوویت یونین کی طرح بھارت کے پلاننگ کمیشن نے بھی پانچ سالہ منصوبوں کا راستہ اختیار کیا۔
- پانچ سالہ منصوبوں سے مراد یہ تھی کہ اگلے پانچ سالوں کے لیے سرکار کی آمدنی اور خرچ کا منصوبہ ہوگا۔



● پہلا پنج سالہ منصوبہ (1951-56) میں سب سے زیادہ توجہ زراعت پر مرکوز کی گئی۔ اس کے تحت باندھ اور سیپھائی کے میدان میں سرمایہ کاری کی گئی۔ بھاکڑ اننگل منصوبہ اس میں سے ایک تھا۔

● دوسرے پنج سالہ منصوبہ (1956-61) میں بھاری صنعتوں کی ترقی پر زور دیا گیا۔ عوامی شعبہ کو ترقی دی گئی۔ حکومت نے گھریلو صنعتوں کی حفاظت کے لیے بھاری ٹیکس لگائے گئے۔ اس منصوبے کو بنانے والے پی۔سی۔ مہالنبس تھے۔

### ● ترقی کا کیرل ماڈل

■ غیر مرکزی منصوبہ بندی، تعلیم، صحت، زمینی اصلاحات، موثر غذائی تقسیم اور غربت میں کمی کرنے پر زور دیا گیا۔

■ جے۔سی۔ کمار پاجیسے گاندھی وادی ماہر معاشیات نے ترقی کے منصوبے کے تحت گاؤں کی صنعتی ترقی پر زور دیا۔

■ چودھری چرن سنگھ نے بھارت کی معیشت کی منصوبہ بندی میں زراعت کو مرکز کے اختیار میں رکھنے کی بات کافی اثر دار انداز میں اٹھائی۔

■ زمینی اصلاحات کے تحت زمینداری نظام کا خاتمہ، زمین کے چھوٹے چھوٹے ٹکڑوں کو ایک ساتھ کرنا (چک بندی) اور جو کاشتکار کسی دوسرے کی زمین پر کھیتی کر رہے تھے انھیں قانونی تحفظ فراہم کیا جائے اور زمینی ملکیت کا مالک بنائے جانے جیسے اہم قدم اٹھائے گئے۔

■ 1960 کی دہائی میں قحط اور سوکھا پڑنے کے سبب زراعت کی حالت بدتر ہوتی چلی گئی۔ نتیجتاً بھارت کو دوسرے ملکوں سے گہوں لینا پڑا۔

### ● سبز انقلاب

■ حکومت نے غذائی تحفظ کو منظم کرنے کے لیے ایک نئی حکمت عملی اختیار کی جس کو ”سبز انقلاب“ کا نام دیا گیا۔ اب ان علاقوں پر زیادہ ذرائع کا استعمال کرنے کا فیصلہ کیا گیا جہاں سیپھائی کی سہولت موجود تھی اور کسان خوشحال تھے۔

■ حکومت نے اچھی کوالٹی کے بیج، کھاد، جراثیم مارنے والی دوائیں اور بہتر سیپھائی کے طریقے بڑے منظم انداز سے مہیا کروانا شروع کر دیے۔ پیداوار کو ایک مقرر قیمت پر خریدنے کی بات گارنٹی کے ساتھ کہی گئی۔ ان تمام انتظامات اور کوششوں کو ہی بھارت میں ”سبز انقلاب“ کہا جاتا ہے جس کے بانی ایم۔ ایس۔ سوامی ناتھن تھے۔

■ سبز انقلاب کے سبب گہوں کی پیداوار میں اضافہ ہوا۔ پنجاب، ہریانہ اور مغربی اتر پردیش کے علاقے خوشحال ہوئے۔

■ اس کا منفی اثر یہ پڑا کہ علاقائی اور سماجی نابرابری بڑھنے لگی۔ سبز انقلاب کے سبب غریب کسان اور زمینی مالکان کے درمیان

فرق بڑھ گیا جس سے بائیں بازو کی تنظیمیں ابھرنے لگیں۔ وسطی طبقے کے زمین کے مالک کسانوں کا عروج ہوا۔

## ● سفید انقلاب

Milkman of India کے نام سے مشہور ورگیس کورین نے گجرات میں دودھ والوں کی کوآپریٹو سوسائٹیوں کا جال پھیلا دیا۔ 1970 میں ”آپریشن سیلاب“ کے نام سے دیہی ترقی کا پروگرام شروع کیا گیا جس کا مقصد دودھ کی پیداوار میں اضافہ ہوا اور درمیان کے پچھلیوں کو ہٹا کر دودھ پیدا کرنے والے اور دودھ خریدنے والوں میں قربت ہو۔ اس کے ذریعے ڈیری فارمنگ کو ترقی دی گئی۔ دیہی گھرانوں کے لیے آمدنی اور روزگار مہیا کرا کے غربتی کو کم کیا گیا۔ اس میں گجرات کے دو لاکھ دودھ پیدا کرنے والے جڑے۔ اس ماڈل کی ترقی کو ہی ”سفید انقلاب“ کہا جاتا ہے۔

## ● اہم زراعتی انقلاب اور ان کے مقاصد

سبز انقلاب: غذائی اشیا کی پیداوار کو بڑھانا

سفید انقلاب: دودھ اور دودھ سے بننے والی اشیا کی پیداوار کو بڑھانا

پیلا انقلاب: تانہن کی پیداوار کو بڑھانا

نیلا انقلاب: مچھلی کی پیداوار کو بڑھانا

پنچ سالہ منصوبے

منصوبہ	مدت	مقاصد
پہلا منصوبہ	1951-56	زراعتی ترقی
دوسرا منصوبہ	1956-61	صنعتی ترقی
تیسرا	1961-66	غذائی، خود انحصاری، بے زر و کاری مٹانا
چوتھا منصوبہ	1969-74	پیداوار میں اضافہ، معاشی استحکام
پانچواں منصوبہ	1974-79	خود انحصاری، غربتی دور کرنا
چھٹا منصوبہ	1980-85	توانائی کے وسائل میں ترقی، کمزور طبقہ کے مفاد

غذائی پیداوار، جدید کاری، دیہی ترقی	1985-90	ساتواں منصوبہ
روزگار، صحت، تعلیم	1992-97	آٹھواں منصوبہ
سماجی انصاف، 6.5 فیصد معاشی ترقی	1997-2002	نواں منصوبہ
سماجی صنعتی ترقی اور 7 فیصد معاشی ترقی	2002-2007	دسواں منصوبہ
توانائی، روزگار 9 فیصد ترقی	2007-2012	گیارہواں منصوبہ
8 فیصد معاشی ترقی	2012-17	بارہواں

- پہلی جنوری 2015 سے پلاننگ کمیشن کی جگہ ”نیتی آئیوگ“ (NITI) وجود میں آیا جس کے صدر ہمارے ملک کے وزیراعظم نریندر مودی ہیں۔ نائب صدر راجیو کمار۔ اس کو تفصیل کے ساتھ اس طرح بیان کیا گیا ہے:

National Institute for Transforming India(NITI)

### ایک نمبر والے سوالات

- 1- دوسری پانچ سالہ منصوبوں کا خاکہ کس نے تیار کیا تھا؟
- 2- "Economy of Permanance" کے مصنف کون تھے؟
- 3- بھارت میں منصوبہ بند ترقی کا کیا مقصد تھا؟
- 4- زوننگ لفظ سے کیا مراد ہے؟
- 5- اڑیسہ میں کس دھات کے بڑے ذخائر موجود ہیں؟
- 6- آزادی کے بعد بھارت کی منصوبہ بندی کرنے والے کس ماڈل سے متاثر تھے؟
- 7- ملک میں آف انڈیا کے نام سے کسے جانا جاتا ہے؟
- 8- علاقہ بندی کی پالیسی سے بہار پر کیا اثر پڑا؟
- 9- پی۔سی۔ مہالنبوس کون تھے؟
- 10- سبز انقلاب کا موجد کس کو مانا جاتا ہے؟

- 11- منصوبہ بندی کا ایک فائدہ بتائیے۔
- 12- سفید انقلاب سے آپ کیا سمجھتے ہیں؟
- 13- آزادی حاصل کرنے والے سالوں میں ترقی سے کیا مراد ہے؟
- 14- سبز انقلاب سے کیا مطلب ہے؟
- 15- پنج سالہ منصوبوں کا ماڈل بھارت نے کس ملک سے متاثر ہو کر اختیار کیا؟
- 16- صحیح متبادل چنیں

ہندوستانی صنعت کاروں کے ذریعے منصوبہ بند معیشت چلانے کے لیے ایک جو ائنٹ تجویز تیار کی گئی سال.....

- (1) 1944 (2) 1945 (3) 1942 (4) 1946
- 17- ہندوستان میں شروعاتی دور میں ترقیات کی جو پالیسی اپنائی گئی ان میں مندرجہ ذیل میں سے کون سا نظریہ شامل نہیں تھا۔
- (1) منصوبہ (2) نرم کاری (3) اجتماعی کھیتی (4) خود کفالت

## دو نمبر والے سوالات

- 1- بابے پلان کیا تھا؟
- 2- ترقی کا کیرل ماڈل کیا تھا؟
- 3- Operation Flood کا اہم مقصد کیا تھا؟
- 4- سبز انقلاب کی شروعات کن حالات میں کی گئی؟
- 5- زمینی اصلاحات سے متعلق اٹھائے گئے دو اقدامات بیان کیجیے۔
- 6- دوسرا پنج سالہ منصوبہ پہلے پنج سالہ منصوبے کے مقابلے میں کس طرح مختلف تھا؟
- 7- زوننگ (علاقہ بندی) کے کوئی دو نتائج بیان کیجیے۔
- 8- بھارت کی معیشت کو ملی جلی معیشت کیوں کہتے ہیں؟
- 9- ایسی دو ریاستوں کے نام لکھیں جہاں HYV بیجوں کا استعمال ہوا؟
- 10- پوسکو پلانٹ کی آدمی کیوں مخالفت کر رہے تھے

11- مندرجہ ذیل کو آپس میں جوڑیے۔

صنعتی ترقی	.....	چودھری چرن سنگھ	(i)
علاقہ بندی	.....	پی۔سی۔ مہالنبس	(ii)
کسان لیڈر	.....	ورگیس کورین	(iii)
کوآپریٹو ڈیری	.....	بہار کا قحط	(iv)

### چار نمبر والے سوالات

- 1- دائیں بازو اور بائیں بازو میں کیا فرق ہے؟ (Imp)
- 2- ملی جلی معیشت کی تقید کس بنیاد پر کی گئی ہے؟
- 3- پلاننگ کمیشن کے اہم کاموں کا ذکر کیجیے۔
- 4- بھارت میں غذائی بحران کے کیا نتائج ہوئے؟ (Imp)
- 5- آزادی کے وقت بھارت کی معیشت کی کیا مشکلات تھیں؟
- 6- بھارت کی ملی جلی معیشت کے ماڈل کے اہم نتائج کا جائزہ لیجیے۔

### پانچ نمبر والے سوالات

1-



- (i) اوپر دیے گئے کارٹون میں کس مسئلہ کی جانب اشارہ کیا گیا ہے؟ 2
- (ii) اس مسئلہ کا حل کس طرح نکالا گیا ہے؟ 1
- (iii) دونوں جماعتوں کی جانب سے ایک ایک بیان دیجیے۔ 2

2- ”ترقی کے دو جانے مانے ماڈل تھے۔ ہندوستان نے ان میں سے کسی کو بھی نہیں اپنایا۔ سرمایہ دارانہ ماڈل میں ترقی کا کام پوری طرح نجی شعبے کے بھروسے ہوتا ہے۔ ہندوستان نے یہ راستہ نہیں اپنایا۔ ہندوستان نے ترقی کا سماجی ماڈل بھی نہیں اپنایا۔ جس میں ہر طرح کی پیداوار پر ریاست کا کنٹرول ہوتا ہے۔ ہندوستان نے دونوں ماڈل کے ملے جلے راستے کو اپنایا۔

(i) ترقی کے دو جانے مانے ماڈل کن دو ممالک سے متاثر تھے۔

(ii) سرمایہ دارانہ ماڈل اور سماجی ماڈل میں کیا فرق ہے۔

(iii) ہندوستان میں کون سی معیشت اپنائی اور کیوں؟

### چہ نمبر والے سوالات

- 1- آزادی کے بعد بھارت میں اختیار کیے گئے معاشی ترقی کے ماڈل کی حمایت اور مخالفت میں مختلف بیانات واضح کیجیے۔
- 2- آزادی کے بعد سے لاگو ہونے والے منصفانہ منصوبوں سے کیا کامیابیاں حاصل ہوئیں بیان کیجیے۔
- 3- سبز انقلاب کے مثبت اور منفی پہلوؤں کا جائزہ لیجیے۔
- 4- آزادی حاصل کرنے کے بعد بھارت کی ترقی ہو رہی ہے لیکن پھر بھی قومی یکجہتی کے کچھ مددے ابھی باقی ہیں۔ وضاحت کیجیے۔
- 5- سبز انقلاب کے ذریعے پیداوار بڑھانے کے لیے حکومت نے کیا اقدامات کیے؟

### ایک نمبر والے سوالات کے جوابات

- 1- پی۔سی۔ مہالنبس
- 2- جے۔سی۔ کمارپا
- 3- معاشی ترقی اور تمام شہریوں کی بھلائی

- 4- علاقہ بندی کی پالیسی
- 5- لوہادھات
- 6- سماج وادی ماڈل
- 7- ورگیس کورین
- 8- اناج کی پیداوار میں کمی
- 9- ماہر معاشیات اور دوسری پنج سالہ منصوبہ کے بانی
- 10- ایم۔ ایس۔ سوامی ناتھن
- 11- دیے گئے مقررہ وقت میں مقاصد حاصل کرنا
- 12- دودھ اور دودھ سے بننے والی اشیاء کی پیداوار کو بڑھانا
- 13- سب کی مساوی ترقی
- 14- غذائی پیداوار کو بڑھانا
- 15- سوویت یونین
- 16- 1944
- 17- نرم کاری

### دو نمبر والے سوالات کے جوابات

- 1- 1944 میں صنعت کاروں کے ایک گروپ کے ذریعے ملک میں منصوبہ بند معاشی نظام کو چلانے کے لیے تیار کی گئی تجویز
- 2- اس میں تعلیم، محنت، زمینی سدھار وغیرہ پر زور دیا گیا۔
- 3- دودھ کی پیداوار کرنے والوں کو پیداوار اور تقسیم کی ایک قومی مہم کے ساتھ جوڑا گیا۔
- 4- ■ سوکھا پڑنے اور قحط کی وجہ سے پیدا غذائی بحران
- 5- ■ گہوں کو دوسرے ملکوں سے منگوا یا گیا خاص طور سے امریکہ سے
- 6- زمینداری نظام کو ختم کر دیا گیا اور کاشتکاروں کو قانونی تحفظ فراہم کیا گیا۔
- 7- پہلا پنج سالہ منصوبہ زراعت پر منحصر تھا جب کہ دوسرے پنج سالہ منصوبے میں صنعتی ترقی پر زور دیا گیا۔

- پہلے پانچ سالہ منصوبہ میں ترقی کی رفتار سست رہی لیکن دوسرے منصوبہ کی کوشش تیز رفتاری کے ساتھ تھی۔
- 7- مختلف ریاستوں کے درمیان غذائی ایشیا کی تجارت نہیں ہو پارہی تھی۔ بہار (قحط اور سوکھا) میں سب سے زیادہ غذائی بحران تھا اور غذائی ایشیا میں بھاری گراوٹ آرہی تھی۔
- 8- کیوں کہ بھارت نے سرمایہ دارانہ اور سماج وادی دونوں ماڈل کو ملا کر اپنی ملی جلی معیشت کو قائم کیا ہے۔
- 9- پنجاب و آندھرا پردیش
- 10- آدی باسیوں کو اپنے روزگار کے چھن جانے اور گھر بار چھن جانے کا ڈر تھا اور ان کو ڈر تھا کہ کان کنی کی صنعت سے ماحول آلودہ ہوگا۔
- 11- (i) چودھری چرن سنگھ ..... کسان لیڈر  
(ii) پی۔سی۔ مہالنبوس ..... صنعتی ترقی  
(iii) ورگیس کورین ..... کوآپریٹو ڈیری  
(iv) بہار قحط ..... علاقہ بندی

### چار نمبر والے سوالات کے جوابات

- 1- ■ غریب اور چھوٹے ہوئے سماجی طبقات کی حفاظت  
■ عام فلاحی ریاست اور سرکاری پالیسیوں کے حامی  
■ کھلے معاشی مقابلے اور بازاری معاشی نظام  
■ معیشت میں غیر ضروری مداخلت کی مخالفت
- 2- ■ نجی شعبوں کو بڑھاوا نہ دینا  
■ گھریلو بازار میں مقابلہ آرائی نہیں  
■ تعلیم اور علاج میں کم خرچ  
■ ریاستی مداخلت کے سبب ایک نئے متوسط طبقے کا آغاز
- 3- (i) ملک کے وسائل اور سرمایہ کا اندازہ لگانا  
(ii) ترقی کے منصوبے بنانا



- (iii) ترقی کی منزلوں کو طے کرنا
- (iv) ترقی کی راہ میں آنے والی رکاوٹوں کا پتہ لگانا
- (v) ترقی کے منصوبوں کا تجزیہ کرنا
- 4- (i) دوسرے ملکوں سے گیہوں منگوانا پڑا
- (ii) خاص طور سے امریکہ کی مدد لینی پڑی
- (iii) یہ طے کیا گیا کہ مستقبل میں کس طرح غذائی طور پر ملک کو خود کفیل بنایا جائے
- (iv) حکومت کے خلاف عوام کے بے چینی بڑھی
- (v) عوام کا منصوبہ بندی پر سے یقین ختم ہونے لگا

- 5- (i) کمزور معیشت
- (ii) فی کس آمدنی کا کم ہونا
- (iii) معیار زندگی کا کم ہونا
- (iv) زراعت کو اہمیت
- (v) زراعت اور صنعتوں کی کم پیداوار

- 6- (i) زراعتی تجارت اور صنعتوں کا زیادہ تر حصہ نجی ملکیت میں چھوڑ دیا گیا
- (ii) حکومت کے ذریعے قائم خاص صنعتوں نے صنعتی ڈھانچے، تجارت اور زراعت میں مداخلت کی

### پانچ نمبر والے سوالات کے جوابات

- 1- (i) عوامی اور نجی زمروں کا مسئلہ
- (ii) ملی جلی معیشت کے ذریعے
- (iii) ■ عوامی شعبوں میں بنیادی ڈھانچہ فراہم کرنا
- نجی شعبوں میں بازاری معیشت کا حامی ہونا
- 2- (i) سرمایہ دارانہ ماڈل امریکہ۔ سماجی ماڈل سوویت یونین
- (ii) سرمایہ دارانہ ماڈل میں نجی جائیداد کا وجود ہوتا ہے۔ پیداوار کے وسائل پر نجی لوگوں یا تنظیم کا کنٹرول ہوتا ہے جبکہ

- ساجوادی ماڈل میں پیداوار کے وسائل پر ریاست کا کنٹرول ہوتا ہے۔
- (iii) ہندوستان نے ملی جلی معیشت کو اپنایا اور اپنے ملک کی ترقی کے لیے دونوں ماڈلوں میں سے کچھ کچھ باتوں کو اپنایا اور انہیں ملے جلے روپ سے لاگو کیا۔

## چھ نمبر والے سوالات کے جوابات

### 1- حمایت

- (i) بھارت کی ترقی کے معنی معاشی ترقی اور سماجی انصاف ہونا چاہیے
- (ii) ترقی کے مددے کو صرف تجارتی لوگوں، صنعت کاروں اور کسانوں پر ہی نہیں چھوڑا جاسکتا۔ اس میں حکومت کو بھی ایک اہم رول ادا کرنا ہوگا
- (iii) صنعت بنام زراعت، نجی بنام عوامی شعبوں سے جڑے مددعوں پر متفق نہ ہونا

### مخالفت

- (i) حکومت کے ذریعے پیش کیے گئے رول پر متفق نہ ہونا
- (ii) اگر معاشی ترقی سے نا برابر ہی ہو تو انصاف کی ضرورت سے جڑے مددعوں پر ناراضگی
- (iii) زراعت بنام صنعت۔ عوام بنام نجی شعبہ سے جڑے مددعوں پر متفق نہ ہونا

### 2-

- (i) بھارت کے مستقبل کی بنیاد مضبوط
- (ii) زمینی اصلاحات کے اقدامات شروع
- (iii) قومی آمدنی میں اضافہ
- (iv) سماجی انصاف قائم ہوا
- (v) تعلیم میں اضافہ ہوا
- (vi) پیداوار میں خود کفیل

### 3- مثبت نتائج

- (i) زراعت کے میدان میں خود کفیل
- (ii) دیہاتی علاقوں میں ترقی
- (iii) غذائی اشیاء میں خود کفیل ہونے کے سبب بیرونی زر مبادلہ میں اضافہ
- (iv) قومی آمدنی میں اضافہ
- (v) صنعتی ترقی کا عمل تیز ہوا
- (vi) روزگار کے مواقع بڑھے

### منفی نتائج

- (i) علاقائی نا برابری میں اضافہ
- (ii) چھوٹے کسانوں اور زرعتی مزدوروں کو فائدہ نہیں ہوا
- (iii) امیر اور غریب کے درمیان فرق بڑھا
- (iv) دائیں بازوں اور بائیں بازوں کی سرگرمیاں تیز ہوئیں

4- (a) جہالت

(b) ذات پات

(c) لسانیت

(d) غریبی وغیرہ

5- یاد رکھنے لائق نکات دیکھیں

## باب۔ چار

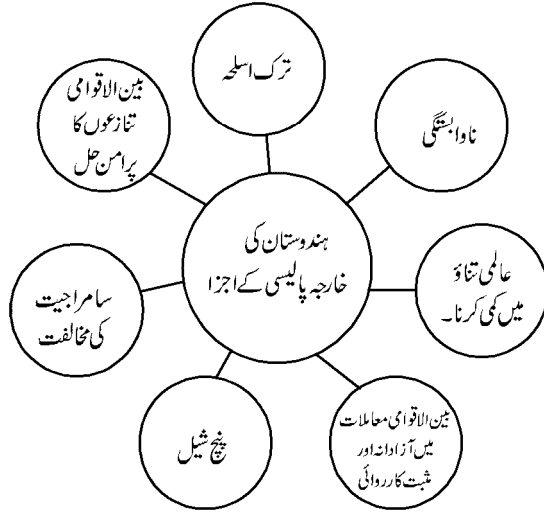
# ہندوستان کے خارجی تعلقات

ہندوستان بہت چنوتیوں سے بھرے بین الاقوامی حالات میں آزاد ہوا تھا۔ اس وقت تقریباً پوری دنیا دو گٹوں میں بٹ چکی تھی۔ ایسے میں ہندوستان کے وزیر اعظم جواہر لال نہرو نے بڑی دوراندیشی کے ساتھ ہندوستان کی خارجی پالیسی طے کی۔

### یاد رکھنے لائق نکات:

- بھارت کی خارجی پالیسی پر ملک کے پہلے وزیر اعظم اور وزیر خارجہ جواہر لعل نہرو کی گہری چھاپ پائی جاتی ہے۔ نہرو کی پالیسی کے تین خاص مقاصد تھے:

- ایک طویل جدوجہد کے بعد حاصل ہوئی آزادی و اقتدار کو بچائے رکھنا
- ملک کی علاقائی سالمیت کو بنائے رکھنا
- ملک کی تیز رفتاری کے ساتھ معاشی ترقی کرنا



- 5- پنج شیل: 29/اپریل 1954 کو وزیر اعظم جواہر لعل نہرو اور چین کے صدر چاؤ این لائی کے درمیان معاہدہ جس میں پانچ اہم نکات کو شامل کیا گیا:
- ایک دوسرے کے خلاف حملہ نہ کرنا

- ایک دوسرے کے اندرونی معاملات میں مداخلت نہ کرنا
- ایک دوسرے کی علاقائی سالمیت کا احترام کرنا
- مساوات اور ایک دوسرے کے ساتھ دوستی کا جذبہ
- پرامن بقائے باہمی

### ● ناوابستگی کی پالیسی:-

بے تحاشا کوششوں سے ملی آزادی کے بعد ہندوستان کے سامنے ایک بڑی چنوتی اپنے اقتدار اعلیٰ کو بچائے رکھنے کی تھی اس کے علاوہ ہندوستان کو تیز معاشی اور سماجی ترقی کو حاصل کرنا تھا۔ اس لیے ان دونوں مقاصد کو حاصل کرنے کے لیے ہندوستان نے ناوابستگی کی پالیسی کو اپنی خارجہ پالیسی کے ایک اہم اجزا کی شکل میں شامل کیا۔

اس پالیسی کے ذریعے ہندوستان سرد جنگ کے آپسی مخالف خیموں اور ان کے ذریعے چلائے جانے والے قومی اتحادوں جیسے ناٹو۔ وارسا پیکٹ سے خود کو دور رکھ سکا۔ وہیں ضرورت پڑنے پر دونوں ہی خیموں سے معاشی مدد بھی حاصل کر سکا۔

ایشیا اور افریقہ کے نئے آزاد ممالک کے درمیان مستقبل میں اپنی اہم اور خاص پوزیشن کے امکانات کا اندازہ کرتے ہوئے ہندوستان نے نوآبادیات کی مخالفت کی حمایت کی۔ اس سلسلے میں 1955 میں انڈونیشیا کے شیر بانڈونگ میں ایفر و ایشیائی کانفرنس ہوئی جس میں ناوابستہ تحریک کی بنیاد پڑی۔ ستمبر 1961 میں ہیملنگٹن میں پہلا ناوابستہ کانفرنس منعقد ہوئی۔ موجودہ وقت میں اس تحریک میں تیسری دنیا کے 120 ملک ممبر ہیں۔ دسمبر 2016 میں ناوابستہ تحریک کا 17 واں اجلاس وینیزوئلا میں ہوا۔ 18 ویں کانفرنس جون 2019 میں آذربائیجان میں ہوئی۔

### ● بھارت چین تعلقات

- 1949 میں انقلاب چین کے بعد چین کی کمیونسٹ حکومت کو تسلیم کرنے والا بھارت پہلے ملکوں میں سے ایک تھا۔ جواہر لعل نہرو نے چین کے ساتھ اچھے تعلقات قائم رکھنے کی شروعات کی۔ نائب وزیر اعظم اور وزیر داخلہ دلہ بھائی پٹیل نے اس بات پر توجہ دلائی کہ چین بھارت پر حملہ کر سکتا ہے۔ نہرو کا خیال یہ تھا کہ ایسی کوئی امید نہیں ہے۔

- جب 1950 میں چین نے تبت پر اپنا قبضہ کر لیا تو تبت کی عوام نے اس کی مخالفت کی۔ بھارت نے اس کی کھلی مخالفت نہیں کی۔ تبت کے مذہبی رہنما دلائی لاما نے اپنے حامیوں کے ساتھ بھارت سے سیاسی تحفظ کی مانگ کی اور 1959 میں دلائی لاما کو بھارت میں اس کے حامیوں کے ساتھ سیاسی پناہ مل گئی۔ چین نے بھارت کے اس قدم کو اپنے ملک کے اندرونی معاملات میں مداخلت سمجھا۔
- چین اور بھارت کے درمیان جھگڑے کا دوسرا اہم سبب سرحدی تنازعہ ہے۔ چین جموں و کشمیر کے لداخ والے حصہ میں آکسائی چین اور ارونا چل پردیش کے ایک کثیر علاقے پر جو اس وقت NEFA کہلاتا تھا اپنا قبضہ جمائے ہوئے ہے۔
- 1962 میں چین نے بھارت پر حملہ کر دیا۔ بھارت کی افواج نے اس کی سخت مخالفت کی لیکن وہ چین کے بڑھتے قدموں کو روکنے میں ناکام رہی۔ آخر میں چین نے خود یک طرفہ جنگ بندی کا اعلان کر دیا۔
- چین کے ذریعے شکست سے بھارت کو خاص طور سے پنڈت جواہر لعل نہرو کی بین الاقوامی پہچان کو زبردست نقصان پہنچا۔ 1962 کے بعد چین کے ساتھ بھارت کے تعلقات کو 1976 میں دوبارہ بحال کیا گیا۔
- بھارت کی جانب سے اٹل بہاری واجپائی اور راجیو گاندھی نے چین کا دورہ کیا لیکن چین کے ساتھ صرف تجارتی تعلقات پر ہی بات چیت ہوئی۔ 2003 میں وزیر اعظم کی حیثیت سے بھی اٹل بہاری واجپائی نے چین کا دورہ کیا جس میں قدیمی مسلک روٹ (ناٹھولا درہ) کو تجارت کے لیے کھول دینے کی بات چیت ہوئی جو 1962 سے بند تھا۔ اس میں یہ بھی تسلیم کیا گیا کہ چین کو بھارت کا حصہ ماننا ہے۔
- چین کے ذریعے ارونا چل پردیش میں اپنی دعوت داری جتانے، پاکستان سے چین کی دوستی اور بھارت کے خلاف چین کی مدد سے بھارت-چین تعلقات خراب رہتے ہیں۔ لیکن بھارت-چین سرحدی تنازعہ کے حل کے لیے کوشاں ہیں۔
- 2014 میں چین کے صدر شی جینپنگ نے بھارت کا دورہ کیا جس میں اہم معاہدہ کیلپاش منسور سفر کے لیے آہنی رضامندی سے سرٹک کارا سٹہ کھولنا تھا۔
- مئی 2016 میں بھارت کے صدر پرنب مکھرجی چین کے دورہ پر گئے ہیں۔ یہ دورہ چین کے ذریعے اقوام متحدہ میں پاکستان کے دہشت گرد اظہر مسعود کی حمایت میں ویٹو کرنے NSG کے ذریعے یورینیم کی بھارت کو امداد سے پہلے چین کے ذریعے بھارت کو NPT پر دستخط کرنے کے لیے مجبور کرنا جیسے مشکل مدعوں کی چھایا میں ہو رہی ہیں۔

ہندوستان اور چین کے ساتھ تعلقات کو مثبت شکل دینے کے لئے ہندوستان کے وزیراعظم شری ندرمودی اور چین کے صدر شی زپنگ کے ذریعے کوششیں کی جا رہی ہیں دونوں ملک امن و سلامتی کو بڑھانے کے لئے عہد کر چکے ہیں۔

ہندوستان کے وزیراعظم کے ذریعے P2P (People to people) تعلقات پر STRENGTH کے عہد کی بنا پر زور دیا جا رہا ہے۔

(رسم و رواج تجارت تکنیک) S-Spiri Luality T-Tradition Trade Technology

(آرٹ۔ فلمیں) Entertainment (تعلقات) R-Relationship

G-Games T-Tourism (Nature کا تحفظ) N-Nature Conservation

H-Health & Healing

ہندوستان اور چین کے بیچ ڈوکلام علاقے میں فوجی تعیناتی 16 جون 2017 کو شروع ہوئی تھی۔ دونوں ممالک کی آپسی ڈیلوویٹک کوششوں سے یہ تعیناتی 28 اگست 2017 کو ختم ہو گئی۔

حال ہی میں چین کے ذریعے ہندوستان کی طرف سے لگاتار کی جانے والی مانگ کو مانتے ہوئے پاکستان کی دہشت گرد تنظیم جمیش اے محمد کے سرغنہ اظہر مسعود کو عالمی دہشت گرد قرار دینے کی سلامتی کونسل کی تجویز پر رضامندی دی گئی۔ جیسے ہندوستان چین تعلقات کے بیچ سدھار کی شکل میں دیکھا جاسکتا ہے۔

### ● بھارت - پاکستان تعلقات

- بھارت کی تقسیم 1947 کے سبب پاکستان وجود میں آیا۔ پاکستان کے ساتھ بھارت کے تعلقات شروع سے ہی خراب رہے ہیں۔ کشمیر کے مسئلہ پر آزادی کے فوراً بعد ہی دونوں ملکوں کی فوجوں کے درمیان جنگ ہوئی جس میں پاکستان نے کشمیر کے ایک بڑے حصہ پر قبضہ کر لیا۔
- LOC، سیاچن گلشیر، دہشت گردی اور کشمیر دونوں ممالک کے درمیان جھگڑے کے اہم سبب ہیں۔
- 1960 میں دریائی پانی کے پرانے مسئلے کو عالمی بینک کی نگرانی میں سلجھایا گیا جس پر جواہر لعل نہرو اور جنرل ایوب نے ہندو پاک سندھ پانی معاہدہ پر دستخط کیے۔
- 1965 میں پاکستان نے ہندوستان پر حملہ کر دیا۔ موجودہ وزیراعظم لال بہادر شاستری نے جے جے جے کسان کانعرہ دیا کیونکہ اس وقت بھارت میں قحط/سوکھا کی حالت تھی۔ ہماری فوجیں لاہور کے نزدیک تک پہنچ گئی تھیں۔

- اقوام متحدہ کی مداخلت سے جنگ ختم ہوگئی۔ 1966 میں تاشقند معاہدہ ہوا جس میں لال بہادر شاستری اور جنرل ایوب خاں نے دستخط کیے۔
- 1970 میں پاکستان کے پہلے عام انتخابات میں مغربی پاکستان میں PPP کے ذوالفقار علی بھٹو جبکہ مشرقی پاکستان (موجودہ بنگلہ دیش) میں عوامی لیگ کے شیخ مجیب الرحمن (بنگ بندھو) کو کامیابی حاصل ہوئی۔ دونوں حصوں میں زبان اور ثقافت کو لے کر کافی فرق پائے جاتے تھے۔
- پاکستان کے ذریعے مشرقی پاکستان میں دخل اندازی کے خلاف عوام نے بغاوت کر دی۔ شیخ مجیب الرحمن کو گرفتار کر لیا گیا۔ 80 لاکھ بنگلہ دیشی شہرنا تھی بھارت میں گھس آئے۔ اس وقت کی وزیراعظم اندرا گاندھی نے اس مکتی سنگرام کو اپنی اخلاقی حمایت سمجھا۔ پاکستان نے ہندوستان پر اس کو ٹکڑے ٹکڑے کرنے کا الزام لگایا۔
- 1971 میں پاکستان کو چین اور امریکہ سے مدد ملی اس صورت میں اندرا گاندھی نے سوویت یونین کے ساتھ بیس سالہ دوستانہ تعلقات کے معاہدے پر دستخط کیے۔
- 1971 میں پاکستان نے ہندوستان کے خلاف مکمل سطح پر جنگ شروع کر دی۔ پاکستانی جہازوں نے پنجاب اور راجستھان پر حملہ کیا۔ اس جنگ میں بھارت کو کامیابی حاصل ہوئی اور پاکستان کی 90,000 ہزار فوج کو ہتھیار ڈالنے پڑے۔ پاکستان میں ایک نئے ملک بنگلہ دیش کا وجود عمل میں آیا۔
- 1972 میں شملہ معاہدہ ہوا جس پر اندرا گاندھی اور ذوالفقار علی بھٹو نے دستخط کیے۔
- 1999 میں پاکستان سے تعلقات ہموار کرنے کی غرض سے بھارت نے دہلی-لاہور بس سروس کو شروع کیا لیکن بھارت کے خلاف پاکستان نے کارگل جنگ شروع کر دی۔
- کارگل میں خود کو مجاہدین کہنے والے پاکستانی دہشت گرد فوج نے کئی اہم علاقوں پر اپنا قبضہ کر لیا لیکن ہندوستانی افواج نے بہادری سے مقابلہ آرائی کر کے ان علاقوں کو خالی کروایا۔
- پاکستان کے وزیراعظم نواز شریف کا ہندوستان کا دورہ اور ہندوستان کے وزیراعظم نریندر مودی کا پاکستان کا دورہ دونوں ممالک کے بیچ تعلقات کو سدھارنے کے لیے کیا گیا۔ لیکن پاکستان کی طرف سے Cease Fire کو توڑنا اور دہشت گردوں کے گھسنے کی کارروائی نے دونوں ممالک کے تعلقات کو ناخوشگوار بنا دیا ہے۔
- 2016 میں اُری میں فوجی آفس پر پاکستان حامی دہشت گردوں کے ذریعے کئے گئے دہشت گردانہ حملے نے



- اور جواب میں ہندوستان کی طرف سے کی گئی فوجی کارروائی نے دونوں ممالک کے بیچ کشاکش کو اور بڑھا دیا۔
- 2018 میں پاکستان میں عمران خان کی رہنمائی میں نئی منتخب حکومت کے ساتھ ہندوستان کی حکومت کے ذریعے کی گئی امن کوششوں کے بعد بھی پاکستان کی طرف سے لگاتار تنازعاتی ٹھہراؤ کو توڑنے اور دہشت گردوں کی گھس پیٹھ کی وجہ سے دونوں ممالک کے بیچ تعلقات میں سدھار کے امکانات لگاتار کم ہوئے ہیں۔
- جنوری 2019 میں جموں کشمیر میں CRPF کے جوانوں پر پاکستان دہشت گردوں کے ذریعے جان لیوا حملے کئے گئے جس کے جواب میں ہندوستانی ہوائی فوج کے ذریعے کی گئی کارروائی میں دونوں ممالک کے بیچ جنگ کے حالات پیدا کئے۔ اس کے علاوہ ہندوستان میں پاکستان کو 1996 سب سے زیادہ Most (MFN) Favoured Nation کا درجہ بھی چھین لیا۔

### ● ہندوستان کی نیوکلیائی پالیسی

- مئی 1974 میں ہندوستان کے ذریعے راجستھان کے جیسلمیر میں پوکھرن نام کے مقام پر پہلا نیوکلیائی تجربہ کیا گیا۔ مئی 1998 میں اسی مقام پر ہندوستان نے پانچ نیوکلیائی تجربات کر کے خود کو اس میدان میں دنیا کے سامنے مثالی بنا دیا۔ اس کے فوراً بعد ہی پاکستان نے نیوکلیائی تجربہ کر کے خود کو ایک نیوکلیائی طاقت کی شکل میں پیش کر دیا۔
- ان دونوں ممالک کے نیوکلیائی تجربات کے سبب اس علاقے میں طاقت کا توازن بن گیا ہے۔ ان دونوں ممالک پر امریکہ کے ساتھ ساتھ کئی دیگر ممالک نے بھی معاشی پابندی عائد کی ہے۔
- ہندوستان نے NPT (1968) اور CTBT (1995) پر دستخط نہیں کئے کیوں کہ ہندوستان اسے تفریق کا سبب مانتا ہے۔

### ● ہندوستان کی نیوکلیائی پالیسی کے اصول

- نیوکلیائی توانائی کا پرامن استعمال کرے گا۔
- غیر امتیازی نیوکلیائی ترک اسلحہ کی پالیسی کا پابند رہے گا۔
- بھارت اپنی سلامتی کے لیے نیوکلیائی ہتھیار رکھے گا لیکن ”استعمال میں پہل نہیں“ کے اصول پر قائم رہے گا۔
- 1968 کا نیوکلیائی غیر توسیع معاہدہ (NPT) جانبدارانہ (Nuclear Non-Proliferation) ہے
- نیوکلیائی ہتھیاروں سے آزاد دنیا کی تشکیل کا حامی ہے

- بھارت کی خارجہ پالیسی سے متعلق سیاسی جماعتوں میں تھوڑے بہت فرق پائے جاتے ہیں۔ لیکن قومی یکجہتی، علاقائی سالمیت، بین الاقوامی سرحدوں کا تعین اور قومی مفاد سے متعلق زیادہ تر معاملات میں سب کی ایک رائے پائی جاتی ہے۔
- 1991 میں سرد جنگ کے ختم ہو جانے کے بعد خارجہ پالیسی کی تشکیل امریکہ کے ذریعے لاگو آزادانہ عالم گیریت کو دھیان میں رکھتے ہوئے کیا جانے لگا اور علاقائی تعاون کو بھی خاص اہمیت دی گئی۔

### ایک نمبر والے سوالات

- 1- بھارت کی خارجہ پالیسی کی دو اہم خصوصیات بیان کیجیے۔
  - 2- جواہر لعل نہرو نے پنج شیل کا اعلان کب کیا؟
  - 3- بھارت کے ذریعے ناوابستگی کی پالیسی اختیار کرنے کا کیا سبب تھا؟
  - 4- بھارت-چین جنگ کب ہوئی؟
  - 5- NEFA کس صوبے کو کہا جاتا ہے۔
  - 6- NPT کو مکمل کر کے لکھیں۔
  - 7- بھارت نے 1959 میں کسے سیاسی پناہ دی تھی؟
  - 8- بھارت نے اپنا پہلا نیوکلیائی تجربہ کب اور کہاں کیا؟
  - 9- ”بنگ بندھو“ کے نام سے کسے جانا جاتا ہے؟
  - 10- بنگلہ دیش کا وجود کب عمل میں آیا؟
  - 11- NATO کو تفصیل سے لکھیں۔
  - 12- بھارت نے اپنا دوسرا نیوکلیائی تجربہ کب اور کہاں کیا؟
  - 13- کشمیر کے مسئلے کو اقوام متحدہ نے کب اپنی ”تنازعہ علاقوں کی فہرست“ سے نکال دیا؟
  - 14- مندرجہ ذیل جملوں میں سے کونسا غلط ہے۔
- 1- ناوابستگی کی پالیسی اپنانے کی وجہ سے ہندوستان کو سوویت یونین اور ریاستہائے متحدہ امریکہ دونوں کی مدد حاصل کر سکا۔
  - 2- ہندوستان میں 1968 میں NPT پر دستخط کرنے سے منع کر دیا۔

- 3- سرد جنگ کا اثر ہندوستان پاکستان تعلقات پر بھی پڑا۔
- 4- ہندوستان اور امریکہ میں 20 سالہ امن معاہدے پر دستخط کئے۔
- 15- اردو ناچل پردیش کو اس وقت..... کہا جاتا تھا۔
- 16- میک موہن سرحدی لائن کن دو ممالک کے بیچ کھینچی گئی۔
- 17- ناوابستہ ممالک کے موجودہ ممبروں کی تعداد بتائیے۔
- 18- سندھ ندی پانی سمجھوتہ کن دو ممالک کے بیچ ہوا۔

### دو نمبر والے سوالات

- 1- پنچ شیل معاہدہ پر کن لیڈروں نے دستخط کیے؟
- 2- بھارت - چین کے درمیان جھگڑوں کے کوئی دو موضوع بیان کیجیے۔
- 3- تاشقند معاہدہ کن دو ممالک کے درمیان ہوا اور کب؟
- 4- بھارت اور پاکستان کے درمیان سندھ ندی پانی کی تقسیم کا معاہدہ کب ہوا؟ اس معاہدہ میں کس نے ثالثی رول ادا کیا؟
- 5- بھارت نے CTBT پر دستخط کرنے سے کیوں منع کر دیا؟
- 6- شملہ معاہدہ کب اور کس کے بیچ ہوا؟
- 7- بھارت نے بیس سالہ تعلقات کا معاہدہ کس ملک کے ساتھ کیا اور کیوں؟
- 8- بھارت چین کے درمیان ”قدیمی سلک روٹ“ تجارت کے لیے کھول دیا گیا؟ یہ کون سا روٹ ہے؟
- 9- شملہ معاہدہ کی دو باتیں بیان کیجیے۔
- 10- مندرجہ ذیل کو مناسب شکل میں جوڑیے

- (i) 1950-61 کے دوران بھارت کی خارجہ پالیسی کا مقصد اس کی شروعات ناوابستہ تحریک میں ہوئی
- (ii) پنچ شیل تبت کے مذہبی لیڈر جو سرحد پار کر کے بھارت چلے آئے
- (iii) بڈونگ کانفرنس علاقائی سالمیت اور اقتدار کی حفاظت و معاشی ترقی
- (iv) دلائی لاما پر امن بقائے باہمی کے پانچ اصول

## چار نمبر والے سوالات

- 1- پنچ شیل کے کوئی چار اصول بیان کیجیے۔
- 2- 1962 کے بھارت-چین جنگ کا بھارت کی ترقی پر کیا اثر پڑا؟
- 3- بھارت کے نیوکلیائی پروگرام کو مختصراً بیان کیجیے۔
- 4- ”خارجہ پالیسی پر سبھی سیاسی جماعتوں کی عام حمایت حاصل ہے“ نوٹ لکھیے
- 5- ”1971 کے بھارت-پاکستان جنگ میں بھارت نے ناوابستگی کی پالیسی کو چھوڑ دیا“۔ اس بیان کا تنقیدی جائزہ لیں۔

## پانچ نمبر والے سوالات

- 1- ہندوستان کے پہلے وزیر اعظم جواہر لال نہرو نے قومی ایجنڈا طے کرنے میں فیصلہ کن کردار نبھایا۔ وہ وزیر اعظم کے ساتھ ساتھ وزیر خارجہ بھی تھے۔ وزیر اعظم اور وزیر خارجہ کی شکل میں 1946 سے 1964 تک انہوں نے ہندوستان کی خارجہ پالیسی کی تخلیق اور اسے لاگو کرنے پر گہرا اثر ڈالا۔
- (i) نہرو جی نے خارجہ پالیسی کے مقاصد کو پورا کرنے کے لئے کون سی پالیسی اپنائی؟
- (ii) ہندوستان کے پہلے وزیر خارجہ کون تھے۔
- (ii) نہرو جی کی خارجہ پالیسی کی مخالفت میں کون سی پارٹی اور لیڈر تھے اور وہ کیا چاہتے تھے؟
- 2- 1962 کی جنگ میں ہندوستان کو فوجی ہار چھیلنی پڑی۔ اور ہندوستان چین تعلقات پر اس کا گہرا اثر پڑا۔ 1976 تک دونوں ممالک کے بیچ Diplomatic تعلقات ختم ہو گئے۔ اس کے بعد دھیرے دھیرے دونوں کے بیچ میں اب نظریاتی مدعوں کی جگہ عملیاتی خاص ہوتے گئے۔ اس لیے چین ہندوستان کے ساتھ تعلقات سدھارنے کے لیے تنازعاتی معاملات چھوڑنے کو تیار ہو گیا۔ 1981 میں سرحدی تنازعے کو دور کرنے کے لیے بات چیت بھی شروع کی گئی۔
- 1- 1962 کے حملے کی وجہ سے ہندوستان کو فوجی ہار کیوں چھیلنی پڑی؟
- 2- ہندوستان اور چین کے تعلقات دھیرے دھیرے کب سدھارنے شروع ہوئے۔
- 3- سترکی دہائی میں چین کی پالیسی میں کیا تبدیلیاں ہوئیں۔

## چہ نمبر والے سوالات

- 1- کسی ملک کی قومی قیادت کس طرح اس ملک کی خارجہ پالیسی کو متاثر کرتی ہے؟ بھارت کی خارجہ پالیسی سے کوئی دو مثالیں لیتے ہوئے تفصیل سے بیان کیجیے۔
- 2- 1977 کے بعد عالمی سیاست میں آئی تبدیلیوں کے بھارت کی خارجہ پالیسی پر پڑنے والے اثرات بتائیے۔
- 3- بھارت-چین تعلقات میں فرق اور حمایت کے نکات بیان کیجیے۔ (Imp)
- 4- بھارت کی خارجہ پالیسی کے اہم اصول کون کونسے ہیں؟ (Imp)
- 5- ہندوستان کے ذریعے نیوکلیائی پالیسی اور پروگرام اپنانے کی کوئی چار وجوہات بتائیں۔

## ایک نمبر والے سوالات کے جوابات

- 1- ناوابستگی اور پنچ شیل
- 2- 1954 میں
- 3- دنیا میں چل رہی گٹ بندی سے دور رہنا اور آزادانہ ترقی کے لیے ناوابستگی کی پالیسی اختیار کرنا
- 4- 1962
- 5- ارونا چل پردیش
- 6- Nuclear Non-Proliferation Treaty
- 7- تبت کے مذہبی لیڈر دلائی لاما
- 8- 1974 میں راجستھان کے پوکھران میں
- 9- شیخ مجیب الرحمن
- 10- 1971
- 11- North Atlantic Treaty Organisation
- 12- 1998 میں راجستھان کے پوکھران میں پنچ نیوکلیائی تجربات
- 13- 2010

14- ہندوستان اور امریکہ نے 20 سال معاہدہ پر دستخط کیے۔

15- NEFA یا شمال مشرقی سرحد

16- ہندوستان اور چین

17- 120 ممبر

18- ہندوستان اور پاکستان۔

### دو نمبر والے سوالات کے جوابات

1- بھارت کے وزیر اعظم پنڈت جواہر لعل نہرو اور چین کے چاؤ این لائی

2- تبت، اروناچل پردیش سمیت سرحدی تنازعہ

3- بھارت اور پاکستان..... 1966

4- 1960، عالمی بینک

5- کیونکہ بھارت مانتا ہے کہ یہ معاہدہ بھید بھاؤ سے بھرا ہے

6- 1972 میں ہندوستان اور پاکستان کے بیچ

7- 1971 میں سوویت یونین کے ساتھ..... کیونکہ بھارت امریکہ، چین اور پاکستان کے محور کو توڑنا چاہتا تھا۔

8- سکم اور تبت کے درمیان ناتھولہ درہ

9- جھگڑوں کا پر امن طریقے سے حل، طاقت کا استعمال نہیں، LOC کو تسلیم کرنا، ذرائع ترسیل کو قائم کرنا

10- (i) 1950-64 کے دوران بھارت کی علاقائی سالمیت، اقتدار کی حفاظت اور معاشی ترقی کرنا

خارجہ پالیسی کا مقصد

(ii) پنچ شیل پر امن بقائے باہمی کے پانچ اصول

(iii) بڈونگ کانفرنس اس کی شروعات ناوابستہ تحریک کی شکل میں ہوئی

(iv) دلائلی لاما تبت کے مذہبی لیڈر جو سرحد پار کر کے بھارت چلے آئے۔

### چار نمبر والے سوالات کے جوابات

- 1- ناوابستگی، پنچ شیل، علاقائی سالمیت اور تیز رفتاری سے معاشی ترقی کرنا
- 2- یاد رکھنے لائق نکات کا مطالعہ کریں
- 3- ■ بھارت کی بین الاقوامی پہچان کو نقصان  
■ قومی اعتماد کو ٹھیس  
■ غیر ضروری معاشی دباؤ  
■ سیاسی ناپائیداری وغیرہ
- 4- ■ 1940 کی دہائی میں ہومی جہانگیر بھابھا کی نگرانی میں شروعات  
■ 1974 میں پہلا اور 1998 میں دوسرا نیوکلیائی تجربہ پوکھرن میں کیا گیا  
■ NPT اور CTBT کی مخالفت  
■ نیوکلیائی پالیسی کا اعلان اور پرامن کاموں کے لیے نیوکلیائی طاقت کا استعمال
- 5- یاد رکھنے لائق نکات کا مطالعہ کریں
- 6- خود جواب دیں۔

### پانچ نمبر والے سوالات کے جوابات

- 1- (i) ناوابستگی کی پالیسی  
(ii) پنڈت جواہر لال نہرو  
(ii) بھارتیہ جن سنگھ۔ سونتر پارٹی اور ڈاکٹر بی۔ آر۔ امبیڈکر یہ امریکہ سے نزدیکیاں بڑھانے کے حق میں تھے۔
- 2- 1- 1962 میں ہندوستان کو ہار اس لیے جھیلنی پڑی کیوں کہ ہندوستان کی فوجی تیاری اچھی نہیں تھی اور سیاسی رہنمائی اس مدے پر کوشا نہیں تھی۔  
2- ہندوستان اور چین کے تعلقات 1976 کے بعد دھیرے دھیرے سدھرنے شروع ہوئے۔

3- سترکی دہائی میں چین میں سیاسی تبدیلی ہوئی اور اب اس کی پالیسی میں نظریاتی مدوں کی جگہ عملیاتی مدوں نے لے لی۔

### چھ نمبر والے سوالات کے جوابات

- 1- ■ قیادت کرنے والی جماعت کے نظریات کا اثر
- جماعت کی ترقی کرنے سے متعلق پالیسیوں کا اثر
- جواہر لعل نہرو کے ذریعے ناوابستگی کی پالیسی کو لاگو کرنا
- راجیو گاندھی کے ذریعے پڑوسی ممالک کے ساتھ تعلقات خوشگوار بنانا
- اٹل بہاری واجپائی کے ذریعے نیوکلیائی پالیسی کا اعلان
- 2- (i) جتنا پارٹی حکومت کے ذریعے حقیقی ناوابستگی کی پالیسی کو لاگو کرنا
- (ii) سوویت یونین کے ساتھ جھکاؤ کا خاتمہ
- (iii) چین اور امریکہ کے ساتھ تعلقات میں سدھار
- (iv) علاقائی تعاون بڑھانے پر زور
- (v) فوجی مفاد کے مقابلے میں معاشی مفاد و ترقی پر زور دینا
- (vi) 1990 کی دس سالوں میں امریکی حمایت والی پالیسیوں کی مخالفت
- 3- مت بھید (فروق): سرحدی تنازعہ، پاکستان کو بھارت کے خلاف مختلف سرگرمیوں میں مدد کرنا، تبت کا مسئلہ وغیرہ
- حمایت: ماحولیاتی مدوں پر ترقی یافتہ ممالک کے خلاف، WTO میں ترقی پذیر ممالک کی حمایت کرنا، معاشی تعاون بڑھانے پر رضامندی وغیرہ۔
- 4- یاد رکھنے لائق نکات کا مطالعہ کریں۔
- 5- یاد رکھنے لائق نکات کا دیکھیں۔



# باب۔ پانچ

## کانگریس سٹم کو درپیش چیلنج اور اس کی بحالی

### یاد رکھنے لائق نکات:

- نہرو کی وفات کے بعد کانگریس کے سامنے کئی چنوتیاں آئیں جو مندرجہ ذیل ہیں۔
- 1- سیاسی جانشینی کا چیلنج
- 2- چوتھے عام انتخابات 1967:
- بارش کی کمی، خشک سالی اور خوراک کی کمی نے ملک میں ایک بڑا چیلنج کھڑا کر دیا تو دوسری جانب 1965 میں پاکستان کے ساتھ جنگ کا سامنا کرنا پڑا۔ فوجی اخراجات میں مکمل اضافہ کے سبب معاشی حالت دن بدن خراب ہو رہی تھی جس کا بھرپور فائدہ مخالف سیاسی جماعتوں نے اٹھایا اور ملک گیر پیمانے پر عوامی تحریکیں شروع کر دیں۔ ایسی صورت میں ایک نا تجربہ کار وزیر اعظم کے لیے یہ زبردست چنوتی تھی۔
- انتخابات کے نتائج کو ”سیاسی زلزلہ“ کا نام دیا گیا۔ کانگریس 9 ریاستوں (اتر پردیش، مدھیہ پردیش، پنجاب، ہریانہ، بہار، مغربی بنگال، اڑیسہ، مدراس اور کیرل) میں حکومت قائم نہ کر سکی۔ یہ ریاستیں بھارت کے کسی ایک حصے میں شامل نہیں تھیں۔

### 3۔ کانگریس کی تقسیم

سنڈی کیٹ اور اندرا گاندھی کے درمیان بڑھتے فرق اور صدر کے انتخابات (1969) میں اندرا گاندھی کی حمایت والے امیدوار وی۔وی۔گری کی جیت اور این۔سنجیواریڈی کی ہار سے بدحواس ہو کر سنڈی کیٹ نے اندرا گاندھی کو کانگریس سے نکال دیا اور کانگریس دو حصوں میں بٹ گئی۔

■ کانگریس آرگنائزیشن (پرانی کانگریس) (Congress Organisation)

■ کانگریس ریکویزیشن (نئی کانگریس) (Congress Requisitionists)

● 1971 کے انتخابات میں کانگریس نے اپنی کھوئی ہوئی پہچان کو حاصل کرنے کے لیے اندرا گاندھی نے مندرجہ ذیل اقدامات کیے:

- غربتی ہٹاؤ کا نعرہ
- پریو پریس کا خاتمہ
- بینکوں کو قومی ملکیت میں لانا
- زمین سدھارا اور حد بندی قانون
- غریب، محروم، اقلیتی بے روزگار خواتین کو امداد
- لال بہادر شاستری 1964 سے 1966 تک وزیر اعظم رہے۔ اس مدت میں ملک نے دو چنوتیوں کا سامنا کیا۔ 1-1965 ہندوستان پاکستان جنگ 2-غذائی بحران، (مانسون کی خرابی سے) ان چنوتیوں سے نپٹنے کے لیے شاستری جی نے جے جے جو ان جے کیسان کا نعرہ دیا۔
- 1965 کے جنگ کے ختم ہونے کے بعد 1966 میں تاشقند میں ہندوستان اور پاکستان کے بیچ تاشقند سمجھوتہ ہوا۔ اس سمجھوتے میں ہندوستان کی طرف سے لال بہادر شاستری اور پاکستان کی طرف سے محمد ایوب خان نے دستخط کئے۔
- 1960 کی دہائی کو خطرناک دہائی بھی کہا جاتا ہے۔ کیوں کہ اس دوران ہندوستان نے دو جنگوں کا سامنا کیا۔ (1962 میں ہندوستان چین اور 1965 میں ہندوستان پاکستان) اس کے علاوہ ملک میں مانسون کی ناکامی سے سوکھے کی حالت
- چوتھے عام چناؤ کے دوران ملک کی معاشی حالت ڈنوا ڈول تھی مہنگائی بڑھ گئی تھی۔ بڑھتی بے روزگاری غذائی بحران، ان سب کی وجہ سے عوام کی مخالفت بڑھتی چلی گئی۔
- جودل اپنے پروگرام اور نظریات کی بنا پر ایک دوسرے سے الگ تھے انھوں نے سیٹوں کے معاملے میں انتخابی تال میل کرتے ہوئے ایک کانگریس مخالف مورچہ بنایا رام منوہر لوبھیا نے اس مورچے کو غیر کانگریسی کا نام دیا۔

## ● عظیم اتحاد

- اندرا گاندھی کے لیے حالات کو خراب کرنے اور 1971 کے انتخابی عمل کو میاب بنانے کے لیے تمام غیر کمیونسٹ اور غیر کانگریسی سیاسی جماعتوں نے مل کر ایک ”عظیم اتحاد“ قائم کیا۔
- 1967 کے انتخابات سے ریاستوں میں گٹھ بندھن کے واقعات سامنے آئے۔ غیر کانگریسی پارٹیوں نے آپس میں مل کر SVD (سکیت ودھاتک دل) بنایا۔ پنجاب میں SVD سے بنی ریاستی حکومت کو یونائیٹڈ فرنٹ کہا گیا۔
- **دل بدل:** جب کوئی نمائندہ کسی پارٹی کے انتخابی نشان سے الیکشن جیت جائے اور کامیاب ہو جانے کے بعد اس سیاسی جماعت کو چھوڑ کر دوسری سیاسی پارٹی میں شامل ہو جائے تو اسے دل بدلی کہتے ہیں۔
- 1967 کے انتخابات کے بعد کانگریس کے ایک لیڈر (ہریانہ) کے گیالال نے تین بار پارٹی بدلی۔ ان کے ہی نام پر ”آی ارم + گی ارم“ کی کہاوت دل بدلی سے متعلق عام ہو گئی۔
- **سنڈیکٹ:** کانگریس پارٹی میں ایک طاقتور بااثر گروپ تھا جس کا مکمل طور سے پارٹی پر کنٹرول تھا اس میں چند اہم شخصیات تھیں۔

(i) مدراس کے سابق وزیر اعظم ..... کے۔ کامراج

(ii) بمبئی سے ..... ایس۔ کے پائل

(iii) میسور (کرناتک) ..... کے۔ ایس۔ منجلپکا

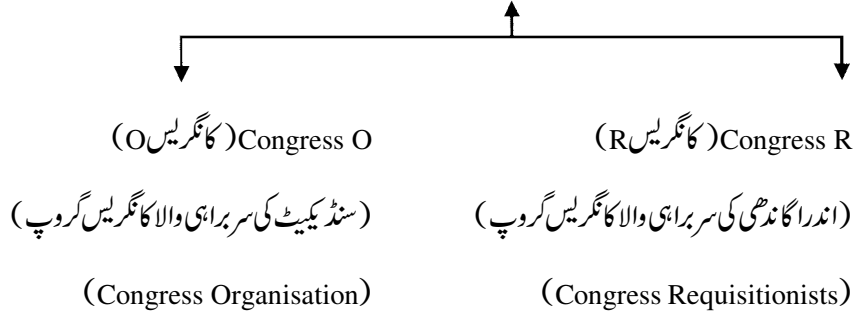
(v) آندھرا پردیش ..... نیلم سنجیواریڈی

(v) مغربی بنگال ..... اتولی گھوش

- 1969 کے صدر کے چناؤ: ڈاکٹر ذاکر حسین کی وفات کے بعد سنڈیکٹ نے موجودہ لوک سبھا اسپیکر این سنجیواریڈی کو کانگریس پارٹی کا امیدوار اعلان کر دیا۔ اندرا گاندھی نے موجودہ نائب صدر وی گری کو آزاد امیدوار کی شکل میں صدر عہدے کے لیے میدان میں اترنے کی حمایت کی۔ اندرا گاندھی ”ضمیر کی آواز“ پروٹ ڈالنے کے لیے کہا۔ وی گری چناؤ جیت گئے۔

● 1969 میں صدر کے چناؤ کے بعد کانگریس کی تقسیم ہو گئی۔

## کانگریس



● دس ریاستوں کا الحاق ہندوستان وفاق میں کرنے سے پہلے حکومت نے ریاستوں کے موجود حکمران خاندان کو مقرر تعداد میں نجی جائداد رکھنے کا حق دیا۔ اور حکومت کی طرف سے کچھ خاص بھتہ دینے کا بھی یقین دیا۔ یہ دونوں (نجی جائداد اور بھتہ) اس بات کی بنا پر طے کیے جائیں گے کہ اس ریاست کی آمدنی اور دوسرے وسائل کا تناسب کتنا ہے۔ اس نظام کو پرووی پرس کہا گیا)

● اندرا گاندھی نے اپنے کھوئے ہوئے وقار کو حاصل کرنے کے لیے 1967 کے انتخابات میں دس نکاتی پروگرام کو اختیار کیا گیا جس کے ذریعے بینکوں کو قومی ملکیت میں لینا، غذائی اشیاء کی سرکاری تقسیم اور زمینی سدھار سے متعلق بہت سے پروگرام شامل تھے۔

● اندرا گاندھی کے خلاف تمام غیر کانگریسی جماعتوں نے ملک کو عظیم اتحاد قائم کیا۔

● اندرا گاندھی نے ان انتخابات میں ”غریبی ہٹاؤ“ کا نعرہ دیا جبکہ ان کی مخالف جماعتوں نے مل کر عظیم اتحاد کے ذریعے ”اندر ہٹاؤ“ کا نعرہ دیا۔

● انتخابات کے نتائج

کانگریس آراوری۔ پی۔ آئی 375 سیٹیں (کانگریس آر۔ 352)

گٹھ بندھن (کمپونٹ پارٹی 23)

کانگریس O 16 سیٹ

عظیم اتحاد 40 سے بھی کم سیٹیں

## ● کانگریس نظام کی دوبارہ تشکیل

- کانگریس اب مکمل طور پر اعلیٰ لیڈر کی قیادت میں ایک مشہور و معروف سیاسی جماعت تھی۔
- کانگریس اب مختلف مفاد اور خیالات کو ساتھ لے کے چلنے والی پارٹی نہیں تھی۔
- اندرا گاندھی نے کانگریس پارٹی کی شکل کو بدل کر اسے دوبارہ مکمل طور پر منظم کر دیا

## ● غربی ہٹاؤ کی سیاست

غربی ہٹاؤ کا نعرہ اور اس سے جڑی ہوئی سیاست اندرا گاندھی کی ذاتی سوچ کا حصہ تھا جس کی بنیاد پر وہ عوام سے نہ صرف حمایت حاصل کرنا چاہتی تھیں بلکہ تمام ملک کے غریب عوام کے ساتھ ساتھ دیگر عوام اور طبقات کو بھی ساتھ ملا کر سیاسی حمایت کی بنیاد قائم کرنا چاہتی تھیں۔ اندرا گاندھی نے زمین سے محروم کسانوں، دلت اور آدی باسی، اقلیتوں، خواتین اور بے روزگار نوجوانوں کو اپنی حمایت کی بنیاد بنا کر کامیابی حاصل کرنے کی کوشش کی جس کے نتائج 1971 کے انتخابات کی شکل میں ان کے سامنے تھے۔

## ایک نمبر والے سوالات

- 1- بے جوان۔ بے کسان کا نعرہ کس نے دیا تھا؟
- 2- ”تا شقتہ معاہدہ“ کن ملکوں کے درمیان ہوا تھا؟
- 3- اندرا گاندھی کے وزیر اعظم بننے میں کس نے اہم رول ادا کیا؟
- 4- وزیر اعظم بننے سے پہلے اندرا گاندھی کس سیاسی عہدے پر تھیں؟
- 5- کس غیر کانگریسی جماعت کو ریاست میں واضح اکثریت حاصل ہوئی؟
- 6- 1967 کے انتخابات کے نتائج نے کس طرح کی سیاست کو جنم دیا؟
- 7- ”دوپہر کا کھانا“ دینے کا منصوبہ کس نے شروع کیا؟
- 8- 1969 کے صدر کے انتخابی عہدے کے دوران کانگریس کے صدر کون تھے؟
- 9- ”غیر کانگریس واڈ“ یہ نام کس لیڈر کے ذریعے دیا گیا؟
- 10- کانگریس میں تقسیم کب ہوئی؟
- 11- 1967 کے انتخابات میں دوسری بڑی پارٹی کون سی تھی؟

- 12- جواہر لعل نہرو کی موت کے بعد بھارت کا وزیر اعظم کون بنا؟
- 13- 1967 کے چناؤ کے بارے میں مندرجہ ذیل میں سے کون سا بیان صحیح نہیں ہے۔
- 1- 1967 کے چناؤ میں سے گٹھ بندھن کے واقعات سامنے آئے۔
- 2- کانگریس 9 ریاستوں میں چناؤ ہار گئی۔
- 3- کانگریس کو لوک سبھا میں اکثریت نہیں ملی۔
- 4- کانگریس مرکز میں اقتدار میں رہی لیکن اسے پہلے جتنی اکثریت نہیں ملی۔
- 14- اندرا گاندھی کو ہٹانے کے لیے اپوزیشن پارٹی کے یکجا ہونے کی پالیسی کو..... کہا گیا۔
- 15- دل بدل کی سیاست کب سے شروع ہوئی۔
- 16- لوک سبھا کا پانچواں عام چناؤ کس سال میں ہوا۔

### دو نمبر والے سوالات

- 1- 1960 کی دہائی کو خطرناک دہائی کیوں کہا جاتا ہے؟
- 2- لال بہادر شاستری کے زمانے میں ملک کو کون دو مشکلات کا سامنا کرنا پڑا؟
- 3- 'عظیم اتحاد' سے کیا مراد ہے؟
- 4- پریوی پرس سے آپ کیا سمجھتے ہیں؟
- 5- تاشقند معاہدہ کیا تھا؟
- 6- دل بدلی سے آپ کیا سمجھتے ہیں؟
- 7- 1969 کے صدر کے انتخاب میں کانگریس O اور کانگریس R کے امیدواروں کے نام لکھیں۔
- 8- کانگریس کے سامنے آئے جانشینی کی چنوتی کے سوال پر لوگوں کی کیا امیدیں تھیں؟
- 9- 1971 کے انتخابات میں کانگریس R کی کامیابی کے دو اسباب بتائیے؟

- 10- سنڈیکیٹ کے کیا معنی ہیں؟
- 11- غیر کانگریس واد کیا ہے؟
- 12- چوتھے عام انتخابات کو ”سیاسی زلزلہ“ کا نام کیوں دیا گیا؟
- 13- ”سیاسی گٹھ بندھن“ کیا ہے؟ بھارت میں اس کی شروعات کب ہوئی؟

### چار نمبر والے سوالات

- 1- مندرجہ ذیل کا تعلق کس سے ہے:
- (i) بے جوان، بے کسان
- (ii) غریبی ہٹاؤ
- (iii) اندرا ہٹاؤ
- (iv) آیام گیارام
- 2- مندرجہ ذیل کو مکمل کر کے لکھیں
- (i) PUF
- (ii) SVD
- (iii) CWC
- (iv) DMK
- 3- چوتھے عام انتخابات کے وقت بھارت کی سیاسی حالت کیا تھی؟
- 4- مندرجہ ذیل کو ایک دوسرے سے ملائیے
- (a) سنڈیکیٹ کوئی کامیاب امیدوار جس سیاسی پارٹی سے جیت کر اسے چھوڑ کر دوسری پارٹی میں شامل ہو جائے
- (b) دل بدل لوگوں کا دھیان اپنی طرف متوجہ کرنے والا محاورہ
- (c) نعرہ کانگریس اور اس کی پالیسیوں کے خلاف الگ الگ نظریات کی پارٹیوں کا ایک جٹ ہونا
- (d) غیر کانگریس واد کانگریس کے اندر طاقتور اور با اثر لیڈروں کا گروپ
- 5- 1970 کی دہائی میں اندرا گاندھی کی حکومت کیوں مشہور ہوئی؟ (Imp)

6- 1969 کے صدر کے انتخاب پر نوٹ لکھیں (Imp)

7- کانگریس نظام کی موجودہ تشکیل سے آپ کیا سمجھتے ہیں؟

### پانچ نمبر والے سوالات



1- مندرجہ بالا کارٹون کی بنا پر مندرجہ ذیل سوالات کے جواب دیں۔

(i) یہ کارٹون کس سال کے چناؤ سے متعلق ہے؟

(ii) ناکامیاب کھلاڑیوں کی شکل میں کسے دکھایا گیا ہے؟ کنہیں دو لیڈروں کے نام لکھیں۔

(iii) یہ کارٹون کس نام سے مشہور ہے۔

2- مندرجہ ذیل پیرا گراف کا غور سے مطالعہ کر کے دیے گئے سوالات کے جواب دیں۔

”قومی اور سیاسی سطح پر الیکشن کے نتائج نے کانگریس کو ہلا کر رکھ دیا۔ اکثر سیاسی مبصرین نے الیکشن کے نتائج کو ”سیاسی زلزلہ“ قرار دیا۔ کانگریس نے کسی طرح لوک سبھا میں اکثریت حاصل کر لی تھی لیکن اس کو حاصل ووٹوں اور نشستوں کی تعداد میں بھاری گراؤ آئی تھی۔ اب سے پہلے کانگریس کو نہ تو اتنے کم ووٹ ملے تھے اور نہ ہی اتنی کم نشستیں ملی تھیں۔ اندرا گاندھی کا بینہ کے آدھے سے زیادہ وزیر بار گئے تھے۔“

1 (i) یہ بیان کن عام انتخابات کے بارے میں کہا گیا ہے؟

2 (ii) چار مشہور لیڈروں کے نام بتائیں جو الیکشن ہار گئے تھے؟



- (iii) ایسی دو ریاستوں کے نام بتائے جہاں کانگریس کو ریاستی اسمبلی میں اکثریت حاصل ہوئی تھی؟
- 2
- 3- دیے گئے کارٹون کی بنیاد پر مندرجہ ذیل سوالات کے جواب دیں۔



- (i) یہ کارٹون کس واقعہ کو ظاہر کرتا ہے؟
- 2
- (ii) اس کارٹون میں جس شخص کو کامیاب دکھایا گیا ہے اس کا نام بتائیے۔
- 1
- (iii) اندرا گاندھی کو کسے بازی والا دستا نہ پہنے کیوں دکھایا گیا ہے؟
- 2


4- دیے گئے ہندوستانی نقشے میں پانچ ریاستیں A, B, C, D, E کے ذریعے دکھائی گئی ہیں۔ دی گئی معلومات کی بنا کر انہیں پہچانیے اور ان کے صحیح نام استعمال کی گئی معلومات کے سیریل نمبر اور متعلق حروف کے ساتھ مندرجہ ذیل جدول کی شکل میں لکھیں۔

ریاست کا نام	متعلق حروف	استعمال کی گئی معلومات کا سیریل نمبر
		i
		ii
		iii
		iv
		v

- (i) وہ ریاست جہاں کانگریس کو اکثریت حاصل نہیں ہوئی۔
- (ii) وہ ریاست جہاں کانگریس کو اکثریت حاصل نہیں ہوئی۔ لیکن دوسری پارٹیوں کی مدد سے حکومت بنائی۔
- (iii) وہ ریاست جہاں کمیونسٹ پارٹی کی حکومت بنی۔

(iv) وہ ریاست جہاں وہاں سبھاچناؤ میں کانگریس مکمل اکثریت کی حکومت بنائی۔

(v) ایک ریاست جہاں Popular United Front کی حکومت بنی۔



5- اندر گاندھی نے کانگریس کو ایک طاقت ور محوری اور غیر جمہوری ادارے میں بدل دیا۔ جب کہ نہرو کی رہنمائی میں کانگریس شروعاتی سالوں میں ایک وفاقی جمہوری اور نظریاتی تنظیم تھی۔ نئی مقبول سیاست نے سیاسی نظریہ کو محض الیکشن کی بیان بازی اور ان نعروں تک محدود کر دیا جسے عملی شکل دینا کسی کا مقصد نہیں تھا۔ 1970 کی الیکشن کی کامیابیوں اور جشن کی سرشاریوں کے درمیان کانگریس ایک سیاسی تنظیم کی حیثیت سے مر گئی۔

1- مصنف کے نزدیک نہرو اور اندر گاندھی کی حکمت عملیوں میں کیا فرق تھا؟

2- مصنف نے کیوں کہا کہ 1970 کی دہائی میں کانگریس مر گئی۔

3- کانگریس پارٹی کے اندر جو تبدیلیاں آئیں انھوں نے کس طرح دوسری پارٹیوں کو بھی متاثر کیا۔

## چہ نمبر والے سوالات

- 1- کانگریس میں 1969 میں ہونے والی تقسیم کے اسباب بیان کیجیے۔ (Imp)
- 2- 1960 کی دہائی سے شروع ہونے والی بدلی کی سیاست سے بھارت کی سیاست آج بھی متاثر ہے۔ اس بات کو دھیان میں رکھتے ہوئے دل بدلی کے برے اثرات بیان کیجیے۔
- 3- 1967 کے عام انتخابات کے وقت بھارت کی معاشی و سیاسی حالت کو بیان کیجیے۔
- 4- کانگریس کی دوبارہ تشکیل کے بعد نئی کانگریس اور پہلی کانگریس کن معنوں میں الگ طرح تھی واضح کریں۔ (Imp)
- 5- 1970 کے شروعاتی سالوں میں اندرا گاندھی کی حکومت کو مقبول بنانے میں معاون کنہیں چھ عوامل کی وضاحت کریں۔ (Imp)
- 6- 1971 کے چناؤ کے بعد کانگریس پارٹی کے اقتدار کی پھر سے تشکیل کے لیے اٹھائے گئے کنہیں چھ قدموں کی وضاحت کریں۔

## ایک نمبر والے سوالات کے جوابات

- 1- لال بہادر شاستری
- 2- بھارت اور پاکستان
- 3- سنڈیکیٹ
- 4- وزیر اطلاعات و نشریات
- 5- مدراس (تامل ناڈو) میں دراوڈینسٹ کنگم (DMK) کی حکومت
- 6- ان انتخابات نے گٹھ بندھن کی سیاست کو شروع کیا
- 7- کے۔ کام۔ راج نے اسکولی بچوں کو دوپہر کا کھانا دینے کا منصوبہ شروع کیا۔
- 8- ایس۔ نچ لنگپا
- 9- سماج وادی لیڈر — رام منوہر لوہیا
- 10- 1969 میں
- 11- سوتنڑ پارٹی

12- لال بہادر شاستری

13- 3

14- عظیم اتحاد

15- 1967 کے بعد

16- 1971

### دو نمبر والے سوالات کے جوابات

- 1- (i) مانسون کے نہ ہونے سے سوکھے کی حالت  
(ii) 1962 میں چین کے ساتھ جنگ اور 1965 میں پاکستان کے ساتھ جنگ۔ اس وجہ سے 1960 کی دہائی کو خطرناک دہائی کہا جاتا ہے
- 2- ■ مانسون کے نہ ہونے سے زبردست سوکھا  
■ 1965 میں بھارت-پاکستان جنگ
- 3- یاد رکھنے لائق نکات کا مطالعہ کریں
- 4- نوابوں اور راجاؤں کی حکمرانی کے خاتمہ کے بعد ایک مخصوص پرائیویٹ جائیداد رکھنے کا حق اور ایک مخصوص رقم ان کو دی جاتی تھی اس رقم کو 'پریوی پرس' کہتے ہیں۔ اندرا گاندھی نے اس کو ختم کر دینے کا مطالبہ کیا۔
- 5- 1966 میں بھارت-پاکستان کے درمیان یہ معاہدہ ہوا
- (i) دونوں ملک ایک دوسرے کے اندرونی معاملات میں مداخلت نہیں کریں گے  
(ii) دونوں ممالک کے درمیان مسائل کو پرامن ڈھنگ سے حل کیا جائے گا
- 6- جب کسی سیاسی پارٹی کا لیڈر اس پارٹی سے الیکشن جیت کر دوسری سیاسی پارٹی میں شامل ہو جائے تو اسے دل بدلی کہا جاتا ہے۔
- 7- O کانگریس ..... نیلم سنجیواریڈی  
R کانگریس ..... وی۔ وی۔ گری

- 8- لوگوں کو ڈرتھا کہ دوسرے نئے آزاد ممالک کی طرح بھارت بھی سیاسی جانشینی کا سوال جمہوری ڈھنگ سے حل نہیں کر پائے گا۔ بھارت میں فوج کی مداخلت بڑھ جائے گی۔
- 9- (i) غریبی ہٹاؤ نعرہ
- (ii) 1971 کے بھارت-پاک جنگ میں بھارت کی جیت
- 10- یاد رکھنے لائق نکات کا مطالعہ کریں
- 11- کانگریس کو اقتدار سے ہٹانے کے لیے مخالف جماعتوں کے ذریعے بنائی گئی سیاسی حکمت عملی
- 12- کیونکہ انتخابات میں پہلی کانگریس کو ایک ساتھ کئی ریاستوں میں اقتدار سے ہاتھ دھونا پڑا۔
- 13- مختلف سیاسی جماعتوں کے ذریعے الیکشن سے پہلے یا بعد میں آپسی سمجھوتہ گٹھ بندھن کہلاتا ہے جس کا مقصد حکومت کی تشکیل کرنا ہوتا ہے۔ بھارت میں اس کی شروعات 1967 کے بعد ہوئی۔

### چار نمبر والے سوالات کے جوابات

- 1- (i) بے جواں، بے کسان لال بہادر شاستری
- (ii) غریبی ہٹاؤ اندرا گاندھی
- (iii) اندرا ہٹاؤ عظیم اتحاد
- (iv) آیارام گیارام گیالال
- 2- (i) Popular United Front ..... PUF
- (ii) Sanyukt Vdihayak Dal .....SVD
- (iii) Congress Working Committee ..... CWC
- (iv) Dravid Munitra Kardam .... DMK
- 3- (i) معاشی بحران
- (ii) مانسون کا نہ ہونا، سوکھا، کھیتی کی پیداوار میں کمی، غذائی مسئلہ
- (iii) بیرونی زرمبادلہ میں کمی
- (iv) فوجی اخراجات میں اضافہ

- 4- سنڈکیٹ کا نگرلیس کے اندر طاقتور اور بااثر لوگوں کا گروپ  
دل بدل کسی سیاسی پارٹی سے جیت حاصل کر کے پھر کسی دوسری پارٹی میں شامل ہو جانا  
نعرہ لوگوں کا دھیان اپنی جانب متوجہ کرنے والا محاورہ  
غیر کانگریس واد کانگریس اور اس کی پالیسیوں کے خلاف الگ الگ نظریات کی پارٹیوں کا ایک ہو جانا
- 5- (i) 1971 کی بھارت-پاکستان جنگ میں بھارت کی جیت  
(ii) غربی ہٹاؤ کی سیاست  
(iii) پریوی پرس کا خاتمہ  
(iv) غریبوں، بے زمین کسانوں، خواتین اور بے روزگاروں کو جوانوں کی ہمدرد  
(v) بینکوں کو قومی ملکیت میں لینا
- 6- یاد رکھنے لائق نکات کا مطالعہ کیجیے۔

7- 1971 کے عام انتخابات میں اندرا گاندھی کے ذریعے کانگریس کو دوبارہ اکثریت حاصل ہوئی۔ اندرا گاندھی نے اپنا کھویا ہوا وقار حاصل کرنے کے لیے بہت سی کوششیں کیں جس کے سبب 1971 کے انتخابات میں کانگریس کو زبردست کامیابی حاصل ہوئی۔

### پانچ نمبر والے سوالات کے جوابات

- 1- (i) یہ کارٹون 1971 کے لوک سبھا کے چناؤ سے متعلق ہے۔  
(ii) ناکامیاب کھلاڑیوں کی شکل میں خاص اپوزیشن لیڈروں (گرینڈ الائنس) کو دکھایا گیا ہے۔ مرارجی دیسائی کے کامراج۔ نجلنگ پاؤ (دولیدروں کے نام)  
(iii) یہ کارٹون The grand finish نام سے مشہور ہوا تھا۔
- 2- (i) یہ 1967 کے عام انتخابات سے متعلق ہے  
(ii) کے۔ کامراج، ایس۔ کے۔ پائل، اتولہ گھوش اور کے بی سہائے جیسے لیڈر لیکشن ہار گئے تھے۔  
(iii) گجرات، مدھیہ پردیش

- 3- (i) 1969 کا صدر کا الیکشن
- (ii) وی۔وی۔گری
- (iii) کیونکہ یہ لڑائی حقیقی طور سے گاندھی اور سنڈیکیٹ کے درمیان تھی نہ کہ صدر کے عہدے کے لیے لڑ رہے امیدواروں کے درمیان
- 4- (i) — B — مغربی بنگال
- (ii) — A — راجستھان
- (iii) — D — کیرل
- (iv) — C — مدھیہ پردیش
- (v) — E — پنجاب
- 5- (i) اندرا گاندھی کی پالیسیاں بہت زیادہ محوری اور غیر جمہوری تھیں جبکہ نہرو کی پالیسیاں وفاقی جمہوری اور نظریاتی آمیزش کی تھیں
- (ii) کیوں کہ کانگریس کے بنیادی اصولوں کو اندرا گاندھی کے ذریعے ختم کر دیا گیا تھا۔
- (iii) کانگریس پارٹی میں ہونے والی تبدیلیوں کی وجہ سے دوسری پارٹیوں میں کانگریس کے خلاف اتحاد بڑھا، اور کانگریس مخالف تحریکیں شروع ہو گئیں۔

### چھ نمبر والے سوالات کے جوابات

- 1- (i) 1969 کا صدر کا انتخاب
- (ii) بینکوں کو قومی ملکیت میں لینا اور پریوی پرس جیسے مدعے پر اس وقت کے وزیر مالیات مرارجی ڈیبائی کے ساتھ مت بھید ہونا
- (iii) سنڈیکیٹ اور نوجوان عناصر میں فرق
- (iv) اندرا گاندھی کی سماج واد پالیسیاں
- (v) اندرا گاندھی کا کانگریس پارٹی سے نکالا جانا
- (vi) اندرا گاندھی کے ذریعے سنڈیکیٹ کو اہمیت نہ دینا وغیرہ

- 2 (i) قومی مفاد کو نظر انداز کرنا
- (ii) سیاسی ناپائیداری
- (iii) موقعہ پرستی کو بڑھاوا دینا
- (iv) ووٹ دینے والوں کے یقین کو ٹھیس پہنچانا
- (v) انتظام میں ڈھیل..... غیر جمہوری
- (vi) سیاست میں ووٹ دینے والوں کی بڑھتی غیر دلچسپی

-3 بھارت کی معاشی و سیاسی حالت بہت ہی نازک تھی

- ملک میں غذائی بحران
- ملک کے بہت سے علاقوں میں سوکھا اور قحط
- صنعتی ترقی اور منصوبہ بندی میں کمی
- فوجی اخراجات میں بھاری اضافہ
- پورے ملک میں بازار بند اور تحریکوں کا ماحول
- عوام میں زبردست بے چینی
- معاشی ترقی اور منصوبہ بندی میں کمی وغیرہ

-4 یاد رکھنے لائق نکات دیکھیں۔

-5 یاد رکھنے لائق نکات دیکھیں

-6 1- اندرا گاندھی کی کرشماتی رہنمائی

2- غربی ہٹاؤ کا نعرہ

3- کانگریس پارٹی پر اندرا گاندھی کی پکڑ۔

4- سماجوادی پالیسیاں

5- کمزور مخالف پارٹی

6- صوبوں میں کانگریس کی بحالی



# باب۔ چھ

## جمہوری نظام کا بحران

25 جون 1975 سے 21 مارچ 1977 تک آئین کی دفعہ 352 کے تحت اندرونی خلفشار اور بد نظمی کے باعث ہندوستان میں ایمر جنسی لاگو رہی۔ اس دفعہ کی رو سے حکومت کے لئے کسی بیرونی خطرہ یا اندرونی حالات کے درہم برہم ہو جانے پر ایمر جنسی لاگو کرنا لازمی ہے۔ ایمر جنسی میں ملک کی بجٹ اور تحفظ کو دھیان میں رکھتے ہوئے سبھی اختیارات مرکزی حکومت کو حاصل ہو جاتے ہیں۔

ہندوستان میں ایمر جنسی کی اہم وجوہات :-

### 1- معاشی وجوہات:

- (i) 1971 کے انتخابات میں کانگریس نے غربی ہٹاؤ کا نعرہ دیا تھا۔ لیکن یہ نعرہ کچھ خاص نہیں کر پایا بلکہ ملک میں غربی برقرار رہی۔
- (ii) بنگلہ دیش کے بحران کے سبب معاشی نظام متاثر ہوا۔ امریکہ نے ہندوستان کی مدد بند کر دی۔
- (iii) بین الاقوامی بازار میں تیل کی قیمتیں لگا تار بڑھنے سے مختلف چیزوں کی قیمتوں میں اضافہ ہو گیا۔
- (iv) صنعتی ترقی کافی سست تھی اور بے روزگاری خاص طور سے دیہی علاقوں میں بہت زیادہ تھی۔
- (v) حکومت نے اخراجات کو کم کرنے کے لئے سرکاری ملازمین کی تنخواہوں کو روک دیا تھا۔
- (vi) مانسون بہتر نہ ہونے کی وجہ سے 73-72 کے دوران زرعی پیداوار میں بھاری کمی آگئی تھی۔

### 2- سیاسی وجوہات: (طلبا کی تحریک / احتجاج)

- گجرات کے طلبا نے اناج کے تیل اور دوسری بنیادی چیزوں کی بڑھتی ہوئی قیمتوں اور بڑے دفتروں میں رشوت خوری کے خلاف جنوری 1974 میں گجرات میں تحریک شروع کی اس تحریک کی رہنمائی کانگریس کے لیڈر مارجی دیسائی کی رہنمائی میں چلائی گئی۔

## ● بہار تحریک:-

- مارچ 1974 میں غذائی قلت - بے روزگاری اور بدعنوانی کے خلاف بہار میں طلباء نے تحریک شروع کر دی۔ جے پرکاش نارائن کی رہنمائی میں یہ تحریک دو اہم شرطوں پر چلائی گئی۔
- 1- اس تحریک میں تشدد کا کوئی دخل نہیں ہوگا۔
- 2- یہ تحریک بہارتک محدود نہیں رہے گی بلکہ ملک گیر پیمانے پر چلائی جائے گی۔
- جے پرکاش نارائن نے مکمل انقلاب کے ذریعے حقیقی جمہوریت کو قائم کرنے کی بات کہی۔ انھوں نے بھارتیہ جن سنگھ، کانگریس علاقائی لوک دل اور سوشلسٹ پارٹی جیسی غیر کانگریسی جماعتوں کو اپنی حمایت میں لے کر تحریک کو مضبوط کیا۔

## 3- نکسلوادی تحریک:-

- 1967 میں مارکسوادی کمیونسٹ پارٹی کے لوگوں کی رہنمائی میں مغربی بنگال کے دارجلنگ ضلع کے نکسلوادی علاقے کے کسانوں نے بغاوت کی۔ جسے نکسلوادی تحریک کے نام سے جانا جاتا ہے۔
- 1969 میں چارو موجودار کی رہنمائی میں CPI کی تشکیل کی گئی۔ اس پارٹی نے انقلاب کے لئے گوریلا جنگ کا طریقہ اپنایا۔
- نکسلویوں نے امیر زمینداروں سے زمین چھین کر غریب بے زمین لوگوں کو زمینیں دیں۔

## 4- ریل ہڑتال:-

- جارج فرنانڈیز کی رہنمائی میں بنی قومی کمیٹی نے ریلوے ملازمین سے جڑی خدمات اور بونس وغیرہ سے جڑی مانگوں کو لے کر 1974 میں ہڑتال کی۔
- حکومت نے ہڑتال کو غیر آئینی قرار دیا۔ اور ان کی مانگیں منظور نہیں کیں۔
- اس سے مزدور ریلوے ملازمین عام آدمی اور تجارتی لوگوں میں حکومت کے خلاف بے چینی پیدا کر دی۔

## 5- عدالتی تصادم:-

- حکومت اور عاملہ کے تعلقات میں کشیدگی پیدا ہوئی جس کی وجہ تھی:-
- حکومت نے بنیادی حقوق میں کمی۔ جائداد کے حق میں کٹوتی اور ریاست کے رہنما اصولوں کو بنیادی حقوق پر سبقت دینا جیسی باتوں کو سپریم کورٹ نے خارج کر دیا
- حکومت نے جے۔ ایم شیلٹ، کے۔ ایس۔ ہیگڈے، اور اے۔ این گروور کی سینیٹری کو نظر انداز کر کے اے۔ این۔ رے۔ کو سپریم کورٹ کا چیف جسٹس مقرر کر دیا۔ یہ تقرر سیاسی نزاع کا باعث بن گیا۔

## ● ایمرجنسی کا اعلان

- 12 جون 1975 کو الہ آباد ہائی کورٹ کے جج جگ موہن لال سنہا نے اندرا گاندھی کے 1971 کے انتخاب کو غیر آئینی قرار دے دیا۔
- 24 جون 1975 کو سپریم کورٹ نے الہ آباد ہائی کورٹ کے فیصلے پر اپنا فیصلہ سنایا کہ اپیل کا فیصلہ آنے تک اندرا گاندھی ممبر پارلیمنٹ بنی رہیں گی لیکن کابینہ کی میٹنگ میں حصہ نہیں لے سکیں گی۔
- 25 جون 1975 کو جے پرکاش ناراین کی قیادت میں اندرا گاندھی کے استعفی کی مانگ کو لے کر دہلی کے رام لیلا میدان میں ملک گیر پیمانے پر سٹیو گره کرنے کی بات کی گئی۔ اور اندرا گاندھی سے استعفی کی مانگ کی۔
- بی جے پی نے سرکاری ملازمین، پولیس اور فوج سے درخواست کی کہ وہ حکومت کے غیر اخلاق اور غیر قانونی کی احکامات کو نہ مانیں۔
- 25 جون 1975 کو اندرا گاندھی نے آرٹیکل 352 کے تحت ملک میں اندرونی خلفشار اور بد امنی پھیلنے کے اندیشے کے مد نظر صدر کے ذریعے ایمرجنسی لاگو کرنے کی سفارش کی۔

## ● ایمرجنسی کے نتائج

- مختلف جماعتوں کے لیڈروں کو جیل میں ڈال دیا۔
- اخبارات پر پابندی عائد کر دی گئی۔
- غیر سرکاری اداروں اور جماعت اسلامی پر پابندی۔
- احتجاج، جلسے جلوس اور ہڑتالوں پر پابندی۔

- بنیادی حقوق کو معطل کر دیا گیا۔
- حکومت کے احتیاطی نظر بندی کے قانون کے ذریعے سیاسی کارکنان کو گرفتار کر لیا گیا۔
- انڈین ایکسپریس اور اسٹیمین جیسے اخبارات جن خبروں کو چھاپنے سے روکا جاتا تھا ان کی جگہ خالی چھوڑ دیتے تھے۔
- کنٹرا دیب شواراما کا زنجھ اور ہندی ادیب کا نیشور ناتھ رینو جو پدم بھوشن اور پدم شری جیسے ایوارڈ پا چکے تھے دونوں نے جمہوریت کی معطلی کے خلاف احتجاج کرتے ہوئے اپنے خطاب واپس کر دیے۔
- آئین میں 42 ویں ترمیم (1976) کے ذریعے چند اہم تبدیلیاں کی گئیں جسے صدر، نائب صدر اور وزیراعظم کے انتخاب کو عدالتی چنوتی نہیں دی جاسکتی اور مجلس قانون ساز کی مدت کو پانچ سال سے بڑھا کر چھ سال کر دینا وغیرہ

## ایمرجنسی پر بحث

### ● حمایت میں بحث:

- بار بار ہڑتالیں، احتجاج، مظاہرے اور عوامی تحریکوں سے جمہوریت متاثر
- مخالف جماعتوں کے ذریعے غیر پارلیمانی سیاست کا سہارا لینا
- حکومت کے ترقیاتی کاموں میں رکاوٹ پیدا کرنا
- ملک کی یکجہتی کے خلاف بین الاقوامی سازش کرنا
- اندرا گاندھی کے ذریعے ملک میں ایمرجنسی لاگو کرنے کے فیصلے کی کمیونسٹ پارٹی کی حمایت

### ● مخالفت میں بحث

- جمہوریت میں عوام کو حکومت کی مخالفت کرنے کا حق حاصل ہوتا ہے۔
- مخالف تحریکیں زیادہ پرامن اور غیر تشددی تھیں۔
- وزیر داخلہ کے ذریعے اس وقت قانونی نظام کی فکر ظاہر نہیں کی گئی تھی۔
- آئینی طریقوں کا غلط استعمال ذاتی مفاد کے لیے کیا گیا تھا۔

### ● ایمرجنسی کے دوران کئے گئے کام

- 20 نکاتی پروگرام میں زمینی سدھار زمین کی از سر نو تقسیم بے زمین مزدوروں کی مزدوری پر غور و فکر انتظامیہ میں کام کرنے والوں کی حصہ داری بند ہو مزدوری کا خاتمہ وغیرہ عوام کی بھلائی کے کام شامل تھے۔

- جانفین کو نظر بندی قانون کے تحت بندی بنایا گیا۔
- زبانی حکم سے اخباروں کے دفاتروں کی بجلی کاٹ دی گئی۔
- دہلی میں جھگی بستیوں کو ہٹانے اور زبردستی نظر بندی جیسے کام کئے گئے۔

### ● ایمر جنسی کے سبق

- جمہوریت کے تئیں لوگوں کے اعتماد میں اضافہ۔
- اب اندرونی ایمر جنسی صرف ایک مسلح بغاوت کی صورت میں ہی لاگو کی جاسکتی ہے اور یہ لازم ہے کہ ایمر جنسی لاگو کرنے کی سفارش صدر کے پاس وزیرا کی کونسل کی جانب سے تحریری شکل میں دی جائے۔
- شہریوں میں بنیادی حقوق کے تئیں بیداری میں اضافہ ہوا۔ اور ان حقوق کے تحفظ کے لیے کئی تنظیمیں وجود آئیں۔
- ایمر جنسی میں حکمران پارٹی نے پولیس اور انتظامیہ کو اپنا سیاسی ہتھیار بنا کر استعمال کیا تھا۔ یہ ادارے آزادانہ طریقے سے کام نہیں کر پائے تھے۔
- ایمر جنسی کے دوران ہندوستان کی جمہوریت کی طاقت اور کمزوریاں اجاگر ہو گئیں تھیں لیکن جلد ہی سب کام جمہوری طرز پر ہونے لگے۔ جمہوریت کے تئیں لوگوں کے اعتماد میں اضافہ ہوا۔ اور یہ یقینی ہو گیا کہ ہندوستان سے جمہوریت کی جڑیں مٹانا بہت مشکل ہے۔

### ● ایمر جنسی کے بعد کی سیاست

- جنوری 1977 میں اپوزیشن پارٹیوں کے ملک کر جنتا پارٹی کی تشکیل کی۔
- کانگریس لیڈر بابو جگ جیون رام نے ”کانگریس فار ڈیموکریسی“ پارٹی کی تشکیل کی جو بعد میں جنتا پارٹی میں شامل ہو گئی۔
- جنتا پارٹی نے ایمر جنسی کی زیادتیوں کو مدعا بنا کر اسے رائے شماری کی شکل دی۔
- 1977 کے چناؤ میں کانگریس کو لوک سبھا میں 154 سیٹیں اور جنتا پارٹی اور اس کے معاون پارٹیوں کو 330 سیٹیں۔
- ایمر جنسی کا اثر شمالی ہندوستان میں زیادہ ہونے کی وجہ سے 1977 کے چناؤ میں نہ کہ برابر سیٹیں ملیں۔

- جنتا پارٹی کی حکومت میں مراری دیسائی، وزیر اعظم، چودھری چرن سنگھ اور جگ جیون رام، دو نائب وزیر اعظم بنے۔
- جنتا پارٹی کی حکومت میں متعین مستحکم رہنمائی اور ایک مشترکہ طویل مدتی یا کم مدتی فلاحی پروگرام کی کمی تھی۔ جس کی وجہ سے یہ حکومت جلد ہی گر گئی۔
- 1980 کے لوک سبھا چناؤ میں کانگریس نے 353 سیٹیں حاصل کیں اور اپنے مخالفین کو سخت شکست دی۔

### ● شاہ کمیشن

- ایمر جنسی کی جانچ کے لیے جنتا پارٹی کی حکومت کے ذریعے 1977 میں سپریم کورٹ کے سابق چیف جسٹس جے۔سی۔ شاہ کی صدارت میں ایک تحقیقاتی کمیشن قائم کیا گیا۔ شاہ کمیشن کے ذریعے رپورٹ میں بیان کیا گیا کہ:
- ایمر جنسی لاگو کرنے کا فیصلہ صرف وزیر اعظم اندرا گاندھی کا تھا۔
- دہلی پاور سپلائی کے جنرل منیجر کو دہلی کے لیفٹیننٹ گورنر کے ذریعے زبانی احکامات دیے گئے تھے کہ 26 جون 1975 کو رات دو بجے اخبارات کی بجلی کاٹ دی جائے۔
- وزیر اعظم کے حکم پر ان کے مخالف سیاسی جماعتوں کے لیڈران کو گرفتار کرنا غیر قانونی تھا۔
- MISA کے قانون کا غلط استعمال کیا گیا۔
- کچھ لوگوں نے افسران کے عہدے پر نہ ہونے بھی سرکاری کاموں میں مداخلت کی تھی۔

### ● شہریوں کی آزاد تنظیموں کا آغاز

- شہری آزادی اور جمہوری حقوق کی حفاظت کے لیے عوامی تنظیموں کی شروعات اکتوبر 1976 میں ہوئی۔
- ان تنظیموں نے نہ صرف ایمر جنسی بلکہ عام حالات میں بھی لوگوں کو اپنے حقوق کی حفاظت کے لیے کہا۔
- 1980 میں شہری آزادی اور جمہوری حقوق کی حفاظت کے لیے عوامی تنظیموں کا نام بدل کر ”شہری آزادیوں کے لیے عوامی تنظیم“ رکھ دیا گیا۔
- غریبی، آپسی میل جول، جمہوری طرز عمل اور غیر جانبداری سے متعلق مسائل کے بارے میں بھارت کی آزاد شہریوں کی تنظیم کے مختلف میدانوں میں منظم ہو کر کام کرنا شروع کر دیا ہے۔

### ایک نمبر والے سوالات

1- مکمل انقلاب (سپورن کرانتی) کا کیا مقصد تھا؟

- 2- پریس سنسرشپ سے کیا مراد ہے؟
- 3- شاہ کمیشن کو کب اور کیوں شروع کیا گیا تھا۔
- 4- آئین کی کون سی ترمیم کے ذریعے مجلس قانون سازی کی مدت کو پانچ سال سے بڑھا کر چھ سال کر دیا گیا؟
- 5- ایمر جنسی کے دوران غریبوں کے مفاد کے لیے کس پروگرام کا اعلان کیا گیا؟
- 6- ”کانگریس فار ڈیموکریسی“ پارٹی کس کی قیادت میں بنی؟
- 7- کونسی کمیونسٹ پارٹی نے ایمر جنسی کے دوران کانگریس پارٹی کا ساتھ دیا تھا؟
- 8- کن دو مصنفین نے جمہوریت کو دبانے کی مخالفت میں اپنے خطابات حکومت کو واپس کر دئے تھے؟
- 9- 25 جون 1975 کو ایمر جنسی کا اعلان کس صدر کے ذریعے کیا گیا تھا؟
- 10- 1976 میں آزادی سے متعلق کس تنظیم کی تشکیل ہوئی۔
- 11- Committed Judiciary سے کیا مراد ہے۔
- 12- غریبی ہٹاؤ کا نعرہ کب اور کس نے دیا۔
- 13- 1973 میں کسے ہندوستان کے چیف جسٹس کی شکل میں مقرر کیا گیا۔
- 14- 1975 میں آئین کی کس دفعہ کے تحت ایمر جنسی لگائی گئی۔
- 15- مکمل انقلاب کا نعرہ کس نے دیا۔
- 16- 1974 میں ریل ہڑتال کی رہنمائی کس نے کی۔
- 17- جے۔ پی۔ تحریک کی حمایت کرنے والی کسی ایک پارٹی کا نام بتائیں۔

## دونمبر والے سوالات

- 1- ایمر جنسی کے دوران کن دو تنظیموں پر پابندی لگائی گئی تھی؟
- 2- 1974 میں گجرات اور بہار کے طلبانے کن مدعوں پر تحریک شروع کی تھی؟

- 3- نکللسلی تحریک کے دو کاموں کا ذکر کریں۔
- 4- 42 ویں ترمیم کے ذریعے کیے گئے دو اہم تبدیلیوں کو بیان کیجیے۔
- 5- 1977 کے انتخابات میں جتنا پارٹی کی جیت کے دو اسباب بتائیے۔
- 6- ایمر جنسی اور اس کے آس پاس کے عرصہ کو کیوں آئینی بحران کے زمانے کی شکل میں دیکھا جاتا ہے؟
- 7- ریل ہڑتال کب اور کس خاص مانگ کو لے کر ہوئی تھی؟
- 8- شاہ کمیشن کو کب اور کیوں قائم کیا گیا تھا؟
- 9- احتیاطی گرفتاری سے آپ کیا سمجھتے ہیں؟
- 10- A - (vi)      B - (iii)      C - (ii)      D - (i)

### چار نمبر والے سوالات

- 1- ایمر جنسی سے پہلے عدلیہ اور حکومت کے آپسی رشتوں میں کس طرح تناؤ پیدا ہوا؟
- 2- 1975 کی ایمر جنسی نے کس طرح بھارت کی جمہوریت کو متاثر کیا؟
- 3- جون 1975 میں اندرونی ایمر جنسی لاگو کرنے کے پیچھے کیا اسباب تھے؟ (Imp)


### پانچ نمبر والے سوالات

- 1- دیے گئے پیرا گراف کا غور سے مطالعہ کیجیے اور مندرجہ ذیل سوالات کے جواب دیں۔
- ”جمہوریت کے نام پر خود جمہوریت کی راہ روکنے کی کوشش کی جا رہی ہے۔..... تحریکوں سے ماحول سرگرم ہے جس کے نتیجے میں تشدد پھیل رہا ہے۔ ایک آدمی تو اس حد تک آگے بڑھ گیا ہے کہ وہ ہماری فوج اور پولیس کو بغاوت کے لیے اکسار رہا ہے تخریب کاری تو توں کا کھیل جا رہی ہے۔“
- (i) یہ پیرا گراف کس تقریر کا حصہ ہے؟
- (ii) پیرا گراف میں ’ایک آدمی تو اس حد تک بڑھ گیا ہے‘ کس کے بارے میں کہا گیا ہے اور انہوں نے کیا نعرہ دیا تھا؟



(iii) ملک کا ماحول کن اسباب کی بنا پر خراب ہو رہا تھا؟

-2 نیچے دیے گئے کارٹون کو غور سے دیکھیں اور سوالات کے جواب دیں



- 1 (i) کارٹون کے ذریعے کس واقعہ کو دکھانے کی کوشش کی گئی ہے؟
- 2 (ii) عام لوگوں کے ساتھ ساتھ کون سے چار لیڈر کھڑے ہیں؟
- 2 (iii) برسر اقتدار جماعت کون سی تھی؟ اس کی شکست کے دو اسباب بتائیے؟

-3 دیے گئے کارٹون کی بنیاد پر سوالوں کے جواب دیں۔



-1 کارٹون میں دیئے گئے لیڈر کو پہچانیں۔

2- یہ کارٹون کس تنازعے پر روشنی ڈالتا ہے۔

3- شاہ جانج کمیشن کب اور کیوں بنایا گیا؟

### چہ نمبر والے سوالات

1- ایسے چار حالات کا ذکر کریں جن کے سبب 1975 میں ایمر جنسی لاگو کی گئی۔

2- 25 جون 1975 کو بھارت میں قومی ایمر جنسی کا اعلان کیوں کیا گیا؟ اس کے تین نتائج بیان کیجیے۔

3- ایمر جنسی سے ملنے والے تین اسباق کا ذکر کریں؟

4- ”ایمر جنسی کے دوران حکومت نے اختیارات کا غلط استعمال کیا تھا“ اس بیان کی حمایت کیجیے۔

5- 1975 کی ایمر جنسی میں اجاگر ہندوستان جمہوریت کی کمزوریوں اور طاقت کے تین تین نکات کی وضاحت کریں۔

6- 1980 کے وسط مدنی چناؤ کے لئے ذمہ دار حالات کی وضاحت کریں۔

### ایک نمبر والے سوالات کے جوابات

1- حقیقی جمہوریت کو قائم کرنا۔

2- اخبارات میں کچھ بھی چھاپنے سے پہلے حکومت کی اجازت لے کر چھاپنا

3- مئی 1977 میں ایمر جنسی کے دوران کی گئی کارروائی اور اقتدار کے غلط استعمال کی جانچ کرنے کے لیے

4- آئین میں 42 ویں ترمیم

5- بیس نکاتی پروگرام

6- بابو جگ جیون رام

7- سی۔ پی۔ آئی (بھارتیہ کمیونسٹ پارٹی)

8- کتوا دیب شواراما کنتھ اور ہندی ادیب کانیشور ناتھ

9- فخر الدین علی احمد

10- شہری آزادیوں کے لیے عوامی تنظیم

- 11- حکومت کے پالیسیوں کے مطابق کام کرنا۔
- 12- اندرا گاندھی 1971
- 13- A.N. Ray
- 14- دفعہ 352
- 15- جے پرکاش نارائن
- 16- جارج فرنانڈیز
- 17- بھارتیہ لوک دل

### دونمبر والے سوالات کے جوابات

- 1- آ۔ اے۔ اے۔ اے۔ اے اور جماعت اسلامی۔
- 2- (i) غذائی اشیاء کی کمی، غذائی تیل اور دوسری اشیاء کی بڑھتی قیمتیں۔  
(ii) بے روزگاری اور اعلیٰ عہدوں پر بڑھتی ہوئی بدعنوانی۔
- 3- (i) امیر زمین مالکان سے زمین چھین کر غریب اور بے زمین لوگوں کو دینا۔  
(ii) سیاسی مقاصد کو حاصل کرنے کے لیے تشدد کے ذرائعوں کا استعمال۔
- 4- ■ وزیراعظم، صدر اور نائب صدر کے انتخاب کو عدالت میں چنوتی نہیں دی جاسکتی۔  
■ مجلس قانون ساز کی مدت پانچ سال سے بڑھا کر چھ سال کر دی گئی۔
- 5- (i) ایمرجنسی کا اعلان اور کانگریس کی کارگزاری  
(ii) مخالف جماعتوں کا ایک ہو جانا
- 6- پارلیمنٹ اور عدلیہ کے دائرہ اختیار کو لے کر آئینی جدوجہد ایمرجنسی کی بنیاد تھا۔ حکومت کے پاس اکثریت ہونے کے باوجود جمہوریت کو ٹھپ کرنے کا فیصلہ کیا گیا

- 7- مئی 1974 میں بونس اور نوکری سے جڑی شرطوں کو لے کر کی گئی۔
- 8- جے۔سی۔شاہ کی صدارت میں مئی 1977 میں ایمر جنسی کے دوران کی گئی کارروائی اور اقتدار کے ناجائز استعمال کے خلاف مختلف پہلوؤں کی جانچ کرنے کے لیے قائم کیا گیا۔
- 9- عام طور پر کسی بھی شخص کو اس وقت گرفتار کیا جاتا ہے جبکہ اس نے کوئی جرم کیا ہو لیکن کسی شخص کے آزاد رہتے ہوئے اس سے کسی جرم کے لیے خدشہ ہو تو اسے گرفتار کر لیا جاتا ہے۔ اس کو احتیاطی نظری بندی کہتے ہیں۔

### چار نمبر والے سوالات کے جوابات

- 1- سپریم کورٹ نے حکومت کے کئی کاموں کو آئین کے خلاف پایا۔ کانگریس عدالت کے اس رویہ کو جمہوریت کے اصولوں اور پارلیمنٹ کی عظمت کے خلاف ماننے لگی۔ اس جماعت کا یہ الزام تھا کہ عدالت ایک ایسی برقرار تنظیم ہے جو غریبوں کی فلاح سے متعلق یوجناؤں کو لاگو ہونے سے روک رہی ہے۔
- 2- (i) مخالف لیڈروں نے ایک ساتھ مل کر جتنا پارٹی بنائی
- (ii) 1977 میں آزاد، غیر جانبدارانہ انتخابات ہوئے اور اندرا گاندھی والی برسر اقتدار سیاسی جماعت کو عوام نے ہار کا منہ دکھایا
- (iii) ایمر جنسی کے دوران کیے گئے نامناسب آئینی ترمیم کو بدل دیا گیا
- (iv) حزب مخالف اب تنقید کے لیے آزاد تھا۔
- 3- (i) حکومت کو مخالف جماعتیں اس کی پالیسیوں کے مطابق حکومت نہیں کرنے دے رہی تھیں
- (ii) تمام طاقت قانونی نظام کی بحالی پر لگنی پڑ رہی تھی۔ سازشی طاقتیں حکومت کے کاموں میں رکاوٹیں ڈال رہی تھیں۔
- (iii) مخالف جماعتیں فوج، پولیس اور سرکاری افسران کو حکومت کے خلاف بھڑکا رہے تھے۔

### پانچ نمبر والے سوالات کے جوابات

- 1- (i) اندرا گاندھی 26 جون 1975 کو آل انڈیا ریڈیو سے قوم کو خطاب کرتے ہوئے
- (ii) جے پرکاش ناراین، سپورن کرانتی
- (iii) لگا تار غیر پارلیمانی سیاست کے ذریعے ناپائیداری پیدا کرنا

- 2- (i) 1977 کے انتخابات میں کانگریس کی ہار اور جنتا پارٹی کی کامیابی کو دکھانے کی کوشش کی گئی ہے۔
- (ii) جگ جیون رام، مرارجی دیسائی، چودھری چرن سنگھ اور اٹل بہاری واجپائی
- (iii) ایمرجنسی لاگو کرنا
- پریس سنسرشپ، MISA اور آئین کی 42 ویں ترمیم
- برسر اقتدار سیاسی جماعت کانگریس تھی
- 3- 1- اندرا گاندھی
- 2- اندرا گاندھی اور شاہ جانچ کمیشن کے بیچ ٹکراؤ پر روشنی ڈالتا ہے۔
- 3- 1977 اور ایمرجنسی کے دوران حکومت کے ذریعے کی گئی کارروائی اور طاقت کے غلط استعمال مختلف پہلوؤں کی جانچ کے لیے۔

### چہ نمبر والے سوالات کے جوابات

- 1- (i) غربی ہٹاؤ کا نعرہ اپنا اثر کھو رہا تھا
- (ii) 1972-73 میں مانسون کے ناکام ہونے کے سبب زرعی پیداوار میں بھاری گراوٹ
- (iii) 1973 میں بین الاقوامی بازار میں تیل کی قیمتوں کے بڑھنے سے بھارت کی معیشت پر برا اثر پڑا
- (iv) ریلوے ملازمین کی ہڑتال
- (v) گجرات اور بہار میں طلباء کی تحریکیں
- (vi) حکومت کی غلط پالیسیوں کے خلاف عوام میں بے چینی اور مایوسی
- 2- یاد رکھنے لائق نکات کا مطالعہ کریں
- 3- (i) آئین کے تنازعہ والے آرٹیکل میں ترمیم
- (ii) بھارت میں جمہوریت کی بنیاد کا مزید مضبوط ہونا
- (iii) پولیس اور انتظامیہ کا غیر جانبدار شکل میں کام کرنا

- 4- یاد رکھنے لائق نکات کا مطالعہ کریں
- 5- ایمر جنسی کے دوران ہندوستانی جمہوریت کی کمزوریاں
- 1- جمہوری اداروں کا اپنا ہونا
- 2- ایمر جنسی کی دفعات کا واضح نہ ہونا
- 3- پولیس اور انتظامیہ کا غلط استعمال
- 5- شہریوں میں اپنے حقوق کے تئیں بیداری ہونا
- 1- جمہوریت کی ازسرنو تشکیل
- 2- جمہوریت کی ازسرنو تشکیل
- 3- شہری تنظیموں کا وجود میں آنا
- 6- یاد رکھنے لائق نکات دیکھیں۔

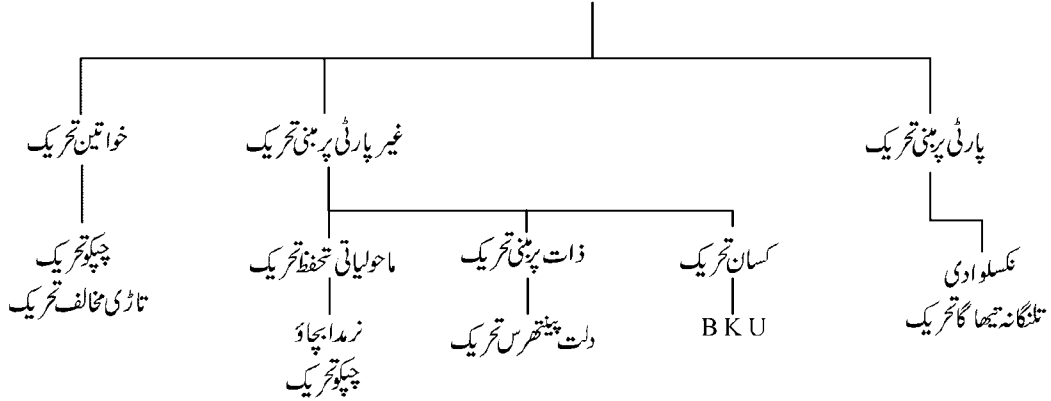
## باب۔ سات

# عوامی تحریکوں کا عروج

ایک واضح مقصد کے لئے کی جانے والی کوشش کو عوامی تحریک کہا جاتا ہے۔ عوامی تحریک کی خاص وجوہات میں غربتی۔ بے روزگاری۔ عام لوگوں اور کسانوں کا سیاسی لیڈروں اور اداروں سے ناواقف ہونا وغیرہ شامل ہے۔

- جو تحریکیں کسی سیاسی پارٹی کے تعاون کے ذریعے شروع کی جاتی ہیں انہیں پارٹی پر مبنی تحریکیں کہتے ہیں۔ جیسے آندھرا پردیش کسانوں کے ذریعے تلنگانہ تحریک (کیونسٹ پارٹی) تیتھا گہ تحریک، نکلوادی تحریک۔ جو 1967 میں چارو موجودار اور کانوسیاں کی رہنمائی میں چلائی گئی۔
- جو تحریکیں خود امدادی تنظیموں مقامی لوگوں طلبا کے ذریعے کسی مسئلے سے دوچار ہونے کی وجہ سے شروع کی جاتی ہیں انہیں سیاسی پارٹیوں سے آزاد عوامی تحریک کہتے ہیں۔ جیسے دلت بینتھرس تاڑی مخالف تحریک چکلو تحریک۔

### تحریک کی قسمیں



### ماحولیات تحریک (چکلو تحریک)

- 1973 میں اتر اھنڈ میں مردو خواتین کے ذریعے شروع کی گئی۔
- جنگلاتی شعبہ نے کھیتی باڑی کے اوزار بنانے کے لیے پیڑوں (انگو) کی کٹائی سے انکار کر دیا
- جب کہ کھیل کا سامان بنانے والی کمپنی کو کاروباری استعمال کے لیے زمین کا وہی ٹکڑا دیا۔

- خواتین اور گاؤں کے لوگوں کے ذریعے پیڑوں کی کٹائی کی مخالفت کی گئی۔
- خواتین پیڑوں کی کٹائی کی مخالفت میں پیڑوں سے چپک گئیں۔

## مانگیں

- مقامی لوگوں کو پانی، جنگل، زمین جیسے قدرتی وسائل پر کارگر کنٹرول
- حکومت چھوٹی صنعتوں کے لیے کم قیمت پر سامان مہیا کرانیں۔
- شہر کے ماحولیات توازن کو نقصان پہنچانے بغیر ترقی کا تعین کریں۔
- خواتین نے شراب خوری کی لت کے خلاف بھی آواز اٹھائی۔

## نتائج

- حکومت نے 15 سالوں کے لیے ہمالیائی علاقے میں پیڑوں کی کٹائی پر روک لگا دی۔

## اہم لیڈر

- سندر لال بہوگنا
- بعد کے سالوں میں ملک کے مختلف حصوں میں اٹھنے والی عوامی تحریک کی علامت
- خواتین کو ان کے حقوق کے تئیں بیدار کیا۔

## نرمدا بچاؤ تحریک

اس تحریک کے ذریعے نرمدا ندی پر بڑے باندھوں کی تشکیل/تعمیر کی مخالفت، مقامی لوگوں کی باز آادکاری، ذریعہ معاش، ثقافت اور ماحولیات پر پڑنے والے برے اثرات کو بہتر طریقے سے اجاگر کیا گیا۔

اس تحریک میں مدھیہ پردیش، گجرات اور مہاراشٹر سے گزرنے والی نرمدا و معاون ندیوں پر 30 بڑے 135 درمیانی اور 300 چھوٹے باندھ بنانے کی تجویز:

- اس منصوبے کا نام سردار سرور منصوبہ ہے۔
- گجرات ریاست میں سردار سرور اور مدھیہ پردیش میں نرمدا ساگر سب سے بڑا باندھ ہے۔

## فائدے



- گجرات کے بہت بڑے حصے کے ساتھ تین ریاستوں میں پینے کا پانی، سینچائی اور بجلی پیداوار کی سہولت
- زراعت کی پیداوار میں بہتر کوالٹی اور سدھار
- باڑھ اور سوکھے کی آفات پر کنٹرول

## ● مخالفت

- اس منصوبہ کا عوام کی رہائش، روزگار، ثقافت اور ماحولیات پر برا اثر
- اس منصوبے کے سبب ہزاروں لوگ بے گھر ہو گئے (25 گاؤں کے علاقے میں آجانے سے تقریباً ڈھائی لاکھ لوگ بے گھر)

## ● مطالبات

- اس منصوبہ سے جڑے سبھی لوگوں کو دوبارہ سے رہنے کی مناسب جگہ دی جائے
- اس منصوبہ سے متعلق فیصلوں میں یہاں کے مقامی لوگوں کو بھی حصہ دار بنایا جائے
- پانی، جنگل، زمین جیسے قدرتی ذرائع پر ان کا اثر اور کنٹرول
- باندھوں کو تشکیل دینے میں آ رہی کثیر لاگت/خرچ کا سماجی نقصان سے متعلق اندازہ لگایا جائے

## ● اس تحریک سے جڑے اہم لیڈر

- میگھا پائیکر ..... عامر خاں

## ● نتائج

اس منصوبے کے تحت مرکزی حکومت نے 2003 میں قومی از سر نو رہائشی پالیسی کا اعلان کیا۔

## تاڑی مخالف تحریک

- شراب مخالف تحریک کی شروعات 1990 میں آندھرا پردیش نیلور ضلع کے ڈباگنٹا گاؤں میں ہوئی۔
- تقریباً 5000 گاؤں کی عورتوں نے اس تحریک میں حصہ لیا۔
- نیلور ضلع میں تاڑی کی فروخت کی نیلامی 17 بار رد ہوئی۔

- تاڑی کی فروخت بند کرو کا نعرہ لگایا

## مانگیں

- شراب کی وجہ سے صحت خراب ہوگئی تھی معاشی پریشانیوں بڑھ رہی تھیں اس لیے تاڑی کی فروخت کی مخالفت گھر یلو تشدد، عورتوں پر ہونے والے ظلم، چیز کی رسم کی مخالفت۔

## نتائج

- کئی ریاستوں میں شراب نوشی پر پابندی
- گھر یلو تشدد اور عورتوں پر ہونے والے مظالم کے خارجی قانون
- عورتوں کی مانگ پر مقامی اداروں میں ریزرویشن 73 ویں اور 74 ویں آئینی ترمیم کے ذریعے
- نیشنل فیش ورکس فارم (NFF)
- مچھواروں کی تعداد کے لحاظ سے ہندوستان کا دنیا میں دوسرا مقام
- حکومت کے ذریعے تجارتی جہازوں کو گہرے سمندر میں مچھلی مارنے کی اجازت سے مچھواروں کے روزگار پر سوالیہ نشان
- مجبور ہو کر مچھواروں نے NFF بنایا۔
- 2002 میں NFF کے ذریعے غیر ملکی کمپنیوں کو مچھلی مارنے کا لائسنس جاری کرنے کی مخالفت میں پورے ملک میں ہڑتال کی گئی۔
- ماحولیات کے تحفظ اور مچھواروں کی زندگی کو بچانے کے لیے کئی قانونی لڑائیاں لڑیں۔

## دلت پینتھرس

- مہاراشٹر میں 1992 میں تعلیم یافتہ دلت نوجوانوں نے دلت طبقے کی اذیتوں ان پر کئے جانے والے ظلموں کو ظاہر کرنے کے مقصد سے دلت پینتھرس کے نام سے ایک تنظیم بنائی۔

## مانگیں

- ذات پر مبنی نابرابری اور طبعی وسائل کے معاملے میں اپنے ساتھ ہونے والی نا انصافی کے خلاف لڑنا۔
- ریزرویشن کے قانون اور سماجی انصاف کی پالیسیوں کو کارگر طریقے سے لاگو کرنے کی مانگ

- دلت خواتین کے ساتھ ہونے والے برے سلوک کی مخالفت
- بے زمین کسانوں، مزدوروں اور سبھی محروم طبقوں کو ان کے حقوق دلوانا
- دلتوں میں تعلیم کا پھیلاؤ

### دلت پینتھرس کی سرگرمیاں

- کئی ادبی تصنیفات لکھیں۔ تخلیقی اور احتجاجی ڈھنگ سے اپنی لڑائی لڑی۔
- دلت نوجوانوں نے آگے بڑھ کر ظلموں کی مخالفت کی۔

### نتائج

- حکومت نے 1980 میں قانون بنا کر دلت پر ظلم کرنے والوں کے لیے سخت سزا کا بندوبست کیا۔
- **دلت پینتھرس کے سیاسی زوال کے بعد بام سیف (BAMCEF)**
- Backward and Minority classes Employear Fedration کی تشکیل۔

### بھارتیہ کسان یونین

- جنوری 1988 میں اتر پردیش کے میرٹھ میں BKU کے ممبر کسانوں نے دھرنا دیا۔ (مہیندر سنگھ ٹکیٹ کی رہنمائی میں)

### مانگیں

- بجلی کی شرح میں کمی بڑھوتری کی مخالفت
- گنے اور گیہوں کی سرکاری قیمتوں میں بڑھوتری کی مانگ۔
- زراعتی چیزوں کی بین الاقوامی تجارت پر لگائی گئی پابندیوں کو ہٹانا
- بجلی کی فراہمی کا مکمل یقین
- کسانوں کے لیے پینشن کا بندوبست
- کسانوں کے بقایا قرض معاف

### سرگرمیاں

- دھرنا، ریلی، مظاہرے، جیل بھرو وغیرہ کاروائیوں سے حکومت پر دباؤ بتایا۔

## خصوصیات

- BKU نے کسانوں کی تعداد کی بنیاد پر ذات کے تعلق کا استعمال کیا۔ اپنی تعداد کی بنیاد پر سیاست میں ایک دباؤ گروپ کی طرح کام کرتی رہی۔
- تحریک کی کامیابی کے پیچھے اس کے ممبروں کی سیاست مول بھاؤ کی صلاحیت تھی کیوں کہ وہ نقدی فعل اگاتے تھے۔
- اپنے علاقے کی انتخابی سیاست میں اس کے ممبروں کا رسوخ تھا۔ مہاراشٹر کاشت کاری سنگٹھن اور کرناٹک کا رعایت کاری سنگٹھن کسان تنظیموں کی زندہ مثال ہے۔

## معلومات کے حق کی تحریک

- اس تحریک کی شروعات 1990 میں مزدور کسان شکتی سنگٹھن (MKSS) نے کی۔ یہ راجستھان کی ایک بڑی عوامی تنظیم تھی جس نے مزدوروں کے حسابات اور قحط کے راحتی کاموں کے ریکارڈ اور تفصیلات کا مطالعہ کرنے کے لیے پہل کی کیونکہ انھیں دی گئی مزدوری میں ہیرا پھیری کی گئی تھی۔
- اس تحریک کے دباؤ میں راجستھان سرکار نے قانون بنایا کہ عوام کو پنچایت کے دستاویزوں کی نقل/فونو کا پیاں رکھنے کی اجازت ہے۔
- پنچایت کے لیے بجٹ حساب کتاب، خرچ، پالیسیوں اور ان سے فائدہ اٹھانے والوں کے بارے میں عوامی اعلان کرنا لازمی ہے۔
- 1996 میں MKSS نے دہلی میں اطلاع کے حق کو لے کر قومی سمیٹی کی تشکیل کی مانگ کی۔
- 2004 میں اطلاعات کے حق کو بل کی شکل میں ایوان میں رکھا گیا
- جون 2005 میں اس قانون کو صدر کی منظوری حاصل ہو گئی۔

## عوامی تحریکوں سے سبق

- ان تحریکوں کا مقصد جماعتی سیاست کی خامیوں کو دور کرنا تھا۔
- ان سماجی تحریکوں نے سماج کے ان نئے طبقات کو سماجی، معاشی مسائل کو ظاہر کیا جو اپنی مشکلات کو انتخابی سیاست کے ذریعے حل نہیں کر پارہے تھے۔
- عوام کے غصہ اور سماج کے گہرے تناؤ کو مناسب سمت دے کر جمہوریت کی حفاظت کی گئی۔

- عوام کی منظم شمولیت نے جمہوریت کی بنیاد پر رائے عامہ کو قائم کیا۔
- عوام کو بیدار کیا گیا اور جمہوری سیاست کو بہتر ڈھنگ سے سمجھنے میں مدد ملی۔

## نتائج

یہ تحریکیں جمہوریت کے لیے خطرہ نہیں ہوتیں بلکہ لوگوں میں جمہوریت کے تئیں یقین کو پیدا کرتی ہیں۔ ان کا مقصد مختلف سیاسی جماعتوں کی سیاست سے پیدا خامیوں کو دور کرنا ہوتا ہے۔ لہذا ملک میں اس طرح کی تحریکوں کو کسی مسئلہ کی شکل میں نہیں دیکھا جانا چاہیے۔

## ایک نمبر والے سوالات

- 1- مندرجہ ذیل دیئے گئے انتخابات میں سے صحیح جواب کا انتخاب کریں:-
  - 1- نکلو دی کی تحریک کس طرح کی ہے۔
  - A- کسان تحریک
  - B- مچھواروں کی تحریک
  - C- پارٹی تحریک
  - D- غیر پارٹی تحریک
- 2- زردا بچاؤ تحریک کا تعلق کس ریاست سے ہے۔
 

(i)	مدھیہ پردیش	(ii)	راجستھان	(iii)	مہاراشٹر	(iv)	گجرات
(A)	i, ii	(B)	ii, iii	(C)	i, ii, iii	(D)	i, ii, iii, iv
- 3- دلت پینتھر کی شروعات کس سال ہوئی؟
 

A-	1973	B-	1972	C-	1980	D-	1988
----	------	----	------	----	------	----	------
- 4- اطلاع پانے کا حق (RTI) کب پاس ہوا۔
 

A-	2001	B-	2002	C-	2004	D-	2005
----	------	----	------	----	------	----	------
- 5- مندرجہ ذیل تحریکوں کو ترتیب وار لکھیں۔
 

A-	بھارتیہ کسان تحریک	B-	چمپو تحریک
----	--------------------	----	------------

C- دلت پننتھر تحریک -D تاڑی مخالف تحریک

مندرجہ ذیل جملوں کے سامنے صحیح اور غلط کا نشان لگاؤ

- 6- عوامی تحریکیں جمہوریت کو مضبوط بنانے میں اہم رول نبھاتیں ہیں۔
- 7- نرمد اپچاؤ تحریک۔ ایک کسان تحریک ہے۔
- 8- چیکو تحریک آندھرا پردیش میں شروع ہوئی۔
- 9 دلتوں کے لیے بابا صاحب امبیدکر نے اہم رول نبھایا۔
- 10- چیکو آندولن کی شروعات کہاں ہوئی؟
- 11- تاڑی مخالف تحریک کا اہم نعرہ بتائیے۔
- 12- نام دیو ڈھسال..... کے مشہور شاعر ہیں؟
- 13- میگھاپاٹیکر کس عوامی تحریک سے جڑی ہوئی ہے؟
- 14- دلت پننتھرس کے زوال کے بعد پیدا خالی مقام کو کون سی تنظیم نے پر کیا؟
- 15- عوامی تحریکوں سے آپ کیا سمجھتے ہیں؟
- 16- حال ہی میں کس ریاست نے مکمل نشہ بندی کو لاگو کیا ہے؟
- 17- بھارتیہ کسان یونین کا اثر کن ریاستوں میں زیادہ تھا؟
- 18- اطلاعات کے حق کی قیادت کس تنظیم نے کی؟
- 19- آئین کی کس ترمیم کے ذریعے خواتین کو مقامی اداروں میں ریزرویشن دیا گیا ہے؟
- 20- مندرجہ ذیل کو صحیح کر کے دوبار لکھیں
- 21- ”اطلاعات کے حق“ سے متعلق بل ایوان میں 2002 میں رکھا گیا اور 2005 میں اس قانون کو صدر کی منظوری ملی“  
BAMCEF اور BKU کو مکمل کر کے لکھیں

دونمبر والے سوالات

- 1- بھارتیہ کسان یونین کی دو مانگیں بتائیے۔
  - 2- دلت پنٹھرس کی دوسر گر میاں بتائیے۔
  - 3- جماعتوں پر منحصر اور سیاسی جماعتوں سے آزاد تحریکوں میں فرق بتائیے۔
  - 4- اڑیسہ کے آدی ہاسی ضلعوں میں صنعتیں لگانے سے آدی واسیوں اور ماحولیاتی جھگڑوں کے کس طرح کے خوف تھے؟
  - 5- مندرجہ ذیل کو آپس میں ملائیے
- |                          |                       |
|--------------------------|-----------------------|
| (i) زردا بچاؤ تحریک      | ..... مہندر سنگھ ٹکیت |
| (ii) تاڑی مخالف تحریک    | ..... نام دیو ڈھسال   |
| (iii) بھارتیہ کسان یونین | ..... میگھا پائیکر    |
| (iv) دلت پنٹھرس          | ..... دُبائگٹھاروزاما |

### چار نمبر والے سوالات

- 1- چیکو تحریک کب شروع ہوئی؟ ماحولیاتی تحفظ میں اس کی کیا اہمیت ہے؟ (Imp)
- 2- آندھرا پردیش میں چلائے گئے تاڑی مخالف تحریک نے ملک کا دھیان کن سنگین مدعوں کی طرف کھینچا۔ (Imp)
- 3- دلت پنٹھرس کی اہم مانگیں کیا تھیں؟ (Imp)
- 4- بھارت سرکار کی کس کارروائی سے مچھواروں کی زندگی ایک بڑی مشکل سوار ہو گئی؟
- 5- بھارتیہ سماج کے کن طبقات کو ان تحریکوں نے اکٹھا کیا؟


### پانچ نمبر والے سوالات

- 1- عبارت کو پڑھیے اور درج ذیل سوالوں کے جواب دیجیے۔  
 ”..... تقریباً سبھی سماجی تحریکیں نئی پریشانیوں اور برائیوں کے علاج کے طور پر رونما ہوئیں۔ ماحولیاتی، پستہ حالی، عورتوں کے حقوق کی خلاف ورزی، قبائلی ثقافت کی تباہی و بربادی اور انسانی حقوق کی زک رسانی..... بذات خود ان میں سے کوئی بھی سماجی نظام کی شکل نہیں بدل سکتی۔ ان معنوں میں یہ ماضی کے انقلابی نظریات سے بالکل مختلف ہیں۔ لیکن ان کی کمزوری یہ ہے کہ یہ منتشر ہیں اور ٹکڑوں میں منقسم ہیں..... نئی سماجی تحریکوں کے زیر اثر جگہ کا بڑا حصہ..... مختلف قسم کی

خصوصیات..... میں مبتلا ہے جس نے انہیں اصلی پس ماندہ اور غریبوں کی ایک بامعنی اور حسب حال ٹھوس اور متحدہ تحریک بننے سے روکا ہے..... یہ تحریکیں حد درجہ بکھری ہوئی اور حساس اور وقتی نوعیت کی ہیں جو ایک جامع بنیادی سماجی تبدیلی کا خاکہ پیش کرنے سے قاصر ہیں۔ ان کا یہ وہ مخالف (مغرب، سرمایہ داری مخالف، ترقی مخالف وغیرہ) ہونا انہیں مظلوم اور حاشیائی لوگوں کے لیے اور زیادہ بامعنی خیر نہیں بننے دیتا۔“

رجنی کوٹھاری

- (a) نئی سماجی تحریکوں اور انقلابی نظریات کے درمیان کیا فرق ہیں؟ 2
- (b) مصنف کے خیال میں سماجی تحریکوں کی کیا حدود یا کمیاں ہیں؟ 1
- (c) اگر سماجی تحریکیں مخصوص مسائل کی طرف توجہ دیتی ہیں تو کیا آپ انہیں منتشر کہیں گے یا زیادہ مرکوز؟ مثالیں دے کر اپنے جواب کی وضاحت کیجئے۔ 2



2- دینے گئے ہندوستان کے نقشے میں A، B، C، D اور E دکھائے گئے ہیں نیچے دی گئی معلومات کی بنا کر انہیں پہچانیے اور ان کے صحیح نام استعمال کی گئی معلومات کے سیریل نمبر اور متعلق حروف کے ساتھ مندرجہ ذیل جدول میں لکھیں۔



ریاست کا نام	متعلق حروف	استعمال کی گئی جانکاری کا سیریل نمبر
		i
		ii
		iii
		iv
		v

- 1- وہ ریاست جہاں جنگلات کی کٹائی کو روکنے کے لیے تحریک چلائی گئی۔
- 2- وہ ریاست جہاں عورتوں نے شراب بندی کے لیے تحریک کی۔
- 3- وہ جگہ جہاں بھیم راؤ امبیڈکر نے دلتوں کے لیے تحریک چلائی۔
- 4- وہ ریاست جہاں کسان تحریک چلائی گئی۔
- 5- وہ ریاست جہاں میگھایا ٹیکو نے ماحولیات کے تحفظ کے لیے تحریک چلائی۔

### چہ نمبر والے سوالات

- 1- عوامی تحریکوں سے کیا سبق ملتا ہے؟ یا  
”عوامی تحریکوں نے جمہوریت کی راہ میں رکاوٹ نہیں بلکہ اس کو چوڑا کیا ہے“ اس بیان کی حمایت کرتے ہوئے عوامی تحریکوں پر روشنی ڈالیے۔
- 2- کثیر مقاصد ندی گھاٹی منصوبہ کے تین مثبت اور تین منفی اثرات بتائیے۔
- 3- بھارتیہ کسان یونین کے ذریعے چلائے جانے والے کسان تحریک کو سب سے زیادہ کامیاب عوامی تحریک بنانے والے کہہ نہیں چھ عوامل کا ذکر کریں۔
- 4- سردار سردر منسوبہ سے کیا مراد ہے اس منصوبے کی کیا افادیت ہے؟ اس کی مخالفت کیوں کی گئی۔

### ایک نمبر والے سوالات کے جوابات

- 1- اتر اکھنڈ
- 2- تاڑی کی فروخت بند کرو۔

- 3- مراٹھی
- 4- نرمدابچاؤ تحریک
- 5- BAMCEF
- 6- National Fishworkers Forum
- 7- 2005
- 8- سماج کے مختلف گروپ اپنی امیدوں کو پورا کرنے کے لیے جو تحریک چلاتے ہیں انہیں عوامی تحریک کہتے ہیں۔ عوامی تحریکیں لوگوں کی بے اطمینانی اور بے چینی کو ظاہر کرتی ہیں۔
- 9- بہار
- 10- مدھیہ پردیش
- 11- مغربی اتر پردیش اور ہریانہ
- 12- مزدور کسان شکتی سنگھٹن
- 13- 73 ویں ترمیم کے ذریعے اور 74 ویں ترمیم کے ذریعے
- 14- ”اطلاعات کے حق سے متعلق بل 2004 میں رکھا گیا اور 2005 میں اس بل کو صدر کی منظوری حاصل ہوئی“
- 15- Backward and Minorities Employees Fedration ■

■ Bharitya Kisan Union

### دونمبر والے سوالات کے جوابات

- 1- بجلی کی قیمتوں میں کیے گئے اضافہ کی مخالفت، کسانوں کے قرض کو معاف کرنے کی مانگ
- 2- ■ ان کو ادبی تصانیف کے ذریعے ذات پات کی بنیاد پر ہورہے ظلم کی مخالفت
- 3- ■ بے زمین غریب کسانوں، مزدوروں اور دلتوں کی تنظیم بنانا اور انہیں ایک اسٹیج فراہم کرنا
- 3- جماعتوں پر منحصر تحریکیں وہ ہوتی ہیں جو سیاسی جماعتوں کی حمایت سے شروع ہوتی ہیں۔ جو تحریکیں مقامی لوگوں یا مقامی

تنظیموں کے ذریعے شروع ہوتی ہیں انھیں آزاد تحریکیں کہتے ہیں۔

4- آدی باسیوں کو اپنے مقام اور بیروزگاری کے مسائل کا خوف تھا۔ ان لوگوں کو ماحولیاتی تحفظ فراہم نہ ہونے کے سبب آلودگی کا خوف بھی تھا۔

- 5- (i) نرمدا بچاؤ تحریک ..... میگھا پائیکر  
(ii) تاڑی مخالف تحریک ..... دُبائنگار روزاما  
(iii) بھارتیہ کسان یونین ..... مہندر سنگھ ٹکیت  
(iv) دلت پنتھرس ..... نام دیو دھسال

### چار نمبر والے سوالات کے جوابات

- 1- یاد رکھنے لائق نکات کا مطالعہ کریں
- 2- (i) جرائم کا بڑھنا، شراب کی فروخت کے سبب جرائم اور سیاست کا گہرا تعلق ہو گیا تھا۔  
(ii) گھریلو تشدد: شراب پینے کے بعد گھریلو تشدد، فسادات میں اضافہ ہو رہا تھا  
(iii) صحت: شراب پینے کے سبب لوگوں کی صحت بری طرح متاثر ہو رہی تھی۔  
(iv) خواتین کا استحصال: شراب کے سبب خواتین کا جسمانی اور ذہنی استحصال ہو رہا تھا۔
- 3- یاد رکھنے لائق نکات کا مطالعہ کریں
- 4- یاد رکھنے لائق نکات کا مطالعہ کریں
- 6- سماج کے محروم طبقات، دلت، آدی باسی، گاؤ کی خواتین، کسان اور مزدور

### پانچ نمبر والے سوالات کے جوابات

- 1- (i) یہ تصویر چیکو تحریک سے متعلق ہے۔  
(ii) خواتین حکومت کے ذریعے کھیل کے سامان بنانے والی فیکٹری کے کاروباری استعمال کے لیے دی جانے والی

زمین کی مخالفت کر رہی ہیں۔ پیڑوں کو کٹائی سے بچانے کے لیے خواتین پیڑوں کو اپنی ہاتھوں میں لے کر ان درختوں کو گھیر کر کھڑی ہیں تاکہ پیڑوں کو کاٹنا نہ جاسکے۔

(iii) رنگو کے پیڑوں کی کٹائی کا مطالبہ کیا جا رہا ہے۔

(i) -2 نئی سماجی تحریکیں، نئے مسائل جیسے ماحولیات کا خاتمہ، خواتین کی بدحالی، آدی باسی لوگوں کی ثقافت کو نقصان اور انسانی حقوق کی مخالفت سے متعلق ہیں جبکہ انقلابی تحریکیں یا نظریات سماج کے نظام میں بنیادی تبدیلیوں سے متعلق ہوتی ہیں۔

(ii) یہ منظم نہیں ہوتے ہیں اور نہ ہی غریبوں اور محروم لوگوں کے لیے کوشاں ہوتے ہیں کیونکہ ان کے پاس تبدیلی کے لیے فریم ورک نہیں ہوتا۔

(iii) خصوصی مدعوں کو اٹھانے کے سبب اپنے مدعے پر مرکوز ہونا زیادہ مناسب ہوگا۔ مثال کے طور پر زردا بچاؤ تحریک کا اثر اسی علاقے کے لوگوں سے متعلق ہے اس کا اثر کیرل یا کشمیر کے لوگوں پر نہیں پڑے گا۔ لہذا مشکلات کے حل تلاش کرنے کے لیے ان تحریکوں کا خصوصی مدعوں پر مرکوز ہونا لازمی ہے۔

-2

(i) B اتر اکنڈ

(ii) C آندھرا پردیش

(iii) A مہاراشٹر

(iv) E اتر پردیش

(v) D مدھیہ پردیش

### چھ نمبر والے سوالات کے جوابات

-1 یاد رکھنے لائق نکات کا مطالعہ کریں

-2 مثبت اثرات

(i) سینچائی کے لیے پانی کی فراہمی

(ii) باڑھ اور سوکھے کے مسائل سے چھٹکارا

(iii) علاقے کی ترقی

منفی اثرات

- (i) مقامی لوگوں کی رہائش / بسنے کا مسئلہ
- (ii) ماحولیات کو نقصان
- (iii) روزگار اور ثقافت پر اثر
- 3 یاد رکھنے لائق نکات اور NCERT کی کتاب دیکھیں۔
- 4 یاد رکھنے لائق نکات اور NCERT کی کتاب دیکھیں۔

# باب۔ آٹھ

## علاقائی آرزوئیں

### یاد رکھنے لائق نکات:

- ایک مخصوص علاقے کے لوگوں کے ذریعے اپنی مخصوص زبان۔ مذہب۔ ثقافت جغرافیائی کیفیت وغیرہ کی بنا پر کی جانے والی مخصوص مانگوں کو علاقائی آرزوؤں کی شکل میں سمجھا جاسکتا ہے۔
- یورپ کے ممالک میں ثقافت کے مختلف ہونے کو ملک و قوم کے لیے خطرہ مانا جاتا ہے۔ بھارت میں اس چنوتی سے نمٹنے کے لیے ملک کی اندرونی سرحدوں کو دوبارہ تشکیل دیا گیا ہے۔ اور تمام لوگوں کو اپنی ثقافت کو بنائے رکھنے کا حق حاصل ہے۔
- بھارت میں 1980 کی دہائی کو خود مختاریت کی دہائی کی شکل میں دیکھا جاسکتا ہے۔ کئی بار اپنے خود غرض مفادات، پیردنی حوصلہ افزائی یا پست پناہی کی وجہ سے خود مختاریت کا جذبہ جب علیحدگی پسندی کا راستہ اختیار کر لیتا ہے تو یہ قومی یکجہتی اور علاقائی سالمیت کے لیے ایک چنوتی بن جاتا ہے۔

### علاقائی سالمیت کے اہم اسباب

- مختلف مذاہب کے سبب
- مختلف ثقافتوں کے سبب
- جغرافیائی فرق
- سیاسی مفاد
- غیر متوازی ترقی
- علاقائی سیاسی جماعتیں

### جموں کشمیر

سماجی اور سیاسی اعتبار سے جموں و کشمیر کے تین علاقے ہیں۔ پہلا جموں، دوسرا کشمیر اور تیسرا لداخ۔ کشمیری علاقے کا دل وادی کشمیر ہے۔ کشمیر کا ایک حصہ آج بھی پاکستان کے قبضے میں ہے۔ پاکستان نے کشمیر کا یہ حصہ ناجائز طریقے سے چین کو منتقل کر دیا ہے۔

آزادی سے پہلے کشمیر میں باشاہت قائم تھی۔ یہاں کے راجہ ہری سنگھ نے اس کو الگ آزاد ریاست ہونے کا اعلان کیا۔ پاکستانی قبائلیوں کی گھس پیٹ کے سبب راجا نے بھارت سرکار سے فوجی مدد مانگی اور بدلے میں کشمیر کو بھارت میں شامل کرنے کے معاہدے پر دستخط کیے۔ بھارت نے آئین کی دفعہ 370 کے تحت جموں و کشمیر کو خصوصی ریاست کا درجہ دیا۔

● پاکستان کے دہشت گرد برتاؤ اور کشمیر کے انتہا پسندوں کے سبب یہ علاقہ کشیدگی اور تناؤ کا مرکز بنا ہوا ہے۔ یہاں کے انتہا پسندوں کے تین نظریات ہیں:

- کشمیر کو ایک الگ ملک بنا دیا جائے
- کشمیر کو پاکستان میں شامل کر دیا جائے
- کشمیر بھارت کا ہی حصہ رہے لیکن اسے زیادہ خود مختاری دی جائے

## ● پنجاب

■ 1920 کی دہائی میں قائم اکالی دل نے پنجابی زبان علاقے کی تشکیل کے لیے تحریک چلائی جس کے سبب پنجاب علاقے سے الگ ہو کر 1966 میں ہندی زبانی علاقے ہریانہ اور پہاڑی علاقے ہماچل پر دلش بنائے گئے۔

■ اکالی دل نے پنجاب کی زیادہ خود مختاری کی بات اٹھائی۔ 1970 کی دہائی میں پنجاب میں اکالیوں کے ایک طبقہ نے خود مختاری کی بات اٹھائی۔ 1973 میں آئین پر قرارداد نے ’سکھ قوم‘ کی امنگوں کا ذکر کیا اور سکھ قوم کے بول بالے کو اپنے حصول کا مقصد بتایا۔ کچھ انتہا پسندوں نے پنجاب کو بھارت سے الگ کر کے ’خالستان‘ بنانے کی مانگ کی۔

## ● آپریشن بلو ایشار

■ 1980 کے بعد اکالی دل پر انتہا پسند لوگوں کا غلبہ ہو گیا اور انھوں نے امرتسر کے سورن مندر (Golden Temple) کو اپنا مرکزی دفتر بنا لیا۔ حکومت نے جون 1984 میں انتہا پسندوں کو گولڈن ٹمپل سے نکالنے کے لیے فوجی کارروائی (آپریشن بلو ایشار) کی۔

■ اس فوجی کارروائی کو سکھوں نے اپنے مذہبی یقین پر حملہ بتایا جس کا بدلہ لینے کے لیے 31 اکتوبر 1984 کو اندرا گاندھی کے سکھ محافظوں نے ان کی رہائش گاہ پر فٹل کر دیا جس کے سبب ملک میں سکھوں کے خلاف تشدد بھڑک اٹھا۔

## ● پنجاب معاہدہ

جولائی 1985 میں راجیو گاندھی اور اکالی دل کے صدر ہرچرن سنگھ لوگوں کے درمیان ایک معاہدہ ہوا جسے پنجاب معاہدہ بھی کہا جاتا ہے۔ اس معاہدے کے سبب پنجاب میں امن کو قائم کیا گیا۔

## ● شمال مشرق کے علاقے

اس علاقے میں سات ریاستیں ہیں۔ یہاں بھارت کی چار فیصد آبادی رہتی ہے۔ اس علاقے کی سرحدیں چین، میانمار، بنگلہ دیش اور بھوٹان سے ملتی ہیں۔ یہ علاقہ جنوب مشرقی ایشیا کے لیے ہندوستان کے دروازے (Gateway) کا کام کرتا ہے۔

## ● مشکلات

اس علاقے کی علاحدگی، اس کی الجھی ہوئی سماجی خصوصیات اور ملک کے دوسرے علاقوں کے مقابلے میں اس کی پسماندگی نے مل کر شمال مشرق کی مختلف ریاستوں کے مطالبات کا ایک پیچیدہ مجموعہ پیش کیا ہے۔ شمال مشرق کی سیاست میں خود مختاری کی مانگ، علاحدگی پسند تحریکیں اور باہر کے لوگوں کی مخالفت اہم مدعے ہیں۔

## ● خود مختاری کے مطالبات

آزادی کے وقت مئی پورا اور تری پورہ کے علاوہ پورا علاقہ آسام کی ریاست تھا۔ اس میں مختلف زبانیں بولنے والے اور قبائلی فرقوں کے لوگ رہتے تھے۔ ان لوگوں نے اپنی قدیمی پہچان کو برقرار رکھنے کے لیے الگ الگ ریاستوں کی مانگ کی۔

## ● علاحدگی پسند تحریکیں

### میزورم

■ 1959 میں آسام کے میزو پھاڑیوں کے سنگین قحط کے دوران آسام حکومت کے مناسب انتظامات نہ کرنے کے سبب یہاں علاحدہ پسند تحریک شروع ہوئی۔

■ 1966 میں لال ڈینگا کی قیادت میں میزو نیشنل فرنٹ نے آزادی کے لیے مسلح تحریک شروع کر دی۔ 1986 میں راجیو گاندھی اور لال ڈینگا کے درمیان معاہدہ ہوا جس کے مطابق خصوصی اختیارات کے ساتھ میزورم کو ایک مکمل ریاست تسلیم کر لیا گیا۔

### ناگالینڈ

ناگالینڈ کاؤنسل نے انگامی زانو میزو کی قیادت میں آزادی کی مانگ کرتے ہوئے 1951 سے بھارت سے الگ ہونے کی مانگ کرتے ہوئے مسلح تحریک شروع کی۔ کچھ وقت کے بعد اس میں دو گروپ بن گئے۔ بھارت سرکار نے ناگالینڈ کاؤنسل (M) گروپ سے امن بحال کرنے کے لیے 2015 میں معاہدہ کیا لیکن یہاں مکمل طور سے امن قائم نہیں



ہوسکا ہے۔

## ● باہروالوں کے خلاف تحریکیں

- شمال مشرق سے آنے والے تارکین وطن کی بھاری تعداد نے ایک خاص قسم کا مسئلہ پیدا کر دیا جس نے مقامی آبادی کو ان باہروالوں یا نگیروں کے سامنے کھڑا کر دیا ہے۔
- 1979 سے آسام کی طلبا یونین (AASU) نے باہری لوگوں کی مخالفت میں تحریک شروع کی جس کے سبب AASU اور راجیو گاندھی کے درمیان امن معاہدہ ہوا۔ 2016 کے ریاستی انتخابات میں بنگلہ دیشی مسلمانوں کا غیر قانونی طور سے یہاں آکر بس جانا ایک مسئلہ کی شکل میں اہم موضوع رہا۔

## ● دراویڈن تحریک

اس تحریک کی قیادت تامل سماجی مصلح ای۔وی۔راما سوامی ”پیری یاز“ نے کی۔ اس تحریک نے جنوبی بھارت کی سیاسی، معاشی اور ثقافتی اقتدار، برہمن واد اور ہندی زبان کی مخالفت اور علاقائی پہچان بڑھانے پر زور دیا۔ اس تحریک کو جنوبی ریاستوں کی حمایت نہ ملنے کے سبب یہ صرف تامل ناڈو کے ساحل تک ہی سمٹ کر رہ گئی۔ اس تحریک کے سبب ایک نئی سیاسی جماعت دراوڈ کا زگھم کی شروعات ہوئی جو کچھ عرصے کے بعد دو حصوں میں بٹ گئی (DMK اور AIDMK)۔ یہ دونوں سیاسی جماعتیں تامل ناڈو کی سیاست پر اثر انداز ہوتی ہیں۔

## ● سکلم کا انضمام

آزادی کے وقت سکلم بھارت کے زیر انتظام ونگرانی میں تھا۔ آزادی کے بعد سرکار نے سکلم کے دفاعی اور خارجہ معاملات اپنے پاس رکھے اور راجا چوگیال کو داخلی انتظام دے دیا۔ چوگیال عوام کی جمہوری امنگوں اور آرزوؤں کا ساتھ نہ دے سکا۔ اپریل 1975 میں سکلم اسمبلی نے سکلم کو بھارت میں شامل کرنے کی قرارداد پاس کر دی جسے وہاں کی عوام نے تسلیم کر لیا۔ بھارت نے اس قرارداد کو منظور کر کے سکلم کو بھارت کی 22 ویں ریاست بنا لیا۔

## ● گوا کی آزادی

گوا، دیو اور دمن سولہویں صدی سے ہی پرتگال کے ماتحت تھے اور 1947 میں آزادی کے بعد بھی پرتگال کے ماتحت رہے۔ مہاراشٹر کے سماج وادی ستیہ گروہوں کی حمایت سے گوا کی آزادی کا آندولن چلایا گیا۔ دسمبر 1961 میں بھارت سرکار نے گوا میں فوج بھیج کر آزاد کروایا اس طرح گوا، دیو اور دمن بھارت کے مرکزی اختیار والا علاقہ بن گیا۔

جنوری 1967 میں بھارت کی مرکزی حکومت نے گوا میں رائے شماری کروائی تاکہ عوام خود فیصلہ کریں کہ وہ مہاراشٹر میں شامل ہونا چاہتے ہیں یا ایک الگ ریاست میں رہنا چاہتے ہیں۔ یہ بھارت میں سب سے پہلا ریفرنڈم تھا۔ اکثریت نے مہاراشٹر سے الگ رہنے کا فیصلہ کیا۔ گوا کی حیثیت مرکزی علاقے کی ہی رہی۔ آخر کار 1987 میں گوا کو ہندوستانی وفاق کا حصہ بن گیا۔

### ● آزادی کے بعد سے آج تک علاقائی آرزوں سے سبق

- (i) علاقائی آرزوئیں جمہوری سیاست کا اہم حصہ ہیں
- (ii) علاقائی آرزوں کو دبانے کے بجائے جمہوری بات چیت کے ذریعے حل کرنا چاہیے
- (iii) اقتدار کی ساجھے داری کی اہمیت کو سمجھنا
- (iv) علاقائی غیر توازن پر کنٹرول رکھنا

### ایک نمبر والے سوالات

مندرجہ ذیل جملوں کو صحیح کر کے لکھیں۔

- 1- دراوڑ تحریک آندھرا پردیش میں چلائی گئی۔
  - 2- ہندوستانی حکومت کو آسام مسئلے کو حل کرنے میں کامیابی نہیں ملی
  - 3- جموں و کشمیر ریاست کو دفعہ 373 کے تحت مخصوص ریاست کا درجہ دیا گیا۔
  - 4- 1975 میں ایک تجویز پاس کی گئی اور سکم ہندوستان کی 23 ویں ریاست بنی۔
  - 5- ہریانہ ریاست کو پنجاب سے 1960 میں الگ کر کے ایک نئی ریاست بنا لی گئی۔
- مندرجہ ذیل دئے گئے انتخابات میں سے صحیح جواب کا انتخاب کریں:-

- 6- علیحدگی پسند تحریک کن ریاستوں میں چلائی گئی۔
- A- میزورم۔ ناگالینڈ
- B- منی پور۔ تری پوری
- C- آسام۔ میزورم
- D- میزورم اور منی پور

- 7- MNF کا تعلق کس ریاست سے ہے۔
- A- ناگالینڈ B- میزورم  
C- منی پور D- میگھالیہ
- 8- 1948 کے بعد بھی گواکس کے ماتحت رہا۔
- A- ڈچ B- انگریز  
C- پرتگال D- سبھی کے
- 9- اکالی دل کس ریاست کی علاقائی پارٹی ہے۔
- A- ہریانہ B- ہماچل پردیش  
C- اتر پردیش D- پنجاب
- 10- آزادی کے وقت جموں و کشمیر کا حکمراں کون تھا۔
- A- ہری چند B- ہری سنگھ  
C- ہری رام D- ہری لال
- 11- علاقائی آرزوں کا سیاسی اظہار کس حکومتی نظام میں ہوتا ہے؟
- 12- میزوپیشٹل فرنٹ کے بانی کون تھے۔
- 13- پنجاب سے دہشت گردی کو ختم کرنے کے لئے حکومت نے کون سا فوجی آپریشن چلایا؟
- 14- بھارت میں خود مختاریت کی دہائی کون سی مانی جاتی ہے؟
- 15- ”پیری یار“ کے نام سے کس کو جانا جاتا ہے؟
- 16- سیاسی جماعت DMK کو کس نے قائم کیا تھا؟
- 17- جموں و کشمیر کے دو علاقوں کے نام لکھیں۔

18- گوا، ذمن اور دیو پر تگال سے کب آزاد ہوئے۔

19- در اور تحریک کا نعرہ کیا تھا؟

20- ہندوستانی آئین کی دفعہ 370 کس ریاست سے متعلق ہے۔

### دو نمبر والے سوالات

1- پنجاب معاہدہ کب اور کس کے درمیان ہوا؟

2- آپریشن بلو اسٹار کب اور کہاں چلایا گیا تھا؟

3- ان چار ملکوں کے نام لکھیں جن کی سرحدیں بھارت کے شمال مشرق علاقے سے ملتی ہیں؟

4- کشمیر اور لداخ میں کن مذہبوں کی اکثریت ہے۔

5- آسام کی علاقائی سیاسی جماعت ’آسام گن پریٹنڈ‘ کن جماعتوں کو ملا کر بنائی گئی ہے؟

6- پنجاب کی تقسیم کب ہوئی اور کون سی نئی ریاستیں بنائی گئیں؟

7- شمال مشرق کے علاقہ کو زیادہ نازک علاقہ ماننے کے لیے دو اسباب بتائیے۔

8- دی گئی ریاستوں کو ان کے سالوں کے مطابق ملائیے۔

(i) ہریانہ ..... 1986

(ii) میگھالیہ، تری پورہ، منی پور ..... 1966

(iii) ناگالینڈ ..... 1960

(iv) اروناچل پردیش، میزورم ..... 1972

9- آسوکیا تھا؟ اس کی خاص مائیلیں کیا تھیں۔

### چار نمبر والے سوالات

1- علاقائیت اور علیحدگی پسندی میں فرق بیان کیجیے۔

2- پنجاب معاہدے کی اہم باتوں کا ذکر کیجیے۔

3- پنجاب کے الگ صوبہ بن جانے کے بعد بھی اکالی دل زیادہ مقبول کیوں نہیں ہوا؟

- 4- بھارت میں علاقائی غیر توازن کو کس طرح سے قابو میں کیا جاسکتا ہے؟
- 5- آزادی کے بعد ملک میں پیدا ہوئے تناؤ اور کشیدگی کے کیا اسباب ہیں؟
- 6- ہر علاقائی تحریک علیحدگی کی پسند تحریک کی طرف مائل نہیں ہوتی مثالیں دیکرو واضح کریں۔
- 7- آئندہ پور صاحب قرارداد کیا تھا، اس کے متنازعہ ہونے کے کیا اسباب تھے۔

### پانچ نمبر والے سوالات

- 1- مندرجہ ذیل پیرا گراف کو غور سے پڑھیں اور سوالات کے جواب دیں:
- ”ہزاریکا کا ایک گیت..... اتحاد اور یکجہتی کے موضوع کو اجاگر کرتا ہے۔“ اتحاد پر مبنی ہندوستان کے شمال مشرق کی سات ریاستیں دراصل سات بہنیں ہیں جو ایک ہی ماں کی اولاد ہیں۔..... میگھالیہ اپنے راستے پر چلی..... اروناچل بھی الگ ہوگئی..... اور آسام کے دروازے پر میزورم کا ظہور ہوا۔ ایک دولہا کی طرح جو ایک اور بیٹی سے بیاہ کرنا چاہتا ہے،..... یہ ایک گیت اس عزم کے ساتھ ختم ہوتا ہے کہ آج کے آسام میں چھوٹی چھوٹی قومیں باقی رہ گئی ہیں ان سے اتحاد قائم رہے گا۔“ کرنی اور منسلک ہمارے بہت عزیز بھائی بہن ہیں..... سنجیب برواہ
- (a) شاعر کس اتحاد کی بات کر رہا ہے؟ 1
- (b) شمال مشرق کی ریاستوں کو پرانی ریاست آسام سے کاٹ کر کیوں الگ ریاستیں بنایا گیا؟ 2
- (c) شمال مشرق کی دور ریاستوں کے نام لکھیے۔ 2
- 2- نیچے دیے گئے پیرا گراف کا مطالعہ کر کے دیے گئے سوالات کے جواب دیں۔
- ”چھ سال کی مسلسل ناپائیداری کے بعد راجیو گاندھی کی قیادت والی حکومت نے آسو (AASU) کے لیڈروں کے ساتھ بات چیت شروع کی جس کا سبب ایک معاہدہ ہوا“
- (i) آسو (AASU) لفظ کو مکمل کر کے لکھیں یہ کس ریاست کی تنظیم ہے؟ 2
- (ii) راجیو گاندھی کی حکومت اور آسو کے لیڈروں کے درمیان معاہدہ کب ہوا؟ 1
- (iii) آسو کی دو اہم مانگوں کا ذکر کیجیے۔ 2

## چہ نمبر والے سوالات

- 1- ”علاقائی مانگوں کو ماننا اور زبان کی بنیاد پر ریاستوں کی تشکیل کرنا ایک جمہوری قدم مانا جاتا ہے“۔ اس بیان کو صحیح ثابت کرنے کے لیے کوئی تین دلائل دیں۔
- 2- آزادی کے بعد سے جموں و کشمیر کی سیاست مسائل سے الجھی ہوئی اور جدوجہد والی رہی ہے۔ کیوں؟ واضح کیجیے۔
- 3- کن اسباب کے سبب بھارت کی جمہوریت کی کامیابی کے لیے علاقائیت پر قابو پانا ضروری ہے؟
- 4- ”آسام کی تحریک ثقافتی فخر اور معاشی پچھڑے پن کی ملی جلی شکل کو ظاہر کرتا ہے“۔ اپنے خیالات کا اظہار کیجیے۔

## ایک نمبر والے سوالات کے جوابات

صحیح جملے

- 1- در اوڈھ تحریک تملنا ڈو میں چلائی گئی۔
- 2- ہندوستانی حکومت کو آسام مسئلے کو حل کرنے میں کامیابی ملی۔
- 3- جموں کشمیر ریاست کو 370 دفعہ کے تحت مخصوص ریاست کا درجہ دیا گیا۔
- 4- 1975 میں ایک تجویز پاس کی گئی اور سکھ ہندوستان کی 22 ویں ریاست بنا۔
- 5- ہریانہ ریاست کو پنجاب سے 1966 میں الگ کر کے ایک نئی ریاست بنائی گئی۔
- 6- A
- 7- B
- 8- C
- 8- D
- 10- B
- 11- جمہوری نظام حکومت
- 12- لال ڈینگا
- 13- آپریشن بلو اسٹار

- 14- 1980 کی دہائی
- 15- ای۔وی۔راموسوامی نائیکر
- 16- سی۔این۔اٹا دورائی
- 17- (i) جموں  
(ii) کشمیر  
(iii) لداخ
- 18- دسمبر 1961
- 19- شمال ہردن بڑھتا جائے۔ جنوب دن دن گھٹتا جائے۔
- 20- 1961 میں

### دونمبر والے سوالات کے جوابات

- 1- جولائی 1985ء، راجیو گاندھی اور کالی لیڈر ہرچرن سنگھ لوگووال
- 2- جون 1984 میں۔ پنجاب کے شہر امرتسر کے گولڈن ٹیمپل میں
- 3- چین، میانمار، بنگلہ دیش اور بھوٹان
- 4- کشمیر میں مسلمانوں (اسلام) اور لداخ میں بودھ مذہب کے لوگوں کی اکثریت پائی جاتی ہے۔
- 5- آسوار آسام سنگرام کولملا کر آسام گن پریشد بنائی گئی ہے۔
- 6- 1966 میں ہریانہ اور ہماچل پردیش
- 7- (i) پورے بھارت سے الگ تھلگ..... بین الاقوامی سرحدی لائن کا طویل ہونا  
(ii) پیچیدہ سماجی بناوٹ، معاشی کچھڑا پن وغیرہ
- 8- (i) ہریانہ ..... 1966  
(ii) میگھالیہ، نئی پور، تری پورہ ..... 1972

(iii) ناگالینڈ ..... 1960

(iv) اروناچل پردیش، میزورم ..... 1986

9- ایک طلبا کی تنظیم تھی (All Asam Students Union) اس کی خاص مانگ تھی کہ 1951 کے بعد جتنے بھی لوگ آسام میں آکر بسے انہیں آسام سے باہر بھیج دیا جائے۔

### چار نمبر والے سوالات کے جوابات

1- علاقائیت: علاقائی بنیاد پر سیاسی، معاشی اور ترقیاتی سے متعلق مانگیں اٹھانا

علیحدگی پسندی: کسی علاقے کا ملک سے الگ ہونا یا علیحدہ کرنے کی مانگ اٹھانا

(i) چندری گڑھ پنجاب کو دیا جائے گا۔ -2

(ii) پنجاب، ہریانہ سرحدی مسئلہ سلجھانے کے لیے کمیشن قائم ہوگا

(iii) پنجاب، ہریانہ، راجستھان کے درمیان راوی ندی، بیاس ندی کے پانی کا بٹوارہ کے لیے انصافی عدالت قائم ہوگی۔

(iv) پنجاب میں دہشت گردی سے متاثر خاندانوں کو معاوضہ دیا جائے گا۔

(i) پنجاب کے ہندوؤں میں اکالی دل کا اثر نہیں -3

(ii) مرکزی حکومت نے اکال دل حکومت کو برخاست کیا

(iii) سکھ قوم بھی مختلف طبقوں میں بٹی ہوئی تھی؟

(iv) دلت سکھوں پر کانگریس پارٹی کا اثر رہا تھا۔

(i) سبھی علاقوں کو متوازن ترقی دینا -4

(ii) لسانیت کے مسئلہ کا حل نکالا جائے

(iii) قومی یکجہتی کو اہمیت دینا

(iv) علاقائی مفاد کے بدلے قومی مفاد کو اہمیت دینا

(i) زبان کی بنیاد پر نئی ریاستوں کی تشکیل -5

(ii) غیر ہندی زبانی علاقوں میں ہندی زبان کی مخالفت



- (iii) جموں و کشمیر میں خود مختاری کی تحریک
- (iv) مختلف طبقات کی تحریکیں
- (v) علیحدگی پسند تحریکیں
- 6- یاد رکھنے لائق نکات دیکھیں اور NCERT کی کتاب
- 7- یاد رکھنے لائق نکات دیکھیں اور NCERT کی کتاب

### پانچ نمبر والے سوالات کے جوابات

- 1- (i) شمال مشرق کی سات ریاستوں کی یکجہتی
- (ii) علاقائی مانگوں کو پورا کرنے کے لیے
- (iii) شمال مشرق کی منظم اور متوازن ترقی کے لیے
- (iv) منی پور، میزورم، میگھالیہ، تری پورہ وغیرہ
- 2- (i) All Assam Student Union.... AASU ... آسام ریاست
- (ii) 1985 میں
- (iii) باہری لوگوں کی مخالفت، اپنی ثقافتی حفاظت اور غربی دور کرنا

### چھ نمبر والے سوالات کے جوابات

- 1- **حمایت**
- (i) 60 سالہ زبان کی بنیاد پر قائم ریاستوں نے جمہوری سیاست کی شکل کو مثبت اور رنگارنگ بنا دیا ہے
- (ii) زبان کی بنیاد پر ریاستوں کی سرحدوں کا تعین کرنے میں زبان ایک مساوی بنیاد بن گئی ہے۔
- (iii) اس سے دیش تقسیم ہونے کے بجائے یکجہتی میں بندھا ہے۔
- (iv) لوگوں کی علاقائی آرزوئیں پوری ہوئی ہیں اور جمہوریت کامیاب ہوئی ہے۔
- 2- (i) کشمیر میں تین سماجی اور معاشی علاقے
- (ii) پاکستانی افواج کے ذریعے قبائلیوں کی شکل میں حملہ

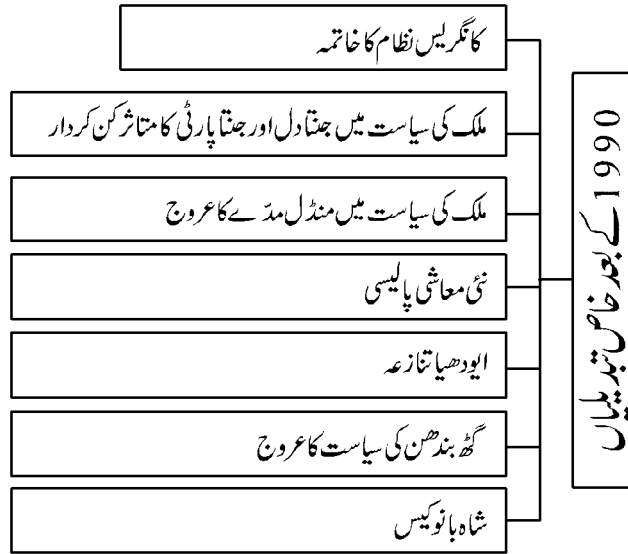
- (iii) کشمیر کو بھارت میں شامل کرنا
- (iv) آرٹیکل 370 کے ذریعے ریاست کو خصوصی درجہ حاصل
- (v) غلام کشمیر اور اکسائی چین کا معاملہ
- (vi) علیحدگی پسندوں کا نظریہ
- (vii) پاکستان کے ذریعے دہشت گردی کو بڑھاوا دینا
- (i) -3 ملک کی یکجہتی اور اتحاد میں رکاوٹ
- (ii) ملک کی متوازن ترقی میں رکاوٹ
- (iii) ملک کی معاشی ترقی میں رکاوٹ
- (iv) قومی مفاد کو نظر انداز کرنا
- (v) مرکزی اور ریاستی حکومتوں کے تعلقات میں کمی
- (vi) ریاستوں کے آپسی تعلقات کے دائرے
- (vii) پر تشدد تحریکوں کو بڑھاوا
- -4 ملک کی خاص زمین سے جغرافیائی علیحدگی اور ثقافتی پہچان کا احساس
- معاشی کچھڑاپن
- باہری لوگوں (بنگلہ دیش، بنگالی وغیرہ) کی بڑھتی ہوئی آبادی سے مقامی لوگوں میں مختلف آرزوئیں یا ڈر پیدا ہو گئے جیسے
- (a) ثقافت کو خطرہ
- (b) سیاسی اہمیت کا کم ہونا
- (c) بے روزگاری بڑھنا
- (d) تجارت اور کاروبار کے مواقع کم ہونا وغیرہ وغیرہ

## باب۔ نو

# ہندوستانی سیاست میں رونما حالیہ واقعات

### یاد رکھنے لائق نکات:

- 1989 کے عام چناؤ میں کسی بھی پارٹی کو اکثریت حاصل نہ ہونے کی حالت میں ہندوستانی سیاست میں گٹھ بندھن کے دور کی شروعات ہوئی۔ اس بدلاؤ نے قومی سیاست میں علاقائی پارٹیوں کے کردار میں اضافہ کیا۔ 1990 کے بعد ہندوستانی سیاست میں سماجی معاشی، سیاسی سطح پر کئی بڑے بدلاؤ دیکھے گئے جس نے ہندوستانی سیاست کی سمت کو بدلنے کا کام کیا ہے۔
- 1989 کے انتخابات میں کانگریس 197 سیٹیں حاصل کر کے سب سے بڑی پارٹی تو بن گئی لیکن لوک سبھا میں اکثریت نہ حاصل کرنے کے سبب راجیو گاندھی نے حکومت بنانے سے انکار کر دیا۔ اس طرح کانگریس کے اقتدار کا دور ختم ہو گیا۔



### ● گٹھ بندھن (ملی جلی حکومت) کا دور

- کانگریس کی ہار کے ساتھ ہندوستان کے پارٹی نظام میں سے اس کا دبدبہ ختم ہو گیا۔ اور کثیر پارٹی نظام کا دور شروع ہوا۔ اب مرکز میں گٹھ بندھن حکومت کی تشکیل میں علاقائی پارٹیوں کی اہمیت بڑھ گئی۔

- 1989 کے چناؤ کے بعد گھٹ بندھن کا دور شروع ہوا۔ ان چناؤ کے بعد جتنا دل اور کچھ علاقائی پارٹیوں کو ملا کر راشٹریہ مورچے نے BJP اور دائیں بازو کی حمایت سے گھٹ بندھن یا ملی کلی حکومت بنائی۔
- 1991 اور 1996 کے انتخابات میں BJP نے اپنی پوزیشن کو مستحکم کیا اور سب سے بڑی اکیلی پارٹی کی شکل میں ابھری
- 1998 سے 2004 تک BJP کی رہنمائی میں NDA (قومی جمہوری اتحاد) National Democratic Alliance کی حکومت رہی۔ اس دوران اٹل بہاری باجپئی وزیر اعظم رہے۔ 2004 سے 2009 اور 2009 سے 2014 تک کانگریس کی رہنمائی میں UPA (United Progressive Alliance) کی حکومت نے لگاتار دو مدت پوری کیں۔ اس دوران ڈاکٹر منموہن سنگھ وزیر اعظم رہے۔ 2004 میں نریندر مودی کی رہنمائی میں BJP نے تاریخ بناتے ہوئے 30 سال بعد مکمل اکثریت حاصل کی۔ لیکن چناؤ سے پہلے گھٹ بندھن کے وعدے کو پورا کرتے ہوئے NDA (قومی جمہوری اتحاد) کی حکومت بنائی۔



● منڈل مُدّا:-

1978 میں جتنا پارٹی حکومت نے دیگر پسماندہ طبقات کے لئے ایک کمیشن کی تشکیل کی۔ اس کمیشن کی صدارت بندی شوری پرسا منڈل نے کی۔ اس لئے اسے منڈل کمیشن کے نام سے جانا جاتا ہے۔

● منڈل کمیشن کی اہم سفارشات:-

(i) دیگر پسماندہ طبقات (OBC) کو سرکاری نوکریوں میں 27 فیصد ریزرویشن

(ii) زمینی سدھاروں کو پوری طرح سے لاگو کرنا

1990 میں سابق وزیر اعظم جناب وی۔ پی سنگھ کی حکومت نے منڈل کمیشن کی سفارشات کو لاگو کرنے کا اعلان کیا۔ اس کے خلاف ملک کے مختلف حصوں میں منڈل مخالف تشددی مظاہرے ہوئے۔

## ● منڈل کمیشن کی رپورٹ کو لاگو کرنا اور اس کے نتائج

منڈل کمیشن کی تشکیل بی۔ پی۔ منڈل کی صدارت میں 1979 میں کی گئی۔ اس کمیشن کا مقصد بھارت کے سماج کے مختلف طبقات کے درمیان تعلیمی و سماجی کچھڑے پن کی حقیقت کا پتہ لگانا تھا۔ منڈل کمیشن نے اپنی سفارشات 1980 میں پیش کیں۔

■ دیگر پسماندہ طبقات (OBC) کو مرکزی حکومت کی نوکریوں میں 27 فی صد ریزرویشن

■ تعلیمی اداروں میں ریزرویشن

■ کچھڑے ہوئے طبقات کی حالت کو سدھارنے کے لیے زمینی سدھار

## ● لاگو کرنے کے نتائج

ریزرویشن کی مخالفت میں ہندوستان کے مختلف شہروں میں پرتشدد مظاہرے ہوئے۔ اس میں طلباء کے ذریعے ہڑتال، دھرنا، جلوس اور سرکاری املاک کو نقصان پہنچانے کے واقعات سامنے آئے۔ اس مخالفت کا دوسرا سب سے اہم پہلو طلباء کے ذریعے خود سوزی اور خودکشی جیسے واقعات تھے۔ دہلی یونیورسٹی کے طلباء راجیو گوسامی کے ذریعے سب سے پہلے خود کو جلانے کی کوشش کی گئی۔ مخالفین کا کہنا تھا کہ ذات پات کی بنیاد پر یہ ریزرویشن مساوات کے حق کے خلاف ہے۔ تمام مخالفتوں کے باوجود 1993 میں اس وقت کے وزیر اعظم وی۔ پی۔ سنگھ نے ان سفارشات کو لاگو کر دیا۔

## ● نئی معاشی پالیسی

1991 میں پی۔ وی۔ نرسہاراؤ کی قیادت والی حکومت (جس میں ڈاکٹر من موہن سنگھ، وزیر مالیات تھے) نے ملک میں نئی معاشی پالیسی نافذ کی جسے بعد کی حکومتوں نے بھی جاری رکھا۔ اس پالیسی میں معیشت کی نرم کاری اور نجی کاری پر زور دیا گیا۔

## ● ایودھیا تنازعہ:-

● 6 دسمبر 1992 کو ایودھیا میں واقع بابری مسجد کو شہید کر دیا گیا۔ اس کی وجہ سے ملک کے کئی حصوں میں فرقہ وارانہ فسادات پھوٹ پڑے۔ ہندوؤں کا ماننا تھا کہ بابری مسجد کی تشکیل 1528 میں رام جنم بھومی مندر کو گرا کر ہوئی تھی لیکن خود کو سیکولر کہنے والے لوگوں کا کہنا تھا کہ ایک عبادت گاہ کو توڑ کر اس کی جگہ پر دوسری عبادت گاہ بنانا مناسب نہیں ہے۔ بی جے پی نے ایودھیا میں رام جنم بھومی پر رام مندر بنانے کا اعلان کر کے اس مددے کو ہندوؤں کے جذبات سے جوڑ کر اپنی مقبولیت کافی بڑھالی۔ اور عوام کی حمایت حاصل کرنے کی غرض سے سومناتھ (گجرات) سے لے کر ایودھیا (اتر پردیش) تک ایک زبردست ریلی نکالی جسے تھ یاترا کا نام دیا گیا۔

## ● گودھرا حادثہ

- 26 جنوری 2002 کو گجرات کے گودھرا اسٹیشن پر سامبرمتی ایکسپریس میں کارسیوں کی بوگی میں آگ لگ گئی یہ شک کر کے کہ آگ مسلمانوں نے لگائی ہوگی اگلے دن گجرات میں بڑے پیمانے پر مسلمانوں کے خلاف تشدد ہوئے یہ ایک مہینے تک چلا اور 1100 لوگ مارے گئے۔

## ● شاہ بانو کیس

- شاہ بانو ایک مسلمان عورت تھیں جنہیں طلاق کے بعد شوہر نے گزارہ بھتہ دینے سے منع کر دیا تھا سپریم کورٹ نے دفعہ 44 Uniform Civil Code کے تحت شاہ بانو کو شوہر سے گزارہ بھتہ دینے کا حکم دیا۔

## ● اتفاق رائے کا ظہور

- گذشتہ بیس سالوں میں سخت مقابلے اور بہت سے تنازعات کے باوجود زیادہ تر سیاسی جماعتوں کے درمیان بہت سے تنازعات اور کشاکش کے باوجود ایک اتفاق رائے قائم ہوتی نظر آتی ہے۔ یہ اتفاق رائے مندرجہ ذیل اجزا پر مشتمل ہے:

■ پہلا نئی معاشی اور اقتصادی پالیسیوں کے بارے میں ہم آہنگی اور اتفاق

■ دوسرا پسماندہ ذاتوں کے سیاسی اور دعوے کو تسلیم کرنا

■ تیسری ملک کی حکومت چلانے میں ریاستی سطح کی پارٹیوں کے کردار کو تسلیم کیا جانا چاہیے

■ چوتھا عنصر نظریاتی موقف کے بجائے عملی باتوں پر زور اور نظریاتی ہم آہنگی کے بغیر سیاسی اتحاد ہے

- 16/ مئی 2014 کو لوک سبھا انتخابات کے نتائج نے سب کو حیرت میں ڈال دیا ہے۔ پچھلے بیس سالوں سے گھٹ بندھن کی حکومت کا خاتمہ ہو گیا۔ بھارتیہ جنتا پارٹی نے زبردست کامیابی حاصل کر کے مرکز میں اپنی حکومت قائم کر لی ہے۔

## ایک نمبر والے سوالات

خالی جگہ بھریں۔

1- Uniform Civil Code کا تعلق دفعہ..... سے ہے۔

2- منڈل کمیشن نے OBC کو..... ریزرویشن کی سفارش کی۔

3- 2009 کے لوک سبھا چناؤ کے نتیجے میں..... پارٹی نے مرکز میں حکومت بنائی۔

- 4- مرکز میں پہلی گٹھ بندھن حکومت..... پارٹی نے 1989 میں بنائی۔  
مندرجہ ذیل سوالات میں دیئے گئے انتخابات میں سے صحیح جواب کا انتخاب کریں:-
- 5- مندرجہ ذیل کو تاریخی اعتبار سے ترتیب وار لکھیں۔
- A- ہندوستان میں معاشی سدھاروں کی شروعات  
B- گودھرا حادثہ  
C- آیودھی تنازعہ  
D- منڈل کمیشن کی رپورٹ لاگو کرنا
- 6- 1990 کے بعد ہندوستانی سیاست میں ہونے والے بدلاؤ کے تعلق میں کون سا بدلاؤ غلط ہے۔
- A- کانگریس نظام کا خاتمہ  
B- علاقائی پارٹیوں کا بڑھتا کر دار  
C- ملک کی سیاست میں خواتین مدے کو اولیت  
D- معاشی سدھاروں کی شروعات
- 7- 1989 میں مرکز میں گٹھ بندھن حکومت کے اثر کے لیے ذمہ دار عوامل تھے۔
- (i) کانگریس کی مرکز کی مضبوط حیثیت ہونا  
(ii) کسی بھی پارٹی کو اکثریت نہ ملنا  
(iii) کانگریس پارٹی میں کرشمائی لیڈروں کی کمی ہونا  
(iv) علاقائی پارٹیوں کا بڑھتا اکثر
- (A) i, ii, iii, iv (B) i, iv (C) ii, iii, iv (D) i, iii
- مندرجہ ذیل جملوں کے سامنے صحیح یا غلط کا نشان لگائیے۔
- 8- شاہ بانو ایک عیسائی عورت تھیں۔
- 9- گودھرا گجرات کے گودھرا اسٹیشن پر ساہمہرمتی ایکسپریس ٹرین میں 2002 میں ہوا تھا۔
- 10- کانگریس کو 1984 کے چناؤ میں 415 سیٹیں ملیں۔
- 11- منڈل کمیشن 1980 میں بنا۔
- 12- نئی معاشی پالیسی کب لاگو کی گئی؟

- 13- بہوجن سماج پارٹی کو قائم کرنے میں کس نے اہم روال ادا کیا؟
- 14- بھارت کی سیاست میں مرکزی حکومت گٹھ بندھن سرکاروں کا دور کب شروع ہوا؟
- 15- کانگریس نے گٹھ بندھن سرکار کی حقیقت کو سمجھ کر مرکزی سطح پر گٹھ بندھن حکومت کب بنائی؟
- 16- پچھڑا طبقہ کسے کہا جاتا ہے؟
- 17- Uniform Civil Code سے کیا مراد ہے؟

### دو نمبر والے سوالات

- 1- گٹھ بندھن سرکار سے کیا مراد ہے؟
- 2- منڈل کمیشن کی دو اہم سفارشات بتائیں۔
- 3- گٹھ بندھن حکومتوں کا دور کس وجہ سے شروع ہوا؟
- 4- شاہ بانو معاملہ کیا تھا؟
- 5- بھارتیہ جنتا پارٹی کو 1986 میں کن دو اہم واقعات کے سبب ابھرنے کا موقع ملا۔
- 6- BAMCEF کو تفصیل سے لکھیں۔ یہ کب قائم ہوئی؟
- 7- گجرات میں فرقہ وارانہ فسادات کس حادثہ کے سبب شروع ہوئے؟
- 8- تین طلاق پر حال میں مودی حکومت کے ذریعے لایا گیا بل Uniform Civil Code کی طرف ایک قدم ہے واضح کریں۔

### چار نمبر والے سوالات

- 1- منڈل مدعے پر نوٹ لکھیں۔ (Imp)
- 2- دسمبر 1992 میں ایودھیا واقعہ کے کیا نتائج نکلے؟
- 3- ملی جلی حکومت (گٹھ بندھن) کے دو مثبت اور دو منفی پہلو بتائیے
- 4- BJP کی کامیابی پر نوٹ لکھیں۔


### پانچ نمبر والے سوالات


- 1- مندرجہ ذیل پیرا گراف کو غور سے پڑھیں اور سوالات کے جواب دیں۔



”1989 کے انتخابات سے بھارت میں گٹھ بندھن کی سیاست کے ایک لمبے دور کی شروعات ہوئی۔ اس کے بعد سے مرکز میں 11 حکومتیں بنیں۔ یہ سبھی گٹھ بندھن کی حکومتیں تھیں یا دوسری جماعتوں کی حمایت پر لگی ہوئی غیر اکثریتی حکومتیں تھیں جو ان حکومتوں میں شامل نہیں ہوئیں۔ اس نئے دور میں کوئی سرکار علاقائی پارٹیوں کی ساجھے داری یا ان کی حمایت سے ہی بنائی جاسکتی تھی۔“

- 1 (i) گٹھ بندھن سیاست کا دور مرکز میں کب شروع ہوا؟
  - 2 (ii) 1989 کے بعد بنی کوئی دو گٹھ بندھن حکومتوں کے نام لکھیے۔
  - 2 (iii) غیر واضح اکثریت سے کیا مراد ہے؟
- 2
- 2 (i) مندرجہ ذیل کارٹون کو غور سے دیکھیے اور متعلق سوال کے جواب دیجیے۔
  - 2 (ii) کیا یہ کارٹون کٹھ پتلی حکومت کی جانب اشارہ کرتا ہے؟ اور کیوں؟
  - 2 (iii) ”حکومت کی باہر سے حمایت کرنا، ان الفاظ سے کیا مراد ہے؟
  - 1 (iii) یہ کارٹون کس طرح کی حکومت کی مثال ہے؟





3- دیئے گئے ہندوستان کے نقشے میں A, B, C, D, E کو دکھایا گیا ہے۔ نیچے دی گئی معلومات کی بنیاد پر انہیں پہچانیے اور ان کے صحیح نام استعمال کی گئی معلومات کے سیریل نمبر اور متعلق حروف کے ساتھ مندرجہ ذیل جدول کی شکل میں اپنی جوابی کاپی میں لکھیں۔

ریاست کا نام	متعلق حروف	استعمال کی گئی معلومات کا سیریل نمبر
		i
		ii
		iii
		iv
		v

- 1- وہ ریاست جہاں سے سابق وزیراعظم وی۔ پی۔ سنگھ منتخب ہوئے تھے۔
- 2- جون 1996 سے اپریل 1997 تک رہے۔ سابق وزیراعظم کی ریاست۔
- 3- وہ ریاست جس کا تعلق منڈل کمیشن 79-1977 کے صدر سے تھا۔
- 4- وہ ریاست جہاں 1957 سے 1967 تک نیشنل کانفرنس کی حکومت بنی رہی۔
- 5- وہ ریاست جہاں سابق وزیراعظم راجیو گاندھی دورے پر تھے اور ان کو قتل کر دیا گیا۔

### چھ نمبر والے سوالات

- 1- 1989 کے بعد بھارت کی سیاست میں آنے والی تبدیلیوں کا ذکر کیجیے۔ (Imp)
- 2- کن مدعوں پر بھارت کی سیاسی جماعتوں میں عام طور پر ایک رائے ہے؟
- 3- ”2014 کے انتخابات میں بھارتیہ جنتا پارٹی کی جیت سے گٹھ بندھن حکومت کا خاتمہ ہو گیا ہے“ اس بیان کی حمایت میں اور مخالفت میں دلائل دیجیے۔
- 4- گٹھ بندھن حکومت کے سبب مرکز۔ ریاستی حکومت کے تعلقات میں کیا تبدیلیاں آئی ہیں؟ کوئی تین تبدیلیاں بیان کیجیے۔
- 5- یو۔ پی۔ اے۔ حکومت کے کاموں کو بیان کیجیے۔

### ایک نمبر والے سوالات کے جوابات

- 1- 44
- 2- 27%
- 3- UPA
- 4- راشٹریہ مورچہ
- 5- D, A, C, B
- 6- C

- 7 C
- 8 غلط
- 9 صحیح
- 10 صحیح
- 11 غلط
- 12 1991
- 13 کانٹی رام
- 14 1989 کے بعد سے لوک سبھا کے انتخابات میں بھی کسی سیاسی جماعت کو 2014 تک مکمل اکثریت حاصل نہ ہوئی۔ مرکز میں 1989 سے گھٹ بندھن حکومتوں کا دور شروع ہوا۔
- 15 2004
- 16 تعلیمی اور سماجی طور پر پچھڑا ہوا طبقہ
- 17 سبھی شہریوں کے لیے ملک میں یکساں قانون کے طریقے کو Uniform Civil Code کہا جاتا ہے۔

### دونمبر والے سوالات کے جوابات

- 1 ایک سے زیادہ سیاسی جماعتوں کے ذریعے مل کر حکومت بنانا
- 2 دیگر پسماندہ طبقات کو سرکاری نوکریوں میں 27 فی صد ریزرویشن
- زمینی اصلاحات سے متعلق قانون کو عملی جامع پہنانا
- 3 قومی سیاسی جماعتوں کا کمزور ہونا اور علاقائی جماعتوں کا زیادہ اثر انداز ہونا
- 4 شاہ بانو ایک مسلم عورت تھیں جنہوں نے اپنے شوہر کے طلاق دینے پر عدالت میں اپنے گزارہ بھتہ حاصل کرنے کے لیے اپیل کی اور سپریم کورٹ نے ان کے حق میں فیصلہ دیا۔ حکومت نے ایک قانون کے ذریعے اس فیصلہ کو مسترد کر دیا۔
- 5 (i) شاہ بانو کیس

- (ii) عدالت کے ذریعے ایودھیا میں تنازعہ مقام کا تالا کھولا جانا
- 6- Backward and Minorities Classes Employee's Federation ... 1978 میں
- 7- گودھراٹرین حادثہ
- 8- ہندوستان کے آئین میں سب شہریوں کو یکساں حقوق دیئے گئے ہیں تین طلاق کا خاتمہ مسلم عورتوں کو برابری دلانے کی سمت میں اٹھایا گیا ایک قدم ہے۔

### چار نمبر والے سوالات کے جوابات

- 1- یاد رکھنے لائق نکات کا مطالعہ کریں
- 2- (i) اتر پردیش کی بی۔جے۔پی۔ سرکار برخواست
- (ii) اتر پردیش میں صدر راج نافذ
- (iii) ملک میں فرقہ وارانہ کشیدگی
- (iv) مرکزی حکومت کے ذریعے تحقیقاتی کمیشن کا تقرر
- (v) زیادہ تر سیاسی جماعتوں کے ذریعے اس واقعہ کی تنقید کی گئی

### 3- مثبت پہلو:

- (i) علاقائی توازن قائم کرنے میں معاون
- (ii) مختلف سیاسی جماعتوں کو نمائندگی

### منفی پہلو:

- (i) سیاسی ناپائیداری
- (ii) پالیسیوں کو مضبوطی سے لاگو کرنے میں کمی

4- ■ اطلاعات کا حق

■ قومی غذائی تحفظ

■ فصل بیمہ یوجنا

■ تعلیم کا حق

5- 1980 میں تشکیل

1980 اور 1984 کے چناؤ میں خاص کامیابی نہیں۔

1986 کے بعد ہندو قومیت کے اجزا پر زور

رام جنم بھومی مدعا

1996 میں لوک سبھا میں سب سے بڑی پارٹی بنی

1998 سے 2004 تک BJP کی قیادت والے گٹھ بندھن کی حکومت

2014 سے BJP کی قیادت والے گٹھ بندھن کی حکومت

شمالی مشرق میں بھی 2016 میں پہلی بار حکومت کی تشکیل وغیرہ

### پانچ نمبر والے سوالات کے جوابات

1- (i) 1989 میں

(ii) راسٹر یہ مورچہ سرکار ..... 1989

(iii) یونائیٹڈ مورچہ سرکار ..... 1996

(iii) ایسی سرکار جس کے پاس واضح اکثریت نہ ہو

2- (i) جی ہاں، کیونکہ وی۔ پی۔ سنگھ کی حکومت کو بی۔ جے۔ پی نے باہر سے حمایت دی تھی۔

(ii) حکومت کی باہر سے حمایت کرنا یعنی حکومت میں شامل نہ ہونا بلکہ واضح اکثریت کی کمی کے سبب ان کو باہر سے حمایت دے کر حکومت بنانے میں مدد کرنا

(iii) یہ کارٹون گٹھ بندھن حکومت کی مثال ہے۔

3- (i) — B — اتر پردیش

کرناٹک	—	C	—	(ii)
بہار	—	D	—	(iii)
جموں و کشمیر	—	A	—	(iv)
تملناڈو	—	E	—	(v)

### چھ نمبر والے سوالات کے جوابات

1- یاد رکھنے لائق نکات کا مطالعہ کریں

- 2- (i) نئی معاشی پالیسی پر رضامندی
- (ii) کچھڑے طبقات کے سیاسی اور سماجی دعوں کو منظوری
- (iii) علاقائی جماعتوں کا رول اور ان کی حکومت بنانے میں حصہ داری
- (iv) سیاسی جماعتوں کے نظریات کی جگہ کام کرنے کے عمل پر زور

3- حمایت

- 1984 کے بعد پہلی بار مرکز میں کسی جماعت کو اکثریت حاصل ہوئی
- زیادہ تر علاقائی جماعتوں کی طاقت میں کمی
- سیاسی جماعتوں میں خاص طور سے کانگریس اور یو۔ پی۔ اے۔ کا صفایا

مخالفت

- واضح اکثریت حاصل کر لینے کے بعد بھی بھارتیہ جنتا پارٹی کا NDA کو ساتھ لے کر چلنا
  - تین علاقائی جماعتوں تریمول کانگریس (مغربی بنگال) بیجو جنتا دل (اڑیسہ) اور AIADMK (تامل ناڈو) میں اپنا بدبہ قائم رکھنا
  - راجیہ سبھا میں بغیر گٹھ بندھن ناکام ثابت ہوں گے کیونکہ وہاں گٹھ بندھن نہیں ہے
- 4- (i) دفعہ 356 کا غلط استعمال کم ہو گیا

- (ii) ریاستوں کی طاقت میں اضافہ
- (iii) ریاستوں میں مرکزی مداخلت کم ہوئی
- (iv) زیادہ تر ریاستوں میں قومی سیاسی جماعتوں کا کمزور ہونا
- (i) -5 RTI اور RTE لاگو کر کے جمہوریت کو مضبوطی دینا
- (ii) غذائی سلامتی بل کے ذریعے غریبی کی سطح سے نیچے کی زندگی گزارنے والوں کو کھانے کا حق دینا
- (iii) منریگا کے ذریعے 100 دنوں تک روزگار مہیا کرانا روزگار نہ ہونے کی صورت میں بھتہ کی گارنٹی جس سے گاؤں سے شہر کی جانب ہجرت کرنے میں روک لگانے میں کافی مدد ملی ہے۔
- (iv) اعلیٰ تعلیمی اداروں میں OBC کو 27 فی صد ریزرویشن دے کر ریزرویشن کی سیاست کو بڑھاوا۔



## SAMPLE PAPER-1

عام ہدایات :-

- 1- سوالنامہ A-B-C-D اور E حصوں میں تقسیم ہے۔
- 2- سبھی سوالات ضروری ہیں
- 3- سوال نمبر 1 سے 20 تک سبھی سوال ایک نمبر کے ہیں۔ ان سوالات کے جوابات دی گئیں ہدایات کے ساتھ دیں۔
- 4- سوال نمبر 21 سے 23 تک سبھی سوال 2 نمبر کے ہیں۔ ان سوالات کے جواب 40 الفاظ سے زیادہ نہیں ہونے چاہئیں۔
- 5- سوال نمبر 24-27 تک سبھی سوالات 4 نمبر کے ہیں ان سوالوں کے جواب 100 الفاظ سے زیادہ نہیں ہونے چاہئیں۔
- 6- سوال نمبر 28-30 تک سبھی سوال 5 نمبر کے ہیں۔ ان سوالوں کے جواب 150 الفاظ سے زیادہ نہیں ہونے چاہئیں۔
- 5- سوال نمبر 31 نقشہ پر مبنی ہے۔ اور 5 نمبر کا ہے۔ اس کا جواب اپنی جوابی کاپی میں لکھیں۔
- 5- سوال نمبر 32-34 تک سبھی سوال 6 نمبر کے ہیں۔ ان سوالوں کے جواب 150 الفاظ سے زیادہ نہیں ہونے چاہئیں۔

### حصہ -A

ایک نمبر کے سوالات :-

مندرجہ ذیل سوالات کے لیے دیئے گئے مختلف انتخابات میں سے صحیح جواب کا انتخاب کریں :-

- 1- ہندوستان میں الیکشن کمیشن کی تشکیل ہوئی  
(A) جنوری 1948 (B) جنوری 1949  
(C) جنوری 1950 (D) جنوری 1951
- 2- سبز انقلاب کا خاص مقصد تھا۔  
(A) غذائی پیداوار کو بڑھانا (B) روزگار میں اضافہ کرنا  
(C) کسانوں کی حالت کو سدھارنا (D) وپر دیئے گئے ہیں سبھی
- 3- مندرجہ ذیل میں سے کون سا ملک سرمایہ دارانہ گٹ سے متعلق ہے۔  
(A) فرانس (B) ہنگری  
(C) مغربی جرمنی (D) مشرقی جرمنی

خالی جگہیں بھریں :-

- 4- ..... کو سرحدی گاندھی کے نام سے بھی جانا جاتا ہے۔ انہوں نے ہندوستان کو دو قوموں میں تقسیم..... کی۔

- 5- ہندوستان نے..... میں پہلا نیوکلیائی تجربہ کیا۔
- 6- نہرو جی کی وفات..... میں ہوئی۔
- مندرجہ ذیل کو صحیح کر کے دوبارہ لکھیں۔
- 7- نرمدا بچاؤ تحریک ایک ذات پر مبنی تحریک ہے۔
- 8 یکساں سول کوڈ کا تعلق دفعہ 46 سے ہے۔
- 9- پنجاب سمجھوتہ اندرا گاندھی اور لونگو وال کے بیچ ہوا۔
- مندرجہ ذیل کے سامنے صحیح اور غلط کا نشان لگائیں۔
- 10 مکمل انقلاب کی رہنمائی جے پی نے کی۔
- 11 1947 کے ودھان سبھا چناؤ میں کانگریس پارٹی کی آٹھ ریاستوں میں بار ہوئی۔
- 12 یوروپین یونین کے 11 ستارے یونین کی ایکٹائیٹی کی علامت ہے۔
- مندرجہ ذیل سوال میں دو بیان ہیں۔ ایک کو بیان A اور دوسرے کو وجہ B کہا گیا ہے۔
- آپ کو دونوں بیانات کا تجزیہ کرنا ہے اور مندرجہ ذیل کی بنا پر فیصلہ کر کے اپنے جواب پر نشان لگانا ہے۔
- A اور R دونوں صحیح ہیں اور A, R کی صحیح وضاحت نہیں ہے۔
- B اور R دونوں صحیح ہیں لیکن A, R کی صحیح وضاحت نہیں ہے۔
- C صحیح ہے لیکن R غلط ہے۔
- D غلط ہے لیکن R صحیح ہے۔
- 13- بیان A: انجمن اقوام متحدہ کی تشکیل 24 اکتوبر 1945 کو ہوئی تھی۔
- وجہ R: اس کا خاص مقصد جنگ کو روکنا اور امن کو بنائے رکھنا تھا۔
- 14- بیان A: سلامتی کے معنی ہیں خطرے سے آزادی
- وجہ R: سلامتی کے دو تصورات میں رسمی اور غیر رسمی
- 15- بیان A: ہندوستان میں بیاں بازو نے عالم کاری کی حمایت کی ہے۔
- وجہ R: عالم کاری سے روزگار کے موقعوں میں اضافہ ہوا ہے۔
- مندرجہ ذیل کو ادوار کے مطابق منظم کریں۔
- 16- (A) جرمنی کا اتحاد (B) سوویت یونین کا بکھراؤ
- (C) گورباچیف کے ذریعہ سوویت یونین میں سدھار کی پالیسیوں کو لاگو کرنا

- (D) CIS کے ممالک کا عروج  
 (A) پہلی خلیجی جنگ  
 (B) دوسری خلیجی جنگ  
 (C) آپریشن انفانٹ ریج  
 (D) آپریشن اینڈ یورنگ فریڈم  
 (A) آسیان علاقائی منج کی تشکیل  
 (B) یورپین یونین کی تشکیل  
 (C) آسیان کی تشکیل  
 (D) چین کے ذریعہ کھلے دروازے کی پالیسی
- مندرجہ ذیل سوالوں کے جواب 20 الفاظ میں لکھیں۔
- 19 - NPT پر ہندوستان کی کیا رائے تھی؟
- 20 - ہندوستان اور بھوٹان کے بیچ تعاون کے کوئی دو مدد لکھیں۔

### حصہ - B

دو نمبر کے سوالات:-

- 21 آپ اس بیان سے متفق ہیں کہ ثقافتی عالم کاری نہیں صرف غریب ممالک کے لئے بلکہ پوری دنیا کے لئے خطرناک ہے۔ اپنے جواب کے حق یا مخالفت میں کوئی وجہ دلیل دیں۔
- 22 ایسے کہہیں دو وجوہات کا ذکر کریں جو حال میں انجمن اقوام متحدہ کے موضوع ہونے کی حمایت کرنی ہیں۔
- 23 1967 میں کانگریس کی 9 ریاستوں میں ہار کی کیا وجوہات تھیں؟

### حصہ - C

چار نمبر کے سوالات:-

- 24 حیدرآباد کے ہندوستان میں الحاق کے لئے ذمہ دار حالات کو واضح کریں۔
- 25 عالم کاری سے ریاستوں کے کام کرنے کی صلاحیتوں میں کمی کیسے آتی ہے واضح کریں۔
- 26 ہندوستان اور چین کے بیچ تنازعے کی کوئی دو وجہ بتائیں۔
- 27 دوسری جنگ عظیم کے بعد ہونے والے سرد جنگ کی سوچ کو واضح کریں۔

### حصہ - D

پانچ نمبر کے سوالات:-

- سوال نمبر 28 سے 30 تک اقتباس اور کارٹون پر مبنی ہے ان کا ہفو رمطالعہ کر کے ان پر مبنی سوالات کے جواب دیں۔

28- پر امن بات کے ذریعے تقریباً سبھی راجوڑے جنگلی سرحدیں ہندوستان کی نئی سرحدوں سے ملتی تھیں 15 اگست 1947 سے پہلے ہی ہندوستانی وفاق میں شامل ہو گئیں زیادہ تر راجوڑوں کے حکمرانوں نے ہندوستانی وفاق میں اپنے الحاق کے ایک دستاویز پر دستخط کر دیئے۔ الحاق کے اس دستاویز کو Instrument of Accession کہا جاتا ہے۔ اس پر دستخط کا مطلب تھا کہ راجوڑے ہندوستانی وفاق کا حصہ بننے کے لئے راضی ہیں۔ جونا گڑھ، حیدرآباد، کشمیر اور منی پور کی ریاستوں کا الحاق تھوڑا مشکل ثابت ہوا۔“

1- الحاق کے دستاویز کا قومی تعمیر میں کیا کردار ہے۔  
2- جونا گڑھ، حیدرآباد، کشمیر اور منی پور کی ریاستوں کا ہندوستان میں الحاق مشکل کیوں ثابت ہوا۔

$$2\frac{1}{2} + 2\frac{1}{2}$$

یا

”ترقی کے دو جانے مانے ماڈلوں میں سے ہندوستان نے کسی کو نہیں اپنایا دونوں ہی ماڈلوں کی کچھ باتوں کو لے لیا گیا۔ اور اپنے ملک میں انھیں ملے جلے روپ میں لاگو کیا گیا اسی وجہ سے ہندوستان کی معیشت کو ملی جلی مخلوط معیشت کہا جاتا ہے۔

- 1 ترقی کے دو ماڈلوں کے نام لکھیں
- 2 ہندوستان نے دونوں میں سے کسی ایک ماڈل کو منظور کیوں نہیں کیا؟ ہر ایک کے لئے کم از کم ایک خاص وجہ بتائیں
- 3- ہندوستان کی مخلوط معیشت کی ایسی دو خصوصیات کو اجاگر کریں جو اوپر دیئے گئے ماڈلوں پر مبنی ہیں۔

$$1+2+2=5$$

29 ”تحریک کا مطلب صرف دھرنا مظاہرے یا اجتماعی کارروائی نہیں ہوتی اس کے تحت کسی مسائل سے ملوث لوگوں کا دھیرے دھیرے اکٹھا ہونا اور یکساں مطالبات کے ساتھ ایک سی مانگیں اٹھانا ضروری ہیں۔ اس کے علاوہ تحریکوں کا ایک کام لوگوں کو اپنے حقوق کو لیکر بیدار کرنا بھی ہے۔ تاکہ لوگ یہ سمجھیں کہ جمہوری اداروں سے وہ کیا کیا امید کر سکتے ہیں۔

- 1- تحریک سے آپ کیا سمجھتے ہیں؟
- 2- تحریکوں کی جمہوری سیاست میں کیا اہمیت ہے؟
- 3- ہندوستان کے تعلق میں کوئی دو مثالیں دیں جو واضح کرتے ہیں کہ تحریکوں نے کس طرح عوام کو بیدار کیا ہے۔ 1+2+2

یا

”ہندوستان نے ثقافتی تنوع یا رنگارنگی کے لئے ایک جمہوری طرز عمل اختیار کیا۔ جمہوریت علاقائی امتیاز کے سیاسی اظہار کی اجازت دیتی ہے اور ان کو وطن مخالف نہیں سمجھتی۔ اس کے علاوہ جمہوری سیاست اس بات کی اجازت دیتی ہے کہ مختلف پارٹیاں اور گروپ عوام کو ان کی علاقائی شناخت آرزوؤں اور ان کے مخصوص مسائل کی بنیاد پر لوگوں کے جذبات کی نمائندگی کریں۔

1 کیا علاقائی آرزوؤں کی تعلق میں جمہوری نظریہ ہندوستان کو ترقی کے راستے پر گامزن کر سکتا ہے۔ واضح کریں۔

2 علاقائی آزدوئیں جمہوریت کے لئے مکمل میں یا مخالف دلیل کے ساتھ جواب دیں

$$2+3=5$$

30 ”آسیان بہت تیز رفتاری سے ایک اہم علاقائی تنظیم بنتی جا رہی ہے۔ اس نے 2020 کے لئے تصویر بنائی ہے۔ اس میں اپنے لئے بین الاقوامی برادری میں ایک وسیع النظر کردار بنایا ہے۔ اس کی بنیاد آسیان کی موجودہ پالیسی پر ہے۔ جس کے مطابق اس حصہ میں تنازعات اور کشاکشی کو بات چیت کے ذریعہ طے کرنا ہے۔ لہذا آسیان نے کمبوڈیا کے جھگڑے اور مشرقی تیمور کے بحران کو سنبھالا ہے۔ اور مشرقی ایشیائی تعاون پر بات چیت کے لئے 1999 سے مقررہ طور سے سالانہ میٹنگ منعقد کی ہے۔

1- وزن 2020 میں واضح کئے گئے آسیان کے وسیع النظر کردار کو لکھیں۔

2- ”مشرق کی طرف چلو“ پالیسی کا ہندوستان پر کیا اثر پڑا ہے۔

3- ”آسیان شیلی“ کو اپنا کر ہندوستان کس طرح پڑوسی ممالک کے ساتھ اپنے تعلق کو سدھار سکتا ہے مثالوں کے ساتھ لکھیں۔

$$2+2+1=5$$

یا



- 1- اس تصویر میں کیا دکھا گیا ہے۔
- 2- اس حادثہ کے ردعمل میں کون سی مہم چلائی گئی اور اس کے کیا نتائج نکلے۔
- 3- اس حادثہ کے بعد دنیا کی عظیم طاقت کا کیا ردعمل رہا۔
- مندرجہ ذیل سوال نایبنا طالب علم کے لئے کارٹون والے سوال کی جگہ پر ہے نیچے دیئے گئے سوالوں کے جواب لکھیں۔

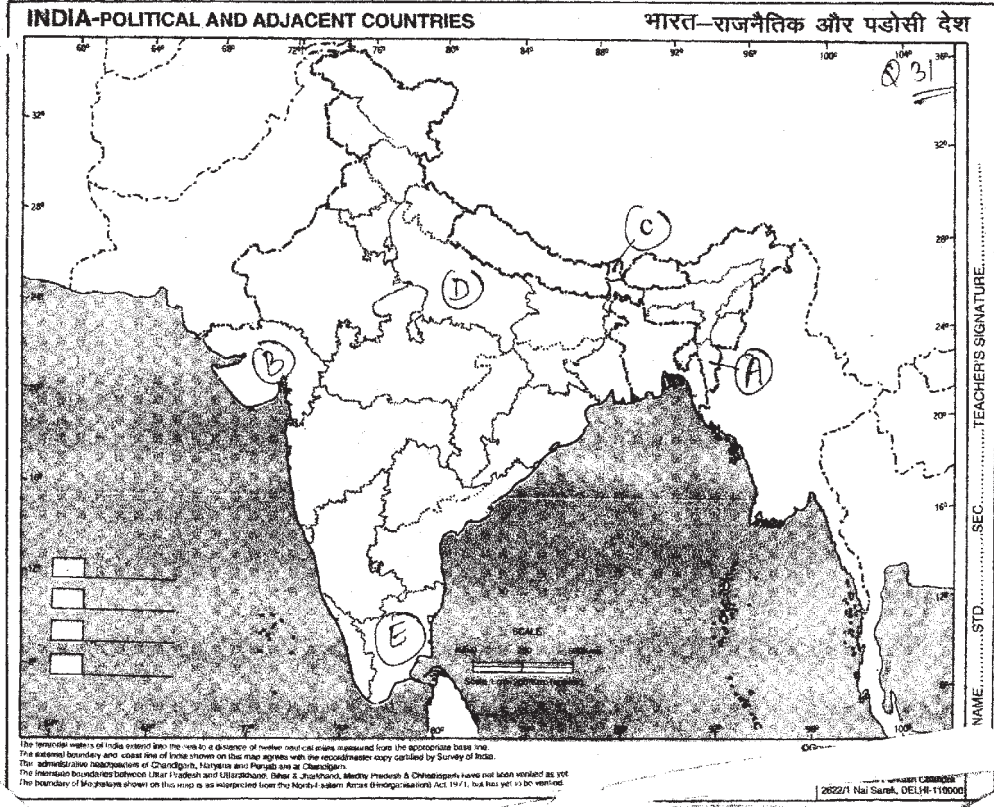
- 1 آپ کے خیال میں ایک معاشی طاقت کی شکل میں کیا مقام ہے۔
- 2 USA کو عظیم طاقت بنانے والی کنہیں دو حالات کا تجزیہ کریں۔
- 3 چین دنیا کی اگلی عظیم طاقت ہو سکتا ہے کوئی دلیل دے کر ثابت کرو۔

$$1+2+2=5$$

- 31 نیچے دیئے گئے ہندوستان کے نقشے میں پانچ ریاستیں (A)(B)(C)(D) اور (E) کے ذریعے نشانہ کی گئی ہے۔ نیچے دی گئی جانکاری کی بنا پر انہیں پہچانئے اور ان کے صحیح نام استعمال معلومات کے سیریل نمبر اور متعلق حروف کے ساتھ مندرجہ ذیل جدول کی شکل میں اپنی جوابی کاپی میں لکھیں۔

ریاست کا نام	متعلق حروف	استعمال کی گئی معلومات کا سیریل نمبر
		i
		ii
		iii
		iv
		v

- 1- وہ ریاست جہاں 2002 کے گودھرا مقام پر تشددی حادثہ ہوا۔
- 2- وہ ریاست جسے پہلے مدراس کہا جاتا تھا۔
- 3- وہ ریاست جس کی ودھان سبھا میں ہندوستان میں سب سے زیادہ سٹیٹس ہیں۔
- 4- وہ ریاست جس کا لال ڈینگا سے تعلق ہے۔
- 5- وہ ریاست جس کا الحاق 1975 ہندوستان کی 22 ویں ریاست کی شکل میں ہوا



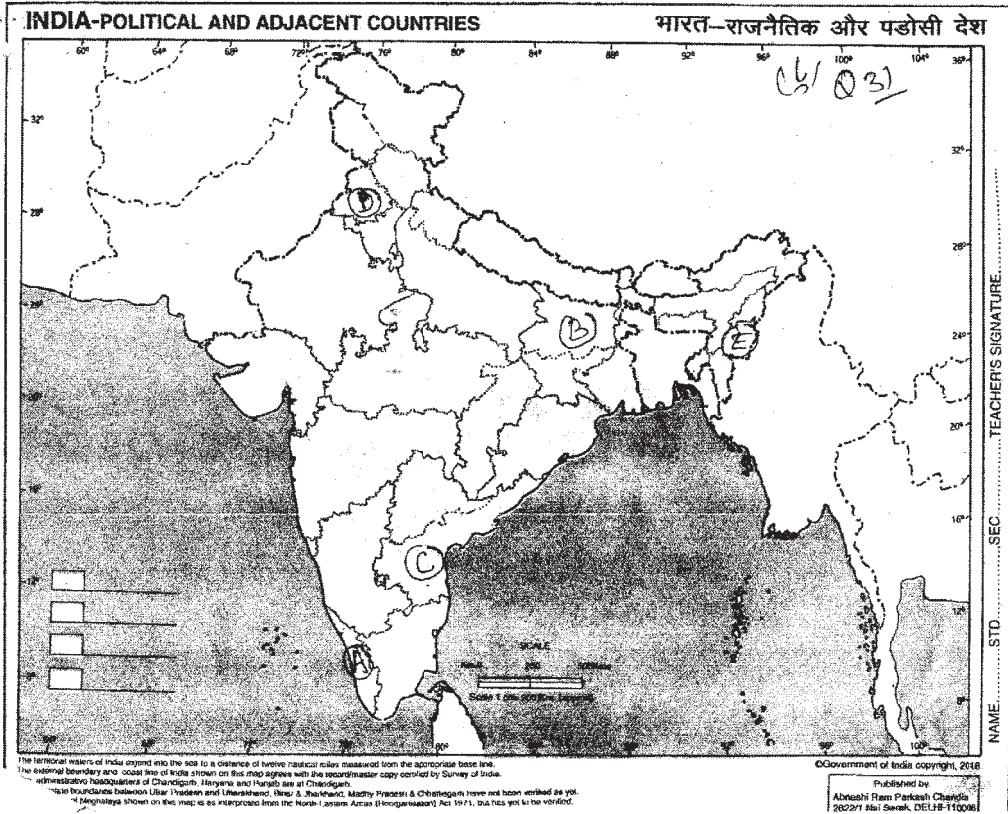
یا  
ہندوستان کے دیئے گئے نقشے میں A.B.C.D اور E دکھائے گئے ہیں نیچے دی گئی معلومات کی بنا پر انہیں پہچانئے اور ان کے نام استعمال کی گئی معلومات کے سیریل نمبر اور متعلق حروف کو دیئے گئے جدول میں اپنی جوابی کاپی میں لکھیں۔

ریاست کا نام	متعلق حروف	استعمال کی گئی معلومات کا سیریل نمبر
		i
		ii
		iii
		iv
		v

وہ ریاست جس کی تشکیل سب سے پہلے زبان کی بنیاد پر کی گئی۔

1

- 2- ہندوستان کی وہ ریاست جہاں سب سے پہلے 1948 میں بالغ والے دہندگی کی بنا پر چناؤ ہوئے۔
- 3- وہ ریاست جہاں 1952 میں پہلی بار کمیونسٹ پارٹی کی حکومت بنی۔
- 4- ڈونگ سے متاثر ریاست
- 5- وہ ریاست جو 1947 میں ہندوستان۔ پاکستان کی تقسیم کے دوران متاثر ہوئی۔



حصہ - E

چھ نمبر کے سوالات :-

32- ایسے کنہیں تین عوامل کا تجزیہ کریں جو یورپیون یونین کو معاشی تعاون والے ادارے سے بدل کر سیاسی شکل دینے کے لئے ذمہ دار ہیں۔

یا

ہندوستان اور پاکستان کے بیچ تنازعے کے کنہیں تین مدوں کا تجزیہ کریں۔



33- 1969 میں پارٹی کی تقسیم کے بعد کانگریس نظام کی تشکیل نو کیلئے ذمہ دار اور حالات کا تجزیہ کریں۔

یا

ہندوستان میں وفاقی حکومت اور عدلیہ کے بیچ تنازعات پیدا کرنے والے واقعات کا تجزیہ کریں۔  
34- یہ کہنا کہاں تک مناسب ہے کہ سرد جنگ کے دوران بین الاقوامی گٹھ بندھنوں (اتحادوں) کا قیام عظیم طاقتوں کی ضرورتوں اور چھوٹے ممالک کے فائدے نقصان کے حساب سے ہوتا تھا۔ واضح کریں۔

یا

سوویت یونین میں سوویت نظام کی کنہیں تین مثبت اور تین منفی خصوصیات کو اجاگر کریں۔

## SAMPLE PAPER-2

### حصہ -A

- 1:- اس سیاسی پارٹی کا نام لکھیں جس کی تشکیل شیاما پرساد مکھرجی نے کی تھی۔
- 2:- NPT کو وسیع کر کے لکھیں۔
- 3:- سرد جنگ ..... اور ..... اور ان کے دوست ممالک کے بیچ مقابلہ آرائی تھی۔
- 4:- آپریشن عراقی فریڈم کے بارے میں مندرجہ ذیل میں سے کون سا بیان غلط ہے۔
  - 1:- عراق پر حملہ کرنے سے خواہش مند امریکی گٹھ بندھن میں 40 سے زیادہ ملک شامل تھے۔
  - 2:- عراق پر حملہ کی وجہ بتاتے ہوئے کہا گیا کہ یہ حملہ عراق کو خطرناک ہتھیار بنانے سے روکنے کے لئے کیا جا رہا ہے۔
  - 3:- اس کارروائی سے پہلے انجمن اقوام متحدہ کی اجازت لے لی گئی۔
  - 4:- امریکہ کی رہنمائی والے گٹھ بندھن کو عراق سے سخت چنوتی نہیں ملی۔
  - 5:- دولت پینتھرس کا خاص مقصد بتائیے۔
  - 6:- ASEAN کو پورا کر کے لکھیں۔
  - 7:- جنوبی ایشیا آزاد تجارت علاقہ سمجھوتہ پر ..... کے ممبروں کے ذریعے ..... میں دستخط ہوئے۔
  - 8:- انجمن اقوام متحدہ کے موجودہ جنرل سکرٹری کس ملک سے تعلق رکھتے ہیں۔
  - 9:- انسانی سلامتی سے کیا مراد ہے۔
  - 10:- یہ کہنا کہاں تک درست ہے کہ عالم کاری کی وجہ سے حقیقت میں ریاست کے کاموں میں بڑھوتری ہوئی ہے۔
  - 11:- سرحدی گاندھی کے نام سے کونسا لیڈر مشہور تھا؟
  - 12:- رضا کار کون تھے؟
  - 13:- ہندوستانی آئین کی دفعہ 356 کا استعمال کس ریاست کی حکومت کو برخاست کرنے کے لئے پہلی بار کب اور کہاں کیا گیا تھا۔
  - 14:- منصوبہ کا ایک مقصد واضح کریں۔
  - 15:- Milk Man of India کے نام سے مشہور شخص کا نام لکھیں۔
  - 16:- جملے کو ٹھیک کر کے پھر سے لکھیں۔

”گوا کو مہاراشٹر میں اس لئے نہیں ملایا گیا کیونکہ مرکزی حکومت ایسا نہیں چاہتی تھی“

- 17:- (BWC) 1972 کے ذریعے کیا فیصلہ لیا گیا؟
- 18:- ہندوستان میں 1967 کے چناؤ و نتائج کو سیاسی زلزلے کا نام کیوں دیا گیا ہے۔
- 19:- Committed Judiciary سے کیا مراد ہے۔
- 20:- آسام میں غیر ملکیوں کے خلاف تحریک کی رہنمائی کس طلبا تنظیم کے ذریعے کی گئی۔

### حصہ - B

- 21:- علاقائیت کے معنی علیحدگی پسندی نہیں ہے وضاحت کریں۔
- 22:- شاک تھرپی کے کہیں دو منفی اثرات کی وضاحت کریں۔
- 23:- 1960 کی دہائی کو خطرناک دہائی کیوں کہا جاتا ہے۔

### حصہ - C

- 24:- کن حالات میں ہندوستان میں 1975 میں ایمر جنسی کا اعلان کیا گیا کہ نہیں چار حالات کی وضاحت کریں۔
- 25:- ریاستی تشکیل نو کمیشن کا کیا تھا؟ یہ کب بنا، اس کی کوئی دو خاص سفارشات لکھیں۔
- 26:- تیز رفتار سے ترقی کے لئے چین کے ذریعے اپنائی گئی کوئی چار نئی معاشی پالیسیوں کی وضاحت کریں۔
- 27:- بھارتیہ جن سنگھ اور بھارتیہ کمیونسٹ پارٹی میں فرق واضح کریں۔

### حصہ - D

- 28:- نیچے دیئے گئے اقتباس کا مطالعہ کریں اور دیئے گئے سوالوں کے جواب دیں ’کچھ لوگ مانتے ہیں کہ امریکی قیادت کی مزاحمت دوسری ریاستی نہیں کر سکتیں کیونکہ آج سبھی ممالک امریکی طاقت کے آگے بے بس ہیں یہ لوگ مانتے ہیں کہ غیر ریاستی ادارے امریکی قیادت کی مزاحمت کے لئے آگے آئیں گی۔ امریکی قیادت کو معاشی اور ثقافتی محاذ پر چنوتی ملے گی۔“
- 1:- امریکی قیادت کی مزاحمت کون کر سکتا ہے؟
- 2:- غیر ریاستی اداروں سے کیا مراد ہے؟
- 3:- امریکی قیادت کی مزاحمت کس طرح کی جاسکتی ہے۔

1+2+2

یا

”علاقائی آرزوؤں کو دبانے کی جگہ ان کے ساتھ جمہوری بات چیت کا طریقہ اپنانا سب سے اچھا ہوتا ہے۔ ذرا 80 کی دہائی پر نظر ڈالیں پنجاب میں انتہا پسندوں کا زور تھا۔ شمال مشرق میں کئی مسائل بنے ہوئے تھے۔ آسام کے طلباء تحریک کر رہے تھے اور کشمیر وادی میں ماحول پر امن نہیں تھا۔ ان مسائل کو حکومت نے قانونی نظام کی گڑبڑی کا عام معاملہ نہ مان کر غور و فکر کیا بات چیت کے ذریعہ حکومت نے علاقائی تحریکوں کے ساتھ سمجھوتہ کیا۔

1:- علاقائی آرزوئیں ملک کی یک جہتی کے لئے کس طرح خطرہ ہیں۔

2:- آسام میں چلنے والی تحریک کی رہنمائی کس نے کی۔

1:- علاقائی آرزوؤں کو مطمئن کرنے کے لئے ہندوستانی حکومت نے کیا قدم اٹھائے۔

$$1+1+1+2=5$$

29:- مندرجہ ذیل اقتباس کو دھیان سے پڑھیں اور اسکے نیچے دیئے گئے سوالوں کے جواب میں دیں۔

”روبل کی قیمت میں ڈرامائی ڈھنگ سے گراوٹ آئی۔ مہنگائی اس تیزی سے بڑھی کہ لوگوں کی جمع پونجی جاتی رہی۔ اجتماعی کھیتی کا نظام ختم ہو گیا اور لوگوں کو اب غذائی تحفظ بھی نہیں ملا۔ اور حکومت نے غذائی سامان درآمد کرنا شروع کر دیا۔ پرانا تجارتی ڈھانچہ تو ٹوٹ چکا تھا لیکن سرکاری رعایت (سبسائیڈی) کے واپس لئے جانے سے زیادہ تر لوگ غربی کی طرف دھکیل دیئے گئے۔

1:- سرکاری رعایت سے کیا مراد ہے۔

2:- اجتماعی کھیتی کا نظام ختم ہونے سے لوگوں کا غذائی تحفظ کیسے ختم ہو گیا۔

3:- یہ اقتباس کس ملک سے متعلق ہے۔ حکومت نے غذائی چیزیں کیوں درآمد کرنی شروع کیں۔

$$1+2+2=5$$

یا



دیئے گئے کارٹون کا بغور مطالعہ کریں اور سوالوں کا جواب دیں۔

- 1:- کارٹونوں میں دائیں طرف کھڑے لیڈر کو پہچانیے اور ان کا نام لکھیں۔
- 2:- یہ کارٹون راجا اور عوام میں کس طرح کے تعلقات ظاہر کرتا ہے۔
- 3:- یہ لیڈر کس معاملے کو کامیابی سے حل کر سکتے ہیں۔

1+2+2

مندرجہ ذیل سوال نابینا طلباء کے لئے کارٹون والے سوال کی جگہ پر ہے۔

مندرجہ ذیل سوالات کے جواب دیں۔

- 1:- 1947 میں ہندوستان کی تقسیم کے پیچھے کون سا اصول تھا؟
- 2:- کن چار دیہی ریاستوں نے شروع میں ہندوستانی وفاق میں شامل ہونے کی مخالفت کی تھی۔ ٹیل جی نے انہیں کس طرح شامل کیا۔

2+3=5

30:- مندرجہ ذیل اقتباس کو بغور پڑھیں اور نیچے لکھے سوالوں کے جواب دیں۔

”سب سے آسان اور سیدھا خیال یہ ہے کہ عالم کاری کی وجہ سے ریاست کی صلاحیت میں کمی آتی ہے۔ پوری دنیا میں فلاجی ریاستیں نئی سادہ یا ابتدائی درجے کی ریاستوں کے لئے جگہ چھوڑ رہی ہیں۔ جو صرف چند بنیادی کام انجام دیتی ہیں۔ جیسے کہ نظم و ضبط کو قائم رکھنا۔ امن و امان کا استحکام۔ اور شہریوں کی حفاظت اور انہوں نے پہلے کئے گئے فلاجی کاموں سے جن کا رُخ معاشی اور سماجی بہتری کے لئے ہوتا تھا ہاتھ کھینچ لئے ہیں۔ فلاجی ریاست کی جگہ اب بازار معاشی اور سماجی ترجیحات کو طے کرتا ہے۔“

1:- فلاجی ریاست کی جگہ بازار کیوں لے رہا ہے۔

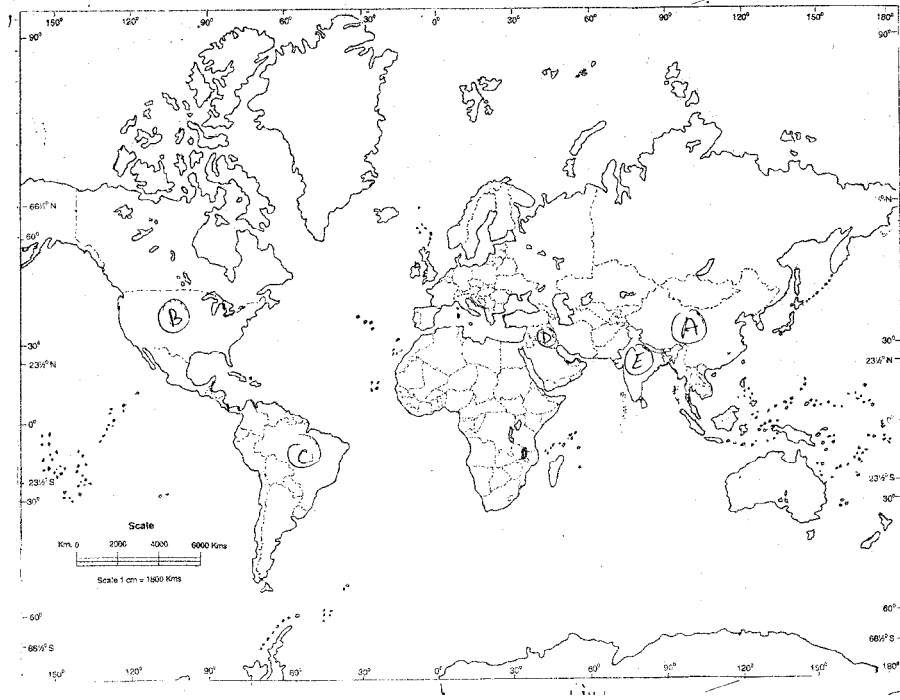
- 2:- بازار کس طرح سماجی ترجیحات کا مرکز بن گیا ہے۔
- 3:- ”ریاست کی صلاحیت میں کمی آنا“ ایک مثال کے ذریعے ان الفاظ کو واضح کریں

2+2+1

یا

”ہندوستان نے جب اپنا نیوکلیائی تجربہ کیا تو اسے اس نے پر امن تجربہ قرار دیا۔ ہندوستان کا کہنا تھا کہ وہ ایٹمی طاقت کو صرف پر امن مقاصد کے لئے استعمال کرنے کی اپنی اس پالیسی کے لئے مضبوطی سے قائم ہے جس وقت نیوکلیائی تجربہ کیا گیا تھا وہ گھریلو سیاست کے لحاظ سے بڑا مشکل تھا۔ 1973 میں عرب اسرائیل جنگ ہوئی تھی۔ اس کے بعد پوری دنیا تیل کے صدے سے دوچار تھی۔ کیونکہ عرب ممالک نے تیل کی قیمت بہت زیادہ بڑھادی تھی۔ ہندوستان اس وجہ سے معاشی مسائل میں الجھ گیا۔

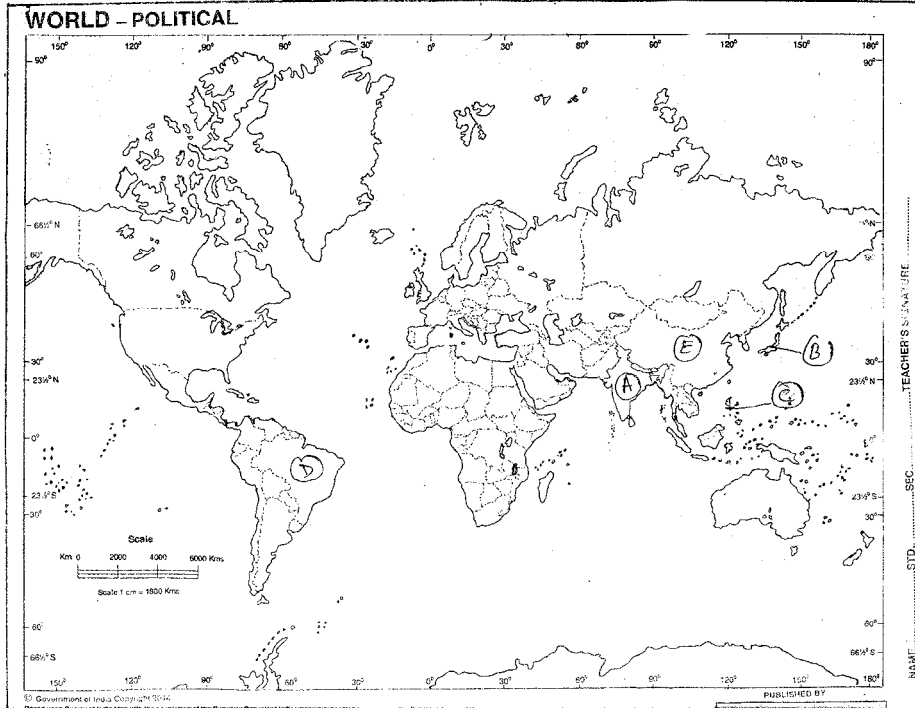
- 1:- ہندوستان نے اپنا پہلا نیوکلیائی تجربہ کب کیا اور کیوں؟
- 2:- ہندوستان نے جب نیوکلیائی تجربہ کیا تو اس دور کو گھریلو سیاست کا سب سے مشکل دور کیوں سمجھا جاتا ہے۔
- 3:- 1970 کی دہائی میں ہونے والے کس حادثہ کی وجہ سے ہندوستان میں مہنگائی بہت زیادہ ہو گئی تھی۔
- 31:- دیئے گئے دنیا کے نقشے میں A, B, C, D اور E کے ذریعے پانچ ممالک دکھائے گئے ہیں۔ نیچے دی گئی معلومات کی بنا پر انہیں پہچانئے اور ان کے نام استعمال کی گئی معلومات کے سیریل نمبر اور متعلق حروف کو دیئے گئے جدول میں لکھیں۔
- 1:- وہ ملک جہاں جون 1992 میں ارضی کانفرنس ہوئی۔
- 2:- گرین ہاؤس گیسوں کے اخراج کا خاص ملک
- 3:- باندھ مخالف ندی بچاؤ تحریک کے لئے جانا گیا ملک
- 4:- کیوٹو پروٹوکول کی پابندیوں سے آزاد رہنے والا ملک۔
- 5:- دنیا میں معدنی تیل کا دوسرے نمبر کا سب سے بڑا پیداواری ملک



ریاست کا نام	متعلق حروف	استعمال کی گئی معلومات کا سیریل نمبر
		i
		ii
		iii
		iv
		v

نیچے دیئے گئے دنیا کے نقشے میں A, B, C, D اور E کو دکھایا گیا ہے، نیچے دی گئی معلومات کی بنا پر انہیں پہچانئے اور ان کے صحیح نام ان کے سیریل نمبر اور متعلق حروف لکھیں۔

- 1:- اس ملک میں 1992 میں UNO کی ماحول اور ترقی کے مددے پر ایک کانفرنس ہوئی۔
- 2:- 1997 میں اس ملک میں کیوٹو پروٹوکول پر رضامندی ہوئی۔
- 3:- وہ ملک جسے کیوٹو پروٹوکول کی پابندیوں سے چھوٹ دی گئی۔
- 4:- وہ ملک جہاں گرین تنظیموں نے اپنے ملک میں اور کئی شکاری پرندوں کو غائب ہونے سے بچانے کے لئے مہم چلائی۔
- 5:- نرمد احرک سے متعلق ملک۔



ریاست کا نام	متعلق حروف	استعمال کی گئی معلومات کا سیریل نمبر
		i
		ii
		iii
		iv
		v



## حصہ - E

32:- موجودہ تناظر میں بھی ناوابستگی کی تحریک موضوع ہے۔ اس بیان کی حمایت یا مخالفت میں دلیلیں دیں۔

یا

دنیا کا دوسرا طاقتور ملک سوویت یونین کیوں زوال پذیر ہوا؟ کوئی چھوجہ بتائیں۔

33:- آسام تحریک ثقافتی فخر اور معاشی پچھڑے پن کا مللاجلا اظہار تھی وضاحت کریں۔

یا

گھٹ بندھن کی سیاست کے اس دور میں سیاسی پارٹیاں نظریات کو بنیاد مان کر گھٹ جوڑ نہیں کرتی ہیں اس بیان کی حمایت اور مخالفت میں آپ کون سی دلیلیں دیں گے۔

34:- 1969 میں ہونے والی کانگریس کی تقسیم کی وجوہات واضح کریں۔

یا

مشترکہ ذمے داری لیکن الگ الگ کردار سے کیا مراد ہے؟ اس نظریہ کو کیسے لاگو کیا جاسکتا ہے؟

## SAMPLE PAPER-3

### حصہ - A

- 1:- مندرجہ ذیل میں سے کون سا بیان ناوابستہ تحریک کے مقاصد پر روشنی نہیں ڈالا۔  
A نوآبادیات سے آزاد ہونے کے ممالک کو آزاد پالیسی اپنانے کے لائق بنانا۔  
B کسی بھی فوج گٹھ بندھن میں شامل ہونے سے انکار کرنا۔  
C عالمی معاملات میں غیر جانبداری کی پالیسی اپنانا۔  
D عالمی معاشی عدم مساوات کے ختم کرنے پر دھیان مرکوز کرنا۔
- 2:- ان میں سے کس نے کھلے دروازے کی پالیسی اپنائی۔  
(A) چین (B) یورپین یونین (C) جاپان (D) امریکہ
- 3:- مندرجہ ذیل کو تاریخی اعتبار سے ترتیب دیں۔  
(A) افغانستان کا بحران (B) سوویت یونین کا بکھراؤ  
(C) برمن دیوار کا گرنا (D) روس کا انقلاب
- 4 انجمن اقوام متحدہ کے جنرل سکرٹری ہیں
- 5 عالم کاری کے بارے میں کون سا بیان صحیح ہے۔  
A عالم کاری صرف ایک خالص مظہر ہے۔  
B عالم کاری 1991 میں شروع ہوئی  
C عالم کاری اور مغربیت ایک ہی چیز ہیں۔  
D عالم کاری ایک کثیر جہتی مظہر ہے۔
- 6 اپریل 1949 میں کس تنظیم کی تشکیل ہوئی۔  
7 غلبہ کے کیا معنی ہیں۔
- 8 ہندوستان کے کس علاقے کی ریاستوں کو 'سات بہنیں' کہا جاتا ہے۔
- 9 بھارتیہ کسان یونین کی ایک سرگرمی بتائیے۔

- 10 SAARC کو وسیع کر کے لکھیں۔
- 11 باجے پلان کے لئے مندرجہ ذیل میں سے کون سا بیان صحیح نہیں ہے۔
- A یہ ہندوستان کے معاشی مستقبل کا ایک خاکہ تھا
- B اس نے صفت کے ریاستی ملکیت ہونے کی حمایت کی تھی۔
- C اس کو کچھ نمایاں صنعت کاروں نے تیار کیا تھا۔
- D اس نے منصوبہ بندی کی زور دہ حمایت کی تھی۔
- 12 ریاستی تشکیل نو کمیشن کب بنایا گیا؟
- 13 سوتنژ پارٹی کا رہنما اصول کیا تھا؟
- 14 EVM کو وسیع کر کے لکھیں۔
- 15 کیرل ماڈل کسے کہتے ہیں۔
- 16 1969 میں راشٹریتی کے عہدے کے لئے کانگریس کا باضابطہ امیدوار کون تھا
- 17 1977 میں مرکز میں اقتدار میں آئی سیاسی پارٹی کا نام لکھیں۔
- 18 پریس سنسرشپ کیا ہے؟
- 19 NITI کمیشن کی تشکیل کب کی گئی۔
- 20 ہیرو نیشنل فرنٹ کے بانی کون تھے۔

## حصہ - B

دو نمبر والے سوالات :-

- 21 آپریشن ڈیزرٹ اسٹارم کیا تھا۔
- 22 سارک کی کوئی دو خوبیاں لکھیں۔
- 23 عوامی تحریک کی اہمیت کو اجاگر کریں۔

## حصہ - C

چار نمبر والے سوالات :-

- 24 ہندوستان کی سلامتی حکمت عملی کے کوئی چار اجزا بتائیں۔
- 25 ماحولیات سے متعلق معاملات پر ہندوستان کی حمایت کی وکالت کریں۔
- 26 ہندوستان کی سیاست میں دل بدل سے کیا مراد ہے۔ اس کی کوئی دو خامیاں اجاگر کریں۔
- 27 میزوپہاڑی علاقے میں علیحدگی پسند تحریک کو عوام کی حمایت کیوں ملنے لگی۔ اس مسئلے کا حل کیسے نکلا۔

## حصہ - D

پانچ نمبر والے سوالات :-

- 28 مندرجہ ذیل اقتباس کو پڑھیں اور اس کی بنا پر پوچھے گئے سوالوں کے جواب دیں۔
- ”تقریباً سبھی سماجی تحریکیں نئی بیماریوں اور برائیوں کے علاج کے طور پر رونما ہوئیں۔ ماحولیاتی پسند حالی، عورتوں کے حقوق کی خلاف ورزی، قبائلی ثقافت کی تباہی و بربادی۔ اور انسانی حقوق کی ذک رسائی، بذات خود ان میں سے کوئی بھی سماج کے نظام کی شکل نہیں بدل سکتی ان معنوں میں یہ ماضی کے انقلابی نظریات سے بالکل مختلف ہیں۔ لیکن ان کی کمزوری یہ ہے کہ یہ منتشر ہیں۔ اور ٹکڑوں میں منقسم ہیں۔ نئی سماجی تحریکیوں کے زیر اثر جگہ کا بڑا حصہ مختلف قسم کی خصوصیات میں مبتلا ہے۔ جس نے انھیں اصلی پسماندہ اور غریبوں کی ایک بامعنی اور حسب حال ٹھوس اور متحدہ تحریک بننے سے روکا ہے۔ یہ تحریکیں حد درجہ بکھری ہوئی۔ حساس اور وقتی نوعیت کی ہیں۔ جو ایک جامع بنیادی سماجی تبدیلی کا خاکہ پیش کرنے سے قاصر ہیں۔ ان کا یہ مغربی مخالف سرمایہ داری مخالف ترقی مخالفت وغیرہ ہونا انھیں مظلوم اور حاشیائی لوگوں کے لئے اور انقلابی نظریات کے درمیان کیا فرق ہے؟
- 1 نئی سماجی تحریکیوں اور انقلابی نظریات کے درمیان کیا فرق ہے؟
- 2 مصنفہ کے خیال میں سماجی تحریکیوں کی کیا حدود ہیں۔
- 3 اگر سماجی تحریکیں مخصوص مسائل کی طرف توجہ دیتی ہیں تو کیا آپ انھیں منتشر کہیں گے مثالیں دیکر اپنے جواب کی وضاحت کریں۔

یا

”ہندوستان میں پارٹی کی سیاست کو کئی چیلنج درپیش رہے ہیں۔ نہ صرف کانگریس نظام نے خود کو تباہ کیا۔ بلکہ کانگریس میں گٹھ جوڑ کے ٹکڑے ہو کر بکھر جانے کی وجہ سے خود نمائندگی کی نئی اہمیت اور اس پر زور دینے کی ابتداء ہوئی ہے۔ جس نے پارٹی سسٹم اور مختلف

مفادات کو اپنے اندر سمونے کی صلاحیت کے بارے میں سوالات اٹھائے ہیں۔ سیاست کے سامنے ایک اہم آڑاٹش ایک پارٹی نظام یا ایسی سیاسی جماعتیں تیار کرنے کا کام ہے جو موثر طور پر مختلف قسموں کے مفادات کو صاف طور پر بیان اور یکجا کر سکیں۔

1 اس سبق میں آپ نے جو کچھ پڑھا ہے اس کی روشنی میں مصنفہ کے پارٹی سسٹم کے چیلنج سے معلق تصورات پر ایک مختصر نوٹ لکھیں۔

2 فراخ دلی اور یکجائیت کے فقدان کی ایک مثال اس سبق میں تلاش کریں۔ جس کا حوالہ اس اقتباس میں دیا گیا ہے۔

3 متفرق مفادات کی جانب فراخ دلی اور یکجائیت پارٹیوں کے لئے کیوں ضروری ہے۔

29 دیئے گئے اقتباس کا بغور مطالعہ کریں اور مندرجہ ذیل سوالات کے جواب دیں۔

”سرد جنگ محض طاقت کے لئے حریفانہ کشمکش فوجی معاہدوں اور طاقت کے توازن کی کہانی نہیں تھی۔ بلکہ اس کے ہمراہ حقیقی نظریاتی اختلافات بھی تھے۔ یعنی کشمکش تھی کہ کون سا نظریہ دنیا کی سیاسی، معاشی اور سماجی نظام کے لئے بہترین اور مناسب ہے۔“

1 جنگ جیسے حالات کو سرد جنگ کیوں کہتے ہیں۔

2 مقابلہ آرائیوں میں طاقت کا توازن بنائے رکھنے کے لئے ہر ایک عظیم طاقت کے ذریعے بنائے گئے ایک ایک فوجی سمجھوتے کو بتائیں۔

3 مخالف گٹوں کے ذریعے بنائے گئے نظریات میں فرق واضح کریں۔ 1+2+2

یا

”1992 میں بل کلنٹن امریکہ کے صدر رہے۔ کلنٹن کے خارجہ پالیسی کی جگہ داخلی پالیسی کو اپنے چناؤ مہم کا نشانہ بنایا تھا۔ کلنٹن 1996 میں دوبارہ چناؤ جیتے اور اس طرح وہ آٹھ سال تک امریکہ کے صدر رہے۔ کلنٹن کے دور اقتدار میں کئی باری محسوس ہوا کہ امریکہ اپنے داخلی معاملات میں زیادہ ملوث ہے اور اس کو دنیا کے سیاسی معاملات میں زیادہ دلچسپی نہیں رہ گئی ہے خارجہ پالیسی میں کلنٹن حکومت نرم مسائل جیسے جمہوریت کا فروغ۔ ماحولیاتی تبدیلی اور عالمی تجارت کی جانب زیادہ متوجہ تھی۔“

1- 1992 میں صدر بل کلنٹن کس پارٹی کے امیدوار تھے اور انھوں نے کس امیدوار کو ہرایا۔

2- کلنٹن کی چناؤ مہم کے خاص مددے کیا تھے

3- کلنٹن نے کن مددوں کو اپنے دور حکومت میں اٹھایا۔ 5=1+2+2

30 مندرجہ ذیل اقتباس کو پڑھئے اور نیچے دیئے گئے سوالوں کے جواب دیں۔

”باتوں کی دوکان؟ ہاں۔ اقوام متحدہ میں بہت تقریریں اور میٹنگیں ہوتی ہیں۔ خاص طور پر جنرل اسمبلی کے سالانہ اجلاس

کے موقع پر۔ لیکن جیسا کہ چرچل نے کہا ہے کہ جنگ کرنے سے بکواس کرنا زیادہ بہتر ہے اور کیا واقعی یہ زیادہ بہتر ہے کہ دنیا میں ایسا مرکزی مقام ہو جہاں دنیا کے سارے ملک ساتھ بیٹھ کر اپنی بکواس سے ایک دوسرے کو بور کریں بجائے اس کے کہ میدان جنگ میں ایک دوسرے کا گلہ کاٹیں۔

1- انجمن اقوام متحدہ کی جنرل اسمبلی کا سالانہ اجلاس کب ہوتا ہے؟

2- چرچل کون تھے؟

3- جنگ کرنے سے بہتر ہے کہ بکواس کی جائے، اس بیان کو واضح کریں۔

یا

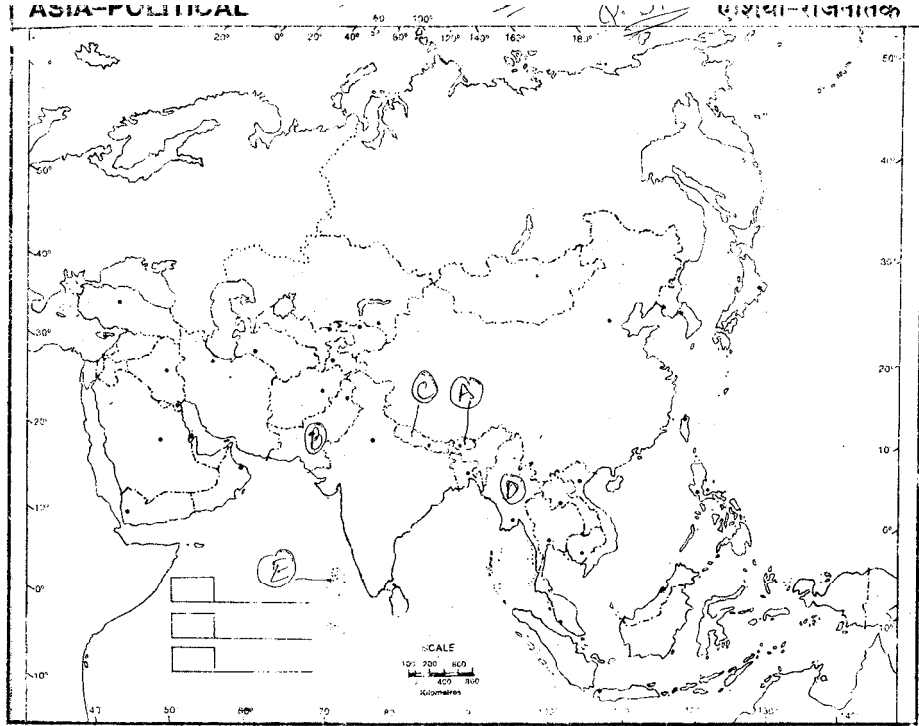
”زمین کے ماحولیاتی نظام کی سالمیت اور صحت کو برقرار رکھنے، حفاظت کرنے اور جمع کرنے کے لئے مختلف ممالک سا جھہ داری کے جذبے کے ساتھ تعاون کریں گے۔ عالم گیر ماحولیاتی انحطاط میں کم اور زیادہ حصہ داری کے پیش نظر ریاستوں کی مشترکہ لیک الگ الگ ذمہ داریاں ہیں۔ ترقی یافتہ ممالک کو ان ذمہ داریوں کا پورا احساس ہے جو ٹکا و ترقی کے حصول کی تلاش میں اور ان دباؤں کے پیش نظر جوان کے سماج عالم گیر ماحولیات اور مالی اور ٹیکنالوجیکل وسائل جو ان کے تصرف میں ہی ان پر عائد ہوتی ہیں۔

1- یہ باتیں کب اور کہاں کہی گئی تھیں۔

2- مشترکہ لیکن الگ ذمہ داری کے کیا معنی ہیں۔

3- ٹکا و ترقی کے کیا معنی ہیں۔

31- نیچے دیئے گئے ایشیاء کے نقشے میں پانچ ممالک کو A, B, C, D اور E کے ذریعہ دکھایا گیا ہے۔ نیچے دی گئی معلومات کی بنا پر انہیں پہچانئے اور اپنی جوابی کاپی میں ان کے صحیح نام استعمال کی گئی معلومات کے سیریل نمبر اور متعلق حروف جدول میں لکھیں۔




Based upon Survey of India map with the permission of the Surveyor General of India. Copyright, 2001  
The territorial waters of India extend into the sea to a distance of twelve nautical miles measured from the appropriate base line.  
The external Boundary and Coast-line of India shown on this map agree with the Record Master copy certified by the Survey of India, Dehra Dun.

Published by: Abnashi Ram Parkash Chandra  
2622/1, Nai Sarak, Delhi 110006

- 1- اس ملک میں فوجی اور غیر فوجی دونوں طرح کی حکومت رہی ہے۔
- 2- اس ملک میں جمہوریت کی تشکیل 2006 میں ہوئی۔
- 3- یہ ملک ابھی بھی تانا شاہ ہے۔
- 4- اس ملک کی پارلیمنٹ نے جون 2005 میں کثیر پارٹی سسٹم لاگو کرنے کی منظوری دی۔
- 5- یہ ملک ہندوستان کی ”مشرق کی طرف چلو“ کی پالیسی میں میانمار کا ایک حصہ ہے۔

ریاست کا نام	متعلق حروف	استعمال کی گئی معلومات کا سیریل نمبر
		i
		ii
		iii
		iv
		v

دیئے گئے کارٹون کی بنیاد پر مندرجہ ذیل سوالات کے جواب دیں۔



- 1- تصویر میں کیا دکھایا گیا ہے۔
- 2- کیا انجمن اقوام متحدہ امریکہ کو من مانی کرنے سے روک سکتا ہے؟
- 3- ”اگر دائیں ہاتھ سے بات نہیں سمجھو گے تو بائیں ہاتھ سے سمجھائی جائے گی۔ اس سے کیا مراد ہے۔ مندرجہ ذیل سوال صرف نابینا طلباء کے لئے ہے کارٹون کی جگہ پر (5)
- 1- اس ریاست کا نام لکھیں جہاں 2002 میں گودھرانامی مقام پر تشددی حادثہ ہوا۔
- 2- کس ریاست کو پہلے مدارس کہا جاتا تھا۔
- 3- کون سی ریاست 1975 میں 22 ویں ریاست کی شکل میں ہندوستان سے جڑی تھی۔
- 4- لال ڈینگا کس ریاست سے متعلق تھا۔
- 5- اس ریاست کا نام لکھیں جہاں کی ودھان سبھا میں سب سے زیادہ سیٹیں ہیں۔



## حصہ - E

چھ نمبر والے سوالات :-

32:- ناوابستہ تحریک اب اپنی موزونیت کھو چکی ہے۔ آپ اس بیان سے متعلق کیا سوچتے ہیں۔ اپنے جواب کی حمایت میں دلیلیں دیں۔

یا

مشترکہ لیکن الگ الگ ذمہ داری سے کیا مراد ہے ہم اس خیال کو کیسے لاگو کر سکتے ہیں۔  
33:- آزادی کے وقت ہندوستان کے سامنے آئی کوئی تین چنوتیوں کی وضاحت کریں۔

یا

سبز انقلاب کے مثبت اور منفی اثرات کی وضاحت کریں۔  
34:- اگر آپ کو ہندوستان کی خارجہ پالیسی کے بارے میں فیصلہ لینے کو کہا جائے تو آپ اس کی کن دو باتوں کو بدلنا چاہیں گے۔  
ٹھیک اسی طرح یہ بھی بتائیں کہ آپ ہندوستان کی خارجہ پالیسی کے کن دو اصولوں کو برقرار رکھیں گے۔ (6)

یا

1975 میں ہندوستان میں ایمر جنسی لگائے جانے کی چھ وجوہات کا تجزیہ کریں۔

## SAMPLE PAPER-4

### حصہ -A

ایک نمبر والے سوالات:-

1- مندرجہ ذیل سوالات کے لیے دیئے گئے انتخابات میں سے صحیح جواب کا انتخاب کریں:-

1- کمپیوٹر جنگ کا نام کسے دیا جاتا ہے۔

(A) دوسری خلیجی جنگ (B) پہلی خلیجی جنگ (C) A اور B دونوں (D) کوئی نہیں۔

2- سوویت گٹ نے کس فوجی اتحاد کی تشکیل کی۔

(A) وارسا پیکٹ (B) ناٹو (C) سیٹو (D) سینٹو

3- جنوبی ایشیاء کے کون سے ممالک چاروں طرف سے خشکی سے گھرے ہوئے ہیں۔

(1) بھوٹان (ii) پاکستان (iii) نیپال (iv) بنگلہ دیش

(A) ii,iv (B) iii,iv (C) i,iii (D) i,ii

خالی جگہیں بھریں۔

4- دو قومی نظریہ کا اصول دیا۔

5- روس کے پہلے صدر..... بنے۔

6- ہندوستان اور بنگلہ دیش کے بیچ..... میں جنگ ہوئی۔

مندرجہ ذیل کو صحیح کر کے پھر سے لکھیں۔

7- آزاد کے بعد بھی گواپرڈیج کا اقتدار تھا۔

8- چین نے 1949 کے بعد امریکہ کے ساتھ تعلقات سدھارنے کے لئے معاشی اکیلی پن کی پالیسی کو ختم کر دیا۔

9- آزادی کے بعد ہندوستان کے اتحاد میں جواہر لال نہرو کا اہم کردار تھا۔

مندرجہ ذیل سوال میں دو بیان ہیں۔ ایک کو بیان A اور دوسرے کو وجہ B کہا گیا ہے۔ آپ کو دونوں کا تجزیہ کرنا ہے۔ اور مندرجہ ذیل

بناوٹ کی بنا پر اپنا جواب دیں۔

A اور R دونوں صحیح ہیں۔ اور AR کی صحیح وضاحت ہے۔

- B اور R دونوں صحیح ہیں۔ اور AR کی صحیح وضاحت نہیں ہے۔
- C صحیح ہے۔ لیکن R غلط ہے۔
- D غلط ہے۔ اور R صحیح ہے۔
- 10 بیان A: کیوبا کے لیڈر چندل کا سترو ہے۔  
وجہ R: کیوبا ایک سرمایہ دارانہ ملک تھا۔
- 11 بیان سوویت یونین کا بکھراؤ 1991 میں ہوا۔  
وجہ R: سوویت یونین کے بکھراؤ کے بعد دنیا میں امریکہ کا غلبہ شروع ہوا۔
- 12 بیان A عالمی درجہ حرارت خطرے کے غیر رسمی ذرائع کے تحت آتا ہے۔  
وجہ R اوزون پرت میں چھید کی وجہ سے ماحولیات میں آلودگی کا مسئلہ بڑھتا جا رہا ہے۔
- 13 مندرجہ ذیل کو تاریخی اعتبار سے ترتیب دیں۔۔
- (A) شملہ سمجھوتہ (B) راجیو گاندھی وال سمجھوتہ (C) تاشقند سمجھوتہ (D) ہندوستان روس تعلقات
- 14 (A) یوروپین کاؤنسل کی تشکیل (B) یوروپین معاشی کمیونٹی کی تشکیل  
(C) یوروپین یونین کی تشکیل (D) یوروپین معاشی تعاون تنظیم کی تشکیل
- 15 (A) غریبی ہٹاؤ کا نعرہ (B) کانگریس کی تقسیم  
(C) بنگلہ دیش کی تشکیل (D) سبز انقلاب کی شروعات
- مندرجہ ذیل سوالات کے جواب 20 الفاظ کے ذریعے کیا دلیل دی گئی تھی۔
- 16 1975 میں لگائی گئی ایمرجنسی حکومت کے ذریعے کیا دلیل دی گئی تھی۔
- 17 ہندوستان اور روس دوستی کی ایک خاص خصوصیت بتائیں۔
- 18 نئی معاشی پالیسی کب لاگو کی گئی
- 19 uniform civil code سے کیا مراد ہے۔
- حال ہی میں کس ریاست نے مکمل نشربندی کو لاگو کیا ہے۔

## حصہ - B

دو نمبر والے سوالات :-

- 21- آپ کے خیال میں آنند پور صاحب قرارداد وفاقیت کو مضبوط بنانے کی سمت میں ایک اہم قدم تھی یا الگ سے ایک قوم کی حمایت میں تھی۔
- 22- 1960 کی دہائی میں دونوں عظیم طاقتوں نے ہتھیاروں کی دوڑ پر کنٹرول رکھنے کے لئے کون سے دو سمجھوتوں پر دستخط کئے۔
- 23- فہرست A میں دیئے گئے لیڈروں کے نام کے ساتھ صحیح میل کریں۔

B	A
(i) بھارتیہ کمیونسٹ پارٹی کے بانی	(A) لال بہادر شاستری
(ii) DMK کا بانی	(B) سی نٹ راج انادوئی
(iii) 1952 سے 1986 میں وفات تک کے ایم پی رہے۔	(C) چارو مجودار
(iv) بے جوان بے کسان کا مشہور نعرہ	(D) جگ جیون رام

## حصہ - C

چار نمبر والے سوالات :-

- 24- سبز انقلاب کے معنی واضح کرتے ہوئے اس کے کوئی دو نتائج لکھیں۔
- 25- دولت پینتھرس کے ذریعے اٹھائے گئے کنہیں دو ممالک کا ذکر کریں۔
- 26- 1979 میں جنتا حکومت کے زوال کے لئے ذمہ دار کنہیں چار عوامل کا تجزیہ کریں۔
- 27- گھٹ بندھن حکومتیں جمہوریت کے لئے وردان ہوئی ہیں اس بیان کی حمایت میں کوئی دو دلیل دیں۔

## حصہ - D

پانچ نمبر والے سوالات :-

- 28- مندرجہ ذیل اقتباس کو بغور پڑھیں اور سوالوں کے جواب دیں

”زمین کے ماحولیاتی نظام کی سالمیت اور صحت کو برقرار رکھنے۔ حفاظت کرنے اور جمع کرنے کے لئے مختلف ممالک سا جھے داری کے جذبے کے ساتھ تعاون کریں گے عالم گیر ماحولیاتی انحطاط میں کم اور زیادہ حصہ داری کے پیش نظر ریاستوں کی مشترکہ لیکن الگ الگ ذمہ داریاں ہیں۔

- 1- دیوا جلاس کہاں ہوا تھا؟
- 2- ماحولیاتی نظام میں ماحولیاتی انحطاط کی دو مثالیں دیں۔
- 3- دنیا کے کن ممالک کی ماحولیاتی تحفظ میں زیادہ ذمے داری ہے اور کیوں۔

یا

دیئے گئے کارٹون کی بنا پر سوالات کے جواب دیں۔



- 1- دیئے گئے کارٹون میں کل اور آج سے کارٹونسٹ کی کیا مراد ہے۔
  - 2- چین اور ہندوستان کے لوگ تمہاری نوکری کھا جائیں گے۔ اس جملے کے معنی بتائے۔
  - 3- اس کارٹون کے تعلق میں Out sourcing کے معنی واضح کریں۔
  - 29- مندرجہ ذیل اقتباس کو پڑھیں اور سوالوں کے جواب دیں۔
- ”کانگریس کی اس وفاقی جمہوری اور نظریاتی تنظیم کو جس کی رہنما ہندو نے کی تھی۔ اندرا گاندھی نے ایک طاقتور عوامی اور جمہوری ادارے میں بدل دیا۔ لیکن یہ اس وقت تک نہیں ہو سکتا تھا جب تک کہ اندرا گاندھی پوری سیاست میں تو نہ بدل دیتیں۔ نئی مقبول سیاست نے سیاسی نظریوں کو محض ایکشن کی بیان بازی اور ان نعروں تک محدود کر دیا۔ جسے عمل شکل دنیا کسی کا مقصد نہ تھا۔ 1970 کی ایکشن کی کامیابیوں اور جشن کی سرشاریوں کے درمیان کانگریس ایک سیاسی تنظیم کی حیثیت سے مر گئی۔

- A مصنفہ کے نزدیک نہرو اور اندرا گاندھی کی حکمت عملیوں میں کیا فرق ہے۔  
 -B مصنفہ یہ کیوں کہتی ہیں کہ 1970 کی دہائی میں کانگریس پارٹی مر گئی۔  
 -C کانگریس پارٹی کے اندر جو تبدیلیاں آئیں انہوں نے کس طرح دوسری سیاسی پارٹیوں کو متاثر کیا۔

یا

زیادہ تر سابقہ موسمیاتی ریاستیں تنازعہ میں الجھنے کی مائل ہیں اور ان سے کچھ خانہ جنگی اور بغاوتوں کا شکار بھی ہوئی ہیں۔  
 خارجی طاقتوں کے ملوث ہونے سے معاملات اور پیچیدہ ہو گئے۔

- 1- دور ریاستوں کے نام بتائے جہاں تشددی انتہا پسند تحریکیں چلیں۔  
 2- ایشیائی ریاستوں میں باہری طاقتوں کی مقابلہ آرائی کی کیا وجہ ہے۔ وضاحت کریں۔  
 30) ”بحر عرب اور خلیج بنگال بالترتیب اس کے جنوب مغرب اور مشرق میں واقع جو کہ ایک قدرتی رکاوٹ کا کام کرتے ہیں اور برصغیر کے لسانی سماجی، اور ثقافتی امتیاز کے ذمہ داری ہیں۔ اس علاقے کی سرحدیں مغرب اور مشرق میں اتنی واضح نہیں ہیں جتنی کہ شمال جنوب میں۔ اگرچہ چین کا اس علاقہ میں شمار نہیں کیا جاتا ہے۔ لیکن وہ اہم کردار ادا کرتا ہے۔

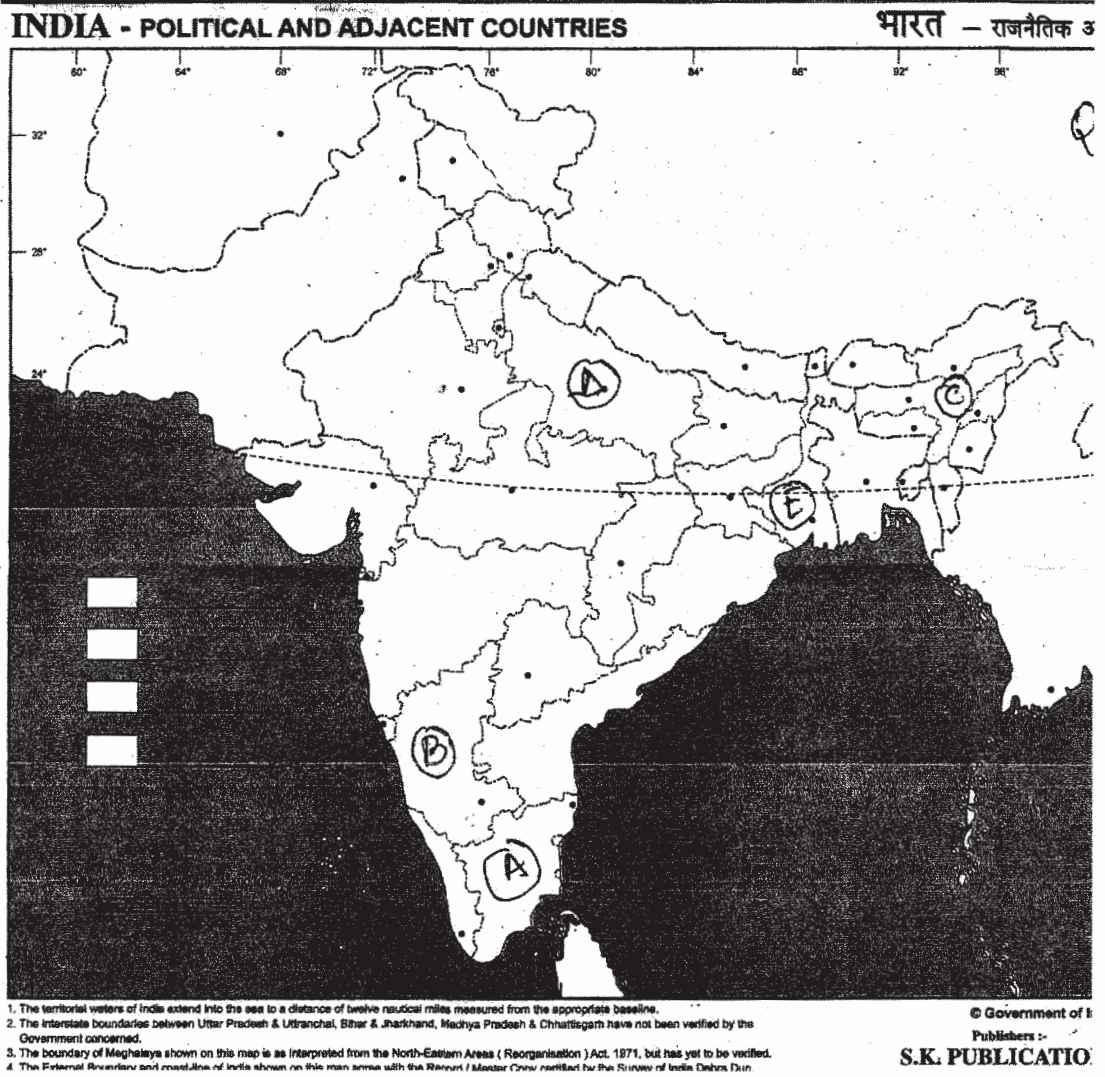
- 1- یہ اقتباس کس علاقہ کا تعارف دے رہا ہے۔  
 2- اس میں کون کون سے ممالک شامل ہیں۔  
 3- کیا ان ممالک میں ایک سیاسی نظام ہے۔ واضح کریں۔

یا

”گجرات کے اس شہر میں کوآپریٹو دودھ والوں کی تحریک ”امول“ قائم ہے اس میں گجرات کے 25 لاکھ دودھ پیدا کرنے والے جڑے ہیں۔ دیہی ترقی اور غربی ہٹانے کے حساب سے ’امول‘ نام کی یہ کوآپریٹو تحریک اپنے آپ میں منفرد اور کارگر تحریک ہے اسے اب سفید انقلاب کے نام سے جانا جاتا ہے۔

- 1- گجرات کوآپریٹو ملک اینڈ مارکیٹنگ فیڈریشن میں کس شخص کا اہم کردار تھا۔ اور انھیں کس نام سے جانا جاتا ہے۔  
 2- ”امول“ کس شہر میں موجود ہے۔  
 3- ”امول“ کس طرح کی تحریک ہے اور یہ کس انقلاب کے نام سے مشہور ہے۔  
 31) دیئے گئے نقشے میں پانچ ریاستی A, B, C, D اور E کے ذریعے دکھائی گئی ہیں۔ دی گئی معلومات کی بنا پر انھیں پہچانیے اور اپنی جوابی کاپی میں ان کے نام استعمال کی گئی معلومات کے سیریل نمبر اور متعلق حروف کے ساتھ جدول بنا کر لکھیں۔  
 1- وہ ریاست جہاں 1998 سے پہلے سابق وزیر اعظم اٹل بہاری واجپئی نے انتخاب جیتا تھا۔

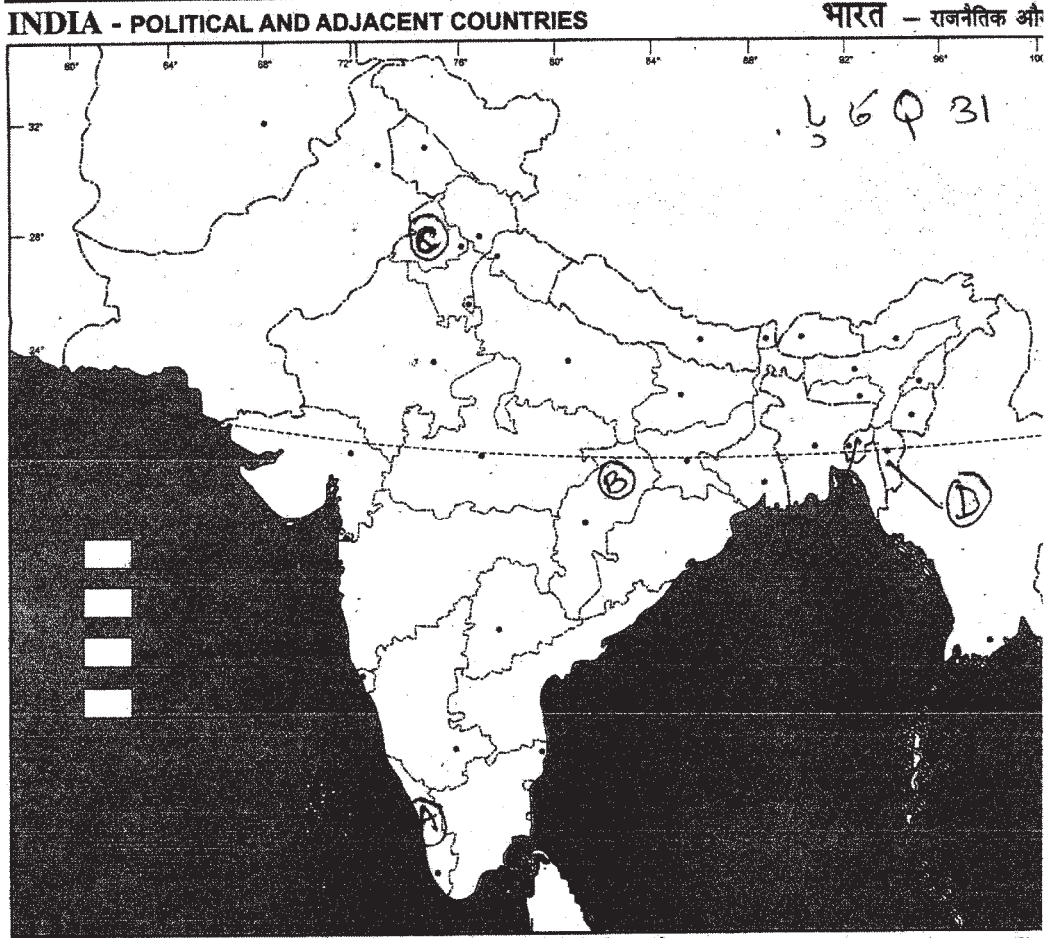
- 2- وہ ریاست جہاں سے ترن مول کا نگر لیس کی متناہرجی کا تعلق ہے۔
- 3- وہ ریاست جہاں سے سابق وزیر خارجہ P Chidambaram کا تعلق ہے۔
- 4- وہ ریاست جہاں سے سابق وزیر اعظم ایچ۔ ڈی دیوگوڑا کا تعلق ہے۔
- 5- وہ ریاست جہاں سے وزیر اعظم منموہن سنگھ راجیہ سبھا سے منتخب ہوئے۔



یا

دیئے گئے ہندوستان کے سیاسی نقشے میں A, B, C, D اور E کے ذریعے نشاندہی کی گئی ہے۔ نیچے دی گئی معلومات پر انھیں پہچاننے اور ان کے صحیح نام استعمال کی گئی معلومات کو سیریل نمبر اور اس سے متعلق حروف کو اپنی جوابی کاپی میں لکھیں۔

- 1 وہ ریاست جسے مدھیہ پردیش کو کاٹ کر بنایا گیا۔
- 2 وہ ریاست جس نے آزادی کے بعد ہندوستان میں اپنے الحاق کی مخالفت کی تھی۔
- 3 آزاد ہندوستان میں کمیونسٹ پارٹی کے ذریعے حکومت کی گئی پہلی ریاست۔
- 4 1971 سے پہلے پاکستان کی سرحد سے لگی ہوئی ریاست۔
- 5 سبز انقلاب کی وجہ سے زراعت کے میدان میں خوشحال بننے والی ریاست



1. The territorial waters of India extend into the sea to a distance of twelve nautical miles measured from the appropriate baseline.
2. The interstate boundaries between Uttar Pradesh & Uttaranchal, Bihar & Jharkhand, Madhya Pradesh & Chhattisgarh have not been verified by the Government concerned.
3. The boundary of Meghalaya shown on this map is as interpreted from the North-Eastern Areas ( Reorganisation ) Act, 1971, but has yet to be verified.
4. The External Boundary and coast-line of India shown on this map agree with the Record / Master Copy certified by the Survey of India Dehra Dun.

© Government of India  
Publishers :-  
**S.K. PUBLICATION**  
A - 6 Mans Puri, Ph-I, New Delhi

مندرجہ ذیل سوال صرف نائینا طلباء کے لئے سوال نمبر 31 کی جگہ پر ہے



نیچے دیئے گئے سوالات کے جواب دیں۔

- 1- وہ مقام جہاں 1920 میں کانگریس کا اجلاس ہوا۔
- 2- وہ لیڈرجن کی 36 دنوں کی غیر معینہ ہڑتال کے بعد موت ہوگئی۔
- 3- چھتیس گڑھ جس اصل ریاست کا حصہ تھی۔
- 4- وہ ریاست جو گجراتی زبان کی بنا پر ممبئی سے الگ ہو کر بنی۔
- 5- وہ ریاست جس سے رضا کار کا تعلق تھا۔

### حصہ - E

چھ نمبر والے سوالات :-

- 32- انجمن اقوام متحدہ کی سلامتی کاؤنسل کے ساختی بناوٹ اور اسکے کاموں کی وضاحت کریں۔

یا

سلامتی کے خطرے کے کہیں دو نئے ذرائعوں کی وضاحت کریں۔

- 33- اسے کہیں تین مدوں کو اجاگر کریں جن کے سلسلے میں ہندوستان کی زیادہ تر سیاسی پارٹیوں میں اتفاق رائے ہے۔

یا

ہندوستان کی قومی یکجہتی اور ایکٹا کو مضبوط بنانے کے لئے کوئی ایسے تین طریقے بتائیں جو آپ کے خیال میں بہت متاثر کن ہوں۔

- 34- فوجی طاقت کی شکل میں امریکہ کے غلبے کا تجزیہ کریں۔

یا

پاکستان میں جمہوریت کے طریقہ کار کا تجزیہ کریں۔





